

2019年河南统一考试录用司法所公务员《行测》真题

来源：F 整理：杨柳（微信：gwy288）

一、言语理解与表达。本部分包括表达与理解两方面的内容。请根据题目要求，在四个选项中选出一个最恰当的答案。

1、在有违道德却不一定违反制度时，或者说制度设计的预期是想用行为人的道德风险来堵住制度“漏洞”时，这种有漏洞的制度设计，就是对那些_____道德、宁冒道德风险也要取得实利的行为人的嘉奖。

- A、藐视 B、蔑视 C、轻视 D、诬蔑

2、对那些看得准的新生事物，比如基于“互联网+”和分享经济的新业态，要量身定制监管模式，不能_____，企业也希望通过规范管理，营造行业健康发展的环境。

- A、削足适履 B、扬汤止沸 C、矫枉过正 D、舍本逐末

3、植物药的功效需要_____，以便发挥最大的功效。中国需要用世界眼光来看植物药，促进植物药产业健康发展。

- A、恰到好处 B、正本清源 C、一针见血 D、药到病除

4、五千年文明看河南，在漫漫历史长河中，古人类从这里发源、古文明从这里萌芽，古中国由这里崛起。悠久的历史积淀了丰厚而灿烂的文化，河南以其蔚为壮观的文化场景、_____的文化底蕴、寓意深刻的文化宝藏著称于世，影响深远。

- A、群英荟萃 B、钟灵毓秀 C、山清水秀 D、藏龙卧虎

5、读书，就是与博学的先生对话。他以和缓的语调，告诉我物质的速朽和精神的永恒。譬如当年唐宋，曾_____雕梁画栋，而存活于人心_____的，却是激扬精神的诗词咏歌。

- A、肥马轻裘 念念不忘 B、锦衣玉食 念念不忘
C、锦衣玉食 不朽流传 D、肥马轻裘 不朽流传

6、体制_____遭遇既有格局的强大惯性，发展转型面临创新能力和人才培育的刚性瓶颈，政府职能转变不仅需要壮士断腕的勇气，也不能没有临渊履冰的精细和严谨。民主的发育，要有法治护航；法治的尊严，离开民主又极易_____。

- A、转轨 专断 B、转型 武断 C、并轨 专横 D、转换 决断

7、中国的环境压力比任何国家都大，环境资源问题比任何国家都突出，解决起来比任何国家都困难。这样的结论，不是来自某个_____的环保组织，而是来自国务院授权开展的中国环境宏观战略研究。虽然付出了巨大的努力，中国的环境质量仍只是“局部有所好转，总体尚未_____。形势仍然严峻，压力继续加大”。不断加剧的污染，正成为河山不能承受之重。

- A、骇人听闻 控制 B、危言耸听 遏制 C、不足为奇 驾驭 D、卓然自立 掌握

8、“半边天”这个具有鲜明中国特色的词汇，既_____着妇女的力量，也标识着妇女的地位，远播五湖四海，成为诠释中国妇女形象的最好_____。

- A、标志 名词 B、标榜 名称 C、彰显 名片 D、展现 名誉

9、国泰则民安，民富则国强。国和家的_____，是中华民族漫长演进史中最为深刻的总结，国家兴衰始终都在塑造个体命运中扮演着核心角色。正如有论者所言，在灾难与辉煌的双重变奏之中，一个个中国人的梦想从来离不开民族整体的际遇。个体的命运往往随着历史而_____，无论大江大海还是一枝一叶。

- A、息息相关 时来运转 B、休戚与共 摇摆不定
C、命运攸关 流转颠簸 D、血肉相连 举棋不定

10、城市发展要做好“大”与“小”统一的文章。“大”固然可以支撑起城市的_____，“小”却也散发着城市温润的人文情怀。“大”体现城市的宏阔气度，“小”则涵养城市的清新活力。在城市发展过程中，要兼顾城市空间和功能的多样化，涵养城市的人文内涵和历史_____，保持城市社会生态的平衡发展，让人在“诗意的栖居”中与城市达成心的交融。

- A、磅礴气势 底蕴 B、宏伟壮观 底色 C、非凡气势 积淀 D、高楼大厦 沉淀

11、作为伟大的人道主义者，马克思致力于_____资本的剥削与人的异化，追求人的解放与自由全面发展。这种人民至上的立场情怀代表了一种极其高远的价值追求，这种价值使得马克思及其提出的理念图景高踞于人类道义的_____。

- A、批驳 出发点 B、批判 制高点 C、反驳 落脚点 D、批评 支撑点

12、要深化户籍制度改革，放宽城镇落户条件，加快让居住证覆盖未落户的城镇常住人口，_____居住证的“含金量”，_____他们依法享有居住地教育、就业、医疗、社保等基本公共服务。

A、提高 保证 B、增加 保护 C、增加 保证 D、提高 保障

13、“政绩冲动症”与权力傲慢有着_____的联系。傲慢的权力给政绩冲动“保驾护航”，政绩冲动反过来又加剧了权力的傲慢。政绩冲动和权力傲慢投射到具体的长官意志上，就会产生成倍的畸形恶果；规划可以_____修改，项目浪费并不鲜见，甚至为了所谓“公墓对行政新区不吉利”而大兴土木；背后难言的利益猫腻，更是给政绩冲动提供了坚实的后盾。

A、千丝万缕 刻意 B、不可割裂 随意 C、相辅相成 随心 D、珠联璧合 随便

14、在我国，准确把握民生问题的这一必要____，对于防止平均主义的复活有着特别重要的意义。应当看到，平均主义在中国历史上存在了很长一段时间，有着较为深厚的社会及民众基础。平均主义曾经严重____了中国的发展。就是现在，不患寡而患不均的概念仍然_____。

A、限制 遏制 根深蒂固 B、界限 抑制 根深蒂固
C、界限 遏制 坚不可摧 D、限制 抑制 坚不可摧

15、“凡益之道，与时偕行。”面对新形势，艰苦朴素精神不是过时了，而是_____了；艰苦朴素精神的意义不是淡化了，而是_____了；艰苦朴素精神的作用不是削弱了，而是_____了。

A、历久弥新 历久弥深 历久弥坚 B、历久弥新 历久弥坚 历久弥深
C、历久弥深 历久弥新 历久弥坚 D、历久弥坚 历久弥深 历久弥新

16、最近一部医疗纪录片引发了不小的轰动。在这部纪录片里，呈现了重症抢救、器官捐献、临终关怀、年轻妈妈的抗癌日记等直面生死悲欢的细节。这部纪录片并没有着力刻画皆大欢喜的医疗奇迹，而是坦然地展示了医疗的“失败”：医生尽力了，却也无能为力。“偶尔治愈，常常帮助，总是安慰。”美国医生特鲁多的名言早已闻名遐迩。医学固然可以妙手回春，但面对生死有命，很多时候也无力回天。当患者带着对生的渴望，却碰上了医疗的瓶颈，会造成巨大的期待落差。而当落差因为知识壁垒或是情绪失控而指向了医生，往往会造成本该结成利益共同体的医患之间对立紧张。2013年震动全国的温岭袭医案即是一例，即便手术成功，却没有医疗办法缓解患者鼻腔的不适感，导致患者以为医院造假，最后酿成血案。

这段文字意在强调：

A、个人生命的长度取决于现代医疗水平
B、常识可解贯穿人类数千年历史的生死之忧
C、这部纪录片淋漓尽致地展示了生死之忧
D、坦然接受医学的“无力回天”是社会心态成熟的标志

17、“二十四节气”申遗成功，令人振奋。如何活化与传承这些文化元素，故宫、中华书局等单位推出的《唐诗之美日历》《红楼梦日历》《故宫日历》或可有所启发。这些书装帧古典，意涵丰富，每逢节气还精心选配插图与诗词，令人耳目一新，销量也动辄几十万本，受到读者追捧。绵延千载的节气传统，成为浸润日常的文化韵味，有媒体调查显示，60%多的受访者认为，发扬二十四节气文化要与现代文明结合。可见，文化不能被束之高阁，要在现实的土壤中生息繁衍。日前召开的全国宣传部长会议提出，“加快文化事业文化产业发展，推出更多优秀文化产品”。用更切合当代受众心理的文化产品，在潜移默化中根植文化，无疑是传统文化的一个着陆点。

以下与作者表述的观点最接近的是：

A、二十四节气文化与现代文明息息相关 B、文化产品接地气才能有人气
C、二十四节气文化是文化产品 D、二十四节气文化是传统文化

18、当前，我国医疗资源多集中在大城市和大型公立医院，“全国人民看病挤协和”虽不乏戏谑，却也真实反映了挂号难、看病难等突出问题。与此同时，大量基层医院和社区医院门庭冷落，民营医院更是得不到有效发展。医疗服务资源配置上的不均衡表明，单纯依靠政府主导的公立医院无法满足群众日益增长和多元化的就医需求，通过鼓励社会资本办医，做大医疗服务“蛋糕”，无疑是一条现实的途径。

这段文字未暗示的信息是：

A、鼓励社会资本办医是改善医疗服务水平的现实途径
B、我国医疗服务供给与群众就医需求之间有较大差距
C、我国基层医院、社区医院和民营医院发展受到限制
D、政府主导的公立医院无法满足人民群众的就医需求

19、作为社会的中坚力量，高收入者往往创富能力强，生活受资金的制约很小，理应为社会承担更多的社会责任。以税收来调节过高收入，是维护社会公平正义的客观需要。因此，完善个税制度，首先必须“盯紧”高收入者。既需要警惕一部分人妄言“税负太重”为高收入者避税开脱，又必须加强税收征缴监管手段，建立起完善透明的个人财产登记，收入申报及交叉稽核制度，堵住高收入者避税的渠道。同时，还必须加大对偷税漏税行为的惩处，让高收入者不敢心生邪念。

这段文字主要支持的一个观点是：

- A、高收入者是社会的中坚力量 B、高收入者生活受资金制约影响小
C、完善个税制度，调节过高收入 D、加大对偷税漏税行为的惩处

20、哲学的前提批判工作的真实指向究竟是什么？它是从何种特有的视角和方式切入对人的观念和行为的前提，并对之展开内在的而非外在的批判的呢？这是我们理解哲学的前提批判时所必须回答的一个“前提性”问题。哲学前提批判最根本的指向是人的思想观念和生活信念的“界限”，它要消解“思维的规定”与“存在的规定”具有同一性这一似乎不言自明的前提假设，从而呈现一切“思维的规定”不可避免的有限性。“思维”规定与“存在”规定具有同一性，这一信念经常被视为包括经验常识的“真理”、理论知识的“真理”和哲学的“真理”在内的种种认识形式赖以成立的一个基本前提。

这段文字主要介绍的是：

- A、前提批判工作的真理性 B、前提批判工作的科学性
C、前提批判工作的同一性 D、哲学前提批判工作的主题

21、习近平总书记指出，当前意识形态工作的根本任务没有变，也不能变，那就是要巩固马克思主义在意识形态领域的指导地位、巩固全党全国人民团结奋斗的共同思想基础。要加强重大理论学习，认真落实党委中心组理论学习制度，扎实开展“两学一做”学习教育，用中国特色社会主义理论体系和习近平总书记系列重要讲话精神统一思想、凝聚共识，确保在“举什么旗、走什么路”这一根本问题上绝不含糊、绝无偏差。要强化思想政治引导，密切关注社会思潮动态动向，严守政治纪律和政治规矩，坚决维护中央权威，对一些错误言论、思潮和主张，旗帜鲜明、及时有力地予以批驳和修正，始终站稳政治立场、保持政治定力、把准政治方向，为加快发展奠定坚实的思想政治基础。

这段文字意在强调：

- A、当前意识形态工作根本任务没有变 B、加强思想意识形态领域的工作力度
C、全国人民团结奋斗的共同思想基础 D、全党全国人民思想政治引导的方向

22、马克思的政治经济学虽然以资本主义作为研究对象，但它一开始就根植于无产阶级解放运动的土壤中，服务于人民，因而具有鲜明的人民主体性。中国特色社会主义政治经济学脱胎于马克思主义政治经济学，流淌的是马克思主义政治经济学的血液，因而，人民主体性也毫无例外是其首要原则。人民主体性原则的基本意涵就是全体人民都是社会主义物质文明、精神文明、社会文明和生态文明的参与者、建设者、推动者，同时又是平等分享经济社会发展成果的主人。脱离人民主体性原则，中国特色社会主义政治经济学就不是马克思主义的，也肯定不是社会主义性质的。

这段文字意在说明：

- A、马克思的政治经济学以资本主义作为研究对象
B、马克思的政治经济学根植于无产阶级解放运动
C、中国特色社会主义政治经济学具有马克思主义政治经济学基因
D、人民主体性是中国特色社会主义政治经济学的首要原则

23、服饰是华夏文明的重要组成部分，凝结了中华民族的精神和风采，今天的民族复兴必然要求复兴传统服饰文化。当代中国人穿着具有本民族风格的服饰是身体力行展现民族自豪感和自信心的重要手段。要在中华传统文化系统中探寻中国服饰的文化基因，同时也要用现代创新的手法将这些基因进行重组和变革，既要展现中国传统的审美精神，也要适应当代国人的审美和着装习惯。

这段文字意在强调：

- A、中国服饰文化的基因 B、中国服饰的意义
C、服饰与中华民族精神 D、国人的审美和着装习惯

24、利益催生下，信息黑色产业链对公民权利的侵犯显而易见：公众信息被泄露、隐私被侵犯、人身被骚扰甚至还发生过快递信息泄露导致凶手上门的恶性事件。在信息数据能够迅速变现的时代，要切断信息贩卖的利益链条，保护公民的个人信息安全，不能仅止于相关企业的道歉与自查，而更应该走向公共机构日常化的严格规范与监管，走向法律对公民隐私权利制度化的保障。

这段话旨在说明：

- A、信息安全需要严格监管和法律保障制度 B、信息泄露对公民权利的侵犯随处可见
C、信息泄露常导致恶性事件的发生 D、信息泄露企业应道歉和自查

25、看似繁荣热闹的表象后面，称得上精品力作作品乏善可陈。有“高原”缺“高峰”的现象，深层的原因是什么？文化部艺术司连续七次举办研讨会，与会艺术家及理论家认为，创作出三“精”的艺术作品，思想精深、艺术精湛、制作精良，需要崇高的艺术精神：创造的精神、尊重历史的精神、人文关怀的精神。当下的中国正处在复兴的历史节点，呼唤、期待着伟大作品的产生，富有活力的中华民族蓄积着艺术精神的新的内涵，具有中国气质和时代精神的生活素材期待着艺术家们去表现去创作。

这段文字意在说明：

- A、三“精”艺术作品的现状
- B、艺术精神的概括
- C、艺术精神新内涵
- D、艺术精神与时代精神

26、弘扬中华体育精神，建设世界体育强国，是中国梦的重要内容。而实现这样伟大的战略梦想，需要我们每个人的参与。中华体育精神倡导超越自我、追求成功的价值追求，对实现中国梦具有重要的精神动力。我们要大力发扬中华体育精神，树立“健康第一”的思想观念和“终生体育”的长远目标，将中华体育精神和弘扬优秀传统文化结合起来，持续推动中国梦这一伟大目标的实现。

这段文字主要是说明：

- A、中华体育精神价值构建是实现中国梦的战略需要
- B、中华体育精神是中国梦的重要内容
- C、建设体育强国需要人人参与
- D、中华体育精神的价值追求

27、随着医疗体系改革的逐步深入，医院将成为自主经营的经济实体，出于自身利益的需要，往往会注重追求经济效益，以至出现见利忘义，以药养医的现象。与医院服务相关的药品和医用器材生产流通秩序混乱，价格虚高。一些不法药商通过给医生回扣、提成等，增加药品和医用器材的销售量，现行医院的药品收入加成机制，也诱导医院买卖贵重药品。医生开大处方、过度检查和治疗、收受红包、请吃等现象也极大的加重了患者看病的经济负担，进一步导致了医患关系持续紧张。

这段文字主要是说明：

- A、我国医院将成为自主经营的经济实体
- B、医院追求经济效益是导致医患关系紧张的重要因素
- C、我国医院服务相关的药品和医用器材生产流通秩序混乱
- D、我国医生开大处方、过度检查和治疗、收受红包、请吃等现象严重

28、社会救助水平的提高，归根结底取决于制度保障。要真正实现贫有所济、困有所帮，就要提高政策执行的公开性和透明度，保障群众对社会救助的知情权、参与权和监督权，实现社会救助的规范化、经常化、制度化。___。因此，真正实现“困有所济”还需整合各方力量，促进社会救助从“单一”走向“多元”。

- A、我国社会救助的主体结构中，政府固然是第一责任主体，但受财力所限，政府救助存在许多盲点，依然有相当一部分社会成员游离在政府救助的保障网之外
- B、但在实践中，由于缺少统一规范的制度，有不少地方对家庭收入的核查，主要源自主观判断和根据基层单位审核的意见，无法对申请人多元化的家庭收入进行准确核查
- C、然而，各地低保发放却屡现“关系保”、“人情保”，一些家境富裕又享受着低保的人比比皆是，救助制度不规范、救助水平依然较低、社会救助力量发挥不够等问题依然存在
- D、目前我国救助管理尚不规范，还没有形成统一的社会救助管理部门，从而导致社会救助缺乏联动机制，难以有效满足救助对象的各种救助需求

29、眼睛通过调节晶状体的弯曲程度来改变晶状体焦距获得倒立的、缩小的实像。分布在视网膜上的视神经细胞受到光的刺激，把这个信号传输给大脑，人就可以看到这个物体了，这就是眼睛成像的基本原理。眼睛所能看到的最远的点叫远点，正视眼所能看到的远点在极远处；眼睛所能看到的最近的点叫近点，正常眼睛的近点在距离眼睛约 10 厘米处。长时间用眼可发生眼疲劳现象，眼疲劳的症状表现为：眼睛发胀、头疼、眼花，眼睛酸涩、眼睛发干等。

这段话主要讲述：

- A、眼睛的器官部位
- B、长时间用眼导致眼疲劳
- C、眼睛的成像原理
- D、眼疲劳的症状表现

30、研究发现，造成中年人幸福感“低谷”的原因很多，但最关键因素是就业情况和经济状况。是否拥有住宅对年轻人的幸福感影响不明显，他们更关心住所距离办公地点、娱乐场所和朋友家是否足够近。进入中年后，住房问题对幸福感的影响凸显出来，邻里关系等也会对幸福感造成很大影响。社会治安情况对所有年龄段人群的幸福感的都影响颇深。而身体健康水平对幸福感的影响程度一般会有两次飙升：第一次是在 30 岁后首次发现健康状况下滑时，还有就是首次发现比较严重的生理疾病时。

与这段文字文意不符的是：

- A、幸福感的高低与生活中的诸多因素相关
- B、身体健康问题对年轻人幸福感的影响较小

- C、住房问题对中年人幸福感的影响比年轻人更大
D、社会治安情况对中年人和年轻人的幸福感都有影响

二、数量关系。本部分包括数字推理和数学运算两种题型。

- 31、(), 11, 20, 31, 44, 59
A、2 B、3 C、4 D、5
32、2, 6, 24, 168, ()
A、740 B、1848 C、1478 D、924
33、7, 14, 21, 35, 56, ()
A、72 B、80 C、96 D、91
34、245, 168, 249, 164, 254, 159, 260, ()
A、153 B、155 C、266 D、270
35、

-2	3	5
3	-4	7
5	7	?

- A、-6 B、-3 C、-4 D、-5
36、108.02, -70.04, 72.06, -34.08, 36.10, ()
A、-7.12 B、7.02 C、9.12 D、-9.12
37、1, 3, 4, 8, 15, ()
A、47 B、34 C、23 D、27
38、11, 14, 23, 50, 131, ()
A、292 B、326 C、356 D、374
39、2, 6, 12, 20, ()
A、44 B、32 C、37 D、30
40、 $\frac{1}{2}, \frac{1}{3}, \frac{1}{5}, \frac{1}{7}, \frac{1}{11}, \frac{1}{13}, ()$
A、 $\frac{1}{17}$ B、 $\frac{1}{18}$ C、 $\frac{1}{26}$ D、 $\frac{1}{22}$

41、某市从市儿童公园到市科技馆有 6 种不同路线，从市科技馆到市少年宫有 5 种不同路线，从市儿童公园到市少年宫有 4 种不同路线，则从市儿童公园到市少年宫的路线共有：

- A、24 种 B、36 种 C、34 种 D、38 种

42、在切钢管时会在切口处产生钢材损耗，每切一次损耗的钢材量约为 10 克，一根钢材被均匀地切成三等份，损耗钢材为钢材总重量的 0.2%，则这根钢材的重量为：

- A、10 千克 B、12 千克 C、14 千克 D、15 千克

43、小王从乡镇骑自行车前往县城，若他骑行速度为 18 千米/时，则下午 5 点钟到达；若他骑行速度为 20 千米/时，则下午 4 点钟到达。小王的出发时间为：

- A、早上 6 点 B、早上 7 点 C、早上 8 点 D、中午 12 点

44、某隧道长 1500 米，有一列长 150 米的火车通过这条隧道，从车头进入隧道到完全通过隧道花费的时间为 50 秒，整列火车完全在隧道中的时间是：

- A、43.2 秒 B、40.9 秒 C、38.3 秒 D、37.5 秒

45、有 A B 两个书架，A 书架有 50 本书，B 书架有 70 本书，要使 A 书架上的书本数是 B 书架的 2 倍，则从 B 书架上拿书放到 A 架上的是：

- A、30 本 B、32 本 C、34 本 D、35 本

46、某书法兴趣班有学员 12 人，其中男生 5 人，女生 7 人。从中随机选取 2 名学生参加书法比赛，则选到 1 名男生和 1 名女生的概率为：

- A、 $\frac{35}{144}$ B、 $\frac{35}{72}$ C、 $\frac{35}{132}$ D、 $\frac{35}{66}$

47、有一条自西向东流向的河流，甲、乙两艘轮船分别从河流的上游和下游两点开始相对航行，在相遇于某地时，甲船航行的路程为乙船的 2 倍。已知乙船的速度为甲船的 2 倍，水流速度为 1 千米/分，则甲船的航行速度为：

- A、4 千米/分 B、3 千米/分 C、2 千米/分 D、1 千米/分

48、一瓶硫酸使用了 5 天，使用时后一天总比前一天少使用 1 毫升，今天做实验用掉了 5 毫升后，现在剩下的量与已经用掉的量相同，则这瓶硫酸原来有：

- A、70 毫升 B、65 毫升 C、60 毫升 D、55 毫升

49、把 1 到 82 这 82 个自然数都相加起来，但由于中间有两个连续的数都多加了一次，得到的和为 3520，则多加的第一个数是：

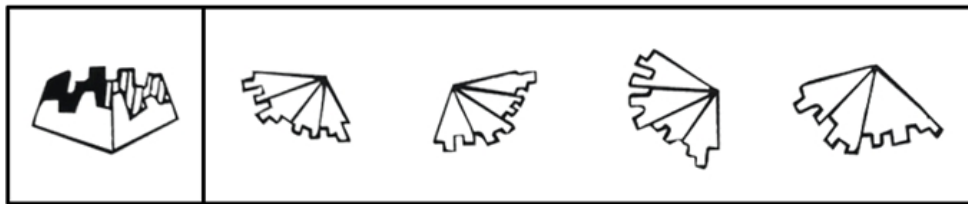
- A、55 B、57 C、58 D、60、

50、有 8 个不同颜色的小球，从中任意选出 3 个分给 3 个学生，每人 1 个，则其分法有：

- A、72 种 B、216 种 C、336 种 D、1008 种

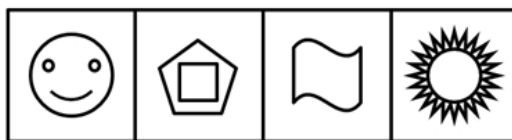

三、判断推理。本部分包括图形推理、定义判断、类比推理、演绎推理四种题型。

51、下列选项中，折叠后可以与所给图形结合在一起，成为一个整体的是：



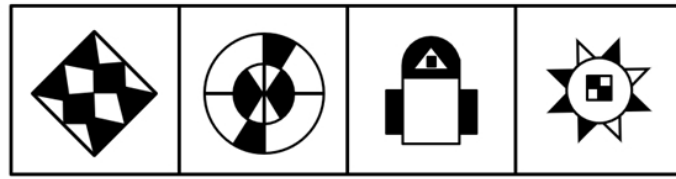
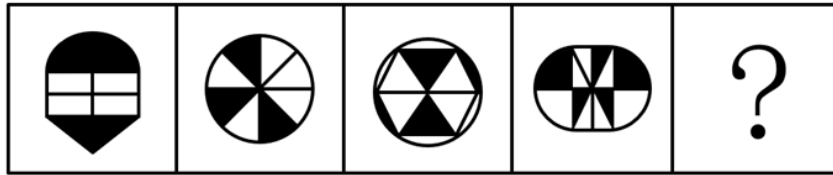
- A B C D

52、从所给的四个选项中，选择最合适的一个填入问号处，使之呈现一定的规律性：



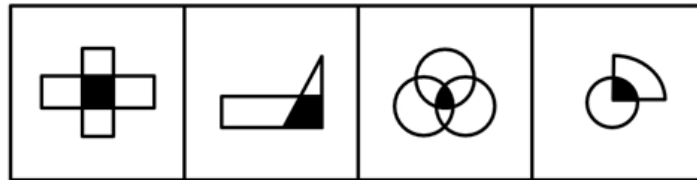
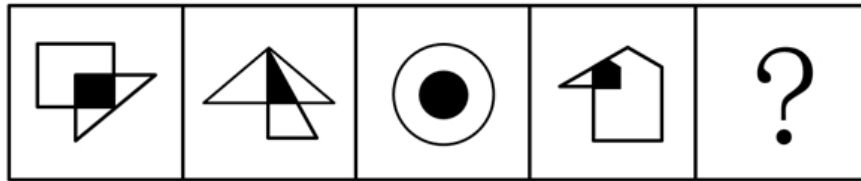
- A B C D

53、从所给的四个选项中，选择最合适的一个填入问号处，使之呈现一定的规律性：



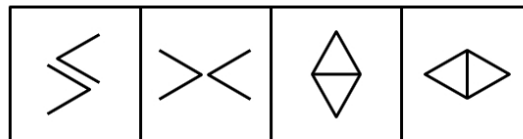
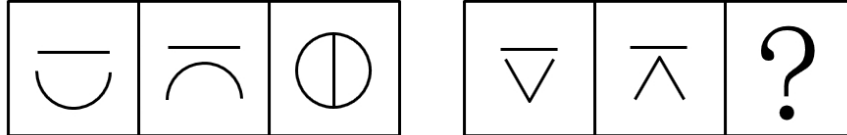
A B C D

54、从所给的四个选项中，选择最合适的一个填入问号处，使之呈现一定的规律性：



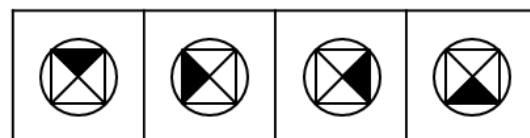
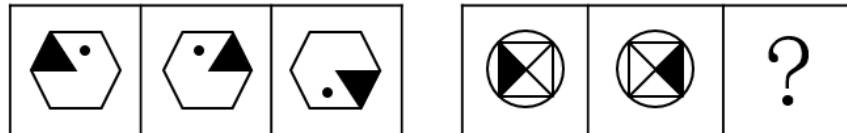
A B C D

55、从所给的四个选项中，选择最合适的一个填入问号处，使之呈现一定的规律性：



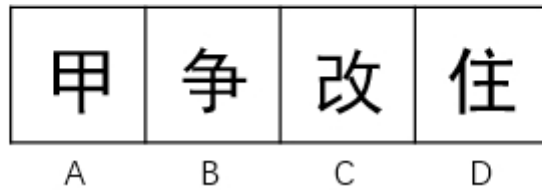
A B C D

56、从所给的四个选项中，选择最合适的一个填入问号处，使之呈现一定的规律性：

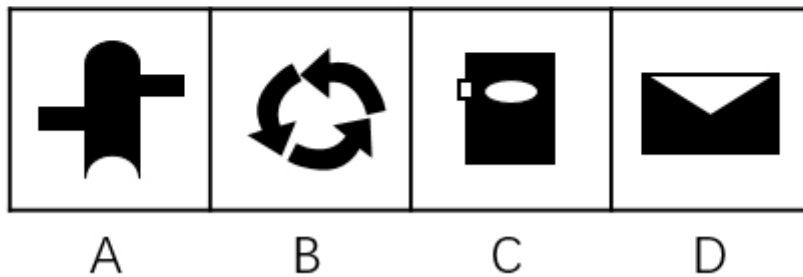
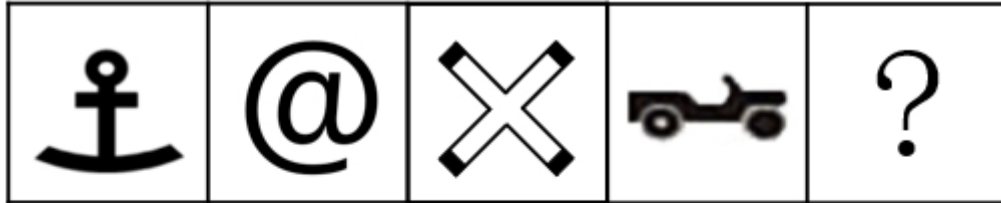


A B C D

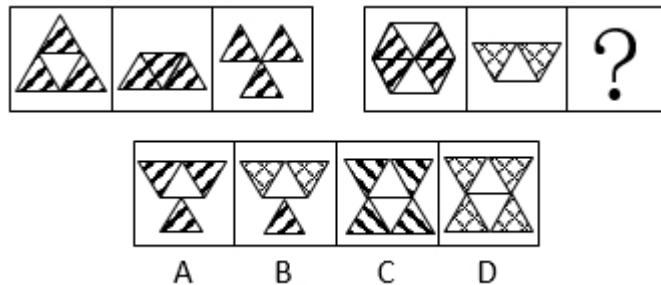
57、从所给的四个选项中，选择最合适的一个填入问号处，使之呈现一定的规律性：



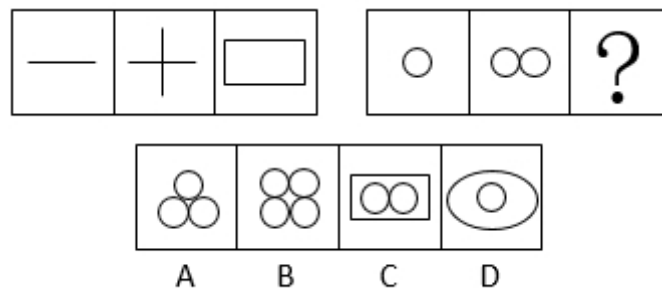
58、从所给的四个选项中，选择最合适的一个填入问号处，使之呈现一定的规律性：



59、从所给的四个选项中，选择最合适的一个填入问号处，使之呈现一定的规律性：



60、从所给的四个选项中，选择最合适的一个填入问号处，使之呈现一定的规律性：



61、名人效应是名人的出现所达成的引人注意、扩大影响的效应，或人们模仿名人的心理现象的统称。

根据上述定义，下面不属于名人效应的是：

A、某连续剧因著名演员主演而大获好评，后来该主演在本剧中所穿服饰开始热卖

- B、某产品邀请了某体育明星代言后产品销量直线上升
- C、某著名作家在公园举行新书签名会, 吸引了大批游客
- D、某市长就本市环境污染问题接受各大报社记者的采访

62、应激性是指生物对外来刺激(如温度、声音)在短时间内所做出的反应。

根据上述定义, 以下属于应激性的是:

- A、篮球触地后高高弹起
- B、含羞草被碰触后叶子收缩
- C、鲜牛奶常温放置 24 小时后发酸
- D、纸张遇到明火燃烧

63、表演艺术是一种通过演唱、演奏等方式来塑造形象、传达情感的艺术形式, 一般指舞台上的现场表演。

根据上述定义, 下面属于表演艺术的是:

- A、魔术师大卫·科波菲尔的魔术“大变活人”
- B、科幻电影《美国队长 2》
- C、健身房的瑜伽练习课
- D、社区部分妇女自行组织的广场舞

64、所谓形象工程指某些领导干部为了个人或小团体的目的和利益, 不顾群众需要和当地实际, 不惜利用手中权力而搞出的劳民伤财、浮华无效却有可能为自己和小团体标榜政绩的工程。

下列属于形象工程的是:

- A、某市领导干部为农村儿童建立希望基金会
- B、某经理私自为集团快速建立了豪华大厦
- C、某领导以发展旅游为名在贫困乡建大型度假村
- D、某市领导决定对当地古建筑工程进行修复

65、正当防卫是指对正在进行不法侵害行为的人, 采取的制止不法侵害的行为, 对不法侵害人造成一定限度损害的, 属于正当防卫, 不负刑事责任。

下列属于正当防卫的是:

- A、小偷进入朋友家中准备盗窃, 被朋友的母亲阻止后迅速离开
- B、盗匪拦路抢劫, 但是发现被拦者是自己的亲戚, 不得已而放弃
- C、杀人犯杀害自己仇人时, 仇人拿刀与之展开搏斗
- D、盗匪抢劫正在逃亡的杀人犯, 双方发生争执

66、紧缩货币政策指中央银行为实现既定的经济目标运用各种工具调节货币供应量和利率, 进而影响宏观经济的方针和措施的总和。紧缩货币政策最终希望取得稳定物价, 促进经济增长, 实现充分就业和平衡国际收支的效果。

根据上述定义, 以下涉及到紧缩货币政策的是:

- A、某商业银行面临资金紧缺的严重问题, 为减少风险, 对于投资审批程序更加严格
- B、欧洲各国的领导人普遍表示应该采取谨慎的货币政策以应对日益严峻的金融危机
- C、中央银行通过调整准备金率以控制商业银行贷款, 从而减少银行呆坏账的风险
- D、渣打银行推出无抵押信用贷款, 有效地解决了中小企业缺乏抵押物的问题

67、海绵城市是新一代城市雨洪管理概念, 是指城市在适应环境变化和应对雨水带来的自然灾害等方面具有良好的“弹性”, 也可称之为“水弹性城市”。

下列不属于海绵城市的是:

- A、光明新区先后建立发达的地下管网系统
- B、德国城市高效排水排污
- C、瑞士在全国大力推行“雨水工程”
- D、洛杉矶的雨水一直是流入河道, 后流向大海

68、“互联网+政务”服务实现部门间数据共享, 让居民和企业少跑腿、好办事、不添堵, 简除烦苛, 禁察非法, 使人民群众有更平等的机会和更大的创造空间。

下列不属于互联网+政务服务的是:

- A、小明去政府办理农村合作医疗保险要求只需携带公民身份证
- B、小明去政府单位跑一个窗口就将其所要办理的事情办好
- C、小明身在外地不需要回到户口所在地就可以办理身份证
- D、小明去政府机构办理业务感觉服务比以前好很多

69、共享税是由中央和地方政府按一定方式分享收入的一类税收。共享税的分享方式主要有附加式、分征式、比例分成式等。我国的共享税有增值税、资源税、个人所得税、企业所得税和证券交易税。

下列属于共享税的是:

- A、每次通过海关交的关税
- B、消费金额较大时所交的消费税

C、铁道部门集中缴纳的营业税 D、公司财务申购材料缴纳的增值税

70、缺点逆用法是指针对人或事物中的缺点，考虑如何将这些缺点进行转换，使之成为可被利用的优点，从而解决问题的方法。

根据上述定义，下面属于缺点逆用法的是：

A、电流通过导体时会产生热量，如不进行散热则会损害电路元件。人们利用电流的这种特点，将产生的热量传导到毛毯上，生产出了电热毯

B、公司新生产的模具被曝含有致癌物质，公司高层决定紧急召开会议讨论如何进行产品召回

C、最近部分市民投诉出租车拒载现象较多，针对此现象，出租车公司决定对司机重新进行业务培训并加重对拒载司机的处罚

D、小明有先天性的口吃，为了练好发声，他每天口含着石子练习

71、青蛙：害虫

A、老师：学生 B、老鹰：老鼠 C、蜻蜓：蝴蝶 D、牛奶：奶牛

72、绿萝：植物

A、金属：铝 B、铁锤：铁锹 C、动物：斑马 D、蝴蝶：昆虫

73、焦作：云台山

A、香港：紫荆花 B、华山：渭南 C、云南：洱海 D、杭州：西湖

74、英国：伦敦

A、宇宙：火星 B、青海：甘肃 C、香港：九龙 D、釜山：韩国

75、吐鲁番：葡萄

A、北京：普通话 B、新疆：哈密瓜 C、解放军：建军节 D、房地产：开发商

76、篮球：运动

A、敲诈：犯罪 B、作者：鲁迅 C、历史：近代史 D、金钱：权利

77、《西游记》：吴承恩

A、《三国志》：罗贯中 B、《三国演义》：施耐庵
C、《警世通言》：冯梦龙 D、《绿野仙踪》：蒲松龄

78、周瑜：曹操

A、杜甫：柳永 B、动物：食物 C、火车：叉车 D、吴国：魏国

79、麦当劳：美国

A、肯德基：德国 B、三星：韩国 C、夏普：英国 D、哈根达斯：日本

80、逗号：中止

A、句号：引用 B、解释：冒号 C、回车：换行 D、并列：分隔号

81、在电影“泰坦尼克号”里，我们看到了一幅幅充满人性，感人至深的温暖画面：白发苍苍的老船长庄严宣布：“让妇女儿童优先离船”。最后他平静地与“泰坦尼克号”一同沉没……

根据白发苍苍老船长的话，下列推理正确的是：

A、她是儿童，所以可以优先离船 B、优先离船的都是妇女儿童
C、她优先离船，所以她是妇女 D、不是妇女儿童不可以优先离船

82、“犯罪的不都是无固定收入人群”这一命题可以理解为：

A、所有犯罪的都不是无固定收入人群 B、所有犯罪的都是无固定收入人群
C、有的犯罪的不是无固定收入人群 D、所有的无固定收入人群是犯罪的

83、许多成功的演员都是表演系专业毕业的，也有很多演员是草根出身，通过一些机遇走上了演艺之路，但没有一个不努力提升自己演艺水平的演员能够获得成功。

如果以上陈述为真，那么以下选项一定为真的是：

A、没有草根出身的演员会不努力提升自己演艺水平
B、所有不成功的演员都不努力去提升自己演艺水平
C、演员越努力提升自己演艺水平就越可能获得成功
D、表演系专业毕业的演员会努力提升自己演艺水平

84、舞蹈课上，学生紫梦来迟了，老师问她：“怎么又迟到了？”根据此所述，则该教师提问的预设是：

A、学生紫梦不喜欢上舞蹈课 B、学生紫梦上课迟到是有意的
C、以前上舞蹈课学生紫梦也迟到过 D、这节舞蹈课上没有其他同学迟到

85、有员工没参加单位举行的学习宣传《习近平谈治国理政》(第二卷)座谈会。甲、乙、丙、丁中有一人没有参加, 其他三人都参加了。单位负责人在询问时, 他们做了如下的回答。

甲: 乙没有来。

乙: 我不但参加了, 而且还谈了感想。

丙: 我晚来了一会儿, 但一直到座谈会结束才走。

丁: 如果丙来了, 那就是我没来。

如果他们中只有一个人说谎, 则以下成立的是:

- A、甲没有参加 B、乙没有参加 C、丙没有参加 D、丁没有参加

86、中国要真正成为世界大国中的执牛耳者, 首先就要向海洋要发展空间。翻看历史上所有的大国崛起, 无不是在浩瀚的海洋中完成自我蜕变的。然而作为当今世界唯一的超级大国——美国, 却始终打着自己的小九九。它几乎不能容忍一个意识形态和自己不同的国家崛起于太平洋的另外一端, 从而击碎自己积累两百年的霸主地位。在现实中, 美国就和某些国家串联起来, 创造出旨在围堵中国的“太平洋岛链”, 这成了中国这只雄鸡暂时难以摆脱的海路桎梏。

根据这段文字, 无法推出的是:

- A、发展海洋空间对中国具有重要意义 B、美国和中国的意识形态完全不同
C、美国的全球地位有利于中国的发展 D、美国的小九九就是阻碍中国的发展

87、现代法治社会, 公民缴纳税款, 本该获得对应的公共服务, 其中就包括良好的大气环境。如果公众缴税之后, 还需要单独缴纳空气污染费, 那么就涉嫌重复收费。即便因为特殊原因非要征收, 相关部门必须让这笔资金的使用足够透明, 才能开征这一收费。但目前来看, XX市收取空气污染费本身都无理无据, 又如何指望其将钱花到刀刃上, 而不是成为其小金库和第二、甚至第N财政?

根据这段文字, 可以推出的是:

- A、良好的大气环境是法治社会公民应享的公共服务
B、现代法治社会一定不能收取空气污染费
C、公开透明是法治社会征收空气污染费的唯一条件
D、现代法治社会所有民众都缴纳了税款

88、某种意义上说, 公开发表论文的确是个人研究水平的一种证明。上个世纪有关方面主张把发表论文列为职称评审的依据之一, 初衷固然不错。此一制度设计, 在一段时期内也确实有积极的作用。但是, 旧的制度不可能永远管用, 新的体系必须在现实情况的变化中建立和刷新, 否则我们就得为因循守旧付出代价。

根据这段文字, 不能推出的是:

- A、论文发表是个人科研能力的证明 B、我国现行的职称评审制度需要改革
C、我国职称评审条件之一是要发表论文 D、我国现行职称评审制度设计不合理

89、大学生热衷于考证, 所有的指向都是便于就业, 多一个证便多一个找到相对满意工作的机会, 出发点很简单也很直接, 也说明了人才市场的某种需求的取向, 已经给大学生们注入了无声的动力。那么, 所谓的考证达人, 或者大学生们逢证必考, 呈现出来盲目, 事实上不是单纯意义的盲目了, 反映出来的仍然是大学生群体性就业的焦虑。

根据这段文字, 可以推出的是:

- A、大学生考证越多, 越容易找到份好工作
B、大学生考证越多, 越说明其市场需求大
C、大学生逢证必考, 反映了其就业的焦虑
D、大学生热衷考证, 主要证明其为考证达人

90、国家统计局到某单位开展反腐倡廉公众满意度调查, 该单位包括局长在内共有 373 名员工。有关这 373 名员工, 以下三个断定中只有一个是真的: (1) 有人满意; (2) 有人不满意; (3) 局长不满意。根据这段文字, 以下为真的是:

- A、373 名员工都满意 B、373 名员工都不满意
C、有 1 名员工不满意 D、无法确定该单位满意人数

四、常识判断。根据题目要求, 在四选项中选出一个最恰当的答案。

91、张某与郑某都是足球好者, 两人互不相识。某周末, 张某、郑某等人通过微信球友群相约踢足球。踢球过程中, 在张某进攻、郑某防守时, 双方发生了肢体碰撞, 张某受伤倒地。经医院诊断, 张某韧带撕裂。于是张某起诉郑某要求其承担 50% 的赔偿责任, 支付各项损失共计 15 万余元。对此, 根据相关法律规定, 下列说法正确的是:

- A、张某自愿参加踢球，郑某没有故意加害行为，所以损害后果应由张某自担
- B、张某、郑某以及其他参与踢球者应共同承担赔偿责任
- C、张某的起诉对象应是活动组织者和微信群主
- D、张某起诉郑某理由充分，合理合法

92、上个月，小刘到H公司面试。随后，接到H公司的短信，通知已被录用，要求小刘按时参加公司组织的为期6天的岗前培训，培训结束后，他和H公司签订了劳动合同，约定试用期1个月。在试用期内，公司利用周末休息日组织了4天的业务培训。对此，根据相关规定，下列说法正确的是：

- A、岗前培训期间并未从事具体工作，双方之间尚未建立劳动关系，H公司不用给小刘发放工资
- B、周末业务培训并不等于生产经营，也没有对公司产生效益，H公司不用给小刘发放加班费
- C、H公司要给小刘发放周末加班费，但不用给小刘发放岗前培训期间的工资
- D、H公司既要给小刘发放周末加班费，还要给小刘发放岗前培训期间的工资

93、王先生和赵女士按照家乡风俗，举办了婚礼。由于赵女士单位特殊，对配偶身份进行了一定时间的政审，直到婚礼一年后，二人才办了结婚登记。举办婚礼后，王先生的父母全款给儿子买了一套房，房产证在王先生办理结婚登记后两个月办了下来，登记在王先生名下。婚后，二人因为感情不合。赵女士最终起诉离婚，要求按照夫妻共同财产以分割房子。对此，按照相关法律，下列说法正确的是：

- A、办了婚礼后买的房子就是婚后购置，应属夫妻共同财产
- B、房产证在结婚登记后办下来的，属夫妻共同财产
- C、王先生父母全资购房，该房产既不属于王先生也不属于赵女士
- D、王先生父母全资购房，但产权登记在王先生个人名下，该房屋属王先生的个人财产

94、张女士网购了一瓶化妆水，由于已经过期，导致使用后脸部过敏。为此张女士花了5000元医药费用于治疗脸部过敏。她给商家发消息要求他们赔偿，但他们一直不回消息，不接电话。对此，根据相关法律规定，下列说法中不正确的是：

- A、张女士可要求网购平台提供商家的真实名称、地址和有效联系方式，与商家协商解决
- B、如果网购平台无法提供商家的真实名称、地址和有效联系方式，张女士可以要求网购平台对她的损失进行赔偿
- C、商家赔偿后，张女士有权向网购平台追偿
- D、网购平台赔偿后，张女士有权向商家追偿

95、吴先生被一辆货车撞成高位截瘫，经相关部门责任认定，货车驾驶员负全部责任。后经法院审理，货车司机所属公司同意赔偿40万元。判决生效之后，肇事方却提出由于资金紧张，没办法一次性支付赔偿金。对此，根据相关法律规定，下列说法不正确的是：

- A、赔偿金必须一次性支付
- B、双方协商不一致的，赔偿金应当一次性支付
- C、双方要协商一致的，赔偿金可以分期支付
- D、如果分期支付，支付方应提供相应的担保

96、韩某与几个朋友一起吃饭时都喝了酒，饭后，由于朋友李某喝的比较少就提出开韩某的车送韩某回家。途中与一辆轿车相撞，该事故使对方车辆损坏，对方要求赔偿维修费用4万元，交管部门认定韩某一方应承担事故的全部责任。对此，根据相关法律规定，下列说法正确的是：

- A、李某无偿为韩某提供劳务，因此两人共同承担责任
- B、在该起交通事故中，韩某对机动车享有事实上和法律上的运行支配权，因此韩某承担全部责任
- C、李某未从机动车的运行中获利，因此不承担责任
- D、李某酒后驾驶，属于重大过失，因此承担全部责任

97、宋某和熊某是同事，前几天，宋某从朋友口中得知熊某发微信朋友圈骂她是“小三”“不知廉耻”等等，还配有宋某的照片。对此，熊某并不承认。但宋某的朋友已经将截图发给了她。因为此事，公司同事对宋某议论纷纷。对此，根据相关法律规定，下列说法中正确的是：

- A、熊某在微信朋友圈的行为不同于现实中的直言辱骂，不构成名誉侵权
- B、熊某在微信朋友圈的行为会造成宋某的社会评价降低，构成名誉侵权
- C、宋某无法起诉至法院要求熊某删除朋友圈相关内容，书面公开道歉
- D、宋某不能要求赔偿精神损害抚慰金

98、晚饭后李先生和儿子在小区散步时，有一条未牵绳的小狗冲出扑向他儿子，并咬伤了他的胳膊。为了保护儿子，李先生用脚踹小狗。但因为用力过猛，将小狗踹死了。后来，狗主人说这条狗十分名贵，要求李先生赔偿损失。对此，根据相关法律规定，下列说法正确的是：

- A、李先生的行为属于正当防卫，不需要承担法律责任
- B、李先生的行为属于防卫过当，需要承担法律责任
- C、遛狗不牵绳导致狗咬人，养狗者要承担侵权责任
- D、养狗者和李先生应承担各自的法律责任

99、因酒量都比较大，小李和小唐在单位被戏称为“二斤哥”和“酒仙”。某日，他俩戏言说要在酒桌上“一决高下”，于是很多同事跟着看热闹。酒过三巡，两人都有些醉，但没分出胜负，同事小王掏出 500 元钱做诱饵，说谁赢归谁，结果小李最后因酒精中毒被送至医院，治疗痊愈共花去医药费 6 万元。对此，根据相关法律规定，下列说法正确的是：

- A、小李可要求小王赔偿部分医药费
- B、劝酒人小王应当承担全部赔偿责任
- C、因小李过错所以应独自承担所有医药费
- D、小李可向小唐、小王和在场的同事索赔全部医药费

100、春节期间，刘女士在某超市购买了两箱牛奶，一周后发现牛奶都已发霉变质。她找到超市要求退货，超市却告知牛奶销售商只是租赁其柜台，卖完牛奶就“人去楼空”。超市还拿出租赁协议，双方约定“谁销售谁负责”，让刘女士找牛奶销售商。对此，根据相关法律规定，下列说法正确的是：

- A、刘女士、销售商、超市共同担责
- B、因刘女士购买时未仔细辨别，所以她应当担责
- C、超市对进场销售的商品检查不到位应当承担全部责任
- D、超市承担责任后，刘女士还可向销售商进行追偿

101、戴女士在某美容医院进行了肉毒素注射，注射前医生与她签过《知情同意书》，该同意书内容均为术后注意事项。注射两天后出现发烧、脸疼、头晕等症状，最后被医院诊断为肉毒素中毒，后续医疗费用又花费两万元。对此，根据相关法律规定，下列说法正确的是：

- A、因双方事先签订了《知情同意书》，所以医院没有责任
- B、戴女士自己身体有问题，因此她只能自己承担全部责任
- C、因《知情同意书》未履行了充分、完全的告知义务，因此医院要承担部分责任
- D、戴女士可依据医疗费发票、工资流水单等，向法院起诉，要求美容医院支付医疗费、营养费、误工费

102、黄某是一家建筑设计公司经理。该公司设计师赵某于本月 5 日提出离职，6 日起就不再来公司上班，黄经理用多种方式都没有联系上赵某。赵某的突然离开导致公司几个项目工作延期，给客户造成了损失，现在客户要求公司赔偿。对此，根据相关法律规定，下列说法不正确的是：

- A、黄经理公司可建议客户直接找赵某赔偿损失
- B、赵某提前 1 天通知用人单位解除劳动合同的做法不合法
- C、因赵某离职给黄经理公司带来的经济损失的举证责任在建筑设计公司
- D、赵某未履行相关义务，给公司造成经济损失，该公司可以向赵某索赔

103、张某是一名“职业打假人”。有群众向他反映一家店里卖的特级海参有问题，他了解情况后从该店铺购买了 10 万元的海参，经鉴定海参确实不符合质量要求，他便要求该店以商品价款的三倍赔偿。对此，根据相关法律规定，下列说法正确的是：

- A、张某要求三倍赔偿不合法
- B、该店对知假买假的张某构成欺诈
- C、该店对其他购买海参的群众构成欺诈
- D、张某知假买假然后要求赔偿对该店构成欺诈

104、老张经营一家水泥厂，年初，一名老客户从他厂里订购了一批水泥，但是客户说最近手头紧张，让老张先开发票，钱款过几个月再付。想着是老朋友，老张就按照客户的要求办了。但让老张没想到的是，当他向客户催要欠款时，对方竟然拿着发票说，已经付完了，发票就是证据。对此，按照相关法律规定，下列说法正确的是：

- A、付款与开发票之间是因果关系，客户的发票就是付款凭证
- B、因老张与客户之间只有口头约定，老张要钱行为于法无据
- C、老张和客户之间的纠纷属买卖合同纠纷
- D、老张与客户之间的纠纷属一般借贷纠纷

105、今年5月份, 一位同事向张女士借了10万元。当时欠条中写明, 他将在一年内还清借款。但是, 最近张女士和该同事之间发生了一些矛盾, 关系比较僵。张女士想提前要回借给同事的10万元。对此, 根据相关法律规定, 下列说法不正确的是:

- A、因欠条中明确约定了还款日期, 张女士的诉求难以得到法律支持
- B、张女士和同事之间的借条, 相当于“借款合同”, 具有法律约束力
- C、即使同事还款期限届满前明确表示不会履行还款义务, 张女士也无法解除合同
- D、如果同事未按约定的用途使用借款, 张女士可以要求同事提前还款

五、资料分析。所给出的图、表、文字或综合性资料均有若干个问题要你回答。你应根据资料提供的信息进行分析、比较、计算和判断处理。

(一)

2018年1-2月份, 全国规模以上工业企业实现利润总额9689亿元, 同比增长16.1%。其中, 国有控股企业实现利润总额2918.1亿元, 同比增长29.6%; 集体企业实现利润总额36.9亿元, 增长2.8%; 股份制企业实现利润总额6829.5亿元, 增长21%; 外商及港澳台商投资企业实现利润总额2259.6亿元, 增长2%; 私营企业实现利润总额2830.8亿元, 增长10%。按行业分其中采矿业实现利润总额877.9亿元, 同比增长42.1%; 制造业实现利润总额8100亿元, 增长12.5%; 电力、热力、燃气及水生产和供应业实现利润总额711.1亿元, 增长35.2%。

106、2017年1-2月份全国规模以上工业企业实现利润总额:

- A、8493亿元
- B、8576亿元
- C、8345亿元
- D、8129亿元

107、2018年1-2月份股份制企业实现利润总额比上年同期增长约:

- A、864亿元
- B、1434亿元
- C、666亿元
- D、1185亿元

108、2018年1-2月份制造业实现利润总额占全国规模以上工业企业实现利润总额的比重为:

- A、86.2%
- B、83.6%
- C、82.6%
- D、84.4%

109、2018年1-2月份按企业性质分类中实现利润总额同比增长额大于45亿元的有:

- A、1个
- B、2个
- C、3个
- D、4个

110、下列说法正确的是:

- A、2017年1-2月份制造业实现利润总额为7200亿
- B、2018年1-2月份私营企业实现利润总额增量大于采矿业实现利润总额增量
- C、2018年1-2月份外商及港澳台商投资企业实现利润总额增量最小
- D、以上说法都不正确

(二)



111、快递业务量与上年相比增长量最大的年份是:

- A、2017年 B、2016年 C、2014年 D、2015年
- 112、2013-2017年，快递业务量平均每年约收发：
A、206亿件 B、230亿件 C、226亿件 D、246亿件
- 113、2016年快递业务量比2015年约增长：
A、51% B、48% C、55% D、40%
- 114、2017年比2013年快递业务量增加：
A、261亿件 B、312.8亿件 C、318.7亿件 D、308.7亿件
- 115、以下说法不正确的是：
A、快递业务量增速最大年份是2013年
B、快递业务量增速最小年份是2017年
C、五年间快递业务量增加最多的年份也是业务量增速最快的年份
D、2015年快递业务量比2014年增加67.1亿件

(三)

2017年中国内地对主要国家和地区货物进出口额及其增长速度

国家和地区	出口额(亿元)	比上年增长(%)	占全部出口比重(%)	进口额(亿元)	比上年增长(%)	占全部进口比重(%)
欧盟	25199	12.6	16.4	16543	20.2	13.3
美国	29103	14.5	19	10430	17.3	8.4
东盟	18902	11.9	12.3	15942	22.8	12.8
日本	9301	8.9	6.1	11204	16.3	9
中国香港	18899	-0.4	12.3	495	-54.9	0.4
韩国	6965	12.6	4.5	12013	14.4	9.6
中国台湾	2979	12.2	1.9	10512	14.5	8.4
巴西	1962	35.2	1.3	3974	31.4	3.2
印度	4615	19.8	3	1107	42.4	0.9
俄罗斯	2906	17.8	1.9	2790	31	2.2
南非	1004	18.4	0.7	1649	12.1	1.3

- 116、2017年，中国内地对韩国出口额比2016年同期约净增长：
A、6186亿元 B、756亿元 C、5250亿元 D、779亿元
- 117、中国内地进口额与出口额相差最大的国家和地区是：
A、欧盟 B、美国 C、中国香港 D、中国台湾
- 118、2016年中国内地对日本的进口额约为：
A、8546亿元 B、6185亿元 C、9634亿元 D、10501亿元
- 119、2017年中国内地与下列四个国家和地区中实现贸易逆差的是：
A、俄罗斯 B、东盟 C、中国台湾 D、印度
- 120、2017年中国内地出口额占全部比重大于进口额占全部比重的国家和地区有：
A、3个 B、4个 C、5个 D、6个

微信扫一扫二维码，关注“公务员考试挺简单”微信公众号，可获取更多公考经验。分享公考经验，还可获得现金奖励哈

手淘扫描淘宝店铺，可以购买省考、国考历年真题哦



微信公众号



淘宝店铺