

2008 年江西省公务员录用考试《行政职业能力测验》试卷

来源：网络

说明

这项测验共有五个部分，125 道题，总时限 120 分钟。各部分不分别计时，但都给出了参考时限，供以参考以分配时间。

请在机读答题卡上严格按照要求填写好自己的姓名、报考部门，涂写准考证号。1. 题目应在答题卡上作答，不要在题本上作任何记号。

2. 监考人员宣布考试开始时，你才可以开始答题。

3. 监考人员宣布考试结束时，你应立即放下铅笔，将试题本、答案卡和草稿纸都留在桌前待监考老师确认数量无误、允许离开后，然后离开。如果你违反了以上任何一项要求，都将影响你的成绩。

4. 在这项测验中，可能有一些试题较难，因此你不要在一道题上思考时间太久，遇到不好的题目，要先跳过去，如果有时间再去思考。否则，你可能没有时间完成后面的题目。

5. 所有试题均为单项选择题。试题答错不倒扣分。

6. 特别提醒你注意，涂写答案时一定要认准题号。严禁折叠答题卡。

第一部分言语理解与表达

(共 25 题，参考时限 25 分钟)

本部分中每道题包含一段话或一个句子，后面是一个不完整的陈述，要求你从四个选项中选出一个来完成陈述。注意：答案可能是完成对所给文字主要意思的提要，也可能是满足陈述中其他方面的要求，你的选择应与所提要求最相符合。

请开始答题：(1~25 题)

1. 由于近年来黄河水资源过度开发利用，1972 年以来，黄河有 21 个年份出现断流；1997 年，黄河断流 226 天，断流河段一直延伸到开封，长达 704 公里。一方面黄河“闹水荒”，另一方面流域内用水有增无减。专家预计，到 2010 年，遇到正常来水年份，黄河用水缺口将达 40 亿立方米；遇到缺水年份，黄河用水缺口将达 100 亿立方米，黄河支持流域社会经济的功能已到极限。这段文字意在说明

A. 黄河水资源利用已突破河流承载的期限。 B. 开发利用黄河水资源已造成河流常年干涸断流

C. 黄河“生命”将很快终结 D. 黄河自身平衡的“生态水量”已一去不复返

2. 饮食偏好和进餐模式在人的儿童阶段已形成，而儿童时代的食品选择和饮食习惯将会对人的一生造成重要影响。收集的证据显示，在 2 至 11 岁儿童对食物和饮料的偏好和购买“要求”，对于他们的消费习惯同样产生不小的影响。目前的食品和饮料的构成和电视上狂轰滥炸般的儿童食品广告给儿童的长期身体健康带来很大危险。通过这段文字可看出作者的主要观点是

A. 儿童要养成良好的饮食习惯 B. 儿童时代的食品选择和饮食习惯会影响一生

C. 电视广告会影响儿童的偏好和购买“要求” D. 垃圾食品电视广告会影响儿童健康。

3. 莫高窟可以傲视异邦古迹的地方，就在于它是一千多年的层层累聚。看莫高窟，不是看死了一千年的标本，而是看活了一千年的生命。一千年而始终活着，血脉畅通，这是一种何等壮阔的生命！一代又一代艺术家前呼后拥向它们奔去，每个艺术家又牵连着喧闹的背景，在这里举行着横跨千年的游行。

这段文字中画线句“活了一千年的生命”的含义是

A. 中华民族千年文化艺术的恒久魅力 B. 中华民族千年文化艺术的层层累聚

C. 中华民族可以傲视异邦的千年壮阔 D. 中华民族可以傲视异邦的千年古迹

4. 这里连禽鸟都在歌舞，连繁花都要卷成图案，为这个天地欢呼。这里的雕塑都有脉搏和呼吸，挂着千年不枯的吟笑和娇慎。这里的每一个场面，都非双眼能够看尽，而每一个角落，都够你留连长久。这里没有重复，真正的欢乐从不重复。这里不存在刻板，刻板容不下真正的人性。

根据上述文字，对其描写对象特点概括正确的是

① 图案美丽 ② 形象生动 ③ 美不胜收 ④ 神态逼真 ⑤ 场面宏伟 ⑥ 不断创新 ⑦ 没有重复 ⑧ 没有刻板

A ①③⑤⑦ B ②④⑤⑥ C ①④⑥⑧ D ②③⑥⑧

5. 蜘蛛侠当时说过一句很著名的台词，能力有多大、责任有多大。假如说虚假广告对消费者的权益造成了伤害，明星获得了利益，就该追诉明星的责任，但有一部分明星可以得到豁免，比如说这个明星不具备独立的行为能力，他是儿童、童星。

这段文字主要讨论的话题是

A. 代言虚假广告的明星要不要承担相应的法律责任 B. 代言虚假广告的明星要承担相应的法律责任

C. 明星是虚假广告的最大受益者、 D. 虚假广告对消费者的权益造成了伤害

6. 舆论认为，目前由美国牵头的反恐是“越反越恐”。因此马德里反恐国际峰会探索的途径就是通过全球合作，促进不同宗教文化的和平共处、逐步消灭贫困、以多边主义彻底取代单边主义、采取行之有效的联合反恐措施。事实证明，只有合作，才可能真正促进国际社会的民主和安全。马德里反恐国际峰会探索国际反恐新途径的根本原因是

A. 目前由美国牵头的反恐是“越反越恐” B. 国际反恐活动没有采用和平共处政策

C. 国际反恐活动没有采取联合反恐措施 D. 单边主义致使国际反恐斗争陷入泥潭

7. 从 18 世纪开始，_____。如今，英、美、法、德和意大利等国的博物馆收藏了几十万件埃及文物，仅法国卢浮宫就有 4.5 万件，而意大利都灵博物馆的埃及文物典藏也仅次于埃及开罗博物馆的 10 万件。具有讽刺意味的还有，狮身人面像上的石刻胡须部分被收藏在大英博物馆中，欧洲最大的一座方尖碑，就是从埃及卢克索神庙塔门前搬到卢浮宫旁的协和广场中央的。这段文字中画线处的句子应选的是

- A. 西方各国大量窃掠埃及的珍贵文物 B. 埃及的珍贵文物就被西方大量窃掠
C. 西方各国大量收藏埃及的珍贵文物 D. 埃及珍贵文物不断散落于西方各国

8. 鲨鱼是海中的恐怖杀手，表皮多呈单调的灰色。乍看之下，这似乎是在潜近猎物时，不容易被发现的一种保护色，但事实不然。动物的体色有多种功能，除了掩护（保护）自己外，还有向同类异性炫耀的作用。鲨鱼的眼睛跟多数鱼类一样，有一显著的不同点是，它的视网膜上只有分辨明暗的杆状细胞，任何东西在它们的眼中只是不同层次的“灰色”而已。因此，即使有了缤纷多彩的体色，然在异性眼中也是“毫无意义”的，甚至是进化上的一种“消费”。所以它们就一直保持着最纯朴的体色——灰色。从这段文字中提炼的寓意不正确的是

- A. 觉得世界是单纯的人，他自己也可能是一个单纯的人
B. 单纯的人如果以为世界都是单纯的，可能会造成严重的后果
C. 单纯的人如果以为世界都是单纯的，不一定造成严重的后果
D. 不论人还是动物，简单的生理机制是形成单纯的根本原因

9. 李陵在匈奴生活了约二十年，最后死在那里。他的躯体上一直覆盖着厚厚的冰雪。一个蒙羞的灵魂，一个堆积着厚厚冰雪的灵魂，一个插着无数把刀的灵魂，在两千多年前安息了。隔着两千多年的岁月，李陵在冰雪中远去，远去。人们一直遥望着的，是那一个背影。人们感受到李陵灵魂里的冰雪。这段文字中，对“冰雪”一词理解不恰当的是

- A. 李陵死在“大雪满弓刀”雪地 B. 李陵一直顶着叛变罪名
C. 李陵远离故土客死寒冷的北方 D. 李陵一直承受辱骂指责

10. 世界贸易组织总干事帕斯卡尔·拉米认为，该组织所取得的最重要成果就是把中国纳入其中，将会有更多国家从中国市场开放中受益，中国经济的增长有利于所有人。还

有分析家指出，一个富裕的中国是维护世界和平的重要力量。那些为中国成功而忧虑的人，原本更应为中国经济的增长是否会急剧减速而担心。这段文字的议题是

- A. 世界贸易组织总干事帕斯卡尔·拉米的观点 B. 中国加入世界贸易组织
C. 富裕的中国 D. 中国经济的增长

11. 香蕉“巴拿马病”学名为香蕉枯萎病。因为巴拿马病是植物病原体引起的，树的维管束内繁殖，它只感染香蕉树，香蕉树不会结果，结果的香蕉树肯定是不病的。香蕉枯萎病与食用香蕉的安全性没有任何关联。通过选育优良品种、推行标产、综合应用各种病虫害防治措施等套技术，可控制香蕉枯萎病的蔓延，减轻危害。这段文字意在告诉我们

- A. 香蕉枯萎病与果实没有关系 B. 香蕉枯萎病的防治措施很多
C. 香蕉枯萎病不会致人感染疾病 D. 香蕉枯萎病并不源发于中国

12. 中国象棋，周朝时双方就各设卒。西汉末年刘向的《说苑》中则有“斗象棋”的记载。至南北朝，因周武帝亲撰《象经》使象棋逐渐流行。唐时象棋很普及并传入日本，清以后棋坛名将辈出，棋谱大量刊行流传到世界上多个国家和地区。围棋是以双方分别用黑色和白色的棋子围攻对方、以吃子多少定胜负。

这段文字中，对中国象棋和围棋的解释书法不正确的是

- A. 中国象棋最初就有 5 个兵卒 B. 中国象棋到了南北朝就逐渐流行
C. 围棋以双方围攻、吃子多少定胜负 D. 中国象棋明清后传到世界很多国家

13. 根据民事诉讼法规定的二审终审原则，任何案件证据要经过二次质证，并最终检察院以新证据为由提出抗诉从而引发再审程序并最终定案容易导致有些当事人一、二审中恶意隐瞒证据，在判决生效后拿“杀手锏”向检察院申诉。通过再审从而达到诉讼胜利这是不道德、不公正的。因此检察机关以新证据为由提起抗诉是不妥的。这段文字的核心意思是

- A. 任何案件证据都要经过二次质证 B. 检察机关用发现新证据提起抗诉的规定是不妥的
C. 民事诉讼法规定的二审终审原则，并最终得以认证 D. 通过再审从而达到最后的诉讼胜利，这是不公正的

14. 传统农业生产方式需要使农产品获得历史附加值，甚至可以同时成为旅游观景点，完整保留中国几千年的农业生产文化；在这个区域内，包括农民的住宅、道路、水电，外在景观都要统一设计，以保证传统的外貌景观，但是，在农民的家庭内部，同样可以享受现代化的种种便利。这段文字的主要观点是

- A. 要把传统农业生产区打造成旅游观光 B. 农业生产要体现传统，农民生活必须现代
C. 传统农业需要完整保留中国农业生产文化 D. 传统农业需要统一设计，讲求传统的外观

15. 因为房价上涨还有人买不起房，因此要限制部分购买第二套住房，那么是否因为还有人买不起私人汽车就不发展汽车产业了；是否因为中国的企业借贷有坏帐就停止防的贷款业务，将银行的信贷风险都转移给消费者？这与部分农民养鸡喂猪有可能产生资本主义的道理如出一辙，没有任何逻辑上的差别。

与这段文字的文义相合的说法是 .

- A. 由于房价上涨有人买不起房，因此要限制部分购买第二套住房
B. 如果用停止银行贷款业务来应对企业借贷的坏帐，银行信贷风险就会转移给消费者
C. 养鸡喂猪有可能产生资本主义

- D. 由于有相当多的人买不起私人汽车，汽车产业不宜发展
16. 雪山草地，____下前辈铿锵的足迹；战火硝烟，____起先烈英勇的雕像。填入划横线部分最恰当的一项是
- A. 留树 B. 写刻 C. 印铸 D. 刻铸
17. ____全党同志和全国人民团结一心，坚持不懈地奋斗，不断取得扎扎实实的成效，我们____一定能够使社会主义新农村建设真正成为惠及广大农民群众的民心工程。
- A. 如果 就 B. 只有 才能 C. 只要 就 D. 倘若 也就
18. 放眼世界、海纳百川，通过__、消化、__，努力推动我国科学技术跨越式发展。填入划横线部分最恰当的一项是
- A. 引进 吸收 B. 引进 改造 C. 学习 创新 D. 学习 改造
19. 所有企业和用人单位都要强化社会责任，____和____农民工的劳动和创造，不得违反国家法律法规和政策规定损害农民工权益。填入划横线部分最恰当的一项是
- A. 保护 爱护 B. 珍惜 爱护 C. 鼓励 保护 D. 重视 保护
20. 当三个女子从容地辗转于文明人所发明的枪弹的攒射中的时候，这是怎样一个惊心动魄的伟大啊！中国军队的屠戮妇孺的____，国联军惩创学生的____，不幸全被这几缕血痕抹杀了。填入划横线部分最恰当的一项是
- A. 伟绩 武功 B. 罪行 行径 C. 暴行 罪恶 D. 罪恶 罪行
21. 云团____地移动着，被吞没了多时的满月一下子跳出来，像一个刚出炼炉的银盘，辉煌灿烂，银光耀眼，把整个大地照得____的，荷叶上的青蛙，草丛里的蚂蚱和树枝上的小鸟，都被这突____的光明惊醒，欢呼、跳跃，高声鸣唱起来。填入划横线部分最恰当的一项是
- A. 慢慢 明晃晃 降临 B. 缓缓 亮堂堂 降临 C. 慢慢 亮堂堂 来临 D. 缓缓 明晃晃 来临
22. 2000年3月18日，当人们还沉浸在欢庆新春到来的喜悦之中的时候，____，刺骨的西北风携带着漫天飞旋的黄沙铺天盖地而来。阳光明媚、大地____的美好景象，____被遮天蔽日的沙尘罩上了一层厚厚的土黄色。太阳失去了往日的光辉，像一只灰色盘子悬挂在天空。填入划横线部分最恰当的一项是
- A. 突然 回春 顷刻 B. 突然 复苏 顷刻 C. 忽然 回春 立刻 D. 忽然 复苏 立刻
23. 在二次大战前，有一批作家为避免侦探小说千篇一律，便在主角、写作风格上力求创新，而求新求变的结果使推理文学出现了新的写作形式，如心理惊悚小说、冒险动作____间谍小说、冷面硬汉派小说等，他们____重塑侦探形象、拓展取材范围，甚至走纯文学的路线，其目的无非是为了跳出传统推理小说的____。填入划横线部分最恰当的一项是
- A. 和 尝试 老套 B. 和 试图 窠臼 C. 或 尝试 窠臼 D. 或 试图 老套
24. 人生三境界：____，才能览物于胸；____，才能洞若观火；____，才能超然物外。此三重境界，形影交错，亦梦亦境，需反复思虑，不断探索，才能冲破重天驾驭人生。
- A. 看淡 看远 看透 B. 看远 看透 看淡 C. 看透 看淡 看远 D. 看透 看远 看淡
25. 一尽管这名病人被诊断为植物状态，但她保留了理解口头____并通过大脑活动、而非语音或动作做出____的能力。”欧文表示：“她决定与我们合作，根据我们的__想象特定的任务，这是一个清楚的____行为，确凿无疑地证明，她有意识的认识自己和周围环境。”填入划横线部分最恰当的一项是
- A. 指令 反应 指令 意向 B. 指示 反应 指示 意识
- C. 指令 反映 指令 意识 D. 指示 反映 指示 意向

第二部分 数量关系

(共 20 题，参考时限 20 分钟)

一、数字推理。给你一个数列，但其中缺少一项，要求仔细观察数列的排列规律，然后从四个供选择的选项中选择你认为最合适最合理的一项来填补空缺项，使之符合原数列的排列规律。

请开始答题（26~35 题）：

26. 3 16 45 96 () 288
- A. 105 B. 145 C. 175 D. 195
27. 4 9 15 26 43 ()
- A. 68 B. 69 C. 70 D. 71
27. $1/16$ $1/27$ $1/16$ $1/5$ () 7
- A. $1/16$ B. 1 C. 2 D. $1/24$
29. 2 3 20 92 448 ()
- A 2160 B 2060 C 1960 D 1860
30. 3 2 11 14 27 ()
- A 30 B 32 C 34 D 36
31. 0 8 54 192 500 ()
- A 840 B 960 C 1080 D 1280
32. 11 29 65 137 281 ()
- A 487 B 569 C 626 D 648

33. 1.03 2.05 2.07 4.09 () 8.13
 A 8.17 B 8.15 C 4.13 D 4.11
 34. 1 2 3 4 7 6 ()
 A . 11 B . 8 C . 5 D . 4
 35. 1 3 5 9 17 31 57 ()
 A . 105 B . 89 C . 95 D . 135

二、数学运算：共 15 题。每道试题呈现一道算术式，或表述数字关系的一段文字或几何图形，要求你迅速、准确地计算或认证出答案。

请开始答题（36~45 题）：

36. $\left(1 + \frac{1}{2} + \frac{1}{3}\right) \times \left(\frac{1}{2} + \frac{1}{3} + \frac{1}{4}\right) - \left(1 + \frac{1}{2} + \frac{1}{3} + \frac{1}{4}\right) \times \left(\frac{1}{2} + \frac{1}{3}\right) = ?$

- A 1/2 B 1/3 C 1/4 D 1/5

37. 甲、乙、丙三名举重运动员，三个甲的体重相当于四个乙的体重，三个乙的体重相当于二个丙的体重，甲的体重比丙轻 10 千克，甲体重为多少千克？

- A . 60 B . 70 C . 80 D . 90

38. 小李开了一个多小时会议，会议开始时看了手表，会议结束又看了手表，发现时针与分针恰好互换了位置，问这个会议大约开了 1 小时多少分？

- A . 51 B . 47 C . 45 D . 43

39. 一列长为 280 米的火车，速度为 20 米 / 秒，经过 2800 米的大桥，火车完全通过这座大桥需多少时间？

- A . 28 秒 B . 2 分 20 秒 C . 2 分 28 秒 D . 2 分 34 秒

40. 一个空间的容积为 64 升的鼓形圆桶上有 A, B 两孔，一种蒸馏水从 A 孔流入同时从 B 孔流出，如果通过 A 孔的流速为 3 升 / 小时，那么在 B 孔的流速为多少升时才能保证用 96 小时恰好装满该容器

- A 4/3 B 8/3 C 7/3 D 3/7

41. 配制黑火药用的原料是火硝硫磺和木炭。火硝的质量是硫磺和木炭的 3 倍，硫磺只占原料总量 1/10，要配制这种黑火药 320 千克，需要木炭多少千克？

- A 48 B 60 C 64 D 96

42. 小王和小李合作投资，年终每人的投资进行分红，小王取了全部的 1/3 另加 9 万元。小李取剩余 1/3 和剩下的 14 万元。问小王比小李多得多少万元？

- A 2 B 3 C 4 D 5

43. A、B、C、D、E 这 5 个小组开展扑克比赛，每两个小组之间都要比赛一场，到现在为止，A 组已经比赛了 4 场，B 组已经比赛 3 场，C 组已经比赛了 2 场，D 组已经比赛了 1 场。问 E 组比了几场？

- A . 0 B . 1 C . 2 D . 3

44. 在同一环形跑道上小陈比小王跑得慢，两人都同一方向跑步时，每隔 12 分钟遇一次；若两人速度不变，其中一人按相反方向跑步，则隔 4 分钟相遇一次。问两人跑完一圈花费的时间小陈比小王多 () 分钟

- A . 5 B . 6 C . 7 D . 8

45. A、B、C 三件衬衫的价格打折前合计 1040 元，打折后合计 948 元，已知 A 衬衫的打折幅度是 9.5 折，B 衬衫的打折幅度是 9 折，C 衬衫的打折幅度 8.75 折，打折前 A、B、C 三件衬衫的价格是多少元？

- A . 600 元， 400 元， 140 元 B . 300 元， 240 元， 500 元

- C . 400 元， 320 元， 320 元 D . 200 元， 160 元， 680 元

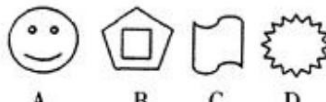


第三部分判断推理

(共 35 题，参考时限 35 分钟)

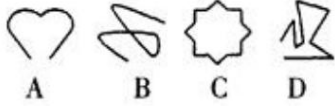

本部分包括四种类型的试题

一、图形推理。共 10 题。包括两种类型的题目：

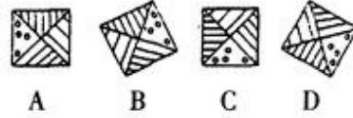

(一) 请从所给的四个选择项中，选择最适合的一个填在问号处，使之呈现一定的规律性。



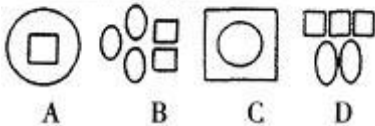
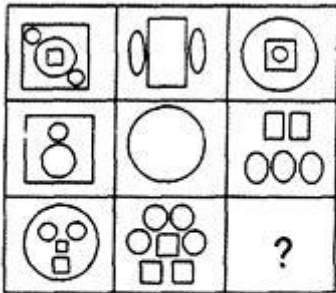
48.



49.



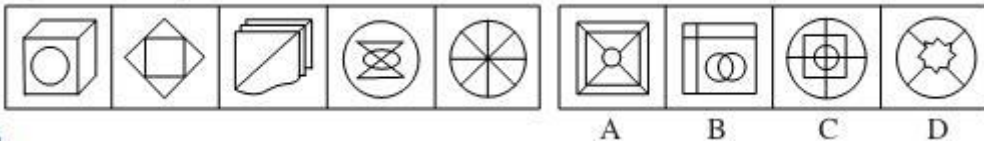
50.



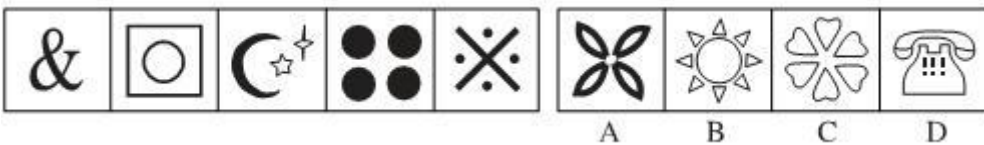
(二) 每道题在左边的题干中给出一套图形，其中包括五个图，这五个图形呈现一定的规律性。在右边给出一套图，其中有四个图，让考生从中选出以上作为保持左边五个图规律性的第六个图。

请开始答题：（51~55 题）

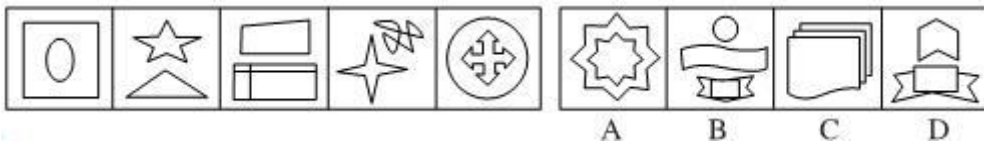
51.



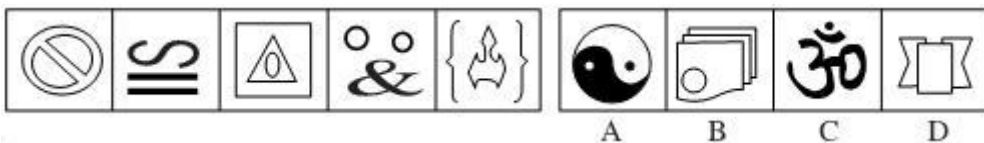
52.



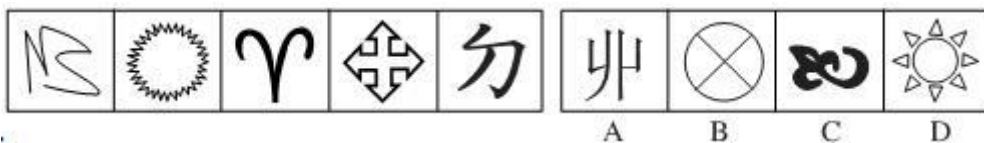
53.



54.



55.



二、定义判断。每道题先给出一个概念的定义，然后分别列出四种情况，要求你严格依据定义，从中选出一个最符合或最不符合该定义的答案。注意：假设这个定义是正确的，不容置疑的。

请开始答题：（56~60题）

56. 妒富意识：指妒忌别人富有的错误意识。下列属于妒富意识的是

- A. 有极少数人一旦知道某某富了一些，就来找他的麻烦了
- B. 不少人和单位即使是正当的经济来源也不愿意对外说
- C. 小王新买了一件价值数万元的钻石戒指，同办公室的同事一致认为不好看
- D. 有一种观点认为：一些部门和人通过正当渠道先富起来，也可能妨碍共同富裕。

57. 互文：修辞格之一。在连贯性的话语中，将本应合在一起说的两个词语，分开拼在上下两句中或一句的上下段中，参互成文。‘合而见义’，如“主人下马客在船”，应理解为“主人和客人共同下了马，来到了船上”。下列不属于互文手法的是

- A. 秦时明月汉时关，万里长征人未还 B. 白兔捣药秋复春，嫦娥孤栖与谁邻
- C. 孤屿池痕春涨满，小栏花韵午晴初 D. 映阶碧草自春色，隔叶黄鹂空好音。

58. 公地悲剧：也称公共地悲剧，指享有者都从自己私利出发，争取从中获取更多收益，而付出的代价由大家负担。下列不属于公地悲剧的是

- A. 军备竞赛的双方都面临着一个困境——一方面军事力量不断增加，另一方面国家安全却受到越来越多的威胁
- B. 博弈游戏中，任何“赢”的一方都是背离游戏的，任何“输”的一方也都是背离游戏的
- C. 一群牧民一同在一块公共草场放牧。不少牧民都想多养羊增加个人收益，结果草场持续退化，直至无法养羊，最终导致所有牧民破产
- D. 有的企业把下水道污物、化学物质、放射性污染物和高温废弃物等排放到水体中，将有毒废气排放到大气中

59. 对外贸易地理方向：指一个国家或地区进口商品的来源和出口商品的去向，从而反映该国与其他国家或地区之间的经济贸易联系程度。下列属于对外贸易地理方向的是

- A. 2003年，上海合作组织成功举行了一场反恐演习
- B. 第一次全国经济普查结束，中国经济总量升至世界第六
- C. 海关统计，2004年欧盟成为中国最大的贸易伙伴
- D. 中国与欧美纺织品贸易摩擦经多次谈判后最终得到协商解决

60. 认知干预：认知干预的原则认为，一个人的心理活动和心理状态决定于其内在的认知观念，个体心理问题的根源是其头脑中不合理的认识观念，认知干预就是要以正确的理论知识来改变个体的不合理认识。下列不属于认知干预的是

- A. 在实施某项手术前，医护人员以正确的医学和生理学知识告诉病人此项手术是必需和安全的，消除病人的焦虑
- B. 学校有计划，按步骤地对学校中有关人员的心理活动、个性特征或他们的心理问题施加影响，使之发生指向预期目标的变化
- C. 对于抑郁症患者，给其提供另一种可以解释其观察和经验的信念系统从而取代其原有的信念
- D. 对于渴望提高自身理论水平的在职人员，教师结合其实际，向其提供系统的理论知识

三、类比推理。先给出一对相关的词，要你在备选答案中找出一对与之在逻辑关系最为贴近或相似的词。

请开始答题：（61—70题）

61. 钳子：修理

- A. 农民：土地 B. 士兵：岗位 C. 粉笔：教师 D. 学校：学生

62. 南昌：北京

- A. 语言：汉语 B. 电话：冰箱 C. 书本：教师 D. 小说：人物

63. 脊髓：神经系统

- A. 几何：平面图形 B. 寂寞：无所事事 C. 法院：国家机关 D. 山河：风光秀丽

64. 奶粉：牛奶

- A. 麦片：大麦 B. 毛豆：绒毛 C. 面粉：挂面 D. 国家：王国

65. 棉花：棉田

- A. 灯光：灯火 B. 海滩：海豚 C. 庙会：庙宇 D. 茶树：茶园

66. 水：湖泊

- A. 富裕：休闲 B. 山：水 C. 营养：健康 D. 蓝图：海洋

67. 南辕：北辙

- A. 声东：击西 B. 虚情：假意 C. 七上：八下 D. 阳春：白雪

68. 屏幕：彩屏

- A. 时间：纳米 B. 何首乌：中药材 C. 酷暑：空洞 D. 青年：愤青

69. 影星：江西人

- A. 蔬菜：种植 B. 专家：军人 C. 鼓手：乐队 D. 社会：自然

70. 潮湿：干燥

- A. 晴朗：刮风 B. 旧出：日落 C. 高温：低温 D. 黎明：黄昏

四、逻辑判断。每道题给出一段陈述，这段陈述假设是正确的，不容置疑的，要求应试者根据这段陈述，选择一个最恰当答案。注意：该答案应与所给的陈述相符合，应不需要任何附加说明即可以从陈述中直接推出。

请开始答题: (71 — 80 题)

71. 在世界总人口, 男女比例相当, 但黄种人是大大多于黑种人的, 在其它肤色的人种中, 男性比例大于女性, 由此可见
- A. 黄种女性多于黑种男性 B. 黄种男性多于黑种女性
C. 黄种男性多于黑种男性 D. 黄种女性多于黑种女性
72. 任何一本所有批评家赞许的作品都被每个文学工作者所读过, 并且任何一个读过点什么都将谈论到它, 任一个批评家都将赞许那些推崇批评家本人的人的任一作品, 张因铄推崇每位批评家, 由此可见
- A. 张因铄写了很多作品 B. 所有文学工作者都读过张因铄的作品
C. 张因铄作品被所有批评家读过 D. 张因铄所有作品都被所有的文学工作者谈论
73. 在其生态区由于激烈的生存竞争, 老年大象的数量在逐年减少, 幼年大象的成活率也大大提高了。照此发展下去, 可以预见两年内
- A. 老年大象的数量将少于幼年大象的数量 B. 幼年大象的比例将提高
C. 青年大象比例将减少 D. 青年大象的比例将增加
74. 来自公安机关的资料显示, 娱乐圈中有人吸毒, 高级知识分子中也有人吸毒, 吸毒者中有些人是女性, 而抢劫犯中有相当比例是吸毒者。由此可见
- A. 高级知识分子中也有抢劫犯 B. 抢劫犯中吸毒者占了大多数
C. 有些抢劫犯可能是女性 D. 有些抢劫犯不是女性
75. 小丁说: “只要高局长过目, 2006年年度统计报告就不会出错。”小陈说: “如果我和小丁认真负责, 高局长就不要过目。”小马说: “高局长审过了 2006年统计报告, 他一眼就看出其中一个统计数字有问题。”假如三人中有一人说错并且高局长确实看过 2006年统计报告, 那么可以推出
- A. 小马说了假话 B. 小陈说了假话
C. 小丁没有认真负责 D. 小丁或小陈没有认真负责
76. 如果国民生产总值提高了并且民众消费心理变化了, 那么蔬菜的供应将大幅增加; 如果国民生产总值没有提高, 或者蔬菜供应将大幅增加, 那么城市居民的最低生活将没有保障; 如果蔬菜供应大幅增加, 那么或者农民增收, 或者社会福利增加。而事实上, 城市居民的最低生活获得了保障。由此可见
- A. 农民增收了 B. 社会福利增加了
C. 民众的消费心理没有发生变化 D. 民众的消费心理变化了
77. 世界上越是经济发展快的国家, 人们看表的次数相对也就多。越是发展缓慢的国家, 人们看表的频率也就越低。早些时候经济发展速度的排列次序是美国、日本、荷兰、新加坡、意大利、韩国、中国香港、中国台湾 …… 但这些排列总会随着对流的而不断变化。据此, 我们可以认为
- A. 看表的频率决定经济发展速度 B. 经济发展速度决定看表的频率
C. 早些时候, 荷兰人的看表次数超过湘 D. 美国人的看表次数总是世界第一
78. 今年春运对全市中巴客运车的安全查后, 甲、乙、丙三名交警有如下结论:
- 甲: 所有中巴客运车都存在超载问题
乙: 所有中巴客运车都不存在超载问题
丙: 如意公司的中巴客运车和吉祥公司的中巴客运车都存在超载问题
- 如果上述三个结论只有一个错误, 则以下哪项一定为真
- A. 甲乙丙如意公司的中巴客运车和吉祥公司中巴客运车都不存在超载问题
B. 如意公司的中巴客运车和吉祥公司的中巴客运车都存在超载问题
C. 如意公司的中巴客运车存在超载问题, 但吉祥公司的中巴客运车不存在超载问题
D. 吉祥公司的中巴客运车存在超载问题, 但如意公司的中巴客运车不存在超载问题
79. 无论是工业用水还是民用水, 现行. 水费价格一直偏低。某区推出一项举措, 对超出月额定数的用水量, 无论是工业用水还是民用水, 一律按上调高价收费。这一举措将该区的节约用水产生重大的促进作用。上述举措要达到预期的目的, 必须是真的
- (1) 有相当数量的浪费用水是因为水价格偏低而造成的
(2) 有相当数量的用户是因为水价格偏低而浪费用水的
(3) 超额用水价格的上调幅度一般对浪费用水的用户产生经济压力
- A. (1)、(2) 和 (3) B. 仅 (1) 和 (2)
C. 仅 (1) 和 (3) D. 仅 (2) 和 (3)
80. 某教研室要选派一些教师参加一个国际学术研讨会。根据工作安排, 必须满足下列几个条件:
- (1) 如果赵老师或者钱老师去, 那么孙老师也应该去;
(2) 负责科研的宗主任必须去;
(3) 如果钱老师不去, 那么李老师去, 但是周老师不能去;
(4) 如果宗主任去, 那么周老师也应该去。
- 由此可见
- A. 钱老师、孙老师应该去 B. 钱老师、孙老师都不应该去
C. 钱老师应该去, 孙老师不应该去 D. 孙老师应该去, 钱老师不应该去

第四部分常识判断
（共 20 题，参考时限 15 分钟）

根据题目要求，在四个选项中选出一个正确答案

请开始答题（81~100 题）：

81. 党的十七大报告中提出，新时期最突出的标志是
A. 与时俱进 B. 艰苦奋斗 C. 无私奉献 D. 实事求是
82. 一种固定下来适合和便于网络交往，判定行为者是否文明和礼貌的行为标准就是
A. 网络道德原则 B. 网络道德规范 C. 网络道德素质 D. 网络道德礼仪
83. 贯彻“四个尊重”的方针，其中核心是
A. 尊重文化 B. 尊重历史 C. 尊重劳动 D. 尊重资本
84. 某单位收发员为收集邮票，故意隐匿毁弃他人信件，其行为侵犯了宪法规定的公民的哪项权利
A. 隐私权 B. 通信自由 C. 通讯秘密 D. 社会文化权利
85. 根据我国宪法规定，决定战争与和平问题的职权由
A. 全国人民代表大会常务委员会行使 B. 全国人民代表大会行使
C. 国家中央军事委员会行使 D. 中国共产党中央军事委员会行使
86. 下列各项中符合《广告法》规定的广告是
A. 保证 100%有效的某药品广告 B. 某麻醉药品广告
C. 电视上发布的某烟草广告 D. 标明产地的茶叶广告
87. 根据我国现行宪法规定，下列自然资源中只能为国家所有的是
A. 森林 B. 草原 C. 水流 D. 荒地
88. 《中华人民共和国公务员法》第 13 条规定，公务员享有对机关工作和领导人员提出批评和建议的权利，这属于
A. 义务性规则 B. 授权性规则 C. 禁止性规则 D. 权义复合规则
89. 国家审计机关对国家的财政金融机构和企业事业组织财务收支情况的审计活动，在我国的监督属于
A. 社会监督 B. 司法监督 C. 行政监督 D. 财务监督
90. 下列法律行为中属于单方行为的是
A. 李某订立遗嘱，将全部遗产处分给长子继承 B. 王某为购买轿车提供订金
C. 费某为于某代理购买化肥 D. 成某缴纳个人所得税
91. 下列选项中，不属于我国行政法法律渊源的是
A. 国际条约 B. 司法判例 C. 行政法规 D. 部门规章
92. 税务机关依照法定的说种、税率对某企业征税，这一行为是
A. 自由裁量行政行为 B. 不要式行政行为 C. 双方行政行为 D. 羁束行政行为
93. 下列关于我国法律监督的表述，错误的有
A. 全国人民代表大会是我国的最高权力机关
B. 人民检察院是我国的法律监督机关
C. 各级国家机关、社会组织和公民个人均可成为我国法律监督的主体
D. 人民法院是我国专门的法律监督机关
94. 下列国家机构中，属于国务院直属机构的是
A. 民政部 B. 中国人民银行 C. 国家税务总局 D. 国家中医药管理局、
95. 物权法的立法是涉及每一个人生活的大事。按照物权法一般理论，下列选项中属于用益物权的是
A. 土地使用权 B. 抵押权 C. 留置权 D. 质押权
96. 张某系某市人民政府办公室工作人员，在 2006 年年度考核中被定为不称职，张某对该考核结果不服，他可以采取的救济措施是
A. 他可以自知道该考核结果之日起三十日内向原处理机关申请复核
B. 他可以自知道该考核结果之日起三十日内直接对原处理机关提起行政诉讼
C. 他可以自知道考核结果之日起三十日内向监察机关提出控诉
D. 他可以自知道该考核结果之日起三十日内向人事部门申请复核
97. 个体户崔某为使自己的劣质酱油能在某超市上柜，为超市部门主管汤某安排一次全家境外游，并为汤某的儿子入学缴纳了 3 万元的赞助费。在反不正当竞争法中这一行为属于
A. 混淆行为 B. 虚假宣传行为 C. 独占排挤行为 D. 商业贿赂行为
98. 小宋受朋友之请去某饭店吃饭，中途去洗手间时，因地面油滑不慎摔倒，致使腿骨骨折。对小宋受到的损害，以下说法正确的是
A. 小宋不付款，与饭店没有形成合同关系，所以饭店不承担责任
B. 小宋不付款，不是消费者，所以饭店不承担责任
C. 小宋不付款，但也是消费者，所以饭店应当承担责任
D. 小宋是自己不注意摔倒的，饭店并无加害行为，所以饭店不承担责任
99. 我国《民事诉讼法》规定起诉必须符合一定的条件，其中不包括

- A. 属于受诉人民法院管辖 B. 有明确的被告 C. 具体的诉讼请求 D. 有充分确凿的证据
100. 江某在某超市购买了一台电动榨汁机, 1个月出现故障, 要求超市处理。但侧“购物须知”规定: “在本超市购物有质量问题, 请及时解决, 自购物之日起超过15日的概不退换。”超市以此为由, 拒绝受理, 要求江某与生产厂家联系处理。对本案纠纷的处理, 下列观点错误的是
- A. 超市的规定是“霸王条款”, 损害消费者权益, 应当无效
B. 超市的规定是要约, 消费者的购买是承诺, 双方形成合同关系, 所以规定有效 C. 超市的规定是格式条款, 但免除了自己的责任, 所以无效
D. 超市的规定与产品质量法的规定相抵触, 所以无效

第五部分 资料分析

(共25题, 参考时限25分钟)

所给出的图、表或一段文字均有5个问题要你回答。你应根据资料提供的信息进行分析、比较、计算和判断处理, 从四个备选答案中选出符合题意的答案。

请开始答题:

一、文字资料 (101 — 110 题) :

(一) 根据下面文字所提供的信息回答问题。

根据我国农村和城市郊区农业生产结构特征。南方农作物主要为早稻和晚稻, 北方主要为小麦和玉米大中城市郊区主要以蔬菜为主。2005年, 南方早、晚稻每公顷平均年产1.23万元, 北方小麦和玉米每公顷年产1.04万元, 大中城市郊区蔬菜每公顷平均年产值为3.89万元。按照现行征地补偿最高标准30倍, 南方每公顷耕地的最高征地补偿为36.9万元, 北方每公顷耕地的最高征地补偿为31.2万元。大中城市郊区每公顷耕地最高征地补偿为116.7万元。根据国家农调队统计数据, 2005年农户人均从耕地(即种植业)中获得的纯收入为1098元, 农户人均耕地面积为0.14公顷即每公顷耕地的纯收入为7842元。以预期寿命70岁计算农民一生从1公顷耕地中获得的纯收入为54.89万元, 这还没有考虑农产品价格上涨因素和土地增值、保值因素(即70年后土地还可以用于农业生产)。在实际征地时, 通常不按最高标准进行补偿, 大中城市郊区也仍然以价值较低。因此, 我国目前征地补偿严重偏低

101. 以2005年的种植业产值估算北方农村每公顷耕地的实际征地补偿, 结果如何? ()

- A. 等于116.7万元 B. 等于36.9万元 C. 等于31.2万元 D. 低于31.2万元

102. 2005年, 农民户均(假设为三口之家)从耕地中获得的纯收入为多少元? ()

- A. 7842 B. 5663 C. 3294 D. 1098

103. 下列说法错误的是()

- A. 与农民从耕地上取得的收入相比, 农民所得征地补偿偏低
B. 2005年, 大中城市郊区农户人均从耕地中获得的纯收入为1098元
C. 按照现行征地补偿标准, 南方地区农村的征地补偿高于北方
D. 大中城市郊区农民从耕地上取得的产值高于南方及北方农村

104. 与农民从耕地上取得的收入相比, 实际得到的征地补偿偏低最严重的地方是()

- A. 北方农村 B. 南方农村 C. 大中城市郊区 D. 小城市郊区

105. 2005年, 大中城市郊区蔬菜每亩平均产值是南方早、晚稻每亩年均产值的约多少倍? ()

- A. 3.16 B. 4.23 C. 4.52 D. 5.08

(二) 根据下面文字所提供的信息回答问题。

总体看来, 2004年世界各国的石油探明储量基本变化不大。但是由于BP公司修正了前苏联、哈萨克斯坦、伊朗、利比亚和苏丹等国的数据, 特别是哈萨克斯坦从12亿吨修正到54亿吨, 从而使各国在全球石油储量分布中所占的比例发生了一些变化。尽管如此这并没有影响到欧佩克在全球石油储量中的地位, 其石油储量约占全球的74.9%。若从地区来看, 中东石油资源最为集中, 占全球的61.7%, 其中仅沙特阿拉伯就达22.1%, 占世界石油储量的1/5以上, 其次是伊朗(11.1%)、伊拉克(9.7%)、科威特(8.3%)和阿联酋(8.2%)。在中南美地区、石油储量最多的委内瑞拉(占世界的6.5%)在该地区占有4/5的石油资源。在欧洲及前苏联地区, 修正后前苏联的石油储量占世界的6.1%, 哈萨克斯坦占世界的3.3%, 其后是挪威(0.8%)和阿塞拜疆(0.6%)。在非洲, 修正后利比亚所占的份额达到了3.3%,

其次是尼日利亚(3.0%)阿尔及利亚(1.0%), 苏丹修正后也从0.1%升高到了0.5%。北美三国、美国、加拿大和墨西哥的石油储量份额分别为2.5%、1.4%和1.2%。在亚太地区, 石油储量最多的是中国, 占世界的1.4%, 其次是印度、印度尼西亚和马来西亚, 均在0.4%~0.5%之间。

2004年世界石油产量达38.68亿吨, 比上年增长了4.5%。欧佩克的产量增长了7.7%达到15.88亿吨, 从而继续赢得市场份额。伊拉克(增长了50.8%)和委内瑞拉(增长了13.8%)的供应有所反弹, 但仍低于先前的最高水平。沙特阿拉伯的产量达到5.06亿吨, 增长了3.7%, 创历史新高。中东其他产油国产量也分别有所提高。伊朗增长了2.3%, 达到2.03亿吨; 阿联酋增长了5.2%, 达到1.26亿吨; 科威特增长了8.7%, 达到1.20亿吨。俄罗斯也比上年增长了8.9%, 达4.58亿吨。而美国由于墨西哥湾飓风的影响, 产量下降了2.5%, 但仍达3.30亿吨, 排名其后的是伊朗和墨西哥(1.91亿吨)。石油产量居世界第六位的是中国, 达1.75亿吨。

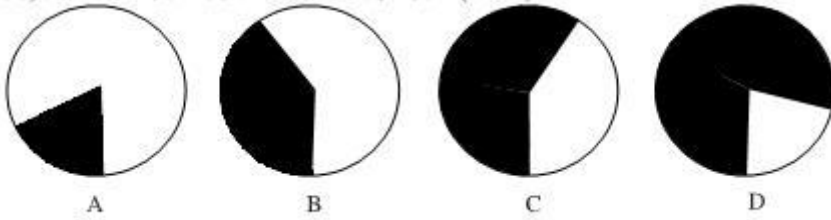
106. 根据上文的数据推算, 2004年全球石油探明储量约为多少亿吨? ()

A 3.868×10^2 B 3.868×10^4 C 1.64×10^2 D 1.64×10^3

107. 关于石油储量, 下列说法正确的是()

- A. 因部分国家的数据作了修正, 2004年世界各国石油探明储量发生了很大变化
- B. 由于委内瑞拉的石油储量占4/5, 因此其石油储量比仅占1/5的沙特阿拉伯多
- C. 中南美地区的石油储量约占世界的8.12%
- D. 从2004年的数据来看, 美国的石油储量低于中国

108. 下列哪个图形阴影部分的比例可以近似表示中东五国(沙特阿拉伯、伊朗、伊拉克、科威特和阿联酋)石油储量占世界石油储量的份额



109. 2003年阿联酋的石油产量比科威特

- A 高
- B 低
- C 一样
- D 无法判断

110. 关于石油产量, 下列说法错误的是

- A. 2004年伊拉克石油产量有较高的增长
- B. 2004年俄罗斯的石油产量位列世界第一
- C. 除沙特和伊朗外, 2004年中国石油产量分别为阿联酋和科威特的石油产量高
- D. 尽管2004年美国石油产量下降, 但仍在世界上排为第三大产油国

二、表格资料(111~120题)

(一) 根据下表所提示的信息回答问题:

2004年外资进入我国IT业的情况

行业	资产		产值		销售收入		利润	
	总额 (亿元)	比例 (%)	总额 (亿元)	比例 (%)	总额 (亿元)	比例 (%)	总额 (亿元)	比例 (%)
电子计算机制造	3029.3	83.67	7300.2	93.03	7743.1	93.69	164.2	92.09
电子器件制造	2324.3	74.64	2206.2	84.22	2213.7	85.37	108.9	85.34
电子元件制造	1775.9	68.46	2214.1	79.41	2124.9	79.61	110.5	75.27
通信设备制造	1786.3	51.94	4436.4	70.16	3189.4	71.17	237.9	76.40

111. 2004年, 在我国的电子计算机制造业中, 外资企业的产值约是其他企业的多少倍?

- A 8
- B 10
- C 13
- D 16

112. 2004年, 我国通信设备制造业的资产总额约为多少亿元?

- A. 3439
- B. 3029
- C 2324
- D 1786

113. 2004年, 在我国的各 IT 分行业中, 外资企业资产利润率最高的是

- A. 电子计算机制造
- B. 电子器件制造
- C. 电子元件制造
- D. 通信设备制造

114. 总体上说, 在我国的各 IT 分行业中, 2004年外资企业控制程度较低的是

- A. 电子计算机制造
- B. 电子器件制造
- C. 电子元件制造
- D. 通信设备制造

115. 下列关于2004年外资进入我国 IT 业情况的说法错误的是

- A. 从市场份额和生产规模来看, 外资企业对我国 IT 业的控制程度较高
- B. 在我国的各 IT 分行业中, 外资企业的销售收入利润率高于其他企业
- C. 在我国的各 IT 分行业中, 外资企业的资产利润率高于其他企业
- D. 外资企业的产值、销售收入、利润在我国 IT 业中的比重都在 70% 以上

(二) 根据下表所提供的信息回答问题:

	人均公共 绿地面积 (平方米)	建成区园 林 绿地率 (%)	建成区 绿化 覆盖率 (%)	公园个数 (个)	公园面积 (公顷)	游人量 万人次
全国	7.9	28.54	32.58	7077	157815.9	179367.4

上海	6.7	26.00	27.80	142	1516.6	13654.3
江苏	10.3	25.90	39.85	539	9924.0	10044.6
浙江	9.3	29.98	33.78	748	6045.6	12691.3
安徽	6.6	22.90	27.52	140	3970.1	4901.3
福建	9.2	33.08	36.11	314	4445.6	5226.3
江西	7.8	29.39	32.62	125	2258.9	1777.9
山东	8.1	31.95	36.97	456	11380.5	11219.9

116. 2005 年全国大约有 660 个城市, 每个城市约有多少个公园?

- A. 11 B. 15 C. 17 D. 18

117. 2005 年华东六省一市中的建成区园林绿地率、建成区绿化覆盖率这两项低于全国平均值的有

- A. 浙江、江西 B. 江苏、安徽 C. 上海、安徽 D. 福建、山东

118. 2005 年华东六省一市, 人均公共绿地面积超过全国平均值的有几个省市?

- A. 7 B. 5 C. 4 D. 3

119. 华东六省一市平均每个公园面积超过 20 公顷的有几个省市?

- A. 2 B. 4 C. 5 D. 6

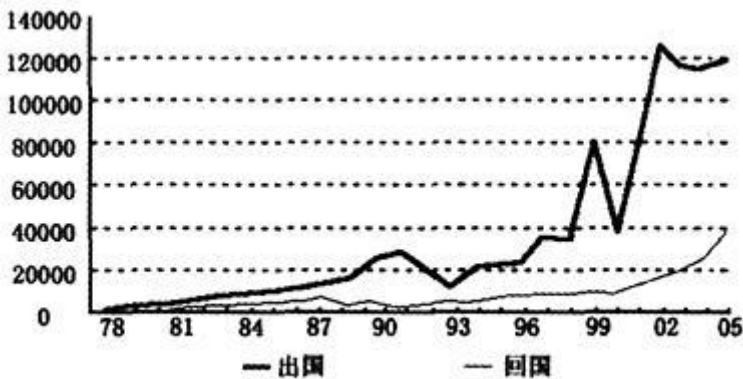
120. 下列关于 2005 年城市园林绿化统计分析中, 正确的有几项?

- (I) 华东六省一市的建成区园林绿地率平均值约为 30 %
 (II) 华东地区的公园个数最多和最少的分别是浙江省和江西省
 (III) 上海市的游人量高于华东地区的其他六省

- A. 0 B. 1 C. 2 D. 3

三、图形资料 (121~125 题)

请根据下图所提供的信息回答问题:



1978~2005 年我国留学出国与回国人数(单位: 人)

121. 留学出国人数与回国人数是否都有逐渐增加趋势?

- A. 前者没有, 后者有 B. 前者有, 后者没有
 C. 都有 D. 都没有

122. 1990 — 2005 年的各年中国人数之比最小约是

- A. 1 : 1 B. 2 : 1 C. 3 : 1 D. 4 : 1

123. 留学出国人数波动最大的时期是

- A. 1989 — 1992 年 B. 1990 — 1994 年
 C. 2001 — 2005 年 D. 1999 — 2002 年

124. 2005 年与 2000 年相比, 留学出国人数增加了约多少人?

- A. 60000 B. 80000
 C. 85000 D. 90000

125. 下列说法正确的是

- A. 进入新世纪以来, 留学出国人员的回国人数明显增多
 B. 改革开放以来, 留学出国人员的回国人数逐年增加
 C. 2000 年 — 2005 年期间, 留学出国人数有减少趋势
 D. 从 1980 — 2005 年这一期间, 并非每一年的留学出国人数都比回国人数多