

2009年广西公务员考试《行测》卷

一、数量关系，共15题，本部分包括数字推理、数理计算。

- 1、3, 4, 10, 33, ()
A、67 B、76 C、96 D、136
- 2、134, 68, 36, 21, ()
A、18 B、14.5 C、12 D、9
- 3、5, 7, 24, 62, (), 468
A、94 B、145 C、172 D、236
- 4、1, 7, 7, 9, 3, ()
A、7 B、11 C、6 D、1
- 5、15, 13, 37, 12, ()
A、59 B、16 C、6 D、35
- 6、4, 13, 36, (), 268
A、97 B、81 C、126 D、179
- 7、11, 13, 16, 21, 28, ()
A、7 B、39 C、41 D、47
- 8、7, 8, 11, 7, 15, (), 19, 5
A、8 B、6 C、11 D、19
- 9、16支球队分两组，每组打单循环赛，共需打()场比赛。
A、16 B、56 C、64 D、120
- 10、一直角三角形最长边是10厘米，最短边是6厘米，则这个三角形的面积是多少平方厘米：
A、24 B、30 C、48 D、60
- 11、一电信公司在每晚九点到次日早七点以及周六、周日全天实行长话半价收费。请问该电信公司在一周内共有多少个小时实行长话半价收费：
A、114 B、84 C、98 D、91
- 12、在一周长为50m的圆形花坛周围种树，如果每隔5m种一颗，共要种多少棵树：
A、9 B、10 C、11 D、12
- 13、从一副完整的扑克牌中至少抽出多少张牌，才能保证至少有5张牌的花色相同：
A、17 B、18 C、19 D、20
- 14、某小学班有65名同学，其中男同学有30人，少先队员有45人；有12名男同学是少先队员，有多少名女同学不是少先队员：
A、2 B、8 C、10 D、15
- 15、将1~9个数字分别填入右边的九宫阵，使阵中每一行，每一列的三个数字之和均为15，其中的数字1可以填入阵中的()位置。

A	B	
	C	
		D

二、常识判断，共30题，根据题目要求，在四个选项中选出一个最恰当的答案。

- 16、国家减灾委、民政部2009年3月2日发布消息，经国务院批准，自2009年起，每年哪天为全国“防灾减灾日”：
A、3月5日 B、5月12日 C、6月10日 D、7月6日
- 17、商品最本质的因素是：
A、使用价值 B、交换价值 C、价值 D、价格
- 18、跨国公司是由：
A、联合国有关机构出资建立起来的 B、原料出口国共同投资建立起来的
C、一国的或以一国的垄断组织为主建立起来的 D、多个国家的垄断组织共同建立起来的

19、法的规范作用包括：

- A、指引、评价、惩罚、强制、教育作用 B、指引、评价、教育、预测、惩罚作用
C、指引、教育、强制、鼓励、预测作用 D、指引、评价、预测、教育、强制作用

20、法律从何时开始生效，一般根据该项法律的性质和实际需要来决定，通常有三种方式：第一种是法律条文中明确规定自公布之日起施行；第二种是法律公布后先予试行或暂行，而后由立法部门加以补充完善，再通过为正式法律，但在试行期间，该法律也具有约束力；第三种是：

- A、法律公布后并不立即生效施行，经过一定时期后才开始施行
B、法律公布后并不立即生效施行，经过一年后才开始施行
C、法律公布后并不立即生效施行，经过至少一年后才开始施行
D、法律公布后并不立即生效施行，经过一定时期后才开始施行，法律中明确规定生效施行的日期

21、科学揭示燃烧现象的是：

- A、哥白尼 B、牛顿 C、拉瓦锡 D、爱迪生

22、作为调节社会经济运行的一种重要经济杠杆，提高税率通常是：

- A、提高政府的财政收入 B、抑制投资，有利于防止经济过热
C、刺激消费 D、提高税收管理的效率

23、李清照《声声慢》：“乍暖还寒时候，最难将息。”中的“将息”是指：

- A、喘息 B、停止 C、睡眠 D、保养身体

24、生态系统是由生物群落及其生存环境共同组成的：

- A、静态平衡系统 B、动态平衡系统 C、平衡态平衡系统 D、固态平衡系统

25、国务院决定从2009年1月1日起，在全国（ ）教育学校实施绩效工资，确保其教师平均工资水平不低于当地公务员平均工资水平。

- A、义务 B、职业 C、中等 D、高等

26、甲、乙双方签订了货物买卖合同，由甲方向乙方提供货物，后经甲方同意，乙方将合同中的权利、义务转给丙。这样，法律关系的（ ）就发生了变更。

- A、主体、客体 B、内容 C、客体 D、主体

27、中国共产党之所以能够明确地提出彻底反帝反封建的民主革命纲领，最主要原因是：

- A、无产阶级政党 B、正确分析和认识中国国情 C、得到共产国际的指导 D、具有广泛的群众基础

28、经过半个世纪的开垦，北大荒成了全国闻名的“北大仓”。然而由于过度开垦已经造成了许多生态问题。现在，黑龙江垦区全国停止开荒，退耕还“荒”。这说明：

- A、人与自然的和谐最终以恢复生态为归宿 B、人们改造自然的一切行为都会遭到“自然界的报复”
C、人们在自然界面前总是处于被支配的地位 D、人应合理地调节人与自然之间的物质变换

29、科学发展是在坚持以（ ）为中心的前提下，更好地落实党执政兴国的第一要务。

- A、思想建设 B、文化建设 C、经济建设 D、制度建设

30、中国现代话剧的奠基人是：

- A、鲁迅 B、曹禺 C、夏衍 D、郭沫若

31、社会保障是指国家对社会成员在年老、残疾、伤残、失业、遭受灾害、生活困难等情况时，给予物质帮助的制度。社会保障的核心内容是：

- A、社会保险 B、社会救济 C、社会福利 D、优抚安置

32、下列希腊神话人物中，太阳神是：

- A、哈得斯 B、雅典娜 C、阿波罗 D、狄安娜

33、我国长期以来形成了依赖投资扩张的增长方式。解决投资扩张问题，可以采取的措施是：

- A、增加财政支出 B、增加货币供应量 C、提高贷款利率 D、增加国债规模

34、在我国古代，和谐是一种理想的境界。（ ）所言的“和为贵”，就蕴含着对和谐境界的追求。

- A、老子 B、墨子 C、孔子 D、孟子

35、北回归线在我国大陆穿过几个省：

- A、1 B、2 C、3 D、4

36、2009年2月1日，《中共中央、国务院关于2009年促进农业稳定发展农民持续增收的若干意见》正式公布。这是中国改革开放以来第11个以（ ）为主题的中央一号文件。

- A、农村工作 B、农业发展 C、“三农” D、农民工

37、爱因斯坦指出“哲学可以被认为是全部科学之母”，这说明：

- A、哲学是全部科学的汇集 B、哲学是各门科学知识的基础

C、哲学对各门具体科学的研究具有指导作用 D、哲学与各门具体科学是整体与局部的关系

38、随着世界经济发展的需要，一些国际经济组织应运而生，今天最广泛最具有权威性的是：

A、国际货币基金组织 B、世界银行 C、世界贸易组织 D、欧洲经济共同体

39、国民教育的根本任务是：

A、追求升学率 B、培养精英人才 C、普及科技知识 D、全面提高国民素质

40、我国首颗人造绕月探测卫星（ ）在累计飞行 494 天后，于北京时间 2009 年 3 月 1 日 16 时 13 分 10 秒成功落在月球的丰富海区域。

A、“嫦娥一号” B、“长征二号” C、“长征三号” D、“神舟七号”

41、信用卡的使用体现着银行的一项业务活动，这项业务活动是：

A、发行货币 B、发行债券 C、转账结算 D、调节利率

42、地表有（ ）被海洋覆盖，被称为水圈。

A、50% B、65% C、70% D、75%

43、国家统计局 2009 年 1 月 22 日发布的初步数据核算显示，2008 年中国国内生产总值(GDP)突破 30 万亿元，比上年增长：

A、8.0% B、9.0% C、10.5% D、13.2%

44、有选举权和被选举权的年满（ ）周岁的中华人民共和国公民可以被选为中华人民共和国主席、副主席。

A、四十 B、四十五 C、五十 D、五十五

45、我国民族的分布特点是：

A、东北、西北、西南少数民族 B、东南、中南、华东多汉族

C、各民族大聚居，小杂居，交错杂居 D、以汉族为主体的大杂居，小聚居，交错杂居

三、言语理解，共 25 题，本部分包括表达与理解两方面的内容，请根据题目要求，在四个选项中选出一个最恰当的答案。

46、三月桃花盛开时节，许多南宁市民纷纷到青秀山_____ 春景。

A、观看 B、赏玩 C、赏鉴 D、观光

47、为了加快工程进度，_____ 下大雨，刮大风，施工有困难，我们_____ 要干，_____ 要提前完成任务。

A、如果 那么 并且 B、虽然 但是 而且 C、即使 也 而且 D、即使 那么 并且

48、将下列词语依次填入各句横线处，最恰当的一组是：

①国家为了公共利益的需要，县级以上人民政府依照法律规定的权限和程序，可以征收自然人、法人的不动产或者动产，但应当给予_____。

②过分强调竞争制度，以及依据直接用途而过早专业化，这就会包括专业知识在内的一切文化生活所依存的那种精神被_____。

A、赔偿 扼杀 B、赔偿 抹杀 C、补偿 抹杀 D、补偿 扼杀

49、两国经过协商，已达成协议，双方军队各自撤回回到自己的_____。

A、边疆 B、边界 C、边境 D、边区

50、最近有媒体称，尽管美国表面上称要通过外交途径迫使伊朗 _____，但以副总统切尼为代表的鹰派已经迫不及待，认为“通过外交手段不能_____ 伊朗的核野心”，因此美国媒体更频繁鼓吹对伊朗采取强硬措施。

A、就范 控制 B、就范 遏制 C、屈服 遏制 D、屈服 控制

51、将下列选项中的词语依次填入横线处，最恰当的一组是：

①许多人都有一颗挂在嘴边拿得出手的中国心，我有一双 _____ 不安的中国脚，说走就走，心在野外，心在路上。

②古塔是上天坠落的一枚钉子，锈迹斑斑，跃动着岁月的_____；今年的候鸟依然能从中找到去年的缺口，重筑它残破的巢。

A、焦躁 纹理 B、躁动 纹理 C、躁动 波澜 D、焦躁 波澜

52、将下列选项中的词语依次填入各句横线，最恰当的一组是：

①有些企业在《劳动合同法》实施以前，开始着手解除那些工龄即将满十年的员工的劳动合同，_____ 以未来的经济补偿风险。

②广西某饮食服务公司由于狠抓管理，杜绝铺张浪费，三个月下来，仅办公经费一项， 就_____ 了五十万元。

③北京市知名食品企业与北京市食品研究所，历时近两年，研发了 200 多个样品，并从中_____ 出第一批“新北京特产”。

A、规避 结余 遴选 B、回避 节余 遴选 C、规避 节余 筛选 D、回避 结余 筛选

53、报告是用于向上级机关汇报工作，_____情况，上级机关_____询问的陈述性上行公文。

A、反应 答应 B、反映 答应 C、反映 答复 D、反应 答复

54、现代汉民族共同语言是以_____为标准音，以_____为基础方言，以典范的现代白话文著作作为语法规范的普通话。

A、北方语音 北京方言 B、北京语音 北方方言 C、北京语音 北京方言 D、北方语音 北方方言

55、人类许多古老文化在与时间的拔河中没能挺到最后。中国的文化资源在历史长河中究竟_____了多少，恐怕没有人能估量得出。在被_____扫荡过无数次的非洲大陆，人们只能在废墟中凭吊和猜测辉煌的古代文明了。

A、流失 饥饿 B、流逝 饥馑 C、流逝 饥饿 D、流失 饥馑

56、古阳关位于敦煌城西 75 公里的古董滩上，三面沙丘，沙梁环抱。它与玉门关遥相呼应，像两颗明珠镶嵌在一段汉长城的两端，因在玉门关以南，故名阳关。阳关这样的边塞之地之所以闻名遐迩，并不起始于王维的那首《渭城曲》，而是因为它自汉魏以来就是通往西域诸国最西边防上的重要关隘，是古丝绸之路南道的必经之口。

下列不属于古阳关闻名遐迩原因的一项是：

A、古阳关是通往西域边防的重要关隘
B、王维《渭城曲》诗中对古阳关的咏叹
C、古阳关与玉门关遥相呼应，像两颗明珠镶嵌在一段汉长城的两端，因在玉门关以南，故名阳关
D、古阳关是古丝绸之路的必经关口

57、人生有限，知识无穷。当你用汗水敬献她的时候，她和你携手前进；当你用游荡讨好她的时候，她和你分道扬镳。

关于这段话，以下说法不正确的是：

A、“人生有限，知识无穷”是对偶
B、“当你用汗水敬献她的时候，她和你携手前进；当你用游荡讨好她的时候，她和你分道扬镳”是拟人和对比兼用
C、“当你用汗水敬献她的时候，她和你携手前进；当你用游荡讨好她的时候，她和你分道扬镳”是拟人中包含着借代
D、“当你用汗水敬献她的时候，她和你携手前进；当你用游荡讨好她的时候，她和你分道扬镳”是拟人中包含着夸张

58、当今时代，我们的劳动可分两部分：一是为得到今天生存所必需的生活资料而付出的劳动；二是为未来的发展而预先支付的劳动。当两者的比例前者大于后者时，说明我们的劳动尚处在较低级阶段；而后者远大于前者时，则说明我们的劳动层次得到了很大提高。因此，只有通过社会发展、进步，提高人们的效率和层次，才能真正实现人类自身的彻底解放。

对这段话理解正确的是：

A、要想使我们的社会更快地发展，我们就多从事一些为未来的发展而预先支付的劳动
B、人类社会发展的一个重要标志是劳动层次的提高
C、在现代社会，任何人从事的劳动都可以分为两个层次
D、当今时代，我们的劳动目的主要是为了获得生存所必需的生活资料

59、中国的传统庙会是集宗教祭祀、文艺表演、商品交易为一体的民间集会。庙会的最初形式并没有商品交换的内容，而只是纯粹的宗教祭祀活动。随着集会人数的不断增多，自然也就导致商人的汇集，定期的集市也就自然形成。演变到后来，庙会商品交易的功能变得比宗教祭祀功能更为重要。

这段文字意在说明：

A、庙会商品交易的功能比宗教祭祀功能更为重要 B、宗教的传播带动了商品的流通
C、庙会的最初形式并没有商品交换的内容 D、商品的流通也带动了宗教的传播

60、建立社会保障制度的主要目的是为了能够更好地体现公平原则，但公平与效率之间存在矛盾，公平只能是相对的，特别是对我国这样一个发展中国家来说，经济发展水平还比较低，发展生产力，提高效率应放在第一位，只有生产力和生产效率提高了，才能更好地实现社会公平。

这段话主要支持的观点是：

A、从我国当前经济发展水平较低的情况来看，片面追求公平是不合适的
B、只要经济发展水平上不去，就不能实现社会公平
C、生产力决定社会公平原则的实现程度
D、公平在任何国家都只能是相对的

61、台湾祥和基金会制作的元旦贺卡上载有仿陆游《钗头凤》的一段话：“当地烟，本地烟，成瘾苦海都无边。

前人唱，后人和，饭后一支，神仙生活，错错错!烟如泪，人苦透，咳嗽气喘累受够!喜乐少，愁苦多。一朝上瘾，终身枷锁。莫莫莫!”

这段话主要支持了这样一种观点，即：

- A、吸烟的极大乐趣
- B、人们生活艰辛，幸福来之不易
- C、现代人争名夺利，沉迷于物质
- D、劝告人们不要吸烟

62、目前，农村社会养老保险实行的是按参保人身份证号码编号全国统一的实名个人账户，实行缴费确定型、以个人账户为主、缴费标准较低、可随人转移、适合农民特点的弹性。

社会养老保险制度。这一弹性社会养老保险制度已经在北京市大兴区、山西等地进行试点，显示出很好的适应性和可推广性。

最能准确表达这段话主要意思的是：

- A、农村社会养老保险以参保人个人账户为主
- B、弹性社会养老保险制度在农村显示出很好的适应性和可推广性
- C、农村社会养老保险缴费标准较低
- D、农村社会养老保险可随人转移

63、这里是典型的西南大石山区，石多人少，土地贫瘠，气候恶劣，十年九旱。尽管国家的好政策使部分群众走上了致富的道路，但仍有不少农民挣扎在贫困线上。

这段话主要说明了：

- A、大石山区经济落后，文化匮乏，和外面丰富多彩的世界形成了鲜明的对比
- B、与其等待国家的政策救助，当地政府不如因地制宜，发展地区特色经济以摆脱贫困
- C、解决部分西南贫困地区人民群众的温饱问题是协调发展的当务之急
- D、当地人民走向富裕的一个主要障碍是恶劣的自然环境

64、有研究者认为，女性在知识背景和智力因素上与男性并无差异，而其在沟通能力和亲和力上有着天然优势。信息时代，女性管理者往往更易于被团队成员所认同，更适合营造企业的凝聚力和发挥员工的积极性。

这段文字，理解不准确的是：

- A、女性在智力上和男性无生理差异
- B、女性善于处理各种人事关系
- C、女性适合做管理工作
- D、信息时代更适合发挥女性的优势

65、厚重的文化遗产不是城市建设、城市发展的包袱，而是精神理念的载体，容易凝聚成为现代建设最大的财富。开发人的内在动力，产生文化效应，大幅度提高市民素质、各种文化形态随之融汇渗透、辐射四方。

这段话支持了这样一种观点：

- A、历史文化景观作为城市建设的新观点的观念尚难为人们接受
- B、物质层面的财富是城市建设可感可触的基础
- C、历史文化遗产有益于提升城市的精神品质和塑造城市的风貌形象
- D、文化建设是城市建设的主要组成部分

66、历史书法家多雅人高士，故所能风度潇洒，韵味醇古，于笔墨以外，则有一种静穆之气，幽雅之思，为常人凡夫所不及。此即将人格移入于作品之中，使之人格化，故能感人最深而为书法之上上乘也。

根据这段话，作者想告诉我们：

- A、人品影响作品
- B、作品影响人品
- C、人品比作品重要
- D、作品比人品重要

67、下列句子中有歧义的一句是：

- A、历史人文精神的弘扬，正是今天城市发展的最深厚的动力
- B、德国公民旅游是一面镜子，使我们看到了“绿游”的真谛，就是文明游、生态游、科学游，加上法制游
- C、本次郊游活动，我们三个人一组
- D、自古以来，“仁义礼智信”就是中国人为人处世的基准，“人无信不立”、“君子重诺”、“一诺千金”等无不昭示了“诚信为立身之本”这样一个千古不变的道理

68、下列各句中没有语病的一句是：

- A、张局长做了关于绿化城市的报告
- B、本校教职工或学生出入校门要凭工作证和学生证
- C、在社会主义建设中，要发挥知识分子的充分作用
- D、为了提高各级各类学校的教育质量，我们必须不断地充实和提高师资水平

69、将下列 6 个句子重新排列组合：

- ①培养了真正的大师。
- ②但在今天难以想象的艰苦办学环境中。

③要说艰难困苦。

④原因就在西南联大恪守兼容并蓄、学术自由、民主治校的大学精神。

⑤西南联大大概是空前绝后的。

⑥西南联大却为中国培养了大量优秀人才。

排列组合最连贯的是：

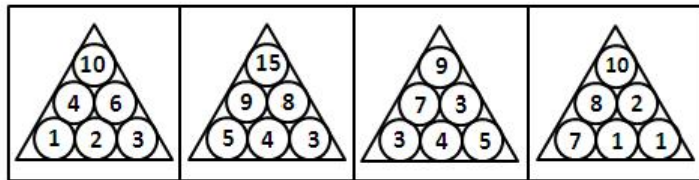
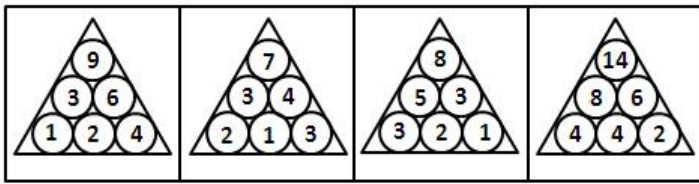
- A、⑥③④①②⑤ B、③①⑥②④⑤ C、⑤③⑥④①② D、③⑤②⑥①④

70、红色旅游是新时期加强和改进爱国主义教育、革命传统教育、公民道德教育、未成年人思想道德建设和大学生思想政治教育的一种创新方式。红色旅游，红色是内涵、资源、特色、品牌。旅游是实质，即红色旅游在实质上是一项旅游活动，而不能将其直接等同于爱国主义教育、革命传统教育。

这段短文主要告诉我们：

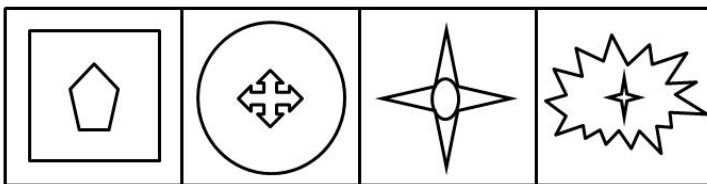
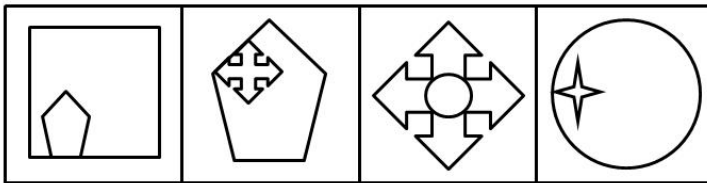
- A、红色旅游能够把旅游事业与经济发展密切结合起来
 B、红色旅游具有很强的政治功能，但首要的还是其旅游的功能特征
 C、红色旅游已经成为一项重要的政治工程、文化工程
 D、红色旅游具有很强的政治功能、经济功能和文化功能

四、判断推理，共 50 题，本部分包括图形推理、定义判断、类比推理、逻辑判断。



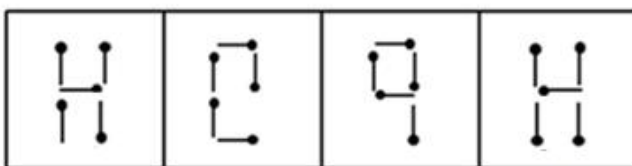
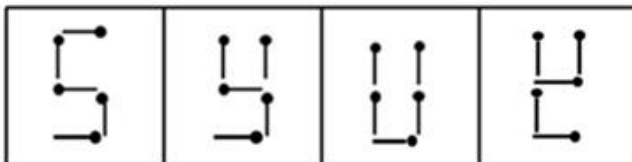
71、

- A B C D



72、

- A B C D



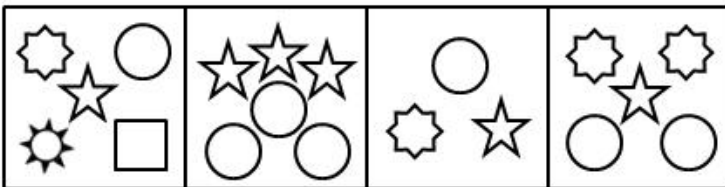

- A B C D

73、

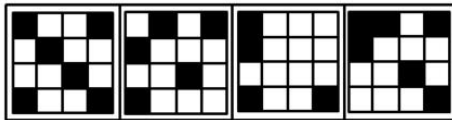
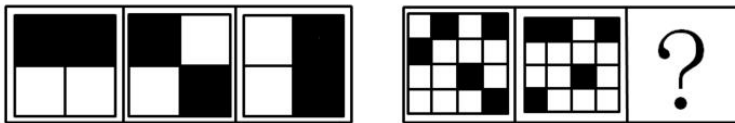
国	屋	振	检
---	---	---	---

域	惠	瑚	署
---	---	---	---

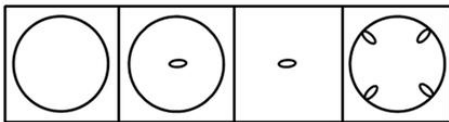
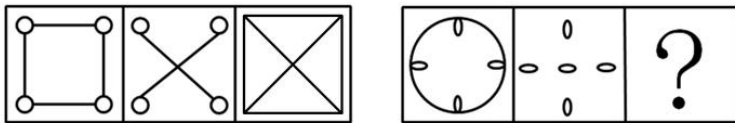
74、 A B C D



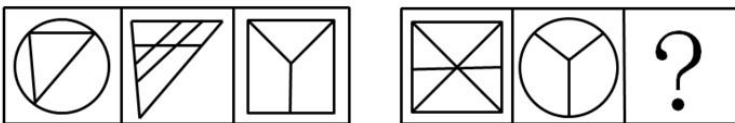
75、 A B C D



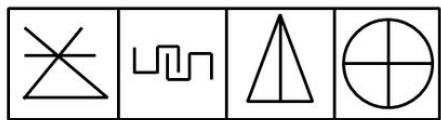
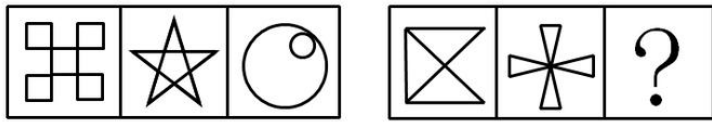
76、 A B C D



77、 A B C D

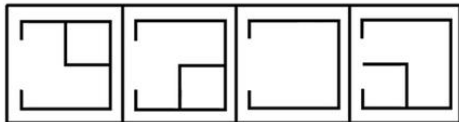
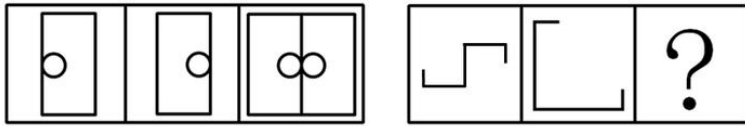


78、 A B C D



A B C D

79、



A B C D

80、

81、市政府的震后恢复重建的招标政策是标的最低投标人可以中标。有人认为，如果执行这项政策，一些中标者会偷工减料，造成工程质量低下。这不仅会导致追加建设投资后果，而且会危及民众生命安全。如果我们要杜绝“豆腐渣工程”，就必须改变这种错误的政策。

以下哪项陈述为真，能最有力地削弱上述论证：

- A、重建损毁的建筑物需求可以为该市居民提供许多就业机会
- B、该市的建筑合同很少具体规定建筑材料质量和雇工要求
- C、该政策还包括：那些标书达到严格质量标准，并且具有一定资质的建筑公司才能投标
- D、如果建筑设计有缺陷，即使用最好的建筑材料和一流的工程质量建成的建筑也有危险

82、爱因斯坦提出的广义相对论认为：由于有物质的存在，空间和时间会发生弯曲，而引力场实际上是一个弯曲的时空，爱因斯坦认为太阳是一个大引力场，遥远的星空如果掠过太阳表面，将会发生 17 秒的偏转。

这一项预言最终得到了天文观测的证实，由此不能推出：

- A、星光距离太阳越近所受影响越大
- B、星光的偏转度与太阳引力的大小有关
- C、广义相对论是根据天文观测提出的
- D、科学给许多不可思议的现象以合理解释

83、选出推理有错误的一项：

- A、企鹅虽是鸟类但不会飞，居住在新西兰的企鹅自然也是不会飞了
- B、植物利用阳光中的能量在体内制造自己所需的养分，而动物则最终必须依赖植物的营养生存，所以说“万物生长靠太阳”
- C、居住在热带地区的人的皮肤一般都比较黝黑，马来人大部分居住在热带地区，所以较多的马来人的皮肤都较黑
- D、病毒都需要侵入到细胞中进行复制和繁殖。这种病原体侵入到了细胞中，所以它是一种病毒

84、面试在求职过程中非常重要。经过面试，如果应聘者的个性不适合待聘工作的需要，则不可能被录用。

以上推断是建立在下列哪一项假设的基础上：

- A、必须经过面试才能取得工作
- B、若一个人的个性适合工作的要求，他就一定被录用
- C、面试主持者能够准确地分辨出哪些个性是工作所需要的
- D、面试的唯一目的就是测试应聘者的个性

85、某公司为了扩大其网上商店的销售收入，采取了各种各样的广告宣传和促销手段，但是效果并不明显。该公司重金聘请了专业人士进行市场分析，专业人士认为开通了网上银行的人群才是真正潜在的网上商店的顾客群。于是该公司决定与商业银行合作，在新开通网上银行业务的人群中开展宣传和促销活动。但是一个月后，效果并不理想。

以下哪项为真，最能解释上述结果：

- A、一般来说，刚刚开通网上银行的人需要经过一段时间后才有可能进行网上消费
- B、网上金融服务在知识分子中已经比较普及，他们更希望网上商店能够提供一些特色服务
- C、目前网上商店数量增长很快，广告宣传和推广促销要想有效果，必须有鲜明的特色，才能够打动消费者的心

D、最近网上银行用户被盗的案件频发，开通网上银行的人因此有所减少

86、黄某说张某胖，张某说范某胖，范某和覃某都说自己不胖。

如果四人陈述只有一个错，那么谁一定胖：

A、仅黄某 B、仅张某 C、仅范某 D、仅张某和范某

87、在某餐馆中，菜谱中的菜属于川菜系，王先生点的菜中有川菜，因此，王先生点的菜中没有湘菜。

再加上下列哪项，才能使上述论证成立：

A、餐馆规定，如果点了川菜，可以不点湘菜，但点了湘菜，一定要点川菜

B、餐馆规定，点湘菜就不能点川菜，反之亦然

C、王先生是四川人，只喜欢川菜

D、王先生是湖南人，他喜欢湘菜

88、有人说：“只有认识错误，才能改正错误。”

如果以上判断是真的，可能出现的情况是：

①某人认识了错误，没有能改正错误。

②某人没有认识错误，改正了错误。

③某人没有认识错误，没能改正错误。

④某人认识了错误，改正了错误。

A、① B、①②③ C、③④ D、①③④

89、有四个外表看起来没有分别的小球，它们的重量可能各有不同。取一个天平将甲乙放一组，丙丁为另一组分别放在天平的两边，天平是基本平衡的。将乙和丁对调一下，丁一边明显的要比乙、丙一边重很多。可奇怪的是我们将天平的一边放上甲、丙，而另一边刚放上乙，还没有来的及放上丁时，天平就压向了乙一边。

则四个球由重到轻的顺序是：

A、乙、丁、甲、丙 B、丁、乙、丙、甲 C、乙、甲、丁、丙 D、丁、乙、甲、丙

90、某宿舍住着若干个研究生，其中一个是黑龙江人，两个是北方人，一个是云南人，两个人这学期只选修了逻辑哲学，三个人这学期选修古典音乐欣赏。

假设以上的介绍涉及了这宿舍中所有的人，那最少可能是几个人？最多可能是几个人：

A、最少可能是 3 人，最多可能是 8 人 B、最少可能是 5 人，最多可能是 8 人

C、最少可能是 5 人，最多可能是 9 人 D、最少可能是 3 人，最多可能是 9 人

91、胜任力：员工在工作情境中，为完成工作所具备并体现出来的知识、技能、能力、态度、动机等关键特征。

以下表现为胜任力的行为是：

A、小张运用自己的专业知识，顺利完成了领导交给他的任务，得到同事们的称赞

B、还在试用期的小王，用了整整一周的时间，才整理出合格供应商的名单和真实报价

C、元旦刚过，小黄请叔叔和客户打招呼，为公司签订了一个大订单，打响“开门红”

D、上个月，小周所在班组在全厂考核中被评为优秀班组

92、同理心是指在人际交往过程中，能够体会他人的情绪和想法，理解他人立场和感受，并站在别人的角度来思考和处理问题的高度。

根据以上定义，下列不属于同理心的是：

A、己所不欲，勿施于人 B、设身处地，感同身受 C、推己及人，将心比心 D、物我两忘，心无旁骛

93、从众型思维枷锁是指在认识判断、解决问题时，附和多数，人云亦云，缺乏自己独立思考，无主见、无创新意识的一种不良思维定势。

以下表现不属于“从众型思维枷锁”的一项是：

A、前面许多行人闯了红灯，自己也紧跟着冲了过去

B、大人们把自己的孩子“左撇子”习惯硬性扭转过来

C、专家的意见值得信赖，大家都以专家的意见为办事依据

D、中学生每天都要求穿校服，中学生小军每天都穿着校服

94、实在判断：判断的简单形式，这里是肯定或否定地表明某一单个的事物的某种一般的性质（肯定判断：菊花是黄色的；否定判断：菊花不是黑色的）。

以下哪项不是实在判断：

A、月球绕着地球做圆周运动 B、月球不是恒星 C、月球是圆的 D、月球不是圆的

95、创伤后应激障碍是一种极度的灾难的持续效果，即经历了创伤以后，出现持续的、不必要的、无法控制的障碍。

根据以上定义，下列不属于创伤后应激障碍的是：

- A、小明小时候到野外郊游的时候被蛇咬了一口，从此再也不想去野外郊游了
- B、小张在玩秋千时重重的摔了下来，从此常常在梦中梦到从高处摔下来，以后再也不敢荡秋千了
- C、从战场回来的士兵，大多患上了失眠、焦虑甚至严重的精神疾病
- D、目睹了儿子阿毛被野兽叼走的那一幕，失魂落魄的祥林嫂见了人就说：“我真傻，真的。我只知道下雪的时候，野兽在山坳里没有食吃，会到村里来，我不知道春天也会有……”

96、自然失业是由于经济中一些难以克服的原因所引起的失业，它是任何经济都难以避免的失业，也是正常的失业。

根据以上定义，下列不属于自然失业的是：

- A、王某在某公司工作的一年中，嫌工资太低，于是辞职
- B、某地发生地震，厂房和设备毁坏了，厂长不舍地遣散了工作多年的人
- C、某企业进行改制，一些文化水平低，年满 40 岁的女职工下了岗
- D、张某违反公司规定暗箱操作，被发现后公司将其开除

97、原点思维是指给人或事调定到一个原点，时常回到原点进行思考，进行状态对照，纠正偏差，不断向目标前进。

下列属于原点思维的是：

- A、怎样看出人的优秀素质——重点考核小时候表现
- B、谁是中国历史上的罪人——宋代的秦桧
- C、谁能解下老虎脖子上的金铃——解铃还须系铃人
- D、怎样处理好人与人之间的关系——经常交流沟通

98、例外原则是指企业高级管理人员，把一般日常事务授权给下属管理人员负责管理，保留例外事项，一般也是重要事项的决策和控制权。

根据以上定义，下列属于例外原则的是：

- A、某公司的董事长主要负责公司的一切事务，而总经理则负责维护跟合作单位的关系
- B、某公司的报账制度中，500 元以下的都由部门经理审批
- C、某管理中心的兼职人员和专职人员的确定，总经理才有决定权
- D、在每周的例会上，各中层管理人员都要将本周工作总结和下周工作计划向总经理汇报

99、广告是指为了商业目的，由商品经营者或服务提供者承担费用，通过一定媒介或一定形式，如报刊、电视、路牌、橱窗等，直接或间接地对自己推销的商品或者所提供的服务所进行的公开宣传活动。

下列属于广告活动的是：

- A、钢材场老板为了更好的销售钢材，向邻县的包工头送礼一百万
- B、奥巴马为了当总统，不惜重金在电视和报刊上发表演说
- C、公司规定办公电脑要用统一品牌
- D、李宁牌服装赞助法国体育代表团出征奥运会，获得良好的社会效应和经济效益

100、社会保险是国家通过立法，采取强制手段对国民收入进行分配与再分配，形成专门消费基金，对劳动者在丧失劳动力或失去工作机会时进行社会帮助以保障其基本生活的一种制度。下列属于社会保险的是：

- A、在厂房工作中，小王因机器发生故障造成意外受伤，而获得赔偿
- B、军人黄某退伍，国家发安置费
- C、国家向地震灾区人民发放生活救济
- D、旅客人身伤害保险

101、（1）打开帐篷

（2）驾车到郊外

（3）露营

（4）买水和食品

（5）回到家中写游记

- A、2—4—1—3—5
- B、4—2—1—3—5
- C、4—2—3—1—5
- D、2—3—4—1—5

102、（1）签署有关协议

（2）乘机赴台湾

（3）两岸会谈

（4）受到当地群众热烈欢迎

（5）两岸直航

- A、5—3—2—1—4
- B、2—4—3—1—5
- C、3—1—5—4—2
- D、2—3—1—5—4

103、（1）填写报名表

（2）考试

- (3) 查阅招考简章
 (4) 任职前公示
 (5) 体验
 A、1—3—2—5—4 B、3—1—2—5—4 C、1—5—2—3—4 D、3—1—5—2—4
- 104、** (1) 乱捅马蜂窝
 (2) 依法赔偿
 (3) 家属告上法院
 (4) 调查取证
 (5) 马蜂蛰死人
 A、1—5—3—4—2 B、5—1—3—4—2 C、1—3—5—4—2 D、5—3—1—4—2
- 105、** (1) 上班迟到
 (2) 晚上加班到深夜
 (3) 心中难受
 (4) 领导批评
 (5) 工作任务繁重
 A、1—4—3—5—2 B、2—5—1—4—3 C、2—5—1—3—4 D、5—2—1—4—3
- 106、** (1) 中场才到来
 (2) 一人独往
 (3) 久等不来
 (4) 约好看电影
 (5) 电影已开演
 A、4—3—2—1—5 B、5—4—2—3—1 C、4—3—2—5—1 D、5—2—3—4—1
- 107、** (1) 调焦对焦
 (2) 找出好景
 (3) 摆好姿势
 (4) 按下快门
 (5) 外出拍照
 A、5—2—3—1—4 B、5—3—2—1—4 C、2—5—1—4—3 D、3—2—1—4—5
- 108、** (1) 吸取教训
 (2) 酒后驾车
 (3) 住院治疗
 (4) 酿成车祸
 (5) 朋友聚会
 A、2—3—1—4—5 B、3—1—5—2—4 C、5—2—4—3—1 D、4—3—1—2—5
- 109、** (1) 准备材料
 (2) 施工
 (3) 搬进新房
 (4) 装修设计图纸
 (5) 检验装修质量
 A、4—1—2—5—3 B、5—1—2—3—4 C、5—2—1—4—3 D、1—2—4—3—5
- 110、** (1) 躺床上
 (2) 昏睡过去
 (3) 进卧室
 (4) 喝醉酒回家
 (5) 推开门
 A、4—3—5—1—2 B、4—5—3—1—2 C、4—3—5—2—1 D、4—1—5—3—2
- 111、** 跆拳道：韩国
 A、日本：相扑 B、武术：中国 C、足球：美国 D、英国：网球
- 112、** 氏族：部落
 A、市场经济：商品经济 B、短篇小说：小说 C、氯化氢：盐酸 D、导弹：直升机

113、立方体：几何学

A、比重：物理学 B、血液：植物学 C、地质学：化合物 D、基因：历史学

114、候方域：《桃花扇》

A、蒲松龄：《聊斋志异》 B、石头记：《红楼梦》 C、崔莺莺：《西厢记》 D、秦始皇：《后汉书》

115、寒山寺：夜半钟声到客船

A、中华门：巍峨耸立 B、植物园：百卉千葩 C、栖霞门：层林尽染 D、秦淮河：桨声灯影

116、书：阅读

A、琵琶：弹奏 B、观察：望远镜 C、歌手：音乐 D、杯子：解渴

117、象鼻山：广西

A、龙门石窟：山西 B、武当山古建筑群：湖北 C、湖南：凤凰古镇 D、浙江：西湖

118、足球：运动

A、大学生：学生 B、西瓜：水果 C、狐狸：动物 D、麻将：娱乐

119、锤子：钉子

A、鼠标：电脑 B、碗：吃饭 C、压路机：地面 D、发动机：汽油

120、奶牛：牛奶

A、蚌：珍珠 B、鸟：鸟巢 C、螃蟹：蜜蜂 D、猪：猪肉

五、资料分析，共 15 题，所给出的图、表、文字或综合性资料均有多个问题，请你根据资料所提供的信息进行分析、比较、计算和判断处理。

(一)

对外开放 30 年，我国服务贸易取得长足发展，服务贸易总额由 1982 年的 43 亿美元增加到 2007 年的 2509 亿美元。2007 年，服务贸易总额占我国全部对外贸易总额的比重从 1982 年的 9.4% 上升到 10.3%，占世界服务贸易的比重从 0.6% 升至 4%，世界排名仅次于美国、英国、德国和日本，居第五位，成为世界贸易的重要国家。

121、2007 年我国服务贸易总额是多少美元：

A、43 B、2509 C、43 亿 D、2509 亿

122、我国服务贸易总额从 1982 年到 2007 年，大约增长了多少倍：

A、56 B、57 C、58 D、59

123、2007 年我国对外贸易总额约是多少亿美元：

A、0.24 万 B、0.25 万 C、2.4 万 D、2.5 万

124、从 1982 年到 2007 年，世界服务贸易的总额大约增加了多少亿美元：

A、0.56 万 B、0.46 万 C、5.6 万 D、4.6 万

125、2007 年英国服务贸易总额可能为下面哪一项：

A、0.23 万亿美元 B、0.24 万亿美元 C、0.25 万亿美元 D、0.26 万亿美元

(二)

某市 2007、2008 年度高校各专业学生数

专业	2007 年		2008 年	
	年毕业人数	在校人数	毕业人数	在校人数
哲学	9	54	10	66
经济学	573	3599	659	4664
法学	615	3879	800	4748
教育学	526	3745	798	4703
文学	1578	10593	1985	13683
历史学	102	534	98	556
理学	1158	7163	1315	8522
工学	3491	24912	4598	30850
农学	285	1860	363	2160
医学	626	5294	795	6566
管理学	1399	10275	1932	13817

126、2008 年该市高校学生在校人数最多的是哪个专业：

A、经济学 B、教育学 C、文学 D、工学

127、2007 年的毕业生中，文学专业所占的比例大概是多少：

A、10% B、12% C、15% D、18%

128、下列说法正确的是哪一项：

A、与 2007 年相比，2008 年各专业毕业人数都有不同程度的上升

B、2007 年在校人数较多的三个专业占当年总在校人数大半

C、与 2007 年相比，2008 年理学专业毕业生的增长率比法学的高

D、与 2007 年相比，2008 年文学专业在校人数的增长率比管理学的高

129、2008 年与 2007 年相比，在校生增长率超过 25% 的专业有多少个：

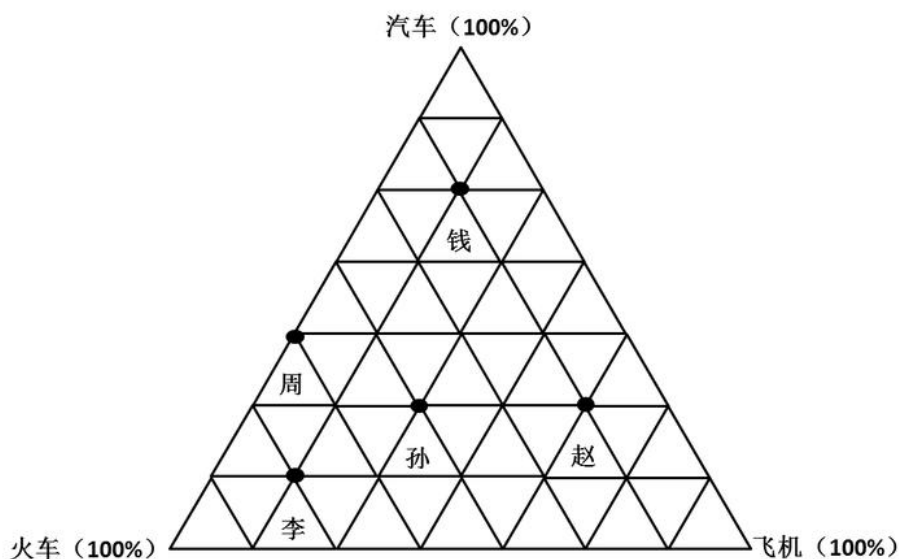
A、3 B、4 C、5 D、6

130、与 2007 年相比，2008 年毕业人数增长率最高的是哪个专业：

A、经济学 B、管理学 C、教育学 D、历史学

(三)

赵钱孙李周五位先生长途出行的方式都是乘坐汽车、火车或飞机，大致情况如下：



131、周先生最喜欢的出行方式是：

A、汽车 B、火车 C、飞机 D、无法确定

132、五人中最喜欢坐汽车出行的是：

A、赵先生 B、钱先生 C、孙先生 D、李先生

133、孙先生大概长途出行多少次才坐一次飞机：

A、3 B、3.5 C、4 D、4.5

134、赵先生长途出行坐火车次数与坐飞机次数的比例是：

A、1:2 B、1:3 C、1:4 D、1:5

135、下列说法正确的是：

A、周先生比赵先生喜欢出行

B、李先生较喜欢坐飞机出行

C、相对于孙先生而言，钱先生更喜欢坐火车出行

D、钱先生和赵先生都不怎么喜欢坐火车出行