

2014年吉林公务员考试《行测》乙卷

来源：F 整理：杨柳（微信：gwy288）

一、常识判断，共20题，根据题目要求，在选项中选出答案。

- 1、2013年3月19日，习近平在接受金砖国家媒体联合采访时提出，中国这样一个大国，领导者要深入了解国情，了解人民所思所盼，要有“治大国、如烹小鲜”的态度。以下最接近这种治国理念的是：
- A、尊重国情，尊重民心，尊重规律 B、强化理论，强化技术，强化创新
C、坚持改革，坚持开放，坚持发展 D、维护稳定，维护传统，维护成规
- 2、十八届三中全会提出改革党的纪律检查体制。要求巡视制度全覆盖。三中全会后，官方又接连释放出试点新提任领导干部财产公开、制定“裸官”任职岗位管理办法，分解一把手权力，制定干部待遇标准等反腐新政信号。这告诉人们：（ ）。
- A、只有控制干部手中权力，才能反腐倡廉 B、党内外监督体制应齐头并进
C、反腐倡廉是提高党执政能力和执政水平的根本 D、反腐须标本兼治，制度反腐是关键
- 3、卢梭在《爱弥儿》一书中写道，妇女们应该在家中劳动，永远不要到需要讲话的公共集会上去……难道世界上还有比把家里收拾得井井有条的母亲更感人、更让人尊敬的吗？这表明卢梭反对妇女：
- A、争取人身自由权 B、获得劳动权 C、拥有教育权 D、享有政治参与权
- 4、用一杯水救一车着了火的柴禾而无济于事，谓之杯水车薪。如今在一些地方，通过新技术，只需一瓶矿泉水的水量，就能使一辆汽车洁净如新，不妨称之为“杯水车新”。“杯水车新”说明（ ）。
- (1) 事物之间都存在着满足人们现实需要的客观联系
(2) 人们根据自身需要，必然能建立起事物间的新的具体的联系
(3) 事物的人为联系是在主客观条件相互作用下形成的
(4) 世界并不缺乏联系，缺乏的是善于发现联系的创新意识
- A、(1) (4) B、(2) (3) C、(1) (2) D、(3) (4)
- 5、面对激烈的竞争，一些成功企业的生存之道是：拿出更好的产品来击败自己的原有产品。有人将这种行为戏称为“自吃幼崽”。这体现的哲理是（ ）。
- A、追求真理是无限和反复的过程 B、事物自身的矛盾具有不平等性
C、事物的否定性是对自身的否定 D、事物发展是一个由量变到质变的过程
- 6、最近，“鬼魂探测器”手机软件十分流行，据称可以探测出“鬼魂”，小高安装了这款软件，探测时手机上出现了“鬼魂”的轮廓并伴有恐怖的声音，小高吓得一夜没睡。后软件开发者说，这只是个娱乐程序，“鬼魂”形象是事先安装在软件中的。这件事说明（ ）。
- A、“鬼魂”是客观存在的，不受主观认识的影响 B、“鬼魂”并不存在，但可以创造出来
C、所谓的“鬼魂”只不过是植入人脑中的观念性的东西 D、人脑对“鬼魂”是根本不可认识的
- 7、古诗云：“眼处欣生句自神，暗中摸索总非真。画图临出秦川景，亲到长安有几人？”下列选项与此诗所蕴含的哲理相同的是（ ）。
- A、纸上得来终觉浅，绝知此事要躬行 B、竹外桃花三两枝，春江水暖鸭先知
C、近水楼台先得月，向阳花木易为春 D、日出江花红胜火，春来江水绿如蓝
- 8、近年来，“民告官”案件时有发生，“民告官”的依据是：
- A、《中华人民共和国民事诉讼法》 B、《中华人民共和国刑事诉讼法》
C、《中华人民共和国行政诉讼法》 D、《中华人民共和国行政法》
- 9、今年3月，小李在某网站购买了五盒某明星代言的药品，收到后发现药品为假药。小李找到该网站，该网站却不能提供该药品生产者真实名称、地址和联系方式。这时小李该如何维权（ ）。
- A、要求网站、代言明星都承担责任，法院均应支持
B、要求网站承担责任，法院也应支持
C、要求代言明星承担责任，法院也应支持
D、要求网站、代言明星都承担责任，法院不支持小李对代言明星追责的要求
- 10、《周礼》云：“马八尺以上为龙。”《山海经》曰：“马实龙精。”在古人心目中，马具有龙性，奔腾不息的龙马精神更是中华文化积淀中最宝贵的部分。据《尚书》记载，根据黄河龙马背负图纹画出八卦的是（ ）。
- A、黄帝 B、神农 C、燧人 D、伏羲
- 11、2013年，我国生产科技、记录、动画和特种影片186部。以下不属于“特种影片”的是（ ）。

A、动作影片 B、立体影片 C、动感影片 D、球幕影片

12、成语“勾心斗角”现比喻用尽心机，明争暗斗，本意指宫廷建筑结构的交错和精巧。以下成语中，寓意和本义同样发生根本性变化的一项是：

A、雪中送炭 B、引人入胜 C、口若悬河 D、八面玲珑

13、2014年央视3·15晚会曝光了部分小商品市场将激光笔作为儿童玩具进行销售一事。儿童使用激光笔不当，最容易造成的人身伤害是（ ）。

A、辐射内脏，危害健康 B、点燃衣服，烧伤身体 C、影响食欲，阻碍发育 D、损伤视力，甚至致盲

14、有学者认为，先秦时期某学派主张积极救世，做事讲求道德；另一学派以其超凡脱俗、清静自然的美感和灵性弥补了前一学派的缺陷。

该学者评述的两个学派分别是：

A、儒家、道家 B、法家、墨家 C、法家、儒家 D、儒家、墨家

15、我国有悠久的酒文化历史，在长期的发展过程中，酿造出多种被誉为“神品”“琼浆”的酒类珍品。

下列关于各类酒的作用说法错误的是：

- A、白酒有杀菌、去腥、防腐作用，可医用
- B、啤酒具有清心、提神的作用，可减少过度兴奋和紧张情绪
- C、红酒有助于防动脉硬化，还可减少骨质疏松症的危险
- D、黄酒有助于通经络、厚胃肠、养脾扶肝、增进食欲、消除疲劳


16、孔雀开屏是动物繁衍中的一种求偶行为，是由雄性个体体内的雄性激素引起的行为，雄性个体为赢得雌性孔雀的芳心，特意打开艳丽的尾羽炫耀自己。除此之外，与动物繁衍相关的成语还有（ ）。

A、飞蛾扑火 B、雀跃万分 C、金蝉脱壳 D、蜻蜓点水

17、假如现在是北京时间12日上午9点，则伦敦时间和纽约时间分别是：

- A、12日凌晨1点；12日晚上9点
- B、12日凌晨1点；12日晚上6点
- C、12日凌晨1点；11日晚上9点
- D、11日晚上11点；11日晚上9点

18、下列标志与含义对应错误的一项是：



A

B

C

D

A、食品安全标志 B、循环再生标志 C、强制认证标志 D、环境保护标志

19、以下公文用语不含歧义的一项是（ ）。

- A、本区新建三座一千平方米的教学楼
- B、此案涉及四个课题组成员
- C、本项目有三个工作人员，分别到广州、上海、南宁调研
- D、贵单位接到通知后，请迅即办理。

20、下列属于行政公文格式必备要素的是：

A、签发人姓名 B、附件 C、附注 D、成文日期

二、言语理解，共30题，本部分包括表达与理解两方面的内容，请根据题目要求选出答案。

21、依次填入下列横线处的词语，最恰当的一组是：

焦裕禄是在建设社会主义的伟大实践中涌现出来的先进_____，作为领导干部他亲民爱民、艰苦奋斗、科学求实、迎难而上、无私奉献，他是全国党员学习的_____。

A、典型 典范 B、楷模 范例 C、类型 典范 D、典范 典型

22、依次填入下列横线处的词语，最恰当的一组是：

英雄、英雄主义、英雄文化是互为依托、_____的，没有英雄就谈不上英雄主义，谈不上英雄文化，而英雄文化又会源源不断地_____、_____英雄与英雄主义。

A、相濡以沫 产生 滋养 B、相依相伴 孕育 生长 C、相伴相生 孕育 滋养 D、生死相随 出现 滋长

23、依次填入下列横线处的词语，最恰当的一组是：

作为维护世界和平的两大力量、促进共同发展的两大市场、推动人类进步的两大文明，中国和欧洲的每一次_____、_____，不仅相互影响，也牵引着世界的神经。

- A、互望 和谈 B、对望 对话 C、凝望 谈话 D、对视 谈判

24、填入横线上的词语，最恰当的一项是：

马航 MH370 上发生了什么，依然是一个难以揭开的谜团。在飞机黑匣子最终找到之前，具体细节的付之阙如、权威渠道的口径不一、官方消息的前后矛盾，让飞机的去向_____，也给围绕此事进行的各方解读提供了巨大的想象空间。

- A、扑朔迷离 B、虚无缥缈 C、错综复杂 D、眼花缭乱

25、依次填入下列横线处的词语，最恰当的一组是：

_____国防和军队改革，_____军事战略指导，_____现代军事力量体系。

- A、完善 深化 加强 B、深化 完善 加强 C、加强 深化 完善 D、深化 加强 完善

26、50 年来，全国道德模范孙茂芳先后赡养了 18 位孤残老人，与 11 位残疾人结为兄妹关系，还从家庭助困金中拿出 46 万多元资助 38 位学童和特困家庭。有人对他说：“你是不是有点傻啊？”他回答到：“我愿意当一辈子人民可信可托的‘傻子’，我还要带动更多人去做这样的‘傻子’。”

对于选文中“傻子”，理解错误的一项是：

- A、“傻子”不是真的傻，而是把爱奉献给了社会
B、“傻子”在这里是反语，明贬暗褒
C、自私之心人皆有之，所以很多人并不认可孙茂芳的做法
D、从利我的角度孙茂芳是“傻子”，从利他的角度孙茂芳是“智者”

27、下列各句中加横线词，运用正确的是：

- A、“两横三纵”快速路投入使用后，长春市交通会更加顺畅，从赛德广场到前进大街的行驶时间估计大体只需十多分钟
B、除了家庭之外，没有一种社会组织对社会生活的变化如此敏感，能够如此明显地反映社会历史发展取得的成就和面临的困难
C、对于公务员考试来说，英语考试并不是必然的，因为只有个别岗位对英文水平有要求
D、一来到台北，我们就径直来到 101 大厦看夜景。此时的台北灯火阑珊，显得尤其迷人

28、正如青春是什么样的并无标准答案一样，成人礼上的少男少女们也有选择的自由，不可拘执一端。穿汉服当然可以，但并不意味着不可以有其他的选择。成人礼之所以令人难忘，正在于从这一天开始，这些走过“成人门”的男生女生具有了独立判断的个体权利。强求一律，横加指责，未免失之过苛。

文中划线处“选择的自由”指的是：

- A、成人礼上学生或穿汉服，或穿西装 B、学生可以自主选择成人礼上的着装
C、学生可以自己决定是否参加成人礼 D、学生可以自主选择带到成人礼上的礼物

29、《爸爸去哪儿》选择了 5 对明星父子一起参加录制。节目中，平时因为工作繁忙而鲜有时间陪伴孩子的爸爸们，必须单独带着孩子完成为孩子做饭、陪孩子睡觉等多项任务。《爸爸去哪儿》收视情况之优异，据说超过了今年全国迄今为止所有电视节目。为什么观众会对这档节目如此青睐？说到底，是因为节目中体现的浓浓亲情让人心存暖意，也点燃了人们心中回归家庭的渴求。正如泰戈尔曾经在诗里写道：“我们一次次地离开，是为了一次次地归来。”

对文中划线句子的解释，最准确的一项是：

- A、引用这句诗，主要是为了突出这档节目激发了人们回归家庭的渴望
B、引用这句诗，是让人们认识到不要忘了对最初自我的肯定
C、这句诗的引用，主要是对文意起到点缀作用，为了增添一点诗意
D、任何一种形式的回归，都意味着对更好的未来的再度憧憬

30、依次填入文中横线处的语句，顺序恰当的一项是：

“土豪”二字重点在“土”，重外在、重奢华、好显摆，表达着一种与富裕的经济状况不相匹配的素质修养、行事风格以及外在气质。_____。_____。_____，_____，是一种来自骨子里的自卑心态。

- ①折射出一些“暴发户”一夜暴富之后的茫然与失衡
②急于用金钱向社会表明自己的价值
③而且越是“土”的人却越“豪”，无论是张扬还是炫耀，都是一种不正常的、浮躁的心理

④急于用金钱获取他人的尊敬

A、②①④③ B、①③②④ C、③②①④ D、③④①②

31、下列各句中，没有语病的一项是：

A、“快捷、健康、简约”，正成为中国公务活动用餐的新惯例。公务用餐改革正在推动中国掀起“餐桌革命”，倒逼高档餐馆努力转型

B、胃癌似乎偏爱于上班族，不少上班族患上胃癌。上班族经常不能定时吃饭，即使吃饭也是狼吞虎咽的，而导致胃癌的原因就是这些吃饭的方式造成的

C、由于环境保护压力的增大，能源需求的增加，天然气作为“对环境友好”的能源，其地位冉冉升起

D、两会期间，奥巴马表示支持“强势美元”政策，但这究竟是出于国内政治需要还是真正要采取断然措施，西方评论家对此的看法是否定的

32、领导人整顿风气，很多人不以为然，以为这是小题大做。据说，形成优良社会秩序，最重要的是制度。这种观念流行一时，然而不乏偏颇。制度是刚性约束，风气是柔性导引，从逻辑上说，风气导引于先，制度约束于后。风气、制度交相为用，自然能够收到奇效。

关于“风气”和“制度”的关系，描述正确的是：

A、风气与制度并重 B、制度比风气重要 C、制度是风气的引导 D、制度不及风气重要

33、下列划线的成语，使用恰当的一项是：

A、《父母爱情》这部电视剧不仅主角的表现十分出色，就连配角都栩栩如生

B、相比银行一直以来利用低息储蓄来做这一市场，“余额宝”只是分走了银行业超过万亿利润当中的沧海一粟

C、近几年，黄河、岷江的部分河段多次出现断流现象，面对这江河日下的情况，人们开始冷静地思考环保问题

D、新一代的彩色激光照排系统，在价格、灵活性和功能方面为传统电分机所鞭长莫及，但国外这些新系统不能处理文字

34、进入马年，“马上就有”这一句式迅速流行：“马上有钱”、“马上有房”、“马上有份好工作”。“马上就有”的祝福语，是马年才有；“马上就有”的社会心态，却早已在不经意间造访我们的时代。一毕业马上要有高薪工作，一工作马上让全家人凑钱买房，别人有了自己也马上要有，希望不能“马上兑现”就立刻抱怨。“马上就有”，倾吐着人们对美好生活的急切期盼，也在一定程度上映照出当今社会中的焦虑、浮躁与喧嚣心态。

这段话对“马上就有”，所持的态度是：

A、肯定 B、否定 C、有肯定也有否定 D、不置可否

35、下列各句中，没有语病的一项是：

A、《最强大脑》国际PK赛第一场，中国男孩李云龙和意大利少年安德烈表现迥异，引发观众对“中国式教育”的大讨论。面对质疑，李云龙的父亲李勇表示将坚持自己的教育方式

B、昨日，长白山上的高山牡丹花已开得十分茂盛，如果明媚的阳光能够持续一段时间的话，山上五光十色的花很快就能冒出来

C、虽然现在所访问的一些国家，对我们很陌生，了解起来比较吃力，不过我相信，在导游的帮助下，整个访问行程一定会非常顺利

D、行政改革蓝皮书《中国行政体制改革报告（2013）》调查，超六成受访者对八项决定的持续实施有信心，民众对官员财产申报和公开制度的建立，有很高的期待

36、《光明日报》北京3月22日电（光明网记者钟蕾蕾）在3月22日第22届世界水日，为促进水资源的开发、利用、保护和管理，增强社会公众节水意识，由中国妇女发展基金会、光明网共同主办的“母亲水窖·我与水的故事”摄影及中小学生绘画作品征集活动正式启动。参赛摄影作品可通过“母亲水窖·我与水的故事”活动官方网站（<http://mqsj.gmw.cn/>）投递，绘画作品可寄至中国妇女发展基金会“母亲水窖”办公室。本次活动历时半年，将于今年8月评选出获奖的摄影及绘画作品。

为这段新闻拟写标题，恰当的一项是：

A、征集“我与水的故事”摄影作品 B、妇基会、光明网联手征集“我与水的故事”绘画作品

C、“我与水的故事”的征文已展开 D、妇基会、光明网联手征集“我与水的故事”

37、梁君健希望通过《四个中国人》传递这样一种信息——非物质文化遗产的核心是人，淡化非遗本身的美术或者历史价值，强化它对这一个个传承人生命的价值。书中写道：“程宵春手艺的精进，生活态度的恬淡，都向我们展示了一个有传承的行业，是如何塑造出一个个丰富的个体生命。”

符合原文的一项是：

A、非物质文化遗产应强化其艺术价值 B、非物质文化遗产更注重传承人生命的价值

C、非物质文化遗产的核心是行业的传承 D、历史价值要比个体生命的价值更重要

38、底线无形地存在于两个地方。一在社会中，一在每个人心里。如果人们都降低自己的底线，社会的底线一定下降。社会失去共同遵守的底线，世道人伦一定败坏；如果人人守住底线，社会便拥有一条美丽的水准线——文明。因此说，守住底线，既是为了成全社会，也是成全自己。

对“底线”的理解，不正确的一项是：

- A、每个人心中的底线下降会导致社会的底线下降 B、每个人都遵守底线，社会才会变得文明
C、社会的底线下降是每个人心中的底线下降的标志 D、守住底线既有利于个人成长，又有利于社会发展

39、下列各句中没有使用比喻修辞手法的一句是：

- A、改革是火种，点燃了中国人的心灵之火；改革是台阶，承受着我们一步步踏实向上的攀登
B、中国在一天天变得美好，大家对环境的要求也一天天提高，到处涂鸦，胡乱张贴这类“牛皮癣”痼疾也需要好好治理
C、在《我是歌手》的舞台上，韩磊的歌声内敛而又富有激情、深沉而又不失活力，如同一杯甘醇的红酒令人回味无穷
D、像乌克兰这样复杂的政治局势，怎么能一两句话说得清

40、近年来，二维码在中国大行其道。车票机票、电视屏幕、报纸题头、商品标签、广告图片……到处都有它的身影。二维码又称二维条码，是条形码的升级。它诞生于日本，是用某种特定几何图形按一定规律在平面（二维方向上）分布的黑白相间图形，把文字、图像、音频、视频等“编码”成一个图像，当用特定软件拍摄这些图像时，所有信息就会显示出来。

根据这段文字，要定义“二维码”必不可少的要素有：

①二维条码②诞生于日本③黑白相间④用某种特定几何图形⑤“编码”

- A、①②⑤ B、①③④ C、②④⑤ D、③④⑤

41、“酷抠族”是指拥有较高学历、较高收入的中产阶级人群。这类人擅长精打细算过日子，通过转移消费重点，更好地配置“有数”的金钱。他们摒弃奢侈消费，在不影响生活质量的前提下，用最少的金钱获取最大的物质和心理满足感。他们以着装从简为荣，以盲目攀比为耻；以物尽其用为荣，以铺张浪费为耻；以心态阳光为荣，以纠结抑郁为耻……这是一个崇尚节约，追求简单、自然的生活方式的族群。

为“酷抠族”定义最准确的一项是：

- A、是指拥有较高学历、较高收入的中产阶级人群
B、是指崇尚节约，追求简单、自然的生活方式的族群
C、是指拥有较高学历、较高收入、追求节约、简单、自然的生活方式的族群
D、是指精打细算、摒弃奢侈、从简为荣，主张物尽其用、心态阳光的中产阶级人群

42、敢不敢用先进的文化教育国民，能不能用大生产所要求的社会运行准则来约束国民，会不会用健康的市场经济所要求的诚信体系来衡量国民，是否善于把传统文化中的优秀部分，与当今世界普遍适用的行为准则进行有机结合，并融入国民意识，从而形成崭新的健康向上的“新国民性”，是对中国社会发展的一种挑战。

符合“新国民性”特点的行为是（ ）。

- A、向路遇危难者施以援手 B、媒体将灾难事件的报道娱乐化
C、社会公众人物的虚假代言 D、歧视农民工等社会弱势群体

43、梦，它不仅让我们充满希望，更激发我们的斗志与追求。如今一个响亮的词汇——“中国梦”，正震撼着每一个中国人的心灵，激励着每一个炎黄子孙。千百年来，有多少仁人志士为了中华民族傲然屹立于世界民族之林，引领着我们不停地在寻梦、追梦。他们以“穷则独善其身，达则兼济天下”的_____，以“富贵不能淫，贫贱不能移，威武不能屈”的_____，以“人生自古谁无死，留取丹心照汗青”的_____，以“天下兴亡，匹夫有责”的_____，“为天地立心、为生民立命、为万世开太平”。

①一腔情怀②浩然之气③悲壮与豪迈④使命与责任

依次填在空格处的词语，排列最恰当的一项是：

- A、①②③④ B、②④①③ C、③①④② D、④②③①

44、西方模式的契约由来已久，是一种刚性的经济契约。管理思想家杏尔斯·汉迪认为，西方契约问题很多，而“中国式契约”可以创造信任、让步、发展的“双赢局面”。“中国式契约”特指那种充满人情味的非正式的心理契约，是人情和法律的妥协，是熟人之间一种动态的、心照不宣的口头约定。但随着经济发展，口头承诺可信度受到挑战。

随着经济发展，中国式契约的最大挑战在于：

- A、中国式契约简便灵活，适用广泛，但可信度不高 B、中国式契约不受法律的强制约束，也没有法律作保障
C、中国式契约要双方诚信，一旦毁约后果无法挽回 D、中国式契约双方要妥协互利，要确保双赢前景

45、下面文中标有序号的四个句子，其中与这段文字论述的中心不一致的一项是：

要控制人类的贪欲，最直接最有效的手段还是法律，法律如同笼子，欲望如同猛兽。

①人类社会千百年来所做的事，也就是法律、宗教、道德、文学与人的贪欲的搏斗。尽管不时有“猛兽”冲出牢笼伤人的事件，但基本上还是保持了一种相对的平衡。②人与人之间的友好关系，需要克制欲望才能实现；国与国之间的和平关系，也只有克制欲望才能实现。③凡事总有限度，一旦过度，必受惩罚，这是朴素的人生哲学，也是自然界诸多事物的规律。④一个人的欲望失控，可能酿成凶杀；一个国家的欲望失控，那就会酿成战争。由此可见，国家控制自己的欲望，比每个人控制自己的欲望还要重要。

A、① B、② C、③ D、④

46、要处理好改革发展稳定的关系。坚持改革力度、发展速度和社会可承受度的统一，是我国改革开放和现代化事业之所以能够顺利推进的宝贵经验。_____。“天时不如地利，地利不如人和。”要打好改革攻坚战，就要在改革方案酝酿之初充分考虑相关方的承受能力，把握方案出台的时机、节奏和力度，并根据不同阶段的特点及时调整和完善，形成推进的合力。改革是动力，发展是目的，稳定是前提。改革越是要啃硬骨头、涉大险滩，就越会触动利益格局，打破既有平衡。这就要求改革的步伐慎之又慎、方案优中选优，以科学、务实的态度处理好改革发展稳定的关系。_____。积极推进改革，着力解决问题和矛盾，稳定才能长久；以更大的勇气和智慧深化改革，发展将更加全面协调可持续，稳定才能有根基。改革的力度、发展的速度、社会的可承受度三者落脚点、结合点就在于：改革为了人民，改革依靠人民，改革成果由人民共享。_____。人民对美好生活的向往是我们奋斗的目标，也是改革的最高价值追求。改革发展稳定连接着国家富强之梦与人民幸福之梦。正因如此，习近平总书记强调：“在前进道路上，我们一定要坚持从维护最广大人民根本利益的高度，多谋民生之利，多解民生之忧，在学有所教、劳有所得、病有所医、老有所养、住有所居上持续取得新进展。”人民群众的利益越是得到保障，对改革的困难就越能多一些理解，对改革的举措就越会多一些支持，改革成功的希望就越大，发展、稳定的基础就越能坚如磐石。

回答 46-50 题：

第一段引用了“天时不如地利，地利不如人和”，符合上下文语境的理解是：

- A、改革方案要充分考虑社会的可承受度，这样才能团结力量支持改革的举措
- B、改革是人心所向，遇到问题再调整改革方案
- C、社会各阶层和谐最重要，可将改革时机延后
- D、回避矛盾，触动利益格局要慎重

47、对改革、发展和稳定三者关系的描述，不恰当的一项是：

- A、稳定是改革和发展的前提
- B、发展推动了改革
- C、推进改革，稳定才能长久
- D、深化改革，发展才能更全面

48、依次填入文中横线处的语句，顺序恰当的一项是：

- ①妥善处理改革发展稳定的关系，必须以改善民生为出发点和落脚点
 - ②同时更要认识到，稳定的坚实基础是发展成果的支撑，快速发展恰恰是改革推动
 - ③实践证明，改革发展稳定三者关系处理稳妥就能总揽全局，保证改革大业顺利推进；顾此失彼就会交学费、吃苦头
- A、①②③ B、③①② C、②①③ D、③②①

49、关于改革、发展、稳定的出发点和落脚点，理解不正确的一项是：

- A、改革为了人民，改革成果由人民共享
- B、人民对美好生活的向往，也是改革的最高价值追求
- C、人民只有依靠改革开放才能过上幸福生活
- D、改革发展稳定的关系，必须以改善民生为出发点

50、阅读全文，推断或评析不恰当的一项是：

- A、不断进行改革，努力解决问题和矛盾，国家才能长治久安
- B、改善民生工作做得越好，改革成功的希望就越大，发展、稳定的基础就越能牢靠
- C、本文紧紧围绕改革发展稳定的关系来论述，由浅入深，思路清晰，逻辑严密
- D、改革发展稳定连接着国家富强之梦与人民幸福之梦，由此可推断出，这与个人的幸福关系不大

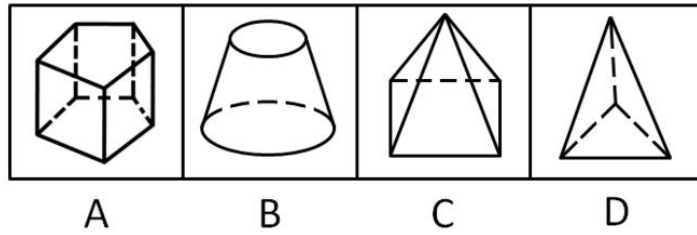
三、数量关系，共 10 题，本部分包括数字推理、数理计算。

51、0.1，3.1，10.1，25.1，（ ）

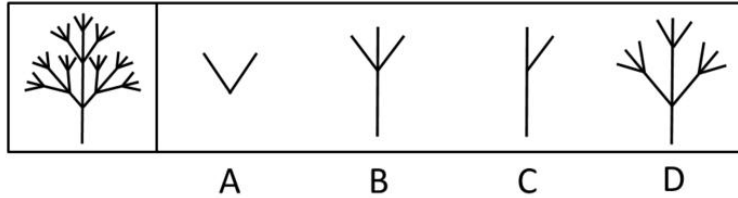
- A、46.1
- B、50.1
- C、54.1
- D、56.1

52、1，1， $\frac{3}{4}$ ， $\frac{4}{8}$ ，（ ）

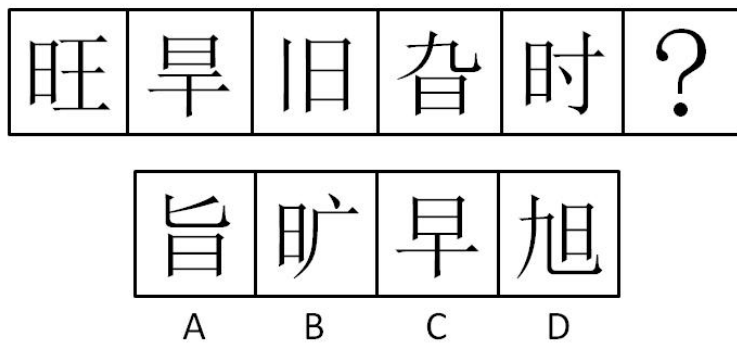
61、以下四个图形与其它图有区别的是：



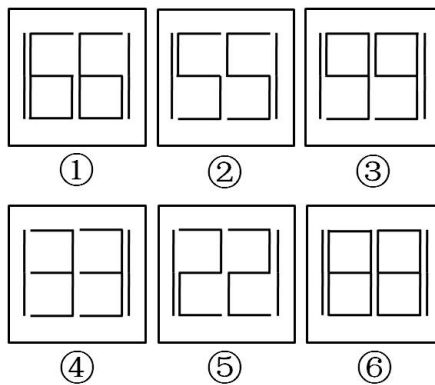
62、下图是由哪个基本图形生成的：



63、请从所给的四个选项中，选择最合适的一项填在问号处，使之呈现一定的规律性：

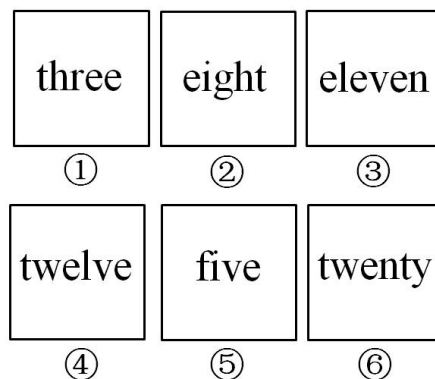


64、把下面的六个图形分为两类，使每一类图形都有各自的共同特征或规律，分类正确的一项是：



A、①③⑤，③④⑥ B、①③④，②⑤⑥ C、①③⑤，②④⑥ D、①④⑥，②③⑤

65、把下面的 6 个图形分为两类，使每一类图形都有各自的共同特征或规律，分类正确的一项是：



A、①③⑥，②④⑤ B、①③④，②⑤⑥ C、①③⑤，②④⑥ D、①④⑥，②③⑤

66、 (1)大象、帽子、回家、电风扇、羽绒服

(2)表演者听过之后，立刻倒背如流，奥秘何在

(3)这就是联想记忆法，愈是夸张奇特，记忆越是深刻

(4)大象的鼻子上戴了一顶帽子回家，遇见穿了一件羽绒服的电风扇

(5)记忆表演者，让大家随意说出了一些词语

A、(5)-(1)-(2)-(4)-(3) B、(5)-(2)-(3)-(1)-(4)

C、(1)-(4)-(5)-(2)-(3) D、(1)-(4)-(3)-(5)-(2)

67、(1)卫生机关犯愁，增加巡逻人员，提高罚金，均收效甚微

(2)每扔一次垃圾，播出一则故事或笑话

(3)荷兰某个城市，乱扔垃圾现象严重

(4)大受市民欢迎，城市因而变得清洁

(5)设计电动垃圾桶装有感应器，可以启动录音机

A、(3) - (1) - (5) - (2) - (4) B、(3) - (5) - (2) - (1) - (4)

C、(3) - (1) - (5) - (4) - (2) D、(5) - (4) - (2) - (3) - (1)

68、(1)换了一碗馄饨 (2)面条我也没吃啊 (3)馄饨是面条换的 (4)要了一碗面条 (5)为何吃完不给钱

A、(4) - (2) - (1) - (3) - (5) B、(1) - (3) - (2) - (4) - (5)

C、(4) - (1) - (5) - (3) - (2) D、(1) - (3) - (4) - (2) - (5)

69、(1)一次无意，主人在草料中加了一把盐，立刻变得有滋有味

(2)然而，第二天，这头驴就皱着眉头找草吃了

(3)一头毛驴，天天吃着主人给的青草，索然无味

(4)一则寓言，警示好东西应适时，适度

(5)毛驴大喜，宣布从此以后，每天不吃草料光吃盐

A、(5) - (3) - (1) - (4) - (2) B、(5) - (1) - (3) - (4) - (2)

C、(3) - (1) - (5) - (2) - (4) D、(3) - (1) - (2) - (5) - (4)

70、(1)一份赔偿的生效 (2)一次事故的发生 (3)一份判决的作出 (4)一个椰子的坠落 (5)一场诉讼的提出

A、(4) - (2) - (5) - (3) - (1) B、(2) - (1) - (5) - (4) - (3)

C、(4) - (1) - (2) - (5) - (3) D、(2) - (1) - (4) - (3) - (5)

71、偏见是一种缺乏客观依据、同定的、先入为主的观念和态度。在社会心理学中，偏见多指否定性、拒斥性的态度。歧视是指不以能力、贡献、合作等为依据，而是以诸如身份、性别、种族或社会经济资源拥有状况为依据，对社会成员进行区别对待的行为。

根据上述定义，下列各项中属于偏见的是：

A、某售楼处只接待拥有 20 万以上资金证明的客户 B、某高校规定，年龄在 50 岁以上的讲师不能参评副教授

C、航空公司通常都给予头等舱的乘客更优厚的待遇 D、长久以来，女性的工作能力经常受到他人的质疑和否定

72、假性痴呆是指在某种特殊的心理背景下出现的一种部分短暂、可逆的智能障碍，而无明显脑器质性损害的证据。

以下属于假性痴呆的是：

A、某人听到门响怀疑有人影 B、某播音员播报过程中突然语塞

C、车祸脑伤患者思维迟缓，反应迟钝 D、受精神打击后暂时忘记自己的姓名，不认识亲人

73、古罗马历史学家塔西佗曾这样谈论执政感受：当政府不受欢迎的时候，好的政策和坏的政策都会得罪人民，这个见解后来成为西方政治学的定律之一——“塔西佗陷阱”。

以下符合“塔西佗陷阱”定律的是：

- A、当社会发生突发公共事件时，无论政府做好事还是坏事，都会被看作是坏事
- B、当公权力遭遇公信力危机时，无论政府说真话还是假话，都会被看作是假话
- C、当食品安全出现危机时，无论合格食品还是不合格食品，都会被看作是不合格食品
- D、当网络成为信息传递渠道时，无论真信息还是假信息，都会被看作是假信息

74、物质是标志客观实在性的哲学范畴，这种客观实在性不以人的意识为转移，但是可以被人们所认识。

根据上述定义，下列不属于哲学物质范畴的是：

- A、影子
- B、引力场
- C、水中月
- D、梦中树

75、涓滴效应指在经济发展过程中并不给予贫困阶层、弱势群体或贫困地区特别的优待，而是由优先发展起来的群体或地区通过消费、就业等方面惠及贫困阶层或地区，带动其发展和富裕。

根据上述定义，下列属于涓滴效应的是：

- A、国家加大对西部扶贫力度
- B、政府为应届毕业大学生创业营造便利条件
- C、劳动部门为下岗职工举办免费技能培训班
- D、节假日城市近郊农家乐旅游逐年升温

76、万里长城：北京故宫：名胜古迹

- A、剪纸：皮影戏：民间艺术
- B、鲸鱼：鲨鱼：鱼
- C、川菜：粤菜：鲁菜
- D、白天：夜晚：一天

77、酒驾：吊销驾驶证

- A、犯罪：法律制裁
- B、退休：领取养老金
- C、祈祷：通过考试
- D、护照：出国旅游

78、元宵节：端午节：中秋节

- A、玫瑰：百合：康乃馨
- B、元朝：明朝：清朝
- C、奥巴马：林肯：布什
- D、大象：长颈鹿：梅花鹿

79、美对于艺术相当于（ ）对于（ ）

- A、真：科学
- B、法律：正义
- C、发明：创造
- D、模仿：抄袭

80、孔子：颜回

- A、李白：杜甫
- B、郭德纲：于谦
- C、省长：市长
- D、苏格拉底：柏拉图

81、一种流行的看法是人们可以通过动物的异常行为来预测地震。实际上，这种看法是基于主观类比，不一定能揭示客观联系。一条狗在地震前行为异常，这自然会给它的主人留下深刻印象。但事实上，这个世界上的任何一刻，都有狗行为异常。

为了评价上述论证，回答以下哪个问题最不重要：

- A、被认为是地震前兆的动物异常行为，在平时是否也出现过
- B、两种不同类型的动物，在地震前的异常行为是否类似
- C、地震前有异常行为的动物在整个动物中所占的比例是多少
- D、在地震前有异常行为的动物中，此种异常行为未被注意的比例是多少

82、某医院所有的医生都是男性，所有的护士都是女性，所有的已婚者都是护士，医务室主任尚未结婚。

- A、医务室主任是男性
- B、已婚者中有男性
- C、护士中可能有未婚者
- D、医生中有的已经结婚

83、一天，一只饿狼抓住了一只兔子。兔子抗议说：“你们这些狼老是欺负我们这些兔子，可我们兔子从来没有欺负过你们狼啊！这太不公平了！”狼说：“这有什么。我们无非是找点吃的。难道你们不吃任何东西？”兔子说：“我们只吃青草，可从来没吃过狼啊？”狼说：“难道青草就该受你们吃吗？你们吃了这么多青草，可青草从来没吃过一只兔子。我现在吃你，正好为青草报仇。”

狼的反驳中所犯的逻辑错误是：

- A、偷换论题
- B、自相矛盾
- C、模棱两可
- D、断章取义

84、没有规矩不成方圆。

下列选项与题干逻辑结构相同的是：

- A、不吐不快 B、骄兵必败 C、有志者事竟成 D、头发长，见识短

85、德国医生梅林和俄国明科夫斯基合作研究消化功能，他们发现在实验狗群中，切除了狗的胰脏，这类狗的尿总是会招来成群的蜜蜂，化验表明狗的尿中含有大量的糖分。由此科学家猜测胰脏可能跟糖尿病有关系。

以下各项最有力支持以上结论的是：

- A、医生用胰岛素控制糖尿病 B、胰脏具有消化功能 C、胰脏合成糖分 D、胰脏癌患者会加重糖尿病

五、资料分析，共 15 题，所给出的材料均有多个问题，根据资料所提供的信息进行分析、比较、计算和判断处理。

(一)

2013 年 11 月 6 日《中国信息报》刊发《改革开放铸辉煌经济发展谱新高》，用数字和图形展示了自 1978 年改革开放 35 年以来中国经济社会发展的巨大变化，文章数据显示，1978—2012 年，我国国内生产总值平均增长 9.8%，国内生产总值由 1978 年的 3645 亿元迅速跃升至 2012 年的 518942 亿元，1978 年人均国内生产总值仅有 381 元，2012 年人均国内生产总值达到 38420 元，扣除价格因素，比 1978 年增长 16.2 倍，平均增长 8.7%。

1978—2012 年国内生产总值及人均国内生产总值

年份	国内生产总值(亿元)	人均国内生产总值(元)
1978	3645	381
1980	4546	463
1985	9016	858
1990	18668	1644
1995	60794	5046
2000	99215	7858
2005	184937	14185
2010	401513	30015
2011	473104	35198
2012	518942	38420

86、表中数据显示，我国人均国内生产总值超过万元的初始年份是：

- A、2005 年 B、2000 年 C、1990 年 D、2010 年

87、资料显示，2012 年我国国内生产总值比 1978 年增长了：

- A、1.41 倍 B、142.4 倍 C、141.4 倍 D、1.42 倍

88、改革开放 35 年以来，我国国内生产总值和人均国内生产总值：

- A、二者均呈增长态势 B、前者不断减少，后者不断增加
C、前者不断增加，后者不断减少 D、二者均呈下降态势

89、改革开放 35 年以来，我国国内生产总值与人均国内生产总值年均增长情况是：

- A、前者慢于后者 B、前者快于后者 C、二者同步增长 D、二者同步降低

90、下列表述正确的是：

- A、2012年，我国人均国内生产总值是1978年的16.2倍
- B、1978—2012年，我国国内生产总值年均增长8.7%
- C、1978—2012年，我国人均国内生产总值年均增长9.8%
- D、表中数据显示，2005年我国国内生产总值超过十万亿元

(二)

中国社科院世界社保研究中心发布《中国养老金发展报告2012》。报告显示，2010年有15个省份收不抵支，缺口达679亿元；2011年收不抵支的省份虽然减少到14个，但收支缺口高于2010年，2011年达766.5亿元。

报告分析显示，我国养老金地区差异较大。到2011年，我国有辽宁、黑龙江、天津、上海等14个省份养老金收不抵支。但是，在面临亏损的同时，18个省份养老金收入则远远大于支出。其中，广东结余最多，达到519亿元；浙江、江苏、北京等省份结余也在二三百亿元。

养老金总缺口达到766.5亿元。其中，辽宁和黑龙江缺口均超过100亿元；天津、新疆兵团和吉林缺口在50亿元到100亿元之间；河南、陕西、江西、湖南、广西、上海、海南以及重庆的缺口在10亿元到50亿元之间；河北的缺口最少为1.62亿元。从区域来看，东北三省负结余395.5亿元；中南四省（河南、湖南、广西、海南负结余）123.9亿元；西北地区（陕西、新疆兵团）负结余100.98亿元。

从10年来的数据看，2002年，全国29个省份养老金收不抵支，随着时间推移，越来越多的省份走出了这一困境，到2011年则为14个，数量上呈逐年减少的趋势。不过值得注意的是，在出现收不抵支的省份中，其负结余规模不断扩大，亏损额由2002年的407.6亿元达到2011年的766.5亿元。而且在向少数省份集中，尤其是黑龙江、辽宁等老工业地区。

对比2010年和2011年排名前10的亏损省份显示，上海、黑龙江、广西的排名变化比较明显。其中，上海结余由2010年的139.5亿元减少到2011年的25亿元，排名从第2位下移到10位之外。主要原因是，上海市2011年将外来务工人员和城郊就业人员纳入养老保险制度，使得当年养老金大幅增收。

91、2002年-2011年间，全国养老金收不抵支的省份：

- A、减少了14个
- B、增加了15个
- C、增加了14个
- D、减少了15个

92、2011年与2010年相比，全国养老金收支缺口增加了：

- A、88.5亿元
- B、87.5亿元
- C、86.5亿元
- D、89.5亿元

93、从区域来看，2011年出现养老金负余结最多的是：

- A、西北地区
- B、中南四省
- C、东北三省
- D、东南地区

94、2011年与2010年相比，出现养老金收不抵支的地区数量降低：

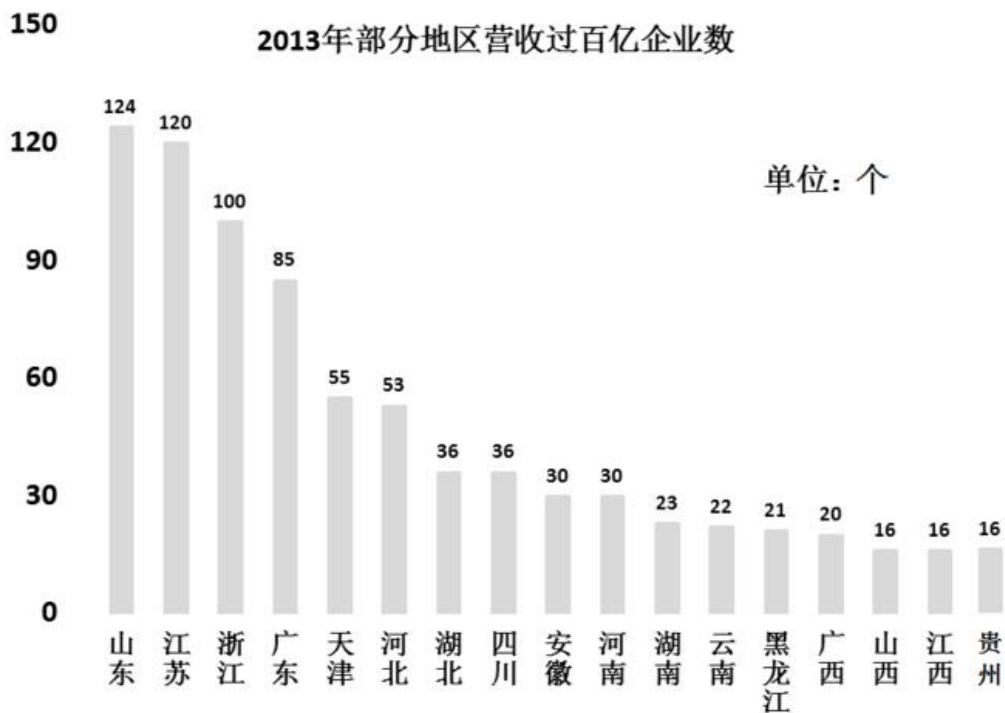
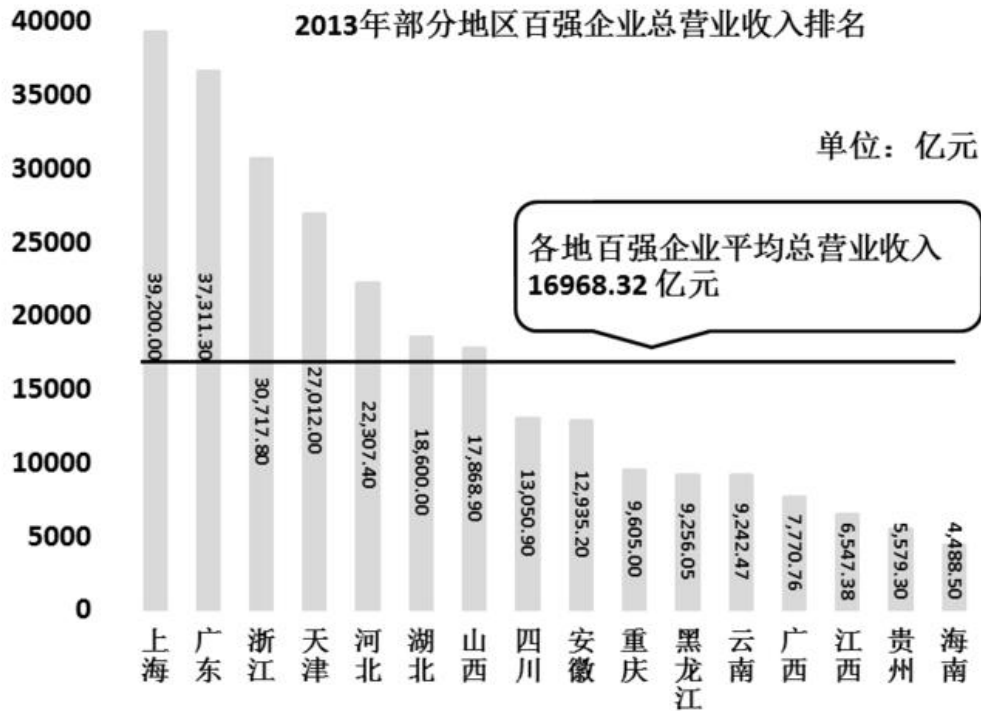
- A、6.7%
- B、94.3%
- C、93.3%
- D、5.7%

95、下列说法正确的是：

- A、报告分析显示，我国养老金不存在地区差异
- B、对比2010年和2011年排名前10的亏损省份显示，吉林的排名变化比较明显
- C、报告分析显示，到2011年，我国养老金收入远大于支出的省份有14个

D、养老金出现收不抵支的省份中，其负结余规模不断扩大

(三)



96、2013年营业收入过百亿企业数地区中，达到或超过百家企业的地区有：

- A、2个 B、1个 C、0个 D、3个

97、2013年，上海市与海南省百强企业总营业收入相差：

- A、36711.5 B、35711.5 C、34711.5 D、37711.5

98、2013年，山东省营业收入超过百亿的企业数量是黑龙江的：


- A、6.0倍 B、5.9倍 C、5.8倍 D、6.1倍


99、2013 年营业收入超过百亿企业数的地区中，西部地区省份有：

- A、四川、贵州、云南 B、安徽、贵州、江西 C、四川、广西、云南 D、江西、贵州、四川

100、下列说法正确的是：

- A、资料显示，2013 年营业收入超过百亿的企业数多于 100 家的省份有 4 个
B、2013 年四川省营业收入超过百亿的企业数比江西多 20 家
C、2013 年部分地区百强企业总营业收入超过总平均收入的地区有 6 个
D、经济越发达的地区百强企业总营业收入排名越后

 微信扫描二维码，关注“公务员考试挺简单”微信公众号，可获取更多公考经验。分享公考经验，还可获得现金奖励哈

 手淘扫描淘宝店铺，可以购买省考、国考历年真题哦



微信公众号



淘宝店铺