

## 2009年青海省公开招录主任科员以下职位公务员 《行政职业能力测验》试卷

来源：F 整理：杨柳（微信：gwy288）

### 第一部分 言语理解与表达

（共30题，参考时限30分钟）

本部分均为单项选择题，着重考查考生对语言文字的综合分析能力。

这种能力包括：对词和句子一般意思和特定意义的理解；对比较复杂的概念和观点的准确理解；对语句隐含意思的合理推断；在干扰因素较多的情况下，能比较准确地辨明句义，筛选信息。

注意：问题可能是选择一个词语或一个句子使表达最为准确，也可能是考查对文字内容的理解，你的选择应与题目要求最相符合。

请开始答题：

1. 其实，无论是一百年前的探险家，还是现在的我们，对于这片保护区都只是一些不速之客，而数十亿年来陪伴着它的云层、沙丘、龙卷风，以及生长于斯的生物，它们在这里自由自在地起舞、生长，它们才是这里真正的主人。不属于“保护区的真正的主人”的是（ ）。

- A. 保护区内的人      B. 保护区内的植物      C. 云层、沙丘、龙卷风      D. 生长在保护区里的动物

2. 诗歌作为有文字以来最初的文学形式，并不会因为人类进入电视时代或者互联网时代而消亡，因为人类需要这样的精神寄托方式——简单、容易，不需要任何设备，只需要一点心情。与文意不相符合的说法是（ ）。

- A. 诗歌是有文字以来的最早的文学样式      B. 诗歌是人类的精神寄托方式  
C. 诗歌需要一点简单、容易的设备      D. 诗歌在互联网时代不会消亡

3. 脾胃俱旺者由于多食多饮，致使脂肪堆积于体内，脾胃气机凝滞，不能运化水湿，痰湿内生而成病；脾胃俱虚者，胃虚则食少，脾虚则失运，中焦生化不足，水谷之精气失于运化，转为痰浊，贮积于皮下膜外，形成肥胖。

对这句话理解正确的是（ ）。

- A. 脾胃俱旺者病，脾胃俱虚者胖      B. 脾胃俱旺者堆积脂肪易致胖  
C. 脾胃俱虚者水谷之精气失于运化易病      D. 人不宜多食多饮

4. 大型慈善活动“中国汽车慈善万里行”带着优秀的中华慈善文化，随着我们民族经济复兴的有力车轮，穿越亚欧大陆8个国家，经过44个历史悠久、风光秀丽的城市，历时62天，行程2.8万公里，把中国人民对慈善事业的理解和追求，对世界和平的责任和义务沿途撒播，唤起和平与友善，正义与公平。对“中国汽车慈善万里行”理解准确的是（ ）。

- A. 面向国际的      B. 面向中国的      C. 中国政府举办的      D. 国际机构举办的

5. 到底采取何种销售模式，我们考虑得更多的应该是中国方兴未艾而又不成熟的汽车市场现状：一方面，汽车市场具有巨大的消费潜力，现在更是处于卖方市场；另一方面，消费者对品牌认知能力弱，加上国有二线品牌的多样性造成了中国汽车市场的混乱局面；同时，中小经销商又占据了汽车销售的主导。文中“方兴未艾”是指（ ）。

- A. 汽车市场具有巨大发展潜力      B. 国有二线汽车品牌多样  
C. 消费者对品牌认知能力弱      D. 中小经销商占据汽车销售的主导

6. 经合组织说，虽然数据显示美国和德国的经济活力增强，但西方七国集团其他成员的经济活力减弱，特别是英国、加拿大、法国和意大利。西方七国集团的经济活力的实际情况是（ ）。

- A. 增强      B. 减弱      C. 与此无关      D. 喜忧参半

7. 谁都不会否认小顾这次未被评为区先进不是他平时没有努力的结果。小顾平时作努力了吗？（ ）

A. 作了努力      B. 未作努力      C. 不清楚      D. 无法认定

8. 梅克伦堡指出几个世纪以来博物馆采取的保护方法非但没有帮助保护名画，反而破坏了许多名画。

梅克伦堡对几个世纪以来博物馆保护名画的方法所持的态度是（ ）。

A. 肯定      B. 否定      C. 有肯定也有否定      D. 不置可否

9. 2004年，国家质量监督检验检疫总局加大了采用国际标准和国外先进标准的力度，发布了一批节水、节能、节油和涉及人身健康安全的重要标准。我国有关涉及人身健康安全的重要标准有没有与世界接轨？（ ）

A. 已经接轨      B. 没有接轨      C. 可能接轨      D. 没有明说

10. 一个人性别的形成绝不只是X和Y染色体的偶然组合，而是机体为了作为生物体的一个人生存和顺利发展的复杂过程。性别的形成与X和Y染色体有无关系？（ ）

A. 有必然关系      B. 无必然关系      C. 有一定关系      D. 无关系

11. 一天的劳累工作之后，志愿者们相聚聊得最多的还是潜水，回忆以前参加的救捞潜水的往事。

从事潜水救捞工作的人应该是（ ）。

A. 专业的      B. 业余的      C. 不知道      D. 专业和业余的都有

12. 经济持续高速发展，令中国贫困人口大幅减少，但收入分配不均的情况依然严重；然而，中国经济加速发展，令百姓得以摆脱贫困，贫困者得以分享到经济增长的成果，这一点更为重要。中国经济发展是否拉大了贫富差距？（ ）

A. 差距拉大      B. 没有扩大      C. 差距缩小      D. 保持原状

13. 唐晓娟不得不对赵阳这种不通过正当途径解决两人矛盾的方式表示十分的遗憾。唐晓娟是否赞成赵阳的做法？（ ）

A. 赞成      B. 不赞成      C. 没有明说      D. 与此无关

14. 市中级人民法院驳回了被告的上诉请求。市中级人民法院是否同意一审判决？（ ）

A. 没有明说      B. 与此无关      C. 不同意      D. 同意

15. 陈老师说：“童欣，这几天老有人告你的状，请你拿一面镜子仔细地照照自己。”陈老师是否要童欣去拿镜子照？（ ）

A. 要去拿镜子照      B. 有镜子不需要照      C. 与此无关      D. 不知道

阅读短文回答16-20题。

语言没有罪过，包括英语。只是一定程度上来讲，英语能力成了确认社会个体进入“全球化”的第一标识物。这是可悲的，因为英语的本意也不是要求一种“全球化”的结局。现在，国人将更多的精力、智力投入在习练英语之中，追求的目标也不是这一语言所包裹、所满载的异域文化和文明形态，仅仅只是为了一种能力上的证明：证明这个中华民族尚能对另一种不同历史结构的语言系统进行操作。说到这里，你就会明白，我们都被他人引导成一帮失去自信的孱种，都在他人的语言系统中寻找自尊，但是，更可笑的是，西方对此并未表示任何兴趣和评价。极力学会他人言说的方式，极力接近他人活动的话域，极力打造“对话”的平台，但是，“语言”的革命终究代替不了思想的革命，到头来，反倒是自己迷失了自身的种性特征，西人对东方的观念态度依然在其19世纪以来的惯性中延伸。“鸚鵡学舌”，鸟依然是鸟！

16. 国人学英语的目标（ ）。

A. 证明中华民族有掌握其他语言的能力      B. 在他人的语言系统中寻找自尊  
C. 追求异域文化和文明形态      D. 极力接近他人活动的话域

17. 国人花费巨大精力学习英语的结果是（ ）。

A. 失去信念      B. 让英语漂荡成一个终极“无常”  
C. 未改变西方人对东方的观念      D. 迷失了自身的种性特征

18. “英语能力成了确认社会个体进入‘全球化’的第一标识物”，可以替代该句的是（ ）。

- A. 确认一个人进入“全球化”的首要标志是英语能力
- B. 确认一个人进入“全球化”的唯一标志是英语能力
- D. 确认一个社会单位进入“全球化”的唯一标志是英语能力

19. 这段文字批判的对象是（ ）。

- A. 英语
- B. 东方人学英语偏颇
- C. 中国人学英语的偏颇
- D. 全球人学英语偏颇

20. 可概括这段文字的是（ ）。

- A. 由于全球化，人们不得不学英语，但中国人英语学习出现很多偏颇
- C. 鹦鹉学舌
- B. 诅咒全球化，因为它逼迫人们学英语
- D. 语言无罪，包括英语

阅读短文回答 21-25 题。

耗资 5000 多万元的中国首个湿地公园——肇庆星湖湿地公园，日前在广东肇庆星湖风景名胜区内建成。肇庆星湖风景区是中国第一个国家自然保护区和中国第一批世界生物圈保护区，也是中国风景名胜区 IS014000 国家示范区和国家首批 4A 级景区。这里既有众多湖泊纵横，又有宽阔的滩涂湿地，大面积茂密森林，鱼虾丰富，水生动植物旺盛，湖水水质达到国家地表水二级标准。良好的生态环境，丰富的鸟类食物，使这里成了候鸟迁徙的重要停歇地、繁殖地和越冬地。区内七星岩景区湖面达 6.04 平方公里，还有 20 多个小岛，湿地资源丰富，生态环境优美，形成了动、植物多样性的生态系统，为各种湿地的动植物生存和发展提供了十分理想的条件。肇庆市委、市政府从 2003 年初开始对星湖景区丰富的湿地资源进行规划、提升、开发、整合。据统计，景区内目前共有鸟类 188 种，其中国家一级保护鸟类 2 种，国家二级保护鸟类 11 种，各种鹭鸟近万只。同时，星湖的水体中生长着包括水鳖科、眼水菜科等 13 个科的密齿苦草、黑藻等 16 个种类的水生植物，生长着鲩、鲢、鲤、鳊等 20 多类水生动物。据介绍，湿地是地球上一种重要的、独特的、多功能的生态系统，被誉为生命的摇篮、自然之“肾”，对保护环境，保护生物的多样性有着十分重要的意义。

21. 以下哪条与本文不符？（ ）

- A. 肇庆星湖湿地公园是我国第一个国家自然保护公园和我国第一批世界生物圈保护公园
- B. 肇庆星湖湿地湖水水质达到国家地表水二级标准
- C. 景区内共有鸟类 188 种
- D. 景区内各种鹭鸟近万只

22. 文中加点的“这”指的是（ ）。

- A. 肇庆星湖湿地公园
- B. 肇庆星湖风景区
- C. 国家首批 4A 级景区
- D. 世界生物圈保护区

23. 根据该文判断，“水鳖科”是（ ）。

- A. 水生植物
- B. 水生动物
- C. 水生植物的类别
- D. 水生动物的类别

24. 以下哪条与本文不符？（ ）

- A. 肇庆星湖湿地公园有 6.04 平方公里
- B. 肇庆星湖湿地公园 2003 年开始开发
- C. 星湖风景区有 20 多个小岛
- D. 星湖风景区有 20 多类水生动物

25. 根据该文判断，不属于肇庆星湖风景区的是（ ）。

- A. 湖泊
- B. 湿地
- C. 森林
- D. 溶石

阅读短文回答 26-30 题。

第一步就是明确爱是一种艺术，正如生活是一种艺术一样。①我们想知道如何爱，②必须遵循我们学习其

他任何艺术的同样方法，诸如学习音乐、绘画、木工或医学技艺及工程艺术的方法。

在学习任何一种艺术时，必要的步骤是什么呢？

学习任何一种艺术的过程都能够适当地分为两个方面：一方面精通那门艺术的理论，另一方面熟悉那门艺术的实践。如果我想学习医学技艺，我必须首先了解人体结构和各种疾病，但当我具备了这一方面的全部理论知识时，根本不意味着我在医学技艺上是合格的。只有在大量实践的基础上，把我们的理论知识成果和我们的实践成果融为一体，即变为我的直觉——这是任何一门艺术的要素——之后，我在技艺上才变得精湛起来。当然除学习那门艺术的理论和实践外，为驾驭任何一门艺术，第三点也是必要的要素，即要使艺术精湛必须极其关心这一问题，在我的心中必须是：没有什么比此艺术更重要的事情。

这适用于音乐、医学、木工和爱的艺术。这里有着为什么在当代的文明中，人们很少尝试探究爱这门艺术的答案，尽管他们明显地失败，尽管他们对爱如饥似渴，但却又认为几乎每一件事都比爱重要：成就、名望、金钱、权力——几乎人们的所有精力都被用来研究如何实现这些目标，难怪乎没有谁来学习爱的艺术。

26. 第一段中，在划线处①和②填入的关联词，最恰当的一组是（ ）。

- A. 虽然 但是      B. 如果 就      C. 因为 所以      D. 也许 还

27. 根据本文作者的观点，下列叙述不正确的是（ ）。

- A. 对任何一门艺术的学习都可以分为理论和实践两个部分  
B. 掌握一门艺术的理论知识是十分重要的，但还不是必要的  
C. 通过实践，“我”可以将理论成果与实践成果融会为—体  
D. 只有将理论成果与实践成果转化为“我”的直觉，才意味着“我”的技艺是精湛的

28. 作者认为，驾驭—门艺术的中心问题是（ ）。

- A. “我”所追求的艺术是重要的，没有什么可以代替它的事物  
B. 将理论与实践完美结合在—起，并转化为—种直觉  
C. 通过自己的努力，使所掌握的艺术变得精湛  
D. 如何把握住掌握—门艺术的一般性法则

29. 对本文最后—段话，理解最不恰当的是（ ）。

- A. 当代文明中，人们在“爱”这个问题上的失败是普遍的  
B. 人们不关注爱的学习，是因为没有把爱视为生命中最—重要的东西  
C. 相对于金钱、名望、权力等因素，爱对当代人而言似乎并不—重要  
D. 爱其实对于每个人都是—重要的，而且是不学而成的

30. 如果给这篇短文冠以标题，最恰当的是（ ）。

- A. 艺术学习      B. 爱的艺术      C. 艺术学习的方法      D. 学习艺术的一般性法则

## 第二部分 数量关系

（共20题，参考时限25分钟）

—、数字推理。给你—个数列，但其中缺少—项，要求你仔细观察数列的排列规律，然后从四个供选择的选项中选择你认为最—合理的一—项，来填补空缺项，使之符合原数列的排列规律。

请开始答题：

33.3, ( ), 4,  $\frac{14}{3}$ , 5,  $\frac{16}{3}$   
 A.  $\frac{12}{3}$       B.  $\frac{11}{3}$       C.  $\frac{10}{3}$       D.  $\frac{9}{3}$

34.  $\frac{1}{\sqrt{3}}$ , ( ),  $\sqrt{3}$ , 3,  $3\sqrt{3}$ , 9  
 A.  $\frac{\sqrt{3}}{3}$       B.  $\frac{\sqrt{3}}{9}$       C. 1      D.  $\sqrt{2}$

35. 0, 2,  $-2\sqrt{2}$ ,  $2\sqrt{3}$ , -4, ( )  
 A.  $\frac{3}{2}\sqrt{5}$       B.  $4\sqrt{5}$       C.  $3\sqrt{5}$       D.  $\frac{10}{\sqrt{5}}$

36. ( ),  $\frac{66}{81}$ ,  $\frac{85}{74}$ ,  $\frac{78}{93}$ ,  $\frac{97}{86}$ ,  $\frac{90}{105}$   
 A.  $\frac{73}{62}$       B.  $\frac{70}{63}$       C.  $\frac{81}{70}$       D.  $\frac{73}{65}$

37. 25, 26, 24, 27, 23, ( )  
 A. 22      B. 21      C. 29      D. 28

38. 4,  $\frac{8}{9}$ ,  $\frac{16}{27}$ , ( ),  $\frac{36}{125}$ ,  $\frac{216}{49}$   
 A.  $\frac{32}{45}$       B.  $\frac{64}{25}$       C.  $\frac{28}{75}$       D.  $\frac{32}{15}$

39. 1, ( ), 7, 15, 31, 63  
 A. 2      B. 3      C. 4      D. 5

40. 1, 1, ( ), 2,  $\frac{16}{5}$ ,  $\frac{16}{3}$   
 A.  $\frac{3}{2}$       B.  $\frac{4}{3}$       C.  $\frac{16}{7}$       D. 2

二、数学运算。在这部分试题中，每道题呈现一段表述数字关系的文字，要求你迅速、准确地计算出答案。你可以在草稿纸上运算。

请开始答题：

41. 甲、乙、丙三只水杯和一只空桶，30杯甲杯的水倒入水桶后，占全桶容量的 $\frac{2}{5}$ ，再倒10杯乙杯的水，占水桶余下容量的 $\frac{1}{2}$ ，再倒30杯丙杯的水，恰好使水桶水满，则甲、乙、丙的容积比是：

- A. 6 : 7 : 5    B. 5 : 7 : 4    C. 6 : 9 : 5    D. 4 : 9 : 3

42. 甲去取款，第一次取了存款额的一半还多5元，第二次取了余下的一半还多10元，还剩下125元，甲原来

有存款有多少元？

- A. 500      B. 525      C. 550      D. 575

43. 已知某种热水器的水箱盛满水是200升，少于200升时会以2升/分的速度自动进水。洗浴时每分钟放水7.2升，又当水箱内的水量减少到2.5升时，放水便自动停止，洗浴中断。现假定每人洗浴的用水量为72升，则该热水器一次至多可以供几人洗浴？（假定洗浴者洗浴时不停止放水，相邻两个洗浴者之间停顿时间为2分钟）

- A. 3      B. 4      C. 5      D. 6

44. 某年甲企业的利润比乙企业少200万元，甲、乙、丙三企业的利润之比为5：6：7，问该年丙企业的利润为多少万元？

- A. 1300      B. 1500      C. 1200      D. 1400

45. 在比例尺为1：1000000的地图上量得甲、乙两地的距离为15厘米，甲、丙两地的距离为12厘米，乙、丙两地的距离为9厘米，并量得丁地与甲、乙两地的距离都为7.5厘米，问丙、丁两地的实际距离为多少公里？

- A. 90      B. 120      C. 75      D. 150

46. 张繁30多岁时她女儿出生，2008年她女儿的年龄是她的年龄的，2009年张繁多少岁？

- A. 61      B. 51      C. 62      D. 52

47. 一串数字共15个，前10个的平均数是23，后10个的平均数是35，中间5个的平均数是26，这15个数字的平均数是多少？

- A. 33      B. 31.5      C. 30      D. 29

48. 一次运动会上，赛前报名准备参加的男女运动员的人数之比为23：12。实际比赛时，有两名男运动员和三名女运动员因故没有参加比赛，使得实际参加比赛的男、女运动员的人数之比变为2：1。问实际参加比赛的运动员共多少名？

- A. 135      B. 140      C. 150      D. 160

49. 在全县上下的共同努力下，某县户均税费负担逐年下降，2001年比2000年下降3%，2002年比2001年下降4%，2003年比2002年下降5%，问三年来，该县的户均税费负担合计较2000年下降了多少？

- A. 11.5%      B. 21.4%      C. 18.4%      D. 15.3%

50. 一根长18米的钢筋被锯成两段。短的一段是长的一段的 $\frac{4}{5}$ ，问短的一段有多少米长？

- A. 7.5      B. 8      C. 8.5      D. 9

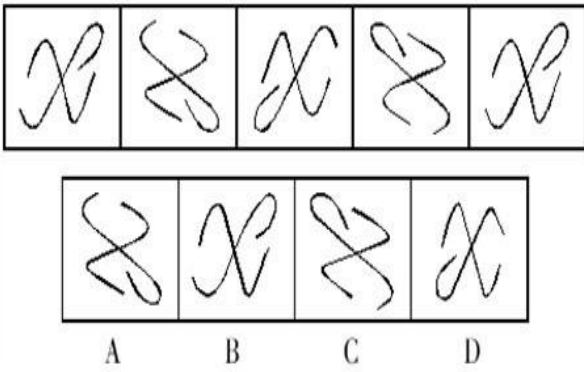
- A. 7.5      B. 8      C. 8.5      D. 9

### 第三部分 判断推理

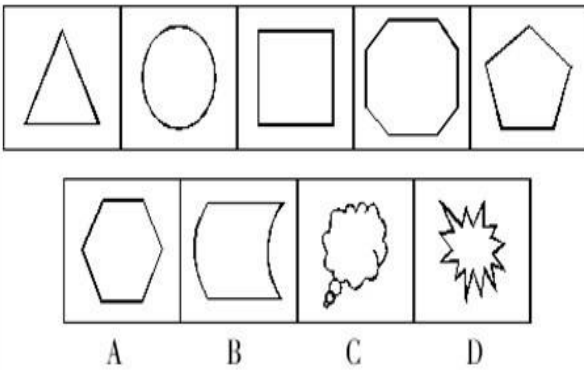
（共45题，参考时限40分钟）

一、图形推理。每道题的题干给出一套图形，其中包括五个图，这五个图形呈现一定的规律性。选项给出一套图，其中有四个图，请从中选出一个作为保持题干五个图规律性的第六个图。

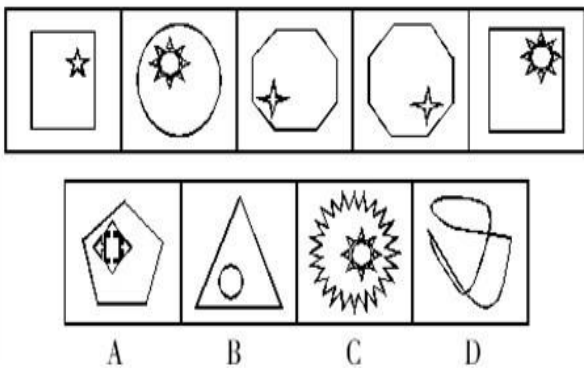
51.



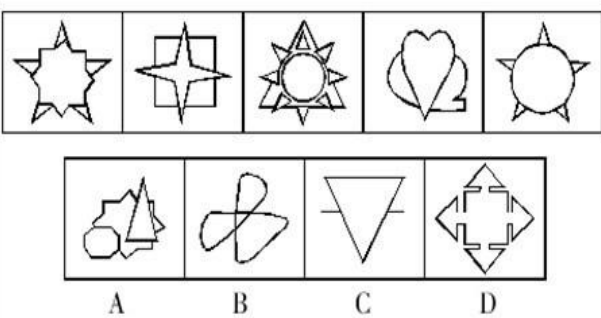
52.



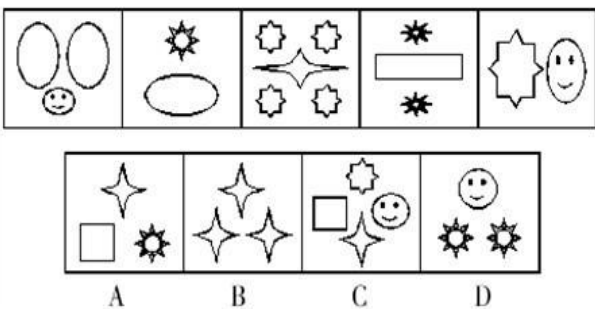
53.



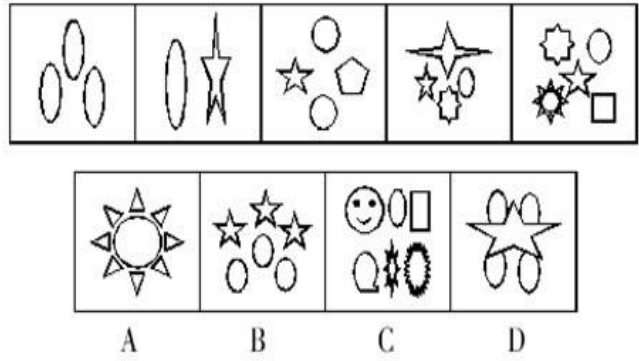
57.



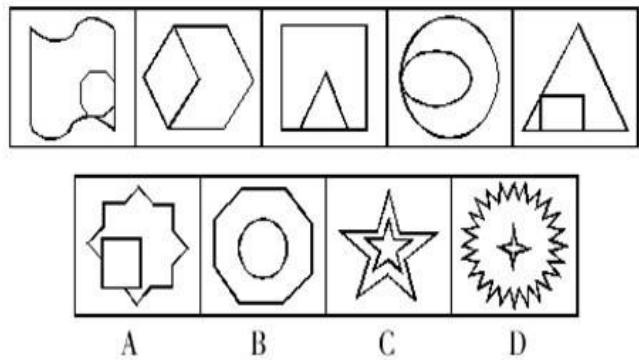
58.



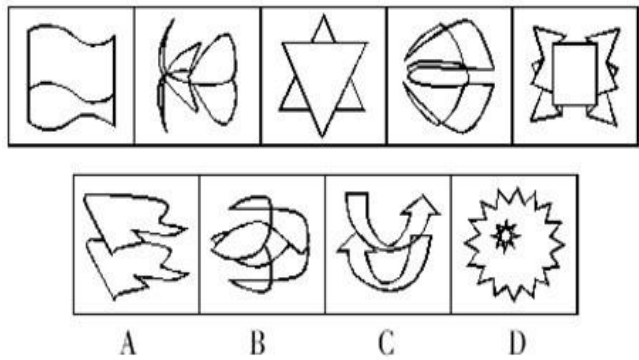
54.



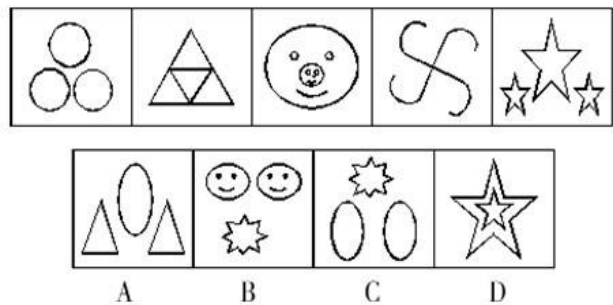
55.



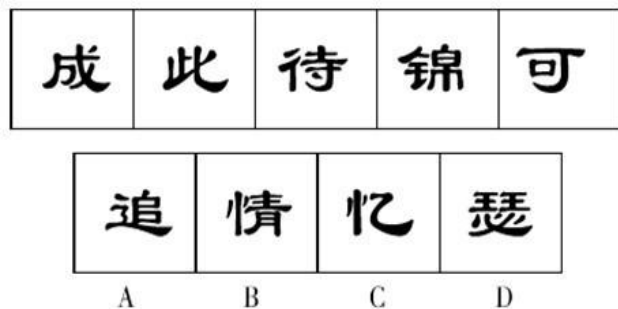
56.



59.



60.



二、定义判断。每道题先给出一个概念的定义，然后分别列出四种情况，要求你严格依据定义，从中选出一个最符合或最不符合该定义的答案。注意：假设这个定义是正确的，不容置疑的。

61. 社会公共利益：指全体社会成员都可以直接享受的利益。下列不属于维护社会公共利益的是：

A. 某市为了创造良好的投资环境，决定投巨资修建一条省际高速公路和一座长江大桥，前期的拆迁安置工作已经做好

B. 某地方政府将原来旧有居民的土地转让给开发商，开发商在这块地上开发出高级住宅出售

C. 有关部门提出：北京“秀水市场”存在重大安全隐患，不利于城市的发展，有碍城市景观，为了保障人民安全和财产安全，必须实行“撤市”

D. 某渡口由于风浪大且年久失修，已存在很大的安全隐患，一农民企业家知道后捐资 10 万元重新修建好了该渡口

62. 自我效能：指人们对自己产生特定水准的，能够影响自己生活事件的行为之能力的信念。下列与自我效能无关的是：

A. 公司领导严格要求小董每天接好电话，尊敬客户，工作期间不能玩电脑游戏

B. 小常这个人总是把困难的任务当作有待征服的挑战而非需要回避的威胁，还常常为自己设立挑战性的目标，并保持对目标的承诺

C. 小蔡在大家心目中的形象是：喜欢将失败归因为不够努力或缺少可以获得的知识及技能

D. 兴隆实业有限公司的小郭常念念不忘自己的缺陷、将遇到的障碍和种种不利的结果，却不会仔细考虑如何去成功地行动

63. 通感：指文学艺术创作和鉴赏中各种感觉器官间的相互沟通。下列不属于通感的是：

A. 路面的柏油在日光中黑亮亮有一股焦黄色的糊味，汽油的气息浅红地在街上飘散着

B. 时间黑乎乎又粘又稠，流不开，转不动，寒寒冷冷地浸泡着暖日下的三姓村

C. 在这一根火柴落地，世界就轰的一声着火的日子里，麦子噼噼啪啪的熟了

D. 我仿佛看到雨水流进地里，流进果园里，流进人们的心窝里

64. 交通肇事罪：指违反交通管理法规，因而发生重大事故，致人重伤、死亡或者使公私财产遭受重大损失的行为。下列不能定为交通肇事罪的是：

A. 一天，在浙江省某市的陈某正驾驶桑塔纳轿车行驶在返回老家路上，路况很好，车辆也不多，当车来到某酒店路口时，迎面撞上二轮摩托车，造成 1 死 2 伤

B. 某日夜晚，曾某开着卡车往市区运送蔬菜，后返回郊区。途经一三岔路口时，由于喝了点白酒，加之连夜开车睡眠不足，不慎将路边一骑自行车的人撞成重伤

C. 某汽车出租公司小丁驾驶一辆载有 3 名乘客的红色桑塔纳轿车超速行驶到一十字路口，不料一行人横穿马路，小丁紧急刹车，3 名乘客前仰后翻，事后 3 乘客拒交乘车费

D. 某日，丹东某分公司司机驾驶“金刚石”牌大客车载客 31 人由沈阳开往宽甸满族自治县，由于弯路超速行驶，致使车辆横向冲向公路左侧桥下，造成车内乘客 18 人死亡

65. 国家定价：指政府物价部门、业务主管部门按国家规定权限制定的商品价格和收费标准。下列不属于国家定价的是：

A. 某著名商场新进了一批高档羊绒衫，为了商场的信誉，老总决定新品上市的前三天，让利销售，每件打七折

B. 某市教育局在 2005 年春季开学前夕，下发了有关新学期各类学校学杂费收费标准的通知，并要求学校张榜公布

C. 春节前夕，为了维护广大市民的利益，稳定节日市场秩序，市物价局部门核定公布了禽蛋、蔬菜、水产



类等部分商品的最高限价

D. 南京市对公交车的收费标准明确为：普通无人售票车每乘一次 1 元，空调无人售票车每乘一次 2 元，持公交卡乘车者打八折。

66. 定义：

①反应：有机体受到体内或体外的刺激而引起的相应的活动。

②反映：有机体接受和回答客观事物影响的活动过程。

③反响：回响，例如：此事登报后在社会上引起强烈反响。

典型例证：

(1) 孕妇呕吐 (2) 向日葵向阳 (3) 余味无穷上述典型例证与定义存在对应关系的数目有：

A. 0 个      B. 1 个      C. 2 个      D. 3 个

67. 定义：

①才略：政治或军事上的才能和智谋。②才艺：才能和技艺。③才思：写作诗文的能力。

例证：

(1) 诸葛亮草船借箭 (2) 扁鹊妙手回春 (3) 曹植七步作诗上述典型例证与定义存在对应关系的数目有：

A. 0 个      B. 1 个      C. 2 个      D. 3 个

68. 逃税：指理性纳税人通过采取违反税法的行为不报或进行虚假申报以便不缴或少缴应纳税款的行为。下列不属于逃税行为的是：

A. 汪某开了一家水果超市，地税局核定其每月交 600 元税款，每当税务员来收税时汪都如数缴纳，去年 11 月，汪把超市转让给朋友，12 月一税务人员来收税时被汪某拒绝

B. 某施工企业将其剩余材料销售收入、工业性作业收入、自制工程用半成品的销售收入、租赁收入、财产转让收入等不入账，形成账外资金，用于职工福利、奖励

C. 某房出租人和承租人谎称是亲戚的房借住，私自进行交易，实际月租金是 1800 元

D. 将工程结算收入或工程差价收入，合同外工程变更收入，挂其他应付款，少计应税所得

69. 农业资源：指可供农业利用的一切物质与能量的总称。下列不属于农业资源的是：

A. 重庆市植物资源有 4000 多种，其中有维管植物 2000 多种，自然植被有阔叶林、针叶林、竹林、灌丛、稀树草丛等五种主要植被类型，其中亚热带绿阔叶林是主要植被类型

B. 烟叶是河南省仅次于棉花的第二大类经济作物，总产量一直居全国首位，是全国规模最大的烟叶生产基地

C. 杭州市西湖区著名的特色产品有西湖龙井茶、九曲红梅、西湖莼菜三大传统拳头产品

D. 广西柳州利用地方资源优势发展起日用化工、造纸、制糖、卷烟、纺织、制药等产业以及建材、化工、电工设备制造一批基础产业

70. 执行回转：指执行完毕后，因据以执行的法律文书被撤消，执行人员采取措施，将被执行人的财产恢复到执行前的状况。下列属于执行回转的是：

A. 人民法院制作的先予执行的裁定，在执行完毕后，被本院的生效判决或者二审法院的终审判决所撤消，因先予执行而取得财物的一方当事人应将执行所得返还给对方当事人

B. 作为一方当事人的法人或者其他组织终止，尚未确定权利义务承受人

C. 执行的标的物是其他法院或仲裁机构正在审理的案件争议标的物，需要等待该案件审理完毕确定权属

D. 作为被执行人的公民因生活困难无力偿还借款，无收入来源，又丧失劳动能力

三、类比推理。先给出一对相关的词，要求你在备选答案中找出与之在逻辑关系上最为贴近或相似的词。

(一) 单选题：

71. 马克思：唯物史观

- A. 新民主主义理论：毛泽东    B. 列宁：武装斗争    C. 邓小平：改革开放理论    D. 恩格斯：科学哲学

72. 日本：东京

- A. 纽约：美国    B. 伦敦：英国    C. 朝鲜：汉城    D. 德国：柏林

73. 蜡烛：教师

- A. 明月：思念    B. 桃李：学生    C. 长寿：松柏    D. 高尚：巍峨

74. 李香君：桃花扇

- A. 蒲松龄：聊斋志异    B. 石头记：红楼梦    C. 秦始皇：后汉书    D. 杨玉环：长生殿

75. 打印机：墨盒

- A. 电脑：手指    B. 电筒：电池    C. 纸张：木材    D. 大厦：电梯

（二）多选题：（少选、多选、错选均不得分）

76. 金屋藏娇：刘彻

- A. 鞠躬尽瘁：诸葛亮    B. 举案齐眉：司马相如    C. 世外桃源：陶渊明    D. 四面楚歌：项羽

77. 黄山：安徽

- A. 武夷山：湖南    B. 九寨沟：四川    C. 恒山：陕西    D. 武当山：湖北

78. 大漠孤烟直：长河落日圆

- A. 天意怜幽草：人间重晚晴    B. 百年歌自苦：未见有知音  
C. 早知潮有信：嫁与弄潮儿    D. 行到水穷处：坐看云起时

79. 集萤映雪：凿壁借光

- A. 离群索居：劳燕分飞    B. 分道扬镳：远走高飞    C. 披星戴月：早出晚归    D. 破釜沉舟：背水一战

80. 钢笔：墨水

- A. 课桌：书本    B. 打印机：打印纸    C. 电灯：电线    D. 灭火器：干粉

81. 长江：河流

- A. 沙漠：骆驼    B. 南京：省会城市    C. 树干：树    D. 橘子：水果

82. 投掷：长矛

- A. 射击：手枪    B. 足球：绿茵场    C. 永恒：爱情    D. 拍照：照相机

83. 童话：儿童

- A. 廉洁：官员    B. 制服：职员    C. 球衣：球员    D. 嫁妆：新娘

84. 烤箱：面包

- A. 邮箱：邮件    B. 桌子：游戏    C. 山脉：山    D. 窑：陶瓷

85. 人脑：电脑

- A. 书桌：圆桌    B. 眼睛：望远镜    C. 嘴巴：扩音器    D. 白马：黑马

**四、演绎推理。每题给出一段陈述，这段陈述被假设是正确的，不容置疑的。要求你根据这段陈述，选择一个答案。注意，正确的答案应与所给出的陈述相符合，不需要任何附加说明即可以从陈述中直接推出。**

86. 在一次古画鉴定会上，关于作品 008 号，仅仅从技术上进行分析的话，有如下结论：该作品如果是唐代或者是五代时期的，那么它不是后唐和后周的作品。经过专家进一步鉴定得知：它不是唐代作品。由此可见：

- A. 它不是五代时期的作品    B. 它是五代时期的作品    C. 它是后唐时期的作品    D. 它可能是后周时期的作品

87. 在心泉乡发展研讨会上，王书记认为：“或者发展养蚕业，或者发展畜牧业。”周乡长认为：“心泉乡人多地少，应加强劳动力培训，大力开发对外劳务输出。”李书记认为：“只有发展特殊作物种植，才是山乡

心泉的唯一出路。”张乡长认为：“充分发挥心泉优势，发展旅游业，别无选择。”经过专家论证，上述四位的意见有两位被认为是可行的，那么意见可行的两位是：

- A. 王书记和周乡长      B. 王书记和李书记      C. 李书记和周乡长      D. 李书记和张乡长

88. 调查的结果显示：有相当一部分少数民族干部具有高级技术职称，一部分年轻人有追星倾向，有高级技术职称的人当中存在追星族，追星族中女性占了相当的比例。由此可见：

- A. 少数民族干部中有女性      B. 追星族中有人具有高级技术职称  
C. 有高级技术职称的人中有相当一部分是女性      D. 追星族中有少数民族干部

89. 《冷山》、《海底总动员》和《十面埋伏》不可能都获得奥斯卡奖。由此可见：

- A. 如果《冷山》得奖，那么《十面埋伏》就没有得奖  
B. 如果《海底总动员》和《十面埋伏》没有得奖，那么《冷山》就得奖  
C. 如果《冷山》没得奖，那么《海底总动员》、《十面埋伏》至少有一个得奖  
D. 如果《冷山》、《十面埋伏》得奖，那么《海底总动员》就没得奖

90. 法学院的女生比男生多，在 04 年下学期的数学期末考试中，法学院不及格的学生超过了一半。

由此可见：

- A. 女生不及格的比男生不及格的多      B. 女生不及格的比男生及格的多  
C. 女生及格的比男生不及格的多      D. 女生及格的比男生及格的多

五、事件排序。每道题给出 5 个事件。每个事件都是以简短语句表述的，接着给出表示事件的四种假定发生顺序的四个数字排列，请你选出其中最合乎逻辑的一种事件排序。

91. (1) 从门缝发现有陌生人影晃动 (2) 配合警察捉拿小偷 (3) 报警 (4) 深夜听得隔壁有激烈响动 (5) 110 赶到

- A. 4-1-3-2-5      B. 1-2-3-5-4      C. 3-1-4-2-5      D. 4-1-3-5-2

92. (1) 建立城市交通控制系统 (2) 人们生活水平逐步提高 (3) 私家车越来越多 (4) 经济高速发展 (5) 城市交通出现堵塞

- A. 4-2-3-5-1      B. 4-5-3-2-1      C. 2-1-4-3-5      D. 1-3-4-2-5

93. (1) 智 (2) 信 (3) 仁 (4) 义 (5) 礼

- A. 2-1-3-4-5      B. 1-2-3-5-4      C. 3-4-5-1-2      D. 2-3-4-1-5

94. (1) 清洗 (2) 烹制 (3) 购买青菜 (4) 腌制 (5) 去除枯叶

- A. 2-1-3-4-5      B. 3-5-1-4-2      C. 3-1-4-2-5      D. 2-1-4-3-5

95. (1) 文景之治 (2) 光武中兴 (3) 贞观之治 (4) 开元盛世 (5) 乾隆盛世

- A. 2-1-3-4-5      B. 1-2-3-4-5      C. 3-1-4-2-5      D. 2-1-4-3-5

#### 第四部分 常识判断

(共 10 题，参考时限 5 分钟)

根据题目要求，在四选项中选出一个正确答案。

96. 2008 年，我国隆重纪念改革开放 ( ) 周年。改革开放是决定当代中国革命的关键抉择，使社会主义中

国的面貌发生了历史性变化。

- A. 20      B. 25      C. 30      D. 35

97. 2008年9月1日，中国实现了（ ）义务教育（ ）免除学杂费。

- A. 城乡 全部      B. 城乡 部分      C. 城市 部分      D. 城市 全部

98. 国务院办公厅2009年2月15日发出通知，要求各地区、各有关部门要把（ ）就业摆在当前就业工作的首位。

- A. 高校毕业生      B. 农民工      C. 下岗人员      D. 回国人员

99. 2009年（ ），纪念四川汶川特大地震1周年活动在震中汶川县映秀镇举行。

- A. 5月18日      B. 5月10日      C. 5月15日      D. 5月12日

100. 2009年5月25日，（ ）无视国际社会普遍反对，再次进行地下核实验。

- A. 利比亚      B. 伊拉克      C. 伊朗      D. 朝鲜

101. 下列事件中，属于科学革命的是（ ）。

- A. 阿基米德发现浮力定律      B. 伽利略发明望远镜      C. 爱因斯坦提出相对论      D. 祖冲之计算圆周率

102. 自然科学具有非阶级性的特点是因为（ ）。

- A. 自然科学具有定量和数学化特征      B. 自然科学应用实验方法  
C. 自然科学以自然界为研究对象      D. 自然科学需经实践检验

103. 将台湾和澎湖列岛割让给日本的条约是（ ）。

- A. 南京条约      B. 马关条约      C. 黄埔条约      D. 辛丑条约

104. 解放战争时期，三大战役中，最先打响的是（ ）。

- A. 平津战役      B. 淮海战役      C. 济南战役      D. 辽沈战役

105. 下列关于第二次世界大战的论述中，错误的是（ ）。

- A. 给世界各国人民带来了巨大的灾难      B. 削弱了帝国主义体系  
C. 壮大了社会主义力量      D. 和第一次世界大战一样，它是一场非正义的战争

## 第五部分 资料分析

（共15题，参考时限20分钟）

所给出的图、表或一段文字均有5个问题要你回答。你应根据资料所提供的信息进行分析、比较、计算和判断处理。

### 一、根据所给文字资料回答106-110题。

全国工商联公布了《2003年中国民营经济发展形势分析》白皮书，纳入此分析的民企入围标准定为年营业收入总额1.2亿元以上，结果共有1582家入围，入围家数排在前三位的省份依次是：浙江（556家，占35.15%），江苏（246家，占15.55%），山东（145家，占9.17%），这与2001年的排序完全相同。在直辖市当中，上海入围企业数最多（106家，占6.70%），江苏连续5年在数目规模上不敌浙江。

江苏不仅数目没有浙江多，营业收入总额也落后，营业收入总额排在前5位的省市依次为：浙江（2510.07亿元，占36%）、江苏（1173.49亿元，占17%）、上海（485.67亿元，占7%）、北京（409.5亿元，占6%）

和山东(404.47亿元，占6%)，五省市共占约72%。资产总额排在前3位的省市依次为：浙江(1873.77亿元，占29%)、江苏(753.41亿元，占12%)、上海(467.78亿元，占7%)。

在企业经营效益方面，上海的优势最为明显，民企人均净利润连续两年排名第一，从11.70万元又进一步升至13.88万元(增幅19%)。浙江企业也表现出稳定增长的势头，由2.46万元上升至3.08万元(增幅25%)，江苏和山东企业的人均净利润则较上年有较大幅度下跌，其中江苏由4.58万元降至2.72万元(降幅达40%)，山东由2.42万元降至1.59万元(降幅34%)，江苏的民企在规模和效益上，都只能当老二。

106. 纳入分析的民营企业中，营业收入总额排第二位的省市是：

- A. 山东      B. 江苏      C. 上海      D. 浙江

107. 纳入分析的民营企业中，江苏、浙江两省的家数占：

- A. 5成以上      B. 5成      C. 不足4成      D. 4成多不足5成

108. 浙江、江苏、上海的2003年民企资产总额之比为：

- A. 35 : 15 : 6      B. 36 : 17 : 7      C. 29 : 12 : 7      D. 31 : 27 : 139

109. 如果上海、北京纳入分析的民企2004年的营业收入总额分别以10%、20%的速度增长，那么这些民企2004年的营业收入总额：

- A. 上海与北京相等      B. 上海大于北京      C. 上海小于北京      D. 不确定

110. 据上述分析，下列说法不正确的是：

- A. 全国民营企业大比拼，苏企规模逊浙江一筹      B. 上海的民营企业效益第一  
C. 北京营业收入总额达到1.2亿的民营企业数量全国排名第五  
D. 苏浙沪合计，年营业收入总额达1.2亿元民上的民企的数量和营业收入总额都超过了全国的50%

二、根据下表完成111-115题。

全国普通高等教育分科在校学生数

(单位:人)

项目	2002年			2003年		
	合计	本科	专科	合计	本科	专科
合计	9033631	5270845	3762786	11085642	6292089	4793553
哲学	6637	5624	1013	5974	5558	416
经济学	466433	284348	182085	604135	360683	243452
法学	474846	264039	210807	560916	313131	247785
教育学	470293	183528	286765	592123	223837	368286
文学	1368278	746090	622188	1719230	950274	768956
历史学	55565	40333	15232	56673	42543	14130
理学	852238	600480	251758	1004506	723579	280927
工学	3084999	1886996	1198003	3693401	2156584	1536817
农学	216040	140868	75172	249671	151756	97915
医学	656560	424401	232159	814741	496136	318605
管理学	1381743	694138	687604	1784272	868008	916264

111. 与2002年相比，2003年全国普通高等教育在校学生数有所下降的学科是：

- A. 历史学      B. 农学      C. 哲学      D. 工学

112. 2003年，经济学、管理学在校学生数合计占全国普通高等教育在校学生数的百分之几？

- A. 18.33      B. 19.21      C. 19.98      D. 21.55

113. 2002、2003年平均全国普通高等教育在校学生中本科与专科之比大约为：

- A. 4 : 3      B. 3 : 2      C. 5 : 4      D. 6 : 5

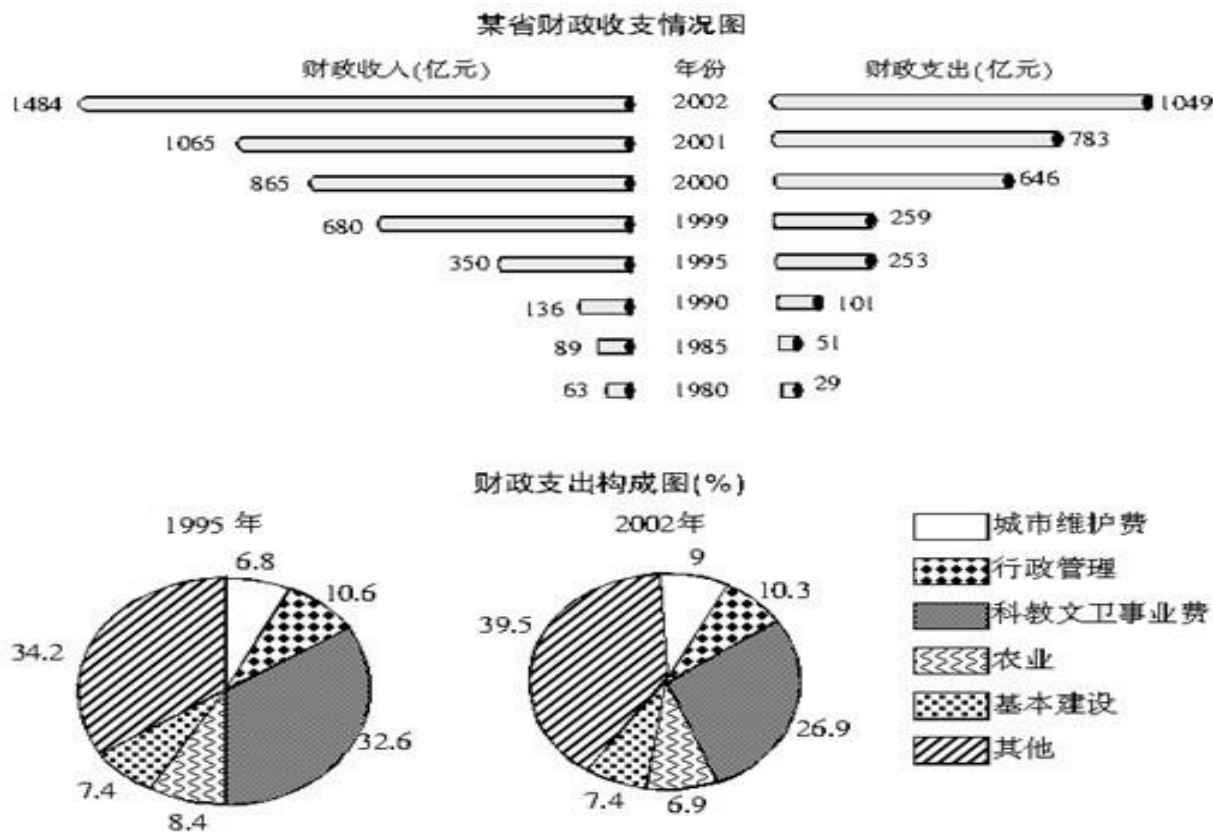
114. 2003 年全国普通高等教育在校学生中工学学生数量比 2002 年增加了百分之几？

- A. 18.78      B. 19.72      C. 19.98      D. 20.32

115. 2003 年，全国普通高等教育在校学生数量最多的学科的本科在校学生数量是多少人？

- A. 2156584      B. 3693401      C. 1536817      D. 1886996

三、请根据下图所提供的信息完成 116-120 题。



116. 2002 年某省用于城市维护的财政支出金额比 1995 年增加了百分之几？

- A. 2.2      B. 448.77      C. 2.6      D. 432.16

117. 与 1995 年相比，在 2002 年的财政支出构成中，农业、城市维护费、基本建设、行政管理所占的比重之和：

- A. 略有上升      B. 上升了 4 个百分点      C. 略有下降      D. 下降了 4 个百分点

118. 财政支出与财政收入之比最小的是哪一年？

- A. 1980      B. 1985      C. 1999      D. 2002

119. 财政收入年（或年平均）增长率最小的时期是：

- A. 1981-1985      B. 1986-1990      C. 1996-1999      D. 2001

120. 2002 年某省用于农业的财政支出占当年财政收入的百分比是：

- A. 6.9%      B. 6.11%      C. 5.52%      D. 4.88%

答案

1. A      2. C      3. A      4. A      5. A      6. D      7. A      8. B      9. A10. C      11. C
12. A      13. B      14. B      15. C      16. A
17. D      18. C      19. C      20. A      21. A      22. B      23. C      24. A25. D
26. B      27. B      28. A      29. D      30. B      31. D      32. B33. C      34. C
35. D      36. A      37. D      38. B      39. B      40. B41. D      42. C      43. B
44. D      45. C      46. A      47. C      48. A49. A      50. B      51. A      52. A
53. A      54. C      55. A      56. B57. C      58. D      59. D      60. C      61.
- B      62. A      63. D      64. C65. A      66. C      67. D      68. A      69. D      70.
- A      71. C      72. D73. B      74. D      75. B      76. ACD      77. BD      78. AD
79. CD      80. BD      81. BD      82. AD      83. BCD      84. AD      85. BC      86. D
87. A      88. B      89. D      90. B      91. D      92. A      93. C      94. B95. B
96. C      97. A      98. A      99. D      100. D      101. C      102. C103. B      104. D
105. D      106. B      107. A      108. C      109. B110. C      111. C      112. D
113. A      114. B      115. A      116. B117. A      118. C      119. A      120. D