

2009年1031河南公务员考试《行测》真题

来源：H 整理：杨柳（微信：gwy288）

第一部分 常识判断

- 1、全国人大代表根据（ ）组成代表团。
A、民族 B、职业 C、选举单位 D、地域
- 2、供电合同中，供电方的义务没有：
A、赔偿因断电造成的损失 B、中断供电事先通知 C、安全供电 D、对事故断电的抢修
- 3、解决我国水资源季节变化大的措施是：
A、防止水污染 B、兴建水库 C、跨流域调水 D、节约用水
- 4、公安机关是国务院和地方各级人民政府领导下的一个职能部门，是国家的：
A、权力机关 B、检察机关 C、行政机关 D、审判机关
- 5、有些垃圾可以用卫生填埋、焚烧、高温堆肥等方法处理。下列垃圾中，不适合用这样的方法处理的是：
A、农作物垃圾 B、锂电池 C、广告用纸 D、棉纺织品
- 6、要洗掉茶壶中的水垢，可选用的试剂是：
A、食盐水 B、小苏打溶液 C、醋酸 D、烧碱
- 7、被毒蛇咬以后，不可采取的措施是：
A、立即喝酒解毒 B、用清水冲洗伤口或灼烧伤口，除去伤口毒液
C、放低上肢，用布条在咬伤处近心端5公分处扎紧 D、将伤口割开，放出有毒的血液
- 8、若出现（ ）现象时，应首先考虑计算机是否感染了病毒。
A、不能读取光盘 B、程序运行速度明显变慢 C、启动时报告硬件问题 D、软盘插不进驱动器
- 9、城市铁路桥的铁道两边往往留有一定宽度，足够一个人行走。但是铁路桥是严禁行人通行的。禁止行人通行的主要原因是：
A、担心行人被高速行进中的火车上的突出物刮到
B、由于铁路桥的护栏间隙较大，行人容易从护栏间隙中坠落
C、高速行驶的火车扰动空气，气流改变造成向内的吸力，有将附近物体卷入的危险
D、高速行驶的火车扰动空气，气流改变造成向外的推力，有将附近物体推下桥的危险
- 10、关于管理幅度、管理层次与组织规模三者的关系，表述正确的是：
A、管理幅度既定，管理层次与组织规模成反比 B、管理幅度既定，管理层次与组织规模成正比
C、组织规模既定，管理层次与管理幅度成正比 D、管理层次既定，管理幅度与组织规模成反比
- 11、甲乙是一对恋人，在互换照片之后，终止了恋爱关系，甲向乙索要自己的照片，乙十分不满，就用笔在甲的照片上乱画一番，然后还给甲，乙的行为侵犯了甲的：
A、姓名权 B、肖像权 C、名誉权 D、荣誉权
- 12、四书不包括：
A、《论语》 B、《孟子》 C、《楚辞》 D、《中庸》
- 13、我国《刑法》规定的完全不负刑事责任的年龄为不满：
A、14周岁 B、16周岁 C、18周岁 D、12周岁
- 14、我国法的制定的基本原则之一是：
A、以事实为根据 B、公民在法律面前人人平等
C、灵活性与原则性相结合 D、领导与群众相结合
- 15、当事人订立合同，应当具有：
A、民事权利能力 B、民事行为能力
C、民事权利能力和民事行为能力 D、相应的民事权利能力和民事行为能力
- 16、“不以物喜，不以己悲”告诉我们：
A、不能因为自己的成功或失败而或喜或悲 B、不能因为环境的好坏和自己的得失而或喜或悲
C、不能因为自己的物质条件好坏而或喜或悲 D、不能因为自己强于或不如别人而或喜或悲
- 17、用橡皮擦可以去掉铅笔字迹，原因是：
A、橡皮可以吸附石墨 B、橡皮可以溶解石墨 C、橡皮与石墨相互排斥 D、橡皮刮破纸张的表面

18、与私人产品相比，公共产品的核心特征是：

A、强制性 B、无偿性 C、非排他性 D、排他性

19、2008年8月8日奥运会圣火在国家体育馆“鸟巢”点燃，请问，奥运会圣火来源于：

A、东方文明的发源地埃及 B、西方文明的发源地希腊
C、西方文明的发源地罗马 D、东方文明的发源地印度

20、行政制裁，是指国家行政机关对行政违法者依其行政责任所实施的强制性处罚措施。行政制裁不包括：

A、行政处罚 B、行政处理 C、行政处分 D、劳动教养

21、心脏位于人体胸腔的两肺之间偏左的位置，形状像桃子，大小：

A、与自己拳头一般大小 B、与自己肝脏一般大小
C、与自己肾脏一般大小 D、无一定大小

22、科学发展观的基本内容是：

A、物质文明、精神文明和政治文明建设的统一 B、经济社会进步与环境保护的协调发展
C、经济社会发展与人的全面发展的统一 D、全面协调可持续发展

23、历史课上，李老师让同学们收集有关日本偷袭珍珠港、斯大林格勒、《联合国宣言》的资料作为下堂活动课的讨论主题，该活动课的主题应该是：

A、第一次世界大战 B、第二次世界大战 C、中东战争 D、拉丁美洲独立运动

24、甲于夜晚在一条封闭的高速公路上正常驾驶时，乙翻越护栏横穿公路，被甲撞死，交警认定甲的行为不构成交通肇事罪，下列说法中，不应作为交警认定依据的是：

A、甲的行为和乙的死亡之间不存在因果关系 B、甲的行为没有违反交通法规，缺乏交通肇事的客观要件
C、本案属于意外事件 D、甲对乙的死亡没有罪过

25、解决中国农村剩余劳动力问题，最主要的途径是：

A、向城市转移一部分农村剩余劳动力
B、走农业集约化道路，多吸纳一部分农村劳动力，减少农业剩余劳动力的数量
C、通过发展乡镇企业吸收农村剩余劳动力
D、通过增加耕地数量安置农村劳动力

第二部分 言语理解与表达

26、在东京举行的2007年国际机器人展览上，日本最大的机器人制造商安川公司开发的机器人_____超群，具有击鼓的技能。

填入划横线部分最恰当的一项是：

A、本事 B、本领 C、技巧 D、技能

27、和我关系要好的同学很不平，执意拉着我去_____那位说我考试作弊的主考老师。

填入划横线部分最恰当的一项是：

A、问讯 B、讯问 C、诘责 D、询问

28、在法制社会中，想问题、办事情都应该以法律为_____，不能随心所欲。

填入画横线处最恰当的一项是：

A、标的 B、准则 C、准绳 D、标准

29、北京的圆明园，自康熙四十八年起，先后_____了一百五十多年，荟萃了中外胜景，被誉为“万园之园”。

填入划横线部分最恰当的一项是：

A、营造 B、建造 C、建筑 D、建设

30、他_____在色彩与线条的世界中，一个星期没有离开过设计室，终于出色地完成了任务。

填入划横线部分最恰当的一项是：

A、沉溺 B、沉沦 C、沉陷 D、沉浸

31、我们也要有清醒的认识，防止不法分子利用互联网等宣传手段_____群众舆论。

填入划横线部分最恰当的一项是：

A、把持 B、控制 C、掌握 D、操纵

32、立春过后，大地渐渐从沉睡中苏醒过来。冰雪融化，草木萌发，各种花_____开放。再过两个月，燕子_____归来。

填入划横线部分最恰当的一项是：

A、次第 翩然 B、依次 悄悄 C、相继 悄然 D、竞相 姗姗

33、网络并不是文学经典遭遇尴尬的_____，但网络_____的癖性，确实将文学经典本来就脆弱的存在又推入到了一个更加感伤的历史时空。

填入划横线部分最恰当的一项是：

A、元凶巨恶 首当其冲 B、罪魁祸首 无懈可击 C、元凶巨恶 钻头觅缝 D、罪魁祸首 无孔不入

34、目前，中国政府发展面临着双重压力：_____深化改革，从“放权让利”转向注重“产权”与“制度”；_____实现政府自身变革。

填入划横线部分最恰当的一项是：

A、先要 要 B、既要 又要 C、除了要 还要 D、一边要 另一边要

35、生命是一场充满意外收获的伟大_____，看上去难以掌握，其实_____无处不在。

填入划横线部分最恰当的一项是：

A、冒险 机遇 B、历程 惊险 C、历险 机会 D、奇迹 刺激

36、下列各句句意明确、无语病的一句是：

- A、本台今天中午将播出国家安全生产委员会主任就安全生产问题的电视讲话。
- B、他的父母都是中学教员，他妈妈就在他的母校西乡一中任教。这次千里迢迢作为校方代表也赶来北京了。
- C、这本杂志的对象主要是面向语文教师及其他语文工作者。
- D、顺着笛声看去，只见一个青年坐在湖边吹笛，这笛声吹得是那么哀怨、凄楚。

37、下面句子中，没有错误的一句是：

- A、一个天使般的微笑若能化解一个人多年的苦闷，就应该是无价的，也应该是摆脱困境的有效方法之一。
- B、葵花子、西瓜子和小核桃等炒货，都是小孩子们深受喜爱的食品。
- C、地铁紧张施工时，隧道突然发生塌方，工段长奋不顾身，用身体掩护工友的安全，自己却负了重伤。
- D、各级财政部门要提高科学管理水平，特别是对农村基础设施建设经费的管理上，要做到心中有数，全盘考虑，周密安排。

38、下面句子中，没有错误的一句是：

- A、经过认真研究，教练组认为，迎战这样的对手，“紧逼”莫若“联防”好。
- B、建国后，大批留学生专家回国，从而开展了国际前沿的研究项目。
- C、尽管我们前进的道路上还有困难，但黑暗已经过去，毕竟黎明就在前面。
- D、且不说距离发达国家还有一段路要走，何况达到标准以后我们仍有许多问题需要解决。

39、下面句子中，没有错误的一句是：

- A、问题很复杂，你不了解一下就大发议论，不免太主观了。
- B、这家企业改革的任务，不止是减员，更重要的是增效。
- C、不用说发奖金了，单是基本工资就保证不了。
- D、我这里有两间闲房，你们尚且在这里住着。

40、下列各句中错误的一句是：

- A、这是我和家人分开之后，第一次感受到孤寂的滋味。
- B、看着健壮如昔的胞叔和穿着棉制服的妹妹们，我好像走入了梦境。
- C、现在我们来考察人的肉体以及表现肉体的艺术，研究一下哪些是有益肉体特征。
- D、四川确实山清水秀，土家族的民俗风情，使我置身画卷之中，心旷神怡。

41、下列各句中错误的一句是：

- A、中国传统文人究竟有哪些共通的精神素质和心理习惯，这个问题现在已有不少海外学者在悉心研究。
- B、2008年7月20日，胡锦涛主席与前俄罗斯总统普京在人民大会堂进行了会面。
- C、在富丽的大观园中筑一个稻香村未免失之矫揉，农舍野趣只在最平易的乡村里。
- D、近年来，我们搬了好几次家，每次搬的时候都引来许多围观的人。

42、下列句子中有错误的一句是：

- A、他的抓举成绩可以提高到180-190公斤，成为一流的世界选手。
- B、固体在液体里是沉还是浮，决定于浮力比固体重量的小还是大。
- C、上网的诱惑令现代人无法拒绝，但是昂贵的网上消费又使网迷们心痛不已。
- D、鉴于她的优异成绩，毕业后水妹子留校成了该校生物系最年轻的教师。

43、下列各句中没有歧义的一句是：

- A、热爱人民的领袖。 B、连我都不怕，你还怕他。
C、那束花散发出一种轻微的香味。 D、你是属狗的。

44、下列各句中，表达没有歧义的一句是：

- A、她还欠款 1000 元。
B、执着的危险是对人生持有的态度。
C、县里通知他 10 月 5 日前去报到。
D、只要你单位同意，报销差旅费，安排住处，领取大会出席证问题可由我们解决。

45、下列各句中，表达有歧义的一句是：

- A、你为什么打他。 B、小马一天只抽一盒香烟。
C、真正的学者往往拥有一颗忧国忧民的心。 D、构建主义是认知主义的进一步发展。

46、很久以前，一位挪威的青年男子漂洋过海到法国，他要报考巴黎音乐学院。考试的时候，尽管他竭力将自己的水平发挥到最佳状态，但还是未被录取。

作者接下来可能介绍的是：

- A、考试的详情 B、未被录取的原因
C、巴黎音乐学院的历史 D、考试后的遭遇

47、性格内向从本质上说是一种个性特征。它与害羞和具有孤僻的性格特征不同，与疾病无关。它也不是你能改变的事物。

作者接下来最可能主要介绍的是：

- A、性格外向的本质 B、如何改变性格内向
C、性格内向的危害 D、性格内向的特征

48、王尔德说，过去书是由文人来写，大众阅读，现在书由大众来写，无人阅读，这话在今天还能让人点头称是。虽然王尔德以后，一个多世纪之中人类世界又产生了无数的畅销书，_____，但我们都心知肚明，王尔德此处的“阅读”，可不是茶余饭后，娱乐至死的意思，反而有点像中国人说的“皓首穷经”，至少也要先有个开卷获益的资格。

填入横线上最恰当的是：

- A、有无数畅销书作家冉冉升起 B、又产生了无数的畅销书作家
C、有无数年轻作家冉冉升起 D、又产生了无数的年轻作家

49、人的爱心是从小开始培育的。对母亲的爱，对母亲的孝敬，对母亲的感恩，也当从小开始。然而，我们刚好忽视了从小开始的培育。无论幼儿园、还是小学，我们少不了对孩子爱国家，爱集体等方面的教育，而不知什么原因独独缺少对母亲之爱的教育。我不知道，一个人连他的母亲都不懂得去爱，都不去爱，那么他怎么去爱其他的人，去爱其他。

根据文意，文中对划线句子理解最准确的是：

- A、我们应该把对母亲的爱的培养作为重要教育任务 B、对国家、对集体的爱都应该以对母亲的爱为基础
C、人的爱心包括很多方面，学校培养不能顾此失彼 D、只有懂得如何爱母亲，才能真正去爱他人和他物。

50、作为一名教师，无论你意识到没有，自己都是半个演员。有人角色感强一些，有人弱一些；有人表演能力强一些，有人弱一些。在知识、见识都差不多的情况下，教学效果的程度就体现在表演意识和表演能力的差别上了。

这段话主要支持了这样一个观点，即：

- A、教师应把课堂作为舞台，自己当成演员 B、教师的表演意识和能力影响着教学效果
C、表演能力强的教师往往有好的教学效果 D、知识、见识、表演等都是教师的必修课

51、而一个国家“软实力”的构成和积累，正是包括这种塑造其自身文化、传统、宗教内在吸引力和感化力的国家公关能力，更包括以国家主动出面来推销、强化某种价值观、生活方式、甚至是特定意识形态和政治制度的实力。冷战时期，美苏两大阵营的对峙绝非仅仅是军事和意识形态之争，更是国家政府公关层面上的较量。苏联垮台，原因既有美国“星球大战”这一战略“阳”谋之功，也有“美国之音”、“自由欧洲电台”那些伐谋攻心之力。

这段话主要阐述了一个国家“软实力”：

- A、所指代的内容 B、和“硬实力”之别
C、应发挥的作用 D、作用范围比较特殊

52、德洛尔 1967 年在《公共行政评论》杂志上发表了《政策分析家：一个政府部门中新的职业性角色》以来，

“政策分析者”一词已普遍地用以指称那些职业从事政策研究的学术家或实践者，与这一特殊角色密切相关的职业伦理也已引起了人们的广泛关注。

作者接下来很有可能介绍的是：

- A、政策分析的特点
- B、职业伦理的特点
- C、职业伦理政策分析的特殊性
- D、政策分析职业伦理的特殊性

53、独立学院的办学成本，是指学校在培训学生知识、技能、技巧以及各种综合素质过程中所发生的各种耗费。具体包括学院教职员工的工资性支出、学院各部门的行政事业经费支出、学院保证教学活动的正常进行所需要的各种业务支出、校园校舍维护修缮支出、固定资产构建与使用费等内容。对办学成本进行适当的分类，一方面可以为办学成本核算提供具体的成本核算指标要求，另一方面也为对办学成本进行全面系统的有效控制提供更为有用的信息指标体系。

作者接下来最有可能介绍的是：

- A、独立学院的特点
- B、独立学院办学成本控制的有效途径
- C、独立学院办学成本的分类
- D、独立学院办学成本怎样核算

54、决策理论强调管理就是决策是有一定的科学意义的，但它认为管理中除了决策别无它有，将决策的概念规定为管理的同一概念，从而把管理限制在一个较为狭窄的领域，就有些以偏概全了。管理的概念不仅包括决策，还包括核算、统计等基础性工作，而且低层人员中要做的更多的是“业务决策”。

这段文字主要说明了：

- A、决策理论的局限性
- B、决策理论强调决策的科学意义
- C、管理与决策的关系
- D、管理包含决策

55、用外科手术的技术处置不正常的大脑，对于医学界来说已经不是一个新鲜的课题。精神外科的本意，即是通过外科手术改变人的不正常的精神活动和行为表现。

作者接下来最有可能介绍的是：

- A、早期使用的外科手术方法是什么
- B、外科手术存在的风险性
- C、采用外科手术对不正常大脑的改变情况
- D、现代精神外科的定义

56、素质是能力发展的自然基础，但不是能力本身。素质作为先天生成的解剖生理结构，不能现成地决定能力，刚出生的婴儿没有能力。只是由于他生来具有一定的解剖生理特点，因而他具有能力发展的一般可能性。

这段文字的主旨是：

- A、素质是能力的基础
- B、素质是先天的
- C、素质与能力的关系
- D、能力是后天发展的

57、超 Y 理论认为人们是怀着不同的需要和动机加入组织，主要的需要是实现胜任。胜任感的获得受外部环境、本人的权利、自由、地位、成就、交往需要等强度的制约，当工作任务的性质与组织结构相适应时，胜任感最容易满足，工作效率高，反之就低。

与这段文字意思相符的是：

- A、人们都是怀着实现胜任感的需要加入组织的
- B、满足胜任感是促进工作效率的有效措施
- C、胜任感由外部环境、本人权利、自由、地位、成就、交往需要来决定
- D、超 Y 理论是研究工作效率的理论

58、汉代是中国历史上的重要时期。在这一时期，高度集权的“大一统”的政治体制基本形成，并且经历了多次社会动荡的历史考验而更为完备。秦文化、楚文化和齐鲁文化等有深厚历史基础的地域文化在这时实现了历史性的融合，形成了以统一的汉文化为标志的文化共同体。这一时期我们民族对于世界文明进步的贡献，有光荣的历史记录。在汉代，妇女的地位，妇女的作用，妇女的权利保障，与其他若干历史时期，特别是与一些人以为可以较典型地体现出中国传统文化特色的宋明时代，在某些方面有明显的不同。

作者接下来很有可能介绍的是：

- A、女权的历史变化特点
- B、汉代女权的特点
- C、汉代妇女的社会地位
- D、汉代妇女的物质生活情况与精神生活地位

59、肉、禽、蛋等主要副食品与米、面等粮食价格的每次上涨，都会引起社会的广泛关注。客观看，有些价格上涨是合理的，有些上涨是不合理的。对此，政府和城镇居民要理性分析，尤其要善于倾听广大农民的心声，然后予以协调和平衡，使其价格趋于合理。在当今我国城乡二元制没有打破的前提下，政府不能简单以牺牲农民利益来维护城市需要，动辄祭出“限价”的法器打压农产品价格，来维持副食品价格的表面稳定。要知道城里人的利

益需要维护，农民的利益也不能舍弃。

这段话主要支持了这样一个观点，即：

- A、肉、禽、蛋、米、面等价格波动会牵动多方利益 B、城里人的利益和农民的利益因为农产品得以衔接
C、缺乏理性分析的“限价”其实是损害农民的利益 D、舍弃农民利益而维护城里人利益实在是本末倒置

60、如果一个社会只允许有“成功/失败”的二元对立语境存在，这个社会是有问题的。事实上，本来就不应该用这种武断的二元对立模式来进行价值判断，有人愿意成功向上、出人头地，这无可厚非；但也要允许一些人发发呆、做做梦，过点没有多少追求的小日子。每个人的性格、成长经历都各自不同，不是非得每个人都得走不是成功就是失败这两条路，在这条路之间，还有N条路通向各人所理解的成功。

这段话主要支持了这样一个观点，即：

- A、每个人心中都有不同的标准，成功不能统一衡量 B、那些发呆、做梦的人永远都不可能获得成功
C、持有“成功/失败”二元观点的人是有问题的 D、判断一个人成功与否要和其性格与经历结合起来

第三部分 数量关系

61、5, 9, 14, 27, 48, 86, ()

- A、170 B、162 C、157 D、134

62、-1, 1, 7, 17, 31, (), 71

- A、41 B、37 C、49 D、50

63、16, 4, (), 4, 16, 36

- A、7 B、2 C、1 D、0

64、4, 7, 11, 17, 27, (), 79

- A、81 B、45 C、70 D、79

65、2, 2, 8, 21, 42, ()

- A、72 B、74 C、86 D、90

66、

12	6	?
6	8	20
14	12	40

- A、6 B、10 C、20 D、30

67、

30	5	6
48	?	12
72	3	24

- A、4 B、2 C、8 D、12

68、

7	?	20
6	22	30
17	21	40

- A、10 B、11 C、13 D、27

1	2	3
6	11	20
37	68	?

- 69、
A、76 B、96 C、121 D、125

6	5	4
6	12	12
6	?	8

- 70、
A、6 B、7 C、8 D、10

71、在一次救灾扶贫中，给贫困户发米粮，如果每个家庭发 50 公斤，多 230 公斤。如果每个家庭发 60 公斤，则少 50 公斤。问这批粮食共（ ）公斤。

- A、1780 B、1630 C、1730 D、1550

72、三种动物赛跑，已知狐狸的速度是兔子的 $\frac{2}{3}$ ，兔子的速度是松鼠的 2 倍，一分钟松鼠比狐狸少跑 14 米，那么半分钟兔子比狐狸多跑（ ）米。

- A、28 B、14 C、19 D、7

73、三名工人师傅李群、张强和王充分别加工 200 个零件，他们同时开始工作，当李群加工 200 个零件的任务全部完成时，张强才加工了 160 个，王充还有 48 个没有加工。当张强加工 200 个零件的任务全部完成时，王充还有（ ）个零件没有加工。

- A、15 B、25 C、9 D、10

74、大盒放有若干支同样的钢笔，小盒放有若干支同样的圆珠笔，两盒笔的总价相等。如果从大盒取出 8 支钢笔放入小盒，从小盒取出 10 只圆珠笔放入大盒，必须还要在大盒中再添两支同样的钢笔，两盒笔的总价才相等。如果从大盒里取 10 只钢笔放入小盒，从小盒取出 8 支圆珠笔放入大盒，那么大盒内笔的总价比小盒少了 44 元。每支钢笔（ ）元。

- A、8 B、6 C、5 D、4

75、一批商品，按期望获得 50% 的利润来定价，结果只销售掉 70% 的商品，为尽早销售掉剩下的商品，商店决定按定价打折出售，这样所获得的全部利润，是原来所期望利润的 82%，问打了多少折扣？

- A、4 折 B、6 折 C、7 折 D、8 折

76、某商场举办羽绒服专卖会，一件羽绒服连续两次 8 折降价销售（即连续 2 次降价 20%），降价后的价格为 320 元，问原价是多少？

- A、500 元 B、450 元 C、400 元 D、600 元

77、某时刻时针和分针正好成 90 度的夹角，问至少经过多少时间，时针和分针又一次成 90 度夹角？

- A、30 分钟 B、31.5 分钟 C、32.2 分钟 D、32.7 分钟

78、某市居民生活用电每月标准用电量的基本价格为每度 0.60 元，若每月用电量超过标准用电量，超出部分按照基本价格的 80% 收费。某户九月份的用电量为 100 度，共交电费 57.60 元，则该市每月标准用电量为：

- A、60 度 B、70 度 C、80 度 D、90 度

79、一种挥发性药水，原来有一整瓶，第二天挥发后变为原来的 $\frac{1}{2}$ ；第三天变为第二天的 $\frac{2}{3}$ ；第四天变为第三天的 $\frac{3}{4}$ ，请问第几天时药水还剩下瓶的 $\frac{1}{30}$ ？

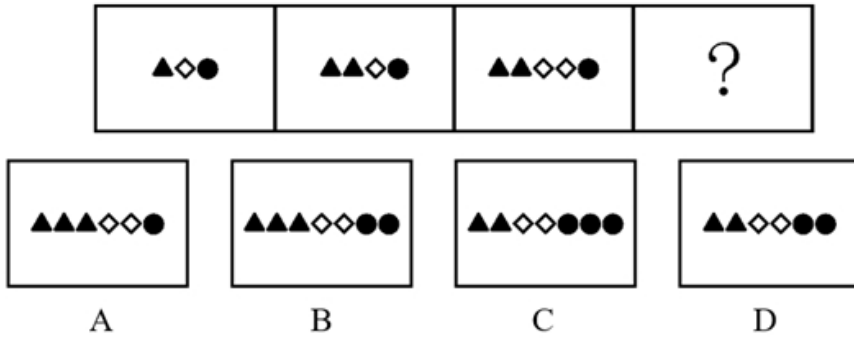
- A、75 天 B、30 天 C、12 天 D、100 天

80、整数 64 具有可被它的个位数字所整除的性质。试问在 10 和 50 之间有（ ）个整数具有这种性质。

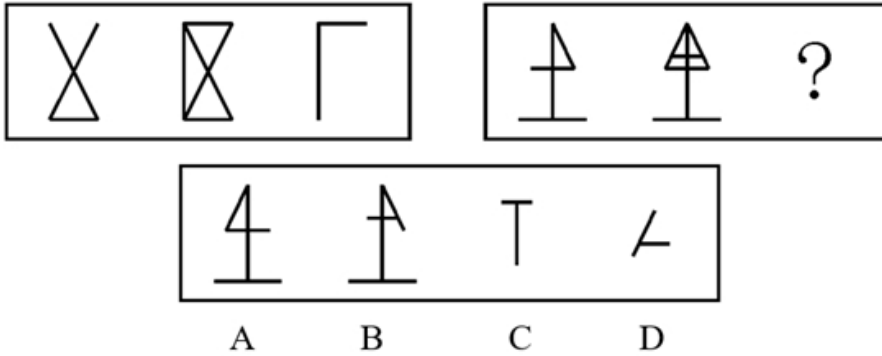
- A、15 B、16 C、17 D、18

第四部分 判断推理

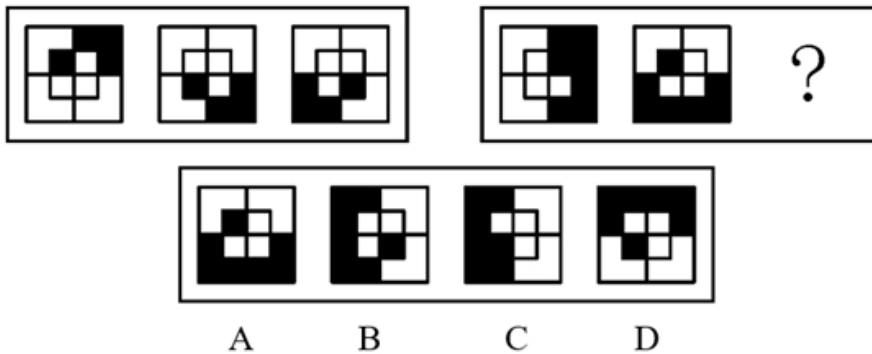
81、从所给的四个选项中，选择最合适的一个填入问号处，使之呈现一定规律性：



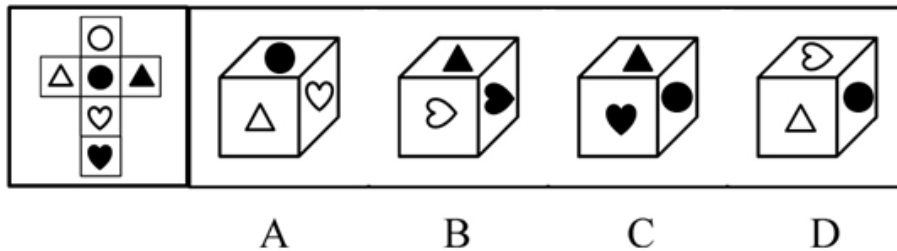
82、从所给的四个选项中，选择最合适的一个填入问号处，使之呈现一定规律性：



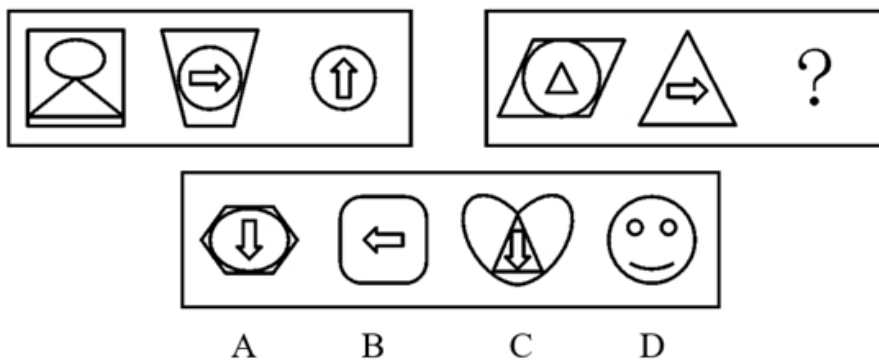
83、从所给的四个选项中，选择最合适的一个填入问号处，使之呈现一定规律性：




84、左边给定的是纸盒的外表面，下面哪一项能由它折叠而成？



85、从所给四个选项中，选择最合适的一个填入问号处，使之呈现一定规律性：

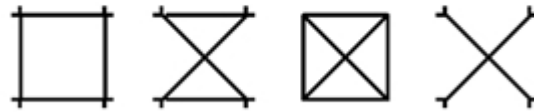



86、从所给的四个选项中，选择最合适的一个填入问号处，使之呈现一定规律性：



A B C D

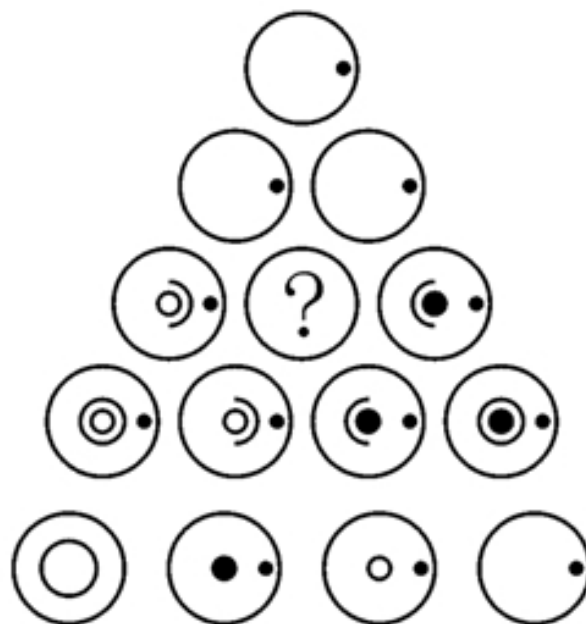
87、从所给的四个选项中，选择最合适的一个填入问号处，使之呈现一定规律性：



A B C D

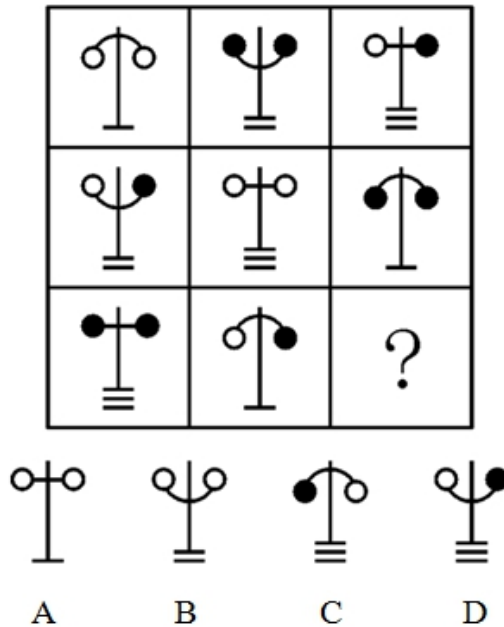
88、从所给的四个选项中，选择最合适的一个填入问号处，使之呈现一定规律性：

7

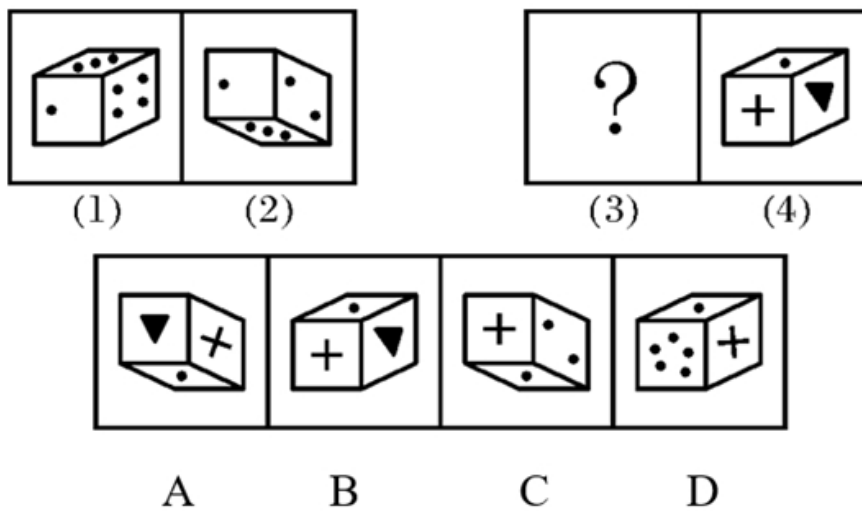


A B C D

89、从所给的四个选项中，选择最合适的一个填入问号处，使之呈现一定规律性：



90、由（1）得到（2）的方式选择合适的图形填在问号处：



91、商业秘密指不为公众所知悉、能为权利人带来经济利益、具有实用性并经权利人采取保密措施的技术信息和经营信息。

根据上述定义，下列属于商业秘密的是：

- A、商场促销活动的细则
- B、学校后勤集团的管理规定
- C、天府饭店招牌菜东坡肉的秘方
- D、动画制作的方法

92、生物链指的是由动物、植物和微生物互相提供食物而形成的相互依存的链条关系。这种关系在大自然中很容易看到。生物链也可以理解为自然界中的食物链，它形成了大自然中“一物降一物”的现象，维系着物种间天然的数量平衡。

根据上述定义，下列不属于生物链的是：

- A、微生物——小鱼——大鱼——鲨鱼
- B、植物——食草动物——食肉动物
- C、植物的叶和果——昆虫——鸟——鹰
- D、水——云——雨——水

93、汽车交通事故的特征之一是在道路上发生。这里的“道路”包括公路、城市街道和胡同（里巷），以及车站、公共广场、公共停车场等供车辆、行人通行的场所。公路则是指根据公路法的规定，经公路主管部门验收认定的城间、城乡间、乡间能行使汽车的公共道路，包括国道、省道、县道和乡道。特征二是在汽车营运过程中发生，即至少有一方车辆处于启动、行驶、刹车、减速、加速、转弯等运动过程中。

根据上述定义，下列属于汽车交通事故的是：

- A、李某尚未取得驾照，却擅自将贴有“训练”标志的车开到闹市区，与一出租车相撞
- B、火车在高速行驶中，一行人在铁道上行走，被卷入车底丧生
- C、某市公交站里停放的一辆7路公交车无故起火

D、田野里耕种的拖拉机突然失灵，撞向田埂

94、基本归因错误：是指人们经常把他人的行为归因于人格或态度等内在特质上，而忽视他们所处情境的重要性。根据上述定义，下列属于基本归因错误的是：

- A、小张考试没有及格，老师认为他平时没有努力批评了他，其实这段时间小张的妈妈生病住院了，小张陪母亲，休息不够
- B、小李考试没有及格，他认为自己太笨了，不是读书的料
- C、小王第一次到北京去玩，经常迷路，他说自己到了北京怎么就成了路盲
- D、小石参加公务员考试没有通过，他认为不是自己准备不足，而是题目出得太刁钻了

95、组织公民行为是指一种由员工自主决定的行为，不包括在员工的正式工作要求当中，但它无疑会促进组织的有效性。

根据上述定义，下列属于组织公民行为的是：

- A、小王按时上下班
- B、小王经常帮助同事小李照顾其生病的父亲
- C、小王喜欢集邮，并结交了许多友
- D、小王经常被上司要求加班

96、紧急避险：是指为了使国家、公共利益、本人或他人的人身财产和其他权利避免正在发生的危险，不得已而采取的损害另一方较小的合法权益，以保护较大的合法权益的行为。

根据上述定义，下列不属于紧急避险的是：

- A、小王开车经过一个路口时，对面突然冲出一个踩着滑板的孩子，小王为了躲避孩子，将车头一转，撞到了路边的电线杆上
- B、小李在湖边钓鱼，突然听到有人落水叫“救命”，于是急忙赶去救人，事后发现自己放在岸边的东西都不见了
- C、飞机在飞行的过程中遇到极其恶劣的天气，为了保护乘客的安全，机长下令紧急迫降，从而延误了航班到港的时间
- D、小王买醋回家发现自己没带钥匙，而家里有浓烟冒出，情急之下，保安只得将门锁劈坏

97、重婚：是指有配偶的男女未办离婚手续又与他人登记结婚，或者没有登记结婚而与他人同居而构成事实上的婚姻关系的，以及未婚男女明知他人有配偶而与之结婚的行为。

根据上述定义，下列行为属于重婚的是：

- A、甲在家乡已经结婚，出门打工后被人拐卖给了乙，被迫与乙生活在一起
- B、甲乙离婚后又同居在一起
- C、甲在隐瞒了自己已结婚的情况下与乙领取了结婚证书
- D、甲乙同居多年，甲突然提出分手，并很快与丙结婚

98、预谋故意：是指行为人产生犯罪故意之后，经过一段时间的准备才实施犯罪行为的心态。

根据上述定义，下列属于预谋故意的是：

- A、一青年在夜路上看见一个单身女子，遂起歹念，抢了她的皮包后逃走
- B、老王出门忘记锁门，以至于外人经过时偷走了贵重物品若干
- C、某人开快车，将一路人撞伤致死
- D、甲某与邻居乙某长期关系不合，趁乙某不注意时，甲某向乙某的水井里投毒，致使乙某一家中毒身亡

99、典范借鉴：是指从他人（或对方）那里发现、学习并应用最佳做法的过程，以达到帮助改善自身业绩的目的。

根据上述定义，下列属于典范借鉴的是：

- A、小李过去买股票总是亏损，在学习了经济学的基本知识后，炒股赚了一些钱
- B、甲市领导吸取了乙市城市建设的经验，提出了令人满意的城市建设规划图
- C、小王看小李种植烟叶收入颇丰，他也开始种烟叶
- D、小张在小李帮助下，终于通过了英语四级考试

100、共同犯罪：是指两人以上共同故意犯罪。共同犯罪必须具备以下要件：一是犯罪主体必须是两人以上达到刑事责任年龄并具有刑事责任能力的人；二是有共同的犯罪故意；三是有共同的犯罪行为。

根据上述定义，下列属于共同犯罪的行为是：

- A、张某因为生意上与王某有过节，张某和他的司机两人商议后，一起将王某杀害并弃尸
- B、一犯罪团伙让一些不到10岁的小孩子在夜市里趁机偷盗
- C、李某把偷来的手机当做礼物送给女朋友，女朋友不知情

D、一歹徒在行凶杀人过程中，旁观者没有制止

101、举证责任的价值，主要是指诉讼中的原告、被告或第三人所承担的举证责任对胜诉和败诉的决定性作用。

从这段文字可以推出：

- A、举证责任没有价值
B、举证责任主要由原告、被告或第三人承担
C、举证责任的价值在于可以让原告胜诉
D、举证责任主要由公安机关或人民检察院承担

102、现代社会中对人权最大威胁来自公权力，其中行政权由于具有扩张性、主动性等特征，尤其容易造成对行政相对人人权的侵犯。行政诉讼作为一种对人权的法律救济途径，在人权的法律保障中起着重要作用。

从这段文字可以推出：

- A、人权是不容侵犯的
B、人权不同于公权力
C、行政诉讼可以有效保障人权
D、行政诉讼可以作为人权的一种形式

103、科技大学少年班学生谢彦波，被人们称为“神童”、“未来的诺贝尔奖获得者”，因不能处理好与导师的关系，被迫中途结束了美国的留学生涯。

从这段文字中可以推出：

- A、现代社会不上学也能成才
B、神童未必真的是高人一等
C、中外文化差异很大
D、现代社会更看重人的综合素质

104、学术腐败的后果相当严重。学术腐败严重影响了学界的纯洁形象，玷污了这一片净土，沉重打击了那些真正具有实力和水平的学者，学术腐败的黑色蔓延逐渐阻碍社会的进一步发展。

这一结论最适宜用来解释的现象是：

- A、因为李教授否定了小王的开题报告，小王只能延迟一年毕业
B、有两个学生在期末考试中交了雷同卷，于是给了他们 0 分
C、鲁老师因为最近工作太忙，只能勉强发表了一篇论文
D、王教授的论文多是占用其研究生的或从国外抄袭的事情曝光后，引起了强烈的反响

105、《中华人民共和国消费者权益保护法》中惩罚性损害赔偿适用的目的就是为了使原告遭受的损失获得全部的补偿，来弥补补偿性赔偿的不足。

这一结论最适宜用来解释的现象是：

- A、足球场上球员顶撞裁判被红牌罚下
B、小张在马路上随地吐痰被罚款 5 元
C、王老师在超市买的洗衣粉是假冒伪劣产品，获得了超市的 50 元赔偿金
D、罗阿姨在商场被别人撞倒，住进了医院，商场报销了所有的费用

106、发热是小儿疾病常见的症状。临床上常常有这样的患儿，在外感高烧消退后，往往会持续一段时间的低烧，检查相关的体征和实验室指标均正常，患儿没有明显的不适，精神状态良好，西药无特效的治疗方法。另有一些患者有不明原因的发热，往往持续高烧 1~2 个月不退，西医诊断原因不明而难以治疗。因此这些患儿往往投治于中医。

从这段文字可以推出：

- A、小儿持续发热没有特效的治疗方法
B、西药对小儿持续发热很有作用
C、中医治疗小儿持续发热效果较好
D、中医治疗小儿持续发热有秘方

107、美国著名的智囊公司——兰德公司花费了 20 年的时间跟踪世界 500 家大公司，发现百年长盛不衰的企业具有一个共同的特征，就是树立了超越利润的社会目标，不以利润为唯一追求目标。

从这段文字可以推出：

- A、百年企业都不追求利润
B、百年企业不追求最大利润
C、企业价值观中最主要的、最核心的是企业的利润观
D、树立超越利润最大化的价值观是百年企业的精神文化基础

108、只有门球打得好的入才能加入门球协会：所有门球协会的人都戴着太阳帽；有的退休老同志是门球协会会员；某街道的人都不会打门球。

由此不能确认真假的一项是：

- A、该街道上的人都不是门球协会会员
B、该街道上有的人戴着太阳帽
C、有的退休老同志戴着太阳帽
D、有的退休老同志门球打得不好

109、知名度和美誉度反映了社会公众对一个组织的认识和赞许的程度, 两者都是公共关系学所强调追求的目标。一个组织形象如何, 取决于它的知名度和美誉度。公共关系策划者需要明确的是: 只有不断提高知名度, 才能不断提高组织的美誉度。知名度只有以美誉度为基础才能产生积极的效应。同时, 美誉度要以知名度为条件, 才能充分显示其社会价值。

由此可知, 知名度和美誉度的关系是:

- A、知名度高, 美誉度必然高
B、知名度低, 美誉度必然低
C、只有美誉度高, 知名度才能高
D、只有知名度高, 美誉度才能高

110、奥林匹克运动会的赞助商要想通过奥运会取得商业上的成功, 仅仅在名片上增加“五环”或支起帐篷招揽游客是远远不够的。近 15 年来, 作为奥林匹克运动会的全球性赞助商, VISA 国际组织认为要想有效地利用这一全球最大的体育和文化盛事, 并非只是简单的往奥运圣火里扔钱的活动。

据此我们知道:

- A、通过对奥运会的赞助以达到商业上的成功, 还需要有效的市场营销
B、赞助奥林匹克运动会是一种往奥运圣火里扔钱的活动
C、VISA 国际组织是全球最大的奥林匹克运动会赞助商
D、VISA 国际组织没有支起帐篷招揽游客

111、美国: 旧金山

- A、韩国: 釜山 B、法国: 撒哈拉 C、德国: 威尼斯 D、日本: 檀香山

112、绿豆: 豌豆

- A、红豆: 豆奶 B、豆奶: 麦片 C、牛奶: 奶牛 D、燕子: 燕窝

113、《西游记》: 孙悟空

- A、《三国演义》: 宋江 B、贾宝玉: 《红楼梦》 C、《祝福》: 祥林嫂 D、《水浒传》: 罗贯中

114、希望: 失望

- A、开始: 结束 B、幸福: 哭泣 C、喜欢: 欢喜 D、婴儿: 老人

115、() 之于 因循 好像 陈迹 之于 ()

- A、连续: 老友 B、创造: 回避 C、遵从: 往事 D、力行: 古屋

116、() 之于 汉 好像 隋 之于 ()

- A、周: 唐 B、明: 清 C、商: 五代 D、秦: 唐

117、() 之于 岛屿 相当 陆地 之于 ()

- A、海洋: 湖泊 B、荒凉: 辽阔 C、山岗: 海洋 D、海洋: 山岳

118、() 之于 实用 好像 抽象 之于 ()

- A、实际: 空间 B、理论: 具体 C、原则: 模糊 D、理论: 概念

119、() 之于 黑暗 好像 白天 之于 ()

- A、黄昏: 黎明 B、夜晚: 日光 C、夜晚: 光明 D、黄昏: 月亮

120、() 之于 山 好像 绿 之于 ()

- A、高: 地 B、青: 水 C、远: 色 D、大: 地

第五部分 资料分析

(材料 1)

随着信息技术的迅猛发展和广泛应用, 网络已经深入到社会的各个领域。青少年网络成瘾问题已经引起家庭、学校和社会的广泛关注, 成为一个普遍关注的社会问题。

某市, 2006 年的统计数据表明, 该市青少年网络成瘾人数为 30000 人, 比例达 10%, 其中, 网络游戏成瘾的比例占到 60%, 同比 2005 年网络游戏成瘾人数增长了 20%, 网络游戏成瘾比例提高了 5 个百分点。网络成瘾表现出显著的性别差异, 男性青少年网络成瘾的比例高达 20%, 女性青少年的这一比例为 5%, 且女性青少年网络成瘾者中, 60% 沉溺于网络聊天, 网络游戏成瘾的比例只有 30%。青少年网络成瘾问题不仅严重阻碍了青少年身心的健康发展, 对社会的健康、和谐也造成了极大的危害。

121、2006 年该市男、女青少年网络成瘾者各有多少人?

- A、15000, 15000 B、20000, 10000 C、25000, 5000 D、18000, 12000

122、该市 2005 年青少年网络游戏成瘾人数为多少人?

- A、10000 B、12000 C、15000 D、18000

123、该市 2005 年青少年网络成瘾人数为多少人？

- A、27273 B、25487 C、15858 D、28576

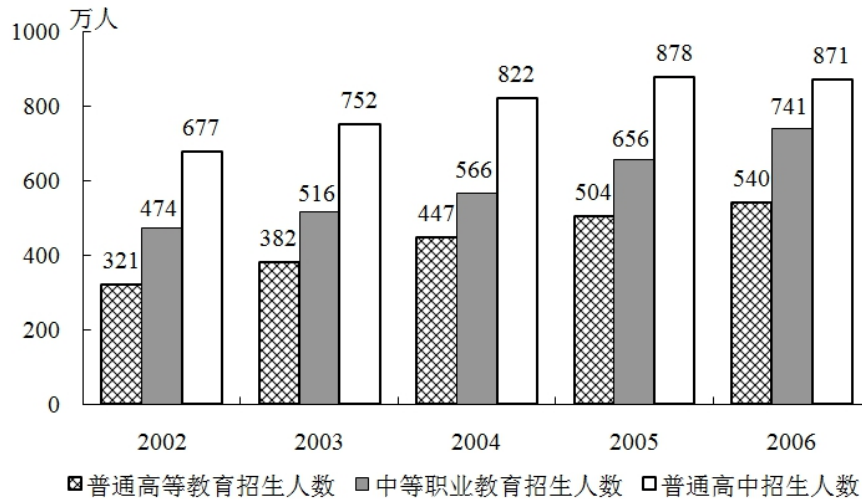
124、该市 2006 年男性青少年网络游戏成瘾在网络成瘾中所占的比例为：

- A、60% B、65% C、70% D、75%

125、该市 2006 年，男、女青少年各有多少人？

- A、100000, 200000 B、150000, 150000 C、250000, 100000 D、300000, 100000

(材料 2)



2002~2006 年我国各类教育招生人数

126、2006 年我国中等职业教育招生人数比 2005 年多：

- A、14.96% B、12.96% C、11.14% D、9.14%

127、下列数值最大的是：

- A、2003 年较 2002 年我国普通高中招生人数增长率
 B、2004 年较 2003 年我国普通高中招生人数增长率
 C、2005 年较 2004 年我国普通高等教育招生人数增长率
 D、2004 年较 2003 年我国中等职业教育招生人数增长率

128、2006 年相对于 2002 年，下列说法错误的是：

- A、普通高等教育招生人数增加 219 万
 B、中等职业教育招生人数增长率为 56.33%
 C、中等职业教育招生人数增长率比普通高中招生人数增长率高 27.67 个百分点
 D、普通高中招生人数增幅大于普通高等教育招生人数增幅

129、比较数值

- I：我国普通高等教育招生人数 2006 年与 2002 年之差
 II：我国中等职业教育招生人数 2005 年与 2002 年之差
 III：我国普通高中招生人数 2005 年与 2002 年之差，则下列关系成立的是：
 A、 $I > III > II$ B、 $III > II > I$ C、 $I > II > III$ D、 $III > I > II$

130、根据上图，以下说法成立的是：

- A、我国普通高中招生人数持续上涨
 B、我国中等职业教育招生人数逐年增幅持续上涨
 C、我国普通高等教育招生人数 2006 年比 2004 年多 39 万
 D、我国三类招生总人数 2005 年比 2003 年增加 23.52%

(材料 3)

2001年苏南五市与广东五市经济发展比较

城市	土地面积（平方公里）	国内生产总值（亿元）	人均国内生产总值（万元）	第一产业占GDP比重（%）	第三产业占GDP比重（%）	出口依存度（%）	城镇居民人均可支配收入（元）	农民人均纯收入（元）
苏州	8488	1760	3.04	5.2	38.0	57.9	10515	5796
无锡	4650	1360	3.12	4.0	40.8	21.9	9454	5524
常州	4375	673	1.97	7.0	36.4	26.6	9406	4896
南京	6598	1150	2.06	5.1	47.3	41.4	8848	4311
镇江	3843	503	1.89	6.7	38.1	12.3	7698	4191
广州	3719	2674	3.80	3.6	54.0	36.0	14416	6446
东莞	2465	578	3.76	5.4	39.5	271.8	16938	7366
中山	1800	359	2.68	6.8	36.3	100.4	12803	6738
顺德	807	389	3.61	5.3	39.5	65.7	15113	5282
深圳	1949	1908	4.23	0.9	46.5	162.6	23544	9869

131、10个城市中，土地面积最大与最小的城市分别是：

- A、苏州、顺德 B、苏州、镇江 C、南京、镇江 D、广州、顺德

132、2001年深圳市城镇居民人均可支配收入比南京市高：

- A、5558元 B、14696元 C、15396元 D、758元

133、下面的描述不正确的是：

- A、2001年，10个城市中农民人均纯收入低于5000元的城市有3个
 B、总的来看，广东五市经济发展的出口依存度高于苏南五市
 C、广州市的人均国内生产总值在10个城市中处于首位
 D、2001年，广东五市的国内生产总值大于苏南五市的国内生产总值

134、根据上表，我们可以推算出2001年广州市第二产业的产值约为：

- A、1133亿元 B、1144亿元 C、997.6亿元 D、1096.8亿元

135、如果2001年南京市的城镇居民人均可支配收入比2000年增长了7.5%，那么2000年南京市的城镇居民人均可支配收入约为：

- A、8176元 B、8849元 C、8195元 D、8231元



淘宝店铺



微信公众号

 微信扫码，关注“**公务员考试挺简单**”公众号，获取更多公考经验、公考资料、时政等，真题更新也会通过公众号发通知哦。

 手淘扫码，进入**杨柳真题**淘宝店铺，可购买历年公考真题、事业单位真题等。纯手工整理，一手资料，包您满意，助您上岸。

买真题，请认准杨柳真题。淘宝“杨柳真题”独家整理，实时纠错，拒绝资料贩子。