

2005 年江苏省录用公务员考试《行测》(B 类) 试题

第一部分 知觉速度与准确性

(共 60 题, 参考时限 10 分钟)

一、同符查找(1-35 题)

1. %TFECZ PZ%FTH
A. 1 B. 2 C. 3 D. 4
2. fgxts pgtwo
A. 1 B. 2 C. 3 D. 4
3. ☺T入羽i T习i入☺
A. 1 B. 2 C. 3 D. 4
4. 定家消俦 逐消俦定
A. 1 B. 2 C. 3 D. 4
5. 低氏纸弗研 氏研串开民
A. 1 B. 2 C. 3 D. 4
6. or681:)@ 8%6xnt! (
A. 1 B. 2 C. 3 D. 4
7. 真令具直俱丹 同直俱令具真
A. 1 B. 2 C. 3 D. 4
8. 5▼▼23▲ 36▲7▼▲
A. 1 B. 2 C. 3 D. 4
9. ●◎◆○●● ◎●■①①
A. 4 B. 3 C. 2 D. 1
10. ୱ ୱ ୱ ୱ ୱ ୱ ୱ ୱ ୱ ୱ
A. 4 B. 3 C. 2 D. 1
11. ୱ ୱ ୱ ୱ ୱ ୱ ୱ ୱ ୱ ୱ
A. 1 B. 2 C. 3 D. 4
12. ▲▲▼◀▶▼ ▶▶◀▲▶▼
A. 1 B. 2 C. 0 D. 4
13. ↱ ↲ ↳ ↴ ↵ ↶ ↷ ↸
A. 1 B. 2 C. 3 D. 0
14. KΛMNOΠ ΘΡΣΥΩΞ
A. 1 B. 2 C. 0 D. 4
15. ΩβЙεθμ ρИMНПБ
A. 6 B. 4 C. 2 D. 0
16. DGC BHW KMBDF XRDQS
A. 0 B. 1 C. 2 D. 3
17. △■▼▲ ▲▼▽▲▼
A. 1 B. 0 C. 2 D. 3
18. ΣΤφΥΦΧψΩ θΩδφψΦΣΞ
A. 1 B. 3 C. 5 D. 7
19. 亚产亨亢京仄介 亨京仄产垂介毫
A. 2 B. 4 C. 6 D. 5
20. 9675421 167394 07913
A. 1 B. 2 C. 3 D. 4
21. 70P83QR OHJ854 3LJQ8R
A. 1 B. 2 C. 3 D. 4
22. 0B@DFK 0BDE%K

- A. 1 B. 2 C. 3 D. 4
 23. 7K94623 5TA618K
 A. 1 B. 2 C. 3 D. 4
 24. 2JASDG89 QT9MNB06
 A. 1 B. 2 C. 3 D. 4
 25. W759ETZC 63NMTP8D
 A. 1 B. 2 C. 3 D. 4
 26. T786X5ELP ME5TBWQA
 A. 1 B. 2 C. 3 D. 4
 27. 允皮宝方月 全允万方皮
 A. 1 B. 2 C. 3 D. 4
 28. 川火四六宫天也生 回火内州天生川六 川六火生天
 A. 1 B. 2 C. 3 D. 5
 29. 你 YFE 申弓 CIQ EY 你弗 TOCN PT 甲 NG 你
 A. 1 B. 2 C. 3 D. 5
 30. ∇≡∩∅Δ ∞∇∈∩∩ ∩∅∞∩∞
 A. 1 B. 3 C. 2 D. 4
 31. ∫бфлфф ВЭ†∫бф флфбф9
 A. 0 B. 2 C. 4 D. 6
 32. ЛЕЯЖЧЭ ЪЕЛЬЪЛЖ ЬЪЖЪЕ
 A. 0 B. 3 C. 1 D. 2
 33. 方爰去书官务仑每商 仑爰务虫雨宫方书商
 A. 2 B. 3 C. 4 D. 5
 34. ▲▷▶▼△▽ ◀▼◆▷◁▽ ◀◁▷▼◆▽
 A. 0 B. 1 C. 2 D. 3
 35. ≡≪≡≡▷ ≡∧≫∩≪ ∇▷≡∧≡∩
 A. 0 B. 1 C. 2 D. 3

一、数字区间定位(36-50 题)

A	B	C	D
7026~7862	1023~2046	20472~27891	6668~6700
3387~5043	8911~10284	5044~6026	6801~7006

36. 1293。 37. 6974。 38. 6888。 39. 23456。 40. 3456。
 41. 4732。 42. 5699。 43. 6699。 44. 9876。
 45. 10000。 46. 6025。 47. 7000 48. 7077。 49. 4543 50. 9000。






































二、字符替换(51-60 题)

对照表:

9	8	7	6	5	4	3	2	1
☐	∖	▲	//	☆	☐	@	×	▼

数字表:

	第 1 列	第 2 列	第 3 列	第 4 列	第 5 列	第 6 列	第 7 列	第 8 列	第 9 列
第 1 行	1	2	5	4	3	6	9	7	8
第 2 行	6	9	3	7	4	8	2	7	1
第 3 行	2	4	6	8	9	5	3	7	9
第 4 行	8	3	5	9	5	6	2	7	1

51. 数字表中哪一行没有重复数字?
A. 一 B. 二 C. 三 D. 四
52. 数字表中对应图形中☆字出现在哪一行或哪几行?
A. 一、二、三、四 B. 二、三、四 C. 一、三、四 D. 一、四
53. 有一列中的数字完全相同, 请问是哪一列, 这个数字对应的图形是什么?
A. 第8列, 对应图形是  B. 第7列, 对应图形是 
C. 第8列, 对应图形是 \ \ D. 第8列, 对应图形是 @
54. 对应图形  的数字在哪一行没有出现?
A. 一 B. 二 C. 三 D. 四
55. 第2列的四个数字对应的图形分别是什么?
A.    @ B.    @ C. //  \ \  D. \ \  // 
56. 第三行前四列的数字对应的图形分别是什么?
A.   \ \ // B.   // \ \ C.  \ \  // D.   //
57. 第三行有两个数字相同, 它对应的图形是什么?
A.  B. @ C. ☆ D. 
58. 第9列有两个数字相同, 它对应的图形是什么?
A.  B.  C.  D. 
59. 第一行第2列的数字与第二行第1列的数字对应的图形分别是什么?
A. //,  B. , // C. , // D. //, 
60. 数字表中有两个数字出现了5次, 它们对应的图形分别是什么?
A.  @ B.   C.   D. @ 

第二部分 数量关系
(共20题, 参考时限15分钟)

一、字推理(61-70题)

给你一个数列, 但其中缺少一项, 仔细观察数列的排列规律, 选择你认为最合适的一个答案。

请开始答题:

61. 1.2 3.1 4.4 7.6 12.1 ()
A. 18.8 B. 19.8 C. 20.2 D. 21
62. 281 201 131 71 () -21
A. 31 B. 41 C. 11 D. 21
63. -1 () 25 62 123
A. 3 B. 6 C. 11 D. 15
64. 1 1 () 2 $16/5$ $16/3$
A. $3/2$ B. $4/3$ C. $16/7$ D. 2
65. 5 () 11 13 17 19
A. 6 B. 8 C. 7 D. 9
66. 50 10 5 0 2.5 ()
A. 5 B. 10 C. 0.8 D. 0.6
67. -1 0 () $\sqrt{3}-1$ 1
A. $\sqrt{2}$ B. $\sqrt{2}-1$ C. $\sqrt{3}$ D. $\sqrt{3}-1$
68. 0 0.5 2 3 8 () 210
A. 10 B. 26 C. 43 D. 58

69. $2.5 \times 3\frac{1}{3} \times 4.25 \times (\quad) \times 6\frac{1}{6}$

- A. 5.125 B. 5.5 C. 4.9 D. 5.2

70. $216\frac{64}{100}, (\quad), 64\frac{100}{144}, 27\frac{121}{169}, 8\frac{144}{196}$

- A. $125\frac{85}{117}$ B. $152\frac{86}{122}$ C. $125\frac{81}{121}$ D. $106\frac{79}{123}$

二、数学运算(71-80题)

通过运算，选择你认为最合适的一个答案

请开始答题：

71. 0.02×0.001 、 0.0001×0.175 、 200×10^{-8} 和 $1750 \times 1.1 \times 10^{-9}$ 哪个最小？

- A. 0.02×0.001 B. 0.0001×0.175 C. 200×10^{-8} D. $1750 \times 1.1 \times 10^{-9}$

72. $2356 - \{3946 + (5/6) \times [1054 \times 1.2 - 1800] - 2644\} + 36 = ?$

- A. 5000 B. -5426 C. 1536 D. 5236

73. 某市公安局的职工总人数比女同志人数的两倍多7人，该市检察院的男同志人数比女同志人数少1人，问该市公安局和检察院合计男同志比女同志多(或少)几人？

- A. 多2人 B. 多6人 C. 少2人 D. 少8人

74. 一警官2004年前三个月、后四个月、中间5个月的月平均出警次数分别为46次、36次、54次，问这个警官去年的月平均出警次数为多少次？

- A. 49 B. 48 C. 46 D. 42

75. 甲、乙两辆小轿车，甲车的价格的三分之一和乙车的价格的五分之一合计19万，甲车的价格的五分之一和乙车的价格的三分之一合计21万，问甲车的价格为多少万？

- A. 50 B. 45 C. 30 D. 20

76. 小王2002年的手机话费比上年少10%，2003年的手机话费比上年的一半多120元，2004年的手机话费比上年少60元，为330元，问2001年小王的手机话费为多少元？

- A. 680 B. 720 C. 544.68 D. 600

77. 一叠人民币共25张，1000元，有10元、20元、50元三种币值，问分别有10元、20元、50元有人民币各几张？

- A. 3、5、17 B. 4、3、18 C. 1、7、17 D. 4、3、18或1、7、17

78. 在一次猜谜活动中，猜对一个难的、容易的谜语可获得的礼物的价值分别是8元、5元，猜错没有礼物，小王猜对8个谜语，获得总计58元的礼物，问他猜对几个难的谜语？

- A. 7 B. 6 C. 5 D. 4

79. 某超市正在进行一次盘点，1小时完成了全部工作量的24%，照这样的进度，整个盘点过程可望比原计划提前1小时完成，问这次盘点原计划多长时间完成？

- A. 50分钟 B. 270分钟 C. 290分钟 D. 310分钟

80. 王家祖父的年龄介于70-80岁之间，是他孙女的年龄的4倍，且已知他孙女的年龄是他外孙的年龄的3倍，问老王今年多少岁？

- A. 72 B. 76 C. 80 D. 无法估算

第三部分 判断推理

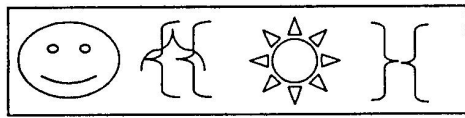
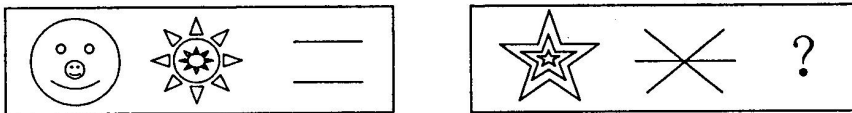
(共30题，参考时限30分钟)

一、图形推理(81-95题)

共15题，包括三种类型题目。

(一)每道题包含两套图形和可供选择的4个图形。这两套图形具有某种相似性，也存在某种差异。要求你从四个选项中选择你认为最适合取代问号的一个。正确的答案应不仅使两套图形表现出最大的相似性，而且使第二套图形也表现出自己的特征。


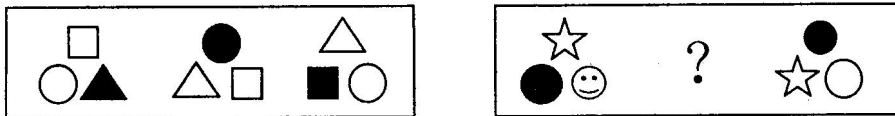
例题：



A B C D

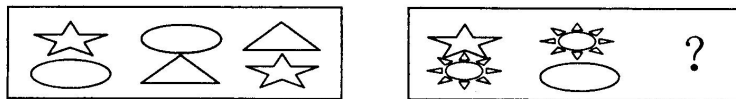
解答：正确答案为B。第一套图是由两个相同图形组成，第二套图是由3个相同图形组成的。

请开始答题（81—82题）：



A B C D

81.

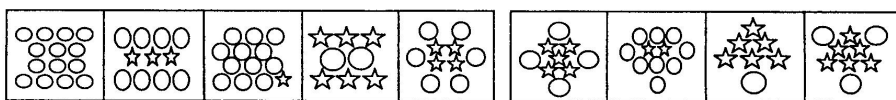


A B C D

82.

（二）每道题在左边的题干中给出一套图形，其中包括五个图，这五个图形呈现一定的规律性。在右边给出一套图，其中有四个图，让考生从中选出一个作为保持左边五个图规律性的第六个图。

例题：

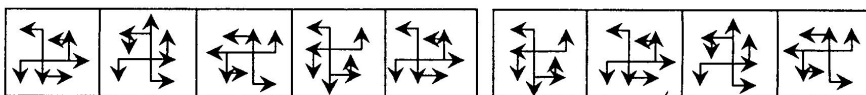


A B C D

解答：正确答案应为A。左边图形中1个小星形相当于2个小圆形，通过换算，左边每格中均为14个小圆形。

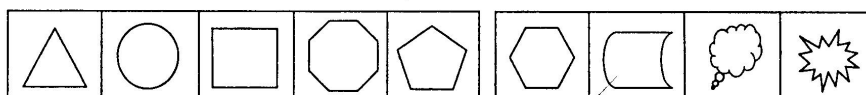
请开始答题（83-92题）：

83.



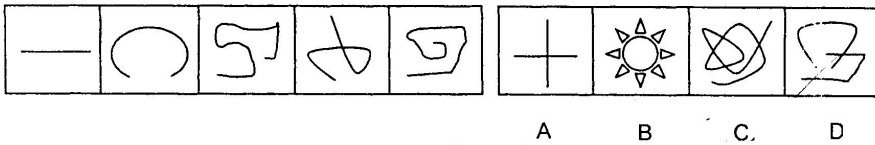
A B C D

84.



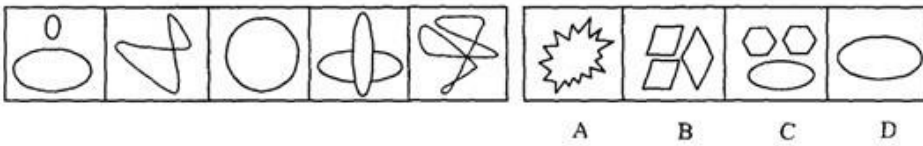
A B C D

85.



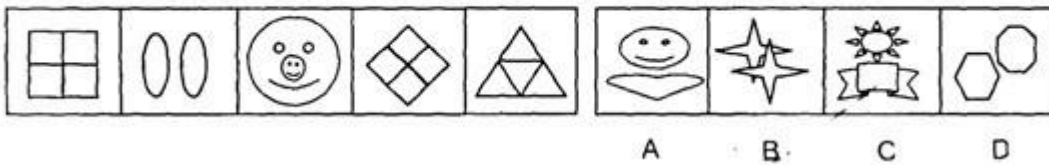
A B C D

86.



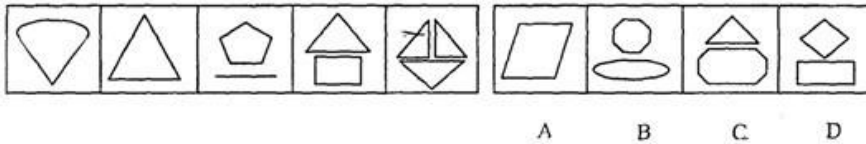
A B C D

87.



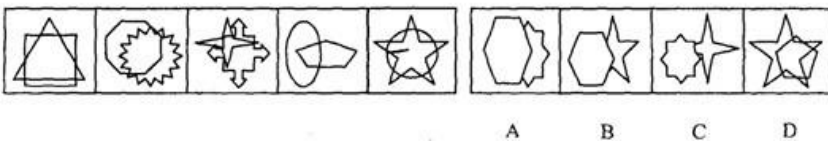
A B C D

88.



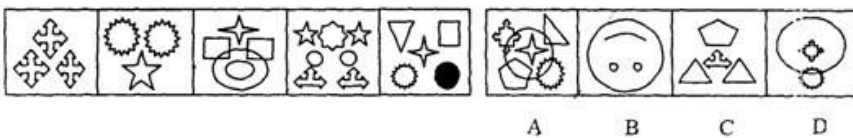
A B C D

89.



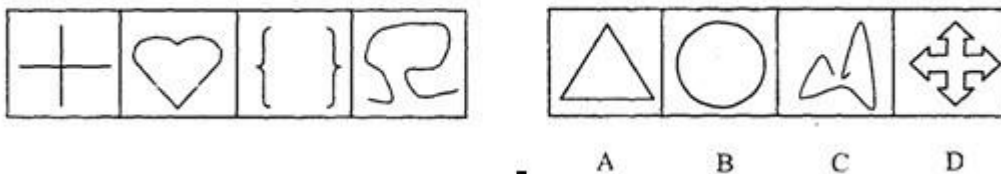
A B C D

90.



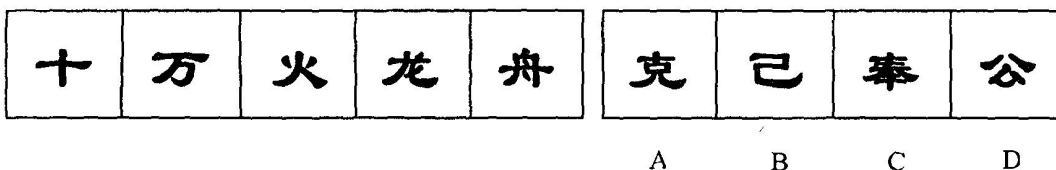
A B C D

91.



A B C D

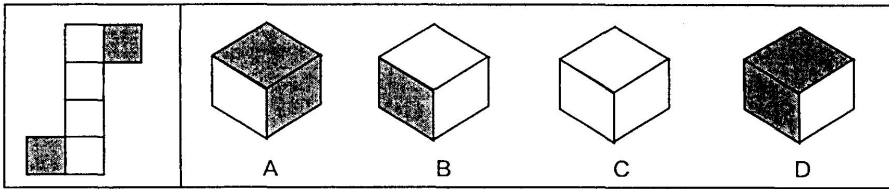
92.



A B C D

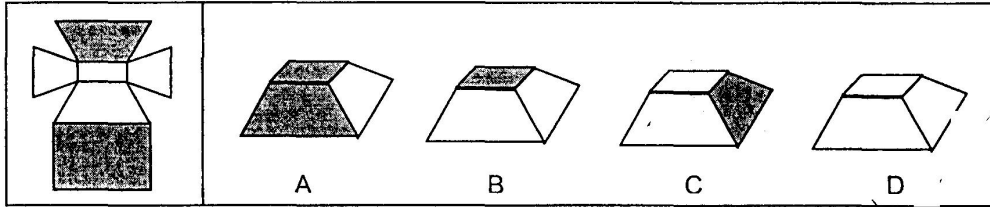
(三)在右边的4个图形中，只有一个图形是由左边的纸板折叠而成。你需要选出正确的一个。在例题中，只有B可以由左边的纸板折叠而成。因此，正确答案是B。

例题：

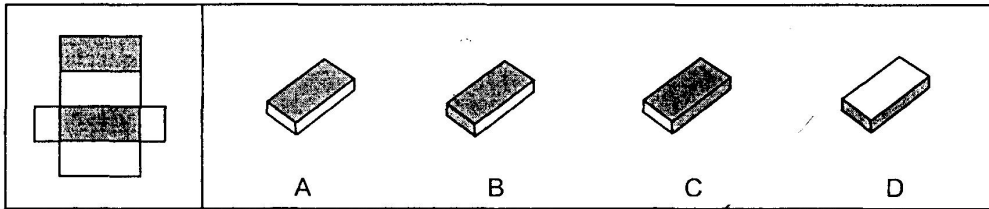


请开始答题 (93-95 题):

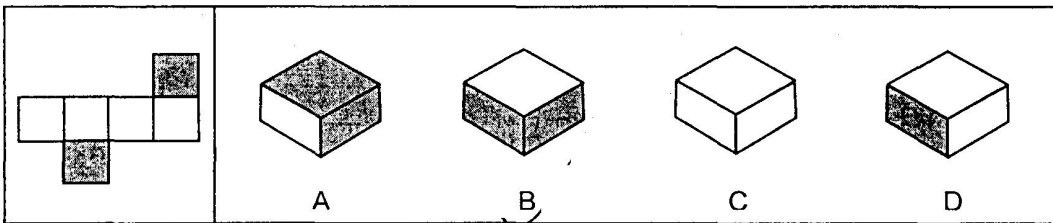
93.



94.



95.



二、演绎推理 (96-110 题)

在每道题中给出一段陈述，这段陈述的正确性在本测验中是不容置疑的，根据这段陈述选择一个备选答案，正确答案不用任何附加说明，直接从陈述中推出。

【例题】

陈辰是通达公司的经理，赵杰的朋友都在通达公司工作，冯平是赵杰的朋友。公司中某些职工来自广州，通达公司的经济效益不错，公司所有职工都很富有。据此，我们可以知道：

- A、赵杰有一些穷朋友
- B、冯平很富有
- C、冯平来自广州
- D、陈辰与赵杰是朋友

正确答案是 B，只有这一项是可以从陈述中直接推出的。

请开始答题：

96. 一个独立的富裕国家的公民都是非常文明的，而一个充满暴力和仇恨的民族不可能是文明的，可是有些富裕的中东国家却充满了暴力和仇恨。由此可见：

- A. 有些富裕的中东国家充满暴力和仇恨是由某些大国的种族政策造成的；
- B. 中东的战乱导致了有些富裕的中东国家充满了暴力和仇恨；
- C. 有些中东国家失去了独立；
- D. 没有民主就没有自信。

97. 法学院的女生比男生多，在 04 年下学期的数学期末考试中，法学院不及格的学生超过了一半。由此可见：

- A. 女生不及格的比男生不及格的多
- B. 女生不及格的比男生及格的多
- C. 女生及格的比男生不及格的多
- D. 女生及格的比男生及格的多

98. 所有的安西人都是素食主义者，而所有的镇远人都是禁欲主义者，禁欲主义者与素食主义者形同水火、势不两立。而郭竖是禁欲主义者。由此可见：

- A. 郭竖是镇远人 B. 郭竖不是镇远人 C. 郭竖是安西人 D. 郭竖不是安西人

99. 只有常住南京的人才能体会到江南的典雅灵秀之气；常住南京的每一个人无不受到江南水巷文化的熏陶，而每一个受此文化熏陶的人都会表现出超然物外的儒雅之气。由此可以推断下列各项真的是：

[1] 每一个体会到江南典雅灵秀之气的人都受到了江南水巷文化的熏陶；

[2] 没有超然物外的儒雅之气就一定没有体会到江南的典雅和灵秀；

[3] 每一个超然物外的儒雅之人都是体会到了江南的典雅和灵秀之气的人。

- A. 只有[1]、[2]； B. 只有[1]、[3] ; C. 只有[2]、[3]； D. 只有[1]。

100. 庆功会上男士饮用的只是茅台，或者是五粮液，而所有女士都喝了酸奶。由此可见：

- A. 男士都没有喝酸奶，女士都没有喝茅台 B. 有些男士没有喝酸奶，也没有喝茅台
C. 有些男士既喝了茅台，又喝了酸奶 D. 没有男士既喝酸奶又喝茅台

101. 所有贫穷的国家都曾经有瘟疫流行，所有民主的国家都不曾流行瘟疫，所以所有民主的国家都不是贫穷的国家。

和上述推理结构相似的是：

- A. 所有的动物都是生物，所有的生物都是有选择性的，所以所有的动物都是有选择性的
B. 所有的贪污都是犯罪，所有的昌吉人都不是犯罪分子，所以所有的贪污犯都不是昌吉人
C. 所有的谎言都是不符合事实的，而真理是符合事实的，所以所有的真理都不是谎言
D. 所有的蔬菜都是有营养的，所有的三叶草都没有营养，所以吃三叶草的人都营养不足

102. 所有的亚奥国家都是民主国家，所有的亚奥国家也都是宗教国家，而有的宗教国家是多神教国家，所以：

- A. 有的亚奥国家是多神教国家 B. 有的民主国家是多神教国家
C. 有的民主国家是宗教国家 D. 有的民主国家不是多神教国家

103. 没有诚信的人是不懂得自我尊重的，而不懂得自我尊重的人是不能赢得别人尊重的。

由此可见：

- A. 不懂得自我尊重的人是没有诚信的； B. 不能赢得别人尊重的人是不懂得自我尊重的；
C. 能赢得别人尊重的人是有诚信的 D. 不能赢得别人尊重的是没有诚信的人。

104. 亚洲和非洲的和平有了保障，那么世界的和平就有了保障；而只有彻底铲除恐怖主义，世界的和平才能有保障。但是事实上，恐怖主义在中东不断地制造事端。由此可见：

- A. 如果亚洲的和平有了保障，那么非洲的和平也就有了保障；
B. 非洲的和平还没有保障；
C. 亚洲和平还没有保障；
D. 如果亚洲的和平有了保障，那么非洲的和平还没有保障。

105. 全运会期间，F楼住着8名运动员。其中，1个是黑龙江人，2个是北方人，1个是广东人，2个是田径运动员，3个是主力运动员。上述情况统计涉及到了F楼中所有的8名运动员。则以下哪项与题干所述信息相矛盾？

- A. 黑龙江运动员不是主力运动员； B. 田径运动员都不是主力运动员；
C. 广东人是主力运动员； D. 主力运动员都是南方人。

106. 埃伊、阿曼和得比这三个国家一个属于亚洲，一个属于欧洲，一个属于非洲，其中埃伊和其中的欧洲国家不一样大，得比比其中的非洲国家小，其中的欧洲国家比阿曼大。

那么这三个国家从大到小的次序是：

- A. 埃伊、阿曼、得比； B. 埃伊、得比、阿曼； C. 得比、埃伊、阿曼； D. 阿曼、埃伊、得比。

107. 如果下岗职工实现了普遍的再就业，那么社会保障的压力就会减轻。只有下岗职工都获得了新的技能或者经济转型提供了广泛的就业空间，下岗职工才能实现普遍的再就业。事实是社会保障的压力越来越重。由此可见：

[1] 下岗职工没有实现普遍的再就业；

[2] 下岗职工没有都获得了新的技能；

[3] 没有提供广泛的就业空间。

- A. 只有[1] B. 只有[2] C. 只有[3] D. [1]、[2]和[3]。

108. 贪污犯都是爱财的，人人都是爱财的，所有的贪污犯都是目光短浅的，由此可见：
 A. 人人都是贪污犯； B. 有些爱财的是目光短浅的；
 C. 目光短浅的都是贪污犯； D. 爱财的都是贪污犯。
109. 一个人只要是诚实的，那他一定就是一个守法公民，以下哪项对此最能构成反驳？
 A. 大多数诚实的人是遵守法律的 B. 有些违法分子是不诚实的
 C. 从不说谎的木老因违规砍伐树林被捕了 D. 不诚实本身就是一种违法行为
110. 如果巴西或者日本成为常任理事国，那么印度和德国都将成为常任理事国。由此可见：
 A. 如果印度成为常任理事国，那么德国也将成为常任理事国
 B. 如果印度成为常任理事国，那么日本也将成为常任理事国
 C. 如果印度没有成为常任理事国，那么德国也没有成为常任理事国
 D. 如果印度没有成为常任理事国，那么日本也没有成为常任理事国

第四部分 言语理解与表达
(共 25 题，参考时限 25 分钟)

一、定义理解(111—120 题)

本项共有两类：单定义辨析，多定义辨析。

(一)单定义辨析：先给你一个概念的定义，然后给出一组典型例证，要求你从中选出最符合题意的一个选项。注意：假设这个定义是正确的，不容置疑的。

【例题】

消费者是指以个人消费为目的而购买、使用商品或者接受服务的个体社会成员。下列不属于消费者行为的一项是：

- A. 小李购买家用电脑 B. 小王使用洗衣机
 C. 小章接受商家免费安装空调的服务 D. 小赵到人才市场应聘

正确答案是 D。

请开始答题(111—115 题)：

111. 执法经济：指政府部门在执法时拥有巨大的自由裁量权，其管辖权后具有不菲的经济效益。
 下列属于“执法经济”所引起的纠纷是：
 A. 某市工商局的 8 名执法人员与该市卫生防疫站的数名执法人员的一家副食店门前为争查一箱问题奶粉厮打起来
 B. 小李不愿到交警指定的免费停车场停车而与交警发生争执
 C. 在某农贸市场内，小贩甲乱摆摊点，不服管理与管理员争吵起来
 D. 某住宅小区门卫，对进出小区的车辆管理很严，动辄罚款，有的业主很不满意，经常与门卫争吵
112. 掠夺交易：是指以强制手段为基础、一方强迫另一方的利益转移(包括其承载物的转移)。
 下列不属于掠夺交易的是：
 A. 甲有一幅非常珍贵的古名画，乙知道后千方百计想得到，就请甲的领导出面，用一幅现代名画将乙的那幅画换到手
 B. 张某摆了一个杂货摊点，一天，有一人来买塑料面盆，她拿出一元钱塞给张说：“我知道你卖 3 元一只，我们是邻居，就一元卖给我吧。”说完就拿走了面盆
 C. 小李家正搞装潢，谁知预算失误，少买了几平米某名牌木地板，急需补上，经销商谎称木地板涨价，必须加价，最终小李以 3 倍的价格买回所需地板
 D. 小王和小章是两位集邮爱好者，他们常常交换邮品，虽然有时用以交换的邮品价格悬殊，但双方都非常乐意，毫无怨言
113. 按揭：一种以银行为销售者和购买者媒介的分期付款方式。
 下列属于“按揭”的是：
 A. 小李贷款开店 B. 学校贷款盖教学楼 C. 小李贷款买别墅 D. 小张贷款付学费
114. 新富：基于高科技产业的繁荣兴盛而顺势拥有巨额财富的年轻新贵。
 下列属于新富的是：
 A. 袁隆平研究杂交水稻，不仅赢得了 500 万的重奖，还获得了 2004 年度感动中国新闻人物的荣誉称号
 B. 张强今年才 30 刚出头，可他靠炒外汇、炒期货、炒债券在几年内成为腰缠百万的富人

C. 王勇博士毕业后先到一家电脑公司搞软件设计，年薪 18 万，后来自己创办了新世纪软件开发公司，年创收逾 700 万，今年 40 岁的他，已拥有近亿元的资产

D. 丁杰今年 46 岁，作为职业经理人年薪高达 12 万元

115. 享受资料：指高于生存资料水平、满足人们享受需要的生活资料。

下列不属于享受资料的是：

A. 甘肃某地是一个有名的贫困地区，经济很落后，但这一地区地某些官员却偏爱乘豪华轿车，出行的排场却不“落后”

B. 某一政府部门有一位办事员，喜欢穿名牌服装，常出入于歌舞厅、洗浴中心，他还特别喜欢名书画收藏

C. 为了确保在与同行竞争中处于不败之地，孙老板最近花巨资将自己的酒店装修一新，液晶电视就买了 5 台

D. 臧老板的经济收入是可观的，最近花近 600 万在南京钟山风景区购买了一套“帝豪”别墅，环境十分优美

(二)多定义辨析：先给你多个概念的定义，然后给出多少典型例证，要求你从中选出最符合定义的典型行为。**注意：假设这多个定义是正确的，不容置疑的；某一典型例证至多只与某一定义对应。**

【例题】

定义：

①正当防卫：指为了使国家、公共财产、本人或其他人的人身、财产和其他权利免受正在进行的不法侵害而采取的制止不法侵害的行为。对不法侵害人造成损害的，不负刑事责任。

②犯罪预备：指为犯罪准备工具、制造条件的行为。

③过失犯罪：指应当预见自己的行为可能发生危害社会的结果，因为疏忽大意而没有预见，或者已经预见但轻信能够避免，以致发生这种结果。

典型例证：

(1)赵、王二人素有仇怨，一次他俩因口角争执进而发生武斗，赵被王所伤。

(2)李某在回家途中，发现一个大孩子正在欺负一个小孩子，小孩子在痛哭求饶，李某于是走过去狠狠打打了大孩子一个耳光。

(3)仲某欲杀钱某泄愤，途中遇联防人员巡逻，仲某深感害怕，折返家中。

上述典型例证与定义存在对应关系的数目有：

A. 0 个 B. 1 个 C. 2 个 D. 3 个

正确答案是 A。

请开始答题(116—120 题)：

116. 定义：

①夸张：指为了启发听众或读者的想像力和加强所说话的力量，用夸大的词句来形容事物。

②借代：指不直接把所要说的物名称说出来，而用跟它有关系的另一种物名称代替它。

③比喻：指用某些有类似点的事物来比拟想要说的某一事物，以便表达得更加生动鲜明。

典型例证：

(1)竹喧归浣女，莲动下渔舟 (2)熟读王叔和，不如临症多

(3)缲成白雪桑重绿，割尽黄云稻正青

上述典型例证与定义存在对应关系的数目有：

A. 0 个 B. 1 个 C. 2 个 D. 3 个

117. 定义：

①性善论：认为人性本来就是善的。

②怀疑论：指对客观世界和客观真理是否存在、能否认识表示怀疑。

③快乐论：主张快乐是人生的最高幸福，追求快乐是人生的目的与道德的标准。

典型例证：

(1)有人说：“从人之性，顺人之情，必出于争夺，合于犯分乱理，而归于暴。”

(2)有人认为由感觉与理性得来的知识都不可靠，人们对一切事物都得存疑，才能有新的发现

(3)有人说，人要及时行乐，竭力避免痛苦，精神享受高于肉体享受

上述典型例证与定义存在对应关系的数目有：

- A. 0个 B. 1个 C. 2个 D. 3个

118. 定义：

①才略：政治或军事上的才能和智谋。

②才艺：才能和技艺。

③才思：写作诗文的能力。

典型例证：

- (1) 诸葛亮草船借箭 (2) 扁鹊妙手回春 (3) 曹植七步作诗

上述典型例证与定义存在对应关系的数目有：

- A. 0个 B. 1个 C. 2个 D. 3个

119. 定义：

①**行政处罚**：指行政相对人违反行政管理法规，依法应当给予处罚的行政行为。

②**行政许可**：指行政主体根据行政相对人的申请，依法赋予其从事某种事项或活动的资格或者权利的行政行为。

③**行政复议**：指公民、法人或其他组织对行政机关的具体行为不服，依法向作出具体行政行为的行政机关的上级机关或法律规定的行政机关提出申诉，由其决定是否合法，适当重新审议并做出裁决的行政程序制度。

典型例证：

(1) 某国税局对涉嫌违法的某广告公司的账户给予查封。

(2) 斗殴致人重伤的赵某对公安机关的处罚不满，向法院起诉。

(3) 小李与其女友到有关部门登记结婚。

上述典型例证与定义存在对应关系的数目有：

- A. 0个 B. 1个 C. 2个 D. 3个

120. 定义：

①**服务市场**：是组织和实现服务商品流通的交换体系和销售网络，是服务商品生产、交换和消费的综合体。

②**市场营销**：指在变化的市场环境中，旨在满足消费需要、实现企业项目的商务活动过程。

③**人员推销**：是由企业派出推销人员或委派专职推销机构向目标市场顾客介绍和销售产品的经营活动。

典型例证：

① 证券交易所 ② 某市妇联在“三·八”节为某校女教师赠送美容品

③ 某企业在春节期间，部分商品采用买一送一的销售方式

上述典型例证与定义存在对应关系的数目有：

- A. 0个 B. 1个 C. 2个 D. 3个

二、阅读理解(121—135题)

(一) 阅读材料，根据题意选择符合要求的一项(121—130题)：

121. 如果工人没有合法、管用、可行的手段迫使企业改善安全条件的话，就是领导的批示再多，制定的矿山安全标准再具体，那也是一纸空文。就像马克思所说的那样：“资本是根本不关心工人的健康和寿命的，除非社会迫使它去关心。”要让矿主、企业记住矿井里最值钱的不是煤炭，而是工人，要让人尊重生命，关心生命，首先就得让生命值钱，让生命价值连城。

这段文字是针对什么问题阐述观点的：

- A. 企业主对矿工生命的漠然 B. 企业主惟利是图，不改善安全条件
C. 工人没有合法、管用、可行的自我保护手段 D. 社会缺乏有效的保障体系

122. 如果你扯谎，你就得付出维护谎言的成本，特别是在 INTERNET 时代，你的谎言编得越大，维护谎言的成本就越高，有时还往往被人揭穿。

这段文字意在告诉我们：

- A. 扯谎及维护谎言都是与社会不和谐的 B. 信息时代尤其要老实地低成本做人
C. 信息时代是谎言需要付出高成本的时代 D. 扯谎既没有市场又往往容易被人揭穿

123. 我国是国际标准化组织成员。政府应该鼓励农产品生产、加工企业和学术团体积极参加国际标准化活动，从中获取发达国家大公司的标准信息，了解他们的技术动态和运作诀窍，并争取使国内的意见和建议能为即将制定或修订的国际标准所采纳。这对减少技术性贸易壁垒影响，是十分有利的。

适合本段文字的小标题是：

- A. 获取标准化信息 B. 减少技术性贸易壁垒
C. 积极参加国际标准化活动 D. 制定或修订国际标准

124. 无痛胃镜一个最大的优点就是诊断准确率特别高。它具有影像质量好、屏幕画面大、图像清晰、分辨率高、弯曲角度大、操控灵活等优点。通过它，医生能够用肉眼直接观察到消化道的内部情况，能够发现诸如溃疡、肿瘤、息肉等病变，还能看清黏膜的充血、水肿以及色泽改变等细微变化，并且可以在直视下活检做病理检查。

本段文字是从哪一角度阐述无痛胃镜的优点：

- A. 医生 B. 病人 C. 医生和病人 D. 全面

125. 有位拳击手在一次比赛中被对手打得晕头转向，观看比赛的所有人都担心他会中途倒下，可是出人意料，他承受了暴风雨般的重拳袭击，支撑着打完了全场。观众把更多的掌声献给了他。事后记者问他：“不可思议，你是怎样从第二回合开始，一直坚持忍耐到最后？”拳手觉得奇怪：“我没有忍耐呀！我只想着‘防御’和‘攻击’，当时我的脑海中根本就没有‘忍耐’这个意识闪现。”

根据这段文字，可以推出的是：

- A. “忍耐”可以让你度过难关，坚持到最后 B. 没有想到忍耐，才是能够“忍耐”下去的重要因素
C. 记者往往用自己预设好的框框去套住被采访者 D. 处于被动状态的人常常言不由衷

126. 读书是上帝恩赐给读书人的一种享受，那种宁静致远的体味远不是宝马豪宅所能比的。尤其是秋雨绵绵的午后，一卷书、一杯清茶抑或一杯浓咖啡相伴，临窗而坐，沉浸于听雨、读书的梦境中，阅读经典，阅读自己，也阅读自然，悠哉游哉，还有什么不能放下？

最符合这段文字中心思想的是：

- A. 读书是使人宁静致远的高级享受 B. 读书需要选择最佳的阅读环境
C. 读书须阅读经典，阅读自己，阅读自然 D. 读书会使人进入梦境，悠哉游哉地生活

127. 我市保险业有关人士指出，目前的保险市场还处于发展的起步阶段，从营销本身看还属于关系营销阶段。在保险销售过程中，人情关系有时超出产品和服务本身，离保险发达市场的产品营销、品牌营销还有很大的距离，这种销售方式的理性成分明显还不够。

根据本段文字归纳保险市场的发展阶段和性质：

- A. 初级阶段，起步阶段，发达阶段
B. 关系营销阶段，情感营销阶段，产品、品牌营销阶段，理性营销阶段
C. 初级阶段(关系营销)，发达阶段(产品营销、品牌营销)
D. 关系营销阶段，情感营销阶段，理性营销阶段

128. IDC 最近的调查显示，中国人所用的软件中有 92%是盗版，信息产业部的调查显示，有 37%的中国软件公司受盗版困扰。中国尚幼稚的 IT 产业，特别是有 190 亿美元市场规模的软件产业是中国经济发展的动力，不根除盗版，软件产业就不能健康发展。

这段文字的意思是在强调：

- A. 消除盗版势在必行 B. 软件产业是中国经济发展的动力
C. 中国的 IT 产业有广阔的前景 D. 中国软件公司和软件使用者都受盗版困扰

129. 2005 年 2 月 16 日，《京都议定书》正式生效。《京都议定书》的生效，有可能加快一些工业国家的能源密集型企业向中国的转移，以此来减少本国的温室气体排放压力。

通过这段文字我们可以知道：

- A. 《京都议定书》生效后，中国的经济将以较快的速度发展
B. 《京都议定书》生效后，一些工业国家将青睐中国市场
C. 《京都议定书》的实施，带有浓重的国家利益和国际政治色彩
D. 《京都议定书》的实施，对中国经济将会有负面效应

130. 在目前的情况下，每个人都愿意自己的物质生活更好一点，通过写作来改变生活也是一种良好愿望，同时还创作出更好的影视剧，这都不是坏事。而我的大部分小说在我一开始写作时就能感觉到不可能改编成电视剧，比如有关档案、民选、沉默权等都是不可能改编成电视剧的，凭我的智商是能判断这一点的。

这段话的主旨是：

- A. 作者的大部分小说都不可能改编成电视剧 B. 通过写作来改变生活是一种良好愿望
C. 作者的智商不低 D. 小说能改编成更好的影视剧

(二) 阅读文字材料，按要求选择最符合题意的一项(131-135 题)：

新加坡的饮茶文化有其独特的一面，由于新加坡是一个多元文化的社会，喝茶也反映出其多元文化的一面，除了中国茶和英国茶之外，新加坡特有的“长茶”(Stretched Tea)已成为观光客十分欣赏的一种民族表演艺术。所谓“长茶”是把泡好的红茶加牛奶，然后由某师傅把奶茶倒进罐子里。操作者一只手拿着盛满奶茶的罐子，然后倒进另一只手拿的空杯子里，两只手的距离约在一米之间，如此来回须7次。在来回倒茶的过程中，奶茶是不允许外溢的。由于“长茶”的杯子相当大，喝起来相当过瘾，喝茶者边品茶，边欣赏精彩的倒茶，心情也会变得轻松。

在新加坡喝茶和在英国不一样，这也许是一种多元化的演变。在英国喝茶是以茶为主，佐之以一些饼干和小三明治。而在新加坡喝下午茶则是以吃为主，茶的好坏却不十分重要。许多观光饭店提供的下午茶，均以自助式点心为主，从印度式的煎蛋饼到中国的广式点心，花样繁多。即使是在五星级宾馆喝茶，也常常会用茶叶袋泡的大壶茶来待客。

中国茶近年在新加坡也十分显眼。一些专喝中国茶的“茶村”、“茶馆”常常顾客盈门。新加坡的“喝茶族”并不只是两鬓斑白的老人，似乎更多的是一些年轻人，他们常常三五成群或成双成对，借喝茶谈些公事和松弛一下自己的身心。由于到新加坡的日韩游客较多，会做生意的茶室还专门提供一些日韩客人喜欢的茶叶。每到黄昏降临，新加坡街头和茶室就会慢慢热闹起来，成为街头一景。

131. 根据文章推断，“长茶”的“长”是指：

- A. 倒茶师傅的手臂长 B. 喝茶的时间长 C. 茶杯又大又长 D. 倒茶的距离长

132. 新加坡饮茶文化的多元化表现在：

- A. 既有中国茶和英国茶，还有独有的“长茶” B. 除了中国茶、英国茶和长茶外，还有日韩茶
C. 不仅老人进茶馆，更多的是一些年轻人 D. 喝茶要加点心

133. “长茶”喝着过瘾是由于：

- A. 泡茶的罐子大 B. 喝茶的杯子大 C. 茶里加牛奶 D. 喝茶时心情轻松

134. 最能概括本文的标题是：

- A. 新加坡饮茶文化的特点 B. 独特的新加坡饮茶文化
C. 多彩的新加坡饮茶文化 D. 新加坡的饮茶文化

135. 新加坡喝茶与英国喝茶最主要的不同在于：

- A. 新加坡有“长茶”而英国没有
B. 英国喝茶是以茶为主、以吃为辅，而新加坡喝下午茶则以吃为主、以茶为辅
C. 英国喝茶是以吃为主、以茶为辅，而新加坡喝下午茶则以茶为主、以吃为辅
D. 英国喝茶的点心是饼干和小三明治，而新加坡辅助喝茶的点心是印度煎蛋饼或中国的广式点心

第五部分 资料分析

(共 20 题，参考时限 20 分钟)

资料分析试题要求考生对所提供的文字、表格、图形资料中的信息进行分析、计算、处理，然后从备选答案中选择一个最适当的答案。

一、文字资料(136-140 题)

2003 年 1 月~6 月份我国电子信息产业生产增长 27.2%，高于全国工业增幅 11 个百分点，贡献率达 14.9%。完成工业增加值 1512.1 亿元，同比增长

33.9%；完成销售收入 7339.9 亿元，同比增长 28.5%；实现利润 282.2 亿元，同比增长 13.8%。其中计算机行业实现利润 62.8 亿元，同比增长 33.4%，对全行业贡献率为 45.9%，居行业之首。通信 55 亿元，家电 31 亿元。

2003 年 1~6 月份电子信息产品进出口总额达 1123.5 亿美元，同比增长 50.7%，其中出口额为 569.1 亿美元，同比增长 47.1%，高出全国外贸出口 13.1 个百分点，占全国外贸出口额的 29.9%，贡献率达 37.7%。这半年电子产品进口总额为 554.4 亿美元，同比增长 54.6%，实现贸易顺差 33 亿美元。计算机类产品出口猛增，达 258.3 亿美元，占全行业出口总额的 45.4%，居行业之首。手机出口 3902 万部(29 亿美元)。出口额超 10 亿美元的产品有：PC 机、显示器、打印机、DVD 等。三资企业出口占总额的 82.7%，增速达 54.2%。珠江三角洲和长江三角洲是电子产品出口的主要地区。

2003 年 1~6 月份电子全行业产销率为 96.6%，增幅较大的产品有手机、PC 机、笔记本电脑、背投彩电、打印机等。计算机行业发展势头强劲，半年生产增速达 46.6%，对全行业生产增长的贡献率达 41.4%，成为行业发展的主导力量。特别是 PC 机，生产增长 117.1%，销售增长 151.6%，出口增长 95.4%，均比去年同期高出 1

倍左右。笔记本电脑的产销量已占到微机总量的 25%以上，通信制造业增长 23.8%；元器件增长 22.6%。

136. 2003 年，1~6 月份，我国电子信息产业的销售利润率为

- A. 3.12% B. 3.84% C. 3.96% D. 4.08%

137. 2002 年 1~6 月份，我国电子信息产业的进口额为多少亿美元？

- A. 358.6 B. 386.9 C. 745.5 D. 830.2

138. 2003 年 1~6 月份，我国手机山口的平均单价是多少美元 / 部？

- A. 123.26 B. 112.58 C. 83.63 D. 74.32

139. 2003 年 1~6 月份，全国外贸出口同比增长百分之几？

- A. 25 B. 31 C. 34 D. 36

140. 下列说法错误的是

- A. 2003 年 1~6 月份，电子产品出口的主要地区是珠江三角洲和长江三角洲
 B. 2003 年 1—6 月份，计算机行业对电子全行业生产增长的贡献率超过了 40%
 C. 2003 年 1~6 月份，台式电脑的产销量占到微机总量的 75%以上
 D. 2003 年 1~6 月份，DVD 的出口额占计算机类产品的比重一定高于 3.87%

说明：题中所列数据“实现贸易顺差 33 亿美元”有问题，但不涉及答题。

二、表格资料 (141-150 题)

(一) 请根据下表所提供的信息回答问题：

2003 年我国检察机关直接立案侦察案件情况

案例：分类	受案件数 (件)	立案件数 (件)	立案人数		结案 件数 (件)	结案人数 (人)
			(人)	要案		
合计	71032	39562	43490	2728	37042	40639
贪污贿赂案件：小计	55333	31953	34922	2389	29986	32707
贪污	29276	14161	16162	632	13172	14979
贿赂	16476	10553	10922	1378	9861	10197
挪用公款	8272	6754	7249	289	6472	6936
集体私分	1023	419	515	76	414	512
巨额财产来源不明	193	32	32	12	18	19
其他	93	34	42	2	49	64
渎职案件小计	15699	7609	8568	339	7056	7932
滥用职权	4047	2049	2208	141	1873	2014
玩忽职守	4029	2545	2743	126	2402	2595
徇私舞弊	4354	1509	1656	39	1434	1587
其他	3269	1596	1961	33	1347	1736

141. 2003 年，在我国检察机关直接立案侦查的案件中，贪污案件的立案件数是贿赂案件的立案件数的多少倍？

- A. 1.34 B. 1.56 C. 1.60 D. 1.22

142. 2003 年，在我国检察机关直接立案侦查的案件中，挪用公款案件的立案人数中要案立案人数占百分之几？

- A. 2.64 B. 2.58 C. 3.99 D. 4.21

143. 2003 年，在我国检察机关直接立案侦查的案件中，平均每件立案渎职案件的立案人数为多少人？

- A. 0.99 B. 1.26 C. 1.13 D. 1.31

144. 2003 年，在我国检察机关直接立案侦查的案件中，贪污、贿赂、挪用公款、集体私分、巨额财产来源不明案件的结案案件合计为多少件？

- A. 27981 B. 28367 C. 29217 D. 26937

145. 2003 年，在我国检察机关直接立案侦查的案件中，滥用职权案的受案件数比玩忽职守案的受案件数多多少件？

- A. 16 B. 18 C. 102 D. 209

(二) 请根据下表所提供的信息回答问题:

2003年全国交通事故情况

类别	发生数(起)	死亡人数(人)	受伤人数(人)	损失折款(万元)
总计	667507	104372	494174	336914.6
重大事故	91758	92594	50116	58312.0
特大事故	3927	7720	8167	33922.0
机动车	627029	93390	462427	330502.4
汽车	483197	61869	310963	300164.0
摩托车	97381	20026	111797	133881.9
拖拉机	13859	3294	11882	3823.3
非机动车	17393	4018	14918	2535.2
自行车	14331	3278	12149	2027.5
行人、乘车人	18639	6022	14027	2738.3
其他	4446	942	2802	1138.7

146. 每次特大交通事故的平均损失折款多少万元?

- A. 7.32 B. 7.93 C. 9.26 D. 8.64

147. 在2003年的全国交通事故中, 机动车发生的交通事故数量所占的比重为

- A. 93.94% B. 84.26% C. 90.01% D. 99.75%

148. 表中所列2003年机动车交通事故中, 哪种机动车的平均每次事故死、伤人数最多?

- A. 汽车 B. 摩托车 C. 拖拉机 D. 自行车

149. 在2003年的全国交通事故中, 死于机动车事故的人数中至少有百分之几死于重、特大事故?

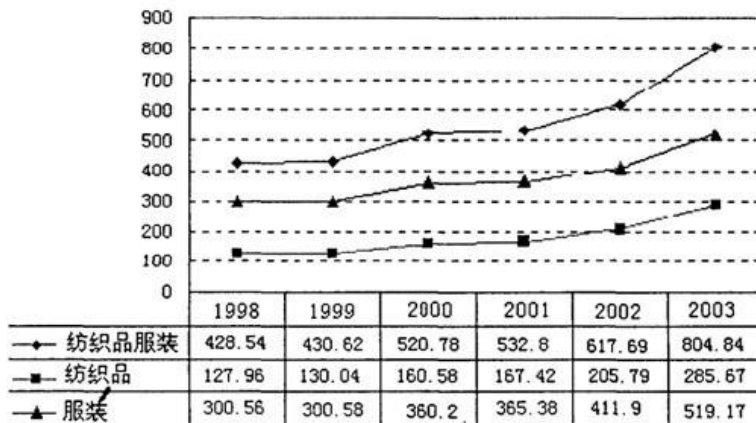
- A. 95.65 B. 90.01 C. 87.26 D. 88.03

150. 在2003年的全国交通事故中, 摩托车的交通事故数为多少起?

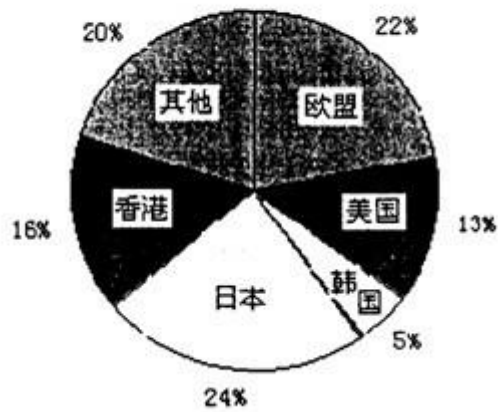
- A. 97381 B. 483197 C. 13859 D. 14331

三、图形资料(151-155题)

1998-2003年中国纺织品服装出口增长情况 单位: 亿美元



2003年中国纺织品服装出口主要国家和地区



151. 2003年中国纺织品服装出口的年增长率比1999年
A. 小 B. 大约10个百分点 C. 大得多 D. 略大
152. 1998-2003年, 中国纺织品出口的年平均增长额是多少亿美元?
A. 75.26 B. 31.54 C. 43.72 D. 22.29
153. 下列说法正确的是
A. 1998-2003年, 中国纺织品服装出口增长率逐年上升
B. 1998-2003年, 中国纺织品服装出口增长额逐年上升
C. 1998-2003年, 中国纺织品出口在纺织品服装出口中所占的比重逐年上升
D. 1998-2003年, 中国服装出口在纺织品服装出口中所占的比重逐年上升
154. 2003年我国纺织品服装在美国的出口额比日本少多少亿美元?
A. 121.38 B. 46.21 C. 113.06 D. 88.53
155. 2003年中国服装出口, 占纺织品服装出口的比重为多少?
A. 64.51% B. 35.49% C. 67.39% D. 32.61%