

2010年四川公务员考试《行测》下半年卷

整理：杨柳（微信：gwy288）

来源：F

一、数量关系，共 15 题，本部分包括数字推理、数理计算。

1、3, 4, 6, 9, 14, 22, 35, ()

A、47 B、49 C、53 D、56

2、0, 7, 26, 63, ()

A、124 B、153 C、188 D、196

3、-2, 3, -5, 8, -12, ()

A、15 B、17 C、20 D、23

4、1, 2, 5, 12, 29, ()

A、59 B、60 C、65 D、70

5、1, 2, 6, 15, 40, 104, ()

A、233 B、256 C、273 D、296

6、一个自然数(0除外)，如果它顺着数和倒过来数都是一样的，则称这个数为“对称数”。例如，2, 101, 1331 是对称数，但 220 不是对称数。由数字 0、1、2、3 组成的不超过 3 位数的对称数个数有多少个：

A、9 B、12 C、18 D、21

7、某快速反应部队运送救灾物资到灾区。飞机原计划每分钟飞行 12 千米，由于灾情危急，飞行速度提高到每分钟 15 千米，结果比原计划提前 30 分钟到达灾区，则机场到灾区的距离是多少千米：

A、1600 B、1800 C、2050 D、2250

8、从 0、1、4、7、8 中选 4 个数字组成若干个四位数，把其中能被 3 整除的四位数从小到大排列起来，那么第十个数是：

A、4017 B、4071 C、4107 D、4170

9、有一根长 240 米的绳子，从某一端开始每隔 4 米做一个记号，每隔 6 米也做一个记号。然后将标有记号的地方剪断，则绳子共剪成多少段：

A、40 B、60 C、80 D、81

10、某种细胞开始时有 2 个，1 小时后分裂成 4 个并死去 1 个，2 小时后分裂成 6 个并死去 1 个，3 小时后分裂成 10 个并死去 1 个……按此规律，6 小时后细胞存活的个数是多少个：

A、63 B、65 C、67 D、71

11、有 9 千克、6 千克、2 千克的糖和 15 千克、8 千克、7 千克的面粉各一袋，每千克糖的价格是每千克面粉价格的 2 倍。某人买了其中 5 袋，并且买糖和买面粉的价钱一样，则剩下那袋食品重多少千克：

A、8 B、7 C、6 D、2

12、有一列数，第一个数是 90，第二个数是 80。从第三个数开始，每一个数都是它前面两个数的平均数。则第 100 个数的整数部分是：

A、80 B、83 C、85 D、87

13、有三个居委会的居民共订 600 份《华西都市报》，每个居委会至少订 199 份，最多订 201 份，则不同的订报方式有多少种：

A、3 B、5 C、6 D、7

14、已知数列 $\{a_n\} = \begin{cases} 3n + 1 & (n \text{ 为奇数}, n \in N) \\ 2n - 2 & (n \text{ 为偶数}, n \in N) \end{cases}$ ，则 $a_2 \cdot a_3 = ()$

A、70 B、28 C、20 D、8

15、某单位的招聘考试有 1000 人报名，录取了 150 人，被录取者比未被录取者的平均成绩高 38 分，两者总平均分是 55 分，录取分数线比录取者的平均成绩少 6.3 分，则录取分数线是多少分：

A、79.5 B、81 C、83 D、87.3

二、言语理解，共 35 题，本部分包括表达与理解两方面的内容，请根据题目要求，在四个选项中选出一个最恰当的答案。

16、中国、印度、巴西、南非等发展中国家主动采取了减排措施，为促进哥本哈根会议取得积极成果发挥了积极的（ ）作用。

A、指导性 B、战略性 C、战术性 D、建设性

17、当前 DNA 基础的测试方法使科学家排除了外星球生命形式并非起源于地球的可能性。这（ ）着科学家期望外星球生命能够具有与地球任何已知有机生命完全不同的 DNA 结构。

A、预示 B、标志 C、意味 D、暗示

18、为了抵御金融危机，各国政府共同放松信贷、降低利率、发行货币，就是为了加大流动性，满足资本盈利的要求。可是，这无疑是一种（ ）的方法。因为，资本在获得利润满足后必然把更大的危机丢给社会。

A、饮鸩止渴 B、亡羊补牢 C、杀鸡取卵 D、竭泽而渔

19、真正的社会主义法治国家，应是以社会为本位，以社会至上，（ ）要建立法治国家，（ ）要形成法治社会。

A、既又 B、一面一面 C、既然那么 D、不只更

20、事实上，尺度如果把握不好，正当的新闻舆论监督也可能转化为不当的新闻审判。为此，我们有必要（ ）新闻媒体的职责与定位，避免新闻对司法活动的过度（ ），从而形成正常的新闻舆论氛围。

A、厘清 干涉 B、厘清 干预 C、理清 干涉 D、理清 干预

21、在金融危机下，税务人员并不知道每个企业的资金链到底有多（ ），能够承受起多大的（ ）。

A、脆弱 风吹草动 B、牢固 大起大落 C、强韧 风吹草动 D、稳固 暴风骤雨

22、只有_____中国历史的人才会知道，自南北朝以来日益兴盛的佛教，特别是经过武则天的_____以后，才真正达到了发展的最高峰。

依次填入画横线部分最恰当的一项是：

A、熟习 扶持 B、熟悉 扶持 C、熟悉 扶植 D、熟习 扶植

23、蝶，是一个（ ）的名字，如昙花，如流星，生命在破茧后的几天里（ ）。但有时生命的消亡并不意味着精神的（ ），就像蝶，它们会成为庄生梦里的化身，会传送梁祝生死不渝的约定。

A、虚幻 一闪而逝 幻灭 B、震撼 倏忽而逝 泯灭 C、感动 转瞬即逝 消灭 D、惊艳 匆匆而逝 毁灭

24、风暴过后，我们如果发现市场经济最坚定的（ ）在亚洲，也无需惊讶。发生于上个世纪末的亚洲金融危机使得这个大洲（ ），它们已经从这些经历中学到（ ）的重要性，已经学会更加成熟地处理和应对全球化的各种问题。

A、基础 化险为夷 防患未然 B、拥趸 因祸得福 未雨绸缪

C、柱石 反败为胜 有备无患 D、支柱 转危为安 谋敌未动

25、启蒙意味着告别闭塞和蒙昧，走向____，启蒙的核心在于对理性的运用和____。启蒙思想家相信宇宙的合理、秩序与可知，并据此对知识、国家、社会以及人伦进行合理而有序的____。

依次填入画横线部分最恰当的一项是：

A、文明 赞美 重建 B、聪明 显现 重塑 C、光明 向往 重组 D、开明 张扬 重构

26、下列语句中，有语病的一项是：

A、我国企业职工养老保险制度不断完善，各省已全部出台养老保险省级统筹办法

B、“电荒”隐忧的背后不是表现供求关系，而是煤电价格形成机制的反应

C、地铁网络正在逐渐完善，硬件是达到了世界先进水平，而软件服务与世界先进水平差距太大

D、我们要号召更多社会人士关注慈善事业，为爱心活动贡献一份力量

27、下列语句中，有语病的一项是：

A、科举制度从隋朝确立以来，内容逐步充实丰富，成为中国封建社会最主要的文官选拔制度，对中唐以来的历史影响深远

B、元朝统一天下以后，把百姓分为蒙古人、色目人、汉人、南人四等，从此对这四等人实行有区别的民族对待和统治政策

C、由老子、庄子开创的道家学派与儒家学派一样，共同构成中国传统文化和哲学思想体系的两座不可或缺的基石

D、所谓纪传体方法，即以记人为主体的历史叙述方法，《史记》的作者司马迁用这种方法开创了以往编年体历史体例以外的新天地

28、下列语句中，没有语病的一项是：

- A、海盗利用赎金在自己的小型船上购买和安装了高速马达和全球定位系统等高性能设备
- B、如果朝鲜问题非得通过军事手段来解决，这无疑将会给整个东北亚地区带来灾难性后果
- C、冷战结束后，国际关系的前景在苏联共产主义大厦倒塌的黄昏里露出了一缕微弱的曙光
- D、中国汽车市场是世界上发展最快的国家之一，问题是现在中国的汽车企业非常分散，不能形成有效的竞争力

29、下列语句中，有语病的一项是：

- A、为了遏制官员子女腐败的现象不再发生，中央政府新近出台了一系列的规定
- B、由于往往陷于发展速度与规模的单一追求，一些城市已经破坏了原生态之美
- C、随着京广、京沪高速铁路等即将竣工通车，我国必将很快迎来一个高铁时代
- D、作为全球最畅销的教科书之一，哈耶克的著作《经济学》影响了整整一代人

30、下列语句中，有语病的一项是：

- A、据专家们介绍，占地 17 亩的成都博物馆将与天府广场区域周边建筑风格相融合，具有传统、时尚的成都特色
- B、《中共党建辞典》已经收录了“网络反腐”的词条，这表明我党正积极探索利用网络反腐，监督官员廉洁自律
- C、从第一声啼哭开始，眼泪便成为成长道路上不可或缺的点缀，心灵创伤、肉体疼痛等原因都可能使人落泪
- D、关于给乙肝病毒携带者颁发健康证的问题，国家相关文件从理论和政策两方面作了明确的规定和详细的说明

31、下列语句中，成语使用错误的一项是：

- A、专家指出，大盘近期在海外市场连续震荡，使一度处于低迷状态的指数基金雪上加霜
- B、许多老年人都喜欢告诫年轻人，做事情应该虚心听取他人的意见，千万不能善自为谋
- C、这次意大利总理贝卢斯科尼遭袭事件，使得意大利内阁重组的前景再一次成为海市蜃楼
- D、2009 年“时尚先生”古力在上个世纪末就名噪一时，成为中、日、韩国棋界中的风云人物

32、下列语句中，没有语病的一项是：

- A、中国人不爱喝牛奶的原因主要是人们的饮食习惯还没有进行相应的改善所致
- B、巴基斯坦、伊拉克地区连日发生多起武装冲突，当地各大医院药品非常奇缺
- C、人们担心，迟早出现的克隆人将从根本上改变人类数百万年的两性生殖方式
- D、翻开经济发展的历史，人们会发现经济衰退往往总是会与经济泡沫同步出现

33、下列语句中，成语使用正确的一项是：

- A、这位老红军战士几十年如一日，坚持奋斗，勇猛精进，为党为人民做了很多艰苦的工作
- B、每当看到这些照片和证书，老张就会面带微笑，深情地回忆起自己煊赫一时的大学时光
- C、“没有调查就没有发言权”，新闻记者一定要深入一线，管窥蠡测，绝不能从事虚假报道
- D、每个人都有长处和短处，这就要求领导干部直情径行，使他们能发挥特长，为人民服务

34、下列语句中，有歧义的一项是：

- A、中国在世界主要经济体中继续保持最快的发展速度
- B、他冲破了层层阻力，最终踏上了祖国大陆这块日思夜想的土地
- C、工信部称将加快立法为手机实名制提供法律依据
- D、中国相信自己的相关出口措施符合世贸组织的原则和规则

35、下列语句中，没有语病的一项是：

- A、目前，某些中学的教育出现了一些令人担忧的现象：高一、高二的学生数学特别好，因此对语文缺乏兴趣
- B、新近的一项调查显示，我国高等院校在未来的 5 到 10 年左右，毕业生人数在达到历史最高峰后将逐年回落
- C、一个国家科技人才的数量决定了科技实力，体现了综合国力在国际竞争中的地位，是国家兴衰的重要标志
- D、充分认识科技体制和教育体制的交互作用，以及怎样利用这种作用反过来去刺激新的科技创造，极为重要

36、自 2004 年 6 月 26 日开始，6 家环保 NGO 发起的“26℃空调节能行动”已经起航 5 年，但在今夏用电高峰期，北京大多数室内空调的温度都在 23℃—25℃，个别甚至低于 20℃。事实上，如何推进环保运动的持续性一直考验着 NGO 的行动能力。而在偃旗息鼓的背后，更涉及南北气温差异，行动的具体效果引起争议等 NGO 协调问题。今夏电力仍旧紧张，多家 NGO 均表示，虽然自身暂时没有相关计划，但如有同行呼吁，他们将一如既往地支持参与。最适合做这段文字标题的是：

A、偃旗息鼓的 26℃行动

B、NGO 行动能力下降

C、偃旗息鼓的背后

D、今夏电力紧张使得 26℃行动偃旗息鼓

37、像历史上的任何一次大规模移民一样，搬迁只意味着第一步的迈出。外迁移民需要一个漫长的适应与被吸纳的过程。其中有一些人，因无法适应全新的生活环境，选择回到接近故土的地方，被称为移民的“返流”现象。移民“返流”提出的是复杂的课题，既说明政策上有尚需跟进和完善之处，也表明外迁移民与迁出地之间需要更积极的融合。

对这段文字概括最正确的一项是：

A、历史证明大规模移民并不可取

B、“返流”的增多，伴生了许多新的社会问题

C、“返流”现象表明移民安置是一项系统工程

D、移民的“返流”现象不可避免

38、翻翻旧杂志，便能发现一些有关人性的很有意思的东西。20 世纪初的报纸和杂志充斥着有关快速减肥仪、神奇治疗术以及其他种种明显的江湖骗术的广告。一个世纪之后，这类东西仍然在广告——而且响应者如云。这其中是否包含着深刻的人类行为和心理的信息？

在这段文字中，作者想要表达的观点是：

A、人类社会有着极强的群体心理、社会习惯的延续性

B、减肥广告、江湖骗术一直伴随着人类自近代以来的社会

C、现代的人与一个世纪以前的人见识、判断、心智上并无两样

D、对虚假广告的趋同反映出人类共同的行为和心理惯性

39、在西方社会里，孩子成年独立了住在家里都得给父母膳食费，这已是西方社会约定俗成的现象。这种社会里，大家承认团体的界限，在团体里的成员得具备一定的资格与条件，资格取消了就得走出这个团体。这在他们不是人情冷暖的问题，而是权利问题。在西方社会里人们争取的是权利，而在我们中国，人们看重的却是相互关系、交情。

在西方，人们组成一定的社会团体最看重的是：

A、团体成员的界限

B、团体成员的资格与条件

C、团体成员的权利

D、团体成员的关系与交情

40、国际奥委会主席雅克·罗格在伦敦表示，2012 年夏季奥运会的主办城市伦敦不必将超越 2008 年北京奥运会作为目标，只要“做好伦敦”就可以了。他说：“没有一届奥运会比其他奥运会更好。既没有‘最好的’也没有‘最大的’奥运会，它们只是各具特色而已，每一届奥运会都是独一无二的。资金不是决定奥运会质量的唯一要素，最重要的是在（主办）城市营造的氛围。”

对于 2012 年伦敦奥运会，下列各项能代表雅克·罗格观点的是：

A、反对将超越 2008 年北京奥运会作为 2012 年伦敦奥运会的目标

B、对 2012 年伦敦奥运会能否超越 2008 年北京奥运会持悲观态度

C、对 2012 年伦敦奥运会能否办出自己独一无二的风格特色表示乐观

D、资金投入和城市气氛的营造将是伦敦奥运会取得成功的重要因素

41、掌握不到足够的讯息而妄断是危险的，不经自己独立思考而盲从他人意见是愚蠢的，可是社会的运转与生活的恒常，有时却不得不依照这种盲从和妄断。举个例子，你生病去医院，那么多医生你会选哪一位，肯定是“专家门诊”或是熟人介绍的“名医”。世界如此复杂，每个配件彼此依赖，我们所有人都不得不依靠别人的专业意见，这种信赖固然是人与人之间的关系，但它更是对一套系统、规则和制度的信任。

这段文字主要的观点是：

A、提倡独立思考的批判精神，反对盲目听从他人妄断

B、人们常常不得不为现实生活而盲目听从和依靠别人的意见

C、信任是建立在一套大家共同认可的系统、规则或制度上的社会信任

D、信任如同“专家门诊”或熟人的“名医”介绍，是生活中的常态

42、黑格尔在《美学》里指出：康德所理解的艺术美的内容与形式的统一“只存在于人的主观概念里”。席勒却能“把这种统一看做理念本身，认为它是认识的原则，也是存在的原则”。这就是说，席勒认知到这种统一体不只存在于主观的思维中，也存在于客观的存在中；“通过审美教育，就可以把这种统一体实现于生活”。

对这段文字的理解，最正确的一项是：

- A、黑格尔的《美学》主要讨论的内容是艺术美内容与形式的统一问题
- B、艺术美内容与形式的统一不仅是一种思维存在，而且是一种物质存在
- C、作者认为，席勒的艺术美学观里包含着主观与客观辩证统一的内容
- D、就艺术美内容与形式的统一问题，黑格尔认为席勒比康德的认识更进了一步

43、正如想象的那样，性格外向的人喜欢“贵一些”的通讯方式，例如打电话和发送即时信息，因为这种方式回复起来一般都比较快，心理学家称之为“同步性”。热情奔放、生性大胆的人也会选择这些方式。性格内向和容易紧张的人则比较喜欢电子邮件，因为这种方式他们比较好把握，知道应该说什么，什么时候应该说。电子邮件是最便宜的一种方式，而且还有一点，电子邮件能让你的交流速度慢 5 倍。

对于这段文字，下列理解正确的是：

- A、“贵一些”的通讯方式是财富、身份、地位的象征，所以为性格外向者所喜欢
- B、性格外向、热情奔放、生性大胆的人通常会拒绝电子邮件的通讯交流方式
- C、因为电子邮件的交流速度要相对慢 5 倍，适合情感和反应迟缓的性格内向者
- D、电子邮件让交流者有更多的时间思考、酝酿及表达，能让人们更好把握交流

44、请别忘记，要想真正成为清洁能源领域的胜利者，中国还面临着很多问题。中国依然高度依赖污染最大的矿物燃料——煤。与西方电厂相比，中国大部分电厂能源效率较低，二氧化碳排放量较多。中国培养了大批工程师，但还需要有能够与麻省理工学院、硅谷或通用电气“绿色创想”部门相媲美的研发中心。中国正在忙于构建一个现代化经济体的基础设施，却没有欧洲重视生产质量的传统。

下面列出了中国在发展清洁能源上面临的问题，不符合文意的一项是：

- A、严重依赖矿物燃料煤，清洁能源领域还刚刚起步
- B、忽视生产质量，基础设施差，清洁能源发展前景受限
- C、创新能力弱，缺乏具备核心竞争力的技术研发机构
- D、技术水平低，能源利用效率不高，环境污染严重

45、成长为一名优秀的基层公务员，这是众多普通基层公务员的愿望和梦想。但在实际上，基层公务员的成长只有时间长短和难度大小的区别，而“一步登天”式的捷径并不存在。这就意味着，基层公务员必然要不断地接受挑战，不断地充实自己，才能保持旺盛的生命活力，追求更高的境界。

这段文字主要表明，基层公务员的成长是：

- A、普遍的职业追求
- B、积极的个体行为
- C、动态的持续发展
- D、内在的自我完善

46、诺贝尔经济学奖获得者克鲁格曼曾经指出：在经历数千年之后，现代社会运用大型计算机，对成千上万的因素进行计算得出未来的天气状况。但是，此种方法的预测精度和预测长度比原始的看云识天气并无显著的改进，特别是在预测极端天气和不稳定天气方面。所以，经济学家——他们预测的对象是本身就会做出预测的人的经济活动，他们的预测有时甚至不如一个经验老道的市场商人。

这段文字的主要内容是：

- A、举例分析经济学家进行经济预测的空白点
- B、形象解释计算机与经济学家预测的相似点
- C、客观揭示经济学家预测不准属于正常现象
- D、慎重提醒人们不要去轻信经济学家的预测

47、企业竞争在市场上直接表现为产品和服务的竞争，其中价格竞争只是较低层次的竞争，而成熟的产品和服务竞争更多地表现为“标志”竞争。现代社会的消费者越来越追求产品的文化符号和文化内涵，越来越追求消费过程中的人文关怀和文化感受。有竞争力的企业能够适应和提升消费者的文化理念和生活方式。在形成这样标志的过程中，企业文化具有不可替代的作用。

这段文字主要表现企业文化是：

- A、吸引客户的基础环节
- B、部署市场的核心内容
- C、战略发展的基本前提
- D、形象设计的内在底蕴

48、据报道，浑善达克沙地是内蒙古自治区中部和东部的四大沙地之一，处在华北平原正北方。据调查数据和卫星图片分析，半个世纪以来，浑善达克沙漠化土地增加 700 多万亩，流动沙地从 1960 年的 26 万亩增加到现在的 450 万亩，平均每年增加 10 万亩。上世纪 90 年代后随着经济发展，十年间年增 21 万亩，扩展速度惊人，比前 30

年扩展速度增加了一倍还多，目前正以每年 1.8 公里的速度向南推进，逼近京津。

对这段文字的理解有误的一项是：

- A、人类活动的频繁是导致浑善达克沙地急剧荒漠化的主要原因
- B、迄今为止，浑善达克沙漠化土地面积已增至 700 多万亩
- C、浑善达克沙地或许是造成京津沙尘暴的影响因素
- D、浑善达克沙地荒漠化严重，形势直逼京津城市

49、按照《京都议定书》，作为发展中国家，中国没有被要求限制二氧化碳排放量。但是从总量上看，我国碳排放已位居世界第二，到 2025 年前后，这一数字很可能超过美国居世界第一位。中国目前仍然不受绝对排放量的限制，是因为中国的人均排放量远低于世界平均水平。但是，随着中国的经济增长，中国的人均排放量可能会很快赶上世界平均水平。在最近结束的达沃斯世界经济论坛上，中国遭遇了严峻的气候压力。

下列说法中，最符合这段文字原意的是：

- A、限制二氧化碳排放量将严重影响和阻碍中国经济的发展
- B、中国是发展中国家，所以中国没有被要求限制二氧化碳排放量
- C、目前的碳排放协议为中国经济发展争取了短暂而宝贵的“排放空间”
- D、碳排放位居世界第一将是中国经济发展导致的必然结果

50、教育心理学家建议那些受孩子们“我觉得无聊”之类的话所累的父母，“无聊”远非某种不可挽回的判决，反而具有很多积极方面。它能激起孩子的创造力，帮助孩子观察、反思、理解、想象和创造。过去我们会发明一些小石子玩的小游戏，现在一切都被规划好了，而孩子创造的空间越来越小。此外，无聊的时间还可以用来让孩子学会独处，获得更多的自主性。

通过这段文字，下列对“无聊”认识不当的是：

- A、“无聊”感源于一切被规定好的生活，使孩子们丧失了创造的空间
- B、“无聊”让“我们”在童年时发明了用小石子玩的快乐游戏
- C、父母对孩子“无聊”感的恐惧超过了孩子对“无聊”的恐惧
- D、生活中感受到“无聊”的孩子才能有更独立、自主的完整人格

三、判断推理，共 30 题，本部分包括图形推理、定义判断、类比推理、逻辑判断。

51、定义：

①归纳推理就是以个别知识为前提推出一般性知识结论的推理。

②演绎推理是由普通性的前提推出特殊性结论的推理。

③类比推理就是概括两个或两类对象在某些属性上相同或相似，从而推出它们的另一属性上也相同或相似的推理。

典型例证：

①奥地利医生奥斯布鲁格从父亲经常用手敲击酒桶以确定其中存酒的多少受到启发，发明了叩诊法。

②锐角三角形的面积等于底乘高的一半；直角三角形的面积等于底乘高的一半；钝角三角形的面积等于底乘高的一半。所以，凡三角形的面积都等于底乘高的一半。

③一个三角形，或者是锐角三角形，或者是钝角三角形，或者是直角三角形。这个三角形不是锐角三角形和直角三角形，所以，它是钝角三角形。

以上与定义符合的典型例证数目有：

- A、2 个
- B、3 个
- C、0 个
- D、1 个

52、不完全归纳推理就是根据一类事物中的部分对象具有（或不具有）某种属性，从而推出该类事物的全部对象都具有（或不具有）某种属性的推理。

下列事例中，属于不完全归纳推理的是：

①一个贩毒团伙共有六名成员，通过考察了解到这个团伙的每一个人都有前科，于是得出结论：这个贩毒团伙所有人都有前科。

②鲁班将“手被锯齿状叶子的草划破”的事实用于“更快捷省力地伐木”的问题情景，从而创造出了锯子。

③人们发现元素的排列、天体的运行、四季的交替、生物的进化、社会的发展都是有规律的，由此概括出：一切物质的运动形式都是有规律的。

④一法医通过解剖几具溺水而亡的尸体，发现甲、乙、丙溺水死亡内脏有硅藻反应，于是得出结论：凡溺水死亡

者，其内脏都有硅藻反应。

⑤麻雀会飞、燕子会飞、鸽子会飞、喜鹊会飞、老鹰会飞、海鸥会飞，因此所有鸟都会飞。

A、①②③ B、④⑤ C、②④⑤ D、③④⑤

53、社会流动是指人们在社会结构空间中从一个地位向另一个地位的移动。

下列属于社会流动的是：

①一名在四川工作的国家公务员去西双版纳旅游。

②中央电视台著名节目主持人王志担任云南省丽江市副市长。

③一名蹬三轮车的工人被招进高校攻读硕士研究生。

④一名工人为节省上班途中时间调换到另一单位工作。

⑤张某结婚后迁居另一座城市。

A、②③④ B、①②③④ C、②④⑤ D、②③⑤

54、角色混淆是指人们对自己所要扮演的角色和角色规范认识不清，从而使扮演该角色的行为与其他角色的要求发生混淆的现象。

下列不属于角色混淆的是：

A、幼小儿童用对待家人的行动来对待客人，不会说委婉的礼貌语

B、为父母者未尽到教育好子女的责任而导致未成年子女违法犯罪

C、某科研院所研究员常常在家中与家人谈论科研中的问题

D、下级在非工作场合，对上级毕恭毕敬

55、社会问题是指社会中发生的被多数人认为是不合需要或不能容忍的事件或情况，而需要运用社会群体的力量加以解决的问题。

下列情况中，成为社会问题的是：

①甲型流感在今年秋冬季的大面积爆发问题。

②城市某社区业主与物管的纠纷问题。

③农村的养老问题。

④劳动年龄人口的劳动就业问题。

⑤城镇、农村的贫困问题。

A、①②③④⑤ B、①④⑤ C、④⑤ D、①③④⑤

56、共同加害行为是指二人以上共同故意或者共同过失致人损害，或者虽无共同故意、共同过失，但其侵害行为直接结合发生同一损害后果的，致使他人人身或财产受损的行为。

下列属于共同加害行为的是：

A、甲、乙两人与丙有积怨，甲怂恿乙去打丙，乙没有听从，后来，乙在路上遇见丙并与之发生争执，将丙打伤

B、甲、乙两家居住在同一栋楼房中，两家都有在阳台上养花的习惯，一日大风突起，甲、乙两家花盆均被吹落，一个花盆砸伤行人丙，但不能确定是谁家的花盆将丙砸伤

C、公路上，甲车因刹车失灵撞向乙车，致乘坐乙车的丙受伤

D、甲因与乙不合，对外谎称乙有贪污受贿行为，丙听到此事后不知真假，到处传播，造成乙名誉受损

57、反报是指一国对他国不礼貌、不友好或不公正但不违法的行为以同样的或类似的行为予以回报。

下列属于反报行为的是：

A、甲国因故宣布乙国驻甲国使馆的一名外交人员为“不受欢迎的人”后，乙国也宣布了甲国驻乙国使馆中的一名外交人员为“不受欢迎的人”。甲、乙两个国家都是1961年《维也纳外交关系公约》的成员国

B、中国甲公司向美国乙公司出口一批运动鞋，德国丙公司指控该批货物侵犯了其在美国登记注册的专利权，货物遭美国海关扣押

C、甲国是一个香蕉生产大国，其蕉农长期将产品出口乙国。现乙国颁布法令，禁止甲国的香蕉进口。甲国在要求乙国撤销该禁令未果后，宣布对乙国出口到甲国的化工产品加征300%的进口关税。甲、乙两国间没有涉及香蕉化工产品贸易或一般贸易规则的双边或多边条约

D、甲国军舰近年来屡有侵犯乙国周边岛屿的行为，乙国决定如果甲国军舰再有上述行为就命令本国军队予以回击

58、人格权是指公民和法人作为民事权利主体所享有的人格尊严不受侵犯的一种民事权利。

下列属于侵犯人格权的是：

- A、影迷甲在商场偶遇自己崇拜的影星乙，惊喜之余举起相机拍照。乙制止，甲仍坚持。乙被激怒，在众目睽睽之下将手中的饮料泼向甲
- B、甲多次违反工作纪律，被领导点名批评。甲自觉无颜见人便服药自杀，未遂，但造成身体伤害
- C、某公司的产品掺入了对人体有害的物质，被媒体点名曝光
- D、某单位职工甲向纪委反映该单位领导乙包二奶和生活奢侈、糜烂的情况

59、登临权又称临检权，是指各国军舰或经授权的政府船舶在公海上遇到外国船舶（军舰等享有豁免权的除外）有从事公约所列违反国际法的行为嫌疑时，有可以靠近和登上该船进行检查的权利。被登临的船舶只能是军舰和专用于政府非商业性服务的船舶以外的船舶。

下列情况中，可以行使登临权的是：

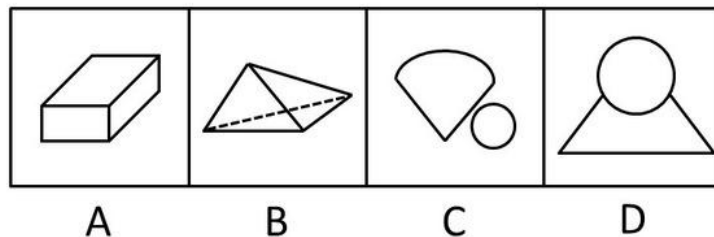
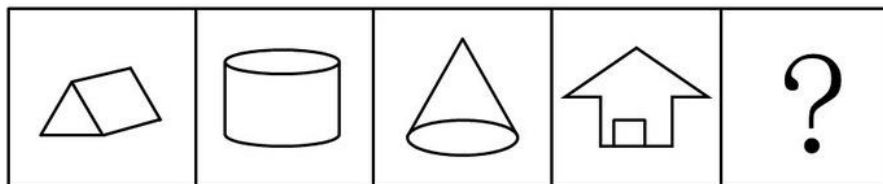
- A、停靠在乙国的某国船只“科特号”对乙国的港口造成了严重污染，在拒绝赔偿后，驶离乙国港口，乙国的海事船对其进行拦截，不准离开
- B、在公海上行驶的甲国军舰怀疑某外国商船“来福号”涉嫌贩卖毒品，便强行靠近并登船进行检查
- C、丙国军舰“克罗将军号”在公海中航行时，发现远处一艘名为“斯芬克斯号”的商船悬挂丙国国旗。当“克罗将军号”驶近该船时，换挂丁国国旗，便靠近、登船检查
- D、乙国怀疑在公海上行驶的甲国军舰违法贩运麻醉药品，便命令本国军舰追赶

60、社会分化是指原来承担多种功能的某一社会单位变为承担单一功能的多个单位，以及该社会单位由地位相同变为地位相异的现象。在这里，所谓社会单位既指社会个体、社会群体，也指社会机构。

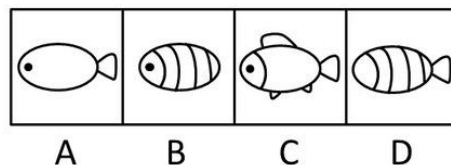
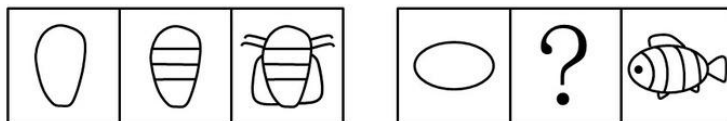
下列不属于社会分化的是：

- A、大学生毕业后有的从事科学研究工作，有的从事行政工作，有的进入经济领域
- B、同时参加工作的同事，后来有的当了局长，有的下岗失业
- C、李某与焦某结婚三年后离婚，后与万某结婚，经济条件有所改善
- D、中国传统社会重农抑商，现代社会农民在经济、政治等方面处于劣势地位

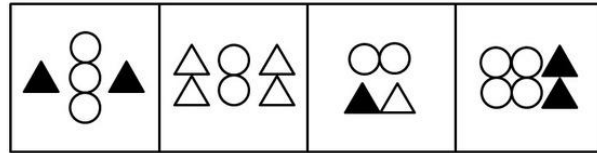
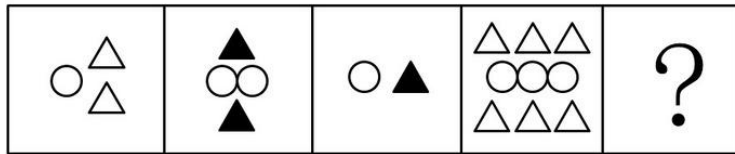
61、请从所给的四个选项中，选择最合适的一个填入问号处，使之呈现一定的规律性：



62、请从所给的四个选项中，选择最合适的一个填入问号处，使之呈现一定的规律性：





63、请从所给的四个选项中，选择最合适的一个填入问号处，使之呈现一定的规律性：



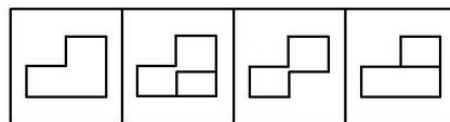
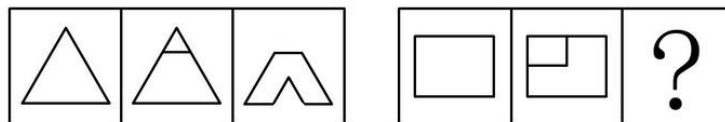
A B C D

64、请从所给的四个选项中，选择最合适的一个填入问号处，使之呈现一定的规律性：



A B C D

65、请从所给的四个选项中，选择最合适的一个填入问号处，使之呈现一定的规律性：



A B C D

66、一次面试，某组第一个考生回答第一题时引用古诗道：“有诗云‘横看成岭侧成峰’。”此时大多数考官微颌首，表示赞扬。接着第二个考生回答同一题时，也说：“有诗云‘横看成岭侧成峰’。”考官开始疑惑。一天面试下来，该组 20 名考生，有 11 名考生回答第一题开篇就是这句古诗。不仅如此，回答的其他很多内容、用语及动作都非常相似，甚至相同。经调查，这 11 名考生都参加了同一个面试培训班。11 名考生都觉得自己回答得很不错，可是最后得分却并不理想。

最能对上述结果作出合理解释的是：

- A、考官对面试培训班的考生没有好感
- B、考官面对的是 20 名考生，而考生仅对自己的回答情况进行评判
- C、考官普遍认为引用古诗或者名言的考生夸夸其谈，所说并非所愿，缺乏真实性和说服力
- D、参加面试培训班可能无助于提高面试成绩，甚至可能影响考生正常发挥

67、甲、乙、丙三人是同学，在一次考试成绩公布后，甲说：“我在前十名，乙是最后一名，丙的名次不理想。”乙说：“我的成绩和名次都很稳定，且我的排名紧挨在丙后面，甲的名次有所下降。”丙说：“甲的成绩比我好，乙的成绩比我好。”三人中，最多只有一个人说了假话。

由此可知：

A、甲说假话 B、乙说假话 C、丙说假话 D、没有人说假话

68、某大型律师事务所招聘工作人员，最不可能被招聘上的是没有通过我国司法考试，或者完全没有办理过法律事务实践经验的人。在可能被招聘的人中，懂外语或硕士以上学历的人被聘用的可能性将大大增加。

如果上述断定是真的，则下列人员中最有可能被招聘上的是：

A、杨某，在我国一知名政法大学获得法学博士学位，一直从事法学研究工作
B、周某，物理学专业本科毕业，自学法律且刚通过了司法考试，给当律师的叔叔做了半年律师助理
C、刘某，通过我国司法考试，以律师身份执业多年，精通英语，不久前因以不正当手段承揽业务被罚款3千元
D、李某，在美国一著名大学获得法学博士学位，在美国某州获得律师从业资格且从业半年，现决定回中国定居

69、在智利环境恶劣的北部沙漠地区的卡玛罗纳斯谷，人们发现了世界上一些最为古老的木乃伊，即Chinchorro人的木乃伊。木乃伊毛发分析结果显示，砷含量都很高。砷这种金属元素在卡玛罗纳斯谷以及周围火山坡较为常见，砷被季节性融雪水冲入河流，而河流正是生活在下游的人的水源。这种致命毒素毒死了一直生活在沿岸几百年来的Chinchorro人，Chinchorro人并未意识到他们一直在摄入这种无味并且看不见的有毒物质，他们患有皮肤癌、肺结核、膀胱癌、肾癌，并遭受因长期暴露在砷环境下导致的其他严重健康问题。

由此可以推出：

A、人体对砷这种有毒元素是不需要的
B、Chinchorro人砷中毒是慢性的
C、Chinchorro人存在严重健康问题的原因是饮用了含有砷的水
D、由于当时交通条件不好，Chinchorro人不能走得更远，找到更好的居住地

70、老王在A市有两套住房，一套自己居住，另一套闲置。老张是老王的朋友，一直居住在B市，现由于工作原因，需要在A市长期租住。老张希望租老王闲置的那套房子，老王说：“我女儿两个月后大学毕业，如果她毕业后不回A市工作生活，我就把房子出租给你。”

下列选项中，哪些为真，可以证明老王没有说真话：

①老王的女儿毕业后留在C市工作生活，老王拒绝把房子租给老张
②老王的女儿毕业后回到A市工作生活，老王把房子租给老张
③老王的女儿毕业后回到A市工作生活，老王拒绝把房子租给老张

A、① B、①② C、②③ D、①②③

71、屏蔽器：电磁波

A、夜视镜：红外线 B、验钞机：声波 C、遥控器：光波 D、太阳光：紫外线

72、忠诚：隶属

A、强制：敌对 B、同事：上下级 C、反感：斗争 D、朋友：和睦

73、见多识广：高瞻远瞩

A、兔死狗烹：鸟尽弓藏 B、空穴来风：无中生有 C、誓死不二：威武不屈 D、旁敲侧击：胡言乱语

74、神采奕奕：豁达大度

A、兢兢业业：眉飞色舞 B、炯炯有神：赤胆忠心 C、漫不经心：恬不知耻 D、心猿意马：忐忑不安

75、哈维：血液循环说

A、人类从类人猿进化而来：达尔文 B、伽利略：脉冲星发出脉冲
C、康德：太阳系构造及星际运动规律 D、毛泽东：抗日战争是持久战，最后胜利是中国的

76、司机：驾驶室：踩油门

A、教师：讲台：育人 B、医生：医院：开刀 C、演员：舞台：艺术 D、农民：田地：播种

77、（ ）对于 人类学 相当于 论证假说 对于（ ）

A、网络世界——社会学 B、社会变迁——伦理学 C、图腾与禁忌——逻辑学 D、创造力——行为学

78、（ ）对于 味同嚼蜡 相当于 深藏若虚 对于（ ）

A、脍炙人口——盛气凌人 B、意味深长——锋芒毕露

C、百读不厌——狐假虎威 D、丰富多彩——大象无形

79、（ ）对于 罗马尼亚 相当于 卢森堡 对于（ ）

A、匈牙利——法国 B、保加利亚——瑞士 C、捷克——比利时 D、乌克兰——荷兰

80、（ ）对于 使用工具 相当于 群居 对于（ ）

A、无赖——创造欲 B、制定计划——克服困难 C、制造工具——惧怕 D、爱情——选择行动

四、常识判断，共5题，根据题目要求，在四个选项中选出一个最恰当的答案。

81、世界上最长的运河京杭大运河沟通了（ ）大水系。

A、黄河、长江两

B、海河、黄河、长江三

C、黄河、淮河、长江、钱塘江四

D、海河、黄河、淮河、长江、钱塘江五

82、下列标志性建筑中，不属于世博会会场展馆的是：

A、法国巴黎埃菲尔铁塔

B、比利时布鲁塞尔原子球博物馆

C、意大利比萨城比萨斜塔

D、美国西雅图太空针塔

83、2009年11月25日至12月6日，小王在加拿大旅游，发现当地不少男士佩戴白丝带，这表示：

A、反对对妇女的暴力

B、对恐怖主义者的抗议和对受害者的哀悼

C、勇于承担对家庭的责任

D、坚持对婚姻的忠诚

84、抗生素主要是针对（ ）的。

A、感冒

B、发烧

C、传染病

D、细菌感染

85、下列图案中，不属于国际志愿者组织及大型活动志愿者标志图案的是：



五、资料分析，共15题，所给出的图、表、文字或综合性资料均有多个问题，请你根据资料所提供的信息进行分析、比较、计算和判断处理。

(一)

2009年^{1~11}月份，城镇固定资产投资168634亿元，同比增长32.1%，比上年同期加快5.3个百分点，比^{1~10}月回落1.0个百分点。其中，国有及国有控股投资73535亿元，增长37.8%；房地产开发投资31271亿元，增长17.8%。

从项目隶属关系看，2009年^{1~11}月份，中央项目投资15277亿元，同比增长16.4%；地方项目投资153357亿元，增长33.9%。在注册类型中，^{1~11}月份，内资企业投资155132亿元，同比增长35.6%；港澳台商投资5696亿元，增长1.5%；外商投资6865亿元，下降0.1%。

分产业看，^{1~11}月份，第一产业投资增长51.5%，第二产业投资增长26.1%，第三产业投资增长36.6%。在行业中，^{1~11}月份，煤炭开采及洗选业投资2614亿元，同比增长33.6%；电力、热力的生产与供应业投资9442亿元，增长20.2%；石油和天然气开采业投资2075亿元，下降6.5%；铁路运输业投资4646亿元，增长80.7%。

从施工和新开工项目情况看，2009年^{1~11}月份，累计施工项目429470个，同比增加100493个；施工项目计划总投资393087亿元，同比增长36.3%；新开工项目317012个，同比增加88236个；新开工项目计划总投资136922亿元，同比增长76.6%。

从到位资金情况看，2009年^{1~11}月份，到位资金189487亿元，同比增长39.2%。其中，国家预算内资金增长69.8%，国内贷款增长46.4%，自筹资金增长32.2%，利用外资下降15.2%。

86、与2008年同期相比，2009年^{1~11}月国有及国有控股投资和房地产开发投资占城镇固定资产投资的比重约：

- A、减少了 0.15% B、增加了 0.15% C、减少了 0.45% D、增加了 0.45%
- 87、从企业类型来看，2009 年 1—11 月内资企业投资和外商投资总额与 2008 年同期相比，约增加了：
A、30.67% B、33.58% C、34.42% D、36.79%
- 88、从产业来看，2009 年 1—11 月，在已给行业中属于第二产业的行业投资比 2008 年同期约增加了多少亿元：
A、1900 B、2000 C、2100 D、2200
- 89、2008 年 1—11 月，施工项目计划总投资比新开工项目计划总投资约多多少亿元：
A、77352 B、10871 C、190845 D、210866
- 90、根据上述资料，下面论述推断正确的是：
A、2007 年 1—11 月城镇固定资产投资 100655 亿元
B、2008 年 1—10 月城镇固定资产投资 91655 亿元
C、2008 年 1—11 月地方投资是中央投资的 8.73 倍
D、相比 2008 年 1—11 月，2009 年同期铁路运输业投资增加了 2067 亿元

(二)

2009 年 1-2 月各行业城镇投资情况

主要行业	投资额		去年同期各行业 投资比重(%) (以全国总计为 100%)
	自年初累计 (亿元)	同比增长 (%)	
全国总计	10275.81	26.5	100
农林牧渔业	108.33	100.3	0.7
采矿业	277.45	25.8	2.7
制造业	3103.82	25.4	30.5
电力、燃气及水的生产和 供应业	733.76	20.7	7.5
建筑业	67.19	46.7	0.5
交通运输、仓储和邮政业	1217.81	63.6	9.2
信息传输、计算机服务和 软件业	108.08	29.1	1.0
批发和零售业	213.64	44.8	1.8
住宿和餐饮业	125.70	39.8	1.1
金融业	20.30	158.2	-
房地产业	2729.82	4.9	32.1
阻力和商务服务业	104.16	54.0	0.8
科学研究、技术服务和地 质勘查业	56.93	55.4	0.5
水利、环境和公共设施管 理业	855.79	51.7	6.8
居民服务和其他服务业	26.42	109.5	0.2
教育业	163.40	36.6	1.5
卫生、社会保障和社会福 利业	85.48	70.9	0.6
文化、体育和娱乐业	115.17	44.6	1.0
公共管理和社会组织	162.56	47.7	1.4

- 91、2008 年 1—2 月，房地产业城镇投资额比制造业多多少亿元：
A、104.36 B、118.25 C、127.17 D、148.29

92、相比 2008 年同期，2009 年 1—2 月金融业城镇投资比重约增加了：

- A、50% B、78.1% C、100% D、131.7%

93、若保持各自的增长速度不变，金融业的全国城镇投资额超过教育业的时间可能在多少年之后：

- A、3 B、4 C、5 D、6

94、2008 年 1—2 月各行业城镇投资额与 2009 年 1—2 月各行业城镇投资比重均排名前四的行业有多少个：

- A、1 B、2 C、3 D、4

95、从上述资料中，不能推出的结论是：

A、若保持增长速度不变，则 2010 年 1—2 月全国各行业城镇投资额相比 2008 年同期增加 4875.72 亿元

B、相比去年同期，2009 年 1—2 月全国大部分行业的城镇投资比重都有所增加

C、2008 年 1—2 月建筑业城镇投资额为 45.8 亿元

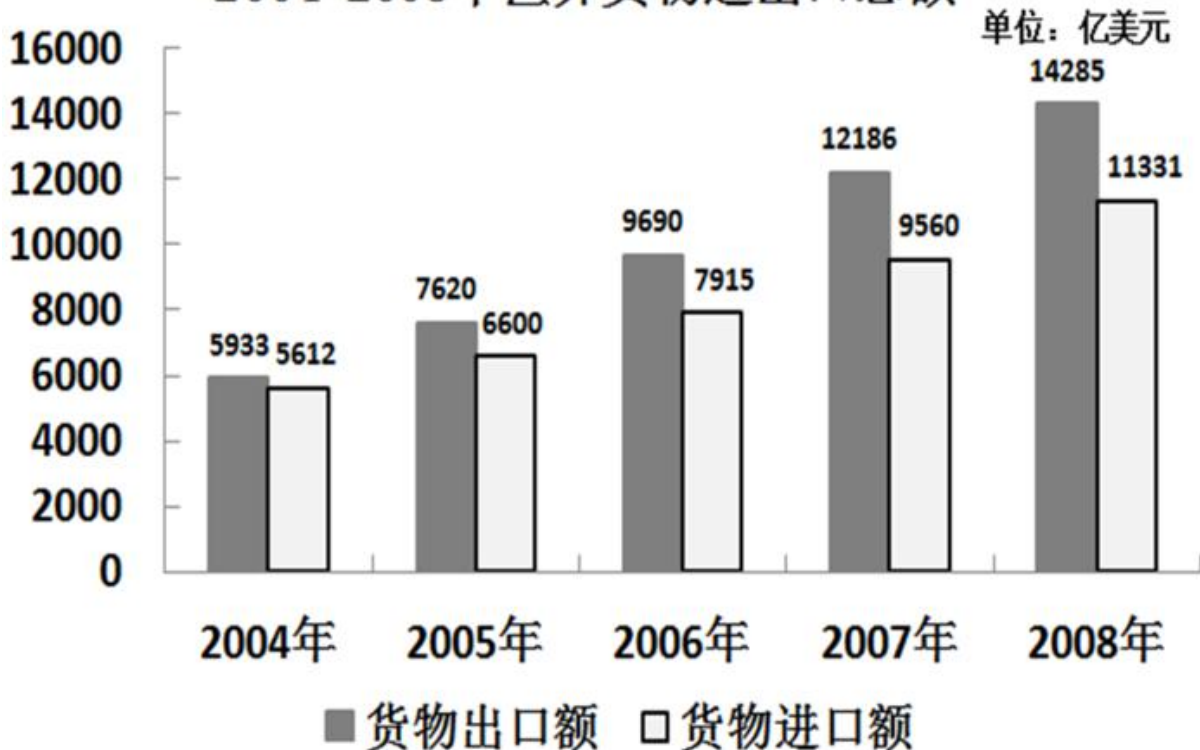
D、制造业的全国城镇投资额在 2008 年 1—2 月，2009 年 1—2 月，2010 年 1—2 月中均是各行业中最多的

(三)

2005-2008 年主要国家（地区）货物贸易进出口额（单位：亿美元）

国家和地区	2005 年		2006 年		2007 年		2008 年	
	出口额	进口额	出口额	进口额	出口额	进口额	出口额	进口额
美国	1629	487	2035	592.3	2327	694.6	2929	1327
欧盟	1437	736	1820	903.2	2452	1110.2	2523	814
中国香港	1245	122	1554	108.8	1844	128.8	1907	129
日本	840	1005	916	1157.1	1021	1340.1	1161	1507
东盟	554	750	713	895.4	942	1084.3	1141	1170
韩国	351	768	445	898.6	561	1038.4	740	1122
中国台湾	165	747	207	871.5	235	1010.5	259	1033
俄罗斯	132	159	158	176.7	240	146.7	330	238

2004-2008 年世界货物进出口总额



96、世界货物贸易进出口总额差距最大的年度，在下列选项中，货物进口额增长速度（与上年比）排名第二的是：

A、日本 B、东盟 C、韩国 D、中国台湾

97、按 2005—2008 年主要国家（地区）货物出口额平均增长速度，预计 2010 年相应出口总额将达到约多少亿美元：

A、13197 B、13892 C、15163 D、15837

98、2008 年主要国家（地区）货物出口额之和占世界货物出口总额的比重是 2005 年的多少倍：

A、0.83 B、0.88 C、0.92 D、1.07

99、2005—2008 年世界货物进出口总额的年度增长速度从小到大的变化顺序是：

A、2005 年—2006 年—2007 年—2008 年 B、2007 年—2008 年—2006 年—2005 年

C、2008 年—2005 年—2007 年—2006 年 D、2006 年—2007 年—2008 年—2005 年


100、从以上图表中可以推出的是：


A、2006 年货物进口额排名第六的国家在 2007 年货物进口额排名第五

B、世界货物进出口额差距最大的年度是 2005 年

C、按 2008 年世界货物进出口总额的增长速度，预计 2009 年世界货物进出口总额是 31175 亿美元

D、2006—2008 年货物出口额增长速度逐年降低的主要是亚洲国家（地区）

 微信扫描二维码，关注“公务员考试挺简单”微信公众号，可获取更多公考经验。分享公考经验，还可获得现金奖励哈

 手淘扫描淘宝店铺，可以购买省考、国考历年真题哦



微信公众号



淘宝店铺