

2007年9月四川省招警考试《行测验试卷

来源：粉笔 整理：杨柳（微信：gwy288）

第一部分数量关系

（共15题，参考时限14分钟）

本部分包括两种类型的试题。

一、数字推理：共5题。给你一个数列，但其中缺少一项，要求你仔细观察数列的排列规律。然后从四个选项中选出一个你认为最合理的一项来填补空缺项。

【例题】1, 3, 5, 7, 9, ()。

A. 7 B. 8 C. 11 D. 未给出

【解答】正确答案为C。原数列是一个奇数数列，故应选C。

请开始答题：

1. $2\sqrt{3}$, $2+3\sqrt{3}$, $6+5\sqrt{3}$, $12+8\sqrt{3}$, ()。

A. $24+16\sqrt{3}$ B. $20+12\sqrt{3}$ C. $18+12\sqrt{3}$ D. $16+10\sqrt{3}$

2. 2, 6, 11, 17, 25, 36, 52, ()。

A. 76 B. 78 C. 82 D. 86

3. 2, 5, 3, 9, 6, 17, ()。

A. 8 B. 9 C. 10 D. 11

4. 1, 1/2, 1/6, 1/15, 1/40, ()

A. 1/100 B. 1/90 C. 1/104 D. 1/102

5. 40, 21, 19, 2, 17, ()。

A. -3 B. -15 C. 15 D. 3

二、数学运算：共10题。你可以在草稿纸上运算。遇到难题，你可以跳过不做，待你有时间再返回来做。

【例题】184. 78元、59.50元、121.61元、12.43元以及66.50元的总和是()。

A. 343.73 B. 343.83 C. 344.73 D. 344.82

【解答】正确答案为D。其实你只要把最后一位小数加一下，就会发现和的最后一位数是2，只有D符合要求。就是说你应当动脑筋想出解题的捷径。

请开始答题：

6. $39 \times \frac{148}{149} + 148 \times \frac{86}{149} + 48 \times \frac{74}{149} = ()$

A. 148 B. 149 C. 74 D. 72

7. 有3个大人、2个小孩要一次同时过河，渡口有大船、中船、小船各一只，大船最多能载1个大人2个小孩，中船最多能载大人小孩各1人，小船最多能载大人1人。为了安全，小孩需大人陪同，则乘船的方式有()种。

A. 6 B. 12 C. 18 D. 24

8. 航速相同的两船分别从A地顺流而下、B地逆流而上，相遇于C地。如果航速是水流速度的3倍，则

A、C两地与B、C两地的距离比为()。

A. 1:2 B. 2:1 C. 3:1 D. 4:1

9. 沪深股市在“2·28”行情中大跌9.5%，随后两天又连续上涨5%。在3天行情中，沪深股市()。

A. 上涨0.5% B. 上涨0.2% C. 下跌0.2% D. 下跌0.5%

10. $7/22$, $17/52$, $23/70$, $5/16$, $101/304$ 中最小的一个是()

A. $5/16$ B. $7/22$ C. $23/70$ D. $101/304$

11. 一列火车过一座大桥，共用时间30秒。已知车长300米，速度30米/秒。这座大桥长为()米。

A. 900 B. 600 C. 300 D. 1200

12. 某商场在“十一”黄金周进行促销活动，凡购买满100元的商品返还40元现金。一个人有600元，在该商场最多能买()元的商品。

A. 880 B. 920 C. 940 D. 960

13. 小王登山，上山的速度是每小时4km，到达山顶后返回，速度为每小时6km。设山路长为9km，小王的平均速度为

() km/h。

- A. 4. 8 B. 5 C. 4. 4 D. 4. 6

14. 金苹果幼儿园有一堆梨, 个数不超过 100 个, 将其中的 $\frac{2}{7}$ 分给 1 班, $\frac{1}{3}$ 分给 2 班, 余下的给 3 班, 那么 3 班最多分到的梨的个数为() 个。

- A. 24 B. 28 C. 32 D. 36

15. 小青 8 岁那年, 妈妈满 30 岁, 今年妈妈的年龄恰好为小青年龄的 2 倍, 小青今年的岁数是() 岁。

- A. 20 B. 14 C. 44 D. 22

第二部分言语理解与表达(共 30 题, 参考时限 26 分钟)

本部分包括三种类型的试题。

一、词语替换: 共 5 题。要求你从所给的四个选项中选出最适合替换题目中画线词语的选项, 使句子的意思表达不变。

【例题】为了方便群众, 公交公司在元旦、春节期间推延了收车时间。()

- A. 延长 B. 推迟 C. 放宽 D. 拖延

【解答】用“推迟”替换“推延”, 句子的意思表达不变, 且句意明确, 故应选 B。

请开始答题:

16. 我国古代的青铜技术已达到(神入化的境界。()

- A. 五体投地 B. 独树一帜 C. 炉火纯青 D. 别具一格

17. 书院的出现, 实在可说是中国文化史上的一个让人赞叹不已的创举。()

- A. 大书特书 B. 望洋兴叹 C. 顶礼膜拜 D. 叹为观止

18. 王华被学校委派到国际交流处负责外籍老师的引进和管理工作。()

- A. 委任 B. 任命 C. 派遣 D. 调离

19. 2 岁的孩子独立爬上青城山, 虽然这对锻炼孩子的意志能力来讲, 并非全不可取, 但时下许多家长望子成龙的心情过于急切, 往往不切实际地对孩子提出过高的要求, 结果是常常弄巧成拙。()

- A. 弄假成真 B. 自受其害 C. 自以为是 D. 适得其反

20. 现在的父母对孩子的关心真是无微不至, 大到孩子一生的安排, 小到生活中衣食住行的每个环节, 无不一一考虑周到。这到底是好事还是不幸, 也许每个人有不同的看法, 但不放手给孩子自己锻炼的机会, 他们又怎能有独立的能力呢?()

- A. 无求不应 B. 细致周到 C. 无所不至 D. 无所不为

二、语句表达: 共 10 题。要求你从语气、语序、语法结构等方面对有关语句作出判断。

【例题】从给出的几句话中选出没有语病的一句()。

- A. 阅读理解与否, 是衡量阅读能力好坏的重要标志 B. 阅读与理解, 是衡量阅读能力好坏的重要标志
C. 阅读是否理解, 是衡量阅读能力的重要标志 D. 阅读能力好坏的标志是理解

【解答】从给出的四句话来看, 只有 A 没有语病。

请开始答题:

21. 下列各句中, 画线词语使用不恰当的一项是()。

A. 面对复杂的国际局势和多变的社会经济形势, 人们越来越深刻地体会到, 如果世界经济出现动荡或危机, 世界上绝大多数国家是不可能独善其身的

B. 卫生部近日通报, 艾滋病疫情仍呈上升趋势, 存在进一步蔓延的危险, 如不从长计议, 后果将不堪设想

C. 虽然一个阶段某些国内品牌手机也能取得巨大的市场份额, 甚至可以一度与国外品牌分庭抗礼。但是由于品牌缺少“含金量”, 国内品牌手机很难进入消费者心目中的“第一军团”

D. 有些国家用传统现实主义的思维方式来看待能源问题, 对一些发展中国家增加能源需求品头论 垦, 鼓噪“能源威胁论”, 觉得似乎只有他们自己才有资格消费地球上的能源

22. 下列各句中画线词语使用恰当的一项是()。

A. 做任何事情都不能孤军奋战. 必须团结合作, 墙倒众人推, 我们只要齐心协力, 互相帮助, 就一定能克服工作中的各种困难

B. 初春的校园, 篝火晚会上, 大家陶醉在这春意阑珊的氛围中, 有的在唱着. 有的在跳着, 有的在谈着……欢乐围绕在每个人的身边

C. 他们差强人意的服务质量, 不仅给社区居民的生活带来诸多不便, 而且有损职能部门在公众中的形象

D. 他虽然很年轻, 作品也不多, 但在漫画创作方面已是头角峥嵘, 小有名气, 受到同行的普遍赞赏

23. 下列各句中, 有歧义的一句是()。

- A. 作为今天得分最高的嘉宾，这个精致的灯笼作为礼品赠送给他 B. 一位医术高超的老教授将为病人主持手术
C. 这是明星孙红雷摄于 2006 年 12 月的照片 D. 他背着父母偷偷地把这笔钱分别存入了两家银行
24. 下列各句中，没有语病的一句是()。
- A. 他之所以成为一名优秀的社会学家，原因主要在于坚持不懈地关注和研究中国的社会现实
B. 不但他擅长公文写作，而且精于写作发展史的研究
C. 由于海尔公司不断提高产品质量，其电视的出口深受各国顾客的信赖
D. 他如果不能夜以继日地工作，任务就很难完成
25. 下列各句中，没有语病的一句是()。
- A. 我们一方面积极向上级反映情况，另一方面上级也很快派工作组深入实地进行考察
B. 王林不但支持他，而且以前和王林一样反对过他的人，现在也支持他了
C. 这次拍卖会的一个亮点，就是拍卖了一件一个世纪以前新发现的艺术品
D. 停电后，那座城市陷入了混乱之中
26. 下列各句中，没有语病的一句是()。
- A. 科学研究上的艰难险阻，非但不能使他望而却步、浅尝辄止，而且还激起了他以更炽热的感情，更顽强的毅力，不辞辛劳地学习探索
B. 我们要放开思路，解除束缚，实现政企分开，完善现代企业管理制度，积极推进企业的经济发展，难道我们否认这不是我们应该做的吗？
C. 为切实贯彻落实 2006 年全国中小学校教育会议提出的开展学生心理健康咨询、丰富学生课余生活，完善学生思想工作，讨论了关于完善全国中小学校管理制度等若干问题
D. 改革的不断深化，在很大程度上促进了综合国力、社会生产力和人民生活水平的提高，使我国经受住了国际经济金融动荡和国内严重自然灾害、重大疫情等严峻考验
27. 下列各句中，没有语病的一句是()。
- A. 电的使用使人类向现代文明跨进了一大步，并且也带来了一些前所未有的新问题
B. 青年们总不甘心在理想还未疲倦的时候就被恶劣的环境所压抑，若其遭到压抑的话，他们必定会挣扎、反抗和斗争
C. 无论身为目的还是手段，商品营销一旦使顾客遭受低劣的消费后果，它就是不道德的
D. 自改革开放以来，许多中国人感慨于自己日常生活水平的巨大提高，就和许多发达国家的来访者惊讶于中国的经济腾飞一样呢
28. 下列各句中，没有语病的一句是()。
- A. 他在黑暗中睁开眼睛，听到她站在木门之外用手电筒轻轻拍打他的床所紧贴的墙壁。手电筒的光头朝下，圆柱形直光在地板上扩散出光晕
B. 通过新书《致美丽的祖国》，使日本民众广泛了解了今后的施政理念
C. 我的意识像春天的蛇一样开始苏醒
D. 她辛辛苦苦干了两个月，挣来的钱还是不能够养活母亲和弟弟的生活
29. 下列各句中，句意明确，没有歧义的一句是()。
- A. 一车间去年的产量超过年度计划的百分之九十，是全厂完成生产任务最好的一个车间
B. 他在某杂志生活栏目上发表的那篇关于饮食习惯与健康的文章，批评的人很多
C. 张开明收到谢晋的奖章和信后，他感到，这不仅仅是一枚奖章，也是艺术家厚爱战士的一颗心
D. 正是由于研究对象的复杂和研究方法的客观限制，造成了复句分类上的复杂现状
30. 下列各句中，句意明确，没有歧义的一句是()。
- A. 昨天夜里，有几个陌生人突然出现在这个城市 B. 学校图书馆收藏着著名学者胡适的书
C. 我的照片簿里有很多我和好朋友的照片 D. 下周，重庆和四川部分地区将会持续高温

三、阅读理解：共 15 题。每道题包含一段文字。后面是一个不完整的陈述。要求你从四个选项中选出一项来完成陈述。注意：答案可能是对文字内容的复述。有时则满足了陈述中其他方面的要求，你的选择应与所提要求最相符合。

【例题】铁路新线路的开辟与否往往必然在建路费尽可能少的要求与新建路线的贸易运输尽可能多的要求之间得到妥协。

这段话主要支持了这样一种论点，即新建铁路的线路()。

- A. 应该是一造价最低的线路 B. 其选择决定了新兴贸易中心的位置
C. 决定于是否与终点之间的距离最短 D. 不会总是具有最低建造成本的路线

【解答】仔细考察四个选项, 可以发现, 选项 A 与题中“妥协”的含义不相符。选项 B 和 C 都无法从题中得出。只有选项 D 是短文支持的一种主要观点, 因此正确答案为 D。

请开始答题:

31. 四川大熊猫栖息地位于青藏高原与成都平原之间的邛崃山脉, 涵盖了卧龙、四姑娘山、夹金山脉等 7 个自然保护区和 9 个风景名胜区, 面积 9245 平方公里, 是目前中国现存最大最完整的大熊猫栖息地, 也是圈养大熊猫的最重要繁育基地。同时, 它还拥有全球其他濒危物种, 如小熊猫、金丝猴、扭角羚、雪豹和云豹等野生动物和超过 1000 个属的 5000 到 6000 个植物物种, 是除热带雨林以外生物多样性最丰富的地区。这段文字主要不在说明四川大熊猫栖息地()。

- A. 是最大最完整的熊猫栖息地 B. 是生物多样性最丰富的地区
C. 地理位置及辐射面积 D. 是圈养大熊猫的最重要繁育基地

32. 科学家说, 每一种果汁所含酚类化合物成分不同, 抗氧化活性也不同。建议经常混合饮用多种果汁如紫葡萄汁、苹果汁、酸果汁等, 这样更有益于身体健康。上述语句表述的主要意思是()。

- A. 科学家认为经常混合饮用多种果汁更有益于身体健康 B. 科学家主张喝果汁而不是吃水果
C. 科学家说要多吃水果 D. 科学家认为水果果汁一定要混合饮用

33. 第三代移动通信系统(3rd Generation, 简称 3G)比目前正在使用的第二代系统有更大的系统容量和更好的通信质量, 而且能在全球范围内更好地实现无线漫游, 为用户提供包括话音、数据以及多媒体等在内的多种业务。3G 标准主要有以下三种: WCDMA, CDMA2000 与 TDSCDMA。根据以上文字, 我们可以推断接下来主要介绍的内容是()。

- A. 3G 的各种业务及其优势 B. 3G 对于移动通信的意义
C. 第二代通信系统与第三代通信系统的比较 D. 介绍 WCDMA, CDMA2000 与 TDSCDMA 的技术原理与模式

34. 睹物思人, 别有一番思绪。温总理对记者说:“周恩来总理是中日友好事业的开拓者和奠基人。我们怀念周总理, 就是要把中日友好事业推向前进。我相信, 中日关系的未来一定会更加光明, 中日友好之花一定会更加娇艳。”

上述语句表述的主要意思是()。

- A. 中日友好历史悠久 B. 中日友好世代相传
C. 怀念周总理的目的是要更加推进中日友谊 D. 中日友好前途光明

35. 按照老北京的风俗习惯, 不论平时是否供奉财神, 也不论信仰、供奉的是上述哪位财神, 都要在正月初二祭财神, 为取新年进宝得财之意。初二当天早晨的家宴必须是馄饨, 也叫“元宝汤”。因为馄饨的形状像元宝, 吃馄饨就是招财进宝, 取财源如汤水滚滚而来的意思。一般元宝汤的馅儿有两种: 一是以猪肉、菠菜、青韭为馅; 一是以羊肉、白菜为馅。这段文字主要表达的意思是()。

- A. 讲述老北京吃“元宝汤”的习俗 B. 介绍老北京正月初二祭财神的风俗习惯
C. 介绍“元宝汤”的两种馅儿 D. 批评老北京祭财神的迷信风俗习惯

36. 随着北京世纪文景文化传播公司在 2006 年诺贝尔文学奖宣布之前签下土耳其作家帕慕克的作品, 并将之翻译出版, 赚得盆满, 令人艳羡, 众多出版社也在英语视野外挑选译介。有人预言, 小语种文学翻译出版有望成潮。

上述语句表达的最主要意思是()。

- A. 北京世纪文景文化传播公司经营有方 B. 北京世纪文景文化传播公司经营思路令人艳羡
C. 小语种文学翻译可能成为出版业的发展趋势 D. 小语种文学翻译有较高的经济效益

37. 中国银监会负责人指出, 赋予银行业监管机构相关调查权, 有利于及时发现并查处银行违法案件, 保护银行及客户的资金安全, 有利于防范银行业风险和保持银行业稳定, 实现银行业监管目标。它符合发达国家银行业监管的发展趋势, 也是借鉴国内相关监管机构成功经验的结果。概括上述语句所表述思想最恰当的一句是()。

- A. 银监会的成立有很多好处, 也是国际上银行业监管的发展趋势
B. 赋予银行业监管机构相关调查权, 有利于及时发现并查处银行违法案件
C. 赋予银行业监管机构相关调查权, 有利于防范银行业风险和保持银行业稳定, 实现银行业监管目标
D. 银监会的成立是借鉴国内相关监管机构成功经验的结果

38. 报告认为, 全世界大部分海洋和五大洲的自然生态体系都显现出了气候变化所造成的影响, 全球变暖将使地球上数十亿人口面临水和食物短缺, 洪涝、干旱、台风等自然灾害发生的频率也将增加。该语段下面最可能要表达()。

- A. 人类社会将会受到自然的惩罚 B. 人类如何采取措施来避免地球气候变暖
C. 地球变暖的趋势还会加强 D. 人类应该想办法减少自然灾害

39. “善和其心”, 保持健康的心理, 最重要的是要有一个正确的、科学的人生观, 要有乐观的性格, 坚强的意志, 不产生过激的情绪, 不计较名利得失, 成功时不癫狂, 失败时不悲观, 身处逆境时不消沉, 精神饱满不涣散。培养良好的个性, 喜怒有度, 避免贪欲, 豁达大度, 心胸开阔, 积极进取, 建立良好的人际关系。概括上述语句表述的意思最恰当的一句是()。

- A. “善和其心”是养生的关键
B. 树立正确的人生观, 建立良好的人际关系就能够“善和其心”
C. “善和其心”的关键是要有正确的人生观、乐观性格、坚强意志以及良好的心态
D. “善和其心”就是善于开导自己, 安慰自己
40. 我们不断加强社会保障体系建设。在东北三省试点的基础上, 企业职工基本养老保险做实个人账户试点范围又扩大了8个省份。经过多年的努力, 国有企业下岗职工基本生活保障向失业保险并轨基本完成, _____。社会保险覆盖面继续扩大, 社会保险基金收入不断增加, 社保基金使用的监督管理得到加强。填入文段画横线部分最恰当的一项是()。
- A. 提高了企业离退休人员基本养老金标准
B. 降低了企业离退休人员基本养老金标准
C. 增加了企业离退休人员基本养老金标准
D. 国有企业下岗职工要求提高职工生活水平
41. 语言是思想的直接现实, 正像哲学家把思想变成一种独立的力量那样, 他们也一定要把语言变成某种独立的特殊的王国。这就是哲学语言的秘密。在哲学语言里, _____。从思想世界降到现实世界的问题, 变成了从语言降到生活中的问题。填入文段画横线部分最恰当的一项是()。
- A. 思想通过词的内容具有了自己本身的内容
B. 思想通过词的形式具有了自己本身的内容
C. 思想通过词的形式具有了自己本身的形式
D. 思想通过自己的意义使词语具有形式本身
42. 所谓“龙生九子, 九子不同”, 不同地区、不同品种、不同地理和气候条件下生产出来的茶叶, 口味、香型、质地都有所不同, 于是茶叶又缓慢地被分为上、中、下品。上述语句表述的主要意思是()。
- A. 由于诸多生产条件不同, 所以茶叶的质量和等级也不同
B. 茶叶的等级不同是由于品种不一样
C. 不同地区生产的茶叶的口味、香型、质地都不同。
D. 茶叶有不同的等级
43. 人类已经进入电子、信息和网络时代, 编辑出版流程和方式发生了重大的改变。期刊整个流程包括作者投稿、专家审稿、编辑加工、出版发行、内部管理等, 可以完全依靠网络进行, 只有这样, 编辑出版的时效性才会大大加强。但在现实工作中, 真正能够充分运用这些现代化手段的却不多。因此, 今后应加强编辑手段现代化的建设, 这是网络时代重构学术期刊价值链的基础和物资保障。这段文字的主要意思是网络时代()。
- A. 期刊的编辑真正能够充分运用现代化手段的不多
B. 期刊的整个流程可以完全依靠网络进行
C. 编辑出版的流程和方式发生了重大的改变
D. 期刊的编辑手段必须现代化
44. 经济法律关系的参加者, 既有经济组织等专门进行经济活动的主体, 也有国家、国家经济机关等从事经济管理、经济监督等经济组织活动的主体, 因而在经济法律关系中存在经济权利和权利义务关系, 也存在权力和经济义务关系。由此可见, 并不是所有的社会主体、法律主体都能成为经济法主体, 只有拥有权利(权力)和义务的经济组织、国家经济机关等, 才能成为经济法主体。这段文字意在说明经济法主体是()。
- A. 国家经济机关
B. 所有的社会主体
c. 经济法律关系的参加者
D. 经济权利(权力)和义务的主体
45. 对中国的马克思研究者来说, 利用马克思著作的既有中文译本是一个便捷的途径。但为了解读的准确性, 研究者有时需要对照马克思的原文, 必要时还需对照各主要语种的马克思著作版本。各主要语种的翻译者大都是马克思研究的专家, 翻译本身就渗透了他们对马克思文本的理解, 因此参照主要语种的马克思著作版本, 实际上也是借鉴前人的智慧。这段文字意在强调()。
- A. 参照主要语种的马克思著作版本是借鉴前人的智慧
B. 马克思文本解读, 中文译本是一个便捷的途径
C. 马克思文本解读, 要善于参照主要语种的马克思著作版本
D. 马克思文本解读, 有时需要对照马克思的原文

第三部分判断推理(共40题, 参考时限35分钟)

本部分包括五种类型的试题。

一、定义判断: 共10题。每道题先给出一个概念的定义。然后分别列出四种行为, 要求你严格依据定义从中选出一个最符合或最不符合该定义的答案。注意: 假设这个定义是正确的, 不容置疑的。

【例题】谋杀: 当一个人不但企图造成另一个人的死亡, 而且也造成了这个人的死亡, 或一个人明明知道自己正做着一件可以造成他人死亡的危险的事情, 仍不顾别人的生命继续行为, 并造成他人的死亡。根据以上定义, 下面哪种行为是典型的谋杀?()

- A. 于力清与妻子发生争吵, 打了她一巴掌, 为的是不让她再哭, 不巧将她打倒, 她在倒下时, 头碰在地板上, 后来由于头部受伤而死亡
B. 一位老人得了一种绝症, 不能忍受痛苦, 请求护士给他服用致死剂量的安眠药, 这个护士非常同情老人, 就给了他, 结果老人死亡
C. 曾宪在驾车行驶中, 失去了对汽车的控制, 导致车祸, 造成同车赵某死亡
D. 4 动物园管理员汤啸因忘了锁门导致老虎从笼子里跑出来, 咬死了游客

【解答】严格依据定义进行衡量，此题的正确答案为B。

请开始答题：

46. 行政制度：是指国家行政机关对行政违法者依其行政责任所实施的强制性惩罚措施。下列不属于行政制度的是（ ）。
- A. 某国家行政机关一工作人员因工作失误造成一定损失，单位给予记过处分
B. 某男醉酒驾车，被处罚款 200 元
C. 某女孩未满 14 岁受人教唆多次小偷小摸
D. 某城管工作人员将一乱摆摊设点的小贩强行弄到城管大队软禁了一天
47. 公共服务：是指公共部门与准公共部门为满足社会公共需要，共同提供公共产品的服务行业的总称。它主要是由政府机关为主的公共部门生产的，供全社会所有公民共同消费，所有消费者平等享受的社会服务。
- 下列不属于公共服务的是（ ）。
- A. 政府向市民提供基本医疗保险
B. 高等学校向公众免费开放体育馆
C. 某市耗资修建高尔夫球场
D. 某市出资整治堵塞的河道
48. 政府社会管理：是指政府通过整合社会资源，动员社会力量，为增进公共利益，依法对社会事务实施管理的组织化活动。下列属于政府社会管理的是（ ）。
- A. 政府给低收入者提供最低生活保障，对高收入者征收个人所得税
B. 政府决定关闭对空气污染严重的水泥厂
C. 某学校组织自愿者活动，帮助孤寡老人
D. 某行政管理部门组织专家制定产品质量标准
49. 社会福利：是指通过社会互助的手段来改善人们的生活状况，提高生活质量。下列属于社会福利的是（ ）。
- A. 某人生病住院开销很大，好朋友送去 500 元现金
B. 某人下岗两年，开始领取失业保险金
C. 某政府机关给其工作人员发放有价购物券
D. 某人参加某公司的抽奖活动得到一次到海南旅游的机会
50. 惯性思维定势：是指把判断和思考导入一定方向的先有观念或先有倾向的思维方式。下列不属于惯性思维定势的是（ ）。
- A. 以权威的观点判断人的行为错
B. 某人自认为经验丰富，喜欢按经验办事
C. 某人的工作意见虽遭到多数人反对，但他仍然不放弃说服别人的机会
D. 某人在屡屡成功的情况下凭自己的感觉决策
51. 职业生涯开发：是指组织中有些比较重要的岗位需要招聘人员时，让组织内部符合条件的员工从一个较低级岗位晋升到较高级岗位的过程。下列不属于职业生涯开发的是（ ）。
- A. 法规处副处长职位空缺，将法规一科科长作为提升的候选人
B. 财务处处长职位空缺，破格提升该处一主任科员填补
C. 财务处缺一个主办会计，提升该处的一个会计师担任
D. 某单位缺一个小车驾驶员，拟将安排一临时清洁工学习驾驶
52. 个体倾向性：是指人与客观现实相互作用的过程中表现出来的心理倾向总和，它决定人的心理活动的选择性、对事物不同的态度以及各种行为模式。下列不属于个体倾向性的是（ ）。
- A. 贾某做事有时不够果断
B. 高某热爱服装设计
C. 刁某一向认为做人应与人为善，好人才有好报
D. 连某经常关注各种体育信息
53. 赠与合同：是指赠与人将自己的财产无偿给予受赠人，受赠人表示接受赠与的合同。下列情况中，不属于赠与合同的是（ ）。
- A. 为了鼓励其侄儿王军好好学习，王某答应给王军一台电脑和一架照相机，但先给电脑，待期末成绩好时再给照相机
B. 某公司在民政部门主办的大型赈灾义演上，当众宣布向民政部门设立的救灾基金会捐款 100 万元
C. 甲见乙经济困难拿出 500 元给乙，乙不要，甲趁乙不在把钱放进乙的抽屉里
D. 甲公司决定捐给某希望小学两台电脑，后公司法人代表更换，甲公司不愿兑现承诺
54. 犯罪集团：是指三人以上为共同实施犯罪而组成的较为固定的犯罪组织。下列属于犯罪集团的是（ ）。
- A. 贾某、张某共同密谋伤害李某，进而共同对李某实施伤害行为
B. 田某为报复江某，邀约朋友 3 人将江某打成重伤
C. 高某和向某等 10 人经常在一起烧香拜佛，从事一些迷信活动
D. 孙某纠集李某等 5 人组成“天龙会”，多次实施抢劫，劫得财物若干

55. 洗钱：是指把肮脏的钱清洗干净，把非法收入合法化的行为，即将毒品犯罪、黑社会性质组织犯罪、走私犯罪、恐怖活动犯罪等脏钱，进行清洗，转换成“合法”财产的过程。下列不属于洗钱的是（ ）。

- A. 某走私集团将走私所得汇往一公司提供的资金账户
 - B. 某恐怖活动组织将部分资金转给它的一个分组织
 - C. 某毒品犯罪集团将走私毒品所得投资在合法贸易上
 - D. 某公司协助一黑社会性质的组织将资金汇往境外的总公司
- 二、常识判断：共 10 题。请依据常识作出判断。似乎合理的答案可能有多种，你应该选择最为合理的一个。

【例题】尽管我们关于太阳能的研究和讨论已经相当多了，但今天对太阳能的利用还是非常有限的，其主要原因是（ ）。

- A. 难以将阳光有效地聚焦
- B. 尚未开发出有效的收集和储存太阳能的系统
- C. 核能仍然更为有效
- D. 太阳能系统尚不安全

【解答】对太阳能的利用可能很多人没有系统的知识，但是仔细观察四个选项，你可以依据常识看出 A、C、D 三个理由都过分具体且似乎不应成为不能充分利用太阳能的充足理由，只有 B 选项所说的原因概括性高，更为全面，故正确答案为 B。

56. “树不修不直，人不教不才”，“遇良医得生，遇庸医致死”，这说明（ ）。

- A. 外因在一定条件下能够改变事物发展的进程
- B. 外因是事物变化的根据
- C. 外因是事物发生变化的根本原因
- D. 外因不一定通过内因而起作用

57. 国务院总理温家宝于 2007 年 4 月 11 日下午抵达东京，开始对日本进行为期 3 天的正式访问。安倍在雨中举行了欢迎仪式，温总理用“好雨知时节”来形容这场雨，不仅是对天气的称赞，也可以看做对此次日本之行的美好愿景。

“好雨知时节”出自（ ）。

- A. 李白《蜀道难》
- B. 杜甫《春夜喜雨》
- C. 李商隐《夜雨寄北》
- D. 杨万里《听雨》

58. 古代的下列指称中，不属于教师称谓的是（ ）。

- A. 师傅
- B. 经师
- C. 太学
- D. 夫子

59. 我们通常所说的“北斗七星”是指（ ）星座的一部分。

- A. 半人马
- B. 大熊
- C. 狮子
- D. 小熊

60. 我国著名的四大高原是（ ）。

- A. 青藏高原、云贵高原、西北高原、帕米尔高原
- B. 青藏高原、云贵高原、内蒙古高原、帕米尔高原
- C. 青藏高原、云贵高原、西北高原、黄土高原
- D. 青藏高原、云贵高原、内蒙古高原、黄土高原

61. 世界上使用人数最多的语言是（ ），它也是联合国规定的六种工作语言之一。

- A. 英语
- B. 汉语
- C. 法语
- D. 阿拉伯语

62. 下列机构中，不属于联合国机构的是（ ）。

- A. 安理会
- B. 国际法院
- C. 国际奥委会
- D. 万国邮盟

63. 据《史记·孔子世家》载，孔子认真钻研《易经》，竟致“韦编三绝”。其中“韦”指的是（ ）。

- A. 芦苇
- B. 藤条
- C. 麻绳
- D. 皮绳

64. 农业银行某支行会计邹某，利用担任会计之便，通过虚构付款人、收款人进行电子汇兑的手段，利用银行某些业务在程序上的漏洞，将银行资金据为己有。如此作案共 77 次得到赃款 2890 余万元。邹某的行为构成（ ）。

- A. 贪污罪
- B. 侵占罪
- C. 受贿罪
- D. 盗窃罪

65. 以下情形中，没有违反《中华人民共和国劳动法》规定的是（ ）。

- A. 某公司在录用职工时规定，同一职业要求男性必须具有学士以上学位，女性必须具有硕士以上学位
- B. 某餐馆老板觉得一个十五岁的流浪孩子很可怜，就让他在自己的餐馆干活，并且每个月发给工资
- C. 王某家庭负担较重，需要用钱，因此与老板协商达成一致，王某不参加社会保险，老板不用为他缴纳社会保险费，但是付给他更高的工资
- D. 杨某在试用期内，未提前三十日而是直接通知单位解除合同，办理完工作交接就离开了单位

三、逻辑判断：共 10 题。每题给出一段陈述。这段陈述被假设是正确的，不容置疑的。要求你根据这段陈述，选出一个答案。注意：正确的答案应与所给的陈述相符合。不需要任何附加说明即可以从陈述中直接推出。

【例题】某厂有五种产品：甲、乙、丙、丁、戊。它们的年销售额之间的关系为：丙没有丁高，甲没有乙高，戊不比丁低，而乙不如丙高。

请问，哪种产品的年销售额最高？（ ）

- A. 甲
- B. 乙
- C. 丁
- D. 戊

【解答】从所给条件可以知道：戊>丁>丙>乙>甲。因此，正确答案为 D。

请开始答题：

66. 某钢铁公司在五一节要表彰三名劳模。六个分公司分别推选的候选人是：一公司王某、二公司钱某、三公司朱某、

王：他不超过 30 岁。

李：他绝对在 35 岁以下。

赵：他的岁数在 40 岁以下。

而事实上，他们中只有一个人说对了。根据上述信息，下列（ ）项结论是正确的。

- A. 张说得对 B. 他的年龄在 40 岁以上 C. 他的年龄在 36~40 岁之间 D. 王说得对

四、类比推理：共 5 题。先给出一对相关的词，要求你在备选答案中找出一对与之在逻辑关系上最为贴近或相似的词。

【例题】汽车：运输

- A. 渔网：编织 B. 编织：渔网 C. 捕鱼：渔网 D. 渔网：捕鱼

【解答】四个选项中只有 D 符合，渔网的作用是捕鱼。

请开始答题：

76. 骄傲：失败

- A. 教授：学校 B. 修养：品行 C. 创造：财富 D. 咨询：结果

77. 钢笔：书写

- A. 风琴：乐器 B. 盆子：洗涤 C. 口哨：声音 D. 塔吊：建筑

78. 现代：传统

- A. 理想：现实 B. 远景：近况 C. 过去：现在 D. 现在：将来

79. 牛顿：万有引力


- A. 爱迪生：火车 B. 贝多芬：鸡蛋 C. 达·芬奇：蒙娜丽莎 D. 米开朗基罗：最后的晚餐

80. 语法：谬误

- A. 兴奋：快乐 B. 文章：庸俗 C. 面粉：饼干 D. 煤炭：木头

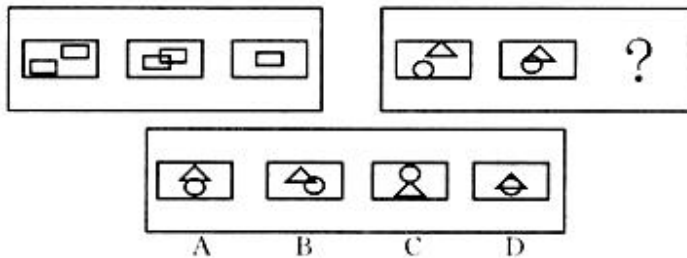
五、图形推理：共 5 题。每道题包含两套图形和可供选择的四个图形。这两套图形具有某种相似性，也存在某种差异。要求你从四个选项中选择你认为最适合取代问号的一个。正确的答案应不仅使两套图形表现出最大的相似性，而且使第二套图形也表现出自己的特征。

【例题】

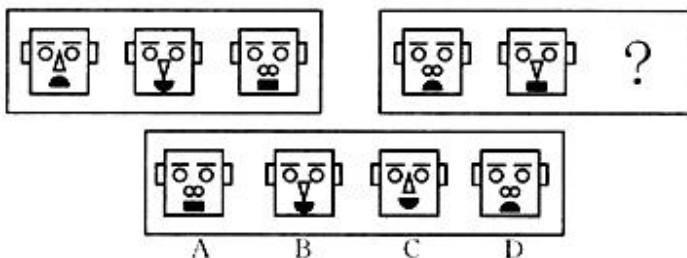


【解答】正确答案为 D。因为只有 D 能使两套图形具有相似性，仅仅元素不同，一个是半圆，一个是半个正方形，但两组图形中元素的排列规律完全相同。

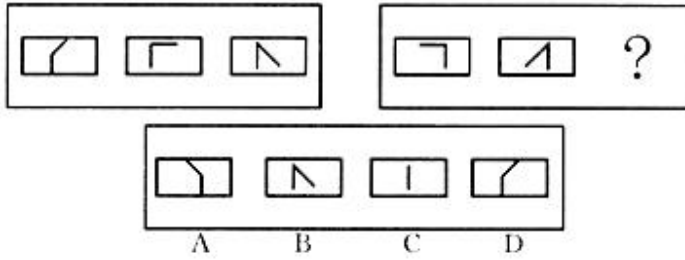
81.



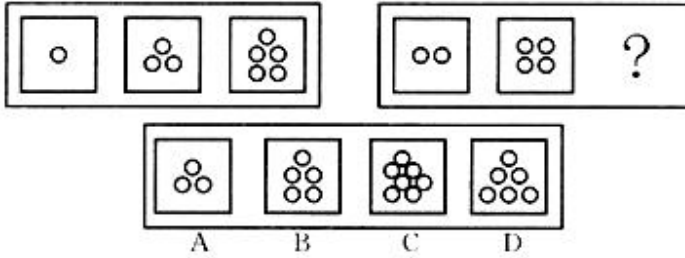
82.



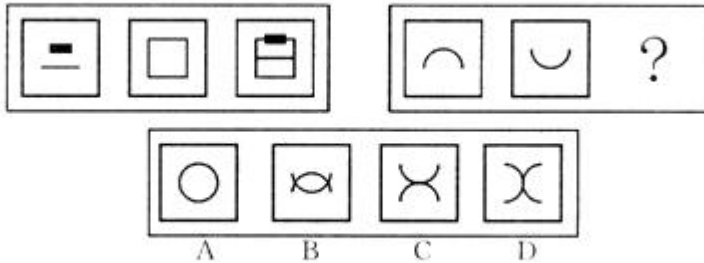
83.



84.



85.



第四部分资料分析(共 15 题, 参考时限 15 分钟)

针对下列文字、图或表回答问题。你应根据资料提供的信息进行分析、比较、计算和处理。

一、根据下面资料回答第 86~90 题。

某地区 2007 年 3 月份, 居民消费品价格比去年同月上涨 3.9%, 其中城市上涨 3.6%, 农村上涨 4.5%。

食品类价格比去年同月上涨 8.8%, 非食品类价格上涨 1.4%。食品类中, 粮食价格、肉禽及其他制品价格、鲜蛋价格、水产品价格、鲜菜价格的涨幅均超过了 10%, 油脂价格下降 1.4%。

居住类价格上涨 5.6%。其中, 水、电及燃料价格上涨 10.5%, 建房及装修材料价格上涨 2.0%, 租房价格上涨 2.2%。

医疗保健类价格下降 0.7%。其中, 西药价格下降 3.4%, 中药材及中成药价格下降 3.5%, 医疗保健服务价格上涨 4%。

个人用品类价格上涨 4%。其中, 服装下降 3.4%, 饰品上涨 4%, 化妆品上涨 6%。

86. 该地区居民消费品价格涨幅最大的是()。
- A. 食品类价格 B. 居住类价格 C. 医疗保健类价格 D. 个人用品类价格
87. 该地区居民消费品价格下降幅度最小的是()。
- A. 西药 B. 中药材及中成药 C. 油脂 D. 服装
88. 在居民各类消费品中, 价格涨跌幅度差距最大的是()。
- A. 个人用品类 B. 医疗保健类 C. 居住类 D. 食品类
89. 医疗保健类价格下降 0.7%, 但价格不降反升的是()。
- A. 医疗保健服务价格 B. 中成药价格 C. 中药材价格 D. 西药价格
90. 下列说法不正确的是()。
- A. 农村居民消费品价格涨幅大于城市
- B. 2007 年 3 月份, 居民消费品价格上涨主要由水、电及燃料价格上涨所致
- C. 2007 年 3 月份, 居民消费品价格上涨主要由食品类价格上涨所致
- D. 居民各类消费品价格有升有降


二、根据下面资料回答第 91~95 题。

中国国内旅游情况

年份	旅游人数(百万人次)			旅游收入(亿元)		
	总人数	城镇居民	农村居民	总收入	城镇居民	农村居民
2000	744	329	415	3175.6	2235.5	940.3
2001	784	375	409	3522.4	2651.7	870.4
2002	878	385	493	3878.4	2848.1	1030.3
2003	870	351	519	3442.3	2404.1	1038.2
2004	1102	459	643	4710.7	3359	1351.7
2005	1212	496	716	5285.8	3656.1	1629.7

91. 与上年相比, 国内旅游人数增加最多的年份是()。
- A. 2001年 B. 2002年 C. 2004年 D. 2005年
92. 2005年旅游人数中农村居民所占比重是()。
- A. 55.8% B. 59.1% C. 52.2% D. 59.7%
93. 2002年城镇居民人均旅游花费()。
- A. 708.3元 B. 737.1元 C. 731.8元 D. 739.7元
94. 2000~2005年, 旅游总收入同比最大相差为()。
- A. 575.2亿元 B. 1346.8亿元 C. 1268.4亿元 D. 256.0亿元
95. 城镇和农村居民在旅游收入上的差距呈现出()。
- A. 先增大后减小, 又逐步增加的趋势 B. 先增大后减小的趋势
C. 先减小后增大的趋势 D. 逐步增大的趋势

三、根据下面资料回答第 96~100 题。



96. GDP 比重呈上升趋势的是()。
- A. 北部地区 B. 中部地区 C. 东部地区 D. 西部地区
97. 2006年与2003年相比, 西部 GDP 比重增加()。
- A. 20% B. 20个百分点 C. 5% D. 5个百分点
98. 经济最落后的是()。
- A. 东部地区 B. 西部地区 C. 北部地区 D. 中部地区
99. 最发达地区与最落后地区 GDP 比重差距最大的是()。
- A. 2003年 B. 2004年 C. 2005年 D. 2006年
100. GDP 比重起伏最大的是()。
- A. 东部地区 B. 西部地区 C. 北部地区 D. 中部地区

👉 微信扫描二维码, 关注“公务员考试挺简单”微信公众号, 可获取更多公考经验。分享公考经验, 还可获得现金奖励哈

👉 手淘扫描淘宝店铺, 可以购买省考、国考历年真题哦



微信公众号



淘宝店铺