

2006年四川省各级机关考试录用公务员和机关工作人员

行政职业能力测验真题

来源：网络 整理：杨柳（微信：gwy288）

第一部分 言语理解与表达

（共20题，参考时限20分钟）

本部分包括三种类型的试题：

一、选词填空：共5题。要求你从所给的四个选项中选出一个填空，使句子的意思表达得最准确。

请开始答题：

- 1.我国实行的是土地公有制，土地是国家的重要资源和资产。把土地无偿划拨给企业，或者以优惠政策的形式提供给企业，是国有资产的一种巨大（）。
A.转移 B.流动 C.流失 D.损失
- 2.在强大的习惯面前，科学有时也会变得（）。
A.一无是处 B.苍白无力 C.软弱可欺 D.似是而非
- 3.他耐心地听取了同志们的（）批评，终于接受了大家的建议。
A.严肃 B.严正 C.严格 D.严重
- 4.有些人说了许多似乎很有道理的话，却让人摸不着边际；有些人只说了一两句，却有（）之效。
A.相见恨晚 B.行云流水 C.醍醐灌顶 D.如释重负
- 5.享受奉献带来的（）和（）是人生的一大幸福。
A.快乐 荣耀 B.欢喜 荣耀 C.欢喜 荣誉 D.快乐 荣誉

二、语句表达：共5题。要求你从语气、词序、语法结构等方面对有关语句做出判断。

请开始答题：

- 6.从给出的几句话中选出没有歧义的句子（）。
A.我们需要相信自己的人 B.最后出席会议的教授的弟子作了精彩的发言
C.我和小王已经商量好了，下了课去打球 D.没有人相信他的话
- 7.下列没有语病的一句是（）。
A.为了使大家有一个舒适的工作环境，我们把工厂打扫得干净而又整齐
B.航天飞机也能完成天地往返，但每一次航行，都要进行大量的部件更换
C.听说爱乐乐团正在市体育馆演出，大家立即奔向演出地点跑去
D.当你有了崇高的理想，会使你藐视一切困难
- 8.下列语句没有语病的是（）。
A.为了全面推广利用菜籽饼或棉籽饼喂猪，加速发展养猪事业，这个县举办了三期饲养员技术培训班
B.可惜，这部在他心中酝酿了很久，即将成熟的巨著未及完稿，就过早地离开了我们
C.储蓄所吸收储蓄额的高低对国家流动资金的增长有重要的作用，因而动员城乡居民参加储蓄是积累资金的重要手段
D.不难看出，这起明显的错案迟迟得不到公正判决，其根本原因是党风不正在作怪
- 9.下列各句中，没有语病的一句是（）。
A.近代中国150年的屈辱史在警告我们，教育落后便意味着将永远处于受剥夺被侵略的地位
B.调查小组经过详细调查，查明了邵军两次收受吕某、陆某1300美元的事实
C.在世界杯外围赛前的热身赛中，米卢执教的中国队连遭败绩，这一结果大大超出中国球迷的意料之外
D.2001年1月20日，国务院有关部门发出通知，严禁发放使用各种代币券(卡)，并明确各类购物券、代币券等都是违法行为
- 10.下面的四句话中有一句多一个“只”，请找出这一句（）。
A.我不是不想去，只是没有时间而已
B.他从不向人说起自己过去的功绩，人们都以为他只是一个普普通通的人
C.这又让我们看到猜忌的残酷，它只找到一点借口，就可以将一个人顷刻间置于死地
D.所谓综合，就是把部分结合成整体，它不只是各部分简单相加，而是再现事物各部分的本质联系

三、阅读理解：共10题。每道题包含一段文字，后面是一个不完整的陈述。要求你从四个选项中选出一项来完

成陈述。注意: 答案可能是对文字内容的复述, 有时则满足了陈述中其他方面的要求, 你的选择应与所提要求最相符合。

请开始答题:

11. 收入差距大未必引起社会动荡, 关键在于造成差距大的原因何在, 把账算清楚, 可以避免产生忿忿之情, 剥削也就不再可能。经济交往中的糊涂账往往成为内部摩擦的原因。

根据本文, 理解正确的是()。

- A. 收入差距的加大必然带来矛盾的激化 B. 经济交往过程中必然出现剥削的现象
C. 经济纠纷常常是由于账目不清引起的 D. 劳动收入问题是社会稳定的决定因素

12. 放弃了宗教的人, 若没有代替宗教的东西, 。不过幸好除了宗教还有哲学为人类提供了获得更高价值的途径——一条比宗教提供的途径更为直接的途径, 通过哲学而熟悉的更高价值, 比通过宗教而获得的更高价值甚至要纯粹得多, 因为后者混杂着想像和迷信。

填入横线上最恰当的是()。

- A. 便会很自然地去寻找哲学的帮助 B. 只好把自己限于尘世事务, 而与精神事务绝缘
C. 也不会感到生活有太大的变化 D. 他们照样可以保持内心的平静怡和

13. 在英国的家庭中, 绝对看不到对孩子没有理由的娇宠, 犯错误的孩子会受到纠正甚至惩罚, 家长们往往在尊重孩子独立人格的前提下, 对孩子进行严格的管束, 为的是让孩子明白, 他们的行为不是没有边际的, 不可以为所欲为。英国的法律明确规定允许家长体罚孩子。 对这段文字, 理解不准确的是()。

- A. 英国人从不娇惯孩子 B. 英国人经常体罚孩子
C. 英国人管教孩子时不伤其自尊 D. 英国的法律有管教孩子的条款

14. 大袋鼠是一种奇特的动物。它们平时在原野、灌木丛和森林地带活动, 靠吃草为生。它们过群居生活, 但没有固定的集群, 常因寻找水源和食物而汇集成一个较大的群体。老鹰、蟒蛇和人们都要捕捉袋鼠, 然而对袋鼠来说最大的危害莫过于干旱, 幼小的袋鼠会死亡, 母大袋鼠会停止孕育。

下面说法正确的是()。

- A. 有的大袋鼠单独行动 B. 大袋鼠常聚集在一起寻找水和食物
C. 威胁大袋鼠最严重的是人们的捕捉 D. 遇到干旱, 袋鼠都会死亡

15. 如果没有达尔文、马可尼等专家的新科技观的涌现, 就不会产生世界上第一部科幻小说; 如果没有广义相对论、量子力学的发展, 就不会迎来科幻小说的黄金时代; 如果没有原子物理、太空科学的发展, 就不会有灾难科幻作品或超级空间探险小说。

这段话的主要意思是()。

- A. 科幻小说对科学的发展起了强大的推动作用 B. 科幻小说的发展依赖于科技的进步
C. 科幻小说被用来形象地描述最新科学发现 D. 科幻文学与科学相互促进, 共同发展

请根据下文回答16~20题。

织袜机是英国牧师李·维利亚1593年发明的。关于这项发明还有一段有趣的插曲。当年这位发明家为了向织袜女工梅丽求婚, 苦思冥想, 别出心裁地发明了能帮助梅丽摆脱繁重劳动的织袜机, 并以此作为奉献给心上人的结婚礼物。 [], 男装最容易脏的部位是袖口和领子。没有一位妻子希望自己的丈夫是个邋遢鬼, 她们总希望自己的丈夫穿着体面地走在大街上, 但天天洗衣服谈何容易? 1825年, 美国特洛伊城的汉娜·蒙塔基的发明解决了这个难题, 她设计的上衣带有可脱卸的领子, 这不仅使丈夫每天都能穿着整洁, 同时也大大减轻了自己以及很多像她那样的妇女家务劳动的强度。

带活轮的自行车在上一世纪末才问世。1887年, 法国人皮埃尔·卡尔梅设计出了带活动轴辊的车轴。这项发明的动机是爱父之情。皮埃尔的父亲天天骑车去工作, 毫不停歇地蹬车使他筋疲力尽, 儿子的礼物帮了父亲的大忙。

1640年, 著名的法国科学家布莱泽·帕斯卡的父亲被派往鲁昂任行政长官。17岁的小帕斯卡协助父亲计算税款。没完没了的繁杂运算弄得他疲惫不堪。小帕斯卡下决心要发明一台机器来帮助父亲完成这种费力的工作。两年以后, 这种机器果真诞生了。小帕斯卡的机器只能做加法, 能做乘法的计算机是铸钟匠的儿子利昂·博勒研制成功的。有意思的是, 他不仅是小帕斯卡的同胞和同龄人, 而且两人有相同的发明动机。

16. 填写在短文[]处最恰当的词语是()。

- A. 可想而知 B. 理所当然 C. 众所周知 D. 毫无悬念

17. 关于皮埃尔以下哪种说法是错误的? ()

- A. 他的发明轰动一时 B. 他非常爱自己的父亲

- C.父亲上班的路程比较远 D.他的礼物对父亲很重要
- 18.谁的发明表达了夫妻之间的关心和恩爱? ()
- A.李·维利亚 B.汉娜·蒙塔基 C.皮埃尔·卡尔梅 D.布莱泽·帕斯卡
- 19.博勒为什么要发明计算机? ()
- A.为了帮父亲计算税款 B.为了和小帕斯卡比赛
- C.为了制造精确的钟表 D.为了减轻父亲的劳动强度
- 20.最适合做本文题目的是()。
- A.爱的奇迹 B.爱的收获 C.爱的创造力 D.亲情与发明

*** 第一部分结束, 请继续做第二部分! ***

第二部分 数量关系

(共15题, 参考时限15分钟)

本部分包括两种类型的试题:

一、数字推理: 共5题。给你一个数列, 但其中缺少一项, 要求你仔细观察数列的排列规律, 然后从四个供选择的选项中选择你认为最合理的一项, 来填补空缺项。

请开始答题:

- 21.1, 3/2, 11/6, 25/12, ()
- A.133/60 B.137/60 C.141/60 D.147/60
- 22.-2,1,7,16, (),43
- A.25 B.28 C.31 D.35
- 23.-26, -6,2,4,6, ()
- A.11 B.12 C.13 D.14
- 24.16,17,36,111,448, ()
- A.2472 B.2245 C.1863 D.1679
- 25.5,10,26,65,145, ()
- A.197 B.226 C.257 D.290

二、数学运算: 共10题。你可以在草稿纸上运算, 遇到难题, 你可以跳过不做, 待你有时间再返回解决它。

请开始答题:

- 26.1+2+3+4+5+……+2003的和的最后一位是多少? ()
- A.1 B.3 C.6 D.7
27. $1.1^2+1.2^2+1.3^2+1.4^2$ 的值是()。
- A.5.04 B.5.49 C.6.06 D.6.30
- 28.某铁路线上有25个大小车站, 那么应该为这条路线准备多少种不同的车票? ()
- A.500 B.600 C.400 D.450
- 29.某企业发奖金是根据利润提成的, 利润低于或等于10万元时可提成10%; 低于或等于20万元时, 高于10万元的部分按7.5%提成; 高于20万元的部分按5%提成。当利润为40万元时, 应发奖金多少万元? ()
- A.2 B.2.75 C.3 D.4
- 30.有27名运动员参加完比赛后口渴难耐, 去小店买饮料, 饮料店搞促销凭3个空瓶可以再换1瓶饮料, 他们最少买多少瓶饮料才能保证每人一瓶? ()
- A.18 B.19 C.20 D.21
- 31.将进货单价为90元的某商品按100元一个出售时, 能卖出500个, 已知这种商品如果每个涨价1元, 其销量就会减少10个, 为了获得最大利润, 售价应定为()。
- A.110元 B.120元 C.130元 D.150元
- 32.一块三角地带, 在三个边上植树, 三个边的长度分别为156米、186米、234米, 树与树之间的距离均为6米, 三个角上都必须栽一棵树, 问共需植树多少棵? ()
- A.93棵 B.95棵 C.96棵 D.99棵
- 33.现有甲、乙两个水平相当的技术工人需进行三次技术比赛, 规定三局两胜者为胜方, 如果在第一次比赛中甲获胜, 这时乙最终取胜的可能性有多大? ()

A.1/4

B.1/3

C.1/2

D.1/6

34.一把钥匙开一把锁，现有4把钥匙4把锁，但忘记了对应的开锁方法，最多试开()次才能将4把锁全部打开。

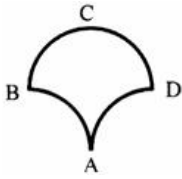
A.10

B.7

C.8

D.9

35.半径为5厘米的三个圆弧围成如右图所示的区域，其中AB弧与AD弧是四分之一圆弧，而BCD弧是一个半圆弧，则此区域的面积是多少平方厘米？()



A.50

B.10 + 5π

C.25

D.50 + 5π

*** 第二部分结束，请继续做第三部分！***

第三部分 判断推理

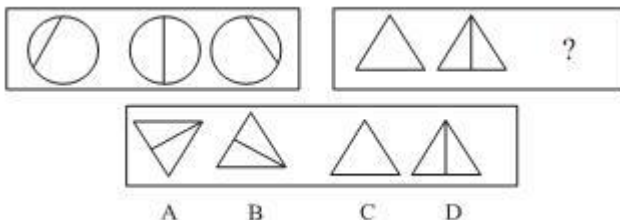
(共35题，参考时限30分钟)

本部分包括四种类型的题目：

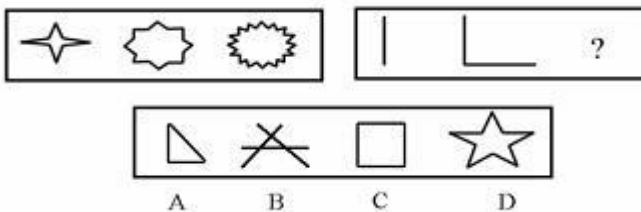
一、图形推理：共10题。每道题包含两套图形和可供选择的4个图形。这两套图形具有某种相似性，也存在某种差异。要求你从四个选项中选择你认为最合适取代问号的一个。正确的答案应不仅使两套图形表现出最大的相似性，而且使第二套图形也表现出自己的特征。

请开始答题：

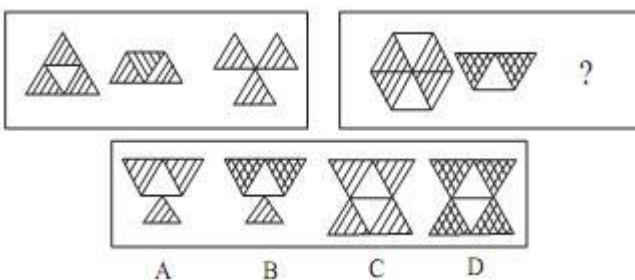
36.



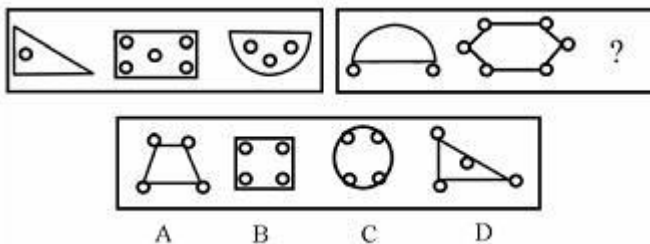
37.



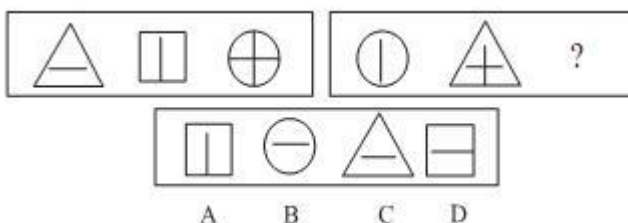
38.

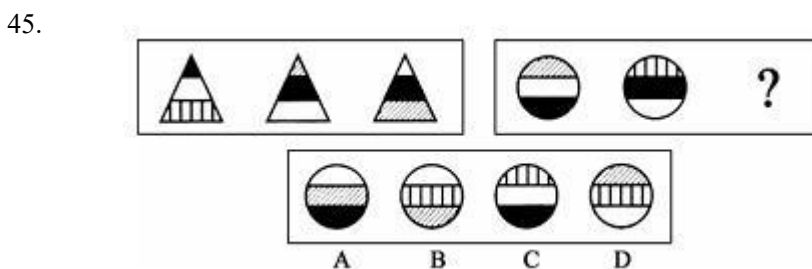
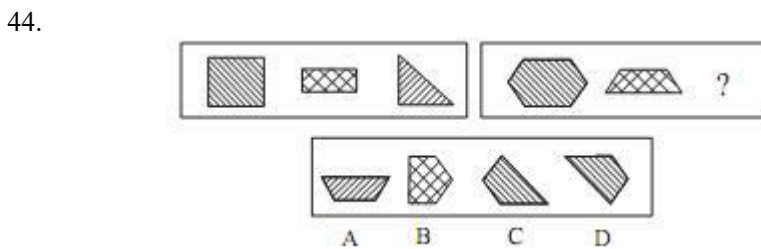
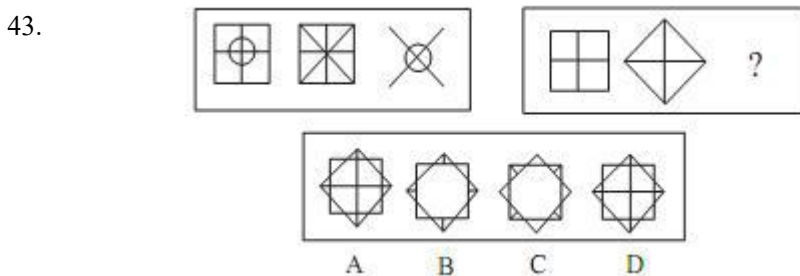
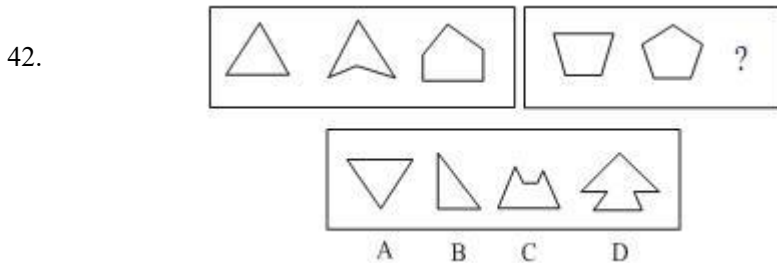
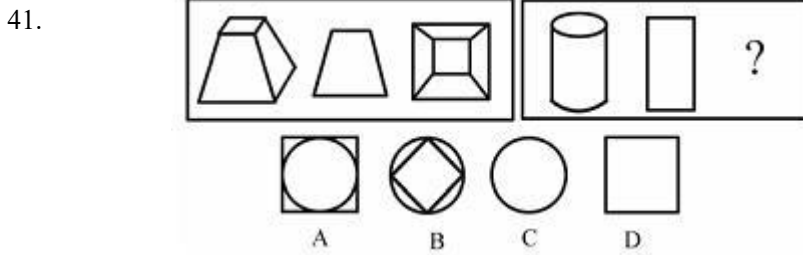


39.



40.





二、定义判断：共5题。每道题先给出一个概念的定义，然后分别列出四种行为，要求你严格依据定义从中选出一个最符合或最不符合该定义的答案。注意：假设这个定义是正确的，不容置疑的。

请开始答题：

46.表象：是事物不在面前时，人们在头脑中出现的关于事物的形象。具有直观性、概括性、可操作性等特点，在形象思维中具有重要作用。

根据以上定义，下面哪种现象属于表象？（ ）

- A.没有见过北方冬日的人们，通过通读毛泽东诗词《沁园春·雪》，可在头脑中形成北国风光的情景
- B.孙悟空是吴承恩先生抽象出来的一个人物形象
- C.当一个孩子盯着一幅画看上几分钟，闭上眼睛，仍能够清楚地记得这幅画的每一个细节
- D.当人们读到《红楼梦》中关于王熙凤生动的外貌描写时，似乎能看到王熙凤就站在眼前

47.规范：是指人们在特定环境下被要求如何行动、如何思维、如何体验的期望，是一种相对固定的行为表现。

根据以上的定义，下面哪种行为体现了规范()。

- A. 一个从小生活在海边的人到草原工作，慢慢适应了那里的生活
- B. 律师在法庭上表现镇定、稳重、客观、富于正义感
- C. 小郑身着背心和短裤，脚踏拖鞋参加好朋友的婚礼
- D. 为了使大家玩得更开心，我们制定了新的游戏规则

48. 社会保障：是国家和社会依据一定的法律和规定，通过国民收入的再分配，对社会成员的基本生活权利予以物质保障的一系列社会安全制度。

下列不属于社会保障的是()。

- A. 国家面向工资劳动者提供的保障女职工生育期间生活的生育保险
- B. 社会给下岗职工提供最低生活补助
- C. 国家给所有退休军人提供生活保障
- D. 红十字会向灾区人民发放生活救济

49. 商品：为用于交换而生产的劳动产品称为商品。

下列哪一个不属于商品？()

- A. 百货店里的黄金首饰
- B. 养猪专业户喂养的猪
- C. 赵某在房前种植的供自己食用的蔬菜
- D. 医用氧气

50. 财产处分行为是指直接发生财产权移转或消灭效果的行为，财产处分行为的结果是使权利移转，权利的内容的缩小或改变，权利上设定负担以及权利消灭等。

根据上述定义，下述行为中不属于财产处分行为的是()。

- A. 为担保一笔债务，甲公司将自己所有的房产抵押，抵押行为使甲公司对该房产的所有权受到限制
- B. 乙抛弃自己的电视机。抛弃行为使乙对该电视机的所有权消灭
- C. 丙与丁订立合同，出卖丙的家传古画，并约定7日后丙交付古画。合同行为使丙负担着7日后移转古画所有权的义务
- D. 丁免除丙的金钱债务，免除行为使丙不必履行偿还金钱的义务

三、事件排序：共10题。每道题给出五个事件，每个事件是以简短语句表述的，接着给出四种假定发生顺序的四个数字序列，请你选出其中最合乎逻辑的一种事件顺序。在回答问题时，你可根据自己的一般知识和对事件间逻辑关系的理解作出补充或合理的假设，以填补缺欠的信息。但要注意以最少的假设来联系和安排这五个事件的发生顺序。

请开始答题：

51. (1)海平面上涨

- (2)全球气候变暖
- (3)工业人口的快速增长，各种温室气体含量增加
- (4)沿海城市及低海拔国家面临“水淹”问题
- (5)南北极冰山大量溶化

- A. 3-2-5-1-4
- B. 2-1-4-5-3
- C. 3-5-1-4-2
- D. 2-3-1-5-4

52. (1)水库边钓鱼 (2)送交水库管理处

- (3)小明放暑假 (4)放归水库中
- (5)捉到一只百年乌龟

- A. 1-5-2-4-3
- B. 5-2-4-3-1
- C. 3-1-5-2-4
- D. 3-5-4-1-2

53. (1)李虎受到查处 (2)学生家长举报

- (3)擅自开设“电脑游戏屋” (4)招来小学生玩游戏
- (5)学习成绩下降

- A. 3-4-1-2-5
- B. 5-2-3-4-1
- C. 3-4-5-2-1
- D. 3-2-5-4-1

54. (1)调查原因 (2)引种南方竹子

- (3)从南方运送竹子 (4)大熊猫不爱进食
- (5)竹子变得不新鲜

- A. 4-1-3-5-2
- B. 3-5-4-1-2
- C. 4-3-5-1-2
- D. 3-4-5-1-2

55. (1)组织实地考察 (2)总结会议成果

- (3)拟定会议日程 (4)与会者积极发言

- (5)发出会议通知
A.3-1-5-2-4 B.1-4-3-5-2 C.5-3-2-1-4 D.3-5-4-1-2
- 56.(1)竖起井架 (2)连接钻桥
(3)喷出原油 (4)决定钻孔位置
(5)取出岩芯分析
A.1-2-4-3-5 B.4-1-2-5-3 C.2-1-4-5-3 D.4-2-1-3-5
- 57.(1)植树造林 (2)努力学习林业知识
(3)承包荒山 (4)刘明下岗
(5)取得成功
A.2-4-3-1-5 B.4-2-3-1-5 C.4-3-1-2-5 D.3-2-4-1-5
- 58.(1)进行市场调查 (2)公司面临倒闭
(3)组织革新产品 (4)发现根本原因
(5)公司起死回生
A.2-4-3-1-5 B.5-2-1-4-3 C.2-1-4-3-5 D.1-5-2-4-3
- 59.滚动计划法是在每次编制或者调整计划时，均将计划时间顺序向前推进一个计划期。下面是滚动计划的程序。请选出正确的顺序：
(1)分析计划与实际的差异 (2)考察本年实际完成
(3)拟定总体计划 (4)制定具体计划
(5)考虑计划修正因素
A.3-1-5-2-4 B.2-1-3-4-5 C.4-2-1-3-5 D.3-2-1-5-4
- 60.(1)水土流失严重 (2)大批森林被毁
(3)使用新式工具 (4)居民被迫迁移
(5)木材需求增加
A.5-3-2-1-4 B.3-2-5-1-4 C.4-5-3-2-1 D.2-4-3-5-1

四、演绎推理：共10题。每题给出一段陈述，这段陈述被假设是正确的，不容置疑的。要求你根据这段陈述，选择一个答案。注意，正确的答案应与所给的陈述相符合，不需要任何附加说明即可以从陈述中直接推出。请开始答题：

- 61.在一项实验中，实验对象的一半作为实验组，食用了大量的某种辣椒。而作为对照组的另一半没有吃这种辣椒。结果，实验组的认知能力比对照组差得多。这一结果是由于这种辣椒的一种主要成分——维生素E造成的。以下哪项如果为真，则最有助于证明这种辣椒中的成分造成这一实验结论？（）
A.上述结论中所提到的维生素E在所有蔬菜中都有，为了保证营养，必须摄入一定量这种维生素E
B.实验组中人们所食用的辣椒数量是在政府食品条例规定的安全用量之内的
C.第二次实验时，只给一组食用大量辣椒作为实验组，而不设不食用辣椒的对照组
D.实验前两组实验对象是按认知能力均等划分的
- 62.要治服坏人，有时候要以坏治坏，以小坏对付大坏，以假坏对付真坏，坏人也会做好事，但好人只要做过坏事就变成了坏人。
由此可以推出（）。
A.好人不可能治服坏人 B.世界上不可能有坏人
C.做过好事的人未必是好人 D.做过坏事的人未必是坏人
- 63.智商很低的人肯定不能成名成家，但智商很高的人不一定能成名成家。在导致人成名成家的其他因素中，大部分属于情商。
由此可以推出（）。
A.人只要具备很高的智商与情商，便必定成功 B.情商很高的人不一定能成名成家
C.情商比智商对成名成家更重要 D.智商很高的人情商一定很低
- 64.中国自1994年始，全国人代会提案组每年都会收到一份要求为安乐死立法的提案，然而，法律实现的是大多数人的意志，安乐死是否符合大多数人的意志，眼下尚无科学性的调查结果，而且法律付诸实施，就有极大的强迫性，一旦安乐死立法，它就像横在病人面前的一把双面刃，用得好，就可以真正解除病人的痛苦；用得不好，就可能成为剥夺病人选择生命权利的借口。
由此可以推出（）。

- A.中国在1994年之前，没有人提出要为安乐死立法
B.赞成安乐死的人大部分都是病人
C.有时候法律也可能会被人利用来做不义之事
D.只要有调查表明大多数国民赞同安乐死，实施安乐死就是合法行为
- 65.以保健品名义出现的核酸等“基因食品”对人体健康并无多大帮助，从科学角度看，所谓人体需要补充外源核酸的说法不能成立。人体缺的是营养，而核酸不可能缺。某些广告说人老了或得了病，制造基因的能力会减弱，更是无稽之谈。
由此可以推出()。
A.所有关于保健品的广告都缺乏科学依据 B.人体内的核酸会随年龄的增长而减少
C.人生病都是营养不良的结果 D.食用保健品未必能增进身体健康
- 66.类胡萝卜素被人体吸收后具有较强的抗癌功能，研究表明，蔬菜被煮过后，植物的细胞膜会软化，这使得其中的类胡萝卜素更易于被人体吸收。生食蔬菜，人体只能吸收3%至4%的类胡萝卜素，而对煮过的蔬菜中的类胡萝卜素，人体对其吸收率可增加45%。
由此可见()。
A.食用煮过的蔬菜比食用生蔬菜更有助于抗癌 B.经常吃胡萝卜的人不可能患癌症
C.蔬菜被煮过后，其类胡萝卜素的含量会增加 D.凡癌症患者平时都不爱吃蔬菜
- 67.甲、乙、丙三人各自举着红旗、绿旗和黄旗，分别从东面、南面和西面三个方向朝山顶攀登。甲不举红旗，也不从东面上山，举红旗的人从西面上山；乙举着绿旗。
由此可以推出()。
A.举绿旗者从南面上山 B.丙从东面上山
C.举黄旗的不是甲 D.乙不从南面上山
- 68.与中国的贸易，法国远远落后于日本和美国，甚至落后于英国和意大利。中国今年的国民生产总值的增长率预计将达7.5%~7.8%，与2001年头7个月相比，法国同中国的贸易只增长了2.7%，而同是竞争者的其他欧洲国家同中国的贸易却平均增长了10%。
这段话说明()。
A.法中贸易增长率低于中国国民生产总值的增长率
B.法国同中国贸易的发展步伐相对缓慢
C.法国同中国的贸易远远落后于其他发达国家
D.除法国外的其他欧洲国家与中国的贸易都增长迅速
- 69.在公元之初，牧师们将基督教在整个罗马帝国中传播开来。基督教的普及首先涉及的是各大城市的平民阶层。基督教徒们反对皇权意识，因此君主们都把他们视为威胁，并组织起对他们的暴力摧残。然而这并没有中断新信仰的扩展，它一点点赢得了贵族阶级和最有影响力的人士，而且很快触及到了皇帝周围的人和最高君主本人。公元312年的米兰敕令为迫害画上了句号。公元380年，狄奥多西敕令使基督教成为国教。因此，公元4世纪标志着基督教概念中的转折点。
根据这段话，可得到的正确推论是()。
A.基督教从开始就反对皇权统治，且一直与罗马皇帝及其政权斗争
B.基督教成为国教，意味着它由非法而合法、由被迫害而被推崇
C.公元312年基督教赢得了贵族阶级和最有影响力的人士的支持
D.公元380年以后，基督徒不再受到迫害，基督教被承认
- 70.核酸是什么？核酸与蛋白质均是生物所特有的重要大分子。核酸不但是一切生物细胞的基本成分，还对生物体的生长、发育、繁殖、遗传及变异等重大生命现象起着主宰作用。它分为脱氧核糖核酸(DNA)和核糖核酸(RNA)两大类，由核苷酸的3位和5位磷酸键连接而成。由此可以推断，下列对“核酸”的解说，不正确的一项是()。
A.核酸是生物体所特有的重要大分子，是一切生物细胞的基本成分
B.核酸分成由核苷酸的3位和5位磷酸键连接而成的脱氧核糖酸和核糖核酸两大类
C.核酸是核苷酸、核苷、碱基的混合物
D.核酸是对生物体的重大生命现象起着主宰作用的物质

*** 第三部分结束，请继续做第四部分！***

第四部分 常识判断

(共15题，参考时限10分钟)

根据题目要求，在四个选项中选出一个正确答案。

请开始答题：

- 71.我国的政体是()。
A.人民代表大会制度 B.人民民主专政 C.多党参政 D.民主与专制
- 72.太平天国具有资本主义性质的文件是()。
A.《天朝田亩制度》 B.《士阶条例》 C.《资政新篇》 D.《三民主义》
- 73.远程电力传输一般采用50~100万伏的高电压，其主要原因是()。
A.确保远程电力传输的安全 B.减少传输线路上的电能损失
C.节约传输线路上的设备和材料 D.减少雷电对传输线路的破坏
- 74.香烟点燃后，冒出的烟雾看上去是蓝色的，这是因为()。
A.烟雾的颗粒本身是蓝色的 B.烟雾将光线中其他色光滤掉，只有蓝色透射出来
C.烟雾的颗粒对蓝色光散射强烈 D.烟雾的颗粒吸收光线后，发出蓝色荧光
- 75.多数汽车的前窗都是倾斜的，最主要原因是()。
A.避免因反光而影响驾驶员视线 B.减少空气阻力
C.结构合理，视野开阔，承受冲击能力强 D.便于雨水流走
- 76.在我国，“公民”一词的含义是指()。
A.年满18周岁具有我国国籍的人 B.享有政治权利的人
C.具有我国国籍的人 D.出生在我国的人
- 77.下列行为中，没有违反《中华人民共和国未成年人保护法》的是()。
A.幼儿园教师在给孩子们上课时吸烟
B.父母逼迫19周岁的女儿嫁给一外地人
C.某营业性舞厅领班让17周岁的小明进入舞场
D.由于家庭生活困难，老王不让自己10岁的儿子上学
- 78.下列行为中，没有违反《中华人民共和国妇女权益保障法》的是()。
A.某单位辞退了怀孕的小李
B.某单位招收了一位年满17周岁的未成年女工
C.由于家庭生活困难，老王让自己正在上小学的女儿辍学回家干活
D.某公司未经王女士同意，以营利为目的，将其肖像印发在广告画上
- 79.1900年，英美等帝国主义国家为了镇压中国人民反抗侵略的运动，组成了“八国联军”进攻中国。“八国联军”指以下哪八个国家？()
A.英美法德俄日意奥 B.英美法俄日德奥葡
C.英美法德日葡荷意 D.英美德法俄荷意比
- 80.“四书”是封建社会科举取士的初级标准书。它所指的是下列哪四本书？()
A.《史记》、《春秋》、《汉书》、《诗经》 B.《大学》、《中庸》、《论语》、《孟子》
C.《史记》、《论语》、《诗经》、《汉书》 D.《论语》、《春秋》、《诗经》、《中庸》
- 81.电脑的输入设备就是电脑从外界获取信息的设备。我们通过输入设备向电脑发命令、输入资料。在下列设备中，哪一项不属于电脑的输入设备？()
A.键盘和鼠标 B.扫描仪 C.数码相机 D.打印机
- 82.老子是我国古代著名的政治家和思想家。其政治思想的主要特征是主张“无为而治”。请判断下列话语属于老子的主张是()。
A.兵者，国之大事，死生之地，存亡之道，不可不察也
B.民为贵，社稷次之，君为轻
C.王道之三纲，可求于天
D.以无事取天下
- 83.经研究发现，现在地球每日要比地球早期时候的每日时间长一些，这一结论直接说明()。
A.在地球早期生活的人类寿命要比现代人类短 B.在地球早期每日的白昼比黑夜时间长
C.在地球早期自转比现代地球自转要快一些 D.在地球早期每日的白昼比黑夜时间短
- 84.决策过程中遇到首次出现的问题，无先例可循，此类决策属于()。

- A.确定型决策 B.风险型决策 C.单一性决策 D.非程序性决策

85.交通控制表示停止的灯是红灯, 公共场所的安全门上是红灯, 自行车、汽车的尾灯也是红灯, 这些地方使用红灯的主要原因是()。

- A.红光鲜艳, 易识别 B.红光波长, 穿透能力强, 远处可以看到
C.红光波短, 穿透能力强, 远处可以看到 D.从心理上分析, 红光使人易警觉、兴奋

※※※ 第四部分结束, 请继续做第五部分! ※※※

第五部分 资料分析

(共15题, 参考时限15分钟)

针对下列图、表或文字回答问题。你应根据资料提供的信息进行分析、比较、计算、处理。

请开始答题:

一、以下是某市通过 1038 份网上问卷对打折购买商品进行调查的结果, 请根据此表回答 86~90 题。

打折商品 消费场所	服装(%)	鞋、包(%)	家用电器 (%)	其他商品 (%)
综合性百货商场	43.0	10.2	16.0	18.8
主题商场	22.6	25.0	28.4	43.8
超市	26.6	47.2	44.4	25.2
小店	7.8	17.6	11.2	12.2

86.打折时网民如想购买电冰箱, 最可能去的购物场所是()。

- A.综合性百货商场 B.主题商场 C.超市 D.小店

87.总的来说网民最少光顾的打折场所是()。

- A.综合性百货商场 B.主题商场 C.超市 D.小店

88.回收的问卷中, 愿意选择去综合商场买鞋、包的人数大概有多少? ()

- A.50人 B.100人 C.200人 D.300人

89.下列说法不妥的是()。

- A.小店打折没有什么吸引力 B.打折时人们比较喜欢去超市
C.打折时去大商场买衣服合算 D.该调查结果反映了全市的购物倾向

90.接受调查者如购买厕所洁具与餐具一类商品, 去主题商场的人数比例一般不会超过()。

- A.45% B.40% C.35% D.30%

二、根据以下资料回答91~95题。

2002年某省城镇居民人均消费性支出为8988元, 比1995年增加2735元, 扣除物价因素, 实际增长35.8%, 年均增长5.1%。农村居民人均生活消费支出2002年为2825元, 比1995年增长570元, 扣除物价因素, 实际增长23.2%, 年均增长3.0%。

城镇居民人均用于食品支出由1995年的3003元提高到2002年的3460元, 增加457元。2002年农民人均食品消费为1345元, 比1995年增长9.5%。

城镇居民人均衣着消费由1995年的422元, 增加到2002年的491元, 农村居民人均用于衣着消费为108元, 比1995年的91元增长18.7%。

2002年城镇居民人均居住消费986元, 比1995年的661元增长49%, 人均住房使用面积为24.5平方米, 比1995年增长16.6%。农村居民2002年人均用于居住消费441元, 比1995年增长27.7%; 人均住房面积24.1平方米, 增长15.5%。

城镇居民用于交通和通讯支出比重由1995年的6.3%上升到2002年的14.2%, 人均支出额由1995年的396元增加到2002年的1273元, 增长2.2倍, 平均每年以18.2%的速度递增。2002年农村居民人均交通通讯费251元, 比1995年的82元增长2.1倍。

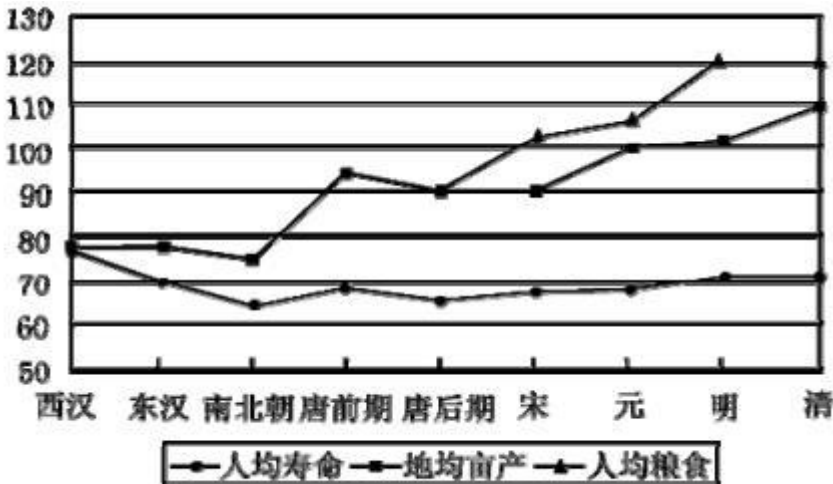
城镇居民用于娱乐文教人均支出额由684元增加到1386元, 增长1倍多, 年均递增10.6%。在医疗保健支出方面, 城镇居民人均用于医疗保健的支出额不断增加, 由1995年的205元增加到2002年的501元, 增长1.4倍, 年均增幅达13.5%; 农村居民人均用于文化教育娱乐的总支出1995年为245元, 2002年为302元, 增长23.4%。农村居民人均医疗保健消费支出1995年为68元, 2002年为117元, 增长72%, 年均增长8.1%。

91.下列消费额占总消费支出的比重, 哪一消费领域农村高于城市? ()

- A.衣着消费 B.交通通讯支出 C.医疗保健支出 D.住房消费

92. 由以上资料可以得到, 从1995年到2002年, 城镇居民用于衣着消费的比重()。
- A. 增加了5.2个百分点 B. 增加了2.5个百分点
C. 减少了1.3个百分点 D. 减少了1.0个百分点
93. 由以上资料可以看出, 从1995年到2002年, 虽然城乡居民消费水平有明显改善, 但城乡差别却进一步扩大, 这可以由以下哪一项说明? ()
- A. 2002年, 城镇居民人均用于食品支出为3460元, 而农民只有1345元
B. 从1995年到2002年, 城镇居民居住消费额增长速度比农村居民要快
C. 从1995年到2002年, 城镇居民用于交通和通讯支出比重的上升速度比农村居民要快
D. 从1995年到2002年, 城镇居民食品消费比重下降速度比农村居民要快
94. 根据原文, 下列哪一消费领域的差距最可能是导致城乡居民的恩格尔系数(食品消费占总消费支出的比重)进一步扩大的原因? ()
- A. 衣着消费 B. 居住消费
C. 交通和通讯支出 D. 娱乐文教支出及医疗保健支出
95. 根据原文, 下列哪一项不是导致城乡居民消费差距进一步拉大的原因? ()
- A. 农村居民比城镇居民有更浓重的传统节俭消费观念和习惯, 比城镇居民的消费更加谨慎
B. 农村居民消费环境及消费条件较差
C. 大量农民进城务工
D. 近几年农产品价格持续下降, 使农民收入增长缓慢

三、根据下表回答 96~100 题。



古代中国人的寿命、粮食亩产及人均粮食占有量

96. 如图所示, 从元朝到明朝可以看出()。
- A. 百姓在粮食增产中获益更多 B. 粮食增幅超过历史最好时期
C. 农业水平比唐朝以前提高得更快 D. 人的寿命并没受粮食增产的影响
97. 从图中可以看出, 古代人的平均寿命增长幅度()。
- A. 清朝不如东汉 B. 完全受粮食亩产的影响
C. 南北朝、唐前朝超过了明、清 D. 在封建社会后期同人均粮食占有量的增长持平
98. 如图所示, 粮食亩产减少, 对人的平均寿命影响最大的时期是()。
- A. 东汉 B. 南北朝 C. 唐后期 D. 宋朝
99. 从图中可以看出, 地均亩产增长最缓慢的是()。
- A. 东汉→唐前期 B. 南北朝→唐后期 C. 唐前期→宋朝 D. 元朝→清朝
100. 从地均亩产、人均粮食和人均寿命都获益来看, 最理想的是()。
- A. 元朝→明朝 B. 明朝→清朝 C. 宋朝→元朝 D. 唐后期→宋朝

*** 全部测验到此结束 ***

参考答案

第一部分 言语理解与表达

1.C 2.B 3.B 4.C 5.B 6.D 7.B 8.C 9.A 10.D
11.C 12.B 13.B 14.B 15.B 16.C 17.A 18.B 19.D 20.C

第二部分 数量关系

21.B 22.B 23.D 24.B 25.D 26.C 27.D 28.B 29.B 30.A
31.B 32.C 33.B 34.A 35.A

第三部分 判断推理

36.C 37.C 38.C 39.A 40.D 41.C 42.C 43.B 44.A 45.A
46.C 47.B 48.D 49.C 50.A 51.A 52.C 53.C 54.A 55.D
56.B 57.B 58.C 59.D 60.A 61.D 62.C 63.B 64.C 65.D
66.A 67.D 68.B 69.B 70.C

第四部分 常识判断

71.A 72.C 73.B 74.C 75.A 76.C 77.B 78.B 79.A 80.B
81.D 82.D 83.C 84.D 85.B

第五部分 资料分析

86.C 87.D 88.B 89.A 90.A 91.D 92.C 93.D 94.D 95.C
96.A 97.D 98.A 99.C 100.A