

## 2014年北京公务员考试《行测》真题及解析

- 1 (单选题) 根据中央部署,党的群众路线教育实践活动于2013年6月18日正式启动。活动总的要求是
- A. 贯彻落实中央八项规定,反对形式主义、官僚主义、享乐主义、奢靡之风
  - B. 紧紧围绕保持和发展党的先进性和纯洁性,为民务实清廉
  - C. 照镜子、正衣冠、洗洗澡、治治病
  - D. 学习教育、听取意见;查摆问题、开展批评;整改落实、建章立制
- 2 (单选题) 2013年7月6日我国与\_\_\_\_正式签署了自由贸易协定,这是我国与欧洲大陆国家签署的首个自贸协定。
- A. 英国
  - B. 德国
  - C. 意大利
  - D. 瑞士
- 3 (单选题) 国家“十二五”规划纲要提出,处于区域发展总体战略优先位置的是
- A. 深入实施西部大开发战略
  - B. 大力促进中部地区崛起
  - C. 全面振兴东北老工业基地
  - D. 积极支持东部地区率先发展
- 4 (单选题) 2013年11月5日北京市召开宣传思想工作会议,市委书记郭金龙强调,全市各级党组织和宣传文化战线要深入学习贯彻全国宣传思想工作会议和习近平总书记重要讲话精神,牢牢把握\_\_\_\_主导权和\_\_\_\_主导权,积极深化文化体制改革。
- A. 文化传播工作 媒体宣传工作
  - B. 意识形态工作 网络舆论工作
  - C. 信念教育工作 正面宣传工作
  - D. 宣传思想工作 媒体舆论工作
- 5 (单选题) 2013年9月北京市出台《北京市2013—2017年清洁空气行动计划》,该计划的目标是经过五年努力,全市空气质量明显改善,\_\_\_\_天数较大幅度减少
- A. 轻度污染
  - B. 中度污染
  - C. 重污染
  - D. 污染
- 6 (单选题) 2013年10月北京市出台的《北京市人民政府关于加快推进养老服务业发展的意见》指出,对城市“三无”(无劳动能力,无生活来源,无赡养收入和抚养人、或者其赡养人和抚养人确无赡养能力)人员将实行\_\_\_\_,保障其基本养老服务需求。
- A. 政府供养
  - B. 单位供养
  - C. 社会供养
  - D. 家庭供养
- 7 (单选题) 网络黑客攻击是全球性问题。我国是黑客攻击的最大受害国之一,我国政府一贯坚决反对黑客攻击行为,并愿就推动互联网安全和打击网络黑客攻击等违法犯罪活动加强国际合作。这说明
- A. 我国在国际事务中发挥主导作用
  - B. 维护国家利益是我国对外活动的目的和依据
  - C. 我国与其他各国的国家利益相同
  - D. 独立自主是我国处理国际关系的基本准则
- 8 (单选题) 一般情况下,银行利率提高,股票价格会
- A. 随之上升
  - B. 不受其影响
  - C. 随之下降
  - D. 不稳定波动
- 9 (单选题) 1710年到1760年,英国大量从中国进口茶叶等特产,在此期间,英国为此向中国支付了大量白银,该国的白银几乎耗尽。而当时英国的产品在中国几乎无人知晓。上述现象说明当时
- A. 英国的生产力远落后于中国
  - B. 英中贸易对英国而言贸易逆差显著
  - C. 英国对中国有明显经济优势
  - D. 中国成为英国原料产地和商品市场
- 10 (单选题) 下列对有关法律的解释,正确的是
- A. 人民法院可以在当事人不在场或者不知情的情况下缺席判决离婚
  - B. 有配偶的人又与他人以夫妻的名义同居生活,形成事实有效婚姻
  - C. 我国法律规定,对婚姻关系解除的判决不能申请再审
  - D. 对于父母无力赡养的祖父母,有负担能力的孙子女没有赡养义务

- 11 ( 单选题 ) 2013年高考前夕, 一则消息让广大农村考生感到温暖和振奋: 国家决定, 提高重点高校招收农村学生比例, 今年比去年增加8.6%。这主要体现了
- A. 党和政府维护社会公平                      B. 党和政府以人为本的执政理念  
C. 党同人民群众的血肉联系                  D. 党和政府求真务实的工作作风
- 12 ( 单选题 ) 王某不服工商所对其依法作出的300元罚款的决走, 应向\_\_\_\_\_提出复议。
- A. 该工商所    B. 派出该工商所的工商局的上级机关  
C. 该工商所所在地的乡政府                  D. 派出该工商所的工商局
- 13 ( 单选题 ) 王某明知某电器产品不符合保障人身安全的国家标准, 仍然大量进货销售, 销售金额达80万元。某企业因使用这种电器造成短路, 引起火灾, 致3人轻伤, 部分厂房被烧毁。下列说法中正确的是
- A. 王某的行为已构成失火罪  
B. 王某的行为已构成销售伪劣产品罪  
C. 对王某应按照失火罪和销售伪劣产品罪中的一个重罪定罪处罚  
D. 对王某应按照销售伪劣产品罪和过失伤人罪, 数罪并罚
- 14 ( 单选题 ) 2013年11月18日国家主席习近平在会见美国前总统克林顿时指出, 中美两国正在共同致力于中美“新型大国关系”。下列对于中美两国关系发展历程中的历史事件, 时间排序正确的是
- ①签订《中美贸易关系协定》              ②尼克松访华  
③中美联合发表“八一七公报”            ④乒乓外交
- A. ④③②①              B. ⑧①④②              C. ④②①③              D. ④②③①
- 15 ( 单选题 ) 我国南方和北方的地理分界线是
- A. 乌蒙山长江              B. 祁连山黄河              C. 伏牛山淮河              D. 秦岭淮河
- 16 ( 单选题 ) “新思潮的精神是一种评判的态度。新思潮的手段是研究问题和输入学理。……新思潮对旧文化的态度, 在积极一面是反对盲从, 是反对调和, 是用科学的方法来做整理的工夫。新思潮的唯一目的是什么? 是再造文明。”下列历史事件中, 体现新思潮的是
- A. 洋务运动              B. 戊戌变法              C. 辛亥革命              D. 新文化运动
- 17 ( 单选题 ) 先秦时期, 诸子百家提出了各种治国的主张, 下列观点属于法家政治思想的是
- A. 人法地, 地法天, 天法道, 道法自然  
B. 境内之民, 其言谈者必轨于法, 为勇者尽之于军  
C. 凡入国, 必择务而从事焉  
D. 易其田畴, 薄其税敛, 民可使富也
- 18 ( 单选题 ) 对下列对联依次所指的文学家, 判断正确的一项是
- ①哀怨托离骚, 生而独开诗赋立; 孤忠报楚国, 余风波及汉湘人。  
②兵甲富于胸中, 一代功名高宋室; 忧乐关乎天下, 千秋俎豆重苏台。  
③质而绮, 真而醇, 自可传之千古; 樽中酒, 篱下诗, 岂甘了此一生。  
④笔诤时政, 心在苍生, 万户争传新乐府; 堤建西湖, 神归东洛, 千秋永祀老诗翁。
- A. 孔子    李白        李煜        陆游  
B. 屈原    陶潜        李煜        白居易  
C. 屈原    范仲淹    陶潜        白居易  
D. 孔子    李白        白居易    范仲淹
- 19 ( 单选题 ) 交响乐团通常由        三大声部组成。
- A. 管乐、弦乐、钢琴              B. 弦乐、管乐、打击乐  
C. 管乐、钢琴、打击乐              D. 弦乐、钢琴、打击乐
- 20 ( 单选题 ) 下列关于人体血压的说法, 正确的是
- A. 心室收缩时, 动脉血压值称为收缩压, 也称为低压  
B. 正常的血压是血液循环流动的前提, 受到多种因素的影响  
C. 高血压对身体健康有重大危害, 低血压不会影响身体健康  
D. 高血压病人应遵医嘱, 服用降压药; 血压正常后, 应立刻停药

- 21 ( 单选题 ) 许多现代化武器采取了“隐身”技术, 下列不属于“隐身”技术的是
- A. 降低潜艇发动机噪音, 采用喷水推进、电磁推进
  - B. 改进飞机的外形结构, 尽量减少或者消除雷达接收到的有用信号
  - C. 武器装备采用吸收雷达波的涂敷材料和结构材料
  - D. 旋放多个假目标, 增多雷达监视目标数量
- 22 ( 单选题 ) 2013年7月8日北京市海淀区政府宣布, 将在海淀北部生态科技新区全力打造CID。CID是指
- A. 首都信息化先导性示范区
  - B. 新生态办公区
  - C. 首都休闲娱乐示范区
  - D. 国际商务中心区
- 23 ( 单选题 ) 下列建筑中, 位于北京南北向中轴线上的的是
- A. 天坛祈年殿
  - B. 中华世纪坛
  - C. 人民英雄纪念碑
  - D. 东便门城楼
- 24 ( 单选题 ) 下列有关“函”的表述中, 错误的是
- A. 适用于不相隶属的机关之间
  - B. 用于向有关主管部门的请求和批准
  - C. 用于相互商洽工作、询问和答复问题
  - D. 是公文中使用范围比较广泛的一种文种
- 25 ( 单选题 ) 我国采用北京所在的东八时区的区时作为标准时间, 称为北京时间, 其发布地位于
- A. 北京天文台的授时中心
  - B. 拉萨天文台的授时中心
  - C. 甘肃酒泉的国家授时中心
  - D. 西安临潼的国家授时中心
- 26 ( 多选题 ) 党的十八大报告中提出“为全面建成小康社会而奋斗”, 与十七大报告中提出的“为夺取全面建设小康社会新胜利而奋斗”的表述不同, 从“建设”到“建成”, 一词之变说明
- A. 意识对物质具有推动作用
  - B. 主观与客观要做到具体的、历史的统一
  - C. 真理是一个由不正确到正确的发展过程
  - D. 认识总是随着实践的发展而变化
- 27 ( 多选题 ) 近年来, 我国多地出现冬季因雨雪天气导致蔬菜价格明显上涨。另有报道显示, 我国目前蔬菜流通环节的成本要占到菜价的60%, 有的甚至占到了90%。这表明
- A. 气候因素通过供求关系对商品价格产生影响
  - B. 蔬菜价格的高低在一定程度上受制于流通成本
  - C. 提高生产蔬菜的劳动生产率可抑制其价格上涨
  - D. 新鲜蔬菜的价格不受生产蔬菜劳动时间的影响
- 28 ( 多选题 ) 人大代表在人代会期间依法提出议案和建谈, 是履行其职责的重要形式。可见, 为履行好职责, 人大代表需要
- A. 广泛听取和反映人民群众的意见
  - B. 参与行使国家权力, 接受人民监督
  - C. 发挥先锋模范作用, 做到执政为民
  - D. 审慎行使自己提出建议的权利
- 29 ( 多选题 ) 下列哪些选项被认为是影响宏观经济运行的两大预期?
- A. 通货膨胀预期
  - B. 工作收入预期
  - C. 企业盈利预期
  - D. 政府税收预期
- 30 ( 多选题 ) 调整和优化经济结构是当前我国一项重要的经济工作, 这里的经济结构主要包括
- A. 产业结构
  - B. 资本结构
  - C. 总需求与总供给结构
  - D. 内需与外需结构
- 31 ( 多选题 ) 20世纪八、九十年代, 中国经受住了国内外环境变化的考验, 发展成具有广泛影响的世界性大国。这一时期中国在内政外交上的重大决策和成就有
- A. 从计划经济向市场经济过渡
  - B. 恢复中国在联合国的合法席位
  - C. 对香港、澳门恢复行使主权
  - D. 开展多边外交, 维护世界和平
- 32 ( 多选题 ) 劳动者依法享受以下哪些假期时, 用人单位应按劳动合同规定的标准支付劳动者工资?
- A. 年休假
  - B. 探亲假
  - C. 婚假
  - D. 丧假

33 (多选题) 1934年《申报》载“现代中国的摩登姑娘、太太们,哪一个不是成了洋货商店的好主顾,从头发丝尖儿起,至高跟皮鞋底的最末一英寸止,差不多除了她们固有的中华血统的皮肉之外,全都装饰着舶来的服饰用品。连日常的食品,为了求清洁卫生的绝大理由,也积极地洋化起来,以期脱胎换骨,由黄皮肤黑眼珠渐渐地变成优生的雅利安或是斯拉夫的新种”。这则材料表明在当时

- A. 欧风美雨开始影响中国
- B. 贵重的物品都是西方人制造的
- C. 国人生活西化趋势明显
- D. 西化影响的加深引发人们担忧

34 (多选题) 下列单位之间可以联合行文的是

- A. 某政府各部门之间
- B. 上级政府部门和下级政府之间
- C. 党委部门和政府部门
- D. 政府部门和相关企业

35 (多选题) 科学家通过对周口店北京猿人遗址的长期发掘和研究,发现北京猿人

- A. 群居洞穴
- B. 已经学会使用火
- C. 还不能直立行走
- D. 不会使用工具

36 (单选题) 大约六千年前,古巴比伦的人们开始制作黏土代币作为交易的记录。不同形状的黏土代币表示不同的物品。当一次交易需要用到很多代币时,人们就用黏土把它们包裹起来,交易者用削尖的木棍在上面刻上不同的符号,用以表示里面包了些什么。后来一些人想到了更简洁的办法,只需简单地将符号刻在黏土上,就可以表示交易内容,这样就摆脱了烦琐的代币。于是文字被发明了,而这正是文明的开始。

这段文字主要介绍了

- A. 古巴比伦的货币发展史
- B. 古巴比伦文字是如何产生的
- C. 文字对文明发展的重要意义
- D. 古巴比伦人怎样进行商品交换

37 (单选题) 中国长江以南的居民最初来自北方,周期性的天灾与持续不断的人口压力迫使汉族逐渐离开黄河流域,迁移到南方,如南宋时就有一次南迁高峰。但是人口流动常常是不易察觉的,通过将地方志中提到的水利工程统计制表,历史学家现在能够说,早在3世纪就有相当数量的移民开始渡过长江,进入拥有季风气候、热带丛林的南方。唐代移民迅速增长,13世纪晚期移民数量达到高峰,之后开始下降,直到1700年相对稳定。此时,中国大半人口已住在长江以南。

对这段文字的主旨概括最准确的是

- A. 描述长江以南的人口迁入
- B. 介绍人口研究方面的新成果
- C. 分析中国古代人口大规模迁移的原因
- D. 说明人口压力与人口流动之间的关系

38 (单选题) “天池”的最早出处大概是《庄子》,原义是指寓言中所说的海,但至少到了南北朝时,人们已开始用“天池”专指那些位于山原之上的湖泊。比如北魏郦道元《水经注》中就特别提到,山西宁武县西南的管涔山上,有一处俗名祁连汨池的湖泊,因其坐落在山原之上,当地人又称其为“天池”。近代以来,随着地理视野的扩大,越来越多景致各异的天池相继进入人们的视野。时至今日,提到天池,在中国知名度最高的有两处,一是吉林长白山天池,另一处则是位于新疆博格达峰下的天山天池。

下列说法能在原文中得到印证的是

- A. 《庄子》中提到的天池指的是天山天池
- B. 郦道元首先用“天池”指称山原上的湖泊
- C. 山西宁武县管涔山上的天池已经趋于干涸
- D. “天池”现在的含义与《水经注》相一致

39 (单选题) 在今天南京的清凉山西部,有一段石壁叫鬼脸城,一般认为是古代石头城的遗址,但作为六朝古迹的石头城,却可能不在这里。据专家考证,早在六朝以前,江水就已经逐渐向西迁移。211年,孙权将东吴的政治中心从京口迁到秣陵,并将秣陵改名为建业,次年营建了石头城,东吴大将周瑜曾在石头城操练水兵。这个石头城或应在今天定淮门旁边的四望山上,地势靠近长江。清凉山也叫石头山,不过,它的得名却迟至五代十国,由于江水不断向西迁徙,杨行密所建立的吴国就把石头城迁到了清凉山。

下列说法与原文相符的是

- A. 历史上的石头城曾多次搬迁
- B. 孙权营建的石头城靠近长江
- C. 清凉山是由杨行密所命名的
- D. 石头城始建于五代十国时期

40 (单选题) 徽州文化具有自然与人文、物质文化遗产与非物质文化遗产相融合的整体性特征,独特而集中。村落依山而建,讲究水系与自然的和谐,目连戏和村落、宗族信仰、文化活动紧密联系,徽剧演出的戏台就是

村落建筑的组成部分；文房四宝与古建筑中的“文气”融为一体；罗盘制作源于徽州人对堪舆风水的重视；医学与宗族以及山区的药材资源有密切关联；楹联匾额不仅突出了徽州文化的品位，也体现山区丰富的竹木资源……凡此种种，无不是其文化生态的整体性的体现。

这段文字意在说明

- A. 徽州文化的突出特征
- B. 徽州文化的组成部分
- C. 徽州文化的传承关系
- D. 徽州文化的存在基础

资料分析根据《全国经济普查条例》的规定，国务院决定开展第三次全国经济普查工作：全面调查了解我国第二产业和第三产业的发展规模及布局；了解我国产业组织、产业结构、产业技术的现状以及各生产要素的构成；进一步查实服务业、战略性新兴产业和小微企业的发展状况；摸清我国各类单位的基本情况；全面更新覆盖国民经济各行业的的基本单位名录库、基础信息数据库和统计电子地理信息系统。通过普查，进一步夯实统计基础，健全统计工作的部门协调机制和信息共享机制，为\_\_\_\_\_宏观调控，加快经济结构战略性调整，科学制定中长期发展规划，提供科学准确的统计信息支持。

国务院将成立第三次全国经济普查领导小组，负责普查组织和实施中重大问题的研究和决策。普查领导小组由国务院领导同志任组长，成员单位包括国务院办公厅、统计局、发展改革委等部门。普查领导小组办公室设在统计局，负责普查的具体组织实施和协调。其中，涉及普查经费方面的事项，由财政部负责和协调；涉及固定资产投资保障方面的事项，由发展改革委负责和协调。国务院其他各有关部门，也要按照各自的职能，各负其责、通力协作、密切配合。

地方各级人民政府要设立相应的普查领导小组及其办公室，加强领导、认真组织好本地区的普查实施工作。对于普查工作中遇到的困难和问题，要及时采取措施，切实予以解决。要充分发挥街道办事处和居民委员会、乡镇政府和村民委员会的作用，广泛动员和组织社会力量积极参与并认真配合做好普查工作。

地方普查机构应当根据工作需要，聘用或者从有关单位商调符合条件的普查指导员和普查员，并及时支付聘用人员的劳动报酬，保证商调人员在原单位的工资、福利及其他待遇不变，稳定经济普查工作队伍，确保普查工作顺利进行。

利用统计电子地理信息系统，全面建立普查区电子地图；\_\_\_\_\_统计联网直报系统成果；积极推广使用手持电子数据采集设备，努力提高普查工作的信息化水平和效率，减轻基层普查人员的工作负担。

41（单选题）据上下文，填入第1段划线部分最恰当的一项是：

- A. 建立和健全
- B. 保障和完善
- C. 加强和改善
- D. 实现和发展

42（单选题）第1段文字材料的内容可以概括为：

- A. 普查的基本内容
- B. 普查的主要目的
- C. 普查的基本要素
- D. 普查的重点内容

43（单选题）根据本文，普查工作组织实施的原则是：

- A. 中央政府统一领导、地方政府组织实施
- B. 中央政府统一协调、地方政府分工负责
- C. 统计局统一领导、其他部门分工协作、地方实施、共同参与
- D. 全国统一领导、部门分工协作、地方分级负责、各方共同参与

44（单选题）根据上下文，填入最后1段划线部分最恰当的一项是：

- A. 深化和普及
- B. 巩固和拓展
- C. 健全和支持
- D. 改进和完善

45（单选题）下列标题中与本文内容吻合度最高的是：

- A. 《国务院关于开展第三次全国经济普查的通知》
- B. 《国务院关于开展第二、三产业调查统计工作的意见》
- C. 《国务院关于加强第三次全国经济普查管理的决定》
- D. 《国务院关于加强第三次全国经济普查工作的批复》

资料分析网络时代巨大的信息量要求网络人际交流迅速快捷，此时，传统语言的表达已不足以将信息转变成最简洁的形式输入输出。于是网络语言应运而生，这种语言以轻松活泼、幽默风趣、戏谑调侃的面目出没于传统媒体，让人耳目一新。比如“美眉”指年轻漂亮、的姑娘，“灌水”则指没有实际内容的聊天。

人们天生有一种追求新奇的心理，构成网络主体的年轻人尤其难以坚持使用传统语言固定完整的本义：汉语本身具有一字（词）多义、适用语境宽泛等特点，方便人们随意改造词语，或将英文字母和网络符号交织在一起，形

成一种新词表新义或新词表旧义的极富个性色彩的新词汇。同时，传统的、固定的现有语汇系统有时也缺少能准确表达网络概念的新词汇，于是吸纳一部分网络语言成为新词，如“猫”（modem）指调制解调器等，丰富了传统媒体的语言表达。

近年来，许多主流媒体都在互联网上开辟了自己的网站，并设立读者在线交流的论坛，网民（也是读者们）就各种事件发表自己的看法和观点，其中不乏真知灼见。传统媒体因此也经常将一些有见地的发言经过编辑加工后发表，但来自网上的语言会或多或少地留下痕迹。由于网络人际交流匿名、隐匿的独特性，又由于网民主体是追求新潮和前卫的年轻人，因此网络语言会不可避免地偏离传统语言。如果网络语言仅是对规范的主流语言做适度的、局部的非系统性的偏离，传统媒体对此会做出有选择的接受；但如果有些网络语言完全丧失语言的本来面目，将传统规范的语汇彻底变乱，其概念的意指和符指都发生了根本变化，比如那些数字加符号或字母的表达方式和让大多数人群完全不知所云的“去踩一下”等，恐怕就只能限于网上而且仅限于在“小众”之间的交流，很难登上传统媒体的大雅之堂。因此，网络语言对传统媒体的影响，尽管有一个渗透的过程，但传统媒体对网络语言的吸收不会不分良莠地全盘接收，它有一个甄选、保留的过程。

一般来说，传统媒体注重对规范语言的继承，并在此基础上不断推陈出新，而网络语言则强调对规范语言的偏离。随着时间的推移，这种继承和偏离的相互交融会使一些精辟的网络语言在一段时间内影响传统媒体，并在媒体的表达中与规范的主流语言并存。

46（单选题）根据本文，下列哪项不是网络语言盛行的主要原因？

- A. 信息科学技术的迅速发展
- B. 人们求新求异的心理
- C. 网络时代迅速快捷的交际要求
- D. 汉语字词的多义性

47（单选题）下列选项中，哪项不属于文中提到的网络新词形成的方式？

- A. 新词表旧义
- B. 旧词表新义
- C. 数字加符号
- D. 使用方言词

48（单选题）作者批评了以下哪种网络语言？

- A. 美眉
- B. 灌水
- C. 猫（modem）
- D. 去踩一下

49（单选题）作者预测未来的网络语言在媒体中会：

- A. 替代传统语言
- B. 与传统语言融合
- C. 传统语言并存
- D. 逐渐走向消亡

50（单选题）最适合作为本文标题的是：

- A. 网络语言对传统媒体的影响
- B. 网络语言的优势与弊端
- C. 网络语言与传统语言的区别
- D. 迅速快捷的网络人际交流

资料分析从花粉到花生，让人类产生过敏变态反应的东西实在太多了。变态反应研究起步相对较晚，“变态反应”这一术语是儿科医生冯·皮尔凯和贝拉·锡克在20世纪首先提出的。几乎同一时期，“过敏症”使生理学家查尔士·里歇声名远播并荣膺1913年诺贝尔奖。此后多年，变态反应研究始终将过敏视为一种病态或障碍，极少有科学家探询究竟为何存在这种严重而有潜在危险的免疫反应，更不用说免疫系统为什么会以这种方式对貌似无害、却经常充当过敏原的物质作出反应。

上世纪60年代有关多细胞真核生物引发免疫反应的研究回答了这个问题。研究人员发现，人体如果受到蠕虫这种寄生虫的感染会导致高含量免疫球蛋白E的生成，而引起变态反应的正是这一抗体。从那时起，有种观点盛行不衰：在进化中，人体为抵御寄生虫，发生变态反应，但却把免疫反应的目标弄错了。

加利福尼亚大学伯克利分校的玛吉·普罗菲特在1991年对变态反应作出了一种非主流理论解释。她推测，在进化中，变态反应的形成是为了启动免疫系统，保护我们不受环境毒素（例如有毒的植物化学物质和毒液）的伤害。过敏原在多数人看来是无害的，但有很多事实上就是毒素。所以，与其把变态反应看成对蠕虫目标锁定有误的反应，倒不如视之为一种有益的反应，目的在于防御环境中的有毒物质。

虽然“毒素假设”至今仍不受生物医学界重视，但是其仍有一定合理性。首先，流鼻涕等过敏症状可以理解为身体力求摆脱过敏原的一种尝试，类似于食物和空气中的有毒物质引起类似的驱逐反应。其次，变态反应往往发生在接触毒素后的几秒钟或几分钟内，与需要一定时间方才显现的蠕虫感染相比，有一定差异。此外，患有过敏症的人常对过敏原变得极度敏感，环境中稍有微量便立即反应。考虑到对细菌和病毒的免疫反应都不能如此灵敏，对蠕虫表现得如此敏感就不是那么令人信服了。最后，充当过敏原的物质多种多样。“蠕虫假设”无法解释为什么这么多的物质都能造成变态反应，但“毒素假设”却预料到这些过敏原可能共同具有一种造成伤害的能力。“毒素假设”也无法直接解释面对环境中哪怕是微乎其微的过敏原，肌体为什么有时候会作出如此严重的、潜在致死的过敏

反应。

过敏症的多数患者会发现，变态反应可能有有益的说法是令人难以置信的。但是，反应的好处可能类似于疼痛的好处：疼痛固然给人带来不快，但这种不快会帮助我们避开损害我们肌体的环境原，从而使我们有幸存的可能。

51（单选题）北京-AA51.关于变态反应研究，下列说法正确的是：

- A. 自古以来一直受到重视
- B. 过敏症这一术语是由冯·皮尔凯提出的
- C. 最初将过敏视为对身体有害的变态反应
- D. 贝拉·锡克因在该领域的成就而获得诺贝尔奖

52（单选题）第2段中的“这个问题”指的是：

- A. 变态反应的产生机制
- B. 人体过敏的反应类型
- C. 导致变态反应的基因
- D. 对人体损害最严重的过敏原

53（单选题）玛吉·普罗菲特研究的独特之处在于：

- A. 对引发过敏原的毒素进行了系统整理
- B. 将变态反应视为身体的一种有益反应
- C. 扩大了会导致变态反应的过敏原的范围
- D. 界定了导致变态反应的免疫系统的缺陷

54（单选题）“毒素假设”的缺陷在于无法解释：

- A. 一接触过敏原即发生变态反应
- B. 为何存在多种多样的过敏原
- C. 变态反应类似于驱逐反应
- D. 微量的过敏原会致死

55（单选题）这篇文章暗示我们：

- A. 变态反应并非对身体一无是处
- B. “蠕虫假设”略胜“毒素假设”
- C. 有些过敏是可以主动避免的
- D. 过敏症的治疗已取得很大进展

资料分析2500年前诞生的《孙子兵法》（又称《孙武兵法》），是世界上现存最古老的兵书，代表了中国古代军事思想的最高境界，但是它的著作究竟是谁？

司马迁在《史记·孙武吴起列传》中说，孙武和孙臆都确有其人，孙武生于春秋末期，孙臆则晚100多年，生于战国，各有兵法传世。由于孙武是春秋末期吴王的客卿，孙臆在战国中期的齐国担任过军师，因此班固在《汉书》中把孙武的兵法叫《吴孙子》，把孙臆的兵法《齐孙子》。《吴孙子》就是一直流传于世的《孙子兵法》，而《齐孙子》（《孙臆兵法》）在魏晋时已无记载。

唐宋以后，有人对《孙子兵法》及作者提出疑问，认为此书源于孙武，却完成于孙臆；也有人认为先秦著作往往不是出自一人之手，唐代杜牧说，孙武的兵法原有数十万言，曹操削其繁剩，笔其精粹，以成此书；近代著名学者梁启超等不但怀疑《孙子兵法》其书为伪，甚至怀疑孙武、孙臆为同一人。

孙武与孙臆是否同为一人？他们各自是否都有兵书留世？此谜在20世纪70年代山东临沂银雀山汉墓的考古发掘中被解。1972年，临沂地区偶然发现一座汉墓，陪葬品中有大量竹简，其中包括《孙子兵法》（105枚）、《孙臆兵法》（232枚），这批竹简经刮削、烤炙而成，做工精细，两端平整，无刀削痕迹，系先用锯锯成而后锉磨而成。银雀山汉简的形制、书写格式、篇题的处理及各式符号的运用等，均符合汉代的简册制度。

临沂银雀山汉墓竹简带给世人最大的惊喜，莫过于还原了《孙子兵法》十三篇全貌以及《孙臆兵法》十六篇。经专家整理分析，银雀山竹简中的《孙子兵法》十三篇都有文字保存，这是现存最早的《孙子兵法》版本，大约成书于西汉初期，是最接近作者原始思想的版本，为校勘和研究《孙子兵法》提供了宝贵的资料，文献价值非同一般。竹简本《孙子兵法》计2300余字，现存内容与宋代版本相比，有100多处不同点，十分值得研究。

竹简本《孙臆兵法》整理出222枚，共得6000字以上，该兵法在消失了上千年后，失而复得。该书整理出上、下两编，上编可以确定属于《齐孙子》，共十五篇；下编是还不能确定属于《齐孙子》的论兵之作。竹简本篇数大大少于《艺文志》著录本，也不是完善的版本。这些实物证据揭示历史上的孙武、孙臆并非一人，也印证了司马迁《史记》中有关孙武、孙臆记载的真实性，《孙臆兵法》确有其书。

56（单选题）唐代杜牧对《孙子兵法》的观点是

- A. 现存版本是根据原著缩减而成的
- B. 是由多位作者合著而成的
- C. 是后人以孙臆的名义写成的
- D. 前部分由孙武完成，孙臆完成后续成书工作

57（单选题）关于《孙子兵法》，下列说法正确的是：

- A. 曾经失传上千年
- B. 班固称其为《吴孙子》

C. 作者生活于战国时期 D. 魏晋之后的史书中已无相关记载

58 (单选题) 银雀山汉墓竹简不能用来证明:

- A. 《孙臧兵法》的作者是誰 B. 司马迁相关记载的可靠性  
C. 《孙臧兵法》是否确有其书 D. 孙武、孙臧是否为同一人

59 (单选题) 根据本文, 确定银雀山汉墓竹简年代依据的是:

- A. 书写文字 B. 陵墓特征 C. 陪葬物品 D. 简册特征

60 (单选题) 最适合本文的标题是:

- A. 银雀山汉墓整理出土大批竹简  
B. 银雀山汉墓竹简: 为孙武、孙臧正名  
C. 银雀山汉墓《孙子兵法》的发现和破译  
D. 20世纪的考古大发现—银雀山汉墓竹简

资料分析采集蝴蝶标本在维多利亚女王时代的英国非常流行。英国大蓝蝶的标本很受欢迎, 它不很大, 也不很蓝, 并不特别美丽, 但数量稀少, 且生活在人迹罕至的荒野。即便如此, 仍然有大量的大蓝蝶被制作成标本。在19世纪末, 已经开始有人呼吁保护它。进入汽车时代, 到大蓝蝶栖息地更加方便, 有的地方的大蓝蝶已经绝迹, 保护更为迫切。1930年, 英国建立了第一个大蓝蝶保护区。九年之后, 保护区内的大蓝蝶种群灭绝了。此后, 虽然保护区越来越多, 但是大蓝蝶的数量越来越少。上世纪五十年代, 英国大约还有数万只大蓝蝶, 到1972年只剩下300多只。1975年, 英国通过《野生动植物保护法》, 首次把大蓝蝶列为法定保护对象, 但已无济于事。1979年, 英国最后一只大蓝蝶死去。这是为什么呢?

每年六、七月间, 是英国大蓝蝶飞翔的季节。大蓝蝶成虫的寿命只有四、五天, 在短暂的生命结束前, 雌大蓝蝶必须找到合适的百里香产卵。百里香必须是生长在红蚁巢的边上, 而且含苞待放。卵被产在百里香的花蕾里。一两周后, 大蓝蝶幼虫孵化出来, 就以花为食, 大约两周, 在蜕了三次皮后, 幼虫掉到了地上, 等待红蚁。幼虫靠分泌蜜汁吸引红蚁。红蚁将其带回蚁巢, 为了得到蜜汁, 它会用触角拍打它。蜜汁分泌完时, 幼虫就有生命危险, 这时它会像红蚁幼虫那样蠕动, 发出红蚁的气味和声音, 让红蚁误以为它是蚁巢中的一员。

大蓝蝶幼虫要在蚁巢中整整待上十个月, 不仅能躲避天敌, 还以红蚁的卵和幼虫为食。但是大蓝蝶幼虫仍然面临重重危险。红蚁蚁后会误以为它是一只以后也将变成蚁后的超级红蚁幼虫, 而让工蚁杀死它; 如果蚁巢规模太小, 或者又来了另一只大蓝蝶幼虫, 食物不够, 最终也会饿死。

但红蚁本身对生活环境也有要求: 它们喜欢温暖, 在朝南向阳的山坡筑巢, 地面上草的高度最好只有2~3厘米, 因为草太高会遮住阳光, 蚁巢温度太低, 红蚁幼虫会冻死。当大蓝蝶的栖息地被划为保护区后, 禁止烧荒、放牧, 野草疯长: 本来还有野兔能在一定程度上抑制草的生长, 但在上世纪50年代, 一种传染性很强的病毒入侵英国, 使野兔的数量锐减99%。草越长越高, 大蓝蝶依赖的红蚁迅速消失, 被另一种较耐寒的红蚁取而代之。这种红蚁也喜欢吃蜜汁, 但它们能识破伪装, 将大蓝蝶幼虫杀死。等到草皮高度超过10厘米, 连百里香也难以生长、繁殖了, 等人们发现这一奥秘, 已经太迟了, 英国大蓝蝶灭绝了。

为了让大蓝蝶再次飞翔, 英国逐渐恢复了52处百里香草地, 并通过割草、放牧控草皮的高度, 红蚁数量随之上升。1983年, 大蓝蝶被从瑞典带到英国。到2008年, 已有上万只。大蓝蝶成了第一个成功获得重生的濒危蝴蝶物种。

61 (单选题) 由本文第1段可知:

- A. 大蓝蝶在英国对其进行保护前就已经灭绝  
B. 大蓝蝶的灭绝是因为人们为制作标本而过量捕捉  
C. 大蓝蝶标本受欢迎是因为这种蝴蝶难以捕捉  
D. 保护区的建设仅起到了保持大蓝蝶种群数量的效果

62 (单选题) 成年大蓝蝶可以活:

- A. 两个月左右 B. 五天左右 C. 两周左右 D. 三周左右

63 (单选题) 第3段中划线部分提到大蓝蝶幼虫面临的“重重危险”不包括:

- A. 巢中有一只大蓝蝶幼虫 B. 被红蚁蚁后视为竞争对手  
C. 红蚁蚁巢规模太小 D. 蚁巢中红蚁幼虫数量过多

64 (单选题) 根据本文, 对草地进行管理可以:

- A. 减少病毒传播的可能性 B. 增加百里香花蕾的数量



- C. 为红蚁提供适宜的生活环境      D. 为兔子提供充足的食物

65 ( 单选题 ) 英国政府保护大蓝蝶的早期措施可以用下列哪个词来评价?

- A. 适得其反      B. 画蛇添足      C. 操之过急      D. 鼠目寸光

资料分析《拿破仑法典》在世界司法制度史上值得大书一笔,它第一次把资产阶级的生产关系和社会关系用法律形式固定下来,奠定了资本主义统治的法律基础。除总则外,共有3编2281条。第一编是人法,规定了民事权利主体;第二编是物法,规定了各种财产和所有权及其他物权;第三编是关于取得所有权的方法。从内容和结构来看,法典的核心是财产关系,即所有制问题。恩格斯说,它把在消灭了封建专制主义之后刚刚诞生的现代社会的经济生活条件译成了法律语言,他把这部法典称作“典型的资产阶级社会的法典”。

长期以来,很多人都以为这部法典虽然以拿破仑的名字命名,但他并未直接参与法典的制定,原因是他正四处征战,无暇顾及,只是下令而已。这个误解同法国史书对拿破仑辉煌战绩的片面描述以及法国绘画、雕塑等艺术作品对他赫赫战功的过度渲染有关。实际上,拿破仑不仅下令而且直接、积极参与了法典的制定。他于1799年发动“雾月政变”成立执政府,翌年就成立了“民法起草委员会”,并亲自担任主席。委员会按期完成民法草案,经大理院和上诉院研究修改后,提交参议院讨论修改。参议院围绕草案召开了102次讨论会,拿破仑参加了97次。法典最后经立法院一致通过,于1804年3月21日正式公布实施。最初定名为《法国民法典》,1807年改称为《拿破仑法典》。

1816年又改称为《民法典》,1852年再度改称为《拿破仑法典》,但从1870年以后,习惯上一直沿用《法国民法典》的名称。这部法典之所以以拿破仑的名字命名,是因为拿破仑的军队走到哪里,就把这部法典带到哪里,他通过法典把资本主义制度推向全欧洲。拿破仑并非一介武夫,他深知,同欧洲封建同盟的殊死搏斗不仅要靠军事力量,更要靠资产阶级法律这无比锐利的武器。他为锻造了这样的武器而感到自豪。

有人认为拿破仑是个实用主义者,对理论一窍不通,因此《拿破仑法典》只是一种法律工具,根本没有理论价值。这种看法有失偏颇。英国的资产阶级革命早于法国,革命后又经历了长期的复辟和反复辟的较量,特别是1660年还发生了斯图亚特王朝复辟。法国资产阶级革命的爆发比英国晚100多年,但比英国更彻底,原因就在于其理论准备更充分,从文艺复兴运动到启蒙时期准备了数百年。启蒙运动的中心是在法国,因此法国资产阶级在理论上也就表现得更成熟,《拿破仑法典》就是明证。

66 ( 单选题 ) 《拿破仑法典》的核心是:

- A. 财产关系      B. 社会关系      C. 公民权利      D. 权力结构

67 ( 单选题 ) 根据本文,为什么恩格斯将《拿破仑法典》称为“典型的资产阶级社会的法典”?

- A. 在其之后所诞生的宪法法典大多以该法典为效仿对象  
B. 是世界上第一部由资产阶级国家起草的国家宪法法典  
C. 用法律形式确立资产阶级的生产关系和社会关系  
D. 使革命的任务由推翻封建政权转向建立资产阶级政权

68 ( 单选题 ) 人们会产生拿破仑并未参与《拿破仑法典》制定的误解,是因为:

- A. 他反对启蒙主义      B. 感觉他当时戎马倥偬  
C. 他是典型的实用主义者      D. 他将立法权完全交给了人民

69 ( 单选题 ) 关于《拿破仑法典》,以下说法正确的是:

- A. 于1799年正式公布并开始实施      B. 习惯上一直被称为《法国民法典》  
C. 由当时的参议院修改并讨论通过      D. 在“雾月政变”后开始起草工作

70 ( 单选题 ) 最后一段意在说明:

- A. 《拿破仑法典》独特的理念价值  
B. 《拿破仑法典》在法国诞生的原因  
C. 启蒙思想家对法国资产阶级革命的深刻影响  
D. 法国资产阶级革命与英国资产阶级革命的差异

71 ( 单选题 ) 已知 $13+23+33+\dots+n^3=(1+2+3+\dots+n)^2$ ,问 $13+33+53+\dots+193=?$

- A. 19500      B. 19900      C. 20300      D. 22500

72 ( 单选题 ) 某人乘坐缆车下山,发现每隔半分钟就能看到一架对面上山的缆车。如果所有的缆车速度相同,那么每隔几分钟发一架缆车?

- A. 0.25      B. 0.5      C. 1      D. 2

73 (单选题) 在正方形草坪的正中有一个长方形池塘,池塘的周长是草坪的一半,面积是除池塘之外草坪面积的 $\frac{1}{3}$ ,则池塘的长和宽之比为

- A. 1:1      B. 2:1      C. 4:1      D.  $\sqrt{2} : (2-\sqrt{2})$

74 (单选题) 某件商品如果打九折销售,利润是原价销售时的 $\frac{2}{3}$ ;如果打八折后再降价50元销售,利润是原价销售时的 $\frac{1}{4}$ 。该商品如果打八八折销售,利润是多少元?

- A. 240      B. 300      C. 360      D. 480

75 (单选题) 甲工厂每天生产的零件数比乙工厂的1.5倍还多40个,乙工厂每天生产的零件数比甲工厂的一半多20个。则两个工厂每天共能生产多少个零件?

- A. 400      B. 420      C. 440      D. 460

76 (单选题) 某人开车从A镇前往B镇,在前一半路程中,以每小时60公里的速度前进;而在后一半的路程中,以每小时120公里的速度前进。则此人从A镇到达B镇的平均速度是每小时多少公里?

- A. 60      B. 80      C. 90      D. 100

77 (单选题) 小周买了五件价格不等的服装,总价为2160元。其中最贵的两件衣服总价与其余三件衣服的总价相当,而最便宜的两件衣服的总价比最贵的衣服高100元,比第二贵的衣服高200元。则第三贵的衣服价格是多少元?

- A. 300      B. 330      C. 360      D. 390

78 (单选题) 相邻的4个车位中停放了4辆不同的车,现将所有车开出后再重新停入这4个车位,要求所有车都不得停在原来的车位中,则一共有多少种不同的停放方式?

- A. 9      B. 12      C. 14      D. 16

79 (单选题) 钟表有一个时针和一个分针,分针每一小时转360度,时针每12小时转360度,则24小时内时针和分针成直角共多少次?

- A. 28      B. 36      C. 44      D. 48

80 (单选题) 某旅行团共有48名游客,都报名参观了三个景点中的至少一个。其中,只参观了一个景点的人数与至少参观了两个景点的人数相同,是参观了三个景点的人数的4倍。则需要为这些游客购买多少张景点门票?

- A. 48      B. 72      C. 78      D. 84

81 (单选题) 小张购买了2个苹果、3根香蕉、4个面包和5块蛋糕,共消费58元。如果四种商品的单价都是正整数且各不相同,则每块蛋糕的价格最高可能为多少元?

- A. 5      B. 6      C. 7      D. 8

82 (单选题) 某单位五个处室分别有职工5、8、18、21和22人,现有一项工作要从该单位随机抽调若干人,问至少要抽调多少人,才能保证抽调的人中一定有两个处室的人数和超过15人?

- A. 34      B. 35      C. 36      D. 37

83 (单选题) 用一个饼铛烙煎饼,每次饼铛上最多只能同时放两个煎饼,煎熟一个煎饼需要2分钟的时间,其中每煎熟一面需要一分钟。如果需要煎熟15个煎饼,至少需要多少分钟?

- A. 14      B. 15      C. 16      D. 30

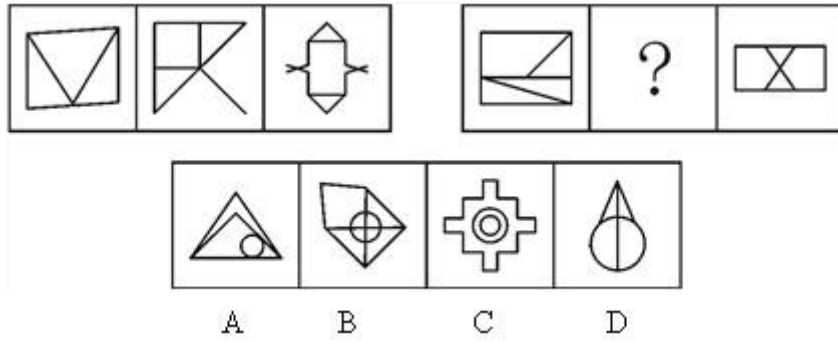
84 (单选题) 某单位组织的羽毛球男单比赛共有48名选手报名参加,比赛采用淘汰赛制,在比赛中负一场的选手即被淘汰,直至决出最后的冠军,如每名选手每天最多参加一场比赛,则比赛至少需要举行几天?

- A. 4      B. 5      C. 6      D. 7

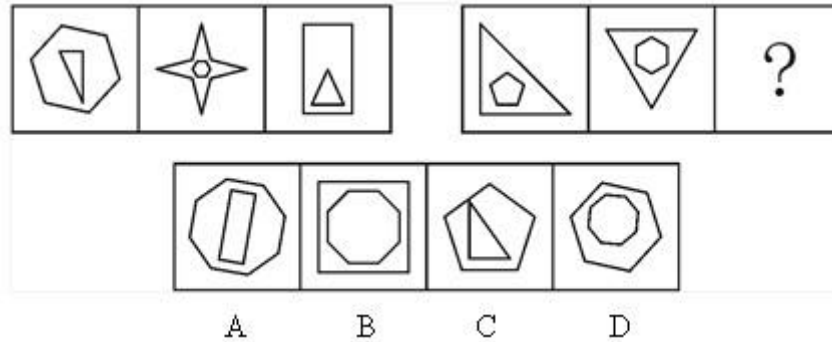
85 (单选题) 一个20人的班级举行百分制测验,平均分为79分,所有人得分都是整数且任意两人得分不同。班级前5名的平均分正好是16到20名平均分的2倍。则班级第6名和第15名之间的分差最大为多少分?

- A. 34      B. 37      C. 40      D. 43

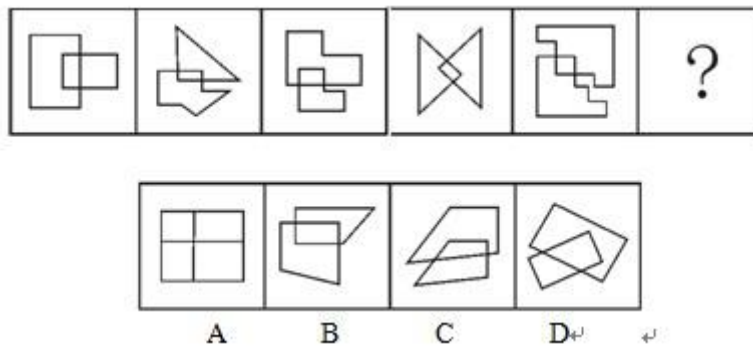
86 (单选题) 从所给的四个选项中,选择最合适的一个填入问号处,使之呈现一定的规律性。



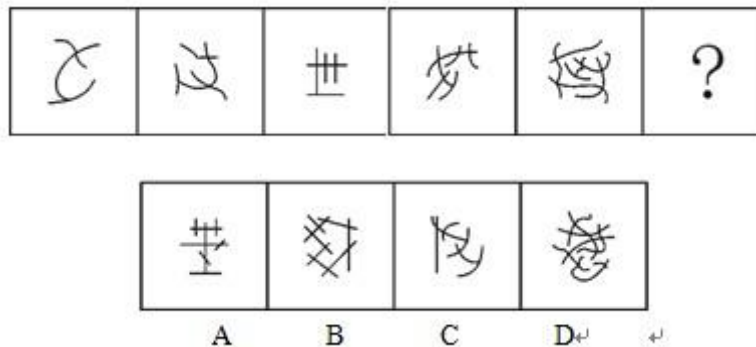
87 ( 单选题 ) 从所给的四个选项中, 选择最合适的一个填入问号处, 使之呈现一定的规律性。



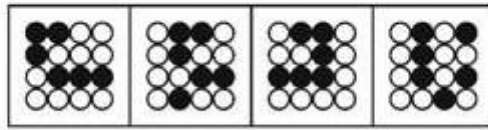

88 ( 单选题 ) 从所给的四个选项中, 选择最合适的一个填入问号处, 使之呈现一定的规律性。



89 ( 单选题 ) 从所给的四个选项中, 选择最合适的一个填入问号处, 使之呈现一定的规律性。



90 ( 单选题 ) 从所给的四个选项中, 选择最合适的一个填入问号处, 使之呈现一定的规律性。



A B C D

91 ( 单选题 ) 熟练掌握输入法技能对于提高打字效率至关重要。所以,打字员应参加专门教授五笔输入法的培训班。

以下哪项如果正确,最能削弱上述论证?

- A. 只有熟练掌握输入法技能的打字员才参加过专门教授五笔输入法的培训班
- B. 只有参加过专门教授五笔输入法培训班的打字员才能熟练掌握输入法技能
- C. 一些打字员能熟练掌握输入法技能,但从未参加过专门教授五笔输入法的培训班
- D. 有些教授其他计算机技能的机构比专门教授五笔输入法的培训班更有助于学员掌握输入法技能

92 ( 单选题 ) 某教师对美国高中生和中国高中生做了一项测试,他问被试相同的问题“一张A4纸如果对折,最多可以折几次”。结果发现,听到问题后,大部分美国高中生马上开始动手折纸,然后根据实际情况回答能折的次数,而大部分中国高中生听到问题后马上回答:无穷多次。这位教师由此得出结论:美国高中生注重实践,而中国高中生注重理论。

以下哪项是这位教师得出结论所必须假设的?

- A. 理论与实践是相互对立的
- B. 只要开始动手折纸并根据实际情况来回答问题,就是注重实践
- C. 只要开始动手折纸并根据实际情况来回答问题,就是不注重理论
- D. 只要马上回答“无穷多次”,就是不注重实践

93 ( 单选题 ) 某公司有些新入职职工拥有博士学位。该公司所有拥有博士学位的职工都被董事长单独接见过,而该公司所有甲省的职工都没有被董事长单独接见过。

如果以上陈述为真,则以下哪项也一定为真?

- A. 有些新入职职工不是甲省的
- B. 所有新入职职工都是甲省的
- C. 有些新入职职工没有被董事长单独接见过
- D. 有些拥有博士学位的职工是甲省的

94 ( 单选题 ) 某食品包装上标明:本食品可放心食用,因为其中不含防腐剂和人工色素。

该食品包装上所标明内容最可能假设了以下哪项?

- A. 有些食品中含防腐剂和人工色素
- B. 安全的食品一定不含防腐剂和人工色素
- C. 不含防腐剂和人工色素的食品一定是安全食品
- D. 这些食品的生产者抓住了消费者的心理需求

95 ( 单选题 ) 健康专家在电视节目中劝说经常饮用纯净水的人群:与矿泉水相比,纯净水缺乏矿物质,而其中有些矿物质是人体必需的。所以,你们应该改变习惯,多饮用矿泉水。

以下哪项最能削弱健康专家的观点?

- A. 人体所必需的不仅仅是矿物质
- B. 人们可以从其它食物中摄取足够的矿物质
- C. 一些经常饮用某品牌矿泉水的人得了肾结石
- D. 可以饮用纯净水和矿泉水以外的其它水

96 ( 单选题 ) 王涛的好朋友都喜欢歌手周某的歌。王涛在某咨询公司工作的同学都不喜欢歌手周某的歌。丽莎既是王涛的同学,也是他的好朋友,米蓝是王涛的同学但不在该咨询公司工作,贺宇是王涛的同学但不喜欢歌手周某的歌。

根据以上陈述，一定可以得出以下哪项？

- A. 米蓝喜欢歌手周某的歌
- B. 王涛不在该咨询公司工作
- C. 贺宇在该咨询公司工作
- D. 丽莎不在该咨询公司工作

97（单选题）在科学界，我们希望论证中不出现任何“存在预设”。所谓存在预设，即预先设定命题中的主体存在。例如在“孙悟空有火眼金睛”这个命题中，并不预设孙悟空的存在，但在命题“有的花是红的”中，必须预设花的存在。牛顿第一运动定律，断定的是不受任何外力作用的物体必然保持静止状态或匀速直线运动状态。这个定律可能为真，但物理学家在表达和断定它的时候，并没有预设不受任何外力作用的物体存在。

从这段话中可以推出的是

- A. 存在预设取决于命题主体是否真的存在
- B. 没有不受外力作用的物体
- C. 牛顿第一运动定律不适用于现实
- D. 牛顿第一运动定律的论证中不存在“存在预设”

98（单选题）近来，月嫂收入成为人们讨论的热门话题。有人要求政府加强监管，并质疑月嫂的收入为何能高过一个医学博士的月薪。也有人反驳说，月嫂的收入为什么不能高过医学博士呢？月嫂收入的提高，一方面是市场调节的结果，另一方面反映了我国越来越重视体力劳动，尊重体力劳动者是社会的进步。

下列哪项陈述不能支持反驳者的观点？

- A. 收入高低不完全取决于学历高低
- B. 有些月嫂非常优秀，具有博士学位
- C. 随着新生儿的增多，出现“一嫂难求”的现象
- D. 谁能放下身段去赚辛苦钱，谁就值得尊重

99（单选题）某硕士班同学举办毕业20周年聚会，联络人王宁说班里有同学不能参加。班长说：“我看513宿舍的4名同学秋菊、阿春、秀秀和楠楠最多有两人能参加。”团支书说：“班长，我觉得你说得不对。”

如果团支书说得不对，则下列哪项必定为假？

- A. 秋菊、阿春、秀秀和楠楠四人中有两人能参加
- B. 秋菊、阿春、秀秀和楠楠四人都不能参加
- C. 秋菊、阿春、秀秀和楠楠四人都能参加
- D. 如果秋菊、阿春能参加，那么秀秀和楠楠也能参加

100（单选题）某招考职位规定：凡通过英语专业八级、参加过支教活动的英语专业应届毕业生均有资格报考该职位。张华是北京某名牌大学英语专业的一名应届毕业生，却没有资格报考该职位。

由此一定可以推出的是？

- A. 张华没有通过英语专业八级考试
- B. 张华没参加过支教活动
- C. 如果张华通过了英语专业八级考试，那么他没有参加过支教活动
- D. 如果张华参加过支教活动，那么他通过了英语专业八级考试

101（单选题）统计表明，某国的火车事故多发生在南部地区，因此在北部地区坐火车更安全。

以下哪项最能反驳上述论证？

- A. 该国北部的火车车速较慢
- B. 该国南部的火车线路比北部多得多
- C. 该国南部的许多线路已经使用动车组了
- D. 该国北部大部分地区为山区，更适合汽车行驶

102（单选题）英语六级考试结束后，关于王刚、刘超二人是否能通过考试，宿舍同学有如下讨论：

王刚说：或者我能通过，或者刘超能通过，或者我和刘超都能通过。

李强说：王刚一定能通过。

杨帆说：刘超能通过。

赵进说：王刚没有可能通过。

考试成绩出来后，证明四人的话有两人说的是真的，两人说的是假的。

根据以上陈述，可推出以下哪项？

- A. 王刚、刘超都通过了
- B. 王刚、刘超都没通过
- C. 王刚通过了，刘超没通过
- D. 刘超通过了，王刚没通过

103（单选题）一类疫苗是国家根据目前国内疾病流行情况以及我国儿童的普遍身体状况规定的必须接种的疫苗，接种费用由政府支付，而其他不属于一类疫苗并且需要家长自费的疫苗属于二类疫苗。由此，家长们普遍认为，二类疫苗只是预防一类疫苗之外的疾病的。

以下哪项最能反驳家长们的看法？

- A. 二类疫苗中的五联疫苗可以预防一类疫苗已覆盖的一些疾病，因此可减少接种次数
- B. 一类疫苗预防的是可能给孩子带来更大伤害的疾病，二类疫苗则不一定
- C. 同一种疫苗在不同的国家和地区可能属于不同类型的疫苗
- D. 选择不接种二类疫苗除了经济原因，还有对其安全性的考虑

104（单选题）某实验室一共有3种类型的机器人，C型能识别颜色、S型能识别形状，X型既不能识别颜色也不能识别形状。3类机器人都能根据简单命令拿起实验品。实验室对1号机器人和2号机器人进行实验，当命令它们拿起红球时，1号拿起的是红方块，2号拿起的是蓝球。

根据上述实验，以下哪项断定一定为真？

- A. 1号和2号都是X型
- B. 1号和2号都不是X型
- C. 1号是C型且2号是S型
- D. 1号不是S型且2号不是C型

105（单选题）甲、乙、丙、丁、戊、己六位运动员的跳高纪录有如下比较：

- (1) 乙的成绩比丙好，但不如甲；
- (2) 丁的成绩不如甲和丙；
- (3) 戊的成绩好于丁和己，但不如甲和丙。

由此，可以确定

- A. 丁的成绩好于己
- B. 己的成绩好于丁
- C. 戊的成绩好于乙
- D. 乙的成绩好于戊

106（单选题）非我所创综合症或NIH综合症，是社会、公司和组织中的一种文化现象，人们不愿意使用、购买或者接受某种产品、研究成果或者知识，不是出于技术或者法律等因素，而只是因为它源自其他地方。

根据上述定义，下列选项中涉及非我所创综合症的是

- A. 每年九一八纪念时时小李都会将自己的日系车车标摘下
- B. 甲国某公司经检验后退回一整批不合格的乙国进口光学器材
- C. 某国宣布全面禁止进口日本福岛第一核电站周边8个县水产品
- D. 有强烈爱国情结的某国居民只购买本国生产的手机

107（单选题）心理学家认为，在一般情况下，人们都不愿接受较高较难的要求，因为它费时费力又难以成功，相反，人们却乐于接受较小的、较易完成的要求，在实现了较小的要求后，人们才慢慢地接受较大的要求，这就是“登门坎效应”。

根据上述定义，下列不符合登门坎效应的是

- A. 某推销员总是仔细地记录客户的需求，并定期向他们宣传新产品
- B. 先请居民在赞成安全行驶的请愿书上签字，几周后再向他们提出在自己房前竖立“小心驾驶”的语牌
- C. 某高中的班主任不忽视学生的每一点进步，并帮助他们制定短期目标，促使他们考上理想的大学
- D. 一位万米长跑冠军说：“我将10000米分成10段。每段我都保持了领先，所以赢得了胜利。”

108（单选题）音乐治疗，是一个系统的干预过程，在这个过程中，治疗师利用音乐体验的各种形式，以及在治疗过程中发展起来的、作为治疗动力的治疗关系来帮助治疗对象达到健康的目的。

根据上述定义，下列选项中属于音乐治疗的是

- A. 病人李某无意中听到其他病友推荐的治疗音乐后感觉非常舒服
- B. 医生为精神紧张抑郁的周某播放催眠音乐，周某说他感到非常放松
- C. 某治疗师给病人听过某些音乐后，病人出现呕吐等不适症状
- D. 治疗师王某旅游时在山泉前听到潺潺水声顿觉心旷神怡

109 (单选题) 自媒体,是指一个普通市民或机构组织能够在任何时间、任何地点,以任何方式访问网络,通过现代数字科技与全球知识体系相联,并提供或分享他们的真实看法、自身新闻的一种途径和即时传播方式。

根据上述定义,以下哪项行为没有涉及自媒体?

- A. 张教授将他的课件传到网上,供学生下载
- B. 小李在微博上与网友讨论食品卫生问题
- C. 小张将拍摄的“中国式过马路”用电子邮件发给网友
- D. 老刘浏览论坛上的关于春运的新闻

110 (单选题) 社会体育,是由企业、事业单位职工,国家机关工作人员,以及城镇或农村居民等不同的群体,为达到健身、健心、健美、娱乐、医疗等目的而进行的内容丰富、形式多样的身体锻炼活动。

根据上述定义,以下哪项活动不是社会体育活动?

- A. 由北京市体委举办的群众长跑运动
- B. 某大学举办了教工篮球队与社区篮球队的友谊比赛
- C. 某市承办了国际铁人三项赛
- D. 在国家奥林匹克体育中心举办的社区居民网球赛

111 (单选题) 分布式能源,是一种新型的建于用户当地或附近的发电系统,可产生电能及其他形式能量,并优先满足当地用户需求,且由用户来管理支配。

根据上述定义,下列选项中属于分布式能源的是

- A. 葛洲坝水电枢纽发电满足附近省市用电需求
- B. 某核电站生产的电能并入了国家电网
- C. 某农户将自家化粪池产生的沼气用于照明
- D. 西部地区某乡建风电站发电用于本村生产生活

112 (单选题) 宅经济,又称闲人经济,是指人们将假日时间分配在家庭生活、减少出门消费而带来商机的现象。

根据上述定义,下列选项中属于宅经济的是

- A. 十一长假期间,某小区附近的音像店提供光盘上门租借服务
- B. 某在线购物网站的客服人员因需要在节假日值班,而在网上定购快餐
- C. 放假期间,某镇的甲商场门可罗雀,而乙商场因搞促销而门庭若市
- D. 某快递公司在十一长假时订单大幅减少,这是因为很多人去旅游了

113 (单选题) 超限效应,是指当人们所接受的刺激过多、过强或者作用时间过久时,引起的心理极不耐烦或逆反的心理现象。

根据上述定义,下列不符合超限效应的是

- A. 小林因为妈妈经常唠叨,他决定毕业后到外地找工作
- B. 王老师因为儿子意外身亡,上课时无法集中注意力
- C. 小方因学习成绩不好,多次受到老师的批评,后来她就放弃了学业
- D. 小华连续加班一周,感到非常疲惫,因琐事与家人大吵

114 (单选题) 病毒式营销,是指发起人把产品的最初信息发送到用户,再依靠用户自发进行口碑宣传的一种营销方法。这种战略像病毒一样,利用快速复制的方式将信息传向数以千计、乃至百万计的受众。

根据上述定义,下列属于病毒式营销的是

- A. 某公司通过发展客户作为销售渠道,鼓励他们向更多人推销该公司产品
- B. 某企业举办广告创意设计大赛活动,让消费者自己设计相关产品的广告
- C. 某公司通过电子邮箱随机发送产品广告,并告知转发该广告可参与抽奖
- D. 某商家用标新立异的广告词宣传,网友纷纷转发使其迅速成为流行语

115 (单选题) 中国传统医学中“七情”之一的“惊”指突然遭受意料之外的事,引起心神欠稳或脏腑机能失调,之后又遇到异物异声而产生的伴有紧张惊骇的情绪体验。

根据上述定义,下列选项中可以认定为“惊”的是

- A. 李某意外摔下楼梯后昏迷不醒,醒来后未感到异常,只觉得自己睡了一觉

- B. 遭遇歹徒劫持的王某被营救后大哭起来，并拉着民警的手连声称谢  
 C. 赵某目睹车祸惨剧后呆若木鸡，再次看到摩托车紧急刹车时一下子晕倒在地  
 D. 周某与朋友聊天时得知自己中了500万大奖，他顿时热泪盈眶并跳了起来

2001-2010年我国税收统计表

(单位：亿元)

年份 \ 税种	消费税	增值税	营业税	进口产品 消费税和 增值税	企业所 得税	个人所 得税	证券交 易印花 税
2001	929.99	4015.47	214.99	1651.63	945.29	279.24	265.91
2002	1046.32	4631.01	155.30	1885.65	1882.21	605.95	108.62
2003	1182.26	5425.55	76.89	2788.59	1740.71	850.79	123.87
2004	1501.90	6613.51	110.99	3700.42	2361.33	1042.24	166.69
2005	1633.81	7931.35	129.64	4211.78	3204.03	1256.94	65.30
2006	1885.69	9588.43	160.54	4962.64	4358.46	1472.17	174.09
2007	2206.83	11602.61	202.66	6153.41	5646.97	1911.80	1945.15
2008	2568.27	13497.76	232.10	7391.13	7173.55	2234.23	949.68
2009	4761.22	13915.96	167.10	7729.79	7619.09	2366.81	495.04
2010	6071.55	15897.21	153.34	10490.64	7795.17	2902.97	527.82

- 116 (单选题) 2004年个人所得税及同比增长幅度分别约为  
 A. 1042亿元, 23%    B. 1024亿元, 20%    C. 1042亿元, 32%    D. 1024亿元, 30%
- 117 (单选题) 与2001年相比, 2010年税收收入增长幅度最大的是哪个税种?  
 A. 进口产品消费税和增值税    B. 个人所得税    C. 企业所得税    D. 消费税
- 118 (单选题) 从2002年至2010年间, 表中各项税种收入均比上年有所上升的年份共有几个?  
 A. 2    B. 3    C. 4    D. 5
- 119 (单选题) 按2010年对国家财政的收入贡献对部分税种进行排序, 正确的一项是  
 A. 个人所得税>进口产品消费税和增值税>企业所得税>增值税  
 B. 增值税>企业所得税>进口产品消费税和增值税>个人所得税  
 C. 增值税>个人所得税>企业所得税>进口产品消费税和增值税  
 D. 增值税>进口产品消费税和增值税>企业所得税>个人所得
- 120 (单选题) 关于2001-2010年我国税收状况, 能够从上述资料中推出的是  
 A. 消费税年均增长率高于企业所得税    B. 期间内收入波动最大的税种是营业税  
 C. 增值税的年均同比, 增量高于其余各税种    D. 进口产品消费税和增值税年均增量超千亿元

资料分析 2012年建材工业增加值同比增长11.5%，增速回落8个百分点，占全国工业增加值的6.6%。全年水泥产量21.8亿吨、同比增长7.4%，陶瓷砖92亿平方米、同比增长9.4%，天然花岗岩石材4.1亿平方米、同比增长27.2%。平板玻璃7.1亿重量箱、同比下降3.2%，卫生陶瓷产量1.6亿件、同比下降13.1%。

2012年底规模以上企业3.4万家，全年完成主营业务收入5.3万亿元，同比增长13.4%。尽管水泥、平板玻璃等



行业利润总额同比分别下降32.8%、66.6%，但由于水泥制品、轻质建筑材料、建筑陶瓷、耐火材料制品、金属门窗和玻纤增强塑料材料等行业利润总额同比分别增长22.5%、21.8%、33.8%、10.5%、26.9%和30.6%，全行业利润总额仍创3750亿元新高，同比增长3.5%。

大宗产品产销率呈下降态势，水泥产销率97.3%、同比下降0.6个百分点，平板玻璃产销率95.6%、同比下降0.1个百分点。截至12月，水泥制造业存货790亿元，同比增加1.8%；砖瓦、石材等建筑材料制造业存货590亿元，同比增加15.7%；玻璃制品制造业存货319亿元，同比增加15.8%。

2012年行业出口交货值约2250亿元，同比增长7.9%，出口商品离岸价格上涨9.3%。其中，建筑卫生陶瓷、建筑和技术玻璃、玻璃纤维及制品出口额同比分别增长31.5%、10%、5.7%。

121 (单选题) 与2010年相比，2012年建材工业增加值约增长了

- A. 3.5%
- B. 19.5%
- C. 31.5%
- D. 33.2%

122 (单选题) 如2012年建材行业无新增规模以上企业，则当年平均每家规模以上企业完成主营业务收入约比上年增长多少亿元？

- A. 0.07
- B. 0.18
- C. 0.63
- D. 1.56

123 (单选题) 以下关于2012年产品产量或行业利润总额同比增长率的排序，按从高到低排列正确的是

- A. 产量增长率：水泥>平板玻璃>卫生陶瓷
- B. 利润增长率：水泥制品>玻纤增强塑料材料>金属门窗
- C. 产量增长率：天然花岗岩石材>卫生陶瓷>陶瓷砖
- D. 利润增长率：轻质建筑材料>建筑陶瓷>耐火材料制品

124 (单选题) 如果2012年建筑卫生陶瓷商品出口价格同比涨幅与建材行业出口商品离岸价格同比涨幅相同，则2012年建筑卫生陶瓷商品出口量与上年相比

- A. 下降了1%
- B. 上升了1%
- C. 下降了17%
- D. 上升了20%

125 (单选题) 以下关于2012年建材行业产销状况的描述，与资料相符的是

- A. 玻璃制品制造业存货同比增速低于水泥制造业
- B. 玻璃制品制造业存货比上年增长约30亿元
- C. 2012年全年水泥销量超过21亿吨
- D. 建材行业利润总额比上年增长约200亿元

资料分析2012年国家火炬计划项目总立项数2108项，其中产业化示范项目1834项，环境建设项目274项。2012年火炬计划重点支持项目445项。2012年，国家火炬计划项目中央财政安排经费3.2亿元支持重点项目。

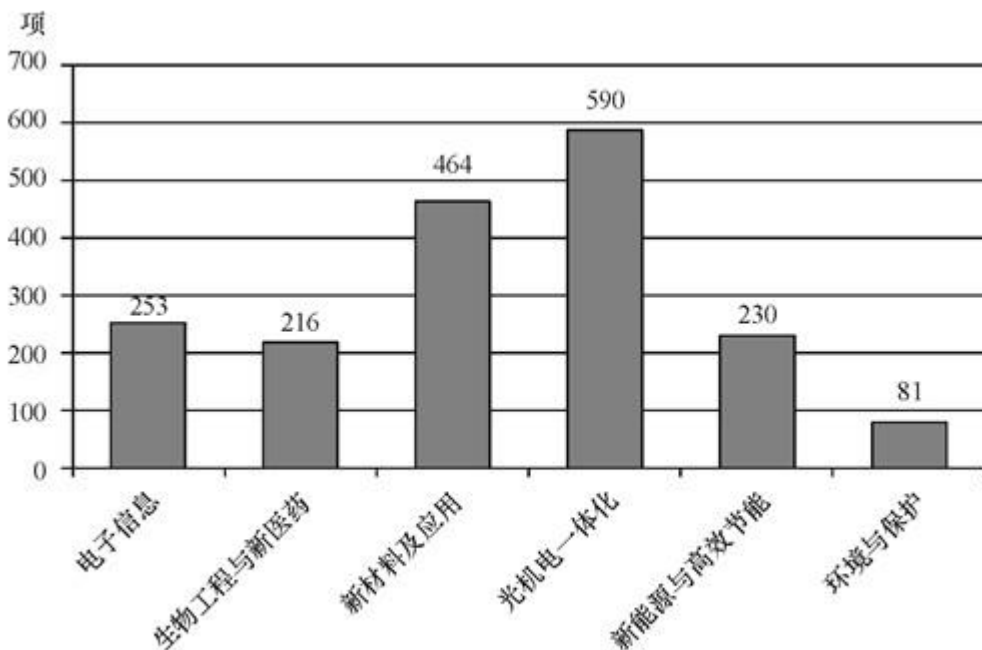


图1 2012年国家火炬计划产业化示范项目图（按技术领域划分）

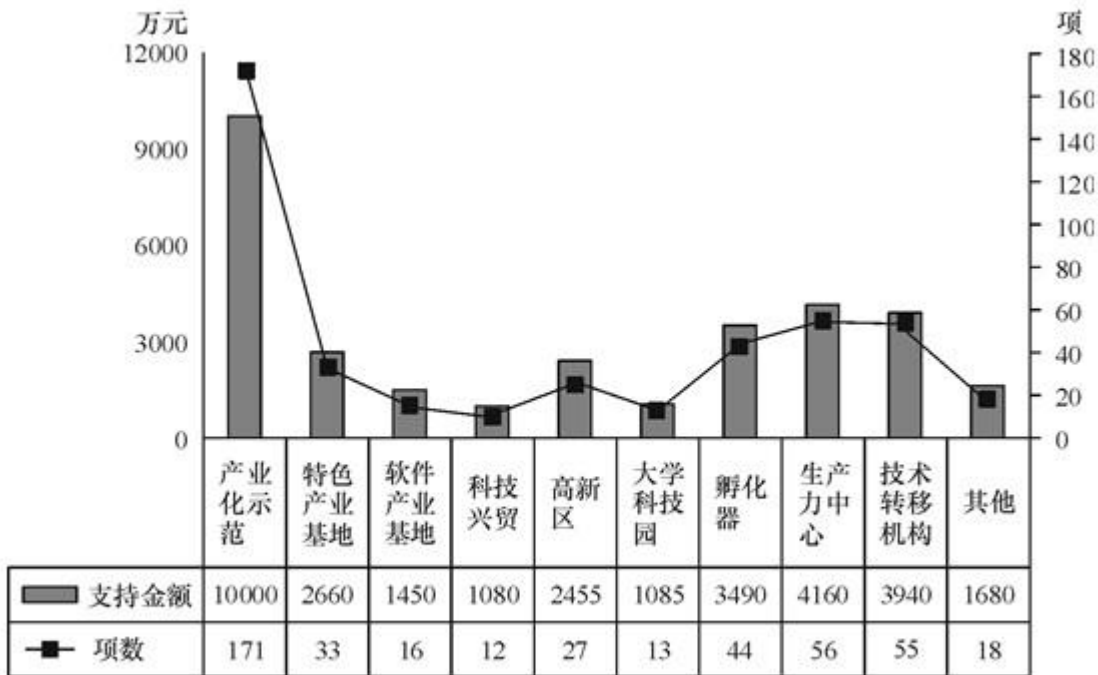


图 2 2012 年火炬计划重点支持项目及资金分布图（按领域划分）

- 126（单选题）2012 年国家火炬计划总立项数中，产业化示范项目占比约为  
 A. 75%      B. 79%      C. 83%      D. 87%
- 127（单选题）产业化示范项目中，立项数最高的技术领域占产业化示范项目总立项数的比重比立项数最低的领域高约多少个百分点？  
 A. 25      B. 28      C. 32      D. 37
- 128（单选题）在火炬计划重点支持项目中，平均每个项目获得的支持资金最少的领域是  
 A. 孵化器      B. 技术转移机构      C. 大学科技园      D. 产业化示范
- 129（单选题）在 2012 年火炬计划重点支持项目中有几个领域获得的支持资金超过中央财政安排经费总额的 10%？  
 A. 4      B. 5      C. 3      D. 6
- 130（单选题）关于 2012 年国家火炬计划重点支持项目，能够从上述资料中推出的是？  
 A. 重点支持项目中产业化示范项目不到 1/3  
 B. 所有的环境建设项目都是重点支持项目  
 C. 有 5 个领域的项目数少于重点支持项目总数的 5%  
 D. 产业化示范项目支持经费在重点支持项目中的比重约为 40%

资料分析据统计，2012 年 1-10 月我国农产品进出口总额 1414.48 亿美元，较上年同期（下同）增长 16.27%。其中，出口 500.52 亿美元，增长 4.49%，进口 913.96 亿美元，增长 23.92%。

2012 年 1-10 月我国八类主要农产品进出口情况

	出口				进口			
	金额 (亿美元)	金额 同比 (%)	数量 (万吨)	数量 同比 (%)	金额 (亿美元)	金额 同比 (%)	数量 (万吨)	数量 同比 (%)
谷物	5.37	-9.92	88.39	-6.61	42.67	181.64	1255.14	212.77
——稻谷产品	2.31	-13.25	24.78	-28.63	9.58	184.30	200.07	283.88
——小麦产品	1.23	-4.87	23.29	-12.77	10.64	212.55	357.46	246.72
——玉米产品	0.98	118.17	25.02	89.36	15.00	373.13	455.72	285.32
食用油籽	13.38	22.33	78.66	10.38	304.52	21.29	5111.74	18.56
——大豆	2.01	54.67	23.76	38.23	283.40	19.02	4833.68	16.61
食用植物油	1.47	-21.29	8.09	-26.35	84.86	19.41	733.10	19.66
食糖	0.37	-15.18	4.03	-21.22	20.25	46.40	335.12	67.02
水产品	149.33	6.62	302.52	-4.28	64.28	-2.93	325.04	-7.89
畜产品	51.63	10.56	110.73	-2.54	88.11	21.68	381.22	12.71
蔬菜	77.80	-18.88	724.53	-9.68	3.34	31.21	18.28	33.60
水果	36.99	11.45	315.04	2.20	31.69	24.72	288.10	1.38

- 131 (单选题) 2012年1-10月我国八类主要农产品中,进口数量最多的三类是  
A. 食用油籽、畜产品、食用植物油 B. 蔬菜、水果、水产品  
C. 食用油籽、谷物、食用植物油 D. 蔬菜、畜产品、水产品
- 132 (单选题) 2011年1-10月我国小麦产品的出口量约比大豆  
A. 少0.5万吨 B. 少3.5万吨 C. 多3.5万吨 D. 多9.5万吨
- 133 (单选题) 2011年1-10月我国农产品约实现  
A. 贸易逆差413亿美元 B. 贸易逆差259亿美元  
C. 贸易顺差413亿美元 D. 贸易顺差259亿美元
- 134 (单选题) 与上年同期相比,2012年1-10月我国蔬菜和水果的平均出口单价  
A. 均有所提高 B. 均有所下降  
C. 只有蔬菜价格提高 D. 只有水果价格提高
- 135 (单选题) 下列关于我国2012年1-10月八类主要农产品进出口状况的描述与资料相符的是  
A. 有7类主要农产品的出口量同比下降  
B. 大豆进口量与食用油籽总进口量的比重不足9成  
C. 玉米产品进口金额的同比增速高于稻谷产品和小麦产品  
D. 食用植物油的平均进口单价高于水产品

## 参考答案

### 1、正确答案是 C

#### 解析

根据中共中央部署，党的群众路线教育实践活动于2013年6月18日启动。一年左右的时间里，活动将紧紧围绕保持和发展党的先进性和纯洁性，以为民务实清廉为主要内容，按照“照镜子、正衣冠、洗洗澡、治治病”的总要求，自上而下在中共全党深入开展。

A项“八项规定”是切入点。B项是“正衣冠”的主要内容：在照镜子的基础上，按照为民务实清廉的要求。D项是总体安排：第一环节：学习教育、听取意见。第二环节：查摆问题、开展批评。第三环节：整改落实、建章立制。

### 2、正确答案是 D

#### 解析

据新华社电昨日，中国与欧洲大陆国家签署首个自贸协定。据介绍，中瑞自贸协定是一个全面的、高水平的和互利互惠的协定。首先，协定的零关税比例高。中瑞自贸协定生效后，瑞方将对中方99.7%的出口立即实施零关税，中方将对瑞方84.2%的出口最终实施零关税。如果加上部分降税的产品，瑞方参与降税的产品比例是99.99%，中方是96.5%。这大大超过一般自贸协定90%的降税水平。其次，协定为两国产业对接合作提供平台。第三，协定涉及环境、劳工与就业合作、知识产权、政府采购信息交流、竞争等诸多新规则。

### 3、正确答案是 A

#### 解析

《中共中央关于制定国民经济和社会发展第十二个五年规划的建议》中提出，实施区域发展总体战略，坚持把深入实施西部大开发战略放在区域发展总体战略优先位置；加大支持西藏、新疆和其他民族地区发展力度；全面振兴东北地区等老工业基地；大力促进中部地区崛起；积极支持东部地区率先发展；加强和完善跨区域合作机制；加大对革命老区、民族地区、边疆地区、贫困地区扶持力度；更好发挥经济特区、上海浦东新区、天津滨海新区在改革开放中先行先试的重要作用；加快沿边地区开发开放。

### 4、正确答案是 B

#### 解析

11月5日，北京市召开宣传思想工作会议，市委书记郭金龙强调，全市各级党组织和宣传思想文化战线要深入学习贯彻全国宣传思想工作会议和习近平总书记重要讲话精神，牢牢把握意识形态工作主导权和网络舆论工作主导权，积极深化文化体制改革，努力开创首都宣传思想文化工作新局面。

### 5、正确答案是 C

#### 解析

为贯彻落实国家《大气污染防治行动计划》，进一步改善空气质量，特制定《北京市2013-2017年清洁空气行动计划》。本行动的目标是：经过五年努力，全市空气质量明显改善，重污染天数较大幅度减少。到2017年，全市空气中的细颗粒物年均浓度比2012年下降25%以上，控制在60微克/立方米左右。

### 6、正确答案是 A

#### 解析

《意见》提出，建立养老服务评估制度，对城市“三无”（无劳动能力，无生活来源，无赡养人和抚养人、或者其赡养人和抚养人确无赡养能力）人员和农村五保对象中的老年人实行政府供养，保障其基本养老服务需求；对低收入、失能、失独、高龄和特殊困难老年人，由政府给予相应的福利保障。探索建立长期医疗护理保险制度，减轻参保人将来养老时接受长期医疗护理服务的自付压力。

### 7、正确答案是 B

#### 解析

A项随着我国国际地位的不断提 高，我国在国际事务中发挥着日益重要的作用，重大国际问题的解决越来越离不开中国的参与……我国已成为维护世界和平与稳定的重要力量，在当今世界树立起了一个负责任大国的形象。但并不起主导作用。C项各国的国家利益各不相同。D项我国处理国际关系的基本准则是奉行“互相尊重主权和领土完整、互不侵犯、互不干涉内政、平等互利、和平共处”五项原则的外交政策。因此只能选B。

8、正确答案是 C

解析

利率上调的影响有：1、公司的贷款利率增加，财务费用增加，那么，利润减少。利润减少，要维持一个合理的市赢率的话，那么只有股价下跌。2、利率上调，部分稳健型投资者会把钱存到银行以期利息收入，这个收入是没有风险的收入。股市上的流动的钱少，供大于求，导致股票价格下跌。利率下调作用则反之。所以，利率上调则股价下跌，利率下调则股价上涨。所以选C。

9、正确答案是 B

解析

题干中英国大量在中国进口茶叶，支付大量白银，但是英国产品在中国销售并不多，说明英国与中国的贸易对于英国而言是逆差显著，所以选B。A选项的生产力没有体现，C选项中英国对中国没有优势存在，D选项中中国并没有成为英国的商品市场。

10、正确答案是 C

解析

民事诉讼法规定，当事人对已经发生法律效力解除婚姻关系的判决，不得申请再审。因为，离婚案件涉及人的身份关系，此类案件判决一经生效，就可能新的法律关系产生，例如，离婚一方当事人再婚，产生了新的婚姻关系，另一方当事人认为离婚判决存在错误，要求再审。对这种情况，即使再审，在事实上也不可能恢复过去的婚姻关系。所以，民事诉讼法规定，对离婚判决，当事人不得申请再审。所以选C。

11、正确答案是 A

解析

国务院常务会议决定进一步提高重点高校招收农村学生比例，将去年面向集中连片特困地区的1万名重点高校招生计划增至3万名，在全国高校招生计划中专门安排18.5万个名额，由东部高校招收中西部考生。这是国务院第一次全体会议关于促进教育公平的部署和要求，国务院常务会议决定，提高重点高校招收农村学生比例，让更多勤奋好学的农村孩子看到更多的希望。因此选A，体现公平。

12、正确答案是 D

解析

工商部门属于实行垂直领导的行政机关，根据《行政复议法》第十二条第二款的规定，“对海关、金融、国税、外汇管理等实行垂直领导的行政机关和国家安全机关的具体行政行为不服的，向上一级主管部门申请行政复议。”所以选D。

13、正确答案是 B

解析

王某实施了销售不符合安全标准的产品行为，是显而易见的，企业因使用这种电器而导致短路，引起火灾，不能另行定罪，只能作为销售不符合安全标准的产品罪的量刑情节加以考虑。所以，选项B正确。

14、正确答案是 C

解析

签订《中美贸易关系协定》是1979年7月，尼克松访华是1972年2月21日，中美联合发表“八一七公报”是1982年8月，乒乓外交是1971年。所以选C。

15、正确答案是 D

解析

秦岭—淮河一线是我国南方与北方的分界线。此线全长1700公里，其南北两侧，无论在气候、水文、土壤、植被，以及农业生产、人民风俗习惯等方面，都有明显的差异。所以选D。

16、正确答案是 D

解析

新文化运动在中国是一场思想解放的风暴，它探索了救国救民的新出路，它的目的是打破封建主义的束缚，力争实现资产阶级民主共和国。所以选择新文化运动D。

17、正确答案是 B

解析

法家思想主张“以法治国”的“法治”思想，B选项中“必轨于法”与之相对应。A选项，“天法道，道法自然”属于道家思想。C项《墨子·鲁问》所云：“凡入国，必择务而从事焉。国家昏乱，则语之尚贤、尚同。”体现兼爱和非攻的政治思想。D项是孟子的语言，体现出孔子的仁爱思想。

18、正确答案是 C

解析

①句的关键是“离骚”针对的文学家是屈原；②句“忧乐关乎天下”针对的是范仲淹的先天下之忧而忧，后天下之乐而乐；③袁行霁为陶渊明纪念馆撰写了一副楹联；④针对“新乐府”、“老诗翁”可以联系到《乐府诗》中的白居易的《卖炭翁》。所以答案选C。

19、正确答案是 B

解析

音乐基础知识中将交响乐分为弦乐、管乐、打击乐。

20、正确答案是 B

解析

A项，动脉血压值称为收缩压，也称为高压；C项，低血压会对身体健康有影响，头晕、乏力、面色苍白，工作能力下降；会出现听力下降，视力也跟着模糊，据研究发现，低血压也会大大增加老年性痴呆的发生；D项，对于高血压病人，一般建议要终生服药。如果血压控制得很好，医生在进行评估后，可能会把病人的药量减至很低，比如每天半粒，甚至隔天吃半粒，而不建议病人完全停药。在临床中他们曾遇到过有病人自行停药后不久就出现了脑中风。

21、正确答案是 D

解析

隐形技术（stealth technology）俗称隐身技术，准确的术语应该是“低可探测技术”（low observable technology）。即通过研究利用各种不同的技术手段来改变己方目标的可探测性信息特征，最大程度地降低对方探测系统发现的概率，使己方目标，己方的武器装备不被敌方的探测系统发现和探测到。而D选项正好相反，释放多个假目标，恰能暴露出自己的位置。

22、正确答案是 A

解析

013年7月7日，海淀区政府宣布，在海淀北部生态科技新区全力打造中关村创新中心区，简称CID。今后将引进高端的新兴产业入驻，建立起战略新兴产业“专精特新”产业集群。CID位于海淀北部地区，面积226平方公里，涵盖西北旺、温泉、苏家坨、上庄四镇，是中关村国家自主创新示范区核心区的重要组成部分。A选项与新闻报道最为接近，故选A。

23、正确答案是 C

解析

根绝北京市地图可知，中轴线并不是一条南北向贯穿北京的道路。南段从天安门到永定门，可供车辆通行的距离仅为2公里。北段从景山后街到鼓楼脚下，也不过1.2公里。中间则被天安门、故宫、景山所阻挡。人民英雄纪念碑位于天安门广场。故选C。

24、正确答案是 B

解析

ABC是“函”的三大特征，B是“请示”的相关特征。

25、正确答案是 D

解析

中国采用北京所在的东八时区的区时作为标准时间，称为北京时间，或称中原标准时间。北京时间并不是北京（东经116.4°）地方的时间，而是东经120°地方的地方时间。因东经120°正好穿过常州，所以常州当地时间与北京时间的误差最小。北京时间发布位于西安临潼的国家授时中心。

26、正确答案是 BD

解析

A项意识对物质具有推动作用为错误表述，意识对物质具有能动作用，正确促进错误阻碍。C项亦为错误表述，



人民认识真理的过程是一个不断发展的过程，真理在形式上是客观的，一直是正确的。所以选BD选项。

27、正确答案是 AB

解析

A项考察价值规律的三个表现形式——价格、供求和竞争。B项表述正确，在题干中亦有所体现。C项表述正确，但在题目中并没有体现。D项表述错误，任何商品的价格都由生产商品的社会必要劳动生产率决定。

28、正确答案是 ABCD

解析

ACD是宪法赋予的人代表大会的权力。人大代表分组审议政府工作报告体现了为人民服务的理念，因此选ABCD。

29、正确答案是 AD

解析

影响宏观经济运行的两大预期是通货膨胀预期和政府税收预期，通货膨胀和政府的税收对于经济的运行有着非常重大的影响，因此通货膨胀的预期是要随时应对的，而税收关乎国民经济的整体发展，需要更多关注，因此选AD。

30、正确答案是 ABD

解析

根据十八大、“十二五”规划的相关表述，结合宏观经济学相关知识，经济结构的主要内容包括，产业结构、资本结构、内需与外需结构；选项C，属于宏观调控的主要内容。

31、正确答案是 ACD

解析

20世纪八九十年代中国内政外交上的重大决策和成就：从计划经济向市场经济过渡，对香港、澳门恢复行使主权，开展多元外交，维护世界和平，而恢复中国在联合国的合法席位是在1971年的11月11日，属于七十年代，因此选择ACD。

32、正确答案是 ABCD

解析

劳动者可以要求用人单位支付工资的假期有：1. 法定节假日。2. 年休假。3. 探亲假。4. 产假。5. 婚丧假。6. 病假。7. 工伤假期。劳动部《违反和解除劳动合同的经济补偿办法》劳部发〈1994〉481号第十一条规定：劳动者依法享受年休假、探亲假、婚假、丧假期间，用人单位应按劳动合同规定的标准支付劳动者工资。

33、正确答案是 AC

解析

中国受到外国文化的影响，说明欧美文化开始影响中国；但是并不是所有的贵重物品均由西方人创造，不符合实际；在西方文化影响下，国人生活受到巨大的影响；但是D选项中的引发国人担忧材料中没有体现，所有选择AC。

34、正确答案是 AB

解析

可以联合行文的规则是：以下部门、机关和单位可以联合行文：

一是同级政府、同级政府各部门可以联合行文；

二是政府与同级党委和军队机关可以联合行文；

三是政府部门与相应的党组织和军队机关可以联合行文；

四是政府部门与同级人民团体和具有行政职能的事业单位也可以联合行文。

五是军队同级机关可以联合行文，军队机关也可以与相应的地方党政机关联合行文。

六是同级党的机关、党的机关与其他同级机关之间必要时也可以联合行文。

七是上级政府部门与下一级政府之间也可以联合行文。

联合行文要注意的内容是：

(1) 行文的各机关部门必须是同级的；

(2) 联合行文对于共同贯彻执行有关方针、政策或兴办某些事业，是非常有利的；

(3) 几个平行机关或部门联合行文，应将相对应的各机关都列为主送机关；

(4) 联合行文应当确有必要，且单位不宜过多。

(5) 联合行文，只标明主办机关的发文字号。

C选项中说明同级，D选项中不是相关企业，所有选AB。

35、正确答案是 AB

解析

北京猿人可以直立行走，并使用工具，所有这个题用排除法，就选择AB。北京猿人群居生活，并且已经开始使用火。

36、正确答案是 B

解析

通读文段可知，文段为“分—总”结构，文段最后一句“于是，文字被发明了，而这正是文明的开始。”点明文段的中心，与选项B形成匹配。因此本题答案为B。

37、正确答案是 A

解析

考察对全文核心意思的概括归纳。此段话是分总结构，文段通过南宋、3世纪、唐代及13世纪不同时间段的人口迁移，呈现了人口迁移的过程，最后一句话，进行了归纳总结。故本题答案为A。

38、正确答案是 D

解析

考察对文段相应细节信息的把握。根据文段“时至今日，提到天池，在中国知名度最高的有两处，一是吉林长白山天池，另一处则是位于新疆博格达峰下的天山天池”与选项D内容相符。因此，本题答案为D。

39、正确答案是 B

解析

根据原文中“孙权将东吴的政治中心从京口迁到秣陵……次年营建了石头城……这个石头城或应在今天定淮门旁边的四望山上，地势靠近长江”可知，B项表述正确。因此，本题答案为B选项。

40、正确答案是 A

解析

文段行文脉络为总——分——总式，首句提出“徽州文化具有自然与人文、物质文化遗产与非物质文化遗产相融合的整体性特征”，随后列举具体事例对首句进行举例论证，尾句再次点题，强调“无不是其文化生态的整体性的体现”，与首句呼应。可见，文段意在说明徽州文化的突出特征。因此，本题答案为A选项。

41、正确答案是 C

解析

本题为逻辑填空题，被填入词语需要与原文意思相符，与“宏观调控”形成搭配，四个选项中，只有“加强和改善”满足此条件，故本题正确选项为C选项。

纠错

B选项的保障、D选项的发展与宏观调控不搭配，A选项，表述不准确，宏观调控已经建立了，无需再建立。

42、正确答案是 B

解析

第一段都是在讲述调查的目的，第一段前半段是在描述调查的内容，但是也可以将具体内容理解为调查目的，在后半段作者通过“通过普查，进一步……，提供科学准确的统计信息支持”更明确地点出了此次调查的目的，因此第一段主要是在说明此次调查的目的。故本题正确选项为B。

纠错

A、D选项有干扰，文段虽有调查内容的描述，但是本段其实是通过调查内容来进一步说明和强调此次调查的目的和意义。C选项基本要素明显与本段内容不符合。

43、正确答案是 D

解析

本文的二、三两段是有关本次调查工作原则的描述。由第二、三段内容可知，本次调查工作其实是由中央和地方各部门共同参与的。第二段是有关国家机关和部门的分工和职责，第三段是地方政府各部门的分工。除此之外，还有街道办事处、村委会、其他单位的配合等。因此，可以看出，此次普查工作的原则是：全国统一领导、部门分



工协作、地方分级负责、各方共同参与。故本题正确选项为D。

纠错

由文段可知，此次调查是由全国统一领导，中央各部门不仅要有分工协调工作，同时还负责执行工作，执行工作不是单由地方政府负责的，同时更重要的是除了中央、地方政府之外，还有其他单位的参与，比如聘用专业人员等，因此A、B、C描述不够准确和全面。

44、正确答案是 B

解析

本题为逻辑填空题，被填入词语需要在意思和搭配上与“统计联网直报系统成果”形成一致，四个选项中，只有B选项的“巩固和拓展”符合文意。

纠错

A选项深化和普及、C选项的健全和支持与“成果”不搭配。D选项改进和完善的意思是一个事物本身是存在问题的，通过某种方式对其进行改进，但是从文段中我们看不出电子地图和统计联网直报系统存在问题，相反一定意义上电子地图和统计联网直报系统是比较先进的技术，故B选项的“巩固和拓展”最符合文意。

45、正确答案是 A

解析

标题必须体现文段的主要内容，本文的主体是第三次全国经济普查，故排除B选项。D选项的批复明显不对，排除。由文段第一句话“根据《全国经济普查条例》的规定，国务院决定于2013年开展第三次全国经济普查”可知，第三次全国普查应该是第一次，刚开始，因此C选项“进一步加强”的说法不准确。而A选项“通知”表述准确，故本题选择A。

46、正确答案是 A

解析

考察对文章细节信息的把握。B、D两项从文章第二段段首句可得。C项从文章第一段首句可得。故本题答案为A项。

纠错

A项文中并未提及，故排除。

47、正确答案是 D

解析

考察对文章细节信息的把握。D项使用方言词，在文中并未提及。故本题答案为D项。

纠错

A、B两项从文章第二段可得，C项从文章第三段可得，故均排除。

48、正确答案是 D

解析

考察对文章细节信息的把握。D项，从文章第三段可知“彻底变乱”和“难登大雅之堂”表达了作者对“去踩一下”的否定。故本题答案为D项。

纠错

A、B、C三项，是在文章前两段，作者描述一些具体的网络词语所提及的例子，故均排除。

49、正确答案是 C

解析

考察对文章细节信息的把握。从文章最后一句话可得D项正确。故本题答案为D项。

50、正确答案是 A

解析

考察对全文核心意思的理解及概括归纳。文章首先介绍了网络语言的产生原因及特点，随之论述了它的存在与传统媒体的关系，A项较准确的反映了这层意思。故本题答案为A项。

纠错

B、C、D三项不能对文意进行全面概括，意思不够准确，故均排除。

51、正确答案是 C

解析

根据第一段中“此后多年，变态反应研究始终将过敏视为一种病态或障碍”一句可知，C项表述为该句的同义替换，表述正确。因此，本题答案为C选项。

纠错

A项的“一直受到重视”在原文中没有体现，为无中生有。根据原文第一段中“‘变态反应’这一术语是儿科医生冯·皮尔凯和贝拉·锡克在20世纪初首次提出的”与“‘过敏症’使生理学家查尔士·里歌声名远播并荣膺1913年诺贝尔奖”两句可知，B、D项表述错误。

52、正确答案是 A

解析

根据“指代就近原则”，代词“这个问题”指代的是前文中提到的问题，即“免疫系统为什么会以这种方式对貌似无害、却经常充当过敏原的物质做出反应”。换言之，即“变态反应”的产生机制。因此，本题答案为A选项。

53、正确答案是 B

解析

根据文章第三段“所以，与其把变态反应看成对蠕虫目标锁定有误的反应，倒不如视之作为一种有益的反应，目的在于防御环境中的有毒物质”可知，玛吉·普罗菲特研究的独特之处在于将变态反应视为身体的一种有益反应。因此，本题答案为B选项。

54、正确答案是 D

解析

根据文章第四段“‘毒素假设’也无法直接解释面对环境中哪怕是微乎其微的过敏原，肌体为什么有时候会作出如此严重的，潜在致死的过敏反应”可知，“毒素假设”无法解释微量的过敏原会致死这一问题。因此，本题答案为D选项。

55、正确答案是 A

解析

文章前四段介绍了对于变态反应的研究历程以及不同观点理论，并重点介绍了“毒素假设”的独特之处在于将变态反应视为一种有益反应，最后一段通过转折关联词“但是”引出文章重点，即“反应的好处可能类似于疼痛的好处：疼痛固然给人带来不快，但这种不快会帮助我们避开损害我们肌体的环境原，从而使我们更有幸存的可能”。可见作者意在暗示我们，变态反应并非对身体一无是处，它对人的身体还是有一些好处的。因此，本题答案为A选项。

纠错

B项表述错误，在文中没有优劣的对比。C项的“主动避免”与D项的“治疗”在文中没有提到。

56、正确答案是 A

解析

根据原文“唐代杜牧说，孙武的兵法原有数十万言，曹操削其剩，笔其精粹，以成此书；”可知，对《孙子兵法》的观点为“在原本上削减而成”，对应选项为A。

57、正确答案是 B

解析

根据原文“因此班固在《汉书》中把孙武的兵法叫《吴孙子》，把孙臆的兵法叫《齐孙子》”可知，本题选B。

纠错

根据“竹简本《孙臆兵法》……该兵法在消失了上千年后……”可知，是《孙臆兵法》消失了上千年，所以A项错误；根据原文“孙武生于春秋末期，孙臆则晚100多年，生于战国……”可知《孙子兵法》的作者是孙武，生于春秋而非战国，所以C项错误；根据原文“而《齐孙子》（孙臆兵法）在魏晋时已无记载。”可知D项错误。

58、正确答案是 A

解析

根据原文“这些实物证据揭示了历史上的孙武、孙臆并非一人，也印证了司马迁《史记》中有关孙武、孙臆记载的真实性，《孙臆兵法》确有其书。”可知，B、C、D均有提及，而A项“《孙臆兵法》的作者是谁”并没有提到，所以不能用来证明。选A项。

59、正确答案是 D

解析

根据原文“这批竹简经过刮削、烤制而成……银雀山汉简的形制、书写格式、篇题的处理……均符合汉代的简册制度。”可知，评判年代的标准有2个：“样式”与“内容”，归纳即“简册的特征”，所以选D项。

纠错

A书写文字是“简册特征”的一个要素，不全面，不选；B项没有提及；C项陪葬物品就是“竹简本身”不能证明其年代。

60、正确答案是 B

解析

文段结构层次可分为两部分：关于《孙子兵法》与《孙臆兵法》作者的问题、银雀山汉墓竹简的证据。可知文章核心意思就是：银雀山汉墓竹简证明了孙武与孙臆的存在及二者的关系，选择B。

纠错

C项银雀山汉墓《孙子兵法》的发现和破译概括不全，未提及孙臆及《孙臆兵法》，所以不选。

61、正确答案是 B

解析

考察对第一段相应细节信息的把握。文章提出大量的大蓝蝶被制作成了标本，当进入汽车时代到大蓝蝶栖息地更加方便，有的地方大蓝蝶已经绝迹。说明大蓝蝶的灭绝是因为人们捕捉制作标本。故本题答案为B项。

纠错

A项与原文“保护区内的大蓝蝶种群灭绝了”的内容不符，C项与原文“数量稀少，且生活在人迹罕至的荒野”的内容不符，D项与原文“保护区越来越多，但是大蓝蝶的数量越来越少”的内容不符，因此D项可以排除。

62、正确答案是 B

解析

考察对文章相应细节信息的把握。文章第二段大蓝蝶成虫的寿命只有四、五天。故本题答案为B项。

63、正确答案是 D

解析

考察对文章相应细节信息的把握。文章第三段中“红蚂蚁后会误以为它是以后将变成蚁后的红蚁幼虫”即被红蚂蚁后视为竞争对手，文章第三段中“蚁巢规模太小”和“另来一只大蓝蝶幼虫，食物不够”。分别对应A、C。故本题答案为D项。

64、正确答案是 C

解析

考察对文章相应细节信息的把握。文章第四段中首句“红蚁本身对生活环境也有要求：地上草的高度最好只有2~3厘米。”说明对草地的管理是与红蚁的生活环境相关的。故本题答案为C项。

65、正确答案是 A

解析

考察对文章主旨信息的把握。文章第一段中“英国建立保护区并且通过法律保护大蓝蝶，但是无济于事”即说明前期的措施并没有收到效果，文章第二、三、四段中分析了没有效果的原因：建立保护区后，禁止烧荒、放牧，野草疯长。第五段分析出大蓝蝶需要控制草皮的高度。综合全文前期的措施不但没有保护反而加速了大蓝蝶的消亡。故本题答案为A项。

纠错

B项的画蛇添足指画蛇时给蛇添上脚。比喻做多余不恰当的事，以致弄巧成拙，与原文内容不符。C项操之过急指处理事情或处理问题过于急躁、性急原文没有体现。D鼠目寸光，比喻目光短浅，缺乏远见，与原文不符。

66、正确答案是 A

解析

定位文段的第一段，由“从内容和结构来看，法典的核心是财产关系，即所有制的问题。”可知对应A项。

67、正确答案是 C

解析

对应文段第一段，由文意可知，他把这部法典称作“典型的资产阶级社会的法典”的原因是前一句，“正如恩格斯所说，它在消灭了封建专制主义之后刚刚诞生的现代社会的经济生活条件译成了司法法规的语言。”即将经济生活条件翻译成为法律语言，强调法律的规范作用；此外，根据文段第一句“它第一次把资产阶级的生产关系和社会关系用法律的形式固定下来”，可知C项正确。

纠错

A、B和文段没有关系。强干扰项是D项，文段中“在消灭了封建专制主义之后”在文段中作状语，并非文段的重点，而且文段中没有提及革命任务问题，所以排除D项。

68、正确答案是 B

解析

对应文段第二段，由“长期以来，很多人都以为这部法典虽然以拿破仑的名字命名，但他并未直接参与法典的制定，”这是误解的具体内容，后面紧接着解释原因“原因是拿破仑南征北战、戎马倥偬，根本无暇顾及，他只是颁布命令而已。”因此对应B项。

69、正确答案是 D

解析

由第二段“他于1799年发动‘雾月政变’成立执政府，翌年就成立了由大理院院长特龙谢、罗马法专家马尔维尔、政府司法行政长官普雷阿梅纳以及海军法院推事波塔四名委员组成的‘民法起草委员会’”。可知《拿破仑法典》是在“雾月政变”之后开始起草的，对应D项。

纠错

由第二段内容可知，1799年是建立“民法起草委员会”起草《拿破仑法典》。由文段“法典最后经立法院一致通过，于1804年3月21日正式公布实施。”可知，公布实施的时间是1804年，所以A项偷换时态。文段说“它最初定名为《法国民法典》”而B项是“习惯上被称为《法国民法典》”这是偷换概念，因此排除B项。根据“起草委员会按期完成了民法草案的起草工作，经大理院和上诉院研究修改后，提交参议院讨论修改。”和“法典最后经立法院一致通过，于1804年3月21日正式公布实施。”可知通过法典的是立法院，而不是参议院，所以排除C项。

70、正确答案是 A

解析

最后一段首句援引观点，非重点。第二句用英法两国的例子来说明法国因理论充分而改革更加彻底，最后总结全文强调启蒙运动中心在法国的原因也是理论的成熟，所以整个文段都在强调以《拿破仑法典》为代表的理论的先进对于法国的重要意义，也就是《拿破仑法典》的价值，对应A项。

纠错

B项是无中生有项。C项表述片面而且文段强调的是理论的成熟对于法国的影响，因此排除C项。D项法国和英国革命之间有不同是“但是”之前的内容，并非文段的重点，这句话意在说明的是法国因为理论准备充分使得革命更加彻底，因此排除。

71、正确答案是 B

解析

$$\begin{aligned} & \text{由于 } 1^3+2^3+3^3+\dots+n^3=(1+2+3+\dots+n)^2, \\ & \text{则 } 1^3+3^3+5^3+\dots+19^3=1^3+2^3+3^3+\dots+19^3-(2^3+4^3+6^3+\dots+18^3) \\ & = (1+2+3+\dots+19)^2-2^3 \times (1^3+2^3+3^3+\dots+9^3) \end{aligned}$$

$$= \left( \frac{(1+19) \cdot 19}{2} \right)^2 - 2^3 \times (1+2+3+\dots+9)^2$$

$$= \left( \frac{(1+19) \cdot 19}{2} \right)^2 - 8 \times \left( \frac{(1+9) \cdot 9}{2} \right)^2 = 19900$$

因此，本题答案选择B选项。

因此，本题答案选择B选项。

技巧

公式法

72、正确答案是 C

解析

由于两缆车间距为常数，设为  $s$ ，缆车的速度为常数，设为  $v$ ，则两缆车半小时相遇一次，则： $s = 2v \times 0.5$ ，

缆车发车间隔为： $\frac{s}{v} = 1$ 。因此，本题答案选择C选项。

技巧

公式法

73、正确答案是 A

解析

设池塘的长度为  $a$ ，宽度为  $b$ 。赋池塘的面积为1，则除去池塘之外的草坪面积为3，则正方形草坪的面积为4，

$$a \cdot b = 1$$

正方形草坪的边长为2。由题意得： $a + b = 2$ ，代入A选项，符合题意。因此，本题答案选择A选项。

技巧

赋值法，代入排除法

74、正确答案是 C

解析

$$10x - 9x = \frac{1}{3}y$$

设商品原价为  $10x$ ，利润为  $y$ 。根据题意有： $10x - 8x + 50 = \frac{3}{4}y$ ，解得  $x = 200$ ， $y = 600$ 。所以，商品原价为2000，成本为  $2000 - 600 = 1400$ ，则打八八折的价格为1760，因此利润为  $1760 - 1400 = 360$ 。因此，本题答案选择C选项。

技巧

方程法

75、正确答案是 C

解析

$$x - 1.5y = 40$$

设甲乙每天生产的零件数分别为  $x$ ， $y$ 。根据题意有： $y - \frac{1}{2}x = 15$ 。解得： $x = 280$ ， $y = 160$ ，所以  $x + y = 440$ 。因此，

本题答案选择C选项。

技巧

方程法、代入排除法

76、正确答案是 B

解析

$$v = \frac{2v_1v_2}{v_1 + v_2} = \frac{2 \times 60 \times 120}{60 + 120} = 80$$

等距离平均速度。前后半路程相同，等距离平均速度公式： $v = \frac{2v_1v_2}{v_1 + v_2} = \frac{2 \times 60 \times 120}{60 + 120} = 80$ 。因此，本题答案选择B选项。

技巧

公式法

77、正确答案是 D

解析

设最便宜的两件衣服价格总和为 $x$ ，第三贵的衣服价格为 $y$ ，则最贵的衣服价格为： $x-100$ ，第二贵的衣服价格为： $x-200$ 。根据题意有 $(x-100) + (x-200) = x+y=2160 \div 2=1080$ ，解得 $x=690$ ， $y=390$ 。因此，本题答案选择D选项。

技巧

方程法

78、正确答案是 A

解析

【解法一】根据错位排列的公式，直接得到4个车位的错位排列为 $D_4=9$ 。因此，本题答案选择A选项。

【解法二】本题可用枚举法，如原来车位排列ABCD，即符合题意的为，BADC, BCDA, BDAC, CADB, CDAB, CDBA, DABC, DCAB, DCBA，总共有9种。因此，本题答案选择A选项。

技巧

公式法、枚举法

79、正确答案是 C

解析

一般情况，1小时内会出现2次垂直情况，但是3点、9点、15点、21点这4个特殊时间，只有1次垂直，所以有 $24 \times 2 - 4 = 44$ 次。因此，本题答案选择C选项。

技巧

图示法

80、正确答案是 C

解析

设参观了三个景点的人数为 $x$ ，则只参观了一个景点的人数、至少参观了两个景点的人数均为 $4x$ ，所以只参观了两个景点的人数为 $3x$ 。由于该旅行团的游客都报名参观了三个景点中的至少一个，有 $4x+3x+x=48$ ，解得 $x=6$ 。所以需要买的景点门票张数为 $4 \times 6 \times 1 + 3 \times 6 \times 2 + 6 \times 3 = 78$ 。因此，本题答案选择C选项。

技巧

图示法、方程法

81、正确答案是 D

解析

设苹果的价格为 $a$ ，香蕉的价格为 $b$ ，面包的价格为 $c$ ，蛋糕的价格为 $d$ ，则有 $2a+3b+4c+5d=58$ 。由于要求蛋糕的价格最高，代入排除，从最大选项开始代入，则使蛋糕的价格为8，则 $2a+3b+4c=18$ 。由于 $2a$ 、 $4c$ 、 $18$ 为偶数，则 $3b$ 为偶数，所以可使 $b=2$ ，则有 $a=4$ ， $c=1$ ，符合题意。因此，本题答案选择D选项。

技巧

代入排除法、奇偶特性法

82、正确答案是 B

解析

由于五个处室分别有职工5、8、18、21、22，问至少要抽调多少人能保证抽调的人中一定有两个处室的人数和超过15人，也就是保证有两个处室的人数和为16人，则最不利情况为5、8、7、7、7，因此所求答案为 $5+8+7+7+7+1=35$ 人。因此，本题答案选择B选项。

技巧

构造设定法

83、正确答案是 B

解析

每个煎饼分两面，每面需要1分钟，十五个煎饼总共有30面，每次可以煎两面，因此30个面需要 $30 \div 2 = 15$ 次，即15分钟。因此，本题答案选择B选项。

技巧

最优原则

84、正确答案是 C

解析

要使比赛的天数最少，则需要使每天的比赛场数尽可能的多，也就是使每天比赛的选手尽可能的多，加之每名选手每天最多参加一场比赛，则有第一天48名选手全部参加比赛，总共比赛24场，淘汰24名，还剩24名；第二天24名选手全部参加比赛，总共比赛12场，淘汰12名，还剩12名；以此类推，则第六天即可决出最后的冠军。因此，比赛至少需要举行6天。因此，本题答案选择C选项。

技巧

枚举法、极端思维法

85、正确答案是 D

解析

求班级第6名和第15名之间的分差最大，则第6名的成绩要尽可能的接近第5名的成绩，且前5名的成绩差距要尽可能的小，即前6名成绩是连续的自然数，第15名的成绩要尽可能的接近第16名的成绩，且后5名的成绩差距要尽可能的小，即后6名的成绩是连续的自然数。又由于班级前5名的平均分正好是16到20名平均分的2倍，则前5名的成绩决定了后5名的成绩。而同时满足这些条件的数列有多组，则可以使前5名的成绩为100、99、98、97、96，则第6名的成绩为95，由此，后5名得成绩为51、50、49、48、47，则第15名得成绩为52，所以第6名和第15名之间的分差最大为 $95-52=43$ 。因此，本题答案选择D选项。

86 正确答案是 D ，

统计 本题共被作答 3010 次，正确率为 65.88%，易错项为 A

解析 元素组成凌乱，考虑个数和属性。先数封闭区域个数，第一组的封闭区域数都是3，第二组给出图形的封闭区域数都是4，排除B、C；一组三个图形的对称轴数量依次为0、1、2，二组给出第一、第三个图形的对称轴数量为0、2，故排除A，选具有1条对称轴的D。

87、正确答案是 B

解析

本题考查数量类问题中的线段数的问题。每个图形都由内外两个图形构成，第一段图形中，内部图形的线数小于外部图形的线数。并且内外相减为“3、2、1”的等差数列。第二段图形为内部图形线数大于外部图形线数，并且相减为“2、3、4”，只有B选项符合规律，内部图形线为8，外部图形线为4。因此，本题答案为B选项。

88、正确答案是 B

解析

本题考查样式类问题中的样式求同问题。题目中每个图形都有两个图形相交所得，因此，应重点观察相交的部分。可以明显看出，各图形相交部分都为矩形。只有B选项符合条件，因此，本题答案为B选项。

89、正确答案是 A

解析

本题考查数量类点问题中的交点数量问题。一条式的出题形式，该题题目非常凌乱，很符合数量类的特征。从左朝右观察，图形中各种线的交点数量，依次为“2、3、4、5、6”，下一个图形应为有7个交点的图形。只有A选项各线段交点数为7。因此，本题答案为A选项。

90、正确答案是 D

解析

本题考查位置类问题中的平移问题。为一条式的出题模式，各图形的组成元素完全相同，都是6个黑点加10个白点，并且各图形元素的位置存在不一样，这符合位置类的题目特征，所以，这道题目要从点的位置移动入手，进行思考。

按照一条式图形的观察顺序，这道题目我们从左至右进行观察。应该非常容易发现，第一幅图形，第三行的小黑点，向右移动了一格。再观察第二幅图和第三幅图，也可以明显发现，他们之间的区别就在于，第二行右侧的小黑点向下移动了一格。依次类推，可以发现，每一个图形与上一个图形相比，都有且只有一个小黑点的位置发生了移动。根据这一个规律。与第五幅图形相比，只有一个小黑点发生移动的选项，只有D。D选项为第五幅图形中第一行右侧的小黑点，向右移动了一格。因此，本题答案为D选项。

91、正确答案是 C

解析

题干中的观点是打字员应该参加专门的教授五笔输入法的培训班，而C项中说到有些打字员能熟练的掌握输入方法但没有参加过培训班，是反面例子。如果C项描述的事实成立，那么题干中的观点就错误，从而起到否定论点的作用，故本题正确答案为C。

92、正确答案是 B

解析

题干由美国高中生通过动手折纸并根据实际情况回答能折的次数得出

的结论：美国高中生注重实践。说明隐含的前提是只要“通过动手折纸并根据实际情况回答能折的次数”就是“注重实践”。所以正确答案为B。

93、正确答案是 A

解析

题干翻译的结果是：有的新入职职工→拥有博士学位→被董事长单独接见，甲省的职工→非被董事长单独接见。根据逆否等价可以得到：被董事长单独接→非甲省的职工。故可以：有的新入职职工→拥有博士学位→被董事长单独接→非甲省的职工。故有的新入职职工→非甲省的职工。故A正确。

94、正确答案是 C

解析

题目中的结论是：本食品可放心食用。理由是：不含防腐剂和人工色素。要想结论正确，必须保证理由能推出结论即：不含防腐剂和人工色素→本食品可放心食用。故正确答案为C。

95、正确答案是 B

解析

题目中的结论是：应该多饮用矿泉水。原因是：矿泉水中含有人体必需的矿物质。B项说人们可以从其它的食物中摄取足够的矿物质。也就是说人体中需要的矿物质不一定必需从矿泉水中摄取，也可以从其它食物中摄取，是另有他因，故正确答案为B。

96、正确答案是 D

解析

题干翻译：（1）王涛的好朋友→喜欢周某的歌，（2）王涛在咨询公司工作的同学→不喜欢周某的歌，丽莎：王涛的同学且王涛的朋友，米蓝：王涛的同学且否定咨询公司工作，贺宇：王涛的同学且否定的喜欢周某的歌。由上述条件可以得到：米蓝是王涛的同学且否定咨询公司工作是对（2）的否前，不能得到确定的结论。贺宇不喜欢周某的歌，根据是对（2）的肯后，不能得到确定的结论。丽莎是王涛的好朋友是对（1）的肯前，那么必然肯后即丽莎必然喜欢周某的歌，而丽莎喜欢周某的歌是对（2）的否后，否后必然否前，则丽莎一定不在咨询公司工作。故本题正确打答案为D。

97、正确答案是 D

解析

题干中说到，存在预设是预先设定命题中的主体存在，而牛顿第一定律的主体是不受任何外力作用的物体，但是并没有预设这个物体的存在。故牛顿第一运动定律的论证中不存在“存在预设”。

98、正确答案：B

解析第一步：首先分析题干，找到论点论据反驳者的观点即论点是：月嫂的收入超过医学博士是合理的。包括3个论据：（1）月嫂收入可以高过医学博士；（2）市场调节导致月嫂收入提高；（3）社会进步、尊重体力劳动者导致月嫂收入提高。第二步：逐一分析选项再看选项，A项支持（1），C项支持（2），D项支持（3），即承认了辛苦赚钱得到重视。B项博士不等于医学博士，范围夸大了。那么我们就从医学博士来考虑，其含义为“优秀的月嫂是因为博士学位导致月嫂收入高”，是对反驳者的观点的削弱，故正确答案为B项。

99、正确答案是 C

解析

题干中说到：团支书的话不对，那么班长说的话就是正确的，即“秋菊、阿春、秀秀和楠楠最多有两个人能参加”具体包含以下情况：四人中有两个人参加，一个人参加或者没有人参加。C项中说四个人都能参加与题干矛盾，故本题正确答案为C。



100、正确答案是 C

解析

题干翻译：英语专业八级且支教活动且英语专业且应届毕业生→有资格报考。确定的是张华不能报考，根据逆否推理可知：张华否英语专业八级或者否支教活动或否定英语专业或否应届毕业生，又知道张华是英语专业的应届毕业生，则张华一定：没有通过英语专业八级或没有参加支教活动。“或”关系中否定其中一个条件必然得到另一个条件的肯定形式，故C正确。

101、正确答案是 B

解析

题干中论证的条件为某国南部地区火车事故多，结论为北部地区坐火车安全，B项指出南部火车线路比北方多得多，火车线路过多，产生火车事故的几率必然会更大，而北方火车线路少，火车事故出现的自然就会少，与是否安全之间没有必然的联系，削弱了论证关系，而A项中的火车车速、C项中的动车、D项中的汽车均属无关选项，所以B项最能反驳。

102、正确答案是 C

解析

根据题干给出的条件可以判断李强所说“王刚一定能通过”与赵进所说“王刚没有可能通过”是矛盾关系，满足“一真一假”，题干中指出四句话中两个人是真话，可以推出王刚与杨帆所说也满足一真一假，杨帆所说“刘超能通过”

如果为真，那么王刚所说也为真，与题干所推出的结论相矛盾，由此可以确定杨帆所说一定为假，即刘超不能通过，那王刚所说为真，即王刚与刘超至少有一个能通过，已知刘超不能通过，那王刚就必然能通过考试，因此C项可以推出。

103、正确答案是 A

解析

题干中家长的想法是二类疫苗只能预防一类疫苗之外的疫病。A项说明二类疫苗中存在可以预防一类疫苗已经覆盖的疾病，直接否定了家长的想法。B项中提及到的疫苗的危害性以及D项中经济原因与家长看法没有联系属于无关项，C项是可能选项，削弱力度较小，故A项最能反驳。

104、正确答案是 D

解析

根据题干可知S型能识别形状，而1号拿起的是红方块，形状不符合，因此1号不可能是S型机器人，同理C型能识别颜色，2号拿起的是篮球，颜色不符合，因此2号不可能是C型机器人，而X型既不识别颜色也不识别形状，拿的实验品具有一定的随机性，因此1号与2号都可能是X型，也可能不是X型，因此A项、B项以及C项都是无法确定，故D项可以推出。

105、正确答案是 D

解析

根据题干给出条件可以推理出甲的成绩>乙的成绩>丙的成绩>戊的成绩>丁、己的成绩，丁与己的成绩大小关系不确定。选项中只有D项可以确定，因此选择D选项。

106、正确答案是 D

解析

题干说明“非我所创综合症”的表现是“不愿使用、购买或者接受某种产品、研究成果或知识”，而A选项中的小李事实上购买、使用、接受了日系车，故A不涉及。题干将“非我所创综合症”的原因限定为“只是因为它源自其他地方”，而B中甲国退回不合格器材给乙国，是由于产品本身的技术因素，C中某国禁止进口日本福岛第一核电站周边8个县的水产品是出于产品质量的考虑。可见，B、C中的原因都不符合“只是因为它源自其他地方”。D选项中，“有强烈的爱国情结”而“只购买本国生产的手机”，完全符合题干定义的表现和原因。因此，本题答案为D选项。

107、正确答案是 A

解析

题干说明“登门坎效应”是在接受了较小的、较易的要求之后，再接受较大、较难的要求。A选项中，推销员

仔细记录客户需求和定期宣传新产品之间没有从小到大、由易到难的过程，故不符合定义。本题提问“不符合”定义的选项。因此，本题答案为A选项。

108、正确答案是 B

解析

题干中说“音乐治疗”的主体为“治疗师”，A选项中“病人李某无意中听到其他病友推荐的治疗音乐”不符合定义的主体。此外，“音乐治疗”的目的是“帮助治疗对象达到健康的目的”，C选项中“病人出现呕吐等不适症状”不符合定义的目的限定词。D选项中，治疗师王某旅游时“顿觉心旷神怡”也不是出于“帮助治疗对象达到健康的目的”，故不符合定义。B选项完全符合定义。因此，本题答案为B选项。

109、正确答案是 D

解析

题干指出，自媒体的传播“提供或分享他们的真实看法、自身新闻”，D选项中“老刘”仅仅是“浏览论坛”的内容，但没有做到“提供或分享他们的真实看法、自身新闻”，故不符合定义。A选项中张教授的课件也可以理解为他问题的“真实看法”，符合定义。B、C选项明显符合定义。因此，本题答案为D选项。

110、正确答案是 C

解析

本题考查对主语和目的状语的考察。定义给出的主语为“企业、事业单位职工，国家机关工作人员，以及城镇或农村居民”，目的为“达到健身、健心、娱乐、医疗等目的”，A选项中主语为群众，北京市委举办的该活动，目的可以理解为健身；B选项中主语为教工、社区居民等，友谊比赛也可以理解为娱乐的目的；D选项主语为社区居民，目的虽未明示，也和娱乐等比较接近。C选项，“国际铁人三项赛”为正规国际体育赛事，参加主体不管曾经从事何种职业，其参赛身份应该都为运动员，主语不符定义。并且，“国际比赛的目的”是竞赛，也与定义中的“健身、娱乐”等目的相差较远。因此，本题答案为C选项。

111、正确答案是 D

解析

本题对定义中宾语和方式状语的考察。定义给出的是“这是一种发电系统，产生的是能量，优先满足当地且由用户管理”。A选项葛洲坝水电站是发电系统但由国家管理；B选项核电站并入电网是发电系统但由国家管理且没优先满足当地；C选项产生的沼气是一种物质资源而不是能量，需要转化后才可以，不是发电系统。D选项中某乡的风力发电站是发电系统而且是有当地管理的。因此，本题答案为D选项。

112、正确答案是 A

解析

本题对定义中方式状语的考察。定义给出的是“节假日在家少出门的商机。”A选项上门服务的商机是消费者在家不出门带来的。B选项节假日值班，不是在家而是在公司；C选项商场的促销情况不是在家的商机；D选项去旅游不是在家的情况。因此，本题答案为A选项。

113、正确答案是 B

解析

本题对定义中状语和定语的考察。定义给出的是“刺激过多、强或长时间，引起不耐烦或逆反”。A选项经常唠叨和去外地是刺激过多时间久导致了不耐烦符合定义，C选项多次批评和放弃学业是刺激多引起了逆反符合定义。D选项连续加班和疲惫大吵是刺激时间久引起了不耐烦符合定义。B选项丧子的刺激是过强，但没有产生不耐烦和逆反心理而是精力不集中。因此，本题答案为B选项。

114、正确答案是 D

解析

本题对定义中宾语和状语的考察。定义给出的“这是…的营销方法，得到最初信息后，用户自发地宣传”。A选项中公司鼓励客户推销，不是自发行为；B选项中广告创意大赛不是营销行为。C选项通过抽奖刺激用户转发，不是用户自发行为。D选项网友纷纷转发是自发的行为。因此，本题答案为D选项。

115、正确答案是 C

解析

本题对定义谓语和状语的考察。定义给出的是“遭受…引起不适，之后再次遇到…产生紧张情绪”。A选项中

李某醒来未感异常，没有产生紧张情绪且不是再次遇到；B选项中王某被解救后没有再次遭受；D选项中周某热泪盈眶不是紧张情绪是激动，也不是再次遇到。以上都不符合定义。C选项是看到车祸后再次遇到紧急刹车的情况会“紧张死”。因此，本题答案为C选项。

116、正确答案是 A

解析

从表格可以读出，2004年个人所得税为1042.24亿元。同比增长幅度（增长率）=

$$\frac{1042.24 - 850.79}{850.79} = \frac{191.45}{850.79} \approx 23\%$$

因此，本题答案为A选项。

技巧

直除法

117、正确答案是 B

解析

从表格可以读出，2010年与2001年相比的增长率公式为： $\frac{\text{末期量}}{\text{基期量}} - 1$ ，

进口产品消费税和增值税的增长率为： $\frac{10490.64}{1651.63} - 1$ ；个人所得税的增长率为：

$\frac{2902.97}{279.24} - 1$ ；企业所得税增长率为： $\frac{7795.17}{945.29} - 1$ ；消费税增长率为： $\frac{6071.55}{929.99} - 1$ ，

直除首位很明显只有个人所得税的 $\frac{\text{末期量}}{\text{基期量}}$ 大于10，所以增长幅度最大的为个人

所得税。因此，本题答案为B选项。

技巧

直除法

118、正确答案是 B

解析

从表格可以读出，从2002年至2010年间，各项税收收入均比上年有所上升的年份有2004、2006、2007年。因此，本题答案为B选项。

技巧

直接读数

119、正确答案是 D

解析

收入贡献指的是各项税收收入占总收入的比重，由于整体相同，只需比较各项税收收入的大小即可。从表格直接读出，只有D选项排序正确。因此，本题答案为D选项。

技巧

直接读数

120、正确答案是 C

解析

A 选项，根据公式：初期量  $\times (1+x\%)^n =$  末期量，则  $(1+x\%)^n = \frac{\text{末期量}}{\text{初期量}}$ ，

比较年均增长率大小只需要比较  $\frac{\text{末期量}}{\text{初期量}}$  的数值大小即可。根据表格，消费税

$\frac{\text{末期量}}{\text{初期量}} = \frac{6071.55}{929.99}$ ，企业所得税  $\frac{\text{末期量}}{\text{初期量}} = \frac{7795.17}{945.29}$ ，直除首位分别为 6、8，A 选

项错误；

B 选项，波动通常指的是数据与平均数之间的比较，本题可以通过比较最大数据与最小数据的差别来求各项税收的波动大小。很明显消费税的波动大于营业税，

B 选项错误；

C 选项，根据公式年均增长量  $= \frac{\text{末期量} - \text{初期量}}{\text{增长年份}}$ ，增长年份各税收一致，因此

只需比较（末期量 - 初期量）的值即可。增值税的（末期量 - 初期量） $= 15897.21 - 4015.47$ ，在所有税收当中是最大的，C 选项正确；

D 选项，根据公式年均增长量

$= \frac{\text{末期量} - \text{初期量}}{\text{增长年份}} = \frac{10490.64 - 1651.63}{9} = \frac{8839.01}{9} < 1000$ ，D 选项错误。

因此，本题答案为 C 选项。

技巧

直除法

121、正确答案是 D

解析

根据两年混合增长率公式： $r_1 + r_2 + r_1 \times r_2$ ，2012 年建材工业增加值增长率为

$19.5\% + 11.5\% + 19.5\% \times 11.5\% \approx 33.2\%$ 。因此，本题答案为 D 选项。

技巧

公式法

122、正确答案是 B

解析

根据公式：增长量  $=$  现期量  $-$  基期量。2012 年建材行业无新增规模以上企业，则

当年平均每家规模以上企业完成主营业务收入为： $\frac{5.3}{3.4} \approx 1.56$ ；2011 年建材行业

无新增规模以上企业，则当年平均每家规模以上企业完成主营业务收入为：

$\frac{5.3}{(1+13.4\%) \times 3.4} \approx 1.37$ ，增长量  $= 1.56 - 1.37 = 0.19$ ，因此，本题答案为 B 选项。

技巧

直接读数

123、正确答案是 A

解析

本题考查增长率的比较，直接在材料中找出数据比较大小即可，只有 A 选项的同比增长率排序是正确的。因此，

本题答案为A选项。

技巧

直接读数

124、正确答案是 D

解析

根据公式  $\text{出口量} = \frac{\text{出口额}}{\text{出口单价}}$ , 2011 年  $\text{出口量} = \frac{\text{出口额}}{\text{出口单价}} = \frac{a}{b}$ , 2012 年

$$\text{出口量} = \frac{a(1+35.1\%)}{b(1-9.3\%)} = \frac{a \times 1.351}{b \times 1.093} = \frac{a}{b} \times 1.2, \text{很明显, 2012 年比 2011 年出口量是}$$

增加 20%, 因此, 本题答案为 D 选项。

技巧

直除法

125、正确答案是 C

解析

A 选项, 根据材料“玻璃制品制造业存货 319 亿元, 同比增加 15.8%”, “截至 12 月, 水泥制造业存货 790 亿元, 同比增加 1.8%”, 很明显, 玻璃制品制造业存货同比增速高于水泥制造业, A 选项错误;

B 选项, 根据材料“玻璃制品制造业存货 319 亿元, 同比增加 15.8%”, 增长量计算公式为:

$$\text{增长量} = \frac{\text{现期量}}{1+x\%} \times x\% = \frac{319}{1+15.8\%} \times 15.8\% = \frac{15.8\%}{115.8\%} \times 319 > 30, \text{B 选项错误;}$$

C 选项, 根据材料“全年水泥产量 21.8 亿吨、同比增长 7.4%”, “大宗产品产销率呈下降态势, 水泥产销率 97.3%、同比下降 0.6 个百分点”, 可得 2012 年水泥销量 = 21.8 × 97.3% = 21.2,

C 选项正确;

D 选项, 根据材料“全行业利润总额仍创 3750 亿元新高, 同比增长 3.5%”,

$$\text{增长量} = \frac{\text{现期量}}{1+x\%} \times x\% = \frac{3750}{1+3.5\%} \times 3.5\% = \frac{131}{1.035} < 200, \text{D 选项错误。}$$

因此, 本题答案为 C 选项。

技巧

放缩法、直除法

126、正确答案是 D

解析

根据文字材料“2012 年国家火炬计划项目总立项数 2108 项, 其中产业化示范项目 1834 项”可知, 2012 年国家火

炬计划总立项数中, 产业化示范项目占比为  $\frac{1834}{2108} \approx 87\%$ 。因此, 本题答案为 D 选项。

技巧

估算法

127、正确答案是 B

解析



根据图1和文字材料“2012年国家火炬计划项目总立项数2108项，其中产业化示范项目1834项”可知，产业化示范项目中，立项数最高的技术领域占产业化示范项目总立项数的比重比立项数最低的领域高

$$\frac{590}{1834} - \frac{81}{1834} \approx \frac{509}{1800} \approx 28\%$$

，即28个百分点。因此，本题答案为B选项。

技巧

估算法

128、正确答案是 D

解析

根据图2可知，孵化器、技术转移机构、大学科技园和产业化示范的平均每个项目获得的支撑资金为

$$\frac{3490}{44} = 70^+, \frac{3940}{55} = 70^+, \frac{1085}{13} = 80^+, \frac{10000}{171} = 50^+$$

，产业化示范获得的平均资金最低。

因此，本题答案为D选项。

技巧

直除法

129、正确答案是 A

解析

根据文字材料“2012年，国家火炬计划项目中央财政安排经费3.2亿元支持重点项目”可知，中央财政安排经费总额的10%为3200万元；由图2可知，产业化示范、孵化器、生产力中心、技术转移机构获得的支持资金超过3200万元。因此，本题答案为A选项。

技巧

简单计算

130、正确答案是 B

解析

A选项，根据文字材料“2012年火炬计划重点支持项目445项”和图2可知，重点支持项目中产业化示范项目的

$$\text{比重为 } \frac{171}{445} > \frac{1}{3}, \text{ A选项错误;}$$

B选项，根据图2和文字材料“2012年国家火炬计划项目总立项数2108项，其中产业化示范项目1834项，环境建设项目274项。2012年火炬计划重点支持项目445项”可知，重点支持项目445项包括171项产业化示范项目和274项环境建设项目，B选项正确；

C选项，根据文字材料“2012年火炬计划重点支持项目445项”可知，重点支持项目总数的5%为22.25项，少于22.25项的有软件产业基地、科技兴贸、大学科技园和其他4个领域，C选项错误；

D选项，根据图2和文字材料“2012年，国家火炬计划项目中央财政安排经费3.2亿元支持重点项目”可知，产业化示范项目支持经费在重点支持项目中的比重为，D选项错误。

因此，本题答案为B选项。

技巧

估算法

131、正确答案是 C

解析

由表格可知，食用油籽、谷物、食用植物油的进口数量分别为5111.74万吨、1255.14万吨、733.10万吨，是八大类主要农产品中进口数量最多的。因此，本题答案为C选项。

技巧

直接读数

132、正确答案是 D

解析

根据表格可知，2011年1-10月我国小麦产品的出口量与大豆的差值为

$$\frac{23.29}{1-12.77\%} - \frac{23.76}{1+38.23\%} \approx 26.7-17=9.7\text{万吨}$$

。因此，本题答案为D选项。

技巧

估算法

133、正确答案是 B

解析

根据文字材料“出口500.52亿美元，增长4.49%，进口913.96亿美元，增长23.92%”可知，2011年1-10月我国

$$\text{农产品逆差为 } \frac{913.96}{1+23.92\%} - \frac{500.52}{1+4.49\%} \approx 740-480=260 \text{ 亿美元。因此，本题答案为B选项。}$$

技巧

估算法

134、正确答案是 D

解析

现期比重公式为  $\frac{\text{部分的现期量}}{\text{整体的现期量}}$ ，基期比重为  $\frac{\text{部分的现期量}}{\text{整体的现期量}} \times \frac{1+\text{整体的增长率}}{1+\text{部分的增长率}}$ ，根据基期比重和现期比重比较理论可知，若部分的增长率>整体的增长率，则现期比重大于基期比重。2012年蔬菜、水果的平均出口单价

为  $\frac{\text{出口额}}{\text{出口量}}$ ，2011年蔬菜、水果的平均出口单价为  $\frac{\text{出口额}}{\text{出口量}} \times \frac{1+\text{出口量的增长率}}{1+\text{出口额的增长率}}$ ，可知2012年平均出口单价与2011年比较类似于基期比重和现期比重比较，即若出口额的增长率>出口量的增长率，则2012年平均出口单价大于2011年。根据表格可知，水果的出口额的增长率大于出口量的增长率，水果平均单价提高；蔬菜的出口额的增长率小于出口量的增长率，蔬菜平均单价下降。因此，本题答案为D选项。

技巧

公式法

135、正确答案是 C

解析

A选项，由表格可知，谷物、食用植物油、食糖、水产品、畜产品、蔬菜的出口量的同比增长率为负数，即有6类主要农产品的出口量同比下降，A选项错误；

B选项，由表格可知，大豆进口量占食用油籽总进口量的比重为  $\frac{4833}{5112} > \frac{9}{10}$ ，B选项错误；

C选项，由表格可知，玉米、稻谷、小麦进口金额的同比增速分别为285.32%、283.88%、246.72%，C选项正确；

D选项，由表格可知，食用植物油和水产品的平均进口单价分别为  $\frac{84.86}{733.10} \approx 0.1$ 、 $\frac{64.28}{325.04} \approx 0.2$ ，D选项错误。

因此，本题答案为C选项。