

2018年421联考《行测》真题（内蒙古卷）

来源：F 整理：杨柳（微信：gwy288）

一、常识判断，根据题目要求，在四个选项中选出一个最恰当的答案。

1、中国共产党第十九次全国代表大会的主题是：_____，高举中国特色社会主义伟大旗帜，决胜全面建成小康社会，夺取新时代中国特色社会主义伟大胜利，为实现中华民族伟大复兴的中国梦不懈奋斗。

填入划横线部分最恰当的一项是：

- A、不忘初心，牢记使命 B、奋发前进，使命必达
C、解放思想，改革开放 D、不忘初心，攻坚克难

2、下列关于我国金融常识的说法正确的是：

- A、国债、股票、公司债券的投资风险依次递增
B、理财产品合同中的预期收益率是理财产品实际到期收益率
C、公众兑换票面残缺的人民币，要到中国人民银行指定的商业银行网点
D、自然人之间借贷如未约定利息，出借人欲主张支付利息，法院不予支持

3、小明在图书馆大声说话，有读者制止他时，他却说：“这是我的权利和自由，别人无权干涉”。关于上述观点的评价正确的是：

- ①正确，宪法规定公民有言论自由
②错误，公民的自由是在法律范围内的自由
③错误，未经他人许可，公民不得擅自行使权利
④错误，世界上从来没有“绝对”的权利和自由

- A、①② B、①③ C、②③ D、②④

4、下列文学作品**没有**使用方言的是：

- A、《海上花列传》（韩邦庆） B、《凤凰涅槃》（郭沫若）
C、《秦腔》（贾平凹） D、《白鹿原》（陈忠实）

5、下列教育家与其名言对应**不正确**的是：

- A、孔子：“性相近也，习相远也” B、孟子：“尽信书，则不如无书”
C、墨子：“道之所存，师之所存” D、荀子：“骐骥一跃，不能十步；弩马十驾，功在不舍”

6、下列著作与作者对应**不正确**的是：

- A、《忏悔录》——奥古斯丁 B、《人性论》——萨特
C、《正义论》——罗尔斯 D、《理想国》——柏拉图

7、下列哪一成语的典故**不是**来自真实历史事件：

- A、暗度陈仓 B、草木皆兵 C、逼上梁山 D、乐不思蜀

8、下列事件按时间先后顺序排列正确的是：

- ①中国女排获得里约奥运会女排比赛冠军
②中国（上海）自由贸易实验区正式设立
③第九届金砖国家领导人会晤在厦门举行
④我国举行纪念中国人民抗日战争暨世界反法西斯战争胜利70周年阅兵式

- A、②③①④ B、④①②③ C、②④①③ D、②①③④

9、下列关于生活医学常识的说法**错误**的是：

- A、生理盐水的浓度是9%
B、医用消毒酒精的浓度是75%
C、儿童缺锌会导致生长发育迟缓，抵抗力差
D、剧烈运动后感觉全身酸痛是因为肌肉中生成了乳酸

10、下列药物**不适用**于清热利咽的是：

- A、胖大海 B、板蓝根 C、片仔癀 D、珍珠粉

11、某患者深夜因剧烈的关节疼痛而惊醒，触摸其手足多个关节，发现有黄白色结晶体隆起。造成这种症状的代谢改变最有可能是：

- A、糖的无氧分解增强，生成过多乳酸 B、嘌呤核苷酸分解增强，生成过多尿酸
C、肝中脂肪酸氧化增强，生成大量酮体 D、氨基酸脱氨基作用增强，生成大量尿素

12、面包制作过程中使用酵母主要是利用其哪一种特性：

- A、酵母在生长过程中可合成蛋白 B、酵母在生长过程中可分解淀粉

- C、酵母在生长过程中可产生乙醇 D、酵母在生长过程中可产生二氧化碳
- 13、下列四个节气所表示的含义**错误**的是：
A、处暑：炎热夏季即将到来 B、惊蛰：天气回暖，春雷始鸣
C、冬至：冬季最寒冷的日子开始 D、小满：夏熟作物籽粒开始灌浆饱满但未成熟
- 14、通常情况下，使用高压锅可以大大缩短食物的烹煮时间，节约能源。下列对其所用物理原理解释正确的是：
A、锅内蒸汽的压强增大，导致水的沸点降低 B、锅内水的沸点降低，导致蒸汽的压强增大
C、锅内蒸汽的压强增大，导致水的沸点升高 D、锅内水的沸点升高，导致蒸汽的压强增大
- 15、互联网上每一个网络或每一台主机所分配的逻辑地址称为 IP 地址。目前，IP 地址主要有 IPv4 地址和 IPv6 地址两大类。下列对应**错误**的是：
A、192.168.0.57——IPv4 地址 B、10.255.8.239——IPv4 地址
C、0D-89-A5-9B-F3-61——IPv6 地址 D、2016:DB8:0:2DE:A13——IPv6 地址
- 16、下列选项**不属于**航空航天中货运飞船主要任务的是：
A、货运飞船发射升空完成后，会与空间站自动或人工交会对接
B、货运飞船进行空间站实验和技术试验，将获取的研究数据回传
C、货运飞船为空间站补加推进剂以及空气，带来饮水、食物等补给物资
D、货运飞船可充当空间站的“垃圾桶”，将站内废弃物搬运至货运飞船
- 17、“21 世纪金属”具有较高的强度、良好的抗氧化性和优异的耐腐蚀性，对人体无毒且无不良反应，被称为“亲生物金属”，可作为人造骨材料。下列关于“21 世纪金属”的说法正确的是：
A、“21 世纪金属”是指钛和钛合金 B、“21 世纪金属”只运用于航空航天领域
C、“21 世纪金属”是一种新型石墨烯材料 D、“21 世纪金属”是 21 世纪发现的一种金属元素
- 18、下列可以作为我国古代天子祭祀礼器的有：
①鼎 ②爵 ③簋 ④璧 ⑤璜 ⑥璋
A、②⑤ B、③⑥ C、①④ D、①⑤
- 19、下列关于我国城镇职工基本医疗保险（简称职工医保）的说法正确的是：
A、灵活就业人群不属于职工医保的覆盖范围
B、退休职工满足一定条件可以不缴纳保险费
C、用人单位缴纳的保险费不进入职工的个人账户
D、职工医保是社会保险的一种，不是强制保险
- 20、古代许多人既有“名”又有“字”，表字和本名的意义有联系。下列古代名人的表字和本名意义相近、互为辅助的是：
A、孟轲，字子舆 B、朱熹，字元晦 C、李白，字太白 D、陆机，字士衡
- 21、下列关于我国 C919 大型客机研发意义的表述**错误**的是：
A、社会效益方面，C919 能带动上下游产业发展，增加就业岗位，促进经济社会发展
B、技术方面，C919 能提升我国航空工业研发能力，促进航空人才队伍建设，提升民航工业水平
C、军事方面，以 C919 为平台改装成大型军用特种飞机的潜力巨大，短期内实现其军民两用前景良好
D、经济方面，C919 使我国民航不再依赖进口中层干线客机，打破了西方航空垄断，进而节省外汇
- 22、下列选项中的事件可能发生的是（ ）
①隋炀帝偏爱吃茄子
②苏东坡的早餐中常有玉米粥
③西红柿炒蛋经常出现在宋代百姓的餐桌上
④开心果在宋代深受欢迎，学名叫阿月浑子
⑤苦瓜不但可以食用，还能入药，被收入《本草纲目》中
A、①③⑤ B、①②⑤ C、①④⑤ D、②③④
- 23、在元代，与埃及亚历山大港并称“世界第一大港”的是：
A、甘棠港 B、月港 C、刺桐港 D、徐闻港
- 24、北回归线**没有**穿越下列哪一著名建筑所在的国家：



A



B



C



D

25、中国共产党第十九届中央委员会第二次全体会议于2018年1月18日至19日在北京召开，会议的主要议程是：

- A、研究制定国民经济发展计划 B、研究全面从严治党的重大问题
C、讨论修改宪法部分内容的建议 D、研究党和政府机构改革的重大问题

二、言语理解与表达，本部分包括表达与理解两方面的内容。请根据题目要求，在四个选项中选出一个最恰当的答案。

26、近些年，作为文化政策、资本扶植发展的重心，国产动画被寄予了极大期望。然而，动漫的土壤并不是随便撒些空壳烂籽就可以_____的。

填入划横线部分最恰当的一项是：

- A、守株待兔 B、坐享其成 C、不劳而获 D、以逸待劳

27、当初的救济性扶贫虽然有立竿见影的功效，但救济的终结常常就是返贫的开始。后来的开发性扶贫有利于借助本土资源_____现代产业，但也容易滋生资源掠夺经营、透支生态环境的隐患。在“输血”和“造血”之外，我们还应有新的视角和新的思维。

填入划横线部分最恰当的一项是：

- A、培养 B、扶植 C、培植 D、培育

28、家风是具有鲜明特征的家庭文化，良好家风是一个家庭最宝贵的精神财富，也是每个家庭成员形成正确世界观、人生观、价值观的_____。家庭是人生的第一所学校，良好家风是人生幸福生活的“第一组密码”。“积善之家，必有余庆；积不善之家，必有余殃。”只有守住和_____好温暖的家庭，才能有人生的成功。

依次填入划横线部分最恰当的一项是：

- A、基点 庇护 B、基准 保护 C、基础 爱护 D、基石 呵护

29、哲学社会科学作为人们认识世界、改造世界的重要_____，历来是推动历史发展和社会进步的重要力量。纵观人类历史，人类社会每一次重大跃进，人类文明每一次重大发展，都离不开哲学社会科学的知识_____和思想先导。哲学社会科学的发展水平，反映了一个民族的思维能力、精神品格、文明素质，体现了一个国家的综合国力和国际竞争力。

依次填入划横线部分最恰当的一项是：

- A、指南 增进 B、途径 进步 C、方法 积累 D、工具 变革

30、泥石流的_____依赖于三个危险因素：沉积物中的粘土、大量的水快速涌入以及山区的地势差异。发生泥石流时，地上的各种大小石头和泥，小到直径只有零点几微米的粘土，大到数十厘米乃至更大的巨型漂砾，都有可能_____在泥石流中“泥沙俱下”。

依次填入划横线部分最恰当的一项是：

- A、诱发 裹挟 B、成因 汇集 C、出现 夹杂 D、引发 聚集

31、中国传统菜肴对于烹调方法极为讲究，而且长期以来，由于物产和风俗的差异，各地的饮食习惯和品味爱好_____，_____的烹调技术经过历代人民的创造，形成了丰富多彩的地方菜系。

依次填入划横线部分最恰当的一项是：

- A、迥然不同 源远流长 B、天差地别 积厚流光
C、殊途同归 连绵不断 D、如出一辙 博大精深

32、无论是现代游戏，还是传统游戏，都_____出了一定的知识、社会和时代特征，同时也_____了团结、多样性和包容的价值。但随着社会变迁和时代发展，很多有价值的传统游戏正在一代又一代的_____中逐渐消逝。

依次填入划横线部分最恰当的一项是：

- A、反射 传播 更新 B、折射 传递 更迭 C、影射 传承 更替 D、投射 传达 更动

33、文字是人类继语言之后的第二大发明。如果说，语言的出现使人类实现了由动物到人的转变，那么文字的发明，则使人类从原始社会的低级阶段上升到文明社会的高级阶段，从而使人们的生活发生了质的飞跃。文字是一个民族与国家文化传承与创新的基础，因此，_____。

填入划横线部分最恰当的一项是：

- A、在世界文化格局中，每一种文化都有它自己的渊源和特点
- B、能够使用和传承自己本民族的文字，不仅是一种文化责任和文化能力，更是一种文化情怀和文化热爱
- C、中国文字文化的演变具有非常清晰的传承谱系，这正是中华文明与世界其他文明的区别所在
- D、正是有了汉字，才有了中国人自己的精神，才有了中国五千年绵延不绝光辉灿烂的文化

34、为什么一些商品的供求关系会落入尴尬境地？为什么人们对中国品牌信心不足？_____可见，这种营商理念下的商业模式，迷失了产业优化升级的方向，破坏了我国经济的微观基础，造成了供求的不匹配。

- ①如果一种产品利润极低，则肯定无法投入资金进行创新和提升品牌形象
- ②这一营商理念的问题在哪里呢
- ③在过去很长的一段时间里，我国企业实行的是低成本低利润扩张、追求市场份额最大化的做法
- ④我们知道，对于任何产品，只有存在合理利润，才有可能继续投入资金进行研发，促使产品更新换代，促使品牌深入人心
- ⑤这需要分析我国企业的营商理念与商业模式
- ⑥同时，极低利润基础上的低成本竞争极易导致假冒伪劣商品横行，这又进一步损害了品牌形象

将以上6个句子重新排列后插入横线中，语序正确的是：

- A、②⑤③④①⑥
- B、⑤③②④①⑥
- C、⑤③②①⑥④
- D、②⑤③①④⑥

35、黑洞是爱因斯坦广义相对论最不祥的预言：过多物质或能量集中在一处，终将导致空间坍塌，像魔术师的外套一样吞进万物，万事万物皆逃不脱。直到40年前霍金博士宣称颠覆了黑洞——或者可能是彻底推翻了。他的方程式表明：黑洞不会永存。一段时间之后，它们会“泄掉”，然后爆炸成辐射和微粒。但是，有一个障碍：按照霍金的估算，黑洞崩塌时散出的辐射是随机的，落入其中的万事万物的“信息”大部分将被抹掉。这违反了现代物理学的一条原则：时间是可以扭转的，黑洞里发生过的事情可以重建。

这段文字的主旨是：

- A、霍金发现了一条可以逃出黑洞的线索
- B、黑洞终将“泄掉”，然后爆炸成辐射和微粒
- C、霍金的研究结果彻底推翻了关于黑洞的预言
- D、霍金破除了黑洞永存的预言却提出了新的挑战

36、研究人员在大肠杆菌外面缠裹了一种叫做β氨基酯的人工合成聚合物，形成一种“细菌胶囊”。随后，将其插入抵抗肺炎球菌的蛋白质疫苗。实验证明，这种胶囊能被动或主动地瞄准一种特殊免疫细胞，它能提升人体免疫反应，具有很强的抗肺炎球菌疾病的能力。研究人员指出，这种胶囊疫苗成本低，使用便利，用这种胶囊输送疫苗能引发特定免疫反应，比现有接种疫苗效率更高，效果更好。

根据这段文字，下列说法正确的是：

- A、“细菌胶囊”核心是β氨基酯人工合成聚合物
- B、无害的大肠杆菌能提升人体的免疫反应
- C、“细菌胶囊”对肺病治疗具有突出成效
- D、“细菌胶囊”或成为新型疫苗输送工具

37、全社会要形成抵制网络不良信息的“防火墙”。网络文化产品直接面向社会公众，经营者是否违法经营，受众最先知道、最有发言权。对网络文化产业进行监管要依靠群众、发动群众。应健全群众举报体系，构建严密的社会监督网络，使网络文化产业发展中的违法行为无藏身之地；引导和教育广大网民增强鉴别能力，面对形形色色的网络文化产品保持清醒头脑，不受骗上当，不误入歧途；帮助网民提高自身道德修养，从思想上打造铜墙铁壁，自觉抵制通过网络传播的不良信息。

这段文字意在强调：

- A、对网络文化产业进行监管要构建监督网络
- B、对网络文化产业进行监管要依靠群众力量
- C、网络文化产业经营者要自觉抵制不良信息
- D、网络文化产业经营者要主动接受群众监管

38、方言，指各地用语。周秦之时，政府派遣“轩使者”（乘坐轻车的使者）到各地搜集地方用语，并加以记录整理。两千多年前，西汉扬雄著《轩使者绝代语释别国方言》，东汉应劭将此书名简称为《方言》，此后“方言”开始作为特定词语使用。与方言对应的是雅言，后称官话、国语。1956年后称普通话并予以推广。60年后，普通话推广已非常成功，而方言却面临着式微、需要保护的局。

根据这段文字，下列说法正确的是：

- A、说明方言与普通话的发展相辅相成密不可分
- B、说明方言与普通话都拥有非常悠久的历史
- C、作者认为普通话的推广导致了方言式微的局面
- D、应该思考如何让推广普通话与保护方言相得益彰

39、2017年某调查显示，超过8成居民家庭认为阅读是孩子认识世界、获取知识的重要途径，超过6成认为阅读对于孩子养成爱学习习惯、养成健康性格具有重要意义。在实际生活中，超过3成的受访居民家庭未成

年子女能够做到每天阅读，超6成孩子每次阅读时间在半小时至1小时之间。但只有3成受访家长经常陪子女阅读，近6成家庭是让孩子自己阅读。有意思的是，虽然父母们自己已经被手机、电脑、电视占据了太多时间，却有13.63%的家长希望借助阅读挤压孩子玩电子产品、看电视的时间。

下列选项最适合做文字标题的是：

- A、“中国家长高度认同阅读对于子女成长的价值” B、“放下手机，才能陪孩子阅读”
C、“你看手机，孩子看书？” D、“阅读，不只关于书本”

40、近年来，高空坠物事件屡有发生，受到社会广泛关注。不可否认，法律层面的规定，避免了高空坠物发生后出现索赔难的情形，确保了被侵权人的合法权益得到切实保护。然而，侵权责任法律的规定，明显具有滞后性，也就是说只有发生侵害行为后，法律才会介入。那么，当侵权行为发生后，伤害或死亡悲剧已经发生，根本无法实现亡羊补牢的效果。因此，如何强化法律的前置性功能，让法律成为高空坠物的安全防护网，是解决问题的关键所在。

下列说法与这段文字的主旨无关的是：

- A、强化立法源头设计，有效避免高空坠物 B、高空坠物侵权法律责任规定还不够完善
C、有关高空坠物的法律存在明显的滞后性 D、筑牢安全防护网，让法律成为“事前诸葛”

41、在人类的脑海中，“科学”除了创造丰富的物质财富以外，往往扮演了“真实”与“客观”的化身，如果这一切被_____，后果不堪设想。那么，我们需要_____的是，在刚刚过去的那个世纪里，是谁扣动了科学危机的扳机？

依次填入划横线部分最恰当的一项是：

- A、颠覆 厘清 B、推倒 分清 C、颠仆 辨清 D、推翻 厘正

42、现代社会不少人喜欢名牌，把自己的精力消耗在追逐名牌这个事情上，而不是把精力放在_____自己上面。你被外在的物质的东西所奴役，就要不停地去满足这个外在的东西。节俭的品德不是让你过苦日子，而是要把自己的心_____，不被外在的东西牵着鼻子走。

依次填入划横线部分最恰当的一项是：

- A、提高 关上 B、打扮 拴住 C、武装 拢住 D、提升 守住

43、近年来，“图说我们的价值观”公益广告以开阔的视野、_____人心的作品和_____人心的力量，传播社会正能量，引起了社会各界的高度关注和观众的热烈反响。

依次填入划横线部分最恰当的一项是：

- A、凝聚 汇聚 B、深入 撼动 C、温暖 感化 D、鼓舞 激励

44、崇尚和平、和睦、和谐的理念，深深根植于中华民族绵延五千余载的_____文明。中国人民从苦难中走过来，深知和平的珍贵、发展的_____，怕的就是动荡，求的就是稳定，盼的就是天下太平。

依次填入划横线部分最恰当的一项是：

- A、古老 意义 B、悠久 价值 C、辉煌 重要 D、灿烂 方向

45、现在，死海的湖水正以每年超过1立方米的速率消失，而极为少见的巨大沙坑正以每年_____的速度形成，而且这个速度还可能继续加快。尽管官方没有公布沙坑的破坏程度，但许多电源线、公路以及活动住宅正被_____，甚至曾有游客掉入沙坑受伤。

依次填入划横线部分最恰当的一项是：

- A、不计其数 淹没 B、数不胜数 湮灭 C、数以百计 吞噬 D、不可胜数 毁灭

46、土豆放置在潮湿环境中容易发芽，土豆发芽后会产生一种毒素叫做龙葵碱，龙葵碱对胃肠道黏膜有较强的刺激性，会产生_____效果，对中枢神经有麻痹作用，中毒的主要症状为胃痛加剧，恶心、呕吐、呼吸困难、急促，伴随全身虚弱_____，严重者可导致死亡。

依次填入划横线部分最恰当的一项是：

- A、消蚀 无力 B、销蚀 衰微 C、侵蚀 乏力 D、腐蚀 衰竭

47、国家主席习近平在G20汉堡峰会上对全球经济治理的建议极具针对性，加强宏观政策_____，有助于促进各方_____，避免沟通不畅或是以邻为壑，进而打造开放共赢的合作模式。

依次填入划横线部分最恰当的一项是：

- A、协调 互动 B、调控 互通 C、沟通 联动 D、交流 联通

48、古代中国数秘术与古希腊数秘术的区别在于，前者侧重解象，后者侧重数术。中国的数秘术后来发展成了

更具意义的宇宙形而上学，与算术渐行渐远，_____。

填入划横线部分最恰当的一项是：

A、南辕北辙 B、分道扬镳 C、缘木求鱼 D、背道而驰

49、每一项工业遗产都_____着城市社会发展的演变规律，实施对工业遗产的发掘保护，开发利用，对维护城市风貌，_____生机特色，克服千城一面现象，具有重要意义。

依次填入划横线部分最恰当的一项是：

A、凝结 保持 B、凝集 保留 C、凝聚 突出 D、凝滞 凸显

50、欧盟委员会发布消息称，回顾全球“金融危机”以来的_____，欧盟采取得当的_____，有效地控制住了危机的蔓延与发展，从而在最近几年取得了经济持续增长的佳绩。

依次填入划横线部分最恰当的一项是：

A、历史 办法 B、历程 措施 C、经历 手段 D、经过 举措

51、总的来讲，“社会”在处理与国家的关系过程中强调其自主性的成长与释放，并_____了各种形式的自我保护运动。而且，“社会”也在改变其生存与发展策略，它不仅仅满足在国家为其_____的范围内行动，而且还通过与国家的主动接触与互动，_____与政府的相关性，并以协作或合作的方式参与社会问题的解决。

依次填入划横线部分最恰当的一项是：

A、展开 规定 保持 B、拓展 制定 保护 C、开展 划定 维持 D、发展 制订 保障

52、许多企业正遭遇来自网络罪犯前所未有的攻击。有数据显示，“想哭”病毒仅攻击网络一次，就能造成高达40亿美元的损失。网络罪犯擅长兜售自己成功的战略，他们将所谓的勒索软件当成一种服务，其中涉及一种许可软件，可冻结公司的电脑文件直至对方付款。这些黑客不一定是自由职业者，事实上，当今绝大多数灾难性的网络攻击都有某些组织的支持。遭受攻击的企业寻求执法人员帮助存在风险，因为不但企业费时费钱，而且会增加将敏感信息公之于众的风险。因此，_____。

填入划横线部分最恰当的一项是：

A、政府应该加强监管，帮助企业应对黑客攻击 B、企业为了减少损失，寻找私人网络安全公司
C、新的行业应运而生，网络安全成为热门行业 D、要将黑客绳之以法，减少网络罪犯攻击企业

53、巨大的投资热情和市场需求背后，短视频的发展短板令人担忧：内容创作新意_____，同质化严重；平台盈利模式_____，只顾短期盈利，长期规划不足；监管机制_____，版权保护缺位，低俗内容和创意抄袭大行其道。

依次填入画横线部分最恰当的一项是：

A、匮乏 缺乏 贫乏 B、贫乏 缺乏 匮乏 C、缺乏 匮乏 贫乏 D、匮乏 贫乏 缺乏

54、一线城市的高房价以及90后年轻人对生活品质的追求，催生了租赁公寓的兴起。租赁公寓迎合了年轻人的消费观念，租房由过去的不得已转变成享受生活的一种方式。据调查，虽然拥有自己的住房仍是90后的刚性需求，但他们当中只有30%愿意为了买房而降低生活质量；另有56%的90后不愿意买房，因为房贷过于沉重会降低生活质量。由此观之，这些更看重个人价值的90后，可能成为“不买房一代”。

这段文字意在强调：

A、许多90后不愿为了买房降低生活质量 B、90后年轻人未来的买房需求非常旺盛
C、租房是大多数人更易于接受的居住方式 D、城市高房价影响多数年轻人的购房意愿

55、近年，研究人员研发出了一种“人造皮肤”，能够模仿健康年轻皮肤的特点，有望成为人类的“第二层皮肤”，“人造皮肤”交叉融合了医学、生物、化学、材料、工程等多个学科，通过对材料的不断筛选、优化及临床测试，最终才取得这样的成果。现实中，类似的成果还有很多，比如通过心脏外科医生与电气工程学家及计算机科学家的紧密合作，利用3D打印将患者病变心脏的扫描成像转变成用于心脏手术的物理模型。历史上，任何一项医疗技术和医疗器械创新都并非是临床医生或某个学科专家单独完成的。基于临床问题的多学科交叉合作，才能真正实现医疗技术和医疗器械领域的自主创新。

这段文字意在强调：

A、医疗自主创新促进多学科合作 B、医疗领域的自主创新成果显著
C、医疗技术和医疗器械难以创新 D、医疗自主创新依托多学科合作

56、20世纪30年代，图灵提出计算机能够思维的观点，主张凡是能够通过“图灵测试”的计算机就能够思维。所谓“图灵测试”，就是说一个人如果不能判断与之对话的隐藏主体是人还是机器，我们就不得不承认即便是

机器也能思维。“图灵测试”能否判断机器的思维，_____。如果将思维定义为计算过程，那么计算机当然能够思维。这就是著名的“计算机隐喻”，即人是计算机，思维就是计算——这是计算机表征主义的核心思想。

填入划横线部分最恰当的一项是：

- A、取决于如何定义计算机 B、取决于思维的活动过程
C、取决于计算机的功能配备 D、取决于我们如何定义思维

57、简单地说，综述主要是面向圈内人的，有时甚至主要是给业内同行看的，所以完全用纯专业的语言来叙述。但元科普著作就不一样，它的目标是本领域以外的人群，为此就需要由最了解这一行的人将知识的由来和背景，乃至科研的甘苦和心得，都梳理清楚，娓娓道来，这就是非亲历者所不能为的缘故。

这段文字意在说明：

- A、综述与元科普的联系 B、综述与元科普的内涵
C、综述与元科普的共性 D、综述与元科普的区别

58、当前，海水温度上升引发一系列白化事件，研究人员非常担心全球珊瑚的命运，研究人员发现，虫黄藻能够利用光合作用产生自己及其寄主所需的养分，当温度较高的海水导致珊瑚礁排出名为虫黄藻的共生藻类时，失去彩色藻类的珊瑚逐渐变为白色，白化现象便发生了。如果白化现象持续下去，等待珊瑚礁的便只有死亡。

由此我们可以推出：

- A、限制大气温度上升至少会留给珊瑚礁一些时间去适应
B、全球气候变暖致使近海珊瑚礁系统越来越缓慢地钙化
C、气温持续上升将会导致发生白化事件的间隔越来越长
D、气温升高压力导致浅水珊瑚要到更深的水域寻求庇护

59、当前我国城市建设面临经济发展与产业结构调整、环境保护、社会治理模式、民生保障等多方面矛盾，建设智慧城市是大势所趋。我国在智慧城市的很多应用方面已经走在了世界前列，像网约车、共享单车等。但也存在一些问题，如顶层设计不足、缺乏体系性规划与创新等。另外，智慧城市建设有许多方面没有考虑到与市民切身相关的问题，市民的感知度并不明显，如何把握城市建设和市民利益结合起来，注意群众需求，是推进智慧城市建设、解决智慧城市落地问题的关键。

这段文字意在强调：

- A、我国智慧城市建设已走在世界前列 B、智慧城市建设面临许多综合性问题
C、建造智慧城市可以解决城市建设诸多矛盾 D、建设智慧城市要接地气与群众需求相联系

60、安全数据显示，2017年上半年，PC端总计拦截病毒10亿次，病毒总体数量环比2016年下半年增长30%；相较于2016年第二季度的病毒拦截量增长23.7%。2017年上半年手机病毒感染用户数为1.09亿，同比减少45.67%，与2015年和2016年上半年相比均有所下降。但2017年上半年手机安全软件有效查杀的病毒次数却达到6.93亿次，同比增长124.24%，比2016年上半年多了1倍多。此外，二维码扫描成为2017年上半年主流病毒的渠道来源，占比高达20.8%

从这段文字我们可以推出：

- A、2017年上半年，PC端病毒情况比移动端更严峻
B、2017年上半年，手机病毒的传播渠道日益多样
C、2017年上半年，手机中毒主要来自二维码扫描
D、2017年上半年，移动端的病毒情况较上年改善

三、数量关系，根据题目要求，在四个选项中选出一个最恰当的答案。

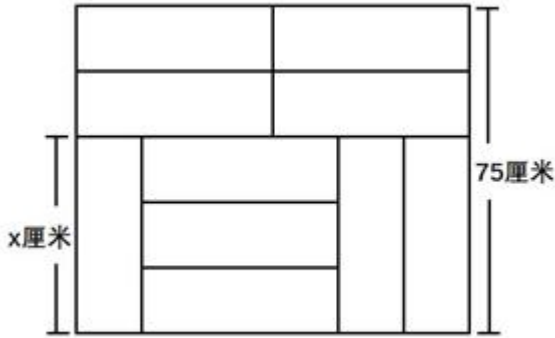
61、一条笔直的林荫道两旁种植着梧桐树，同侧道路每两棵梧桐树间距50米。林某每天早上七点半穿过林荫道步行去上班，工作地点恰好在林荫道尽头。经测试，他每分钟步行70步，每步大约50厘米，每天早上八点准时到达工作地点。那么，这条林荫道两旁栽种的梧桐树共有：

- A、44棵 B、42棵 C、22棵 D、21棵

62、某公司新近录用五名应聘人员，将分别安排到产品开发、管理、销售和售后服务这四个部门工作，每个部门至少一人。若其中有两人只能从事销售或售后服务两个部门的工作，其余三人均能从事四个部门的工作，则不同的选派方案共有：

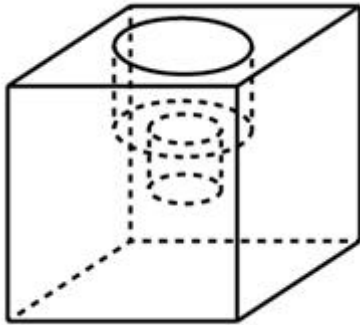
- A、12种 B、18种 C、36种 D、48种

63、装修工人小郑用相同的长方形瓷砖装饰正方形墙面，每 10 块瓷砖组成一个如右图所示的图案。小郑用这个图案恰好铺满该墙面，那么，他最少用了多少块瓷砖？



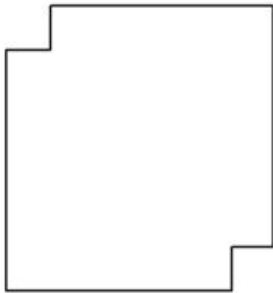
- A、250 B、300 C、400 D、450

64、小庄要制作一个工业模具。他在一个边长 4 厘米的正方体上表面正中心位置向下挖掉一个直径 2 厘米、高 2 厘米的圆柱体，接着再向下挖掉一个直径 1 厘米、高 1 厘米的小圆柱体（如右图所示）。那么，该模具的表面积约为多少平方厘米？



- A、82.8 B、108.6 C、111.7 D、114.8

65、劳动技能课上老师给出一道手工题：一张正方形纸片，在一对对角处各减去一个边长为 1 厘米的小正方形（如右图所示），想办法把这个缺角正方形恰好剪成一些长 2 厘米、宽 1 厘米的小矩形，问初始的大正方形边长要多大时，任务才有可能完成？



- A、8 B、15 C、32 D、以上答案都不对

66、某苗木公司准备出售一批苗木，如果每株以 4 元出售，可卖出 20 万株，若苗木单价每提高 0.4 元，就会少卖 10000 株。问在最佳定价的情况下，该公司最大收入是多少万元？

- A、60 B、80 C、90 D、100

67、某单位工会组织桥牌比赛，共有 8 人报名，随机组成 4 队，每队 2 人。那么，小王和小李恰好被分在同一队的概率是：

- A、1/7 B、1/14 C、1/21 D、1/28

68、某水渠长 100 米，截面为等腰梯形，其中渠面宽 2 米，渠底宽 1 米，渠深 2 米。因突降暴雨，水深由 1 米涨至 1.8 米。则水渠水量增加了：

- A、112 立方米 B、136 立方米 C、272 立方米 D、324 立方米

69、一个班级组织跑步比赛，共设 100 米、200 米、400 米三个项目。班级有 50 人，报名参加 100 米比赛的有

27人，参加200米比赛的有25人，参加400米比赛的有21人。如果每人最多只能报名参加2项比赛，那么该班最多有多少人未报名参赛？

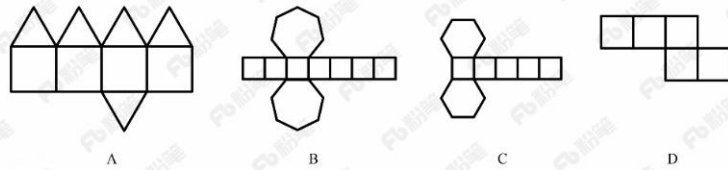
- A、11 B、12 C、13 D、14

70、联欢会上，有24人吃冰激凌、30人吃蛋糕、38人吃水果，其中既吃冰激凌又吃蛋糕的有12人，既吃冰激凌又吃水果的有16人，既吃蛋糕又吃水果的有18人，三样都吃的则有6人。假设所有人都吃了东西，那么只吃一样东西的人数是多少？

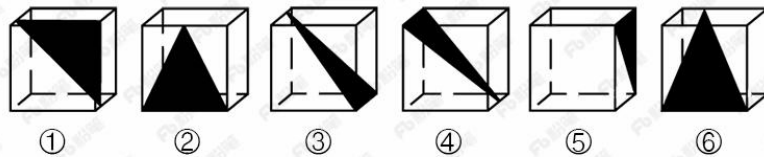
- A、12 B、18 C、24 D、32

四、判断推理，本部分包含图形推理、定义判断、类比推理和逻辑判断四个部分，根据题目的表述选择最佳选项。

71、下列哪个选项中的图形能够折叠成完整封闭的立体几何结构：



72、从正方体中裁出如下图所示六个不同的三角形，将其分为两类，使每一类图形都有各自的共同特征或规律，分类正确的一项是：



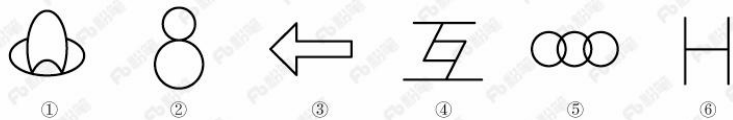
- A、①②⑤，③④⑥ B、①⑤⑥，②③④ C、①③⑤，②④⑥ D、①②④，③⑤⑥

73、把下面的图形分为两类，使每一类图形都有各自的共同特征或规律，分类正确的一项是：



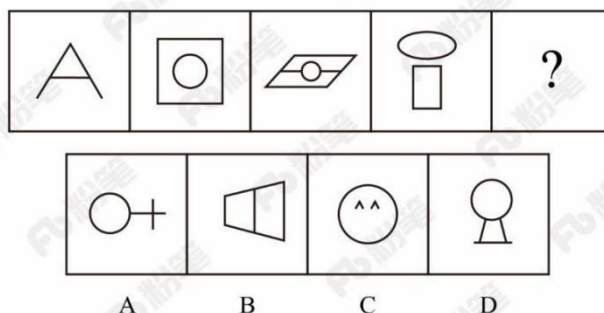
- A、①②⑤，③④⑥ B、①③⑤，②④⑥ C、①④⑥，②③⑤ D、①②⑥，③④⑤

74、把下面的图形分为两类，使每一类图形都有各自的共同特征或规律，分类正确的一项是：

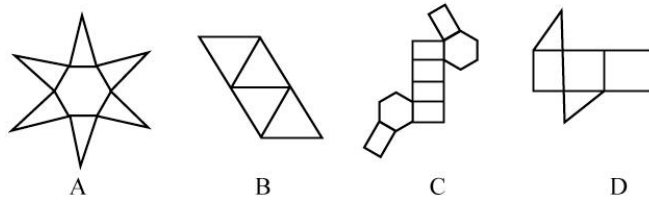


- A、①④⑥，②③⑤ B、①③④，②⑤⑥ C、①②⑤，③④⑥ D、①③⑤，②④⑥

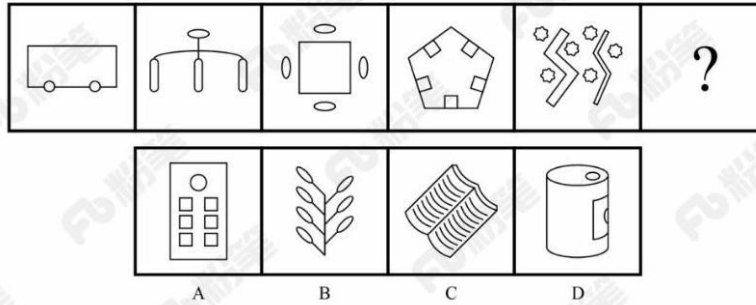
75、从所给的四个选项中，选择最合适的一个填入问号处，使之呈现一定的规律性：




76、下列选项中的图形不能折叠成完整封闭的立体几何结构的是：



77、从所给的四个选项中，选择最合适的一个填入问号处，使之呈现一定的规律性：

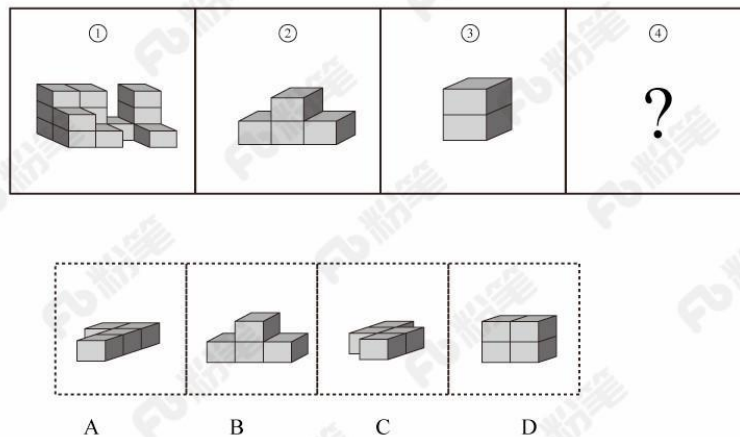


78、把下面的图形分为两类，使每一类图形都有各自的共同特征或规律，分类正确的一项是：



A、①②⑥，③④⑤ B、①④⑤，②③⑥ C、①③⑥，②④⑤ D、①③⑤，②④⑥

79、从所给的四个选项中，选择最合适的一个填入问号处，使下图中的立体图形①、②、③和④可组成一个完整的长方体：



80、精准医疗是指以个体化医疗为基础，通过基因组、蛋白质组等技术，对大样本人群与特定疾病类型进行生

物标记物的分析与鉴定、验证与应用，从而精确寻找到疾病的原因和治疗的靶点，最终实现对疾病和特定患者进行个性化精确治疗。

根据上述定义，下列选项**不属于**精准医疗的是：

- A、甲某罹患癌症，医生对其基因进行全面检测并确定治疗方案
- B、乙某近期反常头晕，医生询问症状后就给其开了非处方药物
- C、丙某在就医时称自己对某种药物过敏，医生根据其过敏情况设计用药方案
- D、丁某患失眠症到中医院就诊，医生据“同病异治，异病同治”的理念施治

81、在决断之前，每个事物的价值在决策者心中大致相近，则难于决断其优劣；但在作出选择之后，决策者对这些事物的态度评价就发生了改变。这种现象叫作决断后效应。

根据上述定义，下列现象属于决断后效应的是：

- A、某职员对自己的去留一筹莫展，一番考量之后他认为留下来要面对许多复杂关系，不如重新开创新天地
- B、某女士对各有优劣的两个品牌手机难以抉择，最后她从经济角度考虑选择其中一款，可到货后发现这款有色差
- C、某老师对选A还是B去参加比赛犹豫不决，班长建议选B。事后，老师认为选B完全正确，因为B最终夺得冠军
- D、某学生填报志愿时对报甲大学还是乙大学犹豫不决，最后他听从老师建议选择了甲大学，从此觉得甲大学优于乙大学

82、情感广告是诉诸于消费者的情绪或情感反应，传达商品带给他们的附加值或情绪满足的一种广告策略。这种情绪在消费者心目中的价值可能远远超出商品本身，从而使消费者形成积极的品牌态度。

根据上述定义，下列广告语**不属于**情感广告的是：

- A、某品牌饮料广告语：“××可乐，中国人自己的可乐！”
- B、某品牌啤酒进入东南亚市场的广告语：“好不好，家乡水。”
- C、某品牌纸尿裤广告语：“宝宝天天好心情，妈妈一定更美丽。”
- D、某品牌润肤露广告语：“为了肌肤柔美润舒，请使用××润肤露。”

83、理性预期指的是，针对某个经济现象进行预期的时候，如果人们是理性的，那么他们就会最大限度地充分利用所得到的信息来作出行动而不会犯系统性的错误。

根据以上定义，下列属于理性预期的是：

- A、省立医院分院一投入使用，小陈就在附近开了一家水果店
- B、老秦获悉某政策即将施行，凭着长期炒股的经验进行股票操作
- C、传言说城南要建某重点中学分校，老刘立即在附近买了一套房子
- D、小张得知其高考成绩在全省排第二十位，果断决定第一志愿报清华大学

84、二维码是用某种特定的几何图形按一定规律，在平面分布的黑白相间的图形记录数据符号信息。在代码编制上利用“0”“1”比特流的概念，用若干与二进制相对应的几何形体来表示文字数值信息，通过图像输入设备或光电扫描设备自动识读，以实现信息自动处理。一个二维码所能表示的比特数是固定的，它包含的信息越多，则冗余度就越小；反之，冗余度就越大。

根据上述定义，下列选项**不符合**二维码内涵的是：

- A、某种特定的几何图形按一定规律分布可以构成相应的二维码
- B、二维码中图像代码的基本原理利用的是计算机的内部逻辑基础
- C、把文字数值信息转化成与二进制相对应的几何形体，可供设备识读
- D、二维码包含的信息量都很大，意味着在编码时需要尽量减少冗余度

85、回弹效应是指通过技术进步提高能源使用效率，节约了能源消费，但技术进步的同时也会促进经济规模的扩大，对能源产生新的需求，从而部分、甚至完全地抵消所节约的能源。

根据上述定义，下列选项可以有效控制回弹效应的是：

- A、发动机效率提升降低了行车成本，更多人选择以车代步
- B、厂商进一步提高能源效率，利润增加，生产出更多产品
- C、太阳能热水器热销，慢慢取代传统电热水器
- D、现在越来越多的消费者购买节能型家用电器

86、广义相对论是爱因斯坦以几何语言建立而成的引力理论，他将引力改描写成因时空中的物质与能量而弯曲的时空，以取代传统对于引力是一种力的看法，而这种时空曲率与处于时空中的物质与辐射的能量动量直接相关。

根据上述定义，下列选项中的现象**不涉及**广义相对论的是：

- A、科学家在观察日全食时发现，光线经过太阳附近时会产生偏角弯曲
B、科学家发现，在强引力场中时钟要走得慢一些，因而从巨大质量的星体表面发射到地球的光线，会向光谱的红端移动
C、科学家发现，当一个星体足够致密时，其引力使时空中的区域极端扭曲以至光线都无法逸出，由此发现了黑洞的存在
D、麦哲伦航行时发现，驶向远方的船帆逐渐下沉，最后消失在视线中，而海平面似呈弯曲状，远处的海水似乎比近处的海水水位低

87、在企业活动中，库存有多种类型。装运库存是指在价值链末端工厂的库房里，那些已经准备好可以随时出货的产品。在途库存又称中转库存，指尚未到达目的地，正处于运输状态或等待运输状态而储备在运输工具中的库存。

根据上述定义，下列选项属于在途库存的是：

- A、小张给自己网购了一件毛衣，下单两天后查知该毛衣已到某中转站
B、某高速服务区内一辆大货车满载着A超市从B地采购的各类毛巾
C、某皮鞋厂的卡车里，堆满了该厂用于制造新款皮鞋的牛皮
D、某公司在城南的自有库房中存放着给城北门店销售的玩具

88、地震震级是通过仪器给出地震大小的一种量度，是划分震源放出能量大小的等级，地震所释放的能量越大，地震震级也越大，每一次地震只有一个震级。地震烈度表示地震对地表及工程建筑物影响的强弱程度，是在没有仪器记录的情况下，凭地震时人们的感受或地震发生后器物反应的程度、工程建筑物的破坏程度、地表的变化状况而定的一种宏观尺度。

根据上述定义，下列说法正确的是：

- A、地震震级越大，地震烈度相应越强
B、一次地震只有一个震级，一个烈度
C、距震源越近，震级越大，烈度越强
D、地表破坏越严重说明地震烈度越强

89、青衿：读书人

- A、南冠：囚犯
B、浮屠：寺庙
C、春蚕：奉献
D、袍泽：官员

90、仪态万方：美丽多姿

- A、风度翩翩：富富有余
B、腰缠万贯：富甲一方
C、其貌不扬：荣华富贵
D、仪表堂堂：身无长物

91、骡子：耕畜：犁地

- A、基因：生命：遗传
B、衙役：衙门：当差
C、鸬鹚：水鸟：捕鱼
D、恒星：宇宙：发光

92、团扇：羽毛扇：舞蹈扇

- A、宣纸：餐巾纸：铜版纸
B、圈椅：实木椅：办公椅
C、排球：羽毛球：乒乓球
D、墨镜：老花镜：显微镜

93、井底蛙：三脚猫：智慧

- A、笑面虎：变色龙：真诚
B、千里马：孺子牛：可靠
C、替罪羊：铁公鸡：坚强
D、地头蛇：纸老虎：勇敢

94、演员：公园：演出

- A、谣言：微信：查处
B、股民：股市：投资
C、士兵：战争：升迁
D、信息：卫星：定位

95、火药：鞭炮：二踢脚

- A、乌铁：刀具：三棱刀
B、红砖：建筑：四合院
C、清水：白酒：五粮液
D、杉木：乐器：六弦琴

96、春秋：寒暑：一年

- A、妇孺：老幼：生命
B、荏苒：蹉跎：岁月
C、东西：南北：方向
D、冷热：干湿：温度

97、纺车 之于（ ）相当于（ ）之于 联合收割机

- A、手摇；蒸汽机
B、织布；传动带
C、3D 织布机；曲辕犁
D、自动打线车；发动机

98、钟表 之于（ ）相当于（ ）之于 排字工

- A、时间；印刷工
B、刻度；线装书
C、更夫；打印机
D、油纸；修理工

99、我们身体的生物钟系统会受到许多因素的影响，其中之一就是光照。研究表明，光照可以有效地欺骗大脑进入“白昼模式”，哪怕当时人的眼睛是闭着的也没关系。研究人员发现可以用光照疗法来帮助我们调整时差，包括持续光照和不同间隔的闪光，而每 10 秒一次持续仅 2 毫秒的闪光最有效。研究还发现，在睡眠时经历过“闪光处理”的人出现困意的周期会延后两个小时。

以下哪项如果是真，最能支持上述观点？

- A、每次闪光间隙的黑暗都有助于让眼睛重启，从而恢复眼睛对光照的敏感
- B、大部分睡眠时经历“闪光处理”的人的睡眠质量都不会受到闪光的影响
- C、去时区早两小时的城市，启程日日出前两小时经光照疗法的人无时差感
- D、依靠自身来调节时差耗时良久，大概平均每天只能倒过一个小时的时差

100、甲、乙、丙三人大学毕业后选择从事各不相同的职业：教师、律师、工程师。其他同学做了如下猜测：

小李：甲是工程师，乙是教师。

小王：甲是教师，丙是工程师。

小方：甲是律师，乙是工程师。

后来证实，小李、小王和小方都只猜对了一半。那么，甲、乙、丙分别从事何种职业？

- A、甲是教师，乙是律师，丙是工程师
- B、甲是工程师，乙是律师，丙是教师
- C、甲是律师，乙是工程师，丙是教师
- D、甲是律师，乙是教师，丙是工程师

101、如果央行允许人民币继续贬值，那么市场对于人民币贬值的预期就容易强化。如果市场形成较强的人民币贬值预期，大量的资金就会流出我国。资金流出我国，不仅会强化这种人民币的贬值预期，导致更多的资金流出我国，而且可能会导致我国资产价格全面下跌，继而可能引爆金融市场的区域性风险及系统性风险。这些都是我们不愿意看到且不允许出现的情况。

由此可以推出：

- A、货币持续贬值会导致资产全面下跌
- B、资金流失严重会出现货币贬值预期
- C、央行不会允许人民币继续贬值
- D、我国将重点着手干预资金外流

102、四位球迷在某球赛的晋级赛开始之前对几个队伍的赛况进行预测，他们比较关注其中的两支球队，分别作了如下预测：

方某说：如果甲队不能晋级，那么乙队也不能晋级。

白某说：不管甲队能不能晋级，乙队都不能晋级。

夏某说：乙队能晋级，但甲队不能晋级。

邓某说：我看这几支球队都不能晋级。

比赛结果证明，四位球迷中只有一位的预测是正确的。

根据上述情况，以下哪项一定为真？

- A、白某预测是正确的
- B、邓某预测是正确的
- C、如果甲队能够晋级，那么方某的预测是正确的
- D、如果甲队不能晋级，那么方某的预测是正确的

103、某研究团队让两批测试者分别进入睡眠实验室里睡上一夜。第一批被安排睡得很晚，从而减少总睡眠时间；第二批被安排睡得早，但在睡眠过程中多次被吵醒。第二晚过后，结果就已经显现：第二批测试者的积极情绪受到严重影响。他们的精力水平较低，同情心和友善度等积极情绪指数有所下滑。部分研究者据此认为，被吵醒导致了测试者无法得到足够的慢波睡眠，而慢波睡眠是恢复精力感的关键，但也有研究者对此项研究的可信度提出质疑。

以下哪项如果为真，最能**反驳**质疑者？

- A、第一批测试者积极情绪的指数下滑程度不太明显
- B、第二批测试者中大部分人长期以来情绪不够积极
- C、两批测试者的健康状况和心理素质原本就很接近
- D、两批测试者在参与睡眠实验前精力水平参差不齐

104、东亚人看起来更谦虚，但心理学研究表明，和接受其他文化熏陶的人相比，他们也一样充满骄傲和自信。某研究团队招募了40名志愿者参与研究，其中一半来自东亚国家，剩下的来自西方国家。他们向这些志愿者展示大量正面和负面的词语，并询问他们哪些形容词适合自己。结果，志愿者们无论有什么样的文化背景，他们都倾向于用更多正面的形容词来描述自己，认为一些较为负面的特征不适合自己。研究者认为，这表明参与测试的人无论具有何种文化背景，他们同样都有美化自己的动机。

以下哪项如果为真，最能削弱上述论证：

- A、东亚人习惯负面评价自己，而西方人往往对自己的能力言过其实
- B、当志愿者被要求用正面词汇形容自己时，他们的反应都是一样的
- C、东亚人谦逊只是一种文化惯例，他们有着和西方人一样的自尊心
- D、研究发现，无论来自何种文化背景，志愿者们的脑电波都很相似

105、我国在西南地区进行的页岩气勘探获得重大成果，估算天然气资源量达千亿立方米，这是我国首次在四川盆地以外的南方复杂构造区取得页岩气勘探的重大突破。有专家称该地有望成为新的工业气田，可以满足上千万居民的生活和工农业发展的用气需求，促进经济发展。

该专家观点成立的假设前提是：

- A、南方复杂的地质构造有利于天然气生成
- B、凡是勘探到的天然气都能顺利开采出来
- C、我国目前天然气产量无法满足实际需求
- D、天然气作为清洁能源是促进经济发展的重要动力

五、资料分析，所给出的图、表、文字或综合性资料均有若干个问题要你回答。你应根据资料提供的信息进行分析、比较、计算和判断处理。

(一)

根据以下资料，回答106~110题。

2017年第一季度，某省农林牧渔业增加值361.78亿元，比上年同期增长5.9%，高于上年同期0.2个百分点。具体情况如下：

该省种植业增加值119.21亿元，比上年同期增长8.2%。其中蔬菜种植面积358.80万亩，比上年同期增加18.23万亩，蔬菜产量471.42万吨，增长7.5%；茶叶种植面积679.53万亩，比上年同期增加19.79万亩，茶叶产量2.30万吨，增长19.4%。

该省林业增加值34.84亿元，比上年同期增长8.3%。

该省畜牧业增加值176.64亿元，比上年同期增长4.2%，增速比上年同期加快2.1个百分点。其中生猪存栏增速由上年同期的下降9.8%转为增长3.1%，出栏增速由上年同期的下降3.2%转为增长3.3%；猪牛羊禽肉产量67.80万吨，比上年同期增长3.1%；禽蛋产量5.33万吨，增长1.0%；牛奶产量1.40万吨，增长6.1%。

该省渔业增加值9.22亿元，比上年同期增长4.5%。全省水产品产量7.68万吨，比上年同期增长4.7%，其中，养殖水产品产量7.3万吨，增长4.7%。

该省农林牧渔服务业增加值21.87亿元，比上年同期增长3.8%。

106、2015年第一季度，该省农林牧渔业增加值与下列哪一项最为接近？

- A、320亿元
- B、340亿元
- C、360亿元
- D、380亿元

107、2016年第一季度，该省平均每亩蔬菜种植地产出蔬菜多少吨？

- A、1.26
- B、1.29
- C、1.31
- D、1.35

108、2017年第一季度，该省生猪出栏增速比上年同期：

- A、加快12.9%
- B、加快6.7%
- C、加快6.5%
- D、加快0.1%

109、2017年第一季度，该省占农林牧渔业增加值比重超过三成的包括：

- A、种植业、渔业
- B、林业、畜牧业
- C、种植业、畜牧业
- D、农林牧渔服务业、林业

110、2017年第一季度，下列产业增加值同比增速从快到慢排序正确的是：

- A、畜牧业>渔业>种植业>林业 B、畜牧业>种植业>林业>渔业
C、渔业>林业>种植业>畜牧业 D、林业>种植业>渔业>畜牧业

(二)

根据以下资料，回答以下问题。

2017年5月我国银行业金融机构资产负债表情况(境内)

金融机构	总资产		总负债	
	金额(亿元)	同比增速(%)	金额(亿元)	同比增速(%)
银行业金融机构	2328934	12.5	2147187	12.6
其中：大型商业银行	839329	9.7	770521	9.8
股份制商业银行	431150	11.5	402922	11.5
城市商业银行	293063	19.7	273812	20
农村金融机构	314519	12.3	291766	12.1
其他类金融机构	450873	14.8	408166	14.8

注：

- 农村金融机构包括农村商业银行、农村合作银行、农村信用社和新型农村金融机构。
- 其他类金融机构包括政策性银行及国家开发银行、民营银行、外资银行、非银行金融机构、资产管理公司和邮政储蓄银行。
- 净资产额等于总资产额减去总负债额。

111、2017年5月，股份制商业银行总资产占银行业金融机构的比重与上年相比约：

- A、增加了2个百分点 B、减少了2个百分点 C、增加了0.2个百分点 D、减少了0.2个百分点

112、2016年5月，银行业金融机构总资产金额为多少万亿元？

- A、167 B、207 C、247 D、287

113、在2017年5月我国银行业金融机构资产负债表中，下列哪一项的总资产同比增长额最高？

- A、大型商业银行 B、股份制商业银行 C、城市商业银行 D、农村金融机构

114、2017年5月我国股份制商业银行净资产额约是城市商业银行净资产额的多少倍？

- A、0.5 B、0.8 C、1.5 D、1.8

115、根据所给资料，下列表述正确的是：

- A、城市商业银行净资产额>农村金融机构净资产额
B、城市商业银行净资产额>股份制商业银行净资产额
C、大型商业银行净资产额>股份制商业银行净资产额
D、农村金融机构净资产额>其他类金融机构净资产额

(三)

根据以下资料，回答以下问题。

2017年上半年，全国居民人均可支配收入12932元，比上年同期名义增长8.8%，其中，城镇居民人均可支配收入18332元，增长8.1%（以下如无特别说明，均为同比名义增长）；农村居民人均可支配收入6562元，增长8.5%。

按收入来源分，2017年上半年，全国居民人均工资性收入7435元，增长8.6%，占全国居民人均可支配收入

入的比重为 57.5%；人均经营净收入 2117 元，增长 5.9%，占全国居民人均可支配收入的比重为 16.4%；人均财产净收入 1056 元，增长 9.6%，占全国居民人均可支配收入的比重为 8.2%；人均转移净收入 2324 元，增长 11.9%，占全国居民人均可支配收入的比重为 18.0%。

2017年上半年全国居民消费支出主要数据

指标	水平（元）	增长率（%）
全国居民人均消费支出	8834	7.6
按消费类别分：		
食品烟酒	2678	5.6
衣着	668	2.4
居住	1919	8.3
生活用品及服务	535	6.5
交通通信	1211	9.6
教育文化娱乐	869	10
医疗保健	718	11.9
其他用品和服务	236	11.9

- 116、2016 年上半年，城镇居民人均可支配收入约为多少万元？
A、1.4 B、1.7 C、2.1 D、2.3
- 117、2017 年上半年，人均财产净收入比上年约增加多少元？
A、92 B、102 C、112 D、122
- 118、2016 年上半年，全国居民人均工资性收入占全国居民人均可支配收入的比重约为：
A、53.6% B、57.6% C、60.6% D、63.6%
- 119、2017 年上半年，全国居民消费支出主要数据按消费类别分，其指标的增长率超过全国居民人均消费支出水平增长率的有几个？
A、4 B、5 C、6 D、7
- 120、关于 2017 年上半年全国居民收入和消费支出主要数据情况，下列说法正确的是：
A、生活用品及服务消费支出水平不足交通通信消费支出水平的二分之一
B、城镇居民人均可支配收入超过农村居民人均可支配收入的 3 倍
C、人均财产净收入同比增长率低于人均经营净收入同比增长率
D、居住消费支出同比增长率高于医疗保健消费支出同比增长率

微信扫一扫二维码，关注“公务员考试挺简单”微信公众号，可获取更多公考经验。分享公考经验，还可获得现金奖励哈

手淘扫描淘宝店铺，可以购买省考、国考历年真题哦



微信公众号



淘宝店铺