

# 2006 年上海市公务员录用考试《行政职业能力测验》试卷

## 第一部分 数理能力

(共 20 题, 参考时限 20 分钟)

本部分包括三种类型的题目。

**一、数字推理 (1~5 题):** 每道试题给出一组数字, 其中缺少一项, 要求仔细观察给出数字的排列规律, 然后在 4 个选项中选择出最符合题意的正确答案, 使之符合该组数字的排列规律。

请开始答题:

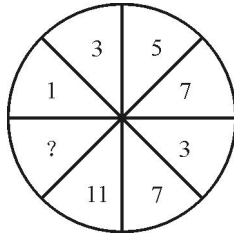
1. 6, 7, 9, 13, 21, ( )。

- A. 35      B. 36      C. 37      D. 38

2. 1, 2, 5, 10, 13, 26, 29, ( )。

- A. 36      B. 45      C. 52      D. 58

3.



- A. 15      B. 17      C. 12      D. 13

4. 0, 1, 1, 2, 3, ( ), 22。

- A. 5      B. 7      C. 9      D. 11

5.

5	?
63	35

3	8
56	21

- A. 7      B. 9      C. 11      D. 13

**二、数学运算 (6~10 题):** 每道试题中给出表述数字关系的一段文字材料, 要求考生从 4 个选项中最符合题意的正确答案。

请开始答题:

6. 企业某种产品去年实际成本为 450 元, 本年计划降低 4%, 实际降低了 5%, 则成本降低计划超额完成程度为 ( )。

- A. 95%      B. 98.9%      C. 1%      D. 1.04%

7. 某机关单位召开一次会议预期 12 天, 后因会期缩短 4 天, 因此原预算费用节约了一部分, 其中生活费一项节约了 4000 元, 比原计划少用 40%, 生活费预算占总预算的  $\frac{4}{9}$ , 则总预算为 ( ) 元。

- A. 45000      B. 22500      C. 27500      D. 35000

8. 某车间三个班组生产同一种产品。某月劳动生产率分别为 2、3、4 (件 / 工日), 产量分别为 400、500、600 件, 则该车间平均劳动生产率为 ( ) 件 / 工日。

- A. 3      B. 3.13      C. 2.90      D. 2.88

**根据给出的材料回答 9~10 题:**

由于某市卫生规划 5 年内每 2 张病床至少配备 1 名注册护士, 而目前水平是 1 张床位配 0.36 名护士, 因此届时缺口数还将达到 2.13 万名, 目前该市护士群体已从 10 年前的 3.45 万人, 增加到 3.87 万人。

9. 按目前某市的护士数与床位数之比, 是规划数的 ( )。

- A. 50%      B. 138.9%      C. 72%      D. 172%

10. 10 年来, 该市护士群体增加了 ( )。

- A. 89.15%      B. 112.17%      C. 12.17%      D. 10.85%

**三、资料分析 (11~20 题):** 每道试题给出一段资料, 然后提出几个问题, 考生需要根据资料所提供的信息, 仔细地进行分析、比较、计算, 从 4 个选项中找到符合题意的正确答案。

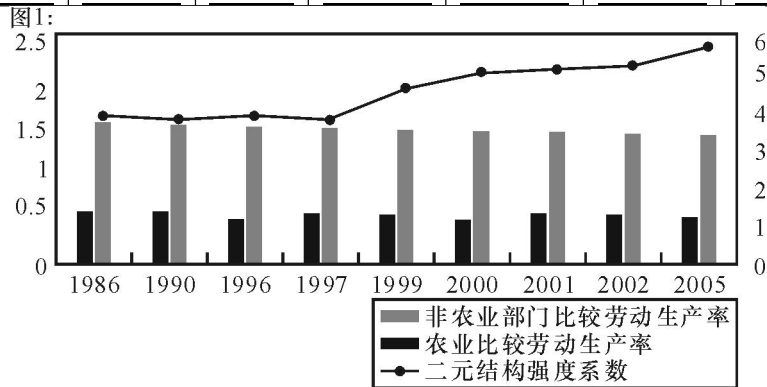
请开始答题:

(一) 根据下列给出的表 1 和图 1 回答 11~14 题:

表 1: 近年来我国农业贸易的进出口情况

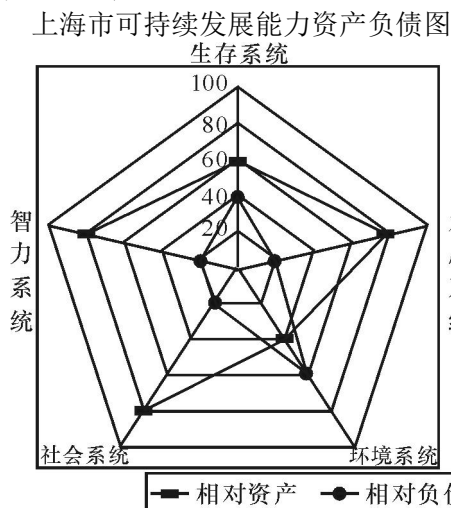
年份	1998	1999	2000	2001	2002	2003	2004
----	------	------	------	------	------	------	------

出口额 (亿美元) N	132.56	128.95	150.36	159.75	180.19	212.40	233.90
进口额 (亿美元) M	80.93	81.20	103.05	118.14	124.15	188.90	280.30
贸易差额	51.63	47.75	47.31	41.61	56.04	23.50	-46.40



11. 2003 年我国农业贸易的竞争优势指数  $(N-M) / (N+M)$  为 ( )。
- A. 0.056      B. 0.057      C. 0.058      D. 0.059
12. 自 ( ) 年起, 我国二元结构强度系数明显增大。
- A. 1990      B. 1997      C. 1999      D. 2000
13. 下列说法不正确的是 ( )。
- A. 总体来看, 我国的农业比较劳动生产率很低, 且存在下降趋势
- B. 我国非农业部门劳动生产率比农业部门高很多, 且呈现明显下降趋势
- C. 二元结构强度系数自 1985 年以来呈现出上升趋势, 2003 年达到改革开放以来之最
- D. 我国的二元经济结构特征, 造成了城市与乡村的对立, 工业与农业的对立, 不利于国民经济健康、协调发展
14. 下列说法不正确的是 ( )。
- A. 随着我国的逐步开放, 农业国际竞争力已呈现逐步下降趋势
- B. 用贸易竞争力指数反映的我国农业国际竞争力很弱, 且呈逐年下降趋势, 最近两年表现尤为明显
- C. 从我国农业贸易整体竞争力指数可以看出, 入世带来的冲击越来越明显
- D. 图表中的数据为我们实行农业保护政策, 加强农业扶持力度提供了充分的现实依据

(二) 根据下列给出的图 2 回答 15~17 题:



15. 上海市可持续发展能力五大支持系统中, 相对净资产最少的是 ( )。
- A. 生存系统      B. 发展系统      C. 环境系统      D. 社会系统
16. 五大支持系统中, 相对总资产和相对总负债分别约为 ( )。
- A. 70%, -30%      B. 75%, -35%      C. 65%, -30%      D. 65%, -35%
17. 下列说法不正确的是 ( )。
- A. 可持续发展总能力是建立在五大支持系统共同作用之上的
- B. 上海市可持续发展能力的比较优势是发展系统、社会系统和智力系统
- C. 上海市可持续发展能力的比较劣势是环境系统和生存系统
- D. 五大支持系统中, 相对总净资产约为 50%

(三) 根据下列表述回答 18~20 题:

以下是数字前瞻“十一五”的一些数据:

人均 GDP 翻一番作为全面建设小康社会的标志，到“十一五”期末，我国人均 GDP 水平将由 2000 年 850 美元左右翻一番，达到 1600~1700 美元，与之相应，“十一五”期间 GDP 年增速约为 7.4%。在此期间，人口增长率不应超过年均 0.7% 的水平。这样，到 2020 年，我国基本可实现人均 GDP 3000 美元，开始进入中等收入国家。

基尼系数维持当前水平用基尼系数来衡量我国社会收入分配差距，1990 年，中国的基尼系数在 0.34 左右，目前已经逼近 0.45，占总人口 20% 的最贫困人口在收入或消费中所占的份额只有 4.7%，占总人口 20% 的最富裕人口占收入或消费的份额则高达 50%。遏制收入分配产生过大差距是建设和谐社会的重要条件。预计到 2010 年，通过努力，我国有望维持 0.45 这个当前水平。

恩格尔系数 30%~40% 恩格尔系数，即食品消费支出在总消费支出中所占的比重，系数越低，代表居民生活水平越高。按照一年下降 1 个百分点这个得到比较广泛认可的速度，到 2010 年，我国城乡恩格尔系数有望分别下降到 30% 到 40%，初步进入 20%~40% 的富裕状态，2020 年将分别下降到 25% 和 35%，人民群众将从国家经济社会发展中得到更大实惠。

18. 如果将最贫困人口在收入或消费中所占的份额视为 1，则最富裕人口占收入或消费的份额为（ ）。  
A. 10.6      B. 11.8      C. 9.4      D. 9.6
19. 按照 GDP 年增速约 7.4% 的速度，人口增长率年均 0.7% 的水平，2009 年我国人均 GDP 水平将达到（ ）。  
A. 1480~1583 美元      B. 1490~1583 美元      C. 1500~1594 美元      D. 1510~1594 美元
20. 以下说法不正确的是（ ）。
- A. “十一五”期间，如果人口增长率超过年均 0.7% 的水平，2010 年我国人均 GDP 水平必将达到 1600~1700 美元
- B. 改革开放以来，我国社会收入分配差距有所扩大，这有可能影响到和谐社会的建设
- C. “十一五”规划将体现科学发展，以人为本的理念
- D. 与发达国家相比，我国恩格尔系数仍偏高，但随着社会经济的发展，居民生活水平将会有所提高

## 第二部分 言语理解与表达能力 (共 25 题，参考时限 25 分钟)

此部分包括三种类型题目。

**一、选词填空 (21~25 题)：根据题意，从所给的词语中选出最恰当的词语填入空格内，从而使句子的意思表达得最准确。**

请开始答题：

21. 良好的口语交际能力是现代公民的重要（ ），口语交际是在一定的语言（ ）中相互传递信息、分享信息的过程，是人与人之间交流和（ ）的基本手段。  
A. 品质、情形、联系      B. 修养、背景、联系  
C. 素质、环境、连通      D. 素养、情境、沟通
22. 蚂蚁，一种令人生厌的“小生命”，如今以它为原料制成的保健品却（ ）地突进了市民的保健领域。  
A. 堂而皇之      B. 一鸣惊人      C. 神气十足      D. 名正言顺
23. (1) ×× 市人民政府（ ）了《×× 市未成年人保护条例》。  
(2) 期满，合同自行（ ）。  
(3) 谁也不能以任何理由（ ）赡养父母的义务。  
A. 制定，中止，推托      B. 制定，终止，推脱  
C. 制订，终止，推托      D. 制订，中止，推脱
24. “六部委”联合开展环保专项（ ）行动，要求建立各级政府负责的环保工作责任制，对工作不力的部门要通报批评，责令限期（ ）。  
A. 整理，整顿      B. 整治，整改      C. 整理，整改      D. 整治，整理
25. 下列各句中加点的成语使用恰当的一句是（ ）。  
A. 他们疼爱自己的孩子，孩子也喜欢他们。一家三口相濡以沫，美满幸福  
B. 苏州山水果然名不虚传，秀色可餐，称之“人间天堂”实不为过  
C. 咱们跟咱们的祖先相辅相成  
D. 人家爱听吉祥言语，我们可不是信口雌黄的媒婆，说不来

**二、语句表达 (26~30 题)：从词语运用、语法结构等方面对给出的语句作出判断。**

请开始答题：

26. 下列句子句意明确、没有语病的一句是（ ）。
- A. 法国国家健康研究所以及法国变态反应学联合会日前的一份调查显示，用美沙酮和盐酸丁丙诺啡等毒品替代物进行的戒毒治疗可以取得很好效果
- B. 近期，北京、河南等地幼儿园连续发生两起重大意外伤害事故，幼儿伤亡惨重，广泛引起社会各界的关注

C. 在减少婴儿死亡率和提高孕妇健康方面, 东南亚、北非和加勒比地区取得进步, 但西亚和非洲撒哈拉以南地区几乎有了进展

D. 驻伊拉克美军作战部队官兵阵亡数达到 999 人, 其中当日一天就有 7 名美军在巴格达及其附近地区与当地的人武装冲突中被打死

27. 下列几句话中有语病的一句是 ( )。

A. 长江上游含沙量猛增、水质污染严重的问题, 至今没有引起有关地方党委政府重视

B. 令郎不愧是丹青世家子弟, 他画的马惟妙惟肖, 栩栩如生

C. 文章里的中心思想确定后, 还要根据中心思想的需要, 认真地组织、选择材料

D. 在众星簇拥下, 被草帽状美丽光环围绕的土星和光芒四射的月亮彼此依偎, 常常会引起人们的无限遐想

28. 下列四句话中, 容易引起歧义的是 ( )。

A. 这是一门学生愿意学习的课程

B. 我已经和你父亲说定, 周末我们一起走

C. 那是一个大家乐于接受的方案

D. 老师告诉一位同学叫小明到办公室

29. 下列各句中, 语意明确, 没有语病的一句是 ( )。

A. 松下公司这个新产品 14 毫米的厚度给人的视觉感受, 并不像索尼公司的产品那样, 有一种比实际厚度稍薄的错觉

B. 世界抗击艾滋病会议的代表中有中国中央电视台台长和东方电视台台长, 香港凤凰卫视总裁也应邀请列席了会议

C. 这一桩发生在普通家庭中的杀人悲剧在亲戚当中也有着不解和议论, 要说小莉的妈妈不爱她家里人谁也不相信

D. 美国政府表示仍然支持强势美元, 但这到底只是嘴上说说还是要采取果断措施, 经济学家对此的看法是否定的

30. “我最爱阅读外国文学作品, 英国的、法国的、古典的, 我都爱读。”

上述陈述犯的错误是 ( )。

A. 划分外国文学作品的标准混乱, 前按国别, 后按时代

B. 外国文学作品, 没有分究竟是诗歌、小说还是戏剧等

C. 没有说是外文原版还是翻译本

D. 没有说明最喜好什么

**三、阅读理解 (31~45 题): 下面给出一段语段和短文材料, 要求考生通过仔细阅读分析, 找出与所给语段或材料内容最相符合的选项。**

31. 环境污染已经成为全世界普遍关注的问题。科学家和环境保护组织不断发出警告, 如果我们不从现在起就重视环境保护, 那么人类总有一天将无法在地球上生存。

以下解释最符合以上警告含义的是 ( )。

A. 如果从后天而不是从明天起就重视环境保护, 人类的厄运就要早一天到来

B. 如果我们从现在起开始重视环境保护, 人类就可以在地球上永久地生存下去

C. 对污染问题的严重性要有高度的认识, 并且要尽快采取行动做好环保工作

D. 只要我们从现在开始重视环境保护, 人类就不至于在地球上无法生存下去

32. 尽管幼儿园老师反复叮咛, 我的孩子总难以养成临睡前刷牙的习惯。我做出样子, 希望他能模仿; 我给他讲道理, 临睡前刷牙甚至比清晨更重要, 但总难以奏效。后来, 我在他临睡前给他讲一个故事, 并要求他听故事前去刷牙。几周后, 每天晚上临睡前, 只要我一拿起故事书, 他就立即去刷牙。

以下对上述家长意见概括最恰当的是 ( )。

A. 喜欢听故事是幼儿的天性, 家长应学会这一点对孩子进行有益的诱导

B. 家长在教育幼儿方面比幼儿园老师更有效, 是因为他们对孩子更具爱心

C. 榜样比说教对幼儿更有效

D. 孩子的习惯是靠重复某个行为养成的, 即使他们并不理解这一行为的意义

33. 先天的遗传因素和后天的环境影响对人的发展所起的作用到底哪个重要? 双胞胎的研究对于回答这一问题有重要的作用。唯环境影响决定论者预言, 如果把一对双胞胎婴儿完全分开抚养, 同时把一对不相关的婴儿放在一起抚养, 那么, 待他们长大成人后, 在性格等特征上, 前两者之间决不会比后两者之间有更多的类似。实际的统计数据并不支持这种极端的观点, 但也不支持另一种极端观点, 即唯遗传因素决定论。

从以上论述最能推出的结论是 ( )。

A. 为了确定上述两种极端观点哪一个正确, 还需要进一步的研究工作

B. 虽然不能说环境影响对于人的发展起唯一决定作用, 但实际上起最重要作用

C. 环境影响和遗传因素对人的发展都起着重要的作用

D. 双胞胎研究是不能令人满意的, 因为它得出了自相矛盾的结论

34. 几年来, 我国许多餐厅使用一次性筷子, 这种现象受到越来越多的批评。资源环境工作者呼吁: 为了保护森林资源, 让山变绿、水变清, 是采取坚决措施, 禁用一次性筷子的时候了。

除了以下 ( ) 说法外, 其他说法都从不同方面对批评者的观点提供了支持。

A. 我国森林资源十分匮乏, 把宝贵的木材用来做一次筷子, 实在是莫大的浪费

- B. 1998 年的特大水灾不但与天气有关，也与多年的滥砍滥伐有很大关系  
C. 森林和各种绿色植被对涵养水分、调节气候、防止水土流失具有不可替代的作用  
D. 保护森林不能只保不用。合理使用，适量采伐，发展林区经济，还能促进保护

35. 统计数据表明，相对于各种交通工具，包括人力驱动的自行车，飞机事故的发生率最低，因而安全系数最高，即使了解这一点，很多乘客登机后仍有不同程度的恐惧感，而这种恐惧感在他们骑自行车时是不会有的。

最合理地解释上述现象的一句话是（ ）。

- A. 在避免空难的发生方面，乘客几乎是无能为力的；而自行车交通事故的肇事者大都是骑车人自己  
B. 空难的后果要比自行车交通事故大到无法比拟  
C. 近年来空难事故有所上升对人们形成了很大的心理压力  
D. 有些乘客有恐惧症

**根据材料 1 回答 36~40 题：**

材料 1：申城首家市民体质监测指导中心今年来对近 500 名体质监测者体质监测数据比对发现，约 80% 被监测者的体质年龄大于实际生理年龄。另一项研究表明，目前中国高收入人群的超速老化趋势已经超过欧美国家水平。

据上海社科院亚健康研究中心的一份调查显示，申城健康人群占 16%，非健康人群占 14%，亚健康人群占 70%（其中轻度患者约占 40%，慢性患者约占 30%），而亚健康人群中又以男性为众，知识分子和企业管理者的比例最高，达七成左右。据该中心主任介绍，目前许多中老年疾病患病人群普遍年轻化，高血压、糖尿病、脂肪肝、胆囊结石的发病率提前了 10 年，在亚健康检查中，常发现 20 多岁的年轻人就有脂肪肝，30 多岁的人尿酸增高，40 多岁的人患慢性前列腺炎。在 30 至 40 岁的男性中，30% 至 45% 存在脂肪高、血脂升高的现象。一般来说，男性的亚健康症状倾向比女性多，在 20 至 30 岁的男性中，超过 10% 有脂肪肝、血脂高的病状。年轻女性中，乳房小叶增生、子宫肌瘤是常见的亚健康症状。在白领中常见的腰酸背痛、脊椎病，与在空调环境里长期保持一个姿势有关。

值得注意的是：调查发现，在不同职业的人群中，亚健康发生率较高的依次是干部 19.34%、大学生 10.95%、中小学和幼儿教育者 9.33%、中学生 9.02%、工人 8.98%、军人 7.60%、工程技术人员 7.14%、企业经营人员 5.36%、医生 3.60%。专家建议，如果有亚健康症状，而且通过自我调节无法减轻时，可去医院检查并到专门的亚健康治疗机构去治疗。目前较常用的体质亚健康检测方式是“末梢”检查，即从手指上提取一滴血，制成涂片，在超高倍显微镜下进行观察。通过这种检查可以初步看出病人的细胞活力状态，比如，细胞是否缺损、胆固醇斑块多不多、血脂高不高等，为诊断和治疗提供重要依据。

专家推荐以下科学健身方法：一是有氧运动，如跑步、打球、打拳、骑车、爬山等；二是腹式呼吸，全身放松后深呼吸，鼓足腹部，憋一会儿再慢慢呼出；三是做壮健操，使人体组织器官充满活力，推迟衰老进程；四是点穴按摩，通过自我点穴疗法和按摩，对体表适当刺激，激发机体抗病潜能。

36. 据上海社科病亚健康研究中心调查表明，上海市民中亚健康的轻度患者和慢性患者比例分别为（ ）。

- A. 28%，21%      B. 40%，30%      C. 40%，14%      D. 16%，14%

37. 下列不属于中老年疾病的是（ ）。

- A. 高血压      B. 胆囊结石      C. 脂肪肝      D. 脊椎病

38. 对“末梢”检查表述不符合文意的一项是（ ）。

- A. “末梢”检查是一种较常用的体质亚健康检测方式  
B. “末梢”检查可以完全测出病人的细胞活力状态  
C. “末梢”检查通过手指采血，制成涂片，并借助仪器观察而得  
D. “末梢”检查结果为诊断和治疗提供了重要依据

39. 下列表述符合文意的是（ ）。

- A. 亚健康人群中以男性为众，约七成男性处于亚健康症状  
B. 市民体质监测表明，绝大部分市民体质年龄大于实际生理年龄  
C. 干部亚健康发生率高于学生亚健康发生率  
D. 在 20~30 岁的年轻人中，超过 10% 的人有脂肪肝、脂肪高的症状

40. 下列表述中不符合文意的是（ ）。

- A. 申城市民健康状况不容乐观      B. 学生是亚健康的高发人群  
C. 亚健康病状完全可以通过自我调节减轻      D. 科学健身方法可以提高机体的抗病能力

**根据材料 2 回答 41~45 题：**

材料 2：当代环境伦理学是一个富有开放性和包容性的新学科，形成了多种理论模式和学说，这些模式、学说既包括现代人类中心主义即浅环境论，也包括非人类中心主义即深环境论，还有可持续发展环境伦理观。

可持续发展环境伦理观在主张人与自然和谐统一的整体价值观方面与深环境论中的环境整体主义是一致的，不同之处在于可持续发展伦理观在强调人与自然和谐统一的基础上，更承认人类对自然的保护作用和道德代理人的责任，以及一定社会中人类行为的环境道德规范。可持续发展伦理观对现代人类中心主义和非人类中心主义采取了一种整合的态度。它吸取了生命中心论、生态中心论等非人类中心主义关于“生物/生态具有内在价值”的思想，承认自然不仅具有工具价值，也具有内在价值，但又不把内在价值仅归于自然自身，而提高为人

与自然和谐统一的整体性质。这样，由于人类和自然是一个和谐统一的整体，那么，不仅是人类，还有自然，都应该得到道德关怀。另一方面，可持续发展环境伦理观在人与自然和谐统一的整体价值的基础上，承认现代人类中心主义关于人类所特有的“能动作用”，承认人类在这个统一整体中占有的道德代理人和环境管理者的地位，这样就避免了非人类中心主义在实践中所带来的困难，使之更具有适用性。

在共同承认自然的固有价值 and 人类的实践能动作用的基础上所形成的人与自然的整体价值观是可持续发展环境伦理观的理论基础。现代生态学和系统科学研究表明，自然界（包括人类社会在内）是一个有机整体，生命系统表现为网络格局。自然界的组成部分，从物种层次、生态系统层次到生物图层次都是相互联系、相互作用和相互依赖的。任何生物都有内在的目的性，都以其各自的方式在整体生态关系中实现其自然的善。因此，任何生物和自然都拥有其自身的固有价值（固有价值是一实体为获得自身的善而独立于人类评价者目的的价值）。生物和自然所拥有的固有价值应当使它们享有道德地位并获得道德关怀，成为道德顾客。可持续发展伦理观把道德共同体从人扩大到“人——自然”系统，把道德对象的范围从人类扩大到生物和自然。与此同时，由于只有人类才具有实践的能动性，才具有自觉的道德意识，才能进行道德选择和做出道德决定，所以只有人是道德的主体。作为道德代理人的人类，应当珍惜和爱护生物和自然，承认它们在一种自然状态中持续存在的价值。因此，人类具有自觉维护生物和自然的责任。

41. 以下对“深环境论”的解说，正确的一项是（ ）。

A. 深环境论认为自然具有内在价值，这种价值归于自然本身，它强调人类的“道德代理人”的责任  
B. 深环境论认为自然具有内在价值，这种价值来自于人与自然和谐统一的整体性质，自然与人同样处于道德主体地位

C. 深环境论认为自然具有内在价值，这种价值应归于自然本身，人与自然是一个和谐的整体

D. 深环境论认为自然具有工具价值，这种价值来自于人与自然和谐统一的整体性质，人类是环境的管理者

42. 下列说法不属于可持续发展环境伦理观内容的一项是（ ）。

A. 强调人与自然和谐统一整体价值观，承认自然既有工具价值，也有内在价值

B. 认为自然的工具价值和内在价值都应该归于自然自身

C. 生物和自然应当享有道德地位并获得道德关怀，成为道德顾客，人类应珍惜、爱护生物和自然

D. 承认人类所特有的“能动作用”，人类是道德主体，是自然和生物的道德代理人，是环境管理者

43. 对“人类应承担起自然的道德代理人的责任”的意义的解说，最全面的一项是（ ）。

A. 自然拥有自身固有的价值，是道德的顾客，应该得到人类的道德关怀

B. 自然是道德顾客，享有道德地位和道德关怀，人类应具有自觉的道德意识

C. 人类应当珍惜、爱护自然，承认自然作为一种实体而拥有的自身在自然状态中持续存在的价值

D. 自然拥有自身的固有价值，应享有道德地位，获得道德关怀，只有人类才是道德的主体，有自觉维护自然的责任

44. 下列说法不符合文意的是（ ）。

A. 可持续发展环境伦理观分别汲取了浅环境论中的生物内在价值和深环境论中的人类能动作用思想，将人和自然统一成一个有机的整体

B. 人与自然的整体价值观承认自然的固有价值 and 人类的实践能动作用，成为了可持续发展环境伦理观的理论基础

C. 在承认生物和自然所拥有的固有价值的同时，应看到只有人类才具有实践的能动性和自觉的道德意识，承担着自觉维护生物和自然的责任

D. 可持续发展环境伦理观主张辩证地、整体地处理人与自然的关系，突出人的主观能动性，对实践具有重要的指导意义

45. 根据原文提供的信息，以下推断不正确的一项是（ ）。

A. 深环境论强调生物、生态具有内在价值，它与人类合理开发利用自然之间构成矛盾

B. 浅环境论主张只有人类才有“能动作用”，因此人类是万物的主宰，可以随心所欲地对待自然和生物

C. 可持续发展环境伦理观整合了浅环境论和深环境论的思想，因而更合理，更先进，也更实用

D. 浅环境论和深环境论在研究人类与环境问题时所持的观点都有可取之处

第二部分结束，请继续做第三部分！

### 第三部分 判断推理能力 (共 35 题，参考时限 35 分钟)

本部分包括顺序推理、图形推理、定义判断、逻辑推理四种类型的试题。

一、顺序推理（第 46~55 题）：每道题给出五个事件，每个事件是以简短语句表述的，接着给出表示事件的四种假定发生顺序的数字序列，请你选择其中最合乎逻辑的一种排列顺序。

请开始答题：

46. (1) 申请专利 (2) 研制出新产品

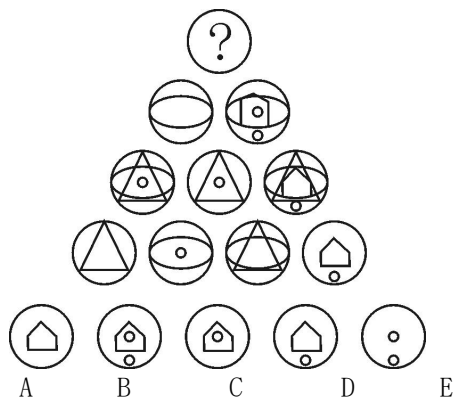
(3) 起诉索赔 (4) 发现仿制品

- (5) 败诉  
 A. 3—5—2—4—1      B. 1—2—4—3—5      C. 2—1—3—4—5      D. 2—4—3—5—1
47. (1) 考古挖掘      (2) 绘制壁画  
 (3) 建造陵墓      (4) 拼接图案  
 (5) 盗墓取宝  
 A. 3—5—1—2—4      B. 3—2—5—1—4      C. 2—3—4—5—1      D. 2—3—5—1—4
48. (1) 救治无效, 家属告状 (2) 身患重病, 借款购药  
 (3) 企业胜诉, 报社致歉 (4) 药品鉴定, 真伪不同  
 (5) 记者撰文, 药厂蒙冤  
 A. 2—4—1—5—3      B. 5—2—4—1—3      C. 2—1—5—4—3      D. 5—4—2—1—3
49. (1) 绿叶葱葱, 森林茂密 (2) 厂房林立, 马达轰鸣  
 (3) 钻机飞转, 原油滚滚 (4) 燃气发电, 远程送电  
 (5) 阳光明媚, 百花齐放  
 A. 3—4—5—1—2      B. 5—4—1—2—3      C. 1—2—3—4—5      D. 5—1—3—4—2
50. (1) 融入异族自谋出路 (2) 一支残部向西突围  
 (3) 跨过界河向北征战 (4) 战火熄灭回国通商  
 (5) 青年男子被征入伍  
 A. 3—5—2—1—4      B. 3—2—1—4—5      C. 5—2—3—4—1      D. 5—3—2—1—4
51. (1) 大量有机物积聚 (2) 形成石油  
 (3) 复杂的化学变化 (4) 剧烈地质变化  
 (5) 古浮游生物残骸沉积海底  
 A. 1—5—3—4—2      B. 5—4—1—2—3      C. 3—1—2—5—4      D. 5—1—4—3—2
52. (1) 诸葛亮显示出卓越的军事才华 (2) 三顾茅庐  
 (3) 刘备拜诸葛亮为军师 (4) 赤壁大战大败曹军  
 (5) 提出三分天下战略  
 A. 1—4—5—2—3      B. 5—4—3—2—1      C. 2—5—3—4—1      D. 1—2—3—4—5
53. (1) 商品经济出现 (2) 资本主义生产方式产生  
 (3) 生产力发展 (4) 资本原始积累  
 (5) 社会分工扩大  
 A. 1—5—3—4—2      B. 3—4—2—5—1      C. 3—5—1—4—2      D. 1—2—3—4—5
54. (1) 生命单体 (2) 原始水生物  
 (3) 生物大分子 (4) 简单有机物  
 (5) 地球生物圈  
 A. 4—1—2—3—5      B. 3—2—4—5—1      C. 4—3—1—2—5      D. 3—4—2—1—5
55. (1) 工人失业增多 (2) 自由竞争  
 (3) 劳动生产率提高 (4) 贫富差距加大  
 (5) 采用先进生产技术  
 A. 5—3—2—4—1      B. 2—5—3—1—4      C. 5—2—3—4—1      D. 1—2—5—3—4

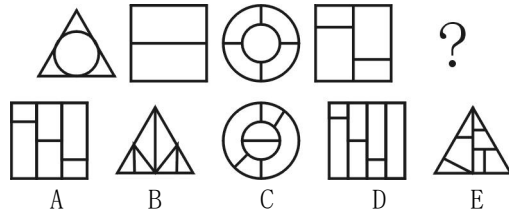
二、图形推理 (第 56~65 题):

(一) 每一道题给出两套图形, 左套中的图形在构成上或变化上, 具有某种特点或遵循某种规则。要求从给出的选项中, 选择一个取代左套中的“?”, 使右套图形也具有与左套图形相同或相似的构成特点或变化规则。

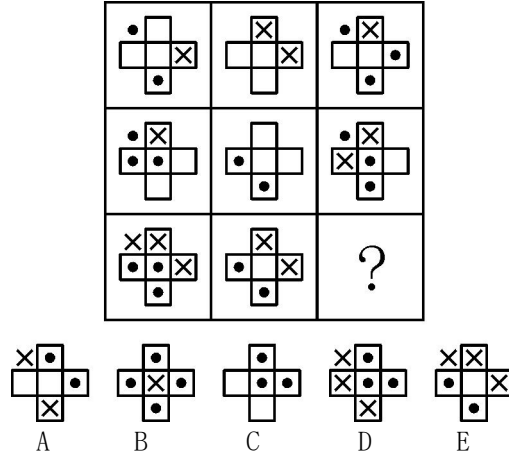
56.



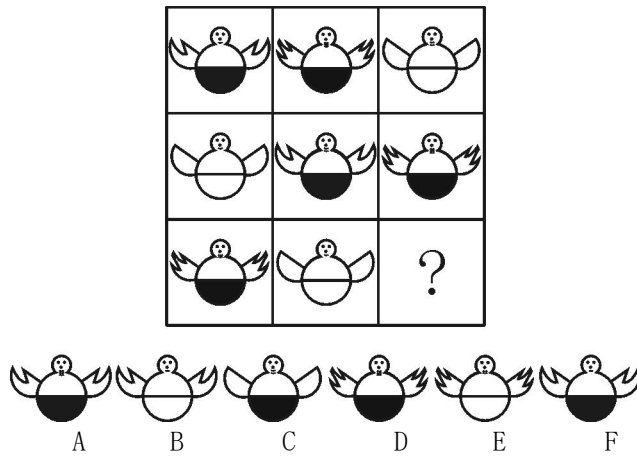
57.




58.



59.

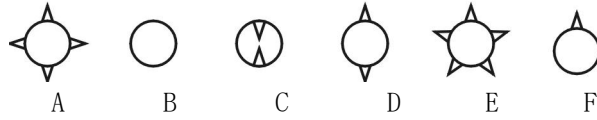



60.

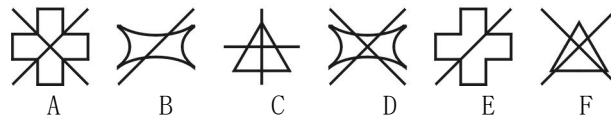



61.



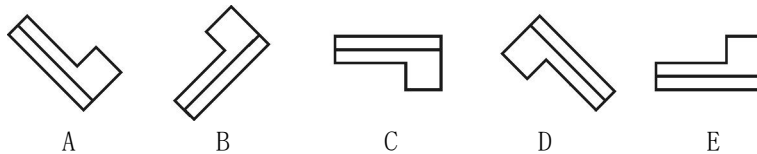


62.

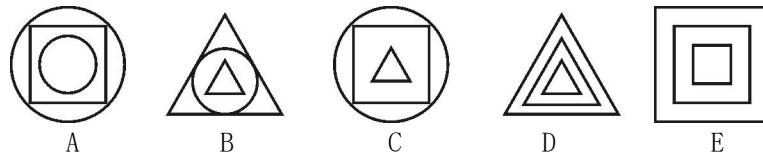


(二) 请找出以下各组图形中与众不同的一个。

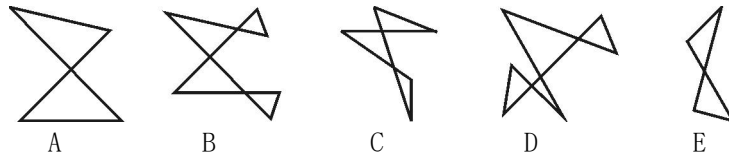
63.



64.



65.



三、定义判断：共 5 题。每道题先给出一个概念的定义，然后分别列出四种情况。要求你严格依据定义，从中选出一个最符合或最不符合定义的答案。注意：假设这个定义是正确的，不容置疑的。

请开始答题：

66. 起诉：是指公民、法人或其他组织认为自己的民事权益受到他人的侵犯或者与他人发生争议，以自己的名义，请求人民法院依法审理，确认民事权利义务关系，制裁对方的民事违法行为，保护自己的合法权益的一种诉讼令行为。

根据上述定义，下列情况属于起诉的是（ ）。

- A. 某人因家中被盗而报告公安机关
- B. 某人因不服判决而向高级法院递交文书

- C. 某企业因对方不履行合同而将其告上法庭
- D. 被告因发现原告侵犯自己的权利而在诉讼过程中反诉原告

67. 技术性听众：这类听众很努力地倾听别人的话，他们重视字义、事实和统计数字，但在感受、同情和真正理解方面却做得很不够。

下列属于技术性听众的是（ ）。

- A. 在开会时，低着头看报纸、眯着眼瞌睡的听众
- B. 每次听领导讲话总是记录很多笔记，但在执行政策时往往根据自己的意图，与领导意图不一致的听众
- C. 感叹“听君一席话，胜读十年书”的听众
- D. 只听一些易理解的内容，避开艰难话题的听众

68. 假想防卫：是指客观上不存在正在进行的不法侵害，而行为人主观上误认为正在发生不法侵害，而对想象的“侵害人”实施了正当防卫。

下列不属假想防卫的是（ ）。

- A. 某人隐约发现有人躲在窗下，以为是小偷来偷东西，用棍子将其打伤，结果发现小孩在捉迷藏
- B. 某乙在街上行走时发现前面一个正是公安局通缉的贪污犯，随即上前将其捉住，结果却发现认错人了
- C. 村民李某因连续被盗十分恼火，一天晚上，他发现有人悄悄走进其院子，顺手便打，却发现原来是儿子回来晚了
- D. 某甲深夜骑车回家，路边突然出现一人，他以为是来抢劫的，遂将该人暴打一顿，结果发现是想和自己开玩笑的中学同学

69. 知识管理：在组织中构建一个量化与质化的知识系统，让组织中的信息与知识通过获得、创造、分享、整合、记录、存取、更新或创新等过程，不断的回馈到知识系统内，形成永不间断的累积个人与组织的知识，并成为组织智能的循环，在企业组织中成为管理与应用的智能资本，有助于企业作出正确的决策，以应对市场的变迁。它是一个为了增强组织的绩效而创造、获取和使用知识的过程。

根据以上的定义，下列不是知识管理的是（ ）。

- A. Ernst & Yong 开发了电子文件系统，可将雇员的知识、信息迅速编码、储存，成为文件数据库，从而能被公司人员调用，成为公司标准化、高质量、快捷的咨询服务
- C. Dell：将员工的成果和顾客信息留在公司，即人与信息的分离
- B. Dow 公司的专利管理：分为现使用、将使用和不使用 3 种，节约专利税，获得专利使用费，一年约 2 亿美元
- D. Smrtall 公司根据去年的年报数据，在全公司内部实行裁员

70. 虚假的冲突是指冲突双方有分歧，但是这分歧并没有客观的基础。

下列属于虚假的冲突的是（ ）。

- A. 朋友召集聚会，但小王没有得到邀请，为此很不高兴，而朋友也因小王没有去参加聚会而不满，事实上，朋友打电话邀请了小王，但小王不在，就托同事转告，但同事却忘记了
- B. 小李觉得老师在期中考试时给打的分数太低，心理不满，但又不好直接去说，就在课堂上故意提出一些刁难的问题
- C. 小林和朋友一起看电视，小林很想看一眼电视连续剧，但朋友却想看足球比赛的转播
- D. 一位母亲发现屋内有烟味，以为是女儿的男朋友吸了烟，所以见时就警告他不要在家里吸烟，事实上，吸烟的是她女儿

四、逻辑判断：共 10 题。每题给出一段陈述，这段陈述被假设是正确的，不容置疑的，要求你根据这段陈述选择一个答案。注意，正确的答案应该与所给的陈述相符合。不需要任何附加说明即可以从陈述中直接推出。请开始答题：

71. 唯物辩证法告诉我们，要全面地看问题，不能以偏概全，要联系地看问题，防止孤立的观点，要发展地看问题，不能静止地看问题。

因此下列理解不正确的是（ ）。

- A. 看问题要一分为二，既要看到好的一面，又要看到不好的一面
- B. 不仅要看到事物本身，而且要看到它与周围事物的联系
- C. 人性都是一成不变的，对犯罪分子绝不能给他改过的机会
- D. 共产主义一定会取得胜利

72. 1995 年，中国选手在世界性的重大体育比赛中，共夺得 103 个世界冠军，创造了 57 项世界纪录，为历史之最；1995 年，中国升入大学的高中生只有 15% 的人体检合格。

因此，我们可以得出的正确结论是，在 1995 年，（ ）。

- A. 中国已成为世界体育强国
- B. 中国只有 15% 的高中生升入大学
- C. 中国的竞技体育达到了历史的最高峰
- D. 大学入学体检标准提高了

73. 获得奥斯卡大奖的影片《泰坦尼克号》在某州上映，某州独家经营权给了某州电影发行放映公司，公司各部门可忙坏了，宣传部投入了史无前例的 170 万元进行各种形式的宣传，业务部组织了 8 家大影院超前放映和加长档期，财务部具体实施与各影院的收入分账。最终几乎全市的老百姓都去看了这部片子，公司赚了 750

万元。而公司在总结此项工作时却批评了宣传部此次工作中的失误。

以下哪项如果为真，最能合理地解释上述情况？（ ）

- A. 公司宣传部没有事先跟其他部门沟通，宣传中缺少针对性
- B. 由于忽视奥斯卡获奖片自身具有免费宣传效应，公司宣传部的投入事实上过大
- C. 公司宣传部的投入力度不足，《泰坦尼克号》在某州上映时，该公司宣传投放了 300 万元
- D. 公司宣传部的宣传在创意和形式上没有新的突破

74. 市场上推出了一种新型的电脑键盘。新型键盘具有传统键盘所没有的“三最”特点，即最常用的键设计在最靠近最灵活手指的部位。新型键盘能大大提高键入速度，并减少错误率。因此，用新型键盘替换传统键盘能迅速地提高相关部门的工作效率。

以下哪项如果为真，最能削弱上述论证？（ ）

- A. 有的键盘使用者最灵活的手指和平常人不同
- B. 传统键盘中最常用的键并非设计在离最灵活手指最远的部位
- C. 越能高效率地使用传统键盘，短期内越不易熟练地使用新型键盘
- D. 新型键盘的价格高于传统键盘的价格

75. 发达国家中冠心病的发病率大约是发展中国家的三倍。有人认为，这主要归咎于发达国家中人们的高脂肪、高蛋白、高热量的食物摄入。相对来说，发展中国家较少有人具备生这种“富贵病”的条件。其实，这种看法很难成立。因为，目前发达国家人均寿命高于 70 岁，而发展中国家的人均寿命还不到 50 岁。

以下哪项如果成立，最能加强上述反驳？（ ）

- A. 统计资料显示，冠心病患者相对集中在中老年年龄段，即 45 岁以上
- B. 目前冠心病患者呈年轻化趋势
- C. 发展中国家人们的高脂肪、高蛋白、高热量食物的摄入量，无论是总量还是人均量，都在逐年增长
- D. 相对发展中国家来说，发达国家的人们具有较高的防治冠心病的常识和较好的医疗条件

76. 政府对基本商品征收的一种税是对出售的每一罐食用油征税两分钱。税务记录显示，尽管人均数量保持稳定且税法执行有力，食用油的税收额在税法生效的头两年中还是显著下降了。

以下最有助于解释食用油的税收额下降的一项是（ ）。

- A. 很少家庭在加税后开始生产他们自己的食用油
- B. 商人在税法实施后开始用比以前更大的罐子售油
- C. 在食用油税实行后两年，政府开始在许多其他基本商品上征税
- D. 食用油罐传统上被用做结婚礼物，税法实施后，用食用油做礼物增多了

77. 针对某种溃疡，传统疗法可在 6 个月内将 44% 的患者的溃疡完全治愈，针对这种溃疡的一种新疗法在 6 个月的试验中使治疗的 80% 的溃疡取得了明显的改善，61% 的溃疡得到了痊愈。由于该试验只治疗了那些病情比较严重的溃疡，因此这种新疗法显然在疗效方面比传统疗法更显著。

为更好地对比两种疗法的效果，还需要补充的证据是（ ）。

- A. 这两种疗法使用的方法有何不同
- B. 这两种疗法使用成本是否存在很大差别
- C. 在 6 个月中以传统疗法治疗的该种溃疡的患者中，有多大比例取得了明显改善
- D. 在参加 6 个月的新疗法试验的患者中，有多大比例的人对康复的比例不满意

78. 一个部落或种族在历史的发展中灭绝了，但它的文字会留下来。“亚里洛”就是这样一种文字。考古学家是在内陆发现这种文字的。经研究“亚里洛”中没有表示“海”的文字，但有表示“冬天”、“雪”和“狼”等的文字。因此，专家们推测，使用“亚里洛”文字的部落或种族在历史上生活在远离海洋的寒冷地带。

以下哪项如果为真，最能削弱上述专家的推测？（ ）

- A. “亚里洛”中没有表示“云”的文字
- B. “亚里洛”中没有表示“山”的文字
- C. “亚里洛”中有表示“热”的文字
- D. “亚里洛”中有表示“鱼”的文字

79. 自然界是人的生命发展和延续的环境。同时，作为人与自然物质交换过程中介的生产劳动，是人类社会关系形成和发展的起点；人们在加工自然的劳动中，才结成了人与人的关系——生产关系，并由此形成民族的、阶级的、家庭的等复杂的社会关系。

可见（ ）。

- A. 人在自然面前只有被动地适应，才能生存并发展
- B. 人与人、人与社会的关系，建立在人与自然的的关系的基础之上
- C. 人的社会关系具有其内在的发展规律，可以独立地存在和发展
- D. 人是自然界的一部分，因为人也是动物

80. A、B、C、D、E、F 6 人参加一场决赛，赛前有 3 个猜测：

甲：冠军不是 A，就是 B。乙：冠军是 C 或 D。丙：D、E、F 绝不可能是冠军。

赛后发现他们三个人的猜测只有一个是正确的，那么谁是冠军？（ ）

- A. A 是冠军
- B. B 是冠军
- C. C 是冠军
- D. D 是冠军

第三部分结束，请继续做第四部分！

**第四部分 常识应用能力**  
**(共 50 题, 参考时限 40 分钟)**

本部分内容包括时事政治、行政管理、公文基础、行政法律、文史常识和科技常识。包括基础知识题和综合分析题。主要考查考生的知识面及作为公务员必须具备的基本常识。

本题为不定项选择题。每小题 4 个选项中, 至少有 1 项符合题意, 请将正确选项全部选出, 并在答题卡上将相应的字母图黑。多选、少选或错选, 该题均不得分。

一、基础知识题 (81~118 题):

81. 《中共中央关于制定国民经济和社会发展第十一个五年规划的建议》明确提出了“十一五”规划的指导思想, 这就是 ( )。
- A. 要以邓小平理论和“三个代表”重要思想为指导, 全面贯彻落实科学发展观  
B. 坚持发展是硬道理, 坚持抓好发展这个党执政兴国的第一要务, 坚持以经济建设为中心, 坚持用发展和改革的办法解决前进中的问题  
C. 立足科学发展, 着力自主创新, 完善体制机制, 促进社会和谐, 全面提高我国的综合国力、国际竞争力和抗风险的能力, 奋力把中国特色社会主义事业推向前进  
D. 发展必须是科学发展, 坚持以人为本, 转变发展观念、创新发展模式、提高发展质量, 落实“五个统筹”, 把经济社会发展切实转入全面可持续发展的轨道
82. 中国共产党十六届五中全会强调, 实现“十一五”规划目标, 推进全面建设小康社会进程, 关键在于 ( )。
- A. 加强和改善党的领导  
B. 加强社会主义民主政治建设  
C. 加强社会主义精神文明建设  
D. 加强机构改革和转变政府职能
83. 我国现阶段非按劳分配的分配形式有 ( )。
- A. 个体劳动者的劳动收入  
B. 按资本取得的收入  
C. 资产收益  
D. 按劳动力价值取得的收入
84. 在社会主义市场经济条件下, 坚持为人民服务的价值取向, 关键是要 ( )。
- A. 发扬艰苦奋斗的精神  
B. 弘扬爱国主义精神  
C. 正确处理国家、集体、个人三者之间的利益关系  
D. 发扬顾全大局、诚信友爱、扶贫济困的精神
85. 我国“十一五”时期经济社会发展主要目标之一是: 资源利用效率显著提高, ( )。
- A. 单位国内生产总值能源消耗比“十五”期末降低 20%左右  
B. 单位国民生产总值能源消耗比“十五”期末降低 20%左右  
C. 生态环境恶化趋势基本遏制  
D. 耕地减少过多状况得到有效控制
86. 《中共中央关于制定国民经济和社会发展第十一个五年规划的建议》提出了“十一五”期间要坚持的原则包括: 必须保持经济平稳较快发展, 必须加快转变经济增长方式, 必须提高自主创新能力, ( )。
- A. 必须促进城乡区域协调发展  
B. 必须加强和谐社会建设  
C. 必须加强社会主义民主政治建设  
D. 必须不断深化政府机构改革
87. 温家宝总理在《关于制定第十一个五年规划建议的说明》中指出, 着力推进政府行政管理体制改革是提高对外开放水平的关键。重点是要 ( )。
- A. 进一步转变政府职能  
B. 进一步减少和规范行政审批  
C. 进一步推进政企分开  
D. 进一步深化政府机构改革
88. 邓小平提出的“三个有利于”的标准是 ( )。
- A. 真理标准和价值标准的统一  
B. 把握规律性, 解放思想、实事求是的产物  
C. 实践标准在社会领域的具体化  
D. 生产力标准的深化
89. 贯彻“三个代表”重要思想, 关键在坚持与时俱进, 就是党的全部理论和工作要 ( )。
- A. 体现时代性  
B. 把握规律性  
C. 具有先进性  
D. 富于创造性
90. 建立社会主义市场经济体制的重要环节包括 ( )。
- A. 现代企业制度  
B. 收入分配制度  
C. 社会保障制度  
D. 统一开放的市场体系
91. 作为宏观经济调控手段, 计划手段 ( )。
- A. 既是一种行政手段, 又是一种经济手段, 还是一种法律手段  
B. 要体现出党的路线、方针和政策  
C. 具有客观性、战略性和政策性等特点  
D. 由国家权力机关批准通过, 指令性计划具有约束力
92. 下列是国家机关的是 ( )。

- A. 中国人民政治协商会议                      B. 全国人民代表大会  
C. 中华人民共和国主席                      D. 国务院
93. 环境法主要包括自然资源法和环境保护法。下列法律中属于环境保护法的是 ( )。
- A. 《中华人民共和国森林法》                      B. 《中华人民共和国土地管理法》  
C. 《中华人民共和国水土保持法》                      D. 《中华人民共和国野生动物保护法》
94. 行政许可由 ( ) 行政机关在法定职权范围内行使。
- A. 具有管理公共事务职能的                      B. 具有行政管理权的  
C. 具有行政许可权的                      D. 各级人民政府的
95. 公民、法人或者其他组织对行政机关实施行政许可，享有哪些权利? ( )
- A. 陈述权、申辩权                      B. 申请仲裁权  
C. 要求违法实施行政许可损害的国家补偿权                      D. 提起民事诉讼权
96. 下列行为中，属于行政行为的有 ( )。
- A. 行政机关购买办公用品                      B. 行政机关制定规范性文件  
C. 街道办事处与居委会签订卫生管理承包合同                      D. 天气预报
97. 下面关于公文的功能的说法，不正确的是 ( )。
- A. 公文能够逾越时空限制，有效传递信息  
B. 公文必须履行法定的程序，因而具有重要的凭证作用  
C. 公文可以杜绝官僚作风，提高行政办事效率  
D. 公文直接形成于内容所针对的现行活动中，对受文者行为能够产生强制性影响
98. 以下城市被称为“六朝古都”的是 ( )。
- A. 北京                      B. 南京                      C. 西安                      D. 洛阳
99. 肯德基公司“涉及”事件轰动全国，对“苏丹红”的表述哪一项是正确的? ( )
- A. 一种食品添加剂                      B. 一种着色剂                      C. 一种香料                      D. 一种有害的食品
100. 中国国际航空公司 CA1087 号航班 2005 年 1 月 29 日上午 8 时从北京首都国际机场起飞，前往台北。这是 ( ) 年来首架飞往台湾的社会大陆民航班机。2005 年台商春节包机从 1 月 29 日至 2 月 20 日，海峡两岸 ( ) 家航空公司共执行了 48 个往返班次。
- A. 606                      B. 566                      C. 5612                      D. 6012
101. “光阴一去不复返”表明 ( )。
- A. 时间的无限性                      B. 时间的有限性                      C. 时间的一维性                      D. 时间的不可逆性
102. 学习贯彻“三个代表”重要思想，必须牢牢把握立党为公、执政为民，这是衡量有没有真正学懂、是不是真心实践“三个代表”重要思想最重要的标志，实现立党为公、执政为民必须 ( )。
- A. 落实到各级领导干部的思想和行动中去  
B. 落实到关心群众生产生活的工作中去  
C. 落实到党和国家制定和实施方针政策的工作中去  
D. 落实到改革开放的各项工作中去
103. 现阶段我国的爱国统一战线的范围包括 ( )。
- A. 全体社会主义劳动者                      B. 拥护社会主义的爱国者  
C. 拥护祖国统一的爱国者                      D. 台湾同胞、港澳同胞、海外同胞
104. 在台湾问题上，我们坚决反对 ( )。
- A. “一中一台”                      B. “两个中国”  
C. “一国两府”                      D. “台湾独立，外国插手”
105. 我国人民民主专政与人民代表大会制度的关系是 ( )。
- A. 前者是后者的依据和前提，后者体现前者的性质和要求  
B. 前者指国家性质，后者指国家机构  
C. 前者是国体，后者是政体  
D. 前者是国家性质，后者是政治制度
106. 根据《票据法》的规定，汇票可分为 ( )。
- A. 银行汇票                      B. 商业汇票                      C. 公司汇票                      D. 企业汇票
107. 下列有关个人独资企业在法律性质上的表述错误的是 ( )。
- A. 有法人资格                      B. 没有法人资格  
C. 规模较大的具有法人资格                      D. 经过有关的政府部门批准，可以具有法人资格
108. 符合法定条件、标准的，申请人有依法取得行政许可的 ( ) 权利。
- A. 公开                      B. 民主                      C. 自由                      D. 平等
109. 回避的类别包括 ( )。
- A. 申诉回避                      B. 控告回避                      C. 任职回避                      D. 公务回避
110. 公文处理的基本原则包括 ( )。
- A. 法制原则                      B. 精简原则                      C. 效能原则                      D. 集中原则

111. 我国历史上最大的一部类书是 ( )。
- A. 《资治通鉴》      B. 《四库全书》      C. 《永乐大典》      D. 《古今图书集成》
112. 《麦琪的礼物》是美国作家 ( ) 的作品。
- A. 马克·吐温      B. 毛姆      C. 欧·亨利      D. 乔伊斯
113. 核酸有两种物质，一类叫脱氧核糖核酸，另一类叫 ( )。
- A. 磷酸      B. 核糖核酸      C. 硝酸      D. 线粒体
114. 大气层的厚度约为 ( )。
- A. 1000 公里      B. 2000 公里      C. 3000 公里      D. 4000 公里
115. 2005 年 4 月 29 日，中共中央总书记胡锦涛在北京与中国国民党 ( ) 举行正式会谈，这是 60 年来国共两党最高领导人的正式会谈。
- A. 连战      B. 宋楚瑜      C. 陈水扁      D. 江丙坤
116. 中共中央决定，从 2005 年 1 月开始，用一年半左右的时间，在全党分三批开展以 ( ) 为主要内容的保持共产党员先进性教育活动。
- A. 坚持以邓小平理论      B. 实践“三个代表”重要思想  
C. 树立和落实科学发展观      D. 提高党的执政能力
117. 2005 年 7 月 21 日，中国人民银行发布公告称我国将实行新的人民币汇率制度。下列关于新的汇率制度特点的说法，正确的有 ( )。
- A. 以市场供求为基础      B. 有管理的浮动汇率制度  
C. 人民币汇率盯住单一的美元      D. 更富弹性的人民币汇率制度
118. 亚太经济合作组织 (APEC) 第十三次领导人非正式会议 18 日至 19 日在韩国釜山举行，这次会议主要聚焦的议题有 ( )。
- A. 促进贸易自由      B. 开展反恐合作      C. 保障社会安全      D. 共同应对禽流感

### 三、综合分析题 (119~130):

(一) 阅读下面材料，回答 119~122 题:

《中共中央关于制定国民经济和社会发展第十一个五年规划的建议》提出：本世纪头二十年是我国发展的重要战略机遇期，“十一五”时期尤为关键。我们必须紧紧抓住机遇，应对各种挑战，认真解决长期积累的突出矛盾和问题，突破发展的瓶颈制约和体制障碍，开创社会主义经济建设、政治建设的新局面，为今后十年顺利发展打下坚实的基础。我们一定要有高度的历史责任感，强烈的忧患意识和宽广的世界眼光，立足科学发展，着力自主创新，完善体制机制，促进社会和谐，全面提高我国的综合国力、国际竞争力和抗风险的能力，奋力把中国特色社会主义事业推向前进。

119. 《建议》提出，我们必须紧紧抓住机遇，应对各种挑战，认真解决长期积累的突出矛盾和问题，“十一五”时期我们面临的矛盾和问题主要有 ( )。
- A. 资源利用率不高，经济社会发展与资源环境的矛盾日益突出  
B. 解决“三农”问题的任务相当艰巨  
C. 就业压力依然较大，收入分配中的矛盾较多  
D. 影响发展的体制问题亟待解决，处理好社会利益关系的难度加大
120. 《建议》提出“十一五”时期要立足科学发展，着力自主创新，完善体制机制，促进社会和谐，这四句话是一个有机的整体 ( )。
- A. 立足科学发展是对“十一五”时期发展方向的总体要求  
B. 着力自主创新是推动科学发展的重要保障  
C. 完善体制机制是实现科学发展的关键环节  
D. 促进社会和谐是推动科学发展的重要组成部分，也是科学发展的环境条件
121. 着力自主创新，就是要 ( )。
- A. 深入实施科教兴国战略和人才强国战略，把增强自主创新能力作为科学技术发展战略基点和调整产业结构、转变增长方式的中心环节  
B. 注重提高经济增长的质量和效益，加快经济结构的战略性调整  
C. 大力提高原始创新能力、集成创新能力和引进消化吸收再创新能力  
D. 提高科技创新能力，集成创新能力和引进消化吸收再创新能力
122. “十一五”规划的主要目标包括 ( )。
- A. 实现 2010 年人均国内生产总值比 2000 年翻一番  
B. 单位国内生产总值能源消耗比“十五”期末降低 20% 左右  
C. 形成一批拥有自主知识产权和知名品牌、国际竞争力较强的优势企业  
D. 普及和巩固九年义务教育，城镇就业岗位持续增加，社会保障体系比较健全，贫困人口继续减少

(二) 阅读下面材料，回答 123~126 题

2005 年 2 月 19 日，胡锦涛同志在中央党校省部级主要领导干部“提高构建社会主义和谐社会能力”专题

研讨班开班式的重要讲话，深刻阐述了构建社会主义和谐社会的重大意义和马克思主义关于社会主义社会建设的理论，明确提出了构建社会主义和谐社会的基本特征、重要原则和主要工作，并就加强和改善党对构建社会主义和谐社会各项工作的领导提出了具体要求，具有重要指导意义。构建社会主义和谐社会，是我们党从全面建设小康社会、开创中国特色社会主义事业新局面的全局出发提出的一项重大任务，适应了我国改革发展进入关键时期的客观要求，体现了广大人民群众的根本利益和共同愿望。要在推进社会主义物质文明、政治文明、精神文明发展的历史进程中，扎扎实实做好构建社会主义和谐社会的各项工作。

123. 根据新世纪新阶段我国经济社会发展新要求 and 我国出现的新趋势、新特点，我们所要建设的社会主义和谐社会，应该是民主法治、公平正义、诚信友爱、( ) 的社会。

- A. 稳定发展      B. 充满活力      C. 安定有序      D. 人与自然和谐相处

124. 民主法治，就是社会主义民主得到充分发扬，( )。

- A. 社会主义政治建设得到充分发展      B. 社会主义法治建设得到健全完善  
C. 依法治国基本方略得到切实落实      D. 各方面积极因素得到广泛调动

125. 公平正义，就是社会各方面的利益关系得到妥善协调，( )。

- A. 人民内部矛盾和其他社会矛盾得到正确处理  
B. 一切有利于社会进步的创造愿望得到充分尊重  
C. 社会公平和正义得到切实维护和实现  
D. 社会规则和社会机制得到公平体现

126. 构建社会主义和谐社会，同建设社会主义物质文明、政治文明、精神文明是有机统一的。要通过( )。

- A. 和谐社会建设来为社会主义物质文明、政治文明、精神文明建设创造有利的发展条件  
B. 发展社会主义民主政治来不断增强和谐社会建设的政治保障  
C. 发展社会主义先进文化来不断巩固和谐社会建设的精神支撑  
D. 发展社会主义社会的生产力来不断增强和谐社会建设的物质基础

(三) 阅读下面的材料，回答第 127~130 题：

2004 年是和平共处五项原则诞生 50 周年。国务院总理温家宝 6 月 28 日在和平共处五项原则创立 50 周年纪念大会上说，为促进世界和平与发展，中国政府愿与各国共同努力，坚定不移地维护国家主权平等。

127. 决定一个国家外交政策性质的是( )。

- A. 社会性质      B. 国家性质      C. 国家利益      D. 人民利益

128. 和平共处五项原则( )。

- A. 是我国最早提出的  
B. 不同社会制度的国家都可运用  
C. 已逐渐成为解决国与国之间问题的国际准则  
D. 没有被资本主义国家接受

129. 以和平共处五项原则为基础建立国际新秩序( )。

- A. 符合联合国宪章的宗旨和原则  
B. 反映了新型国际关系的本质特征  
C. 符合各国人民的根本利益  
D. 有利于世界和平与发展

130. 胡锦涛在亚太经合组织第十二次领导人非正式会议上的讲话中提出，进一步加强反恐合作，营造和平稳定的地区环境。这主要体现了我国外交政策的( )。

- A. 基本目标      B. 基本准则      C. 基本立足点      D. 基本立场

全部测验到此结束！