

## 2009年黑龙江公务员考试《行政职业能力测验》真题（B卷）

### 第一部分 言语理解与表达

一、选词填空：共10题。要求你从所给的四个选项中选出一个填空。使句子的意思表达得最准确。

请开始答题：

1. 资本的自然属性是逐利性，但资本也\_\_\_\_\_承担相应的社会功能。当资本的逐利性与其社会功能不能\_\_\_\_\_共存时，这就要求政府充当社会属性的执行者和监管者，因为政府是公共利益的代表者。  
A. 必须 和平 B. 必需 和谐 C. 必需 和平 D. 必须 和谐
2. 它\_\_\_\_\_也会回家来看看，走时眼睛里会\_\_\_\_\_出些许的留恋与不舍。  
A. 偶然 透露 B. 偶尔 透露 C. 偶然 流露 D. 偶尔 流露
3. \_\_\_\_\_上次的惨痛教训，他们这次将\_\_\_\_\_的重点放在岛上的两个机场。  
A. 基于 防御 B. 鉴于 防御 C. 基于 防范 D. 鉴于 防范
4. 老人们都很\_\_\_\_\_，对孩子们从不发脾气。  
A. 慈善 B. 和善 C. 善良 D. 善意
5. 允许媒体发言，是一种文明、\_\_\_\_\_允许媒体存在一定的出于真实的谬误，也是保证媒体有效发言的文明。\_\_\_\_\_这种文明，\_\_\_\_\_祛除任何对于真实的畏惧。  
A. 一旦 只有 才能 B. 甚至 只有 才能  
C. 一旦 只要 就能 D. 甚至 只要 就能
6. 地球是慷慨的，她养育了一代又一代人类；地球是无情的，她也报复了\_\_\_\_\_施虐、\_\_\_\_\_索取的人类。地球是我们唯一的栖身之所，糟蹋地球就是糟蹋我们自己。  
A. 大事 过度 B. 恣意 长期 C. 恣意 过度 D. 大事 长期
7. 世界上最累的人莫过于平俗之辈去\_\_\_\_\_，无才之人却要\_\_\_\_\_。  
A. 依附权贵 日理万机 B. 附庸风雅 日理万机  
C. 依附权贵 跑官要官 D. 附庸风雅 跑官要官
8. 稿子写完了，老王说过于\_\_\_\_\_，要我联系一些实际，\_\_\_\_\_一些内容。  
A. 简单 添加 B. 生硬 补添 C. 空洞 增添 D. 理论 增加
9. 一块木头是什么?这要看具体情况。拿它来做家具就是\_\_\_\_\_，拿它来烧火就是\_\_\_\_\_，拿它来挑水就是工具，拿它来和坏人斗争就是\_\_\_\_\_……这就是质的多样性。  
A. 材料 原料 武器 B. 原料 燃料 武器  
C. 原料 燃料 凶器 D. 材料 原料 凶器
10. \_\_\_\_\_的深圳是个小渔村，生活在这里的人们与全国\_\_\_\_\_地区的农民一样，日出而作，日落而息。  
A. 曾经 其他 B. 曾经 任何 C. 从前 其他 D. 过去 到处

二、阅读理解：共15题。每道题包含一段短文，短文后面是一个不完整的陈述，请你从四个选项中选出一项来完成这一陈述。请开始答题：

11. 下列各句没有语病的一句是( )。  
A. 强调生活的教育意义，并不意味着可以用生活取代教育，因为生活毕竟带有零散性并且还会有消费的东西  
B. 限期使用的产品，应当在显著位置清晰地标明生产日期、安全使用期和失效日期  
C. 他们在遇到困难的时候，并没有消沉，而是在大家的信赖和关怀中得到了力量，树立了克服困难的信心  
D. 根据一个小学校的统计，今年小学生的“人情消费”与去年相比，增加了近一倍左右
14. 人的心理发展的源泉与决定因素是历史过程中不断发展的文化，而文化则是人的社会生活与社会活动的产物。根据上文的内容，表述正确的一项是( )。

- A. 文化是社会活动的产物，它是在历史过程中不断发展的  
B. 人的心理发展既来源于历史过程中不断发展的文化，又取决于历史过程中不断发展的文化  
C. 人的心理发展归根结底是人的社会活动的产物  
D. 人的心理发展与文化有关，但与人的社会活动并无必然的联系
15. 我们可以把一年中的日子分成两个部分：工作和休息。所有人都希望工作时间短，休息时间长，还是莎士比亚深谙忙与闲的道理，他借剧中人物之口说道：“如果终年都是游乐的假日，嬉戏将和工作一样厌烦，正因为假日难得，\_\_\_\_\_。”填入横线最恰当的是（ ）。
- A. 人们才会如此高兴                      B. 人们才会感到度假是自己的权利  
C. 人们才会感到人生的快乐              D. 人们才会如此的期盼
16. 科学理性有一个特点：可以理解的事物就可以被接受，不能理解的事物就不可以接受并且排斥。这是人智的特点也正是人智的局限所在。这句话想说明（ ）。
- A. 科学的合理性      B. 科学的作用      C. 科学的局限性      D. 科学的客观性
17. 人总觉得不满足，而且很难为满足确定标准。一旦确立了满足的标准，人们又会不满足，这正是人可贵的地方。对这段话的正确理解是（ ）。
- A. 知足常乐                                  B. 满足是没有确定的标准的  
C. 人要前进，就要永不满足              D. 满足与不满足没有绝对的界限
18. 1999年起，我国普通高校开始实行扩招。大幅度的扩招\_\_\_\_\_，因此出现了高校学生质量滑坡现象。填入画横线部分最恰当的一项是（ ）。
- A. 使入学门槛骤然降低                      B. 缓解了学生和家长的思 想压力  
C. 给就业带来了巨大的压力              D. 使更多的学生有了上学的机会
19. 利人利己者把生活看成一个合作的舞台，而不是一个角斗场。一般人看事情：非强即弱、非胜即败。世界之大。人人都有足够的立足空间，他人之得不必就视为自己之失。这段话谈论的核心意思是（ ）。
- A. 生活是一个合作的舞台                  B. 双赢符合现实人生的辩证法  
C. 善待他人也要善待自己                  D. 利人与利己并存不悖
20. 目前我国法律对个人隐私的保护力度比较薄弱，个人的隐私主要是通过个人名誉权来保护的。而且，个人名誉权受到侵害的，要造成侵害后果的才予以追究。对于绝大多数受“骚扰”的人来说，受侵害的后果并不是很明显，也很难追究。通过这段话，作者想表达的是（ ）。
- A. 我国有关保护个人隐私的法律有待完善      B. 我国个人受侵害的后果并不明显  
C. 我国现行法律保护个人的名誉权              D. 我国的个人隐私主要是通过个人名誉权来保护的
21. 自去年12月在迈阿密举行美洲首脑会议后，拉美国家加快了建立自由贸易区的步伐，一体化进程已进入了一个新的时期。这段话不能反映的是（ ）。
- A. 美洲首脑会议举行的地点                  B. 美洲首脑会议的作用  
C. 拉美一体化进程进入新时期                  D. 拉美一体化形成
22. 投资仍然是拉动中国经济增长的主要动力，但与以前主要靠地方政府利益驱动不同，现在的投资越来越受到企业利润和盈利能力的驱动，投资质量有明显提高。同时，盈利能力越强的工业行业。投资增长也越高。这段话想表达的主要观点是（ ）。
- A. 投资仍然是拉动中国经济增长的主要动力  
B. 现在的投资越来越步入以市场为主导的良性循环轨道  
C. 以前的投资主要是靠地方政府利益驱动的  
D. 盈利能力的行业投资增长越高
23. 青藏高原的原始生态环境在全球占有特殊的地位，但生态环境十分脆弱，一旦遭到破坏则不可逆转，有的植物被恢复需要上百年的时间。高寒、干旱、原始和极其脆弱是这一区域生态环境的显著特征。以下选项中符合原文意思的是（ ）。
- A. 青藏高原的植物十分脆弱，遭到破坏则不可逆转  
B. 高寒、干旱使得青藏高原的生态环境十分脆弱  
C. 青藏高原的生态环境是最古老、最原始的

- D. 青藏高原的生态环境虽然原始，但抗破坏能力很弱
24. 人类基因的数量与阿猫、阿狗这样的哺乳动物的基因数量几乎差不多，跟鼠类的还非常接近。更可气的是，水稻基因数量竟然是人类的两倍。这段话想要表达的观点是（ ）。
- A. 哺乳动物的基因数量都差不多      B. 基因数量的多少并不能代表物种等级的高低  
C. 人类与鼠类在基因上是非常接近的      D. 某些植物的基因比动物的还要多
25. 世界上许多民族正面临着在世界舞台上丧失母语的话语权，不得不依附于西方弥补语言文字，从而使本民族的文化被逐渐弱化。这段话可以被用来论证下面的哪一种观点？（ ）
- A. 保护本民族母语的重要性      B. 语言文字也有强势弱势之分  
C. 民族的文化被逐渐弱化的原因      D. 我们不能在语言文字上依附于西方

## 第二部分 数量关系

**一、数字推理：共 10 题。给你一个数列，但其中缺少一项，要求你仔细观察数列的规律。然后从四个供选择的选项中选出你认为最合理的一项，来填补空缺项。**

**请开始答题：**

26. 343, 453, 563, ( )。
- A. 673    B. 683    C. 773    D. 783
27. 2, 10, 6, ( ), 3, 15。
- A. 5    B. 4    C. 2    D. 0
28. 2, 3, 5, 10, 20, ( )。
- A. 30    B. 35    C. 40    D. 45
29. 21, 23, 26, 31, 38, ( ), 62。
- A. 47    B. 49    C. 51    D. 53
30. 1, 2, 2, 4, 4, 6, 8, 8, ( )。
- A. 12    B. 14    C. 10    D. 16
31. 1, 2, 9, 121, ( )。
- A. 210    B. 16900    C. 289    D. 25600
32. 16, 29, 55, ( ), 211。
- A. 101    B. 109    C. 126    D. 107
33. 4, 5, ( ), 14, 23, 37。
- A. 6    B. 7    C. 8    D. 9
34. 8, 12, ( ), 34, 50, 68。
- A. 16    B. 20    C. 21    D. 28
35. 34, 36, 35, 35, ( ), 34, 37, ( )。
- A. 36, 33    B. 33, 36    C. 34, 37    D. 37, 34

**二、数学运算：共 10 题。要求你在四个选项中。选出你认为正确的一项。**

**请开始答题：**

36. 3 条直线最多能将平面分成几部分？（ ）。
- A. 4 部分    B. 6 部分    C. 7 部分    D. 8 部分
37. 从 4 点到 5 点，时针与分针成直角的机会会有几次？（ ）
- A. 1 次    B. 2 次    C. 3 次    D. 4 次
38. 商场为了促销，将原价 75 元的商品，先提价 40%，再打 8 折，该商品实际售价是多少元？（ ）
- A. 80    B. 72    C. 78    D. 84
40. 某校八年级学生数学竞赛共有 20 道题目，每答对一道得 5 分，不答或答错扣一分，80 分以上至少要答对的题目数是多少？（ ）
- A. 15 道    B. 16 道    C. 17 道    D. 18 道
41. 小明步行 45 分钟可从甲地到乙地，小华开车 15 分钟能从乙地到甲地，当两人在路上相遇时，小明已经走了 30 分钟，小华开车送小明返回甲地，还需要多少分钟？（ ）

A. 10 B. 15 C. 3 D. 5

42. 一船顺水而下，速度是每小时 6 千米，逆流而上每小时 4 千米。求往返两地相距 24 千米的码头间平均速度是多少？（ ）

A. 5 B. 4.8 C. 4.5 D. 5.5

43. 把一个正方形的一边减少 20%，另一边增加 2 米。得到一个长方形，它与原正方形的面积相等，那么，正方形面积是多少平方米？（ ）

A. 8 B. 10 C. 16 D. 64

44. 一个小于 100 的整数与 5 的差是 4 的倍数，与 5 的和是 7 的倍数，这个数最大是多少？（ ）

A. 85 B. 89 C. 97 D. 93

45. 纽约时间是香港时间减 13 小时，你与一位在香港的朋友约定香港时间 6 月 1 日晚上 8 时与他通电话，那么在纽约你应几月几日几时给他打电话？（ ）


A. 6 月 1 日上午 7 时 B. 5 月 31 日上午 7 时 C. 6 月 2 日上午 9 时 D. 6 月 2 日上午 7 时

### 第三部分 判断推理


一、图形推理：共 10 题。请从所给的四个选项中找到最适合的一个。

请开始答题：

46.




47.



48.



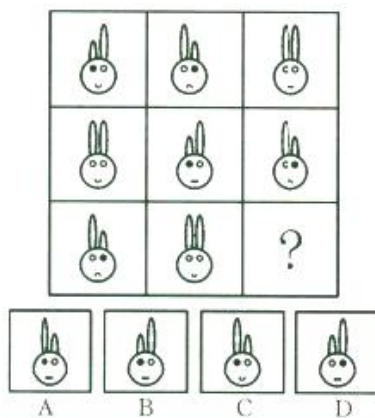
49.




50.



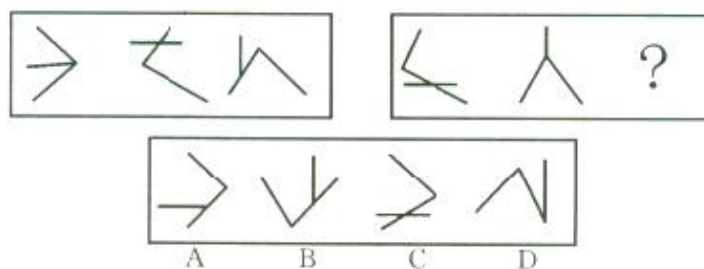
51.



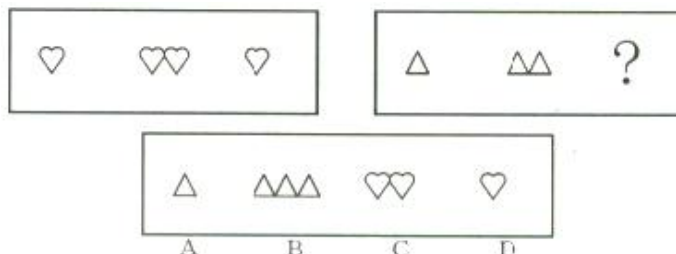
52.



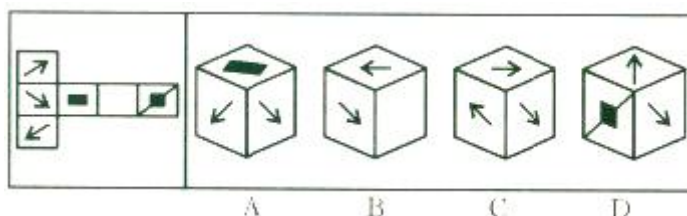
53.



54.



55. 将下面左图进行折叠后，得到的图形是：



**二、演绎推理：共 10 题。每题给出一段陈述，这段陈述被假设是正确的，不容置疑的。要求你根据这段陈述，选出一个答案。注意：正确的答案应与所给的陈述相符合，不需要任何附加说明可以从陈述中直接推出。**

**请开始答题：**

56. 若钥匙不是在宿舍里丢失的，那就一定是在办公室或走廊上或大街上丢失的，又因为开宿舍时用它锁的门，假如在办公室或走廊上丢失，就会有失物招领告示，现没有看见告示，可见（ ）。

- A. 钥匙丢在宿舍里    B. 钥匙丢在办公室    C. 钥匙丢在走廊上    D. 钥匙丢在大街上

57. 一次提审之后，办案员甲对乙说：“我相信犯罪嫌疑人说的一定是真话，但真话他未必都说了。”甲的意思不包括（ ）。

- A. 犯罪嫌疑人没有把他知道的全说出来    B. 犯罪嫌疑人说的都是他知道的  
C. 犯罪嫌疑人隐瞒了事实真相    D. 犯罪嫌疑人否定了事实真相

59. 因为青少年不应当吸烟，所以提案禁止向青少年出售香烟是十分合理的。但是，禁止使用自动售烟机，就如同在交通要道上设置路障，堵住 100 位驾驶员，仅仅只是为了逮捕其中的一位无证驾驶者，路障阻碍的不仅仅只是那些违法的人，而是所有的人。下列哪一个问题的答案，能够帮助我们正确评价以上所提出的禁令，即对禁止使用自动售烟机所提出的反对意见？（ ）

- A. 自动售烟机比其他自动售货机更容易出错吗  
B. 目前是否有法律规定，禁止将成人专用的东西出售给青少年  
C. 提高香烟销售税能阻止青少年购买香烟吗  
D. 禁止设置自动售烟机是否给许多成年买烟者带来了不便

60. 我国许多企业都缺乏应有的“网络意识”，不懂得借助网络来开展经营活动，不懂得通过注册域名来保护自己的合法权益，中国网络报最近对 1000 家企业网络域名注册工作的一次调查表明，已经注册了域名的企业仅仅只有 30%。

以下哪项，如果为真，最能削弱上述论证？（ ）

- A. 全国有许多未被调查的企业注册域名  
B. 一些企业不知道如何注册网络域名

- C. 不注册域名的企业不一定就没有健全、敏锐的“网络意识”  
D. 目前注册域名还太麻烦，收费又高，不少企业认为不合算
61. “草原酒家”是大草原上一家远近闻名的老字号饭店，但它有一些不成文的“规矩”，如果“草原酒家”在某一天既卖红焖羊肉，又卖羊杂碎汤，那么它也一定卖烤全羊；该饭店星期天从不卖烤全羊；……人们都熟悉这些“规矩”，也习以为常。此外，我们还知道，只有当卖红焖羊肉时，王老板才去“草原酒家”吃饭。如果上述断定是真的，那么以下哪项也一定是真的？（ ）
- A. 星期天王老板不会去“草原酒家”吃饭  
B. 如果“草原酒家”在星期天卖红焖羊肉，那么这天它一定不卖羊杂碎汤  
C. “草原酒家”在星期天不卖羊杂碎汤  
D. “草原酒家”只有星期天不卖红焖羊肉
62. 药检局对于五种消炎药进行药效比较，结果如下：甲与乙药效相同；丙比甲有效；丁副作用最大；戊药效最差。因此（ ）。
- A. 丙最有效 B. 丁比戊药效好 C. 甲比戊副作用大 D. 甲和乙副作用相同
63. 韩国人爱吃酸菜，罗艺爱吃酸菜，所以，罗艺是韩国人。能证明上述推理荒谬的是（ ）。
- A. 所有的阿肯特的人都说谎，汤姆是阿肯特人，所以汤姆说谎  
B. 会走路的动物都有腿，所以，桌子是会走路的  
C. 雪村爱翠花，翠花爱吃酸菜，所以，雪村爱吃酸菜  
D. 所有的金子都闪光，所以，有些闪亮的是金子
64. 签订技术转让合同必须遵守国家的法律，符合国家政策的要求，否则，即使是当事人双方自愿签订的合同，非但不能受到法律保护，还要根据情况依法追究法律责任。与以上论述等值的是（ ）。
- A. 如果双方当事人的行为都是自愿的，就会受到法律的保护  
B. 如果双方当事人的行为都是自愿的，就要承担法律责任  
C. 只有双方当事人的行为合法，才能产生预期的法律后果，受到法律的保护  
D. 如果双方当事人的行为合法，就会产生预期的法律后果，受到法律的保护
65. 专业的选择对一个人事业的成功非常重要。近年来，很多人认为“学计算机编程一定会有光明的前程”。实际上，这一看法与几年前流行的下述观点类似：“学法律最有可能取得事业成功。”而现在法律专业毕业生明显是供大于求了。
- 从上述信息中，可以推知如下哪项结论？（ ）
- A. 由于在工作中将越来越多地使用计算机，法律专业毕业生也要学习计算机编程  
B. 计算机程序员将越来越需要律师的服务  
C. 市场上很快会出现对律师的大量需求  
D. 学习计算机编程的毕业生数量很快就要超过市场需求量了

**三、定义判断：共 10 题。每道题先给出一个概念的定义，然后分别给出四种情况，要求你严格依据定义，其中选出一个最符合或最不符合该定义的答案。注意：假定这个定义是正确的，不容置疑的。**

**请开始答题：**

66. 转移收支：指因社会义务而发生的收支，如财政补贴等。它在很大程度上就有按需分配的因素。根据以上定义，下列叙述不是转移收支的是（ ）。
- A. 为一位因抓捕毒贩而牺牲的警察的家属发放抚恤金  
B. 一位退休在家的老人从儿子那每月拿到一定的生活费  
C. 在冰冻灾害中，好心人士向灾区人民捐助的物资  
D. 一位被歹徒打伤的受害者向歹徒求取的赔偿
67. 资源使用效率，是指在社会范围内，以一定的投入创造出大的产出，或以最少的投入获取一定的产出。下列选项中，不利于资源使用效率提升的是：
- A. 对每一种资源的使用和加工都尽量采取最好的方法或技术来处理，使其可用性最大  
B. 采取最佳的组织形式或结构安排，将各种资源按其功能特色搭配起来，使各种资源的联合

生产能力最大

- C. 为提高资源使用效率，采取绝对公平的收入分配制度
- D. 不浪费每一种资源，将每一种资源都派上最好的用场

68. 居民消费是指直接为居民个人消费的物质和劳务产品价值总值。包括个人生活中的食品、衣着等物质性消费，也包括各种劳务性消费。根据以上定义，下列属于居民消费的是( )。

- A. 企业购买的原材料
- B. 政府购买图书仪器
- C. 家庭购买的文教用品
- D. 学校购买的文教用品

69. 机构单位是能够拥有资源、承担负债，从事经济活动并与其他单位进行经济交易的实体。根据以上定义，下列属于机构单位的是( )。

- A. 某企业的下属工厂
- B. 由某高校所有的学生食堂
- C. 北京协和医院管理的某科室
- D. 长沙市黄花机场

70. 典型调查是指只收集典型单位资料的调查方法。典型单位指在被分析研究的现象方面具有突出特征的单位，可以是具极端标志的单位；也可以是最一般的单位即普通单位的代表，通过典型调查可以研究总体发展的一般情况和特点。

下列选项中，属于典型调查的是( )。

A. 在某单位工作业绩经验总结调查中，有意识地选择销售业绩第一名和销售业绩最后一名的职员进行调查

B. 在某校在校生每月生活费用支出调查中，随机选择100名在校生进行问卷调查

C. 在某市工业企业生产情况调查中，选择少数经营业绩好，企业利润占全部工业企业可比重较大的8个大型企业进行调查

D. 在某市工业生产设备情况调查中，对全部工业企业的每一台生产设备进行调查

71. 季节变化是指社会经济现象随着一年的季节发生改变而呈现有规律的变动。根据以上定义，下列属于季节变动的是( )。

- A. 夏季用电最高于其他季节
- B. 冰冻灾害后第二年一般发洪水
- C. 瑞雪兆丰年
- D. CPI指数持续上涨

72. 直接调控是指政府利用手中掌握的资源，用行政办法对经济运行进行直接的调节和控制，以达到政府意愿目标。

下列选项中，不属于直接调控方式的是( )。

- A. 商品房价的市场供求规律自发调节
- B. 银行贷款实行额度控制
- C. 住房分配采取行政配给
- D. 超缺物资实行定量供应

74. 其他存款性公司是指除中央银行以外的所有存款性公司，主要进行吸收存款、发放贷款和创造存款等活动，我国称之为存款货币银行。下列选项中，不属于其他存款性公司的是( )。

- A. 城市商业银行
- B. 保险公司
- C. 邮政储汇局
- D. 城市信用社

75. 最终产品是指在一定时期内生产的并由其最后使用者购买的产品和劳务。最终产品用于最终使用。和用于再出售而供生产某种产品用的中间产品不同。下列选项中，有关最终产品说法正确的是( )。

- A. 某项绿色工程，其中间产品是所栽种的树木，而最终产品则是改善后的环境质量
- B. 面粉厂生产的面粉捐给冰冻灾害严重的灾区人民，这里的面粉是最终产品
- C. 面包店生产的面包卖给居民，这里的面包是最终产品
- D. 以上均正确

**四、类比推理：共10题。先给出一组或多组相关的词，要求你在备选答案中找出一组与之在逻辑关系上最为贴近、类似或匹配的词。**

**请开始答题：**

76. 狐狸：狡猾

- A. 忠诚：狗
- B. 母鸡：鸡蛋
- C. 牛：勤劳
- D. 乌鸦：凶兆

77. 初级中学：初中

- A. 幼儿园：幼稚园
- B. 彩电：彩色电视
- C. 公共关系：公关
- D. 罗曼蒂克：浪漫



78. ( ) 对于 曹植 相当于 “儿童相见不相识，笑问客从何处来” 对于 ( )  
A. “野旷天低树，江清月近人”——李白 B. “本是同根生，相煎何太急”——贺知章  
C. “野旷天低树，江清月近人”——孟浩然 D. “空山不见人，但闻人语响”——白居易
79. 菡萏：荷花  
A. 糖果：果冻 B. 芙蓉：水芙蓉 C. 番茄：土豆 D. 蚍蜉：大蚂蚁
80. ( ) 对于 火车 相当于 手 对于 ( )  
A. 车厢——身体 B. 铁轨——手臂 C. 汽车——手指 D. 列车员——操作员
81. ( ) 对于 司汤达 相当于 巴黎圣母院 对于 ( )  
A. 《人间喜剧》——巴尔扎克 B. 《红与黑》——雨果  
C. 《安娜·卡列尼娜》——大仲马 D. 《战争与和平》——马克·吐温
82. ( ) 对于 卵 相当于 鸟 对于 ( )  
A. 鱼——蛋 B. 胚胎——羽毛 C. 爬行动物——哺乳动物 D. 种子——幼仔
83. 教室：自习  
A. 商场：保洁 B. 学校：宣传 C. 公路：驾车 D. 邮局：汇款
84. 改革：开放  
A. 进口：出口 B. 上楼：出门 C. 苗头：倾向 D. 江西：湖南
85. 历史：明智  
A. 新闻：广播 B. 法律：约束 C. 制度：学问 D. 政策：援藏

#### 第四部分 常识判断

根据题目要求，在四个选项中选出一个最恰当的答案。

请开始答题：

86. 提出“究天人之际，通古今之变”治史思想的史学家是( )。  
A. 司马迁 B. 司马相如 C. 班固 D. 司马光
87. 下列对选举中的平等原则的理解错误的是( )。  
A. 男女平等 B. 一人一次一票 C. 票的效力相等 D. 地区平等
88. 行政机关委托的组织行使委托的行政权力侵犯公民、法人合法权益造成损害的，( )为赔偿义务机关。  
A. 行政机关 B. 受委托的组织 C. 具体工作人员 D. 组织负责人
89. 国家行政权力的载体是( )。  
A. 全国人民代表大会 B. 政府机构 C. 各级党委 D. 审判机关、检察机关以及军事机关
90. 我们党在长期执政条件下，保持先进性和增强创造力的决定性因素是( )。  
A. 着重从思想上建党 B. 坚持批评与自我批评  
C. 坚持解放思想、实事求是的思想路线，弘扬与时俱进的精神 D. 真正做到“三个代表”
91. 《\_\_\_\_\_处分条例》2007年6月1日起正式施行，这预示着我国公职人员纪律处分规范正日趋完善，治贪治庸的惩罚体系正日趋健全。  
A. 行政机关公务员 B. 行政事业机关公务员 C. 事业机关公务员 D. 行政企事机关公务员
92. 合同生效后，当事人就质量要求不明确又不能达成补充协议的，应按照国家标准履行；没有国家标准、行业标准的。应按照( )履行。  
A. 地区标准 B. 企业标准 C. 通常标准或者符合合同目的的特定标准 D. 所有者标准
93. 邓小平坚持马克思主义的思想路线，把“解放思想”和“事实求是”联系起来表述，更鲜明地体现了马克思主义思想体系的开放性，体现了它的( )的统一性。  
A. 科学性、理论性和实践性 B. 科学性、理论性和革命性  
C. 理论性、实践性和革命性 D. 实践性、科学性和革命性
94. 1954年9月，第一届全国人民代表大会第一次会议在北京召开，标志着( )在范围内系统地建立起来。  
A. 社会主义社会制度 B. 人民代表大会制度 C. 政治协商制度 D. 中国民主宪政制度

95. 我国的地势是( )。
- A. 东高西低 B. 南高北低 C. 西北高东低 D. 西高东低
96. AB 血型的男性和 AB 血型的女性结婚，不可能出现哪种血型的孩子?( )
- A. A 型 B. B 型 C. AB 型 D. O 型
97. 科学管理的中心问题是( )。
- A. 提高企业盈利率 B. 提高管理水平 C. 提高人的积极性 D. 提高劳动生产率
98. “种地选好种，一垄顶两垄”，这句农业谚语说明的生物现象是( )。
- A. 适者生存 B. 变异 C. 遗传 D. 生殖
99. ( )是划分阶级的依据。
- A. 人数 B. 收入 C. 权利 D. 对生产资料的占有关系
100. 地理环境对社会发展的作用主要通过( )。
- A. 对人的心理素质的影响才能实现 B. 对人的生理结构的影响才能实现  
C. 对生产过程的影响才能实现 D. 对民族气质的影响才能实现
101. 邓小平同志诞辰一百周年纪念大会上，胡锦涛发表重要讲话。胡锦涛在讲话中深切缅怀了邓小平同志为民族独立、人民解放和国家富强、人民幸福建立的不朽功勋，邓小平同志把毕生心血和精力都贡献给了党和人民的事业，贡献给了中国人民，赢得了全党、全国人民的衷心爱戴，也赢得了各国人民的普遍尊敬，这主要体现了( )。
- A. 个人价值是社会价值与自我价值的统一  
B. 个人对社会的贡献是社会存在和社会发展的基本保障  
C. 伟人的个人活动不受社会发展规律的制约  
D. 个人对社会的物质贡献比精神贡献更重要
103. 《反不正当竞争法》中所说的商业秘密，是指不为公众所知悉，只为权利人带来经济利益，具有实用性并经权利人( )。
- A. 采用的生产技术 B. 采用的科学效果  
C. 采取保密措施的技术信息和经营信息 D. 采取的经营方式
104. 把物质理解为某种具体物质形态的观点属于( )。
- A. 庸俗实物主义的物质观 B. 形而上学唯物主义的物质观  
C. 朴素唯物主义的物质观 D. 辩证唯物主义的物质观
105. 生产最基本、最重要的社会条件是( )。
- A. 政治法律制度 B. 生产关系 C. 历史变化传统 D. 伦理道德规范
106. 下列属于公务员领导职务的是( )。
- A. 市公安局法制科科长 B. 市国土局调研科员  
C. 省政府巡视员 D. 省政府咨询顾问
107. 《行政复议法》规定，被申请人不依法提出书面答复、提交当初做出具体行政行为的证据、依据和其他有关材料的，( )。
- A. 经两次催告仍不提交的，视为没有证据、依据 B. 责令被申请人限期补交  
C. 对被申请人予以训诫 D. 视为没有证据、依据，决定撤销该具体行政行为
108. 下列权利中属于法人应该享有的权利是( )。
- A. 生命健康权 B. 亲权 C. 肖像权 D. 商标权
109. 2008 年 3 月 14 日，一群不法分子在西藏自治区首府拉萨市区的主要路段实施打砸抢烧，焚烧过往车辆，追打过路群众，冲击商场、电信营业网点和政府机关，给当地人民的生命财产造成重大损失，使当地的社会秩序受到了严重破坏，想借机分裂国家、破坏奥运。中国政府对“拉萨 3-14 打砸抢烧”暴力恐怖活动坚决依法予以打击，我国政府的态度表明：( )。
- A. 中华人民共和国是中国唯一合法政府 B. 一个国家两种制度  
C. 地方政府要服从中央的统一管理 D. 不允许任何势力以任何方式分裂国家政权
110. “先天下之忧而忧，后天下之乐而乐”，这句名言所包含的哲理是( )。
- A. 个人价值融于社会价值中 B. 人的自由是相对的

- C. 人的发展具有历史阶段性      D. 社会发展要以人为本

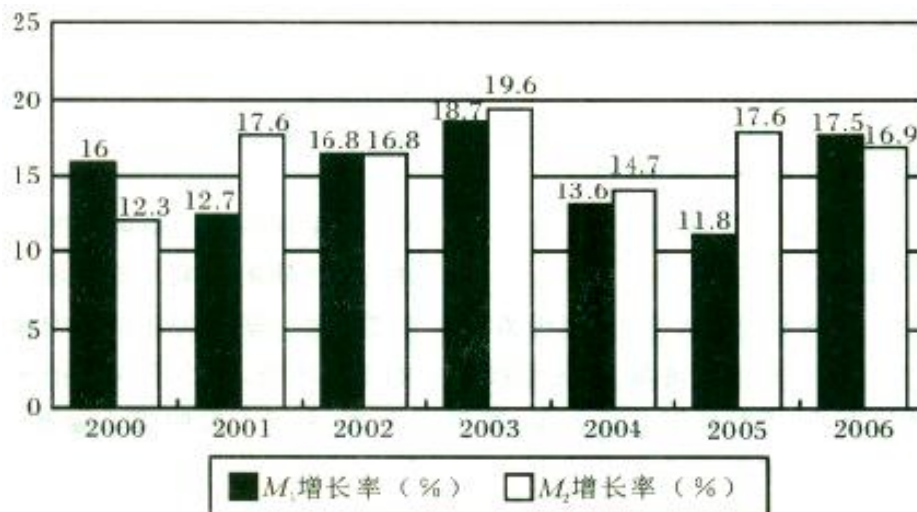
### 第五部分 资料分析

所给出的图、表或一段文字均有几个问题要你回答。你应根据资料提供的信息进行分析、比较、计算和判断处理。

请开始答题：

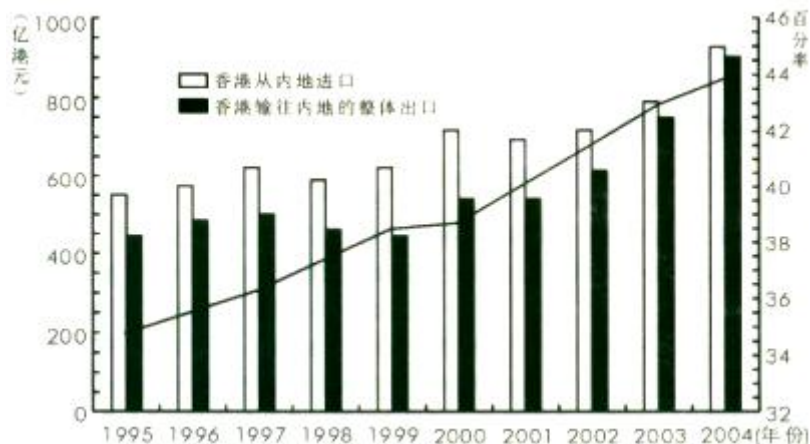
根据下面的图形，回答 111—115 题。

下图为 2000—2006 年我国两种层次货币供应量 M1 和 M2 的增长率。根据此图回答下面的 111—115 题。（注：该图中 M1 和 M2 的增长率都为百分数）



111. 在所有的年份中，我国 M2 的增长率最大的年份为( )。
- A. 2001 年    B. 2002 年    C. 2003 年    D. 2004 年
112. 2005 年我国 M1 的增长率为( )。
- A. 13.6%    B. 11.8%    C. 14.7%    D. 17.6%
113. 在所有的年份中，M2 增长率相等的年份是( )。
- A. 2002、2006 年    B. 2003、2005 年    C. 2004、2007 年    D. 2001、2005 年
114. 2002 年 M<sub>1</sub> 的增长率为 2006 年 M<sub>1</sub> 增长率的( )倍。
- A. 0.96 倍    B. 1.04 倍    C. 0.99 倍    D. 1.05 倍

根据以下表格资料，请回答 116—120 题。



116. 2003 年香港对内地进出口总额约为( )。
- A. 750 亿港元    B. 1530 亿港元    C. 1800 亿港元    D. 2000 亿港元
117. 1995—2004 年，香港为内地出口年均增长率约为( )。

- A. 26.2%      B. 16.3%      C. 10.4%      D. 21.4%
118. 1995—2004年，香港与内地进出口差额在150亿港币以上的年份有( )。
- A. 1个      B. 2个      C. 3个      D. 4个
119. 根据上图，下列说法正确的是( )。
- A. 1995—2004年，香港与内地的进口值呈逐年递增的趋势  
B. 2001—2004年，香港与内地的进口增长率高于出口增长率  
C. 2000—2004年，香港与内地的进出口差额呈递减趋势  
D. 上世纪90年代亚洲金融危机对香港与内地的进出口影响甚微
120. 2003年香港与内地进出口总额占香港同期进出口总额的比例与1998年相比( )。
- A. 多5.5个百分点      B. 多10.75个百分点  
C. 多1.75个百分点      D. 少2.5个百分点

根据下列文字资料回答121—125题。

2007年前三个季度，城镇居民人均可支配收入为10346元，扣除价格因素后实际增长13.2%，同比提高3.2个百分点。农村居民人均现金收入3321元，扣除价格因素后实际增长14.8%，同比提高3.4个百分点。由此中国出现了比较罕见的城镇居民投入增长幅度低于农村居民收入增幅的现象。2007年前三个季度，全国城镇单位在岗职工月平均工资为1853元，同比增长18.8%，其中，国有经济单位职工月平均工资为1980元，同比增长20.8%，集体经济单位职工月平均工资1111元，同比增长18.0%，其他经济类型单位职工月平均工资1794元，同比增长15.6%，而农村劳动力外出务工的月平均工资为1015元，同比增长11.8%。由此可见，农民工的收入增长远无低于城镇居民工资的平均水平。

121. 2006年前三个季度，我国农村居民人均现金收入为( )。
- A. 3212元      B. 3414元      C. 3450元      D. 3300元
122. 2007年前三个季度，我国城镇居民人均可支配收入比农村居民人均现金收入高( )倍。
- A. 3.12      B. 2.12      C. 1.12      D. 4.12
123. 2006年前三个季度，我国其他经济类型单位职工月平均工资为( )。
- A. 1452元      B. 2074元      C. 1552元      D. 1172元
124. 2007年前三个季度，我国城镇单位在岗职工月平均工资比农村劳动力外出务工的月平均工资大约高出( )。
- A. 82.6%      B. 84.1%      C. 95.1%      D. 88.2%
125. 2006年前三个季度，我国国有经济和集体经济在岗职工月平均工资之差为( )。
- A. 697.5元      B. 869元      C. 1039元      D. 528元