

2008年辽宁省公务员考试《行测》真题

第一部分 常识判断

- 1、负责主持辽宁省沈阳市人大代表选举的组织是：
A、沈阳市人民代表大会 B、辽宁省人民代表大会 C、沈阳市人大常委会 D、辽宁省人大常委会
- 2、一般情况下，民族自治地方名称的排序依次是：
A、地方名称、民族名称、行政地位 B、行政地位、地方名称、民族名称
C、地方名称、行政地位、民族名称 D、民族名称、地方名称、行政地位
- 3、我国公务员职位分为领导职务和非领导职务，领导职务的分类中不包括：
A、国家级正职 B、巡视员 C、厅局级副职 D、乡科级副职
- 4、李某向张某借款5万元打算开旅行社，答应旅行社开业后3个月还款。李某拿到5万元后并没有去开旅行社而是用于购买家用电器，张某知道后要求李某立即还款，李某声称还款的期限是旅行社开业后3个月，现在旅行社还没有开业还款时限未到。下列表述正确的是：
A、李某还钱的期限未到，李某可以不还钱 B、李某还钱的期限视为已到，李某应当还钱
C、李某还钱的条件未成就，李某可以不还钱 D、李某还钱的条件视为已成就，李某应当还钱
- 5、以下哪项评价使公务员受降级处分：
A、合格 B、不合格 C、称职 D、不称职
- 6、物权法的立法是涉及每一个人生活的大事。按照物权法一般理论，下列选项中属于用益物权的是：
A、土地使用权 B、抵押权 C、留置权 D、质押权
- 7、公司提取的法定公积金不可用于：
A、扩大公司生产经营 B、改善职工福利 C、转增公司资本 D、弥补公司亏损
- 8、根据我国《票据法》的规定，对汇票的持票人承担连带责任的主体不包括：
A、出票人 B、见证人 C、背书人 D、承兑人
- 9、个体户崔某为使自己的劣质酱油能在某超市上柜，为超市部门主管汤某安排了一次全家境外游，并为汤某的儿子入学缴纳3万元的赞助费，在反不正当竞争法中，这一行为属于：
A、混淆行为 B、虚假宣传行为 C、独占排挤行为 D、商业贿赂行为
- 10、小宋受朋友之邀去某饭店吃饭，中途去洗手间时因地面油滑不慎摔倒，致使腿骨骨折，对小宋受的损害，以下说法正确的是：
A、小宋与饭店没有形成合同关系，所以饭店不承担责任
B、小宋不是消费者，所以饭店不承担责任
C、小宋是消费者，所以饭店承担责任
D、小宋是自己不注意摔倒的，饭店并无加害行为，所以饭店不承担责任
- 11、江某在超市买了一台电动榨汁机，一个月后出现故障，要求超市处理，但是超市“购买须知”规定：“在本超市购买物有质量问题请及时解决，自购物之日起超过15日的一概不退换”，超市以此为由拒绝受理，要求江某与生产厂商联系处理，对本纠纷的处理，下列观点错误的是：
A、超市的规定是“霸王条款”，损害消费者的权益，应当无效
B、超市的规定是要约，消费者的购买是承诺，双方形成合同关系，所以规定有效
C、超市的规定是格式条款，免除了自己的责任，所以无效
D、超市的规定与产品质量法的规定相抵触，所以无效
- 12、下列各产品中能适用我国《产品质量法》的是：
A、甲自产自用的木椅 B、乙销售的木椅 C、丙自建自用的木屋 D、丁销售的木屋
- 13、下列不属于累犯的法律后果的是：
A、应当从重处罚 B、不得适用缓刑 C、不得适用假释 D、不得减刑
- 14、小张犯盗窃罪被一审法院判处处罚金5000元，小张提出上诉，二审法院维持一审法院的判决，对小张处罚金

的执行机关是：

- A、一审法院 B、二审法院 C、监狱 D、公安机关

15、天龙公司与张某因装修合同发生纠纷，在诉讼过程中，双方协商同意调解。法院依法主持双方调解后达成调解协议，以下说法正确的是：

- A、法院根据调解协议制作调解书后，经双方当事人签收，具有法律效应
B、当事人收到调解书后可以在 15 日内上诉
C、该案调解书一旦发生法律效力就不得申请再审
D、法院制作调解后送达时，法院可以采用留置送达

16、A 县环保局执法中，发现 B 企业存在私自排放污染物的行为，经过其上级环保行政主管部门 C 市环保局的批准，决定对 B 企业罚款 10 万元，罚款单盖上了 A 县环保局的公章。B 企业对此行政处罚不服，为此 B 企业提出行政诉讼，被告是：

- A、A 县环保局 B、C 市环保局 C、A 县环保局或 C 市环保局 D、A 县环保局和 C 市环保局

17、行政机关在其法定职权范围内，依法可以委托下列哪种组织实施行政许可：

- A、其他国家机关 B、其他行政机关
C、具有管理公共事务职能的事业组织 D、具有管理公共事务职能的社会团体

18、关于行政处罚，下列表述正确的是：

- A、法律、法规、规章授权的具有管理公共事务职能的组织可以在法定授权范围内实施行政处罚
B、受他人胁迫有行政违法行为的，可以依法从轻或者减轻行政处罚
C、行政处罚的当事人到期不缴纳罚款，每日按罚款数额的百分之三加处罚款
D、行政机关在收集证据时，必须采取抽样取证的方法

19、蓝天市文化局和公安局在 2006 年的一次联合执法中发现本市 B 区的楚天歌舞厅存在安全隐患，以共同名义对其给予 2000 元罚款，楚天歌舞厅不服，向 B 区人民政府提交复议申请。关于此案，下列说法正确的是：

- A、B 区人民政府应该受理
B、B 区人民政府告知楚天歌舞厅向市人民政府申请复议
C、B 区人民政府自接到复议申请之日起 10 日内转送市人民政府，并告知楚天歌舞厅
D、B 区人民政府自接到复议申请之日起 7 日内转送市人民政府，并告知楚天歌舞厅

20、中国公民王某在出入境时违反了《中国公民出境入境管理法》，被公安机关罚款 2000 元。王某可以寻求救济的途径是：

- A、王某应该先进行行政复议，然后才能提出行政诉讼
B、王某只能选择行政复议，不可以提出行政诉讼
C、王某只能提出行政诉讼，不可以选择行政复议
D、王某可以提起行政复议，如对复议结果不服的，可以提出行政诉讼

第二部分 言语理解与表达

21、乡村规划和建设，要突出乡村特色、地域特色和民族特色，尊重各地的传统习惯和风土人情，不能把典型的地域特征搞没了，把鲜明的民族特色改掉了，把优秀的文化传统弄丢了。

对本句最恰当的概括是：

- A、乡村规划和建设要突出特色 B、乡村规划和建设要典型
C、乡村规划和建设要保留优秀传统 D、乡村规划和建设要符合国情

22、在目前义务教育投入体制下，县级财政勉强能负担起教师工资，中央和省财政能补贴部分教师工资和学校建设资金，但留下的缺口全部都交给学校自己解决。一些农村中小学校长反映：义务教育现在已经成了学校的义务。

“义务教育现在已经成了学校的义务”的含义是：

- A、学校承担义务教育 B、义务教育是学校的责任
C、学校的义务是负责义务教育 D、学校只尽义务而缺少外部投入

23、有些日本人认为不应该纠缠于中日间过去的鸡毛蒜皮的陈年旧账，要放眼中日友好的巨大利益，他们中一些“杰出的”代表还根据欧洲经济共同体的模式提出了一个中日关系新思维理论。这个所谓的新思维认为，如果早

在 20 世纪就建立起日本人设计的“大东亚共荣圈”，将会给亚洲人民带来巨大福祉。

作者对“他们”的态度是：

- A、否定 B、肯定 C、未置可否 D、有肯定有否定

24、在他们过度理性的影响下，一些被他们的过度理性蒙蔽的中国人开始无视中国的抗日战争史而向“中国愤青派”的爱国青年质问诸如“你们为什么要反日？”这样完全丧失民族情感的弱智问题。

“中国愤青派”的爱国青年在作者心目中是：

- A、愤青中的爱国青年 B、藐视愤青的爱国青年 C、普通爱国青年 D、情绪激动的爱国青年

25、1972 年《中美上海公报》有关台湾的内容初稿中，美国方面表明：“认识到中华人民共和国和台湾政府都认为只有一个中国，台湾是中国的一部分，美国政府对这一立场不提出异议。”我方对此提出了异议。

我方为什么对初稿中美方声明提出异议？

- A、“中华人民共和国和台湾政府都认为”一语中两者并列，实际上是“一中一台”的意思
B、“台湾是中国的一部分”与“只有一个中国”矛盾
C、“这一立场”指代“台湾是中国的一部分”，不正确
D、应该把“台湾政府”四字删去

26、在择偶基础上，阶级的含义凸现出来，“劳动人民”和不劳而获的“地主”形成对立，“自主”在某种程度上就意味着在这二者之间进行选择，而最终的答案已经设定。

“最终的答案已经设定”的含义是：

- A、选择所爱的人 B、在阶级内选择 C、选择劳动人民 D、选择地主

27、将公民满意不满意、幸福不幸福作为检验政府工作的终极标准，意味着“以人为本”正在真正成为政府的核心执政理念。

符合句意的是：

- A、公民的满意度和幸福感程度促成了政府核心执政理念的形成
B、公民的满意度和幸福感都是检验政府核心执政理念的试金石
C、“以人为本”应该是政府执政的核心理念
D、“以人为本”已经成为政府执政的核心理念

28、虚拟经济是人类参与投机买卖、单纯期望商品（物质或物品）价格上涨而获利、不涉及任何物质转化的经济活动。严格地说，一切虚拟经济活动乃是因为交易费用或信息费用或信息不对称而引起的。从降低交易费用、或信息费用、或较少不对称信息角度看，虚拟经济活动极大地促进真实经济活动，参与价值创造。

本段文字描述的“虚拟经济”与“真实经济”的根本差异是：

- A、虚拟的 B、不涉及物质转化 C、单纯期望商品价格上涨而获利 D、不参与价值创造

29、只有淡化经济增长指标，同时强化公共服务，突出政府责任指标，才能真正实现政府职能的转变。

不符合句意的是：

- A、要真正实现政府职能的转变就不能强调经济增长指标
B、要真正实现政府职能的转变就必须强化公共服务
C、要真正实现政府职能的转变就必须突出政府责任指标
D、突出政府责任指标是实现政府职能转变的途径之一

30、在许多行业，商业贿赂已成“行规”和企业运行的潜规则，从业者已陷入“非道德”恶性竞争的环境。不完善的市场经济体制和缺乏严密的刑事法网，使海外投资的外国企业进入我国经济活动中也难以独善其身。

“独善其身”指：

- A、不参加恶性商业竞争 B、不犯法 C、不进行商业贿赂 D、不参与有潜规则的企业运行

31、自从香港苏富比拍卖行和佳士得拍卖行要拍卖 1860 年被英法联军掠夺的圆明园珍贵文物的消息传后，立即引起国人的关注，香港民众也对拍卖国宝表示强烈抗议。但这两家拍卖行却对此置若罔闻，如期举行拍卖。眼看国宝将遭噩运，保利集团毅然赴港出击，分别以 818.5 万港元和 774.5 万港元的天价将当天拍卖的圆明园文物青铜猴头和青铜牛头两件国宝买下。与保利集团竞投的神秘人物一直用电话报投，自始至终没敢露面。据悉，此次从香港购回的这两件国宝，不久将在保利博物馆内展出。

根据以上消息所拟的一句话新闻，恰当的一句是：

- A、保利集团赴港出击，以 1593 万港元夺回圆明园文物青铜猴头和青铜牛头
- B、香港两拍卖行拍卖圆明园珍贵文物，引起国人的关注
- C、保利集团与神秘人物竞投，夺回国宝
- D、保利集团夺回国宝，青铜猴头和青铜牛头不久将在馆内展出

32、如果本合同或涉及本合同而签署的任何文件中的任何条款，日后根据任何适用法律被认定在某方面是无效的、不合法的或不能强制执行的，本合同或涉及本合同而签署的文件的其他条款的效力、合法性和可强制执行性则不受任何影响或损害，并仍然具有完全的效力。

本合同是否受相关法律制约？

- A、是
- B、否
- C、根据具体情况判断
- D、有些条款受制约

33、百姓的好恶要考虑，但他们的法制观念同样需要通过严格的执法引导。在这种引导中，执法机关的作用和责任毋庸置疑。不甄别百姓的诉求是否合法、理性而一味迎合，结果只能是让法盲狂欢！

符合本句文意的是：

- A、老百姓的好恶往往合理不合法
- B、老百姓的法制观念都很淡泊
- C、老百姓希望执法机关迎合当事人
- D、老百姓的法制观念需要引导

34、真诚永远都像镜子一样，当你真诚面对公众时，公众肯定会读到你的真诚；即便你存在错误和自己没有发现的过失，那可能是智力问题，或者是现有的行为模式和智力结构所无法避免的，公众会原谅。

本句的主旨是：

- A、无论正确错误都应该真诚面对公众
- B、公众能读懂你的真诚
- C、真诚面对公众，公众会原谅你的错误
- D、真诚是镜子

35、智者乐水的境界、鱼与小鸟的歌唱、蝌蚪与青蛙的故事、水中的月亮与建筑倒影，这些河流的自然与文化多重衍生物，是水泥森林与车流喧闹的城市生活中宝贵的诗意安慰。

“诗意安慰”都与自然界何物相关？

- A、动物
- B、水
- C、月亮
- D、森林

36、正是因为我们的自由本质给了我们那模铸我们的力量，我们藉着它，才有了抵抗由于自私、由于受表面现象的奴役、由于放任我们体内的物性而表现出来的道德低下和绝望的可能性。

抵抗道德低下和绝望的凭借是：

- A、模铸
- B、体内的物性
- C、自由本质
- D、我们

37、如果我们由一连串的意念下手时，许多乍看之下对梦的形成并无关联的意念，却会突然发觉它带给我们一个确实与梦的内容有关联的结果，而这正是梦的解析所不可或缺的关键，但它却只有由那一连串的意念追寻下来才能达到。

解析梦的关键是：

- A、寻求一连串的意念
- B、与梦的内容有关联的意念
- C、一连串的意念
- D、解析梦的内容

38、绝不要假意装作孩子可以由其他东西替代，就如同绝不要假意装作你没有得到的东西是不值得获取的一样。你没有得到的东西值不值得获取？

- A、不值得
- B、值得
- C、假装不值得
- D、假装值得

39、今天在座的每一位都是在为中华民族写历史，让我们一起站在历史的制高点宏观地看我们两岸合作的愿景。句中的“愿景”指：

- A、愿望和前景
- B、心愿和远景
- C、心愿和心景
- D、愿望和景致

40、所谓的“人造太阳”的原理，就是在这台装置的真空室内加入少量氢的同位素氘或氚，通过类似变压器的原理使其产生等离子体，然后提高其密度、温度使其发生聚变反应，反应过程中会产生巨大的能量。

“人造太阳”是：

- A、由氢的同位素氘或氚组成的物质
- B、一间真空室
- C、一台装置
- D、在反应过程中会产生巨大能量的物质

41、霍尔的景观都有路可达，但大多由“搓衣板路”连接。“搓衣板路”是高原高反差气温决定的，昼间烈日高照地表受巨热膨胀，夜间雪山影响地表又剧烈收缩，反复扩张收缩之下使公路受力面不均，车轮碾过之后形成规则的横槽，因其形状像过去搓洗衣服的搓衣板，故被筑路人俗称为“搓衣板路”。朝阳夕至时似乎景色美好，可行

驶于其上则有那种把你当作衣服在搓衣板上使劲搓动拍打的感觉。

下列不合文意的是：

- A、“搓衣板路”因气温高反差所成 B、霍尔景观区的“搓衣板路”让人受不了
C、霍尔有雪山 D、霍尔日照强

42、黄河自 1972 年首次在山东省利津县断流，到 1996 年累计断流已达 57 次，共 682 天。今年以来已断流 10 次之多！往常断流多在 5、6 月份，而今年则于 2 月 7 日开始，首次断流为 15 天；1995 年全年为 122 天，1996 年全年为 136 天。1994 年断流河段到达河南开封附近的陈桥，长达 683 公里，占下流河段总长的 87%。断流使下流泥沙淤积日趋严重，郑州以下 780 公里河床，每年增高近 10 厘米。入海口鱼类减少，沙化、盐碱化日益严重，生态环境遭破坏，造成工农业经济损失约 268 亿元。

这段话最主要的意思是说：

- A、自 1972 年以来，黄河山东段开始断流，以后日趋严重，经济损失大
B、自 1994 年以来，黄河断流河段占下游河段总长的 87%，经济损失严重
C、自 1972 年以来，黄河断流现象日趋严重，已造成数百亿元的损失
D、自 1972 年以来，黄河断流严重影响工农业生产发展

43、中国网民暴发性增长，按流量计费可以立竿见影地解决网络带宽严重不足这一问题，然而从长远来看，中国电信运营商建立在网络平台上的免费或低价的互联网运营业务模式亟待突破。

对用收费解决网络带宽不足的问题，作者的观点是：

- A、立竿见影，一劳永逸 B、认同，但收费模式要逐步完善
C、短期有效，但不解决长远问题 D、赞同，但要加快收费模式的革新

44、把个人婚姻从宗法制家庭中剥离出来，纳入现代民族国家的建构进程，一直是现代婚姻变革的重要目标，而爱情作为现代婚姻的基石，也介入到各种权利和不同传统对婚姻的争夺中来。

本句中介入现代婚姻争夺的因素不包括：

- A、爱情 B、权利 C、传统 D、法律

45、中国的传统教育是允许体罚的，或者说中国有着体罚的“传统”，民间就流传“鞭子底下出好人”的俗话。这是专制社会的教育现象，至今仍然贻害无穷。这也是在当今尊重人权的民主社会里，体罚现象却屡屡发生的原因。教师允不允许体罚学生？这不是一个到现在还需要争议的话题。

符合文意的观点是：

- A、我国有体罚的“传统” B、鞭子底下出优秀学生
C、是否允许教师体罚学生是有争议的话题 D、中国的教育允许体罚

第三部分 数量关系

46、()，1， $\sqrt{2}$ ， $\sqrt{3}$ ，2

- A、 $-\sqrt{2}$ B、0 C、 $\frac{\sqrt{2}}{3}$ D、 $\frac{\sqrt{3}}{2}$

47、2， $\frac{9}{8}$ ， $\frac{28}{27}$ ， $\frac{65}{64}$ ，()

- A、 $\frac{126}{125}$ B、 $\frac{82}{81}$ C、 $\frac{66}{65}$ D、 $\frac{112}{111}$

48、123，132，213，231，312，()

- A、213 B、321 C、123 D、231

49、1，2，5，12，27，()

- A、58 B、64 C、81 D、75

50、84，12，48，30，39，()

- A、23 B、36.5 C、34.5 D、43

51、15，5，3， $\frac{5}{3}$ ，()

A、 $\frac{9}{5}$ B、 $\frac{27}{5}$ C、 $\frac{16}{9}$ D、 $\frac{9}{15}$

52、3.1, 5.01, 7.001, ()

A、8.001 B、9.0001 C、10.0001 D、8.0001

53、 $100\frac{3}{4}$, (), $64\frac{16}{12}$, $49\frac{64}{36}$, $36\frac{256}{108}$

A、 $81\frac{4}{5}$ B、 $81\frac{9}{5}$ C、82 D、81

54、4, 10, 34, 130, ()

A、184 B、258 C、514 D、1026

55、2, 9, 28, 65, (), 217

A、124 B、125 C、126 D、127

56、买5件甲商品和3件乙商品，需要438元，如果买3件甲商品和2件乙商品，需要276元，买一件甲商品需要多少元？

A、48 B、46 C、34 D、32

57、现有26株树苗，要分植于5片绿地上，若使每片绿地上分得的树苗数各不相同，则分得树苗最多的绿地至少可以分得几株树苗？

A、8 B、7 C、6 D、5

58、一个人上楼，边走边数台阶，从一楼走到四楼共走了54级台阶。如果每层楼之间的台阶数相同，他一直要走到八楼，问他从一楼到八楼一共要走多少级台阶？

A、126 B、120 C、114 D、108

59、某总公司由A、B、C三个分公司构成，若A公司的产出增加10%，可使总公司产出增加5%，若B公司产出增加10%，可使总公司产出增加2%，问若C公司产出减少10%可使总公司的产出减少百分之几？

A、2 B、3 C、4 D、5

60、老师出了若干份试卷，以各份试卷的平均分计算考生的成绩，某考生最后一份试卷得97分，则平均分为90分，若该考生最后一份试卷得73分，则平均分为87分，那么这组试卷的份数是：

A、8 B、9 C、10 D、11

61、某农场饲养的A、B两个品种的羊数量比是3:1，饲养员每天给200只A种羊和120只B种羊做记号，几天后下班发现，B种羊只剩60只没做记号，A种羊还剩660只没做记号，问农场饲养的A、B两个品种的羊数量分别是多少只？

A、1260、420 B、1860、620 C、3060、1020 D、2460、820

62、张警官一年内参与破获的各类案件有100多件，是王警官的5倍，李警官的五分之三，赵警官的八分之七，问李警官一年内参与破获了多少案件？

A、175 B、105 C、120 D、不好估算

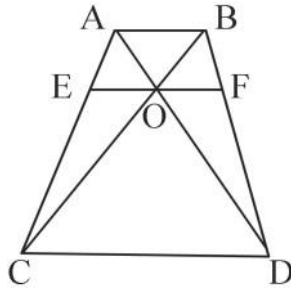
63、甲、乙、丙共同编制一标书，前三天3人一起完成了全部工作量的1/5，第四天丙没参加，甲、乙完成了全部工作量的1/18，第五天甲、丙没参加，乙完成了全部工作量的1/90，从第六天起三人一起工作直到结束，问这份标书的编制一共用了多少天？

A、13 B、14 C、15 D、16

64、某汽车销售商销售A、B两种汽车，A种汽车的售价是每辆20万元，B种汽车的售价是每辆5万元，上季度A种汽车销售金额的一半和B种汽车销售金额的三分之一合计5000万元、B种汽车销售金额的一半和A种汽车销售金额的三分之一合计3500万元，问该汽车销售商上季度销售A种汽车、B种汽车各多少辆？

A、500、100 B、400、200 C、300、360 D、480、120

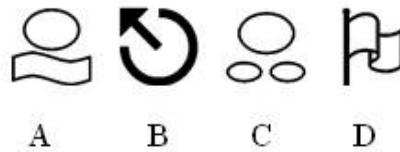

65、如图所示，梯形ABDC的两条对角线AD、BC相交于O，EF平行于两条边且过O点。现已知AB=6，CD=18，问EF的长度为多少？



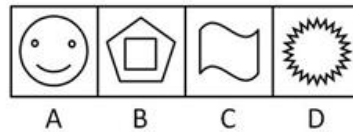

A、8.5 B、9 C、9.5 D、10

第四部分 判断推理

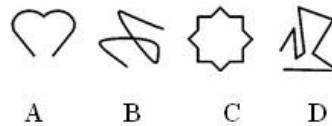

66、从所给四个选项中，选择最合适的一个填入问号处，使之呈现一定规律性：




67、从所给四个选项中，选择最合适的一个填入问号处，使之呈现一定规律性：



68、从所给四个选项中，选择最合适的一个填入问号处，使之呈现一定规律性：




69、从所给四个选项中，选择最合适的一个填入问号处，使之呈现一定规律性：



A B C D

70、从所给的四个选项中，选择最合适的一个填入问号处，使之呈现一定的规律性：



A B C D

71、从所给四个选项中，选择最合适的一个，使之呈现一定规律性：



A B C D

72、从所给四个选项中，选择最合适的一个，使之呈现一定规律性：



A B C D

73、从所给四个选项中，选择最合适的一个，使之呈现一定规律性：



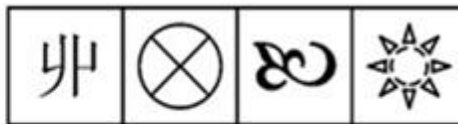
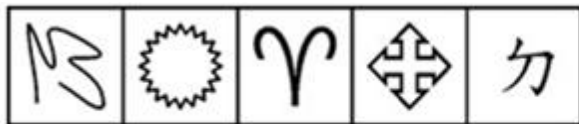
A B C D

74、从所给四个选项中，选择最合适的一个，使之呈现一定规律性：



A B C D

75、从所给四个选项中，选择最合适的一个，使之呈现一定规律性：



A B C D

76、倾销，是指企业在国外出售产品的价格低于国内市场的价格或低于其生产成本。

根据这一定义，下列行为不属于倾销的是：

A、某国以低于产品正常价值的价格向他国销售新产品

B、某企业在国内有较高的垄断地位和较大的市场份额，但质量不如国外同类商品，为了抢占国际市场，该企业以低于成本的价格销售商品

C、某地为著名的蔬菜生产基地，由于采用先进的科学技术和规模化经营，其生产的蔬菜的价格远远低于国外同类产品的价格

D、某国软件公司为了获得他国政府采购的订单，与他国同类软件竞争，以低于该产品在本国的销售价格投标

77、认知干预：认知干预的原则认为，一个人的心理活动和心理状态决定于其内在的认知观念，个体心理问题的根源是其头脑中不合理的认知观念，认知干预就是要以正确的理论知识来改变个体的不合理认知。

下列不属于认知干预的是：

A、在实施某项手术前，医护人员以正确的医学和生理学知识告诉病人此项手术是必需和安全的，消除病人的焦虑

B、学校有计划、按步骤地对学校中有关人员的心理活动、个性特征或他们的心理问题施加影响，使之发生指向预期目标的变化

C、对于抑郁症患者，给其提供另一种可以解释其观察和经验的观念系统，从而取代其原有的信念

D、对于渴望提高自身理论水平的在职人员，教师结合其工作实际，向其提供系统的理论知识

78、胜任力：员工在工作情境中，为完成工作所具备并体现出来的知识、技能、能力、态度、动机等关键特征。以下表现为胜任力的行为是：

A、小张请领导和同事来家吃饭，亲自下厨做了几道“看家菜”，大家交口称赞

B、元旦刚过，小李请姑父和客户打招呼，为公司签订了一个大订单，打响“开门红”

C、还在试用期的小王，用了整整一周时间，才整理出合格供应商的名单和真实报价

D、上个月，小周所在班组在全厂考核中也被评为优秀班组

79、标杆管理是指企业不断寻找和研究同行一流公司的最佳实践，以此为基准与本企业进行比较、分析、判断，从而使自己企业得到不断改进，以求进入赶超一流公司创造优秀业绩的良性循环过程，其核心是向业内或业外的最优企业学习。

根据上述定义，下列属于标杆管理的是：

A、空调业内两大巨头公司合力投资、联合研发新一代生态环保空调

B、某保险公司将本公司与业内最优公司的年终业绩差距与员工年终奖金挂钩

C、某公司将同行公司“生产产品之前先造就人才”的先进经营理念引入本公司

D、某公司研究对手公司的优势和弱势，改进自身生产流程，增强了产品的市场竞争力

80、非理性主要是指一切有别于理性思维的精神因素，如情感、直觉、幻觉、下意识、灵感；也指那些反对理性哲学的各种非理性思潮，如唯情论、意志论、生命哲学、无意识、直觉论、神秘主义、虚无主义、相对主义等。

下列属于非理性的是：

A、学习英语单词时，通过结合字型来掌握记忆定义的星火记忆法

B、历史主义坚持以科学史为基础，来考查哲学问题

C、阿基米德在浴缸洗澡，因水溢出获得了鉴定王冠的灵感

D、实证主义认为只有通过观察获得的实证才是唯一可靠的

81、环境噪声，指在工业生产、建筑施工、交通运输和社会生活中所产生的干扰周围生活环境的声音。

下列属于环境噪声的是：

A、宁静公园中琅琅读书声 B、汽车城里试车的鸣笛声 C、疗养院里轰鸣的机器声 D、饮酒时的猜拳声

82、经验决策：依靠个别高明的谋臣术士，或凭借决策者的个人阅历、知识智慧进行的决策。

下列属于经验决策的是：

A、某企业在决策中主要把握三条原则，一是“抓大放小”；二是“分工多元”，对决策内容实行“分类管理”；三是抓主要矛盾

B、某民营企业的投资者和创办者常亲临第一线，直接掌握第一手资料，把握全局，以“过去出现的事将会重复出现”为决策前提，大大减少了经营风险

C、某老总通过与专业的市场研究公司合作，通过它们收集信息，然后结合企业的情况再作决策

D、某企业一条生产流水线坏了，技术人员认为要立即整修，老总担心完不成任务负违约责任，不同意停产，于是一拍胸脯“有责任我承担”，技术人员只好服从

83、自信，坚信自己的能力和行为力量的积极健康的个性品质和心理特征，建立在对社会生活的充分理解对自己充分了解的基础上，以实事求是、坚持真理的科学态度为前提。

下列哪一种情况属于自信？

A、小明的期末考试成绩还不错，但他自己不满意，他发现很多是因为粗心大意被扣分，所以他认为，如果能细心一点，下次遇到同等难度的试卷会考得更好

B、小强的考试成绩一般都比同桌小军高，因此小强认为，自己在各方面都胜小军一筹

C、小磊发现同班同学小伟的胳膊比自己粗，所以他坚信自己的力气肯定没有小伟大

D、小涛家境贫寒，父母常年在外打工，爷爷奶奶对小涛管教不严，所以小涛在学校顽皮乖戾，但小涛坚信自古寒门出英才，相信自己将来一定能出人头地

84、社会商品购买力，指一定时期内社会各方面用于购买商品的货币支付能力，反映该时期全社会和市场容量的大小，由于购买力是指对商品的购买能力，因此一切不通过货币计算的实物收支和不是用来购买商品和劳务的货币支出均不属于社会商品购买力范围。

下列属于社会商品购买力范围的一项是：

A、小李每月按时交纳 78 元党费

B、小孙每月从公司领取 3000 元工资

C、小王每月从薪酬中扣除一部分用于交纳个人所得税

D、小张上半年借了小刘 4000 元钱买电脑，他将这个月的工资还给了小刘

85、灰色营销有两种不同的含义：第一是指对老年人的营销活动，也称为银色营销。第二是指在道德或法律上有问题的营销活动。

下列不属于灰色营销的是：

A、某企业刻意去模仿另一家企业的包装装潢，不过它做得很巧妙，以致于被模仿的企业很难投诉它

B、某企业在广告中加入隐含暴力色情的内容，法律机构很难对该企业进行制裁

C、卖方通过向买方代理人让利方式来销售商品，使买方的利益部分地被其采购代理人侵占

D、生产企业严格遵守与代理商签订的协议，确保代理商的专营权力不受侵害，保护了各自的利益

86、地衣：苔藓

A、腊月：十二月 B、小姨子：妻弟 C、竖子：叛徒 D、蝉联：阔别

87、燕子：春天

A、知了：夏天 B、山鸡：高原 C、蟋蟀：冬天 D、白药：云南

88、柳絮：杨花

A、松子：榆钱 B、月华：幽兰 C、芙蓉：荷花 D、菊花：银甲

89、灭火器：干粉

A、课桌：书本 B、学习：责任 C、打印机：打印纸 D、电灯：电线

90、中国：台湾

A、北京：城市 B、马：千里马 C、中国：香港 D、知识分子：学者

91、高山流水是任何人都极为欣赏的古典音乐，而每个人对任何一种古典音乐的态度要么是着迷，要么是不欣赏，由此可见：

A、任何人都欣赏古典音乐 B、任何人都不欣赏古典音乐

C、任何人都对高山流水着迷 D、有些人对高山流水不着迷

92、在当前的笔记本电脑市场上，存在大量的通过非正规渠道进入市场的廉价“水货”，即按照厂商政策不允许在中国大陆销售的产品。大量的“水货”冲击了正规渠道产品的销售。有的分析人员认为导致这种现象的主要原因是“水货”价格上的优势太大。

以下哪项是这位分析人员在分析中必须隐含的前提？

- A、市场监督部门没有强力打击“水货”现象
- B、许多消费者无法承受正规渠道产品的价格
- C、厂商销售政策不合理，给“水货”横行留下了空间
- D、“水货”与正规渠道的产品相比，性价比更高

93、有一则公益广告劝告人们，酒后不要开车，直到你感到能安全驾驶的时候才开。然而，在医院进行的一项研究中，酒后立即被询问的对象往往低估他们恢复驾驶能力需要的时间，这个结果表明，在驾驶前饮酒的人很难遵循这个广告的劝告。

下面哪项如果为真能最有力地支持以上结论？

- A、医院中被研究的对象估计他们恢复驾驶的能力通常比其他饮酒的人更保守
- B、医院研究的对象也被询问恢复对安全驾驶不起重要作用的能力所需要的时间
- C、一些不得不开车回家的人就不饮酒
- D、一般的人对公益广告警觉比医院研究对象警觉高

94、某领导在一次工作会议上说：“我们首先要有亲民意识，有了亲民意识，我们就能站在老百姓的角度来考虑问题，就能负责地为老百姓解决实际问题，如果我们及时帮助群众解决困难，那么干群关系拉近了。”

从领导这句话中我们可以推出：

- A、如果有亲民意识，那么干群关系就拉近了，其结果必然是我们帮助群众解决困难
- B、如果有亲民意识，那么干群关系就拉近了，但其前提是我们及时帮助群众解决困难
- C、只有具备亲民意识，我们才能站在老百姓的角度来考虑问题，才能负责地为老百姓解决实际问题，其结果必然是我们密切了干群关系
- D、如果我们能负责地为老百姓解决实际问题，我们就具备“亲民意识”，但是其前提是，我们必须重视干群关系

95、如果阿根廷参加联盟，则巴西和智利将抵制联盟。如果巴西和智利有一国抵制联盟，那么联盟就会名存实亡。而联盟没有名存实亡。

从这段文字可以推出：

- A、巴西没有参加联盟
- B、巴西参加联盟
- C、智利或巴西至少有一国没有参加联盟
- D、阿根廷没有参加联盟

96、或者所有客人尽情玩乐，或者有些客人隐藏他们的真实感受，没有坦率的人会隐藏他们真实感受，所有客人都是坦率的人。可见：

- A、只有表达自己真实情感的人才能尽情地玩乐
- B、有些客人隐藏了他们的真实感受
- C、所有客人都尽情玩乐
- D、尽情玩乐才能表达自己的真实感受

97、运动会男子10000米比赛，辽宁、北京、广东各派了三名运动员参加。赛前甲断言：“辽宁是传统强队，这次比赛前三名非他们莫属。”乙说：“北京或者广东队能够进前三名。”丙预测：“第一名如果不是辽宁队的，就是北京队的。”丁坚持：“前三名辽宁队最多能占一席。”比赛结束后，发现四人中只有一人的预测是正确的。

下列哪项最可能是该项比赛的结果？

- A、第一、二、三名都是辽宁队
- B、第一名辽宁队，第二名广东队，第三名北京队
- C、第一名北京队，第二名辽宁队，第三名广东队
- D、第一名广东队，第二、三名都是辽宁队

98、据有关人士科学预测认为亚洲人，特别是华裔子弟的智商较高，日本人是103，美国人是101-103，中国人是110，前国务委员宋健认为，智商还不是智慧，真正的智慧的人识大局、知环境、认航向、尊重别人、善于共事。据此，我们可以认为：

- A、中国人虽然智商较高但没有智慧
- B、美国人虽然智商较低但有智慧
- C、智商高低不决定智慧大小
- D、大智若愚

99、某体育代表团共同参加比赛，按照以往经验，该代表团成员代号分别为01、02、03、04、05、06。最佳分配有这样几条规矩：

- ①02和04最好同时出场。
 - ②如果03出场，那么最好04不出场。
 - ③如果01出场，那么最好02也出场。
 - ④如果05、06同时出场，那么最好03不出场。
- 为保证最佳比赛效果，教练哪个判断是正确的？

- A、如果 02、04 同时出场，那么 03 不出场 B、如果 01、03 同时出场，那么 02 出场，04 不出场
C、如果 04 出场，那么 01、02 出场，03 不出场 D、如果 03 出场，04、05、06 都不应出场

100、为适应产业结构调整升级的需要，某企业计划裁员 10%，并将四个污染严重的车间进行停产。这四个车间的人数正好占该企业总人数的 10%。计划实施后，上述四个车间停产，整个企业实际减员 5%。此过程中，该企业内部人员有所调整，但整个企业只有减员，没有增员。

根据以上信息，现有三个命题：

- I. 上述计划实施后，有的车间调入新成员。
II. 上述计划实施后，没有一个车间，调入的新成员的总数，超出企业原来总人数的 5%。
III. 上述计划实施后，被撤销的车间中的留任人员，不超过该企业原来总人数的 5%。

以下哪项一定为真？

- A、I、II 和 III B、只有 I 和 II C、只有 II 和 III D、只有 I

第五部分 资料分析

(材料一)

据“2005 年国民经济和社会统计公报”显示：全年各类自然灾害造成经济损失 2042 亿元，比上年上升 27.4%，全年农作物受灾面积 3882 万公顷，上升 4.6%。其中绝收 460 万公顷，上升 5.4%，全年发生特大森林火灾 3 起，因森林火灾造成受害森林面积 7.3 万公顷，下降 48.4%，全年因海洋灾害造成直接经济损失约为 332 亿元，增加 5.1 倍。全年发生赤潮 82 次，减少 14 次，累计赤潮面积约 27070 平方公里，上升 1.7%。全年共发生造成人员伤亡或直接经济损失 50 万元以上的地质灾害 854 起，共造成经济损失 36.5 亿元。全年共发生 5 级以上地震 13 次，受灾人口 208 万人，受灾面积 15040 平方公里，造成直接经济损失 26 亿元。全年生产安全事故死亡 12.7 万人，比上年下降 7.1%。亿元 GDP 生产安全事故死亡人数为 0.70 人，下降 18.5%。工矿商贸企业从业人员生产安全事故 10 万人死亡人数为 3.85 人，下降 6.8%，煤矿百万吨死亡人数为 2.81 人，下降 8.7%。全年发生道路交通事故 450254 起，造成 9.9 万人死亡，47.0 万人受伤，直接财产损失 18.8 亿，道路交通万车死亡人数为 7.60 人，下降 23.7%。

打开资料

101、2005 年除海洋、地质、地震灾害外，各种自然灾害造成直接经济损失多少亿元？

- A、2042 B、1647.5 C、1628.7 D、1601.1

102、2004 年受灾害森林面积占农作物受害面积的百分之多少？

- A、0.54% B、0.38% C、0.48% D、0.56%

103、与 2004 年相比，涉及人员死亡的各种安全事故中减幅最高的是哪一种？

- A、煤矿百万吨死亡人数 B、亿元 GDP 生产安全事故死亡人数
C、工矿商贸企业从业人员生产安全人事故 10 万人死亡人数 D、道路交通万车死亡人数

104、2004 年因海洋灾害造成的直接经济损失约多少亿元？

- A、212.03 B、101.26 C、58.14 D、54.43

105、根据所提供的资料，下列选项正确的是：

- (1) 2004 年农作物绝收面积占受害面积的 10.67%
(2) 2004 年发生赤潮 68 次，累计赤潮面积约 26617.5 平方公里
(3) 2004 年因各种自然灾害造成直接经济损失 1602.83 亿元

- A、(2) B、(1) (2) C、(2) (3) D、(3)

(材料二)

2006 年，全国参加基本医疗保险人数为 15737 万人，比上年底增加 1954 万人。其中，参保职工 11587 万人，比上年底增加 1565 万人，参保退休人员 4150 万人。2006 年，全国基本医疗保险基金收入 1728 亿元，支出 1275 亿元，分别比上年增长 23.0% 和 18.1%。截至 2006 年底，基金累计结存 1720 亿元，其中统筹基金结存 1056 亿元，个人账户积累 664 亿元。

2006 年全年城镇基本养老保险基金比上年增长 23.9%，其中征缴收入 5215 亿元（增长 20.9%），各级财政补贴基本养老保险基金 971 亿元，中央财政预算安排 774 亿元。全年基金总支出 4897 亿元，比上年增长 21.2%。

2006 年全国参加农村养老保险的人数为 5374 万，全年共有 355 万农民领取了养老金，比上年增加 53 万人，全年共支付养老金 30 亿元，年末农村养老保险基金累计结存 354 亿元。

2006 年全国参加失业保险的人数为 11187 万人，比上年末增加 539 万人。全国领取失业保险金人数为 327 万人，比上年末减少 35 万人。全年失业保险基金收入 385 亿元，比上年增长 15.8%，全年基金支出 193 亿元，比上年减少 6.9%，年末失业保险基金累计结存 708 亿元。

打开资料

106、2006 年参保退休人员数量比上年增加了：

A、9.37% B、10.34% C、13.51% D、19.91%

107、2005 年全国基本医疗保险基金支出额为：

A、1079.6 亿元 B、1123.7 亿元 C、989.4 亿元 D、1201.9 亿元

108、如果 2007 年全国城镇基本养老保险基金支出总额与 2006 年持平，且月支出额相等，那么，2006 年结存的城镇基本养老保险基金大约可维持 2007 年（ ）个月的支出。

A、4 B、5 C、6 D、7

109、2005 年年末失业保险基金累计结存：

A、395 亿元 B、385 亿元 C、192 亿元 D、516 亿元

110、2006 年，资料中所述的四种保险中：

- A、全国基本医疗保险基金的结存额最高
- B、全国城镇基本养老保险基金收入和支出的增幅均最大
- C、全国农村养老保险，参加人数最少，基金支出额最低
- D、全国失业保险基金是唯一一项支出减少的基金

(材料三)

某年某省地区生产总值构成表（单位：亿元）

行业	增加值	劳动者报酬	固定资产折旧	生产税净额	营业盈余	
某省地区生产总值	8582.73	4262.60	1303.16	1026.24	1990.73	
第一产业	1031.17	898.18	49.52	24.25	59.22	
第二产业	第二产业合计	4435.89	1957.48	580.95	711.31	1186.15
	工业	3848.52	1615.84	536.80	656.25	1039.63
	建筑业	587.37	341.64	44.15	55.06	146.52
第三产业	第三产业合计	3115.67	1406.94	672.69	290.68	745.36
	农林牧渔服务业	37.17	24.94	4.51	1.55	6.17
	地质勘探业、水利管理业	22.90	14.08	5.06	1.14	2.62
	交通运输、仓储、邮电通讯业	557.37	265.24	155.27	46.78	90.08
	批发和零售贸易、餐饮业	857.57	442.56	82.19	123.39	209.43
	金融保险业	430.68	67.75	22.36	47.04	293.53
	房地产业	351.92	27.94	271.76	20.03	32.19
	社会服务业	265.25	135.98	27.82	35.69	65.76
	卫生体育社会福利事业	92.16	65.31	14.22	2.11	10.52
	教育文艺广播电影电视业	203.86	149.23	29.46	4.81	20.36
	科学研究和综合技术服务业	30.42	16.85	4.07	2.85	6.65
	国家机关政党机关、社会团体	235.08	176.81	50.74	4.50	3.03
	其他	31.29	30.25	5.23	0.79	5.02

111、第三产业中增加值最多的行业是：

A、金融保险业 B、交通运输、仓储、邮电通讯业 C、房地产业 D、批发和零售贸易、餐饮业

112、第二产业增加值大约比第一产业与第三产业的和还多：

A、290 亿元 B、310 亿元 C、330 亿元 D、350 亿元

113、在第三产业的十二个行业中，劳动者报酬超过 100 亿元的行业有：

A、三个 B、四个 C、五个 D、六个

114、下列分析与实际情况不一致的是：

A、在营业盈余方面，工业营业盈余最多，金融保险业其次

B、在固定资产折旧方面，交通运输、仓储、邮电通讯业大约是地质勘探业、水利管理业的 30 多倍

C、在劳动者报酬方面，金融保险业与卫生体育社会福利事业相差不多

D、在第三产业中，营业盈余方面有一半以上行业不超过 10 亿元

115、根据上述资料，下列分析不正确的有几项？

(1) 在所有行业增加值中，劳动者报酬占绝大多数

(2) 科学研究和综合技术服务业，固定资产折旧与生产税净额之和没有营业盈余多

(3) 房地产业增加值中固定资产折旧占绝大多数

(4) 第三产业的十二个行业中，科学研究和综合技术服务业增加值占比例最小

A、四项 B、三项 C、二项 D、一项

(材料四)

2005 年华东地区城市园林绿化情况统计表

	人均公共绿地 面积(平方米)	建成区园林绿 化地率(%)	建成区绿化覆 盖率(%)	公园个数(个)	公园面积 (公顷)	游人量 (万人次)
全国	7.9	28.54	32.58	7077	157815.9	179367.4
上海	6.7	26.00	27.80	142	1516.6	13654.3
江苏	10.3	35.90	39.85	539	9924.0	10044.6
浙江	9.3	29.98	33.78	748	6045.6	12691.3
安徽	6.6	22.90	27.52	140	3970.1	4901.3
福建	9.2	33.08	36.11	314	4445.6	5226.3
江西	7.8	29.39	32.62	125	2258.9	1777.9
山东	8.1	31.95	36.97	456	11380.5	11219.9

打开资料

116、2005 年全国大约有 660 个城市，每个城市约有多少个公园？

A、11 B、15 C、17 D、18

117、在 2005 年华东六省一市中，建成区园林绿地率、建成区绿化覆盖率这两项低于全国平均值的有：

A、浙江、江西 B、江苏、安徽 C、上海、安徽 D、福建、山东

118、2005 年华东六省一市，人均公共绿地面积超过全国平均值的有几个省市？

A、7 B、5 C、4 D、3

119、2005 年华东六省一市平均每个公园面积超过 20 公顷的有几个省市？

A、2 B、4 C、5 D、6

120、下列关于 2005 年城市园林绿化统计分析中，正确的有几项？

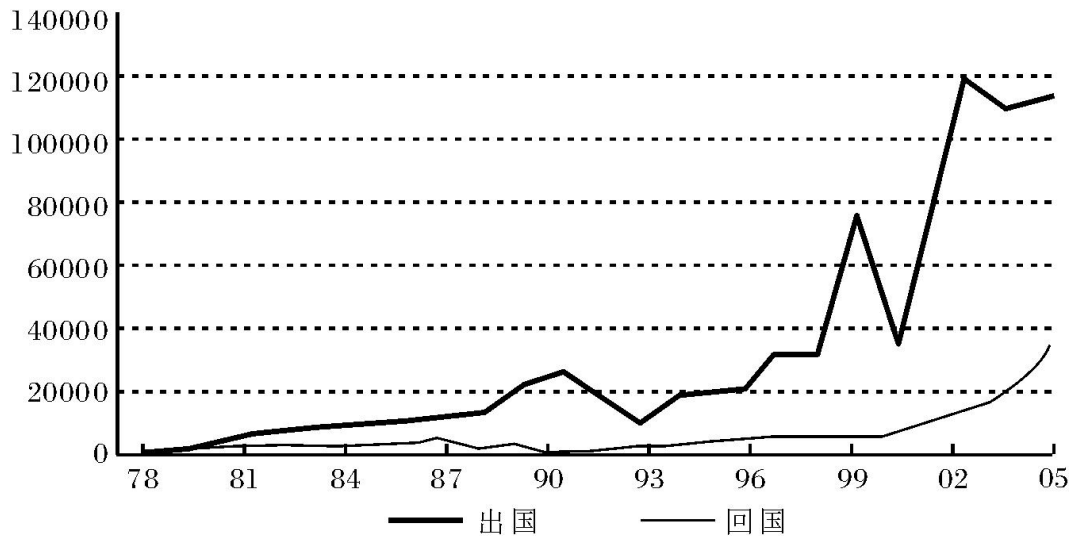
(I) 华东六省一市的建成区园林绿化地率平均值约为 30%。

(II) 华东地区的公园个数最多和最少的分别是浙江省和江西省。

(III) 上海市的游人量高于华东地区的其他六省。

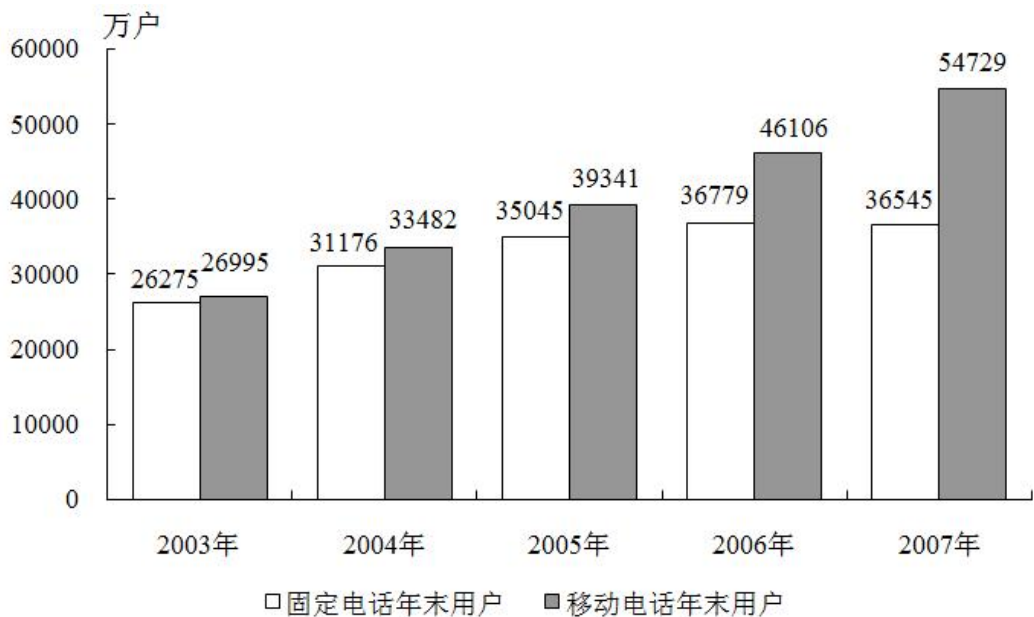
A、0 B、1 C、2 D、3

(材料)



1978~2005年我国留学出国与回国人数 (单位: 人)

- 121、留学出国人数与回国人数是否都有逐渐增加趋势?
 A、前者没有, 后者有 B、前者有, 后者没有 C、都有 D、都没有
- 122、1990—2005 年的各年中, 留学出国与回国人数之比最小约是:
 A、1:1 B、2:1 C、3:1 D、4:1
- 123、留学出国人数波动最大的时期是:
 A、1989—1992 年 B、1990—1994 年 C、2001—2005 年 D、1999—2002 年
- 124、2005 年与 2000 相比, 留学出国人数增加了约多少人?
 A、6000 B、80000 C、85000 D、90000
- 125、下列说法正确的是:
 A、进入新世纪以来, 留学出国人员的回国人数明显增多
 B、改革开放以来, 留学出国人员的回国人数逐年增加
 C、2000 年—2005 年期间, 留学出国人数有减少趋势
 D、从 1980—2005 年这一期间, 并非每一年的留学出国人数都比回国人数多



2003—2007 年末电话用户情况示意图

- 126、2003 年至 2007 年间, 我国固定电话用户与移动电话用户数量最接近的年份是:

A、2003年 B、2004年 C、2005年 D、2006年

127、根据上图，年末移动电话用户数增幅最大的年份是哪一年？

A、2004年 B、2005年 C、2006年 D、2007年

128、若按2007年的固定电话增长率保持不变，预计到2008年年末全国固定电话用户数是多少？

A、36779万户 B、36545万户 C、36311万户 D、36312万户

129、根据所给材料，下列表述正确的一项是：

A、2004年末我国固定电话用户数占电话用户总数的1/3

B、2005年末我国固定电话用户增幅比移动电话用户增幅低约5个百分点

C、2006年末我国固定电话用户增幅与移动电话用户增幅相当

D、2007年末我国电话用户总数约是2003年末用户总数的两倍

130、根据所给资料，下列推断不正确的一项是：

A、2004年以来，我国移动电话用户年新增量均高于固定电话用户年新增量

B、预计到2010年，移动电话用户数将大大高于固定电话用户数

C、2003年以来，我国固定电话用户数呈逐年减少的趋势

D、2006年，我国固定电话用户数达历史最高水平