

# 2006年浙江省党政机关录用国家公务员(机关工作人员)考试

## 行政职业能力倾向测验

### 第一部分言语理解与表达(共25题,参考时限25分钟)

每道题包含一段话或一个句子,后面是一个不完整的陈述,要求你从四个选项中选出一个来完成陈述。注意:答案可能是完成对所给文字主要意思的提要,也可能是满足陈述中其他方面的要求,你的选择应与所提要求最相符合。

请开始答题:

1、2004年8月15日,新浪网上《道路交通安全法》中“机动车负全责”条款在网民的投票中中认为不合理和合理的得票比例为悬殊的90.85%对0.45%。于是我们不禁要问,那些既无公家车可坐,亦无私家车可开,天天坐着公共汽车或者骑着自行车甚至只靠两只脚走在熙熙攘攘的马路上为生存奔波的最广大的民众,会有几人出现在这90.85%或者0.45%的中间?

下列陈述,不能从文意中得出的是:

- A、在网络话题中,少数人的意见往往可以被认为是多数人的意见
- B、作者认为《道路交通安全法》中“机动车负全责”条款是不合理的
- C、网络所反映的民意难言是真正的促销,其可靠性值得怀疑
- D、作者对“机动车负全责”条款采用网络调查这种方式进行持否定态度

2、李敖写《北京法源寺》,最后说:艾略特\_\_\_\_\_小说到了福楼拜和詹姆士之后已无可为,但那还是七十年前说的。艾略特若看到七十年后现代影视的挑战,将更惊讶于萧索在视觉映像上的落伍和在传播每体上的败绩……那些妄想靠小说笔触来说故事的也好、纠缠形式的也罢,\_\_\_\_\_。

依次填入短文空白处,最恰当的一项为:

- A、已咬定其实都难以挽回小说的败局
- B、已咬定都将直接加速小说的全面溃败
- C、曾经怀疑其实都难以挽回小说的败局
- D、曾经怀疑都将直接加速小说的全面溃败

3、虽然政府已经加大力度整顿和规范市场经济程序,并且市场秩序已经有所好转,但是在某些方面和领域依然存在着严重的问题。例如,偷税、骗税、商业欺诈、逃避债务、财务失真、违反财经纪律等行为时有发生,而假冒伪劣商品、文化市场混乱、工程质量低劣等问题也引起民众的强烈反应……

这段话后,作者最有可能得出哪个结论?

- A、政府部门需要进一步转变职能,政事分开、政企分开
- B、社会主义市场经济体制下,政府的经济调节职能必须得到加强
- C、政府必须加大对经济的直接干预力度
- D、政府需要建立和完善市场监管机制、加强市场监管力度

4、决定健康水平的变量很多,包括社会、文化、经济等因素。一个可能妨碍健康水平改善的问题是不断积累的社会经济不平等。过去二十五年中,一系列跨国实证研究已经把社会经济不平等跟发病率、死亡率、预期寿命和医疗服务水平等联系起来。研究发现,在其他条件相同的情况下,一个国家越是不公平,其健康状况也越差。根据这段话,我们可以得出的结论是:

- A、在利用和享受社会、文化、经济资源时,A国国民得到了很大的公平,那么A国国民的健康水平一定很高
- B、最近十年来,B国国民收入提高了,营养改善了,国家投入医疗保健中的资源也增加了,那么与十年前相比,B国国民的健康水平一定大大提高了
- C、一国在社会、文化、经济等方面的不平等很可能转化为在医疗服务等方面的不平等,从而影响到国民的健康水平
- D、一国国民发病率、死亡率的高低和预期寿命的长短又该国的社会经济是否平等及其平等程度决定

5、从科学本身而言,要得出新的理论,首先,要在更高的思想层次上做出抽象,把所涉及事物的本质客观地联系起来,即得出一个统一的模型;其次,在这个模型基础上推导出新的理论,要把已有的有关单独理论概括其中,即新理论可以解释原有理论能够解释的全部。这就是科学活

动所遵循的基本逻辑。以下选项中最能反映这种逻辑顺序的是：

- A、新框架——新理论——新探索      B、新框架——新探索——新理论  
C、新探索——新理论——新框架      D、新理论——新框架——新探索

6、由于缺铁，40%到60%的婴儿面临着大脑发育迟缓的威胁，每年大约10万婴儿在围产期面临死亡的威胁。根据发达国家的经验，适应中国人的饮食习惯，专家们提出了铁强化酱油的现状。只要食用“铁酱油”，就能基本改善缺铁的现状。政府接纳了专家的意见，启动了铁强化酱油的全国性营养改善项目，并采取措施保证“铁酱油”的价格与普通酱油相当。可惜，公益性的营养改善计划无人知晓，“铁酱油”至今大都在货架上睡觉。这段话的主旨是：

- A、由于缺铁，我国初生婴儿的健康状况不容乐观  
B、铁强化酱油的全国性营养改善项目无法迅速有效地传递给大众，并为大众接受  
C、政府启动“铁酱油”项目前缺乏充分的时常调查，其做法值得商榷  
D、食用铁强化酱油不能解决婴儿缺铁的问题

7、“国有贤良之士众，则有国家之治厚；贤良之士事，则国家之治薄。”人才，尤其领导人才，如何科学准确地识别、选拔、使用，是事关国家兴亡的重大问题。江泽民同志在中央纪委第七次全会上特别强调，要把人选准用好，干部的优劣和是非功过，群众看得最清楚，也最有发言权，对于如何识人、用人的问题，他引用孟子的一段话说：“左右皆曰贤，未可也；诸大夫皆曰贤，未可也；国人皆曰贤能，然后察之；见贤焉，然后用之。”这段材料在如何识人、用人的问题上着重强调的是：

- A、人才，特别是领导人才的选拔必须十分慎重  
B、必须努力创新人才选任机制，选拔人才、用好人才，为国家服务  
C、走群众路线，从多数人的意见中考察了解人  
D、人才是立国之本，必须尊重人才

8、这里是典型的黄土高原沟壑区，水土流失非常严重；土地贫瘠，十年九旱。尽管有国家的好政策，使部分群众走上了致富的道路，但仍有不少农民挣扎在贫困线上。这段话主要说明了：

- A、黄土高原上经济落后，文化匮乏，和外面丰富多彩的世界形成了鲜明对比  
B、与其等待国家的政策援助，当地政府不如因地制宜，发展地区特色经济以摆脱贫困  
C、恶劣的自然环境是当地人民走向富裕的一个主要障碍  
D、解决部分西北贫困地区人民群众的温饱问题是协调发展的当务之急

9、提高服务业的比重和水平，要制定和完善促进服务业发展的政策措施，大力发展金融、保险、物流、信息和法律服务等现代服务业。积极发展文化、旅游、社区服务等需求潜力大的产业，运用现代经营方式和信息技术改造提升传统服务业这段话的主旨是：

- A、应当制定正确积极的政策引导服务行业优先发展  
B、我们需要大力发展潜力巨大的现代服务业以带动其余周边服务行业的发展  
C、提高服务业在整个国民经济中的比重体现了现阶段结构调整的目的所在  
D、要以科学的政策为导向，有重点、有层次地推进我国服务业的发展

10、推理通常分为演绎推理和归纳推理。演绎推理即根据某种一般性原理和个人性例证，得出关于该个别性例证的新结论。归纳推理则从一定数量的个别性事实，抽象、概括出某种一般性原理。但更精确的说法是：演绎推理是必然性推理，即前提真能够确保结论真；归纳推理是或然性推理，前提只对结论提供一定的支持关系，前提真结论不一定真。最能准确地体现这段话的本意的是：

- A、推理是研究个别与一般关系的科学  
B、演绎推理是必然性推理，也是唯一可以用于指导实践的推理方式  
C、这段文字概括了演绎推理和归纳推理的区别所在  
D、推理实际上是人类认识自然的主要工具

12、车轮卷起的黄土，却见山野入秋，庄稼割过，静谧中含着一些寂静，只有阳光在切割过的根茬上烁烁闪亮。\_\_\_\_\_。填入横线最恰当的是：

- A、这是一段颠簸的行程，一路上景色苍凉浑厚，寂静中裸露着贫瘠

- B、也许是久旱的缘故，这边的溪流也变成了涓涓细流，在盘踞的石缝间流动
- C、同绿色的南方相比，这里是荒凉的，乃至荒蛮、推理是研究个别与一般关系的科学
- D、偶见人迹，大都是荒村野店。时而会有一座小小的孤庙一闪而过

11. 《著作权法》保护的作品，必须具有一定的物质表现形式，能够被第三人利用、复制。这种物质表现形式多样，如各种文字作品、音乐作品及科学技术作品。这是因为作品受法律保护的原因之一是要使其得到传播、利用。更好的作品存在于作者的思想之中，也是没有办法让第三人知晓利用的。这段话直接支持的观点是：

- A、著作权受到法律保护的根本原因在于其具备一定的物质表现形式
- B、《著作权法》保护的对象首先必须是独创性的智力劳动成果，例如作者的构思
- C、期刊、乐谱、设计图都可以成为著作权保护的对象
- D、作品受法律保护的必要条件之一是它本身必须具备一定的物质表现形式

13. 美国联邦所得税是累进税，收入越高，纳税率越高。美国有的州还在自己管辖的范围内，在绝大部分出售商品的价格上附加 7% 左右的销售税。如果销售税也被视为所得税的一种形式的话，那么，这种税收是违背累进制原则的；收入越低，纳税率越高。这段话意在说明：

- A、事实上人们花在购物上的钱基本上是一样的
- B、销售税计算方式有悖于政府防止贫富差距扩大的本意
- C、联邦所得税与销售税计算方式的不同困扰了美国人的生活
- D、从计算方式来分析，销售税不能被视为联邦所得税的一种

14. 翻开许多城市的晚报，许多航空公司都在刊登入下广告：“飞机远比汽车安全！你不要被空难的夸张报道吓破了胆，根据航空业协会的统计，飞机每飞行 1 亿千米死 1 人，而汽车每行驶 5000 万千米死 1 人。”汽车工业协会对这个广告大为恼火，它们通过电视公布了另外一个数字：“飞机每 200 万飞行小时死 1 人，而汽车每 2000 万行驶小时死 1 人。”这段话告诉我们：

- A、通过距离与时间的比较我们可以发现事实上汽车远比飞机安全
- B、面对媒体宣传我们不能单方面相信某些信息，了解事实真相还需要作全方位的分析
- C、媒体只关心能否提高收视率和发行量，不尊重事实
- D、为抢夺客源，新旧交通巨头之间的矛盾冲突愈演愈烈

15. 公共部门私有化使政府规模和活动范围大大减小，也改变了政府在国家经济活动中的形象，用撒切尔夫人自己的话来说，保守党内阁拒绝集权式管理、官僚主义和干预者风格的政府形象，政府不必告诉人们应该做什么和怎样做，政府干预的利益早已消失了，政府必须坚信自由和自由市场，自觉限制自己的活动范围，相信企业的创造力。这段话直接支持了下列哪种观点？

- A、完全竞争市场的出现使英国的经济增长在一定时期内达到了最优状态
- B、政府机构改革与职能转变是各国经济发展的关键
- C、公共部门私有化改变了政府的策略，改善了政府形象
- D、从“强政府，弱市场”到“弱政府，强市场”的转变使英国自由资本主义的飞速发展注入了新活力

16. 中介机构的唯一资产是信誉，如果中介结构不讲信誉，她们就不可能提供真实的信息。为了使中介结构讲信誉，中介不能变成法定的垄断组织，也不应该是政府的附属。目前世界上比较权威的第三方认证机构，比如穆迪和惠誉（Fitch）都是私人性质的，不属于政府，原因就是第三方认证机构在信息披露的真实性和有效性方面远远强于政府。这段文字告诉我们：

- A、信息化中的信用问题日益突出，成为目前人们关注的重要话题
- B、信息的真实性，有效性代表了信息领域新的价值取向
- C、中介机构要在竞争中赢得一席之地必须把握好“信誉”这个法宝
- D、为保证所提供信息的准确性，中介机构应当远离垄断和政府干预

17. 在中国走向市场经济的过程中，我们发现，需要改变、调整的政策数量极大，可以说经济制度的转型，导致了生产政策、分配政策、消费政策的全面转型，其影响甚至已经远远超出了经济政策方面。市场经济制度对公共政策的影响，已经成为学术界探讨的重要主题。最能准确地复述以上这段文字的一段是：

- A、经济制度是国家的命脉，若要改革，必定触一发而动全身
- B、学术界的理论探讨走在改革前沿，不断为经济建设开拓新的视界
- C、随着市场经济制度的完善，我国的公共政策在不断变动休整中走向成熟，然而任务依然艰巨
- D、市场经济对我国的公共政策体系产生了巨大冲击，同时引发了广泛的社会思考

18. 利马窦等人的汉化和儒化是为了借助中国传统的语言、文字和思想，找到制约宣传基督教教义的切入口，可在这一过程中，他们也有被精深的中学所折服的成分，这在利马窦的中文著述以及与士大夫的酬唱应和之作中可以透出消息。通过以上文字，作者主要想说明的是：

- A、汉化和儒化是西方传教士宣传基督教教义的切入口
- B、利马窦等人学习中国传统文化是因为他们对之深为佩服
- C、利马窦等人既借助了中国传统文化也受到了中国传统文化的影响
- D、中国传统文化的语言、文字和思想博大精深，传教士难免不被汉化

19. 河北井陉有座山，叫苍岩山；山上有座庙，叫福庆庙；临门有副对联：“殿前无灯凭月照，山门不锁待云封。”王维山水诗，据说最得“空寂”神致，但“寂寞掩柴扉，苍茫对落晖”（《山居即事》），还是暴露了“掩柴扉”的人。而“山门不锁待云封”，好象更有“空山无人，万物随缘”的神意。此段文字主要是要说明：

- A、王维在古代诗人中并不是最得“空寂”神致的
- B、这副对联的“空寂”神致深受王维诗句的影响
- C、这副对联比王维诗句更具有“空寂”神致
- D、对联的作者是位归诚佛门、参透神理的诗僧

20. 据了解，针对药价虚高的现象，国家发改委希望通过药品局统计，自政府恢复对部分药品价格实行管制以来，已经进行了17次药品降价，截至目前，已经制定、调整了国家医保目录的1000多种药品的最高零售价。但由于流通环节的繁琐和暗箱操作等原因，药品价格依然很高，实际药价与患者的期望值仍然具有较大差异。根据这段文字，我们可以知道：

- A、国家已经通过调整国家医保目录的1000多种药品最高零售价解决了药价虚高的问题
- B、患者认为药价过高是患者期望值过高的缘故
- C、对药品价格实行管制是解决药价虚高的根本方法
- D、通过减少流通环节和实施透明操作使药品降价已成为当务之急

21. 中国古代对于日月星辰、名山大川等自然神的崇拜。中国古代宗教中至上神——“天帝”的崇拜。中国古代宗教中至上神的出现与世俗社会帝王的产生是相对应的。由于世俗社会中出现了阶级，出现了国家及作为国家最高统治者的帝王，因此，天国中也随着出现了凌驾于众神的“天帝”、“上帝”。最能准确复述这段话主要意思的是：

- A、人类对于天帝的崇拜是相应于人类社会阶级分化中帝王的出现开始的
- B、人们对于自然的崇拜在夏商周三代转换为对神的崇拜
- C、宗教与国家不可分离
- D、对天帝的崇拜是比对自然神的崇拜更高级的层次

22. 我们不拒斥时尚，并乐于承认自己在生活中还曾受惠于时尚。但说文学不能脱离时代与不能脱离时尚，其间区别是巨大而本质的。因为作家不是模特、艺人或设计师，他可以追随时代，但永远不能攀附潮流。因为跟着潮流亦步亦趋，只能使他变成一个受塑者而做不成创造者。并且，这种随潮流旋趋旋弃，力求尽人而悦之，必然会使他丧失独立的个体意志，既不能复苏一种精神，又难以启迪更有意义的人生，最终不是在畅销中迷失，就是在时尚中死亡。这段话的主旨是：

- A、真正的文学与时尚无关
- B、文学多少要受惠于时尚
- C、时尚文学必然死亡
- D、作家既要追随时代更应跟随时尚

23. 无论是科技因素、心理因素，还是其他种种因素，对于幸福感的产生均不是必然的，同时也是不可度量的。那种有了科技、满足了个人追求就必然会幸福的想法是站不住脚的。同样，他们对于幸福感而言，其作用也并非总是正向的。应该说，在幸福感来源问题上，科技、心理或是其他诸如价值体系等，只是影响因素，同幸福感之间没有必然的因果联系。下列哪个选项最符合这段文字的意思：

- A、科技不是幸福的必要条件                      B、科技仅仅是幸福感的影响因素  
C、科技对于幸福感的产生是不可度量的        D、科技对于幸福感的作用并非总是正向的

24. 苏州园林的造园者将他们对自然的理解和对自然美的高度鉴赏能力，用写意手法融入于造园艺术中，在体现文人隐逸思想的同时，努力体现文人画的画意，“多方胜境，咫尺山林”，使园林成为“无声的诗，立体的画”，“充满”诗情画意。在以上话语中，作者论述的是：

- A、自然美和园林艺术的关系                      B、写意手法和造园艺术的关系  
C、文人画和造园艺术的关系                      D、文人隐逸思想和造园艺术的关系

25. 由于人为活动的破坏和自然因素的制约，多年得不到回补，水土流失日益严重。目前还没有找到适合的回血循环办法，土地的将来很值得人们持续的关注。改变农业长久以来形成的劳作习惯并非一日可成，况且主要的是要改变农业的生产模式，这需要生产力的提高，显然不可能一蹴而就。文中的“这”指代的是：

- A、人们持续的关注                      B、改变农业长久以来形成的劳作习惯数量关系（）  
C、改变农业的生产模式                      D、找到适合的回血循环办法

## 第二部分（共 20 题，参考时限 30 分钟）

本部分包括两种类型的试题：

一、数字推理：共 5 5 题。给你一个数列，但其中缺少一项，要求你仔细观察数列规律，然后从四个供选择的选项中选择你认为最合理的一项，来填补缺项。或给你一个数字，填入四个数列的空缺项中，选出你认为最具有排列规律的那个数列。

请开始答题

- 26、1/9, 1, 7, 36, ( )  
A、74    B、86    C、98    D、125  
27、1, 3, 8, 16, 27, ( )  
A、39    B、41    C、43    D、45  
28、67, 75, 59, 91, 27, ( )  
A、155    B、147    C、136    D、128  
29、8, 48, 120, 224, 360, ( )  
A、528    B、562    C、626    D、682  
30、2, 2, 4, 6, 10, ( ), 26  
A、9    B、16    C、16    D、20

二、数学运算：共 15 5 题。每道题呈现一道算术式，或表述数字关系的一段文字或几何图形，要求你迅速、准确地计算或论证出答案

请开始答题：：

- 31、 $9e^{2006}$  的个位数是：（ $9e^{2006}$  表示 9 的 2006 次方）  
A、1    B、2    C、8    D、9  
32、 $1/3 + 1/15 + 1/35 + 1/63 + 1/99 + 1/143 + 1/195 + 1/255$  的值是：  
A、6/17    B、6/19    C、8/17    D、8/19

33、商场促销前先将商品提价 20%，再实行“买 400 送 200”的促销活动（200 元为购物券，使用购物券时不循环赠送）。问在促销期间，商品的实际价格是不提价商品原价格的几折？

- A、7 折    B、8 折    C、9 折    D、以上都不对

34、有 1 角、2 2 角、5 5 角和 1 1 元的纸币各 1 张，现在从中抽取至少 1 张，问可以组成不同的几种币值？

- A、18 种    B、17 种    C、16 种    D、15 种

35. 物美超市的收银台平均每小时有 60 名顾客前来排队付款，每一个收银台每小时能应付 80 名顾客付款。某天某时刻，超市如果只开设一个收银台，付款开始 4 小时就没有顾客排队了，问如果当时开设两个收银台，则付款开始几小时就没有顾客排队了？（ ）

- A. 2 小时    B. 1.8 小时    C. 1.6 小时    D. 0.8 小时

36. 某一天, 小张发现办公桌上的台历已经有 7 天没有翻了, 就一次翻了 7 张, 这 7 张的日期加起来之和是 77, 那么这一天是( )。

- A. 13 日    B. 14 日    C. 15 日    D. 17 日

37. 现有一种预防禽流感药物配置成的甲、乙两种不同浓度的消毒溶液。若从甲中取 2

100 克, 乙中取 700 克混合而成的消毒浓度为 3%; 若从甲中取 900 克, 乙中取 2700 克, 则混合而成的溶液的浓度为 5%。则甲、乙两种消毒溶液的浓度分别为:

- A、3% 6%    B、3% 4%    C、2% 6%    D、4% 6%

38. 将一根绳子连续对折三次, 然后每隔一定长度剪一刀, 共剪 6 刀。问这样操作后, 原来的绳子被剪成几段?

- A、18 段    B、49 段    C、42 段    D、52 段

39. 从甲、乙两车站同时相对开出第一辆公共汽车, 此后两站每隔 8 分钟再开出一辆, 以此类推。已知每辆车的车速相同且都是匀速的, 每辆车到达对方站都需要 45 分钟。现有一乘客坐甲站开出的第一辆车去乙站, 问他在路上会到几辆从乙站开出的公共汽车。

- A、4 辆    B、5 辆    C、6 辆    D、7 辆

40. 乒乓球比赛的规则是五局三胜制。甲、乙两球员的胜率分别是 60% 和 40%, 在一次比赛中, 若甲先连胜了前两局, 则甲最后获胜的概率:

- A、为 60%    B、在 81%—85% 之间    C、在 86%—90% 之间    D、在 95% 以上

41. 某团体从甲地到乙地, 甲、乙两地相距 100 千米, 团体中一部人乘车先行, 余下的人步行, 先坐车的到途中某处下车步行, 汽车返回接先步行的那部分人, 已知步行速度为 8 千米/小时, 汽车速度为 40 千米/小时。问使团体全部成员同时到达乙地需要多少时间。

- A、5.5 小时    B、5 小时    C、4.5 小时    D、4 小时

42. 跑马场上有三匹马, 其中上等马一分钟能绕场跑 4 圈, 中等马一分能绕场跑 3 圈, 下等马一分钟能绕场跑 2 圈。现在三匹马从同一起跑线上出发, 同向绕场而跑。问经过几分钟后, 这三匹马又并排跑在起跑线上。

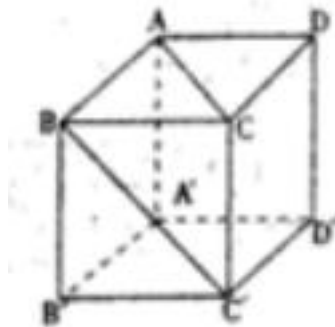
- A、1 分钟    B、4 分钟    C、12 分钟    D、24 分钟

43. 有一种长方形小纸板, 长为 199 毫米, 宽为 111 毫米。现在用同样大小的这种小纸板拼合成一个正方形, 问最少要几块这样的小纸板拼合成一个正方形, 问最少要几块这样的小纸板?

- A、157 块    B、172 块    C、209 块    D、以上都不对

44. 从平面 A 外一点 P 引与 A 相交的直线, 使得 P 点与交点的距离等于 1, 则满足条件的直线条数一定不可能是:    A、0 条    B、1 条    C、2 条    D、无数条

45. 正方体中, 侧面对角线 AC 与所成的角等于:




- A、90°    B、60°    C、45°    D、30°

**第三部分判断推理** (共 30 0 题, 参考时限 25 5 分钟)

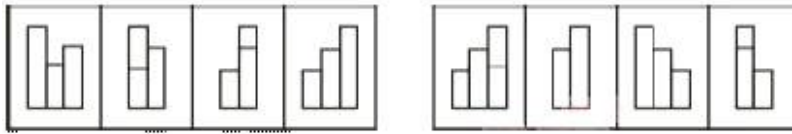
本部分包括四中类型的试题: **图形推理: 共 88 题。**包括两种类型的题目: 每道题目的左右 4 4 个图形呈现一定的规律性, 你需要在右边所给出的备选答案中选出一个最合理的答案使之符合左边的规律性。每道题只有一个正确答案。

请开始答题: (提示: 后面那个四个图分别是选项 A, B, C, D)

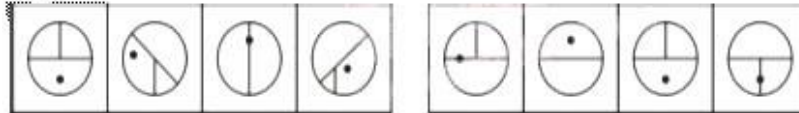
46. .



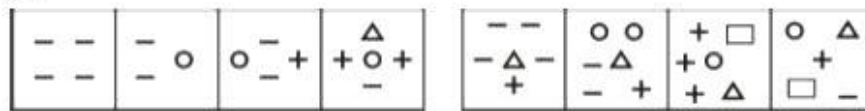
47.



48.



49.





请从所给的四个选项中，选择最适合的一个填在问号处，使之呈现一定的规律性。

请开始答题：


50.





51.



52.



53.



定义判断：共 5 题。

每道题先给出一个概念的一定，然后分别列出四种情况，要求你严格依据定义，从中选出一个最符合或最不符合该定义的答案。注意：假设这个定义是正确的，不容置疑的。请开始答题：

54、工业产权：是指法律规定对应用于生产和流通中创造发明和显著标记等智力成果在一定期限和地区内享有占有权。下列属于工业产权的是：

- A、某国有企业车间、厂房等不动产的所有权
- B、某电器生产企业对经多年打拼创下的品牌享有的权利
- C、某化工厂的高新技术研究所的产权
- D、某企业近期购买的某国外先进流水线生产设备的所有权

55、行政行为：是指国家行政机关及其工作人员行使行政权利，产生法律后果，以实现国家行政管理目的的行为。根据以上定义，下列行为属于行政行为的是：

- A、某市税务局购买的高性能计算机用于提高税务管理水平
- B、某公安人员为搜捕逃犯，未持证件强行查该犯私宅
- C、某县消费者协会帮助农民向出售假种子的经营者索赔
- D、教育局就治理中小学“乱收费”召开学生家长座谈会

56、模仿：是指在没有外界控制的条件下，个体受到他人行为的刺激，自觉或不自觉地使自己的行为与他人相仿。下列哪一行为不属于模仿？

- A、她觉得别人穿这种衣服很漂亮，于是自己也去买了穿
- B、小孩看到行人将地上的易拉罐一脚踢飞，于是把自己手中的塑料瓶也扔在地上踢开
- C、很多专家不约而同地预测到同一个彩票号码，于是小刘立刻去买了五十注该号码
- D、他本想插队，但看见别人都在按秩序排队购票，就自觉地走到队伍的最后

57、挑拨防卫：是指估计挑拨他人对自己进行攻击，然后以“正当防卫”为借口对其加以侵害的行为。下列属于挑拨防卫的是：

A、某甲与某乙妻子通奸，被乙痛打，遂产生杀人报复之念。甲先到乙门口把乙妻叫出来，乙追出来便打，甲用匕首将乙捅死

B、王、赵二人争吵不休，王说：“你再骂，我就打你！”赵不甘示弱：“你打我试试。”于是二人打了起来

C、兄弟三人争夺一个家传古砚，老大一气之下将其摔碎，老二老三一起殴打老大，老大奋起反抗

D、一无业人员抢夺别人皮包时被抓住，遭到殴打，于是拼命还手，造成对方伤亡

58、保证：是指保证人和债权人合同约定，当债务人不履行债务时，保证人按照约定履行债务或者承担怎人的行为。以下属于保证的是：

A、甲借给乙 100 万元，并合同约定若债务到期后乙无法支付欠款，则保证以乙的妻子饼（已与乙分居）所有的一辆轿车充抵欠款

B、副总经理赵某以一幢位于市中心的房子做保证向银行申请 500 万元贷款以缓解公司资金周转困难，约定若到期无法还款，将房屋拍卖抵债

C、张三向李四借钱，王五在旁说：“我保证张三能按期还钱，不然我揍他。”

D、李某因急用向同事严某借钱 5000 元，并找了阮某签字做保证

#### 第四部分类比推理：共 5 题。

先给出一对相关的词，要求你在备选答案中找出一对与之在逻辑关系上最为贴近或相似的词。请开始答题：

59. 钟表：时光

- A. 潜艇：深度
- B. 铅笔：素描
- C. 毛衣：温暖
- D. 天平：质量

60. 玫瑰：爱情

- A. 烛光：母爱
- B. 小草：卑微
- C. 金子：财富
- D. 雄鹰：搏击



61. 恐慌：灾难

A. 热情：朋友 B. 死亡：危险 C. 快乐：富裕 D. 内疚：错误

62. 篝火：寒冷

A. 日记：隐私 B. 网络：代沟 C. 键盘：手写 D. 湖泊：干渴

63. 罗曼蒂克：浪漫

A. 博客：网络日志 B. 洗手间：厕所 C. 一级棒：顶好 D. 厚道：老实

演绎推理：共 12 题。 每题给出一段陈述，这段陈述被假设是正确的，不容置疑的。要求你根据这段陈述，选择一个答案。注意：正确的答案应与所给的陈述相符合，不需要任何附加说明即可以从陈述中直接推出。请开始答题：

64. 甲、乙、丙、丁四个百米运动员赛跑，一共赛了四次。其中甲比乙快的有三次，乙比丙快的有三次，丙比丁快的有三次。根据上述条件，可以推断：

A. 丁至少有两次跑在最后 B. 丁至少有三次跑在最后  
C. 丁四次都跑在最后 D. 丁有可能比甲快三次

65. 某研究表明，如果中子星的质量超过 3.2 2 倍太阳的质量，中子就无法与自身引力相抗衡，从而发生中子塌陷。下列观点能有力支持以上推断的是：

A. 宇宙中存在质量比中子星大无数倍的黑洞  
B. 宇宙中存在着许多密度是中子星 3.2 2 倍以上的神秘星体  
C. 自然界中没有任何物质能支撑 3.2 2 倍以上太阳质量的物质引起的引力  
D. 塌陷是大质量中子星使内部达到新的平衡的途径之一

66. 私营部门试图通过提供高薪来吸引有技能的研究科学家。结果，大多数受雇于私营部门的研究科学家赚的钱比技能相仿的在政府部门工作的研究科学家多出 50%。所以，除非政府雇佣的研究科学家更多地被对公众地职责感而不是被他们地个人利益所驱使，否则政府就有可能使它最有技能地科学家流失到私营部门，因为这些科学家中没有人会在私营部门中找不到工作。上述论述依赖的假设是：

A. 与私营部门相比，政府部门的研究科学家的科研贡献难以被承认  
B. 目前，在政府部门工作的研究科学家中，没有人赚的钱比受雇于私营部门的研究科学家多  
C. 政府部门雇佣的技能卓越的研究科学家的人数没有私营部门中多  
D. 政府不给它的研究科学家提供非常好的工作条件或由于低薪水所应获得补偿的额外福利

67. 地理老师画了亚洲、欧洲、美洲、非洲和大洋洲的图形，并给每个图形编了代号，然后请五个同学上来每人认出两个洲。同学们的回答都不一样，甲：3 是欧洲，2 是美洲；乙：4 是亚洲，2 是大洋洲；丙：1 是亚洲，5 是非洲；丁：4 是非洲，3 是大洋洲；戊：2 是欧洲，5 是美洲。地理老师说：“你们每人对了一半。”根据上述条件，下列判断中正确的是：

A. 1 是亚洲，2 是欧洲 B. 2 是大洋洲，3 是非洲  
C. 3 是欧洲，4 是非洲 D. 4 是美洲，5 是非洲

68. 核聚变的主要原料之一氘在自然界中的分布很广，在海水中，每 6700 个氢原子中就有一个氘原子。因此，可以认为，核聚变的能源事实上是取之不尽的。若上述结论成立，下列哪些项必须为真？（1）海水中存在着数量巨大的氢原子（2）现有技术水平能成功分离氢原子和氘原子（3）反应之后的氘原子存在于水分子中

A. (1)(2) B. (1)(3) C. (2)(3) D. (1)(2)(3)

69. 某公司规定，只有在本公司连续工作 20 年以上或者具有突出业绩的职工，才能享受公司发放的特殊津贴。小张虽然只在该公司工作了 3 年，但现在却享受公司发放的特殊津贴，因此他一定是作出了突出业绩。下列选项的推理方式与上述题干最为类似的是：

A. 要想取得好成绩，既要勤奋学习，又要方法得当。汪洋虽然勤奋，但成绩不太好，看了他的学习方法不当

B. 一个罪犯要实施犯罪，必须既有作案动机，又有作案时间。在某案中 A 嫌疑人有作案动机，但却无作案时间，因此，A 嫌疑人不是该案的作案者

C. 如果既经营无方又铺张浪费，那么一个企业必将严重亏损。大鹏公司虽经营无方，但并没出现严重亏损，这说明它至少没有铺张浪费

D. 法制的健全或者执政者强有力的社会控制能力是维持一个国家社会稳定必不可少的条件。

某国社会稳定，但法制尚不健全，因此，其执政者一定具有强有力的社会控制能力

70. A市卫生局调查发现，最近几年来，成年人患乙肝的病例在逐年增多。但是A市卫生局局长说，以此还不能得出乙肝发病率正在逐年上升的结论。以下哪项为真，最能支持局长的发言？

- A. 成年人的乙肝发病数据是根据A市卫生局几次抽样调查的结果推出的
- B. 调查显示，A市未成年人中的乙肝病例大幅度下降了
- C. 近年来，A市农村地区的乙肝发病率有所下降
- D. 最近几年，A市越来越多的居民注射了乙肝疫苗

71. 科学家经过归纳发现，地球上之所以有生命存在，至少是具备了以下条件：一是存在液态水；二是与热源保持一定的距离从而产生适当的稳定的温差范围；在宇宙的其他地方，这两个条件的同时出现几乎是不可能的，所以其他星球上不可能存在与地球上一样的生命。下列最能反驳以上观点的是：

- A. 液态水与一个稳定的温差范围不是生命产生的唯一条件
- B. 人类观测宇宙的科技水平尚未达到足以使人类了解整个宇宙的高度
- C. 科学家发现某行星上曾有很长一段时间存在液态水
- D. 科学家预言宇宙生物的环境适应能力可能比人类强

72. 某学校新来了三位年轻老师，蔡老师、朱老师、孙老师，他们每人分别教生物、物理、英语、政治、历史和数学六科中的两科课程。其中，三个人有以下关系：（1）物理老师和政治老师是邻居；（2）蔡老师在三人中年龄最小；（3）孙老师、生物老师和政治老师三人经常一起从学校回家；（4）生物老师比数学老师年龄要大些；（5）在双休日，英语老师、数学老师和蔡老师三人经常一起打排球。根据以上条件，可以推出朱老师教：

- A. 历史和生物
- B. 物理和数学
- C. 英语和生物
- D. 政治和数学

73. 这种基于网络的信息流却有着自身的致命缺陷，那就是确保信息的真实性存在难度。由于缺乏相应的监督机制与过滤程序，任何人、任何团体只要具备了自主意识和网络条件，都可以成为信息流的制造者，甚至可以引导信息流的价值趋向和未来走势。上面陈述直接支持的观点是：

- A. 网络信息具备迅捷快速的优点，真实性缺乏是其硬伤
- B. 网络信息的制造者严重缺乏社会责任感
- C. 开放性的信息流具有随机性和偶然性，可能对生活带来消极影响
- D. 在网络信息时代，网络就像一把双刃剑，可以造福人类，也可能带来灾难性后果

74. 尽管计算机可以帮助人们进行沟通，计算机游戏却妨碍了青少年沟通能力的发展。他们把课余时间都花费在玩计算机游戏上，而不是与人交流上。所以说，把课余时间花费在玩计算机游戏上的青少年比其他孩子的沟通能力差。上述结论最有可能基于以下假设：

- A. 一些被动的活动，如看电视和听音乐，并不会阻碍孩子们交流能力的发展
- B. 大多数孩子在玩计算机游戏之外还有其他事情可做
- C. 在课余时间不玩计算机游戏的孩子至少有一些时候是在与人交流
- D. 由玩计算机游戏带来的思维能力的增强对孩子们的智力开发并没有实质性的益处

75. 近年来，由于医疗服务保障的城乡差异，大城市的人均寿命比农村高了12年，贫困地区儿童死亡率为大城市的9倍。这是某论坛公共卫生分论坛上学者提供的最新研究成果。

下列能够有力削弱以上论述所支持的观点的是（ ）。

- (1) 在某些沿海地区，城乡差别正在日益缩小，农村人口的医疗保障水平已经大大提高
- (2) 某些乡村医院在统计中故意隐瞒儿童死亡记录
- (3) 调查数据基于两年前西北某地区医院的统计
- (4) 该论坛在公共卫生机构中享有很高声誉
- (5) 近年来，我国的人口流动性比以往大大提高

- A. (1)(3)
- B. (2)(3)
- C. (1)(3)(5)
- D. (2)(4)(5)

#### 第四部分 综合基础知识 (共30题, 参考时限20分钟)

根据题目要求，在四个选项中选出一个正确答案。 请开始答题：

76. 我国明代哲学家王守仁认为“心外无物”，月亮、太阳以及世界上的万物都存在于人心之中，都是心之意念的产物。这是\_\_\_\_\_的思想。
- A. 客观唯心主义      B. 主观唯心主义      C. 机械唯物主义      D. 庸俗唯物主义
77. 矛盾的两种基本属性是指( )
- A. 同一性和斗争性      B. 运动性和静止性  
C. 时间性和空间性      D. 普遍性和特殊性
78. 辩证唯物主义认识论中的客体是指( )
- A. 自然界和人类社会      B. 实践和认识活动所指向的一切对象  
C. 物质世界的一切事物      D. 客观存在的所有事物的总和
79. 社会存在与社会意识的关系问题是( )。
- A. 哲学的基本问题      B. 区分自然规律与社会规律的基本问题  
C. 社会历史观的基本问题      D. 划分唯物主义与唯心主义的唯一标准
80. 下列有关剩余价值的几个说法中，不正确的一项是( )。
- A. 剩余价值不是从流通过程中产生的，而是在劳动力的消费过程即资本主义生产过程中形成的
- B. 超额剩余价值是由于商品的个别价值高于社会价值而产生的那部分剩余价值
- C. 绝对剩余价值生产是在必要劳动时间不变的条件下，由于延长工作日的绝对量所产生的剩余价值
- D. 相对剩余价值生产是在工作日不变的条件下，由于必要劳动时间缩短所产生的剩余价值
81. 下列有关新民主主义革命和新民主主义社会的说法中，不正确的是( )。
- A. 新民主主义革命的总路线为：无产阶级领导的，人民大众的，反对帝国主义、封建主义官僚资本主义的革命
- B. 关于新民主主义政治，毛泽东指出，要建立以工人阶级为领导，以工农联盟为基础的民主专政的社会主义国家
- C. 新民主主义革命的三大经济纲领是：没收封建阶级的土地归农民所有，没收四大家族为首的垄断资本归新民主主义的国家所有，保护民族工商业
- D. 新民主主义的文化就是无产阶级领导的人民大众的反帝反封建的文化，即“民族的科学的民主的文化”
82. 1939年10月，毛泽东发表《〈共产党人〉发刊词》一文，阐明了\_\_\_\_\_是中国革命的基本问题。
- A. 武装斗争、土地革命、统一战线      B. 武装斗争、统一战线、根据地建设  
C. 统一战线、武装斗争、党的建设      D. 统一战线、土地革命、根据地建设
83. 在\_\_\_\_\_开幕词中，邓小平第一次提出了“建设有中国特色的社会主义”这个科学命题，它标志着建设有中国特色社会主义思想的正式确立。报告系统地提出了社会主义建设在各个领域的基本任务，确定了全面开创社会主义现代化建设新局面的纲领。
- A. 党的十一届三中全会      B. 党的十二届四中全会  
C. 党的十二大      D. 党的十三大
84. \_\_\_\_\_是党的十六大报告的灵魂，也是贯穿报告全篇的一条主线。
- A. “三个代表”重要思想      B. 建设小康社会  
C. 科学发展观      D. 建设社会主义和谐社会
85. 搞清“什么是社会主义、怎样建设社会主义”，其实质和关键就是要求( )。
- A. 在坚持社会主义基本制度的基础上，进一步认清社会主义的本质
- B. 对商品经济进行重新认识，明确在中国到底可不可以搞市场经济
- C. 纠正“两个凡是”的错误观点，重新确立解放思想、实事求是的思想路线
- D. 吸取“文化大革命”的错误教训，把党和国家的工作重点转移到经济建设上来

86. 我国经济体制改革是从十一届三中全会以后开始的, 改革的核心问题是( )。
- A. 国有企业的产权问题 B. 所有制问题和分配问题  
C. 计划和市场的关系问题 D. 公有制经济和非公有制经济的发展问题
87. 党的十六大指出, 现阶段我国政治体制改革的重点是( )。
- A. 不断完善人民代表大会制度和共产党领导的多党合作和政治协商制度  
B. 着重加强制度建设, 实现社会主义民主政治的制度化、规范化和程序化  
C. 不断推进各级政府机构改革, 深化行政管理体制改革, 精简增效  
D. 坚持和完善社会主义民主制度, 切实尊重和保障人民的政治权利
88. 下列有关需求的表述, 不正确的是( )。
- A. 对消费者需求量影响最大的是消费者的偏好  
B. 奢侈品的需求较富有弹性, 而低档商品的需求较缺乏弹性  
C. 替代商品的价格越高, 数量越少, 消费者对本商品的需求量就越大  
D. 互补商品的价格越高, 数量越少, 消费者购买本商品的数量就越少
89. 绝对优势理论、比较优势理论和要素禀赋论是国际贸易的三个基本理论。其中绝对优势理论是由英国经济学家\_\_\_\_\_提出的。
- A. 大卫·李嘉图 B. 亚当·斯密 C. 休谟 D. 梅奥
90. 国民经济核算是以整个国民经济或\_\_\_\_\_为对象的宏观核算。
- A. 资金实物流量 B. 国民收入 C. 社会再生产 D. 国内生产总值
91. 下列关于经济全球化的说法中, 不正确的是( )。
- A. 其主导力量是技术进步  
B. 其主要表现形式是贸易、投资和金融的全球化  
C. 其内容不仅涉及生产领域, 还包括流通、金融、科技和文化领域  
D. 其核心是各国社会再生产过程的交叉渗透形成全球社会再生产
92. 下列对行政执行的阐述, 不正确的是( )。
- A. 行政执行是实现决策目标的活动 B. 行政执行受权力机关的监督和制约  
C. 行政执行主体可以是行政机关授权的社会团体  
D. 行政执行活动本质上是对未来行政管理活动做出的一种反应
93. 决策过程中最核心、最关键的一步是( )。
- A. 发现问题, 确定目标 B. 调查预测, 拟订方案  
C. 评估优选, 确定方案 D. 实施方案, 修正完善
94. 法的调整对象是( )。
- A. 人的行为 B. 法律关系 C. 法律体系 D. 一定的社会关系
95. 当地方性法规与部门规章的有关规定相抵触时( )。
- A. 地方性法规自然无效 B. 部门规章自然无效  
C. 由国务院提出意见 D. 由最高人民法院裁决
96. 某蔬菜食品公司因销售假酒, 被工商局处以罚款 5000 元、停业整顿的行政处罚。工商局的上述处罚( )。
- A. 是错误的, 只能实施停业整顿的处罚  
B. 是错误的, 只能实施罚款 5000 元的处罚  
C. 是正确的, 不违反一事不再罚的原则  
D. 是错误的, 只能在停业整顿与罚款中选择一种实施处罚
97. 持直接故意心理态度的行为人对自己的行为及结果是( )。
- A. 明知并放任发生 B. 已经预见并希望发生 C. 明知并希望发生 D. 已经预见并放任发生

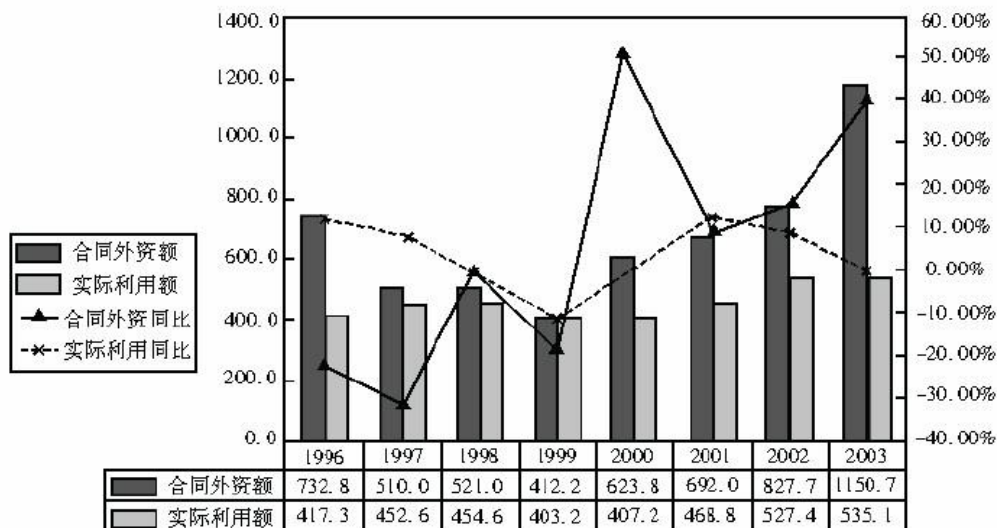
98. 在下列关于刑事诉讼程序的各项表述中, 正确的是( )
- A. 对于公诉案件人民检察院必须派员出席法庭  
B. 中级人民法院审判第一审案件可以适用独任制  
C. 人民法院审理刑事案件不得进行调解  
D. 公、检、法机关都有权直接受理刑事案件
99. 一方以胁迫、欺诈的手段, 使对方在违背真实意思情况下所为的民事行为属于( )
- A. 有效行为 B. 无效行为 C. 效力待定的民事行为 D. 可撤销的民事行为
100. 在字体字号的选用上, 公文的正文一般用( )。
- A. 三号仿宋体字 B. 四号宋体字 C. 四号楷体字 D. 五号黑体字
101. \_\_\_\_\_用以说明公文的印发传达范围或使用时需注意的事项( )。
- A. 尾语 B. 版记 C. 附注 D. 附件
102. 我国封建政治制度的政体基本定型是在( )。
- A. 秦朝 B. 西汉 C. 东汉 D. 唐朝
103. 从20世纪80年代起, 我国的经济区划分为东、中、西三个地区。下列属于西部地区的是( )。
- A. 山西、云南 B. 青海、江西 C. 内蒙古、广西 D. 四川、湖北
104. 为了促进科技成果尽快地转化为生产力, 发挥其经济效益和社会效益, 1988年国家科委组织实施了( )。
- A. 星火计划 B. 火炬计划 C. 丰收计划 D. 燎原计划
105. \_\_\_\_\_的产生和发展标志着人类认识自然实现了从宏观世界向微观世界的重大飞跃。
- A. 量子力学 B. 相对论 C. 电磁理论 D. 原子核物理学

第五部分资料分析 (共15题参考时限20分钟) 所给出的图、表或一段文字均有5个问题要你回答。你应根据资料提供的信息进行分析比较、计算和判断处理。请开始答题:

一、根据下列图表, 完成106-110题

1996—2003年我国外商直接投资

1996~2003年我国外商直接投资 (单位:亿元)



106. 2000年, 我国外商直接投资的合同外资额约比1996年年
- A. 增加了10% B. 增加了30% C. 减少了10% D. 减少了30%
107. 2000年至2003年, 我国外商直接投资实际利用额同比增加值最大的是:
- A. 2000年 B. 2001年 C. 2002年 D. 2003年
108. 1996年至2001年, 我国外商直接投资合同外资额同比增长幅度最大的年份是:

A、1996年 B、1998年 C、2000年 D、2001年

109、2003年我国外商直接投资的合同外资额与实际利用额的差额约比2000年年增加了：

A、184% B、136% C、112% D、82%

100、根据上述资料，下列说法不正确的是：

A、2003年我国外商直接投资的合同外资额约比2002增长了39%

B、2002年我国外商直接投资的合同外资额比2001年增加了135.77亿美元

C、1996年至2003年中，1999年我国外商直接投资的合同外资额和实际利用额都最少

D、1996年至2003年，我国外商直接投资的合同外资额呈连续递增态势。

二、根据下列文字资料和表格回答111-155题

浙江省农民人均纯收入

单位：千元

年份	1996	1997	1998	1999	2000	2001	2002	2003
收入	3.463	3.654	3.814	3.948	4.254	4.582	4.940	5.431

据对全省2700户农村居民家庭抽样调查：2003年全省农村居民人均纯收入5431元，比上年增长491元，增长9.9%。人均纯收入高于全省平均水平的家庭占41.2%。2003年全省农村居民收入增长的主要特点有：

1. 名义收入增长速度为1997年以来最快的一年。2003年名义收入增长速度达到9.9%，是过去七年来增长速度最快的一年。

2. 收入增加额的81.5%来自非农产业，收入的非农化倾向进一步强化。2003年全省农村居民人均纯收入中，工资性收入2613元，比上年增长176元，增长7.2%；家庭经营的二、三产业收入人均1307元，增加224元，增长20.7%。工资性收入和家庭经营二、三产业收入对全部纯收入增长的贡献率达到81.5%，比上年提高2.1个百分点。家庭经营的农林牧渔业等第一产业收入人均1029元，增加36元，增长3.7%；非经营性收入人均482元，增加55元，增长16.6%。

3. 多数农户收入提高，但收入差距继续扩大。2003年多数农村居民家庭收入有不同程度的提高，低收入家庭比重下降，高收入家庭比重上升，人口的众数由低收入组向高收入组移动。其中人均纯收入1500元以下的低收入家庭比重由上年的6.4%下降到5.7%，人均纯收入1500~4000元的次低收入家庭比重由38.3%下降到33.0%，人均纯收入4000~7000元的中等收入家庭比重由35.1%上升到35.4%，人均纯收入7000~10000元次高收入家庭比重由13.1%上升到15.9%，人均纯收入万元以上的高收入家庭比重由7.0%上升到10.0%。高收入家庭的收入增长幅度高于低收入家庭。

调查中，收入最高的20%家庭人均纯收入为11693元，收入最低的20%家庭人均纯收入仅为1704元，贫富“两极”收入之比为6.86:1，比上年的6.16:1明显扩大。

111. 2002年浙江省农村人均纯收入为 的收入家庭的比重最大。

A. 1500元以下 B. 1500-4000元 C. 4000-7000元 D. 7000-10000元

112. 1997年浙江省农民人均纯收入约比上年增长( )。

A. 3.8% B. 4.2% C. 5.7% D. 6.4%

113. 2002年全省农村居民人均纯收入中，工资性收入和家庭经营的二、三产业收入之和为( )

A. 4084元 B. 3920元 C. 3520元 D. 3384元

114. 与2002年相比，2003年全省农村居民人均纯收入中，增长幅度最小的是( )

A. 第一产业收入 B. 二、三产业收入 C. 工资性收入 D. 非经营性收入

115. 下列说法正确的是( )。

A. 从1997年至2003年，我省农村居民人均纯收入的同比增长额与增长幅度都呈逐年上升状态

B. 在这次抽样调查的样本中，人均纯收入在1500-4000元的次低收入家庭不足900户

C. 2002年，我省农村居民的第一产业收入高于二、三产业收入

D. 在这次调查的家庭中，收入前20位的家庭人均纯收入为11693元

三、根据下表回答 116--200 题

2000 年至 2003 年浙江省进出口指标情况表

单位:亿美元

指 标	出 口				进 口			
	2000 年	2001 年	2002 年	2003 年	2000 年	2001 年	2002 年	2003 年
总 值:	194.43	229.77	294.18	416.03	83.90	98.2	125.45	198.20
其中:机电产品	59.63	72.59	96.84	143.23	28.09	39.06	50.63	79.82
总值中:								
国有企业	106.93	"x"	112.9	133.03	35.04	35.73	45.20	62.92
"三资"企业	53.48	71.00	92.00	130.50	40.41	47.72	53.83	88.82
集体企业	27.20	39.25	51.89	72.63	6.91	12.04	16.43	25.31
私营企业	6.47	15.50	36.75	79.36	1.05	2.25	9.07	21.08
其 他	0.36	0.43	0.57	0.51	0.48	0.48	0.92	0.07
总值中:								
工业制产品	174.87	210.45	273.57	391.53	63.59	79.97	102.93	166.63
初级产品	19.55	19.32	20.54	24.50	20.31	18.25	22.52	31.57

116、2003 年浙江省的进出口总额为:

- A、614.23 亿美元 B、278.33 亿美元 C、416.03 亿美元 D、559.26 亿美元

117、机电产品的进出口额占当年出口额比重最小的是:

- A、2000 年 B、2001 年 C、2002 年 D、2003 年

118、上表中“x”的值约为:( )

- A. 101.9 B. 103.6 C. 108.4 D. 110.5

119、2000 年至 2003 年,集体企业的进口总额约为私营企业进口总额的:

- A、2.2 倍 B、2.1 倍 C、1.9 倍 D、1.8 倍

120、下列说法中正确的是:

- I、与上年相比,2001 年至 2003 年我省进口总值的增速均实现两位数增长  
 II、2000 年至 2003 年四年中,初级产品的进口额约大于出口额  
 III、我省四年(2000 年 2003 年)的出口总额的两倍还要多。  
 IV、2003 年,私营企业的进出口总额不足全省出口总额的 10%  
 A、I 和 II B、II 和 III C、II 和 III D、III 和 IV