

2005年浙江省公务员考试《行测》试卷

杨柳（微信：gwy288）注：此题部分题目可能缺少，原卷应为120题

第一部分 常识判断

- 1、19世纪德国哲学家黑格尔认为，“绝对观念”先于自然界和人类社会而存在，自然界和人类社会是绝对观念外化或异化的结果。黑格尔的观点属于（ ）。
- A 客观唯心主义 B 主观唯心主义 C 辩证唯物主义 D 形而上学的唯物主义
- 2、唯物辩证法的本质和核心是（ ）。
- A 否定之否定规律 B 事物的普遍联系和永恒发展原理
C 矛盾的普遍性和特殊性原理 D 对立统一规律
- 3、恩格斯指出：“人的思维最本质和最切近的基础，正是人所引起的自然界的变化，而不单独是自然界本身”。这说明（ ）。
- A 认识一旦形成，就会反作用于实践，指导实践的全过程
B 认识的本质是主体在实践基础上对客体的能动反映
C 感性认识是人类认识发展过程中基础的、低层次的认识
D 人类认识的发展过程，就是在实践中不断接近真理、发展真理的过程
- 4、下列社会意识形式中，不属于上层建筑的社会意识形式是（ ）。
- A 语言学 B 哲学 C 道德 D 艺术
- 5、废品收购站收购的各种废铁、废塑料制品（ ）。
- A 有价值，没有使用价值 B 没有价值，有使用价值
C 是价值和使用价值的统一 D 既没有价值又没有使用价值
- 6、把生产资本分为不变资本和可变资本的依据是（ ）。
- A 在资本流通中的周转速度不同 B 在资本积累中的不同作用
C 在剩余价值生产过程中的不同作用 D 在生产过程中不同的实物存在形式和价值转移方式
- 7、科学社会主义理论的两大理论基石是指（ ）。
- A 唯物辩证法和剩余价值理论 B 唯物辩证法和价值规律
C 唯物主义历史观和剩余价值理论 D 唯物主义历史观和价值规律
- 8、与“十月革命”后实行的“战时共产主义”政策相比，苏俄“新经济政策”的特点在于（ ）。
- A 为战争需要，动员全国一切力量 B 无产阶级已经掌握了国家政权和经济命脉
C 其主要目的是为了发展经济以扩军备战 D 利用市场和商品货币关系来发展生产
- 9、中国共产党确定毛泽东思想为党的指导思想的会议是（ ）。
- A 遵义会议 B 中共七大 C 瓦窑堡会议 D 中共八大
- 10、1939年，毛泽东在哪篇著作中对近代中国半殖民地半封建社会的主要特点作了具体的分析和论述？（ ）
- A 《中国革命和中国共产党》 B 《星星之火，可以燎原》
C 《中国社会各阶级的分析》 D 《论持久战》
- 11、我国社会主义初级阶段是指（ ）。
- A 从新中国成立到社会主义现代化基本实现
B 从新中国成立到实现发达的社会主义
C 从社会主义改造基本完成到社会主义现代化基本实现
D 从社会主义制度建立到全面进入小康社会
- 12、（ ）是最紧要和最具有决定性的因素，始终关系党的执政的全局，关系国家经济政治文化发展的全局，关系全国各族人民的团结和社会安定的全局。
- A 发展生产力 B 坚持中国共产党的领导
C 最大多数人的利益要求 D 正确处理人民内部矛盾
- 13、在新的历史时期，我们必须用科学发展观来指导各项工作，实现经济社会的可持续发展。实现经济社会可持续发展的关键是（ ）。
- A 经济发展与人口、资源、环境相协调
B 形成一、二、三产业的合理结构

- C 加强环境保护, 改善生态环境, 防止和治理环境污染
D 正确处理改革、发展、稳定的关系, 把改革的力度、发展的速度和社会可以承受的程度统一起来
- 14、党的十六大报告指出, 发展社会主义民主政治, 最根本的是要 ()。
A 坚持和完善人民代表大会制度
B 在坚持四项基本原则的前提下, 积极推进政治体制改革
C 坚持和完善共产党领导的多党合作和政治协商制度
D 把坚持党的领导, 人民当家作主和依法治国有机统一起来
- 15、1919年, 中国传播马克思主义的“先驱者”()在《新青年》上发表《我的马克思主义观》一文, 比较全面地介绍了马克思主义的唯物史观、经济学说和社会主义理论。
A 陈独秀 B 李大钊 C 董必武 D 鲁迅
- 16、1923年6月12日, 中国共产党第()次全国代表大会在()召开, 大会决定共产党员以个人身份加入国民党, 实现国共合作。
A 二 上海 B 三 广州 C 三 上海 D 四 广州
- 17、根据通货膨胀理论, 假如通货膨胀的初始原因是成本推动, 如果没有()的伴随, 将会出现生产萎缩, 失业增加, 最终引起严重的经济萧条。
A 需求增长 B 需求减少 C 供给增长 D 供给减少
- 18、完全垄断市场常存在于()。
A 农产品市场 B 日用工业品市场 C 汽车、钢铁、石油等行业 D 公用事业部门
- 19、党的十六大报告指出, “要把促进经济增长、增加就业、稳定物价、()作为宏观调控的主要目标”。
A 提高人民生活水平 B 实现共同富裕
C 保持国际收支平衡 D 促进社会经济的可持续发展
- 20、下列关于财政政策的表述中, 不正确的是()。
A 财政政策的主要手段或工具是政府支出和税收
B 财政政策是指政府通过控制财政收入或支出来调节总需求, 从而实现宏观经济目标的政策
C 财政政策的挤出效应, 是指财政政策的实施会引起一国产出水平的变化, 可以使总产出成倍数地放大或缩小
D 当一国的民间需求过旺时, 宜采用紧缩性财政政策
- 21、下列不属于非政府组织主要特点的是()。
A 非正规性 B 非营利性 C 自治性 D 公益性
- 22、第一个建立起现代公务员制度的西方国家是()。
A 美国 B 英国 C 日本 D 法国
- 23、我国《国家公务员暂行条例》正式颁布的时间是()。
A 31310 B 32005 C 33491 D 34195
- 24、从行政监督的系统角度, 我们可以把行政监督分为行政内部监督和行政外部监督两大类, 下列属于行政内部监督的是()。
A 立法监督 B 司法监督 C 行政监察 D 政党监督
- 25、关于人民代表大会及人民代表大会制度的相关表述, 不正确的一项是()。
A 人民代表大会制度是我国人民民主专政的政权组织形式
B 一般情况下, 全国人民代表大会会议每年举行一次, 由全国人大常委会召集
C 我国宪法的解释权属于全国人民代表大会常务委员会
D 地方各级人民代表大会代表由直接选举产生, 每届任期五年
- 26、下列哪一项属于行政裁决的范畴?()
A 行政机关对特定民事纠纷的裁决 B 行政机关对特定行政纠纷的裁决
C 人民法院对特定民事纠纷的裁决 D 人民法院对特定行政纠纷的裁决
- 27、下列关于民事诉讼法中特殊地域管辖的表述, 完全正确的一项是()。
A 合同纠纷提起的诉讼, 由原告住所地人民法院管辖
B 因侵权行为提起的诉讼, 由侵权行为地或被告住所地人民法院管辖

C 因票据纠纷提起的诉讼，由票据支付地或原告住所地人民法院管辖

D 因共同海损提起的诉讼，只能由共同海损理算地人民法院管辖

28、我国《刑法》规定，只犯一个罪，被判有期徒刑时，其最长刑期只能是（ ）。在数罪并罚时，有期徒刑可以超过（ ），但最长不能超过（ ）。

A 15年 15年 20年 B 10年 10年 15年

C 10年 15年 25年 D 15年 18年 20年

29、根据国际法规则和习惯，一国船舶在另一国领海内享有“无害通过权”。下列关于“无害通过权”的表述中，不正确的一项是（ ）。

A 通过另一国领海必须是无害的，即不损害沿岸国的和平、良好秩序和安全，也不违反国际规则

B 在通过另一国领海时，应当遵守沿岸国的有关法令，如海关、移民、航行安全、环境保护等事项的法律规章

C 事先必须通知沿岸国海关、出入境检验检疫部门等相关部门，并办理相关通行手续

D 一般情况下，船舶通过另一国领海时必须持续不停地迅速航行，中途不得停泊

30、为保障国家未来10—20年经济社会可持续发展和国家安全战略，实现第三步国家战略目标，我国提出了（ ），其突出特点是战略性、全局性和前瞻性。

A 高新技术及其产业发展计划 B 国家基础研究发展计划

C 面向经济建设主战场的科技计划 D 国家中长期科技发展规划

31、下列有关计算机构成及性能的表述中，不正确的是（ ）。

A 目前，电子计算机的发展已进入第五代，即人工智能计算机时代

B 运算器是计算机的“司令部”，计算机中的数值运算通常采用十进制

C 字长是衡量计算机性能的一个主要指标。字长越长，进行数值计算的精度也就越高

D 存储器的容量是标志计算机性能的一个主要指标，从数量级上看，G>M>K

32、经过春秋时期的争霸战争，至战国时，诸侯国数目已大量减少，强弱分化明显，当时最有实力的七个诸侯国被称为“战国七雄”，这七个国家分别为（ ）。

A 齐、赵、越、秦、晋、韩、魏 B 齐、秦、韩、鲁、魏、燕、赵

C 齐、楚、燕、赵、秦、韩、魏 D 齐、秦、越、韩、魏、赵、燕

33、我国历史上第一个具有宪法性质的文件是（ ）

A 《钦定宪法大纲》 B 《中华民国临时约法》

C 《中华民国约法》 D 《中华民国宪法大纲》

34、行政公文种类与党的机关公文种类相比较，有些是相同的，有些是不同的。下列哪一项属于行政公文种类，但不属于党的机关公文种类？（ ）

A 命令(令)、指示、公告、决议 B 决议、指示、公报、规定

C 决议、指示、议案、通告 D 命令(令)、议案、公告、通告

35、下列关于公文收文办理的相关表述中，不正确的是（ ）。

A 收文办理中的审核主要是对下级机关上报的公文而言的

B 拟办的内容一般应包括以下几个方面：拟明批办人、拟明承办部门、拟明阅读范围、拟明处理问题的方案等

C 公文的批办是指负责人就来文应如何办理对承办部门和承办人员提出批示性意见。最常见的批办意见有“阅”“拟同意”等

D 承办是公文处理程序的核心环节，是公文发挥现实效用的基本保证

第二部分 言语理解与表达

36、我国还处在社会主义初级阶段，民主建设的起点比较低，社会主义民主建设受到几个条件的制约，因此绝不是（ ）的事情。填入括号内词语最恰当的一项是（ ）。

A 一朝一夕 B 操之过急 C 一蹴而就 D 轻而易举

37、有人认为，（ ）投资规模与国力相适应的资金运用的调控，（ ）能体现出投资规模宏观效益的大趋势，（ ）不能判断宏观规模收益究竟能够达到什么样的水平，（ ）不能揭示投资规模大小与投资全局收益率高低之间存在什么样的内在联系。这种看法是成问题的。填入括号内词语最恰当的一项是（ ）。

A 研究 如果 但 而且 B 了解 即使 也 还

C 进行 虽然 但 也 D 通过 只要 就 也

38、单位同事小姚在杭州大厦看中一件紫色貂皮大衣，爱不释手，但由于价格太贵，不得不（ ），可回来后念叨不已，总想着什么时候再去了却这桩心事。填入括号内词语最恰当的一项是（ ）。

A 姗姗而返 B 怅然离去 C 打道回府 D 忍痛割爱

39、生命是环境“逼出来”的，因而生为环境的奴隶，它最多只是“主动地”附属于环境。谁要考察一种生命形式，不妨先去考察它寄身的环境，否则就会对生命的“怪异”感到（ ）。填入括号内词语最恰当的一项是（ ）。

A 震惊 B 疑惑 C 惊诧 D 惊异

40、依次填入下列横线处的词语，最恰当的一组是（ ）。①全面建设小康社会，要求我们的干部一定要当好人民的“公仆”，否则就是对这一称号的（ ）。②春节临近，海峡两岸人民“三通”呼声越来越高，然而台湾当局却认为，与大陆谈判的时机还不成熟。本来可以深入的新一轮谈判因此而（ ）了。③著名足球评论员黄健翔认为，要想彻底解决中超联赛中执法不公的“黑哨问题”，就必须（ ）产生这一现象的社会土壤。

A 污蔑 搁浅 铲除 B 诬蔑 搁浅 根除
C 污蔑 搁置 根除 D 诬蔑 搁置 铲除

41、下列各项中没有歧义的一项是（ ）。

A 他骑车带我到绍兴市公安局 B 这个人谁都不认识
C 计算机算出的结果也不一定对 D 小孙到处联系不好

42、下列加括号的虚词使用无误的一句是（ ）

A 先辈[既然]已经为我们树立了典范，那么在社会主义物质文明与精神文明日益推进的今天，领导干部应如何去做呢？

B 有人说一切都是命运，[假如]是命运，也该像贝多芬说的那样，“扼住命运的咽喉”，做生活的主人。

C [即使]从科学的观点看，知识是假的、错的和有害的，只要知其假、错和有害，就可以将其变成有用的东西。

D 长期以来，社会上都以升学率作为评价学校以及教师的硬性指标，[尽管]中央一直反对这样做。

43、下列各句中，括号中成语使用恰当的一句是（ ）。

A 来西湖旅游的人们，面对水色山光，无不为大自然这（巧夺天工）的造化所折服。

B 他本来就喜欢（舞文弄墨），再加上这几年的实践锻炼，如今已成了单位里有名的“笔杆子”。

C 春风一吹，景区内的梨花竞相开放，朵朵洁白的梨花，如（阳春白雪），使得众多游人驻足。

D 在人民群众的利益受到危害的紧要关头，有极少数干部或无动于衷，或（畏葸不前）。其所作所为，与人民“公仆”的身份极不相称。

44、下列各句中，没有语病，句意明确的一句是（ ）。

A 凡在科学研究上有杰出成就的人，不少是在客观条件十分艰难困苦的情况下，经过顽强刻苦的努力才获得成功的。

B 搜集资料不容易，整理、鉴定和运用史料更不容易。过去中国大部分史学家，主要的功力用在后一方面。

C 经过老主任再三解释，才使他怒气逐渐平息，最后脸上勉强露出一丝笑容。

D 文件对当前经济领域中存在的一些问题，从理论上和政策上作了详细的规定和深刻的说明。

45、下列各句中，有语病的一句是（ ）。

A “可持续发展”已成为全球战略共识，提高人们保护环境的意识，对于今天至关重要。

B 我们坚持独立自主的和平外交政策，同世界各国人民一道，坚定不移地推进世界的和平与发展。

C 要不要打击恐怖主义？在打击恐怖主义的时候，能不能侵犯他国主权？对这两个问题，外交部发言人表明了我国政府的立场。

D 我国现行的医疗制度、医患关系、病人权利以及医疗事故的鉴定仍然有许多亟待改进和完善。

46、目前，我国虽然与许多发达国家签有双边贸易协定，但是中国的出口仍然成为种种歧视性贸易措施的目标，仍然面对着各种歧视性数量限制、选择性保障措施，以及建立在歧视性标准基础上的反倾销和反补贴措施。这段话主要说明了（ ）。

- A 针对各种歧视性贸易，我们应该制定各种保障措施
- B 中国的出口，应避免成为各种歧视性措施的目标
- C 面对种种歧视性的措施，我们也不得不建立反倾销和反补贴措施
- D 许多发达国家仍针对中国的出口产品制定种种具有歧视性的贸易措施

47、我国共有科学技术馆 250 多座。这对于我们这个 13 亿人口的大国来说不能算多，可现在能经常办展览的只有少数几个。除中国科技馆、天津市科技馆等能坚持办展外，极少有发挥其原有功能的。来自中国科协的权威统计显示，全国约有 60% 的馆不得不用部分场地长期搞展销，甚至干脆转化为酒吧和歌舞厅，使得本来就不多的群众文化活动设施更加匮乏。这段话的主要观点是（ ）。

- A 未能发挥其原有功能是目前科技馆面临的严重问题
- B 我国科技馆的数量与众多的人口数量很不相称
- C 能坚持经常办展，发挥其原有功能的科技馆只占 40%
- D 文化活动设施匮乏的主要原因是一些科技馆用部分场地长期搞展销

48、_____。从前写文章的人说到义理时，往往只是指“古圣先贤”已经说过的道理。在我们看来，马克思主义的普遍真理虽然是人类实践经验的科学总结，是我们研究一切问题的指南针，然而也不能把它当成教条。正确的观点，不是简单的教条，而是从具体材料引出的正确的结论。填入横线处最恰当的是（ ）。

- A 在这点上，我们讲义理，显然和前人的说法在原则上是不同的
- B 马克思主义思想的鲜明和力量，就在于它是从实际出发的
- C 有些人提出了一些材料和观点，然而他们并不能通过这些材料使人信服地承认他们的观点
- D 教条主义者认为可以用普遍真理和简单的推理来获得关于任何问题的正确观点

49、不善于与人交谈，常常容易引起纠纷或误会。每一个人与别人交往的要求都各不相同，表达自己及领会他人意思的本领也因人而异。这段话直接支持的一种观点是（ ）。

- A 不善于交谈是引起纠纷或误会的一个原因
- B 虽然每个人都原意与别人交谈，但要相互理解却很困难
- C 由于交往双方各有不同的交往目的和要求，所以领会对方的真实意思是比较困难的
- D 表达自己的意思比较容易，领会他人的意思比较困难

50、从众心理，是社会心理的普遍现象之一。所谓从众，是个体在群体的压力下，放弃自己的意见或违背自己的意见，使自己的言语、行为保持与群体一致的现象。这种现象就是从众，即群体能产生压力，使人们的思想在压力下趋于一致。这段话支持了这样一种论点，即（ ）。

- A 从众心理在实际工作中产生的是消极的效应
- B 在实际工作中，工作群体应当更为强调人的个性
- C 个体从众达成一致或是被迫服从，或是自愿接受
- D 个体对群体越信任，个体的行为就越容易趋向群体行为

51、“1801 年在英国同丹麦进行的哥本哈根海战中，英国海军英雄纳尔逊上校在激战中处境危险，并已接到了撤退的信号。舰长弗雷问他怎么办，他将望远镜举到一只失明的眼睛跟前说：‘我没有看见那个信号。’于是又勇敢地继续指挥战斗，结果取得了胜利，丹麦被迫停战。”这段话的主题是（ ）。

A 强调纪律在军队中的重要性，纳尔逊虽然取得了胜利，但其不听命令，擅自作主的做法是错误的

- B 肯定了纳尔逊审时度势，根据自己所处的实际情况决定是否执行命令的行为
- C 说明纳尔逊取得哥本哈根海战的胜利是个奇迹，因为当时上级已发出了撤退的信号
- D 告诉我们纳尔逊上校是如何在哥本哈根海战中找到不执行上级命令的理由的

52、我们今天的劳动可以分为两部分，一部分是为得到今天生存所必需的生活资料而付出的劳动；一部分是为未来的发展而预先支付的劳动。当这两部分的比例前者大于后者时，说明我们

的劳动尚处在较低级阶段；而后者远大于前者时，则说明我们的劳动层次得到了很大提高。因此，只有通过社会发展进步，提高人们的效率和层次，才能真正实现人类自身的彻底解放。对这段话理解正确的是（ ）。

- A 今天我们的劳动目的主要是为了获得生存所必需的生活资料
- B 在现代社会，任何人从事的劳动都可以分为两个层次
- C 劳动层次的提高是人类社会发展的一个重要标志

D 如果我们多选择从事一些为未来的发展而预先支付的劳动，那么我们的社会就会取得更快的发展

53、外语或第二语言教学，正在走出“就语言教学语言”的局限，而把构成人们语言交际能力所不可或缺的社会文化因素也导入语言教学。这就必然对作为语言教学重要环节的语言测试提出相应的要求：语言测试中应该包含对相关文化内容的测试，不妨可以说，这是语言测试中的“文化测试”。最能准确地复述这段文字意思的是（ ）。

- A 语言测试中应该包含对相关文化内容的测试，即语言测试中的“文化测试”
- B 社会文化因素教学的导入要求语言测试中应该包含对相关文化内容的测试
- C 外语或第二语言教学，正在走出“就语言教学语言”的局限，这要求把社会文化因素也导入语言教学

D 社会文化因素教学的导入，要求外语或第二语言教学走出“就语言教学语言”的局限

54、在这次印度洋大海啸后，整个世界表现出对受灾国的极度关心和同情，许多国家和国际组织纷纷通过提供救援资金、物资等途径来帮助他们。对于一个病人，需要输血，需要输氧，但是人要健康地生活最终还要靠自身的生命力和自身的机能转换。这段话主要支持了这样一种观点，即（ ）。

A 海啸后，受灾国家不能迅速得到救助的一个重要原因是许多国家和国际组织对他们的救援力度不够

- B 只要世界各国和国际组织能持续援助受灾国，他们的社会经济就会恢复蓬勃的生机
- C 在接受各种救助后，受灾国社会经济的恢复和发展最终还有赖于其自身的努力
- D 对危急病人的抢救先要输血、输氧，但病人的健康恢复却主要依靠其自身的免疫能力

55、现代企业规模的日益扩大造成了管理者与被管理者之间的直接联系越来越少。今天大企业的管理者很大程度上是通过报表来与自己的下级打交道，来获得信息和进行管理。这段话支持了这样一种看法：企业规模的日益增大，（ ）。

- A 带来了一些更好的企业管理方法
- B 在企业中形成了一些不同的阶层
- C 造成企业管理者与工人之间关系的疏远和紧张
- D 使管理者可以更客观地对被管理者的工作进行评价

56、我起初学“桐城派”古文，跟着古文家们骂六朝文的绮靡，后来稍致力于六朝人的著作，才觉得六朝文也有为“桐城派”所不可及处。在诗方面，我从唐诗入手，觉得宋诗索然无味，后来读宋人作品较多，才发现宋诗也特有一种唐诗没有的风味。我学外国文学的经验也大致相同，_____。填入横线最恰当的是（ ）。

- A 往往一开始喜欢甲派，而后来又更喜欢乙派了
- B 往往是学习一派、研究一派，就喜欢一派、笃嗜一派
- C 往往从喜欢甲派而了解乙派，从了解乙派到对甲派产生怀疑
- D 往往从笃嗜甲派不了解乙派，到了解乙派而对甲派重新估定价值

57、在社会大生产条件下，为了满足社会对各种使用价值的需要，就要付出各种性质不同的劳动，就要根据各种使用价值需要的相应比例分配社会总劳动。这段话主要支持了这样一个观点，即（ ）。

- A 在社会生产中，各种使用价值的需求量是不同的
- B 应通过市场的价值规律来调节社会总劳动的分配
- C 劳动力的使用价值是在社会总劳动的分配中实现的
- D 按比例分配社会总劳动是不以人的意志为转移的

58、我国目前正在实行一个“大豆行动计划”，向城乡居民特别是中小學生提供优质的大豆加工制品，以解决优质蛋白质的摄入量不足。在植物性食物生产中，惟有大豆是可大量直接生产

的优质蛋白质食物。专家说，目前我国人们的食物消费中优质蛋白质食物的比例偏小，特别是农村居民的优质蛋白质摄入量不足。最能准确复述这段话主要意思的是（ ）。

- A “大豆行动计划”的对象是城乡居民特别是中小學生
- B 在植物性食物生产中，大豆是惟一可大量直接生产的优质蛋白食物
- C 目前我国城乡居民特别是农村居民普遍存在蛋白质摄入量不足的问题
- D 我国实行“大豆行动计划”以解决城乡居民优质蛋白质摄入量不足的问题

59、宋朝的朱熹，曾经给《论语》做过注释，可是假如当孔子正在跟颜回、子路他们谈话的时候，朱熹闯了进去，管保他们在讲什么，他是一句也听不懂的。不光是古代的话后世人听不懂，同一种语言在不同的地方也经历着不同的变化，久而久之也会使这个地方的人听不懂那个地方的话，形成许许多多方言。这段话主要支持了这样一种观点，即（ ）。

- A 由于语言不通，朱熹对《论语》的注释不可能是完全正确的
- B 不同的语言、方言在很大程度上影响了人们的沟通和交流
- C 在不同的历史时期或不同的地区，语义语音的变化是非常显著的
- D 孔子、颜回和子路讲的方言和朱熹讲的方言是完全不同的

60、人类文化的发展，经过旧石器时期晚期以后，先后进入新石器时代及金属时代……从新石器时代到现在至多不过一万年，从金属时代到现在不过数千年，人们开始利用电能到现在不过一百多年，原子能的利用则仅是最近几十年的事，而新石器时代以前的发展阶段，则动辄以数十万年到千百万年计。对以上这段话理解最准确的是（ ）。

- A 人类文化发展不是等速运动，而是类似一种加速运动，愈到后来，前进的速度愈是成倍提高
- B 人类文化的发展进程是缓慢的，这是一个客观存在，是不以人的意志为转移的
- C 金属时代是人类文化发展中的一个关键时期，从那以后，电能、原子能被广泛应用，迅速地促进了人类社会的发展
- D 人类文化发展的不同阶段，时间长短不一，有的需数十万年，有的则只需短短几十年

第三部分 数量关系

61、1, 6, 13, 22, ()

- A 27 B 29 C 33 D 46

62、3, 2, 11, 14, 27, ()

- A 34 B 32 C 30 D 28

63、 $1/51, 4/53, 9/56, 16/60, ()$

- A $18/61$ B $20/63$ C $25/65$ D $27/69$

64、12, 14, 20, 38, ()

- A 46 B 52 C 64 D 92

65、41, 59, 32, 68, 72, ()

- A 28 B 36 C 40 D 48

66、 $-1/2, 1/4, -1/8, 1/16, -1/32, ()$

- A -0.015625 B $1/64$ C $1/128$ D -0.0078125

67、35, 7, 5, (), $25/7$ 。

- A 1 B 41825 C 3 D 41766

68、 $1/9, 2/27, 1/27, ()$ 。

- A 41756 B 41829 C 41777 D $4/243$

69、 $1/2, 1/3, 2/5, 3/8, 5/13, ()$ 。

- A 41938 B 41870 C 41872 D 不清楚

70、3, 4, 8, 17, ()。

- A 25 B 29 C 33 D 41

71、 $7643 \times 2819 - 7644 \times 2818$ 的值是 ()。

- A 4825 B 4673 C 5016 D 5238

72、 $31.21 \times 16 + 3.121 \times 120 + 312.1 \times 6.2$ 的值是 ()。

- A 3121 B 2808.9 C 4125 D 3768

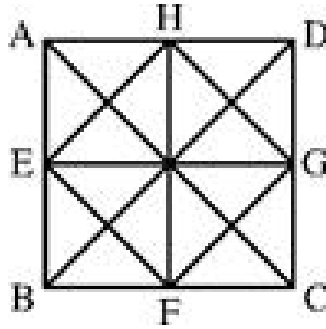
73、自然数 P 满足下列条件： P 除以 10 的余数为 9， P 除以 9 的余数为 8， P 除以 8 的余数为 7。如果 $100 < P < 1000$ ，则这样的 P 有几个？（ ）

A 不存在 B 1 个 C 2 个 D 3 个

74、自然数 A 、 B 、 C 、 D 的和为 90，已知 A 加上 2、 B 减去 2、 C 乘以 2、 D 除以 2 之后所得的结果相同，则 B 等于（ ）。

A 26 B 24 C 28 D 22

75、如图所示，正方形 $ABCD$ 四条边的中点分别为 E 、 F 、 G 、 H 。问图中一共有多少个三角形？（ ）



A 36 B 40 C 44 D 48

76、有十名学生参加某次数学竞赛，已知前八名的平均成绩是 90 分，第九名比第十名多 2 分，所有学生的平均成绩是 87 分。问第九名学生的数学成绩是几分？（ ）

A 70 B 72 C 74 D 76

77、两个不同的圆最多可以有两个交点，那么三个不同的圆最多可以有几个交点？（ ）

A 5 B 6 C 7 D 8

78、某项工程，小王单独做需 20 天完成，小张单独做需 30 天完成。现在两人合做，但中间小王休息了 4 天，小张也休息了若干天，最后该工程用 16 天时间完成。问小张休息了几天？（ ）

A 4 B 4.5 C 5 D 5.5

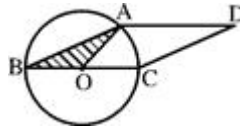
79、甲容器中有浓度为 4% 的盐水 250 克，乙容器中有某种浓度的盐水若干克。现从乙中取出 750 克盐水，放入甲容器中混合成浓度为 8% 的盐水。问乙容器中的盐水浓度约是多少？（ ）

A 0.0978 B 0.1014 C 0.0933 D 0.1127

80、一副扑克牌有四种花色，每种花色各有 13 张，现在从中任意抽牌。问最少抽几张牌，才能保证有 4 张牌是同一种花色的？（ ）

A 12 B 13 C 15 D 16

81、如图所示，圆 O 的面积为 314 平方米（ $\pi = 3.14$ ），平行四边形 $ABCD$ 的面积为 180 平方



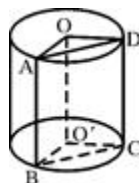
米，则三角形 ABO 的面积是（ ）。

A 49.5 米² B 48 米² C 47.5 米² D 45 米²

82、一艘游轮逆流而行，从 A 地到 B 地需 6 天；顺流而行，从 B 地到 A 地需 4 天。问若不考虑其他因素，一块塑料漂浮物从 B 地漂流到 A 地需要多少天？（ ）

A 12 B 16 C 18 D 24

83、如图所示，圆柱体的一个截面 $ABCD$ 平行于轴 OO' ，若截面 $ABCD$ 的面积为 48cm^2 ， OO' 与截面 $ABCD$ 的距离为 5cm ， OA 为 13cm ，则 AB 的长度为（ ）。



A 2cm B 3cm C 3.5cm D 4cm

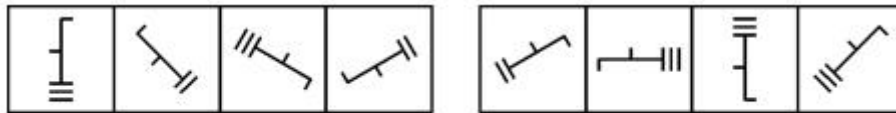
84、一只木箱内有白色乒乓球和黄色乒乓球若干个。小明一次取出 5 个黄球、3 个白球，这样操作 N 次后，白球拿完了，黄球还剩 8 个；如果换一种取法，每次取出 7 个黄球、3 个白球，这样操作 M 次后，黄球拿完了，白球还剩 24 个。问木箱内原共有乒乓球多少个？（ ）

- A 246 B 258 C 264 D 272

85、甲乙两地相距 20 公里，小孙与小张分别从甲乙两地同时相向而行，两小时后在途中相遇，然后小孙返回甲地，小张继续前进。当小孙回到甲地时，小张离甲地还有 2 公里。问小孙的速度是多少？（ ）

- A 6.5 公里/小时 B 6 公里/小时 C 5.5 公里/小时 D 5 公里/小时

第四部分 判断推理



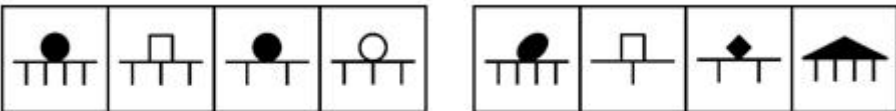
86、

- A B C D



87、

- A B C D



88、

- A B C D

第五部分 资料分析

阅读下列材料，回答下面的题目。

三次产业增加值结构变化分析表

年份	GDP(亿元)	第一产业		第二产业		第三产业		人均 GDP(元/人)
		(亿元)	构成(%)	(亿元)	构成(%)	(亿元)	构成(%)	
1978	3624	1018	28.1	1745	48.2	861	23.7	379
1989	16909	4228	25.0	7278	43.0	5403	32.0	1512
2001	95933	14610	15.2	49069	51.1	32254	33.6	7543
“六五”时期平均	6445	2021	31.4	2851	44.2	1573	24.4	632
“七五”时期平均	14510	3809	26.2	6265	43.2	4436	30.6	1317
“八五”时期平均	37662	7884	20.9	17628	46.8	12149	32.3	3193
“九五”时期平均	78433	14259	18.2	39100	49.8	25074	32.0	6319

注：“六五”时期（1981年~1985年）、“七五”时期（1986年~1990年）、“八五”时期（1991年~1995年）、“九五”时期（1996年~2000年）


89、我国 2001 年的 GDP 约为 1978 年的（ ）。

- A 32.5 倍 B 26.5 倍 C 22.5 倍 D 18.5 倍


90、已知 2000 年我国的 GDP 为 89404 亿元，那么我国 1996 年~1999 年四年的 GDP 总量约为（ ）。

A 302761 亿元 B 328974 亿元 C 298716 亿元 D 281479 亿元

91、下图的阴影部分最能体现 1989 年我国第一产业的产值占当年 GDP 比重的是 ()。




A



B



C



D

92、如果在制作上表时,我国的人口数量是以当年年末的人口总数为标准的,那么 1978 年底,我国的人口数约为 ()。

A 10.78 亿 B 9.56 亿 C 8.06 亿 D 7.98 亿

93、下面的描述中不正确的是 ()。

A 与 1978 年相比,2001 年我国第三产业占 GDP 的比重上升了 9.9 个百分点

B 从“六五”时期到“九五”时期,我国第一产业占 GDP 的比重在总体上呈下降趋势

C 与 1978 年相比,2001 年我国的第三产业已取代了第二产业成为三大产业中产值最高的产业

D “七五”时期,我国共完成的 GDP 总量约为 72550 亿元

阅读下列材料,回答下面的题目。

改革开放以来,我国民营经济始终处于高速发展态势。截至 2001 年底,我国民营企业已达 202.85 万户,比上年同期增加 26.68 万户,其中城镇民营企业达 129.12 万户,增长 19.64%;农村民营企业 73.73 万户,增长 8.01%。2001 年底,民营企业的从业人员为 2713.86 万人,比上年同期增加 307.37 万人,增长 12.77%。其中投资者人数 460.83 万人,增加 65.49 万人,增长 16.56%;雇工人数 2253.03 万人,增加 241.88 万人,增长 12.03%。注册资本 18212.24 亿元,比上年同期增加 4904.55 亿元,增长 36.86%。

2001 年,新开业民营企业达 52.94 万户,比上年同期增加 8.12 万户,增长 18.12%;从业人员 622.47 万人,比上年同期增加 71.63 万人,增长 13%。其中投资者人数 118.56 万人,增长 10.66%;雇工人数 503.91 万人,增长 13.57%。注册资金 4796.90 亿元,比上年同期增加 1338.82 亿元,增长 38.72%。

从各省份看,民营企业户数最多的是江苏省 22.55 万户,其次是广东省 21.1 万户,浙江省 20.88 万户,上海市 17.64 万户,山东省 14.47 万户,北京市 12.41 万户,以上 6 省市共有 109.05 万户,占民营企业总户数的 53.76%。

从地区分布情况看,东部地区共有民营企业 138.79 万户,占民营企业总户数的 68.42%,比上年减少 0.04 个百分点;中部地区民营企业 36.02 万户,占民营企业总户数的 17.76%,比上年减少 0.38 个百分点;西部地区民营企业 28.05 万户,占民营企业总户数的 13.83%,比上年增加 0.42 个百分点。

2001 年,中国民营企业共创产值 12316.99 亿元,比上年同期增加 1577.21 亿元,增长 14.69%;实现销售总额 11484.24 亿元,比上年增加 1600.18 亿元,增长 16.19%;社会消费品零售额 6245 亿元,比上年增加 431.52 亿元,增长 7.42%。从资本占用、从业人数和产出总量等方面来看,私营个体经济在国民经济中的份额大体在 10%~20%之间,已经成为国民经济中一个不可忽视的重要组成部分。

94、2001 年底,我国民营企业的总户数约比 2000 年底增长了 ()。

A 0.1514 B 0.1315 C 0.1897 D 0.2016

95、2000 年开业的民营企业吸收的雇工人数约为 ()。

A 443.7 万人 B 492.6 万人 C 503.9 万人 D 522.4 万人

96、2001 年底,我国民营企业户数超过 20 万户的省份有 ()。

A 2 个 B 3 个 C 4 个 D 5 个

97、已知 1989 年中国民营企业的平均注册资本为 9 万元,那么截至 2001 年底,中国民营企业的平均注册资本约为 1989 年的 ()。

A 5 倍 B 10 倍 C 15 倍 D 20 倍

98、根据上述资料,下列说法不正确的是 ()。

A 2000 年底,我国民营企业的投资者人数约为 395.34 万人

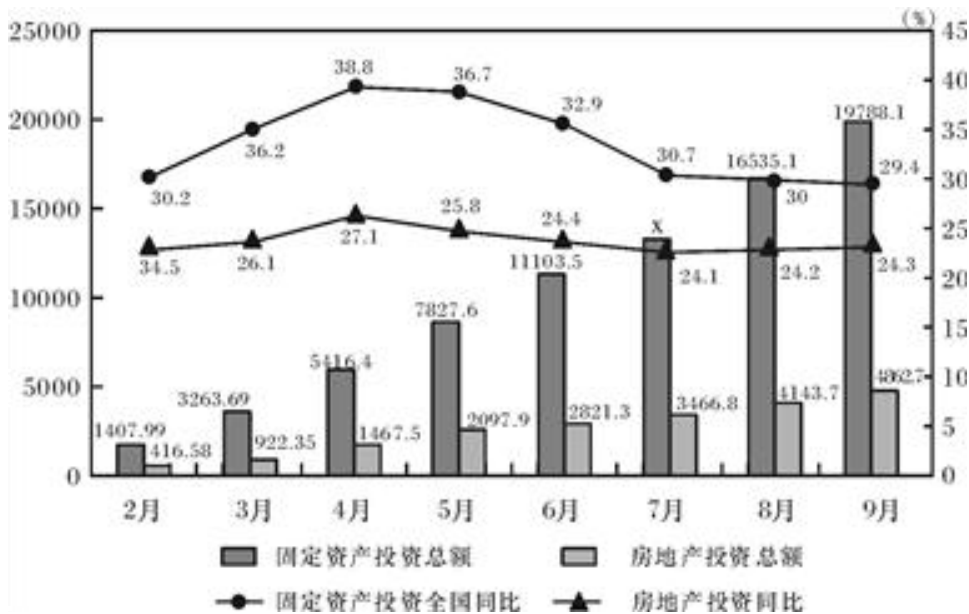
B 广东、浙江两省的民营企业户数已超过全国民营企业总数的五分之一

C 2001 年底东部地区的民营企业户数与 2000 年底相比略有下降

D 2000 年，我国民营企业实现的销售总额不足 10000 亿元

阅读下列材料，回答下面的题目。

2002 年全国固定资产投资月度统计图



注：图中的数据为截止到当月底的数据，如：由上图可知 2002 年截至 6 月份，我国房地产投资总额为 2821.3 亿元。

备注：图中固定资产投资增速与房地产投资同比增速画反了！！

99、2002 年 9 月，全国完成固定资产投资 ()。

A 16535.1 亿元 B 7684 亿元 C 3253 亿元 D 无法计算

100、与上个月份相比，下列四个月份中房地产投资额增加值最大的月份是 ()。

A 4 月份 B 5 月份 C 6 月份 D 7 月份

101、与上述图表相对应，现在如果有一张 2001 年的全国固定资产投资月度统计图，那么可知截止到 2001 年 8 月底，全国完成房地产投资总额约为 ()。

A 2864.5 亿元 B 2996.7 亿元 C 3009.1 亿元 D 3187.5 亿元

102、已知 2002 年 7 月份，我国的固定资产投资额为 2690.2 亿元，则图表中 X 的值为 ()。

A 14086.9 亿元 B 13218.4 亿元 C 14021.5 亿元 D 13793.7 亿元

103、根据上述资料，下列说法不正确的是 ()。

A 2002 年 9 月份，我国完成房地产投资 719 亿元

B 2002 年 4 月份，我国完成的固定资产投资额比 2001 年 4 月份增长了 27.1%

C 设 2002 年 5 月份、6 月份和 7 月份全国房地产投资额分别为 x、y 和 z，那么 $y > z > x$

D 根据图表资料，我们可以计算出 2001 年 9 月份全国的固定资产投资额