

2011年广州市公务员录用考试《行测》

来源：F 整理：杨柳（微信：gwy288）

第一部分 言语理解与表达 (共25题，参考时限25分钟)

1. 填入下面文字横线处的词语，最恰当的是()。

小邱到上海已经六个多月了，参加了大大小小招聘会几十次，面试不计其数，却_____，沮丧之余他决定静下心来认真总结一下经验与教训。

- A. 屡试不爽 B. 屡战屡败 C. 战无不胜 D. 屡败屡战

2. 依次填入下面文字横线处的词语，最恰当的是()。

事实证明，中华文化的遗传并没有因为追逐GDP而变异或者_____，反而越来越_____文化基因在大事件中的力量，并且成为对待相异形态的方法论。

- A. 衰退 显现 B. 衰退 凸显 C. 式微 显现 D. 式微 凸显

3. 依次填入下面文字横线处的词语，最恰当的是()。

历史经验证明，全球性的经济危机往往会_____突破性的科技创新成果，进而_____技术革命。

- A. 带来 形成 B. 导致 引起 C. 催生 引发 D. 促成 产生

4. 依次填入下面文字横线处的词语，最恰当的是()。

作为苹果公司的前设计主管，布兰纳最得意之作可能不是任何一款电脑，而是乔纳森·艾维——那个造就了苹果传奇、掀起iPad旋风的天才设计师。布兰纳曾开玩笑说：“将来我的墓志铭就这样写：挖到了乔纳森·艾维。”布兰纳显然是在以伯乐_____，但这句调侃的话却毫不过分地_____了他的继任者的_____。

- A. 自居 表扬成就 B. 标榜表扬成就 C. 自居体现价值 D. 标榜体现价值

5. 依次填入下面文字横线处的词语，最恰当的一组是()。

要接受并欣赏一种艺术，需要相当长的一个过程，那就是需要逐渐地去_____，去_____，去_____，去_____，这样，才能培养起对它的兴趣和爱好。

- A. 熟悉 适应 理解 习惯 B. 熟悉 适应 习惯 理解
C. 适应 熟悉 习惯 理解 D. 理解 熟悉 适应 习惯

6. 依次填入下面文字横线处的词语，最恰当的一组是()。

在基本事实已经足够清楚的情况下，有必要对此次风波进行梳理。_____，动用如此众多的公众舆论资源聚焦于几株树木的枯荣，_____因为木棉是广州这座城市的市花，_____因为它已然是人们将其视作历史与城市风格的某种图腾，_____希望可以藉由个案为之后的城市决策、管理乃至理念与思路，提供可资借鉴的方面，于教训之余_____有些许裨益。

- A. 毕竟 不仅 也不仅 而是 或 B. 因为 不仅 而是 所以 也
C. 然而 不但 而且还 或 D. 其实 不但 而是 或许 也

7. 依次填入下面文字横线处的词语，最恰当的是()。

我们深知，前进的道路上还会遇到这样或那样的矛盾和问题，_____我们对发展前景充满信心。_____我们已经开辟了中国特色社会主义发展道路，形成了中国特色社会主义理论体系。_____我们坚定不移地沿着这条道路走下去，_____一定能够把中国建设成为富强、民主、文明和谐的社会主义现代化国家。

- A. 尽管 但是一旦 就 B. 尽管 哪怕 因为 所以
C. 但是 哪怕 即便 也 D. 但是 因为 只要 就

8. 依次填入下面文字横线处的词语，最恰当的是()。

下棋不能无争，争的范围有大有小，有_____而因小失大者，有不拘小节而_____者，有_____作生死斗者，有各自为战而_____者，有赶尽杀绝一步不让者，有好勇斗狠同归于尽者。

- A. 斤斤计较眼观全局 短兵相接旗鼓相当 B. 步步为营 高瞻远瞩短兵相接 不相伯仲
C. 斤斤计较高瞻远瞩刀兵相见不相伯仲 D. 步步为营 眼观全局 刀兵相见旗鼓相当

9. 依次填入下面文字横线处的词语，最恰当的是()。

如今社会上的骗子骗术不断升级，为了这些行骗的手段他们可谓是_____，花样百出，使得老百姓_____。因此，为提高大家的防范意识和增强辨别能力，政府广开宣传渠道是_____的大事。

- A. 殚精竭虑 防不胜防 迫不及待 B. 殚精竭虑 谈虎色变 迫不及待
C. 挖空心思 防不胜防 刻不容缓 D. 挖空心思谈虎色变 刻不容缓

10. 依次填入下面文字横线处的词语，最恰当的一组是()。

有些孩子并不是天生的捣蛋鬼，他们的性格有_____，可能是因为环境的影响。只要_____，再“坏”的孩子都会变好。

- A. 问题 合理引导 B. 偏差 认真教导 C. 问题 教育得当 D. 偏差 循循善诱

二、阅读理解。阅读短文, 然后回答问题。

例题: 上世纪 30 年代, 人们开始使用瑞士化学家缪勒发明的滴滴涕。正当人们庆幸自己找到置害虫于死地的高效农药时, 害虫的天敌也近乎绝迹了。同时, 由于滴滴涕的残毒可以长期累积, 已经引起遗祸无穷的世界性公害。

这段话说明的道理是()。

- A. 如果使用不当, 高效农药的应用也会带来世界性公害
- B. 滴滴涕已经被证明是一种对人类有害无益的农药
- C. 滥施高效农药对害虫的天敌也会造成毁灭性灾难
- D. 某些科学成果是把“双刃剑”, 对其利用须持谨慎态度

解答: 该题的正确答案是 D。

11. 中东的民主化是一个表面的形式, 要整合成稳定的民主是极为困难的事情。平时我们所理解的民主化, 往往是推翻某一个派别或个人的专制统治, 但其实推翻专制之后的民主化进程是更艰难得多的。中东多数国家不同于日本、韩国这样的单一民族国家, 人们往往难以理解中东国家政治进程是多么复杂。

关于这段文字, 以下理解有误的是()。

- A. 平时我们所理解的民主化过于狭窄化
- B. 中东多数国家并不是单一民族国家
- C. 人们对中东国家政治进程想象得太简单
- D. 单一民族国家民主化进程比多民族国家顺利

12. 中国有许多文学作品传世至今经久不衰, 这与几千年文化铸就的百姓心中的“格式塔”是深深关联的, 即使是悲剧也要想方设法找到一个美满的结局。也因此可以看出中国文化的主流是文学的, 文学所描绘出的天堂生活、人间仙境虽遥不可及却深深扎根在百姓的生活中一期待明天会更好。

对这段话中“格式塔”的理解, 以下最准确的是()。

- A. 文学作品中的美满结局
- B. 文学所描绘的天堂生活、人间仙境
- C. 对理想生活的美好想象与向往
- D. 把悲剧转化为美满结局的偏好

13. 成本决定了绿色燃料的发展速度。它最大的竞争对手石油工业在经历了 100 多年的深入研究和发后正处于全盛时期, 目前运营的大部分石油冶炼厂都已实现收支平衡。而生物质燃料工厂仍需要上亿美元的前期投资, 在计算绿色燃料的价格时, 这部分成本也必须考虑在内。

对这段话主旨概括最准确的是()。

- A. 计算绿色燃料价格, 需考虑前期投资成本
- B. 相对于传统的石油, 发展绿色燃料的成本处于劣势
- C. 石油是绿色燃料发展的最大竞争对手
- D. 石油正处于全盛时期, 其他燃料无法与其相比

14. 通常来说, 第一产业对就业表现为一种剩余劳动力“蓄水池”作用, 虽然表面能吸纳大量劳动力, 但实际上有效吸纳能力有限; 第二、三产业是吸纳劳动力的主要产业, 在同样的经济规模下(即同样的 GDP), 第二、三产业尤其是第三产业比例越高, 则某区域的劳动力人口承载力越大。

这段文字主要说明()。

- A. 第一产业有效吸纳劳动力的能力有限
- B. 区域产业结构不同, 劳动力人口承载力也存在差别
- C. 第二、三产业是吸纳劳动力的主要产业, 应该重点发展
- D. 经济规模对劳动力人口承载力有很大影响

15. 在未来相当长一段时间内, 以人均 GDP 为主要衡量指标的中国经济发展水平, 要赶上西方发达国家依然存在一定难度。那么, 现在的问题是, 中国是否只有达到与西方发达国家同样的发展水平时才具备建立覆盖社会全体基本成员的社会保障制度的条件? 答案如果是肯定的, 则意味着在未来相当长的时间内, 中国还不能建立起覆盖社会全体成员的社会保障制度, 而这显然不符合发展的要求。

作者通过这段话想表达的观点是()。

- A. 中国经济发展水平要赶上西方发达国家存在一定难度
- B. 中国尚不具备建立覆盖社会全体基本成员的社会保障制度的条件
- C. 覆盖社会全体基本成员的社保制度不能等到中国赶上西方发达国家发展水平才建立
- D. 中国在未来相当长的时间内还不能建立起覆盖社会全体基本成员的社会保障制度

16. 后世学者常常将 1917 年的“十月革命”和 1919 年“五四运动”联系在一起探究, 却很少有人观察到几乎同时发生的印度“非暴力不合作运动”。事实上, 1919 年的中国思想界同时受到了来自南北两大社会思潮的夹击式影响, 至少在经济领域, 保守的企业家阶层的选择与甘地的非暴力主张很可参照。

作者写作这段文字意在指出()。

- A. “十月革命”和“五四运动”的联系紧密
- B. 学者忽视了印度“非暴力不合作运动”对 1919 年中国思想界的影响
- C. “五四运动”前后, 保守的企业家阶层的选择受到甘地主张的影响
- D. “五四运动”前后的中国思想界受到了俄国和印度两大思潮的影响

17. 农村文化是一套处境化的生产和生活经验体系, 它由该社会的生产和生活条件所决定, 无论如何“先进的”文化从外面输入到这样的社会也是脱离实际的。

对这段话中“处境化”含义的理解, 以下最准确的是()。

- A. 与农村各地生产、生活经验相适应的
- B. 适应农村实际发展变化的
- C. 与当地农村社会实际相联系、相融合的
- D. 与先进文化发展相适应的

18. 把核能看成可持续性资源, 可能会很困难。与其他替代资源不同, 核能长期为环境保护主义者所厌恶, 主要是因为放射性废物储存问题。但是, 核反应堆也是高效的电力之源, 不排放任何污染气体, 并且, 就某些类型的反应堆而言, 其设计能使废料减少到最低限度, 基本能够防止反应堆熔毁。

关于这段文字, 以下理解有误的是()。

- A. 核能很难被看成是一种可持续性资源
- B. 一些类型的反应堆, 基本能防止反应堆熔毁
- C. 核反应堆不排放任何污染废料和气体
- D. 核反应堆是高效的电力之源, 并且某些反应堆的设计已经得到改进

19. 法律的发展与社会的变迁紧密相关, 这其中也包含着另外一重意思, 即法律的生命在于影响政治、改造社会。法律与政治两者之间具有先天的联系。经典的法学家其实都是政治哲学家。他们从来都没有孤零零地谈论法律。他们关于法与法律的见解往往是在对非法律问题的探究中引申出来的。

关于这段文字, 以下说法正确的是()。

- A. 孤零零地探讨法与法律问题不能得出关于法与法律的有益见解
- B. 探讨法律问题必须紧密联系社会变迁, 这样才能使法律真正获得发展
- C. 法律的发展与社会变迁的紧密关系还表现为社会变迁影响法律的发展
- D. 政治哲学家所讨论的主要是如何运用法与法律影响政治、改造社会

20. 虽然思考偶尔能带来激动人心的发现, 但这些发现与发现之间的阶段对思考者的精力和耐力都是极大的考验。思考时, 我们没有必要告诉自己正在经历一种令人兴奋的过程, 而只要认识到, 我们的行为是按照人类状况对我们的要求, 认真地、理智地并且是自律地进行的, 就已足够。

这段文字所表达的主要意思是()。

- A. 按照人类状况的要求进行思考是思考者的使命
- B. 思考者思考问题必须要有足够的精力和耐力
- C. 思考者思考问题不仅仅是为了追求令人兴奋的过程
- D. 思考者思考问题必须是认真的、理智的, 而且是自律的

21. 所谓的颜色, 其实不过是某些波长的电磁波被我们的眼睛捕捉后所产生的反应。虽然所有温度高于绝对零度以上的物体都会放出电磁波, 但是其中只有极少数特定波长的电磁波才能引起人类的光感。在太阳辐射而来的电磁波中, 除了可见光之外, 还有一些我们看不到的红外线和紫外线, 如果将所有可见光都过滤出去, 即使剩余的电磁波强度再高, 我们也只能看到一片漆黑。

关于这段文字, 以下说法正确的是()。

- A. 存在可见光是人眼感知颜色的基础
- B. 眼睛捕捉电磁波后所产生的反应就是光感
- C. 物体温度越高, 释放的电磁波越强
- D. 可见光的强度越强, 眼睛所看到的颜色越鲜艳

22. 辛亥革命后, 紫禁城旧藏和宫中传世品大量流失。这时, 这些以前在中国本土以外几乎不为人知、甚至普通中国人自己都不很了解的官窑瓷器才不断展现于世。因此, 当今有些旅游者参观了几家外国博物馆, 见到馆藏的一些官窑瓷器, 就想当然张冠李戴地误以为西方历史上对中国瓷器的崇高评价是针对官窑的。这实在是一个历史误会。

这段文字接下来最可能讨论()。

- A. 中国瓷器出口西方的历史
- B. 西方历史上对中国瓷器的评价
- C. 官窑瓷器在民间的流传
- D. 这个历史误会产生的原因

23. 个体生命从家庭生活所习得的情感与社会技能, 其核心要素是“道德感”。而且在漫长的生存竞争中, 个体生命习得这一情感的能力被神经元编码为一段特定时间的“窗口”, 错过这一时段, 便难以习得相应的技能, 从而极大减弱了个体生命的社会交往能力。

关于这段文字, 以下说法正确的是()。

- A. 道德感决定个体的情感与社会技能
- B. 个体能否习得道德感是由神经元编码决定的
- C. 错过特定的时间, 个体将无法习得社会交往能力
- D. 对个体情感和社会技能的培养存在关键期

24. 为增加新闻的鲜活性, 很多报道会选择小切口的微观切入, 经济新闻报道也不例外。但在实际操作中, 这种报道往往又会使读者的感知过于零碎、片面。比如在此次金融危机报道中, 一会儿是旅游业冷清, 一会儿是房地产滞销, 一会儿又是中产白领有钱不敢花……到底全貌是怎样的? 这时候, 微观切入时的大局意识就非常重要。

这段文字的作者对经济新闻选择微观切入的态度是()。

- A. 不置可否
- B. 赞成
- C. 反对
- D. 辩证

25. 当人们需要作出可靠判断, 以决定在复杂情势中应如何行动时, 理性是最可信赖的工具。非理性工具, 诸如

预感与习惯，虽亦常被使用，但是当事关重大之时，或者当成败取决于所下判断的关头，诉诸理性无疑最易获得成功。我们已经拥有一些经受了长期检验的合理方法，能够用来判定究竟何者为宜、何者为真；也已拥有一系列业已得到确立的原理，可以指导我们从已知的东西引申出推论。

这段文字所表达的主要意思是()。

- A. 理性是人们作出判断最可信赖的工具 B. 现在已经存在了一套可以帮助人们作出可靠判断的方法
C. 非理性工具在人们需要作出可靠判断时不可信赖 D. 依理性作出的对复杂情势的判断不会出错

第二部分 数量关系

(共 15 题，参考时限 15 分钟)

26. 压路机的滚筒是圆柱形，长是 1.5m，滚筒的半径是 0.54m。如果滚筒每分钟转动 16 周，则压路机每分钟可压路面约()m²。

- A. 58 B. 69 C. 76 D. 81

27. 同住一个小区的三位同事早上 7:30 同时出门上班，甲自驾车，乙乘坐公交车，丙骑自行车。如果他们的路程相同，甲 8:00 到达单位，乙 8:30 到达单位，丙 8:15 到达单位，则他们的平均速度比是()。

- A. 4:6:5 B. 15:10:12 C. 12:8:9 D. 6:3:4

28. 广场上的大钟每到正点便会自动发出报时钟声，几点钟便敲几下。已知早上 6 点大钟报时的时候，最后一下钟声响起的时点是 6 点零 4 秒，如果每下钟声间隔时间相同，那么，在早上 11 点，大钟最后一下钟声响起的时点是 11 点零()秒。

- A. 7 B. 7.33 C. 8 D. 9

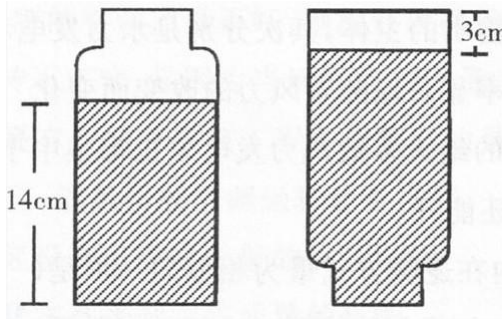
29. 如果小王用自己的五本故事书和小丽交换一本参考书，则小丽所拥有的书籍数量是小王的 3 倍。如果小江用自己的四本散文和小王换两本工具书，则小王所拥有的书籍数量是小江的 4 倍。如果小江给小丽一本散文，则小丽所拥有的书籍数量和小江的一样多。那么，小王原有()本书籍。

- A. 4 B. 6 C. 8 D. 10

30. 甲、乙两人在圆形跑道上，同时从某地出发沿相反方向跑步。甲的速度是乙的 3 倍，他们第一次与第二次相遇地点之间的较短的跑道长度是 100m。那么，圆形跑道的周长是(m)。

- A. 200 B. 300 C. 400 D. 500

31. 一个瓶子的瓶内容积为 204cm³（见下图），瓶口向上正放时，瓶内水的高度为 14cm，瓶口向下倒放时，剩余部分的高度为 3cm，则瓶内的水的体积是()cm³。



- A. 168 B. 178 C. 188 D. 198

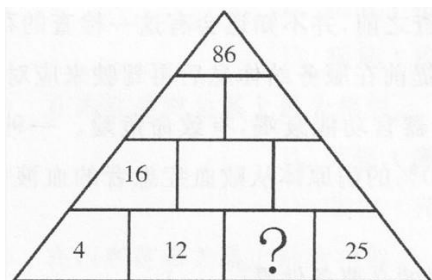
32. 科学家为研究某自然生态小岛上一种鸟的数量，抓了 300 只这种鸟，在其身上作出标记后放飞。数日后再次抓回 100 只，发现有标记的鸟为 4 只。则这个岛上大约有()只这种鸟。

- A. 1200 B. 2500 C. 6000 D. 7500

33. 因工作需要，有 46 个工作人员需要派到另外一个厂区，但只有一台运送车，每次最多能载 5 人（其中 1 人需开车），往返一次需 5 分钟。如果 8 点半开始出发，到 8 点 57 分时，至少还有()人还在当地等待运送。

- A. 16 B. 21 C. 26 D. 30

34. 下边这个“金字塔”中每格数字都是该格所对应的下面两格数字之和，如，16 是 4 和 12 之和。则问号代表的数字是()。



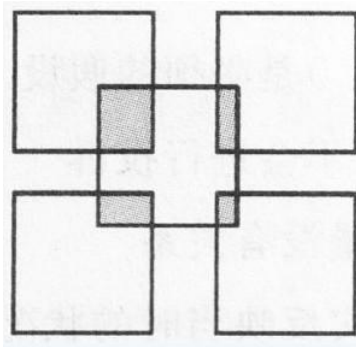
- A. 7 B. 14 C. 16.5 D. 45

35. 赵、钱、孙三人共有 216 元钱，赵用了自己钱数的 3/5，钱用了自己钱数的 3/4，孙用了自己钱数的 2/3，各

买了一本相同的书，则赵、钱两人剩下的钱共有()元。

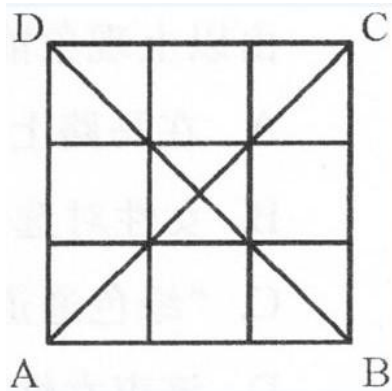
- A. 16 B. 32 C. 48 D. 64

36.有 5 个正方形如下图叠放。已知每个正方形的边长都是 5cm，它们所覆盖住的面积为 115cm²。则阴影部分的面积为()cm²。



- A. 5 B. 10 C. 15 D. 20

37. 如右图所示，在 3 行 3 列的方格表中，分别填上 O、2、4 这三个数字中的任意一个，则每行、每列以及对角线 AC、BD 上的各个数之和至少有()个相同。



- A. 2 B. 3 C. 4 D. 5

38.某培训班学制 1 个半月，采用滚动招生培训制，在不断有学员完成培训毕业离开的同时，也不断有新学员加入培训。已知本月该培训班共增加了 45 名新学员，目前在学人数比上个月多了 25%，那么，本月该培训班的毕业人数最多是()人。

- A. 21 B. 27 C. 30 D. 36

39.用一张长 1007 毫米、宽 371 毫米的长方形纸，剪成多个面积相等且尽可能大的正方形。长方形纸最后没有剩余，则这些正方形的边长是()毫米。

- A. 19 B. 53 C. 79 D. 106

40.服装批发市场有一款衣服标价 100 元/件。小王原计划购买 60 件这样的衣服，但他对店老板说：“如果你肯减价，每减价 1 元，我多订购 10 件。”老板算了一下，如果减价 4%，由于小王多购，便可获得比原来多一半的总利润。则这一款衣服的成本是()元。

- A. 60 B. 68 C. 75 D. 81

第三部分 逻辑推理

(共 30 题，参考时限 25 分钟)

41.为鼓励市民骑自行车出行，M 市在过去几年里专门在马路上划出自行车道和禁止机动车行驶的“绿色通道”。然而，该市真正将自行车作为主要交通工具的人口比率依然很低，仅男性稍有增加。

由以上现象能够得到的结论是()。

- A. 在马路上划出的自行车道让骑自行车的人必须和机动车抢道，比较危险
- B. 女性对选择骑自行车出行与男性有着不同的要求
- C. “绿色通道”通常只是在公园内铺设，无法连通到商务区、超市、学校等实用场所
- D. 该市女性早已普遍将自行车作为主要交通工具

42.转基因作物种植成本很高，因此有观点认为，这只能让种子生产者和大农场受益，而不利于在贫困地区普遍存在的小农场。对此，转基因公司指出，现在很多地方的小规模种植者都在种植转基因作物，就是因为种植者通过种植转基因作物增加了收入。

以下选项如果为真，能够最有力地反驳转基因公司的观点的是()。

- A. 一些国家为提高农作物总产量，对因种植转基因作物而亏损的种植者提供补贴
- B. 小规模种植者通常只种植作物价值比较高的品种

- C. 转基因作物种植的成本比普通作物高 30%, 但其产量能够比普通作物高 40%
- D. 有很多天然农作物的产量不低于转基因作物, 但价格却比转基因作物低很多
43. 据研究, 出生时间对犯罪活动有影响。年底出生的人常犯某类罪, 年中出生的人常犯某类罪。既然人的出生时间不由自己选择, 犯罪人也不应当为自己所犯的罪承担责任。
- 以下选项如果为真, 能够最有力地反驳上述推论的是()。
- A. 所有的人都仅应当为自己能够控制的行为承担责任
- B. 出生时间对人的行为倾向有影响, 但是否执行这一行为, 却是个人选择的结果
- C. 并不是所有在同一个时间段出生的人都会犯同一种类型的罪
- D. 除出生时间外, 家庭和学校教育、社会环境等都会对个人的行为选择产生影响
44. 今年以来, 各地所报告的儿童手足口病病例数比去年同期平均上涨了 20%。因此, 有卫生组织担忧, 儿童手足口病的疫情在全国有爆发的趋势。
- 以下选项如果为真, 均有利于缓解该卫生组织的担忧, 除了()。
- A. 幼儿园是儿童传染手足口病的主要场所, 而今年新入学幼儿园的儿童比上年增加了 50%
- B. 随着人们对儿童手足口病认识的加深, 父母更频繁地带孩子们到医院就诊, 从而增加了轻微发病的记录
- C. 今年以来, 全国各地规范了对儿童手足口病的登记与排查力度, 很多以往未受关注的病例得到重视
- D. 今年儿童手足口病症状与去年相比变异较大, 很多医生在初诊时无法确诊
45. 美国已经建成的风力发电站中, 60% 坐落在一条从德克萨斯延伸到五大湖区的狭长风力走廊上, 研究显示过去一年以来美国风力下降最显著的大部分区域恰好与这条走廊重合。因此, 过去一年美国风力发电的电力输出比上年大大减少。
- 要使以上推论成立, 还需要以下() 作为前提。
- A. 坐落于该走廊的风力发电站的输出功率普遍比美国其他地区风力发电站的高
- B. 风力发电是美国电力输出的主体, 其次分别是水力发电和火力发电
- C. 风力发电机的输出功率显著地随着风力的改变而变化
- D. 美国在建或计划建设的绝大多数风力发电站也都集中于该走廊
46. 油缸里还有油, 我们的车还能开。
- 以下推理与题干推理的内在逻辑方式最为相似的一项是()。
- A. 他有希望被宣判无罪, 如果他能找到一个好律师的话
- B. 今天是《功夫熊猫 2》的首映, 所有影院都会爆满
- C. 这块蛋糕看起来可口极了, 小宝宝一定很爱吃
- D. 这台电脑已经使用了近 10 年, 运行速度很慢
47. 疲劳驾驶是造成交通事故的重要原因之一, 很多货车司机经常连续驾驶超过 8 个小时。因此交警在一些高速公路收费站设置检查站点, 检查货车司机的疲劳状态, 以减少货车司机疲劳驾驶的情况。
- 以下选项如果为真, 最能够对交警的这一做法提出质疑的是()。
- A. 人体的疲劳状态很难有一个确切的评价和对比指标
- B. 货车司机身体的疲劳状态不一定是他连续驾驶时间的反映
- C. 很多货车司机在被检查之前, 并不知道会有这一检查的存在
- D. 一些货车司机会通过提前在服务亭休息后再驾驶来应对交警的检查
48. 败血症能导致人体的多个器官功能衰竭, 有致命危险。一种新型的治疗败血症的方法是利用微米大小的磁珠将 80% 的病原体从败血症患者的血液中过滤出来, 以使抗菌药物更有效地发挥作用。
- 该新型疗法能够发挥作用的必要条件是()。
- A. 没有病菌会隐藏在血液供应量较低的区域以逃避血液过滤
- B. 败血症患者的很多症状是由机体自身的炎症反应导致的, 而非由病原体导致
- C. 减少病原体数量有助于提升药物疗效
- D. 磁珠的大小是红细胞直径的 1/8, 能够保证含有磁珠的盐溶液平稳流动
49. 今年以来, 某导游被游客投诉的次数比其他导游多出一倍。针对旅游公司认为自己服务不到位的质疑, 该导游反驳说, 每次针对投诉的调查都说明, 这些针对他的投诉只是游客太过挑剔。
- 要使该导游的反驳成立, 以下() 是必须的假设。
- ①如果游客不是太过挑剔, 他们就不会进行投诉
- ②游客是否挑剔与导游的服务质量没有关系
- ③每次针对投诉的调查都能够真实反映当时的状况
- A. 只有① B. 只有③ C. 只有②③ D. ①②③均是
50. 某地许多消费者投诉某品牌的空调质量不好, 制冷效果很差。对此, 该品牌空调的总工程师回应说, 空调之

所以运转不正常，是因为当地的空气质量太差。

以下选项如果为真，能够最有效地反驳该工程师的观点的是()。

- A. 在空气质量良好的地区，该品牌的空调运转非常良好
- B. 该品牌空调在其他地区没有出现过大量的质量投诉
- C. 不是所有空调的运转状态都受到空气质量的影响
- D. 所有的空调都应当保证能够在当地正常运转，才能够出售

五、类比推理。

以下每道题都会先给出一组存在内在关联的词，要求你在备选答案中找出一组与之在内在逻辑关系上最为相似的词。

例题：苹果：梨与 () 在内在逻辑关系上最为相似。

- A. 裤子：衬衣
- B. 书包：上学
- C. 跑步：锻炼
- D. 美丽：温柔

解答：此题正确答案为 A。

51. 垃圾：资源 与 () 在内在逻辑关系上最为相似。

- A. 成本：收入
- B. 挑战：机会
- C. 沟通：情绪
- D. 疾病：疫苗

52. 控制：管理 与 () 在内在逻辑关系上最为相似。

- A. 引导：诱惑
- B. 奖惩：激励
- C. 保证：保护
- D. 牺牲：死亡

53. 窗户：窗帘 与 () 在内在逻辑关系上最为相似。

- A. 铅笔：橡皮
- B. 咖啡：奶茶
- C. 头发：梳子
- D. 建筑：钢铁

54. 货币：价值 与 () 在内在逻辑关系上最为相似。

- A. 法律：约束
- B. 刀具：谋杀
- C. 书本：印刷
- D. 观点：立场

55. 物流：快递 与 () 在内在逻辑关系上最为相似。

- A. 树木：公园
- B. 社会：法庭
- C. 违法：犯人
- D. 金融：证券

56. 制定：实施 与 () 在内在逻辑关系上最为相似。

- A. 治疗：痊愈
- B. 盗窃：逮捕
- C. 追踪：猎杀
- D. 战争：屠杀

57. 家具：木材 与 () 在内在逻辑关系上最为相似。

- A. 毒品：烟草
- B. 枪支：金属
- C. 基因：细胞
- D. 火药：化学

58. 前后：上下 与 () 在内在逻辑关系上最为相似。

- A. 有无：好坏
- B. 彼此：矛盾
- C. 花草：树木
- D. 冬夏：寒热

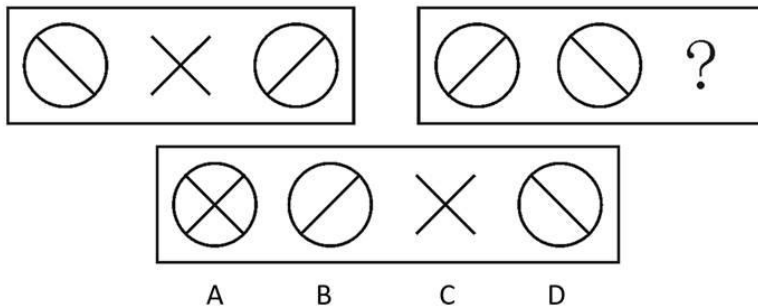
59. 奸诈：聪明 与 () 在内在逻辑关系上最为相似。

- A. 专家：学者
- B. 信任：相信
- C. 评判：批判
- D. 借口：理由

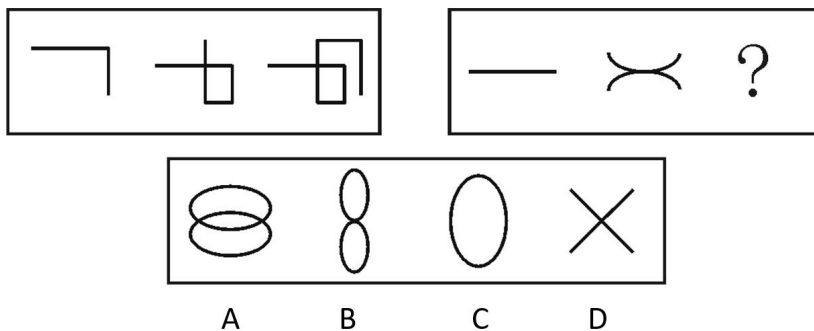
60. 激发：创意 与 () 在内在逻辑关系上最为相似。

- A. 理解：能力
- B. 建筑：设计
- C. 集中：注意
- D. 迅猛：发展

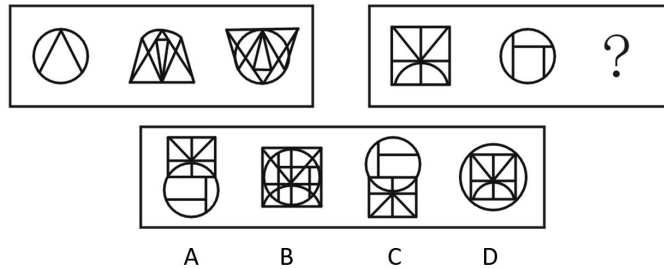
61. 请选择最适合的一个选项填入问号处，使右边图形的变化规律与左边图形一致。()



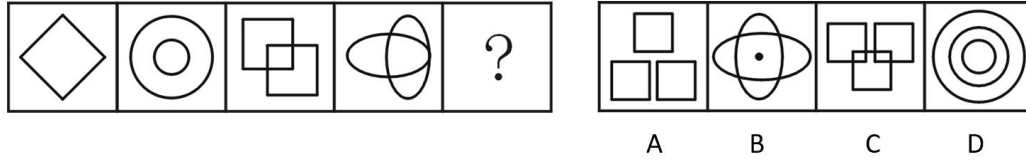
62. 请选择最适合的一个选项填入问号处，使右边图形的变化规律与左边图形一致。()



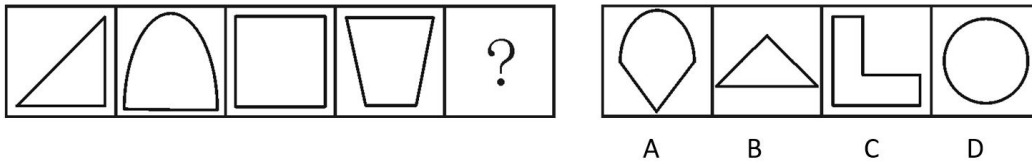
63. 请选择最适合的一个选项填入问号处，使右边图形的变化规律与左边图形一致。()



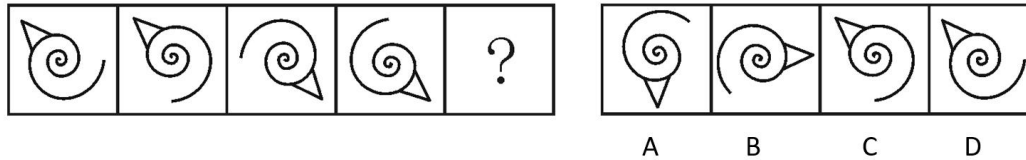
64. 请选择最适合的一个选项填入问号处，使之符合之前四个图形的变化规律。()



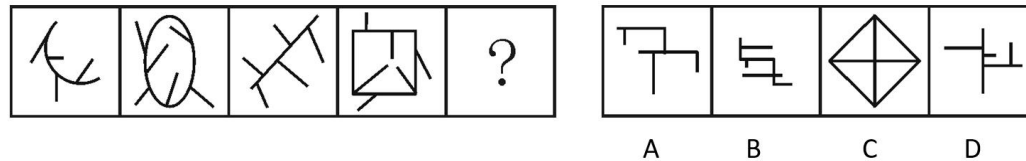
65. 请选择最适合的一个选项填入问号处，使之符合之前四个图形的变化规律。()



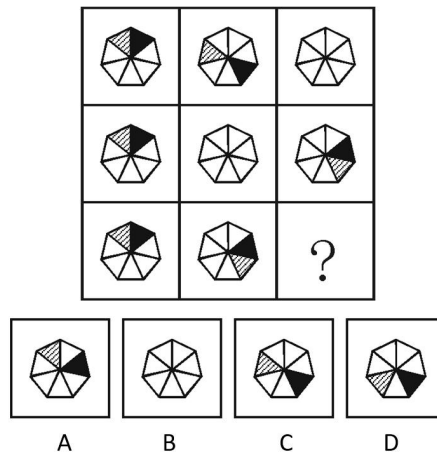
66. 请选择最适合的一个选项填入问号处，使之符合之前四个图形的变化规律。()



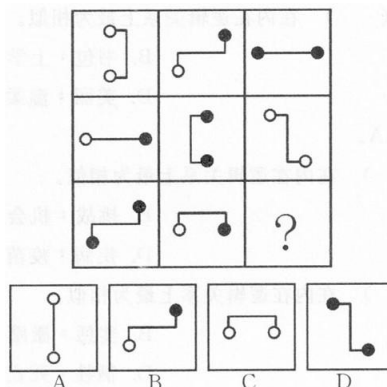
67. 请选择最适合的一个选项填入问号处，使之符合之前四个图形的变化规律。()



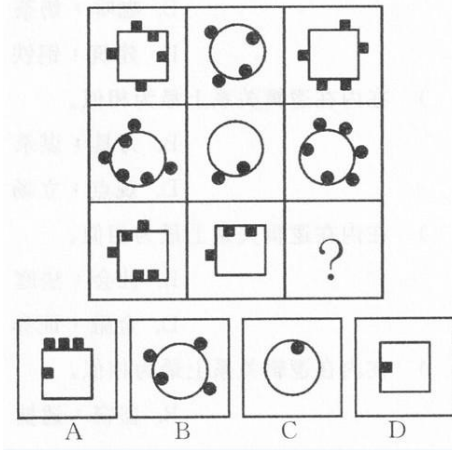
68. 请选择最适合的一个选项填入问号处，使之符合整个图形的变化规律。()



69. 请选择最适合的一个选项填入问号处，使之符合整个图形的变化规律。()



70.请选择最适合的一个选项填入问号处，使之符合整个图形的变化规律。（ ）



第四部分 资料分析

（共 15 题，参考时限 15 分钟）

七、资料分析。请根据以下给出的图表、文字资料进行分析，选出符合题目要求的正确答案。

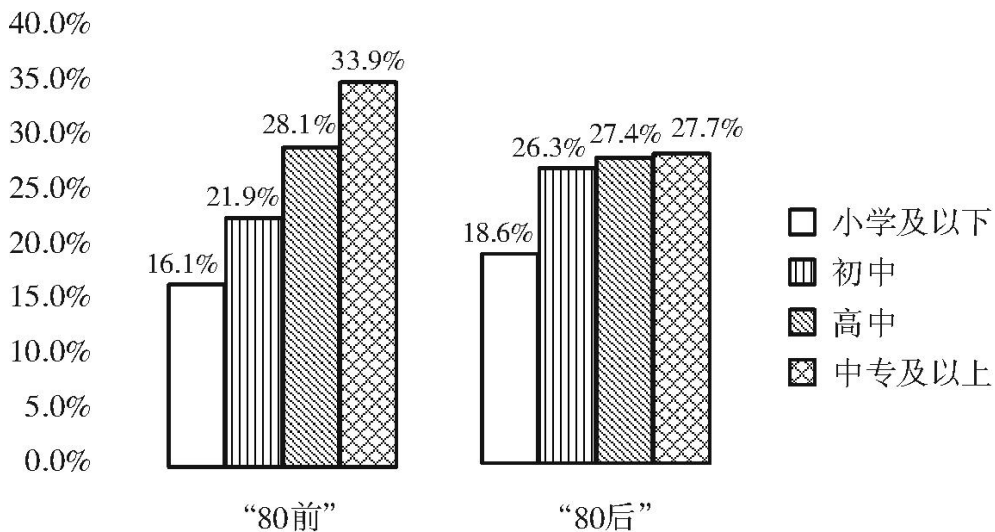
（一）根据以下资料，回答 71-75 题：

某研究调查了 5000 名“80 前”和 5000 名“80 后”“愿意转变为非农户口”的农民工。图 1 说明的是这些农民工的文化程度情况，如，愿意转变为非农户口的“80 前”农民工中有 16.1%的人具有小学及以下文化程度。

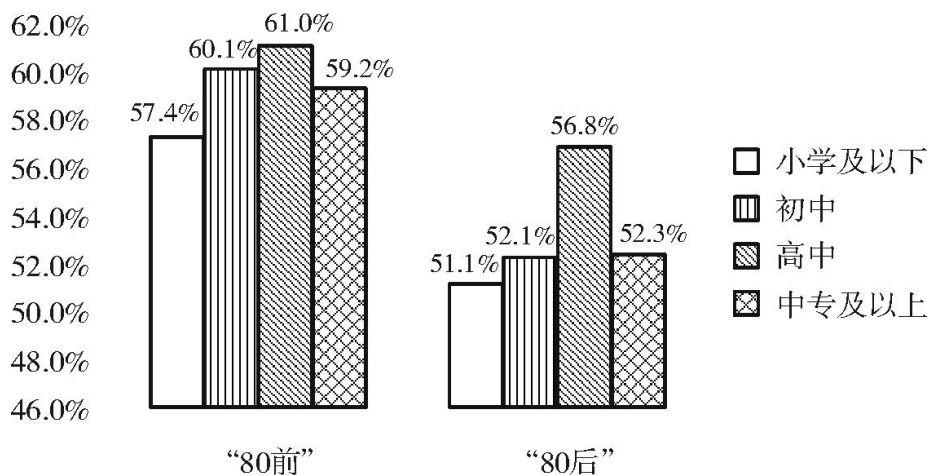
当被问及“如果转变为非农户口需要交回承包地，是否还愿意转变为非农户口”时，他们中一些人的态度发生了变化。图 2 说明的是图 1 中各文化程度的农民工“即使交回承包地，仍愿意转变为非农户口”的情况，是对图 1 情况的进一步调查，如，在愿意转变为非农户口的小学及以下文化程度的“80 后”农民工中，有 51.1%的人即使交回承包地，仍愿意转变为非农户口。

图例中，“小学及以下”等是指农民工的文化程度。

比重



比重



71.在不考虑是否交回承包地时，愿意转变为非农户口的最大农民工群体是（ ）。

- A. “80 前” 高中文化程度群体 B. “80 后” 高中文化程度群体
C. “80 前” 中专及以上文化程度群体 D. “80 后” 中专及以上文化程度群体

72.在不考虑是否交回承包地时, 愿意转变为非农户口的小学及以下文化程度农民工占有愿意转变为非农户口的农民工的比重约为()。

- A. 16.1% B. 17.4% C. 18.6% D. 34.7%

73.即使交回承包地, 仍愿意转变为非农户口的初中文化程度农民工, “80 前” 比 “80 后” 约 () 人。

- A. 多 60 B. 少 60 C. 多 30 D. 少 30

74.如果转变为非农户口需要交回承包地, 则原本愿意转变为非农户口的农民工态度发生改变最大的群体是 ()。

- A. 小学及以下文化程度群体 B. 初中文化程度群体 C. 高中文化程度群体 D. 中专及以上文化程度群体

75. 根据材料, 能得出的结论是()。

- A. 总体而言, “80 后” 比 “80 前” 农民工更愿意耕作自己的土地
B. 总体而言, 在 “是否愿意转变为非农户口” 这个问题上, “80 后” 比 “80 前” 农民工更为谨慎
C. 不论是哪个文化程度的农民工, 均有超过半数的人不愿转变为非农户口
D. 绝大多数的农民工希望在转变为非农户口的同时能够保留自己的承包地

(二) 根据以下资料, 回答 76-80 题:

2009 年普及九年义务教育的人口覆盖率已达到了 99.7%; 初中阶段毛入学率达 99%。由于学龄人口减少, 小学、初中的学校数、学生数继续减少。全国共有小学 28.02 万所, 比 2008 年减少 2.07 万所; 招生 1637.8 万人, 比 2008 年减少 57.92 万人; 在校生 10071.47 万人, 比 2008 年减少 260.04 万人。初中学校 5.63 万所 (其中职业初中 0.02 万所), 比 2008 年减少 0.16 万所; 招生 1788.45 万人, 比 2008 年减少 71.15 万人; 在校生 5440.94 万人, 比 2008 年减少 144.03 万人。

学前教育有所发展, 幼儿园数、在园幼儿数、幼儿园教师数均有所增加。2009 年全国共有幼儿园 13.82 万所, 比 2008 年增加 0.45 万所, 在园幼儿 (包括学前班) 2657.81 万人, 比 2008 年增加 182.85 万人。幼儿园教师共 112.78 万人, 比 2008 年增加 9.58 万人。

高中阶段毛入学率 79.2%, 比 2008 年提高 5.2 个百分点。全国高中阶段教育 (包括普通高中、成人高中、中等职业学校) 共有学校 29761 所, 比 2008 年减少 1045 所; 招生 1698.86 万人, 比 2008 年增加 49.74 万人; 在校学生 4640.91 万人, 比 2008 年增加 64.84 万人。其中普通高中规模有所下降, 与 2008 年相比, 招生数减少 6.67 万人, 下降 0.8%; 在校生数减少 34 万人, 下降 1.7%; 全国中等职业教育 (包括普通中等专业学校、职业高中、技工学校和成人中等专业学校) 招生和在校生数有所增加, 招生 868.52 万人, 比 2008 年增加 56.41 万人; 在校生 2195.16 万人, 比 2008 年增加 108.07 万人。

高等教育招生数和在校生规模持续增加。全国各类高等教育总规模达到 2979 万人, 高等教育毛入学率达到 24.2%。普通高等学校 2305 所, 比 2008 年增加 42 所, 其中本科院校 1090 所, 高职 (专科) 院校 1215 所。普通高等教育本专科共招生 639.49 万人, 比 2008 年增加 31.83 万人, 增长 5.24%; 在校生 2144.66 万人, 比 2008 年增加 123.64 万人, 增长 6.12%。全国共招收研究生 51.09 万人, 比 2008 年增加 6.45 万人, 增长 14.45%; 其中博士生 6.19 万人, 硕士生 44.90 万人。在学研究生 140.49 万人, 比 2008 年增加 12.19 万人, 增长 9.50%; 其中博士生 24.63 万人, 硕士生 115.86 万人。

76.以下各教育类型中, 2009 年在校生规模最小的是()。

- A. 学前教育 B. 初中教育 C. 中等职业教育 D. 普通高等教育本专科

77. 2009 年义务教育阶段学校招生人数比 2008 年约下降了()。

- A. 3.2% B. 3.6% C. 4.0% D. 4.5%

78. 2009 年我国学前教育中, 平均每 1000 名在园幼儿拥有教师约为() 人。

- A. 28 B. 35 C. 42 D. 51

79. 2009 年我国普通高中招生人数约为() 万人。

- A. 818 B. 827 C. 830 D. 844

80. 由材料可以得知()。

- ①2009 年义务教育阶段学校在校学生数出现下降, 学龄人口毛入学率略有下降
②2009 年普通高中和中等职业教育在校生规模出现此消彼长的局面
③2009 年普通高等学校校平均招收本专科生人数比 2008 年有所上升
④2008 年普通高中在校生规模大于中等职业教育在校生规模

- A. ①② B. ①④ C. ②③ D. ②④

(三) 根据以下资料, 回答 81-85 题:

2010 年全国电源工程建设完成投资 3641 亿元, 其中, 水电 791 亿元, 火电 1311 亿元, 核电 629 亿元, 风电 891 亿元。水电、核电、风电等非化石能源发电投资占电源投资的比重从 2005 年的 29% 持续提高到 2010 年的 64%。

“十一五”各类电源工程建设投资同比增长率情况（单位：%）

	2006年	2007年	2008年	2009年	2010年
合计	-1.01	0.97	5.61	11.62	-4.26
水电	-9.07	9.60	-1.18	2.16	-8.79
火电	-1.82	-10.08	-16.26	-8.04	-15.06
核电	179.21	73.89	101.39	77.25	7.67
风电	37.76	173.54	208.27	48.27	13.97

81. “十一五”期间，水电工程建设投资额最高的年份是()年。
 A. 2007 B. 2008 C. 2009 D. 2010
82. “十一五”期间，各类电源工程建设投资增长率变动最剧烈的是()。
 A. 水电 B. 火电 C. 核电 D. 风电
83. 核电工程建设投资占电源工程建设投资总额的比重，2010年比2009年()。
 A. 上升2个百分点 B. 下降2个百分点 C. 上升4个百分点 D. 下降4个百分点
84. 2005年非化石能源发电投资额大约为()亿元。
 A. 300 B. 500 C. 700 D. 900
85. 根据材料，能得出的结论是()。
 A. “十一五”期间，电源工程建设投资持续向非化石能源发电领域倾斜
 B. 由于起点低，“十一五”期间，非化石能源的装机容量仍远少于化石能源的装机容量
 C. 从“十一五”期间的趋势看，2011年各类电源工程建设投资总额仍将进一步减少
 D. 太阳能电源在我国电源结构中还未能占据重要位置

第五部分 常识判断

(共15题，参考时限10分钟)

本部分仅有一种类型的试题：

八、常识判断。请你依据常识作出判断。注意：似乎合理的答案可能有多种，你应选择最为合理的一个。

例题：随着世界经济发展的需要，一些国际经济组织应运而生，而今天最广泛也最具有权威性的国际经济组织是()。

- A. 国际货币基金组织 B. 世界银行 C. 世界贸易组织 D. 东盟

解答：ABD都不及世界贸易组织的影响广泛和具有权威，因此正确答案选C。

86. 2010年7月20日，我国境内从西藏——云南交界地由西往东直到上海上演百年难遇的日全食。在观赏日全食时，“初亏”、“食既”、“食甚”、“生光”、“复圆”是最重要的几个时间，当武汉处于“生光”阶段时，()很可能正处于“食甚”阶段。

- A. 包头 B. 重庆 C. 合肥 D. 贵阳

87. 20世纪90年代后期以来，几乎每年春季和夏季太湖都会有蓝藻大量生长繁殖。水体的富营养化是蓝藻爆发的主要原因。太湖水富营养化主要是()元素含量过高导致的。

- A. 氮 B. 磷 C. 钠 D. 碳

88. 改革开放以来，我国经济在总体上迅速发展，取得举世瞩目成就的同时，发展不平衡问题也逐渐突出。城乡发展差距较大，区域发展差距明显，社会事业等发展相对滞后。对此，我们的正确认识是()。


- ①经济社会发展是一个螺旋式前进的过程，平衡是相对的，而不平衡是绝对的
 ②经济社会系统存在一定程度的不平衡，有利于保持竞争的压力与活力，打破平均主义，促进生产要素的合理流动和优化配置
 ③不平衡问题如果长期持续，会使国民经济难以保持平稳较快发展，使整个社会产生心理鸿沟，削弱社会的凝聚力和向心力
 ④解决发展不平衡问题，根本要靠充分发挥地方优势


- A. 只有②④ B. 只有①②③ C. 只有②③ D. ①②③④均是

89. 《红楼梦》第九十一回中有“任凭弱水三千，我只取一瓢饮。”此语后广为传诵，用来借指“纵然可爱众多，我只钟情一人”。以下为“弱水”出处之一的是()。

- A. 峨眉 B. 岱宗 C. 昆仑 D. 终南

- 90.周邦彦《少年游》中有名句：“并刀如水，吴盐胜雪，纤手破新橙。”其中“并刀”的产地在今天的()。
- A.开封 B.西安 C.洛阳 D.太原
- 91.陆游诗作“小楼一夜听春雨，深巷明朝卖杏花”描写的是农历()的场景。
- A.二月 B.三月 C.四月 D.五月
- 92.近年来，我国城市房价居高不下。高房价已经成为人们生活中“不可承受之重”，不但直接造成普通群众买房难，而且还()。
- ①造成背离经济发展基础的“虚假繁荣” ②使内需增长面临长期抑制
③阻碍中国城镇化进程 ④影响社会公平
- A.只有①② B.只有②③④ C.只有③④ D.①②③④均是
- 93.某甲故意在某乙家的狗旁边鸣笛，致使拴在门边的狗受惊后挣脱锁链，冲出去咬伤了行人某丙，则()。
- A.某丙只能要求某甲承担赔偿责任
B. 某丙既可以要求某甲承担赔偿责任，也可以要求某乙承担赔偿责任
C. 某丙只能要求某乙承担赔偿责任
D. 某甲、某乙对某丙的损失承担连带赔偿责任
- 94.张家有甲、乙、丙三兄弟，甲幼年时被送给赵某作养子。甲结婚时，赵某为其盖了新房，后因失火导致该房屋被烧毁。甲的生母就将其住房腾出一间让甲夫妇及赵某居住。不久，甲的生母病故，对于甲的生母的遗产，有继承权的是()。
- A.乙和丙 B. 甲，乙和丙 C. 乙、丙和赵某 D. 甲、乙、丙和赵某
- 95.“我现在指挥着这艘巨轮，船上装载着从世界各地运来的珍贵货物，这些东西我从来没有卖过。风也助我一臂之力吧，不管是港口还是海港，我最大的愿望就是能在上面自由奔跑。”说这段话的船长是()。
- A.哥伦布 B. 郑和 C. 诺亚 D. 麦哲伦
- 96.很多机构对员工的培训十分重视，每年投入大量人力、物力和资金，但也有不少机构在此方面甚少投入。对于一个机构来说，在培训上的投入实际上属于()。
- A.费用 B. 投资 C. 福利 D. 利润
- 97.通过以下诗句可以大致推算出地球半径的是()。
- A.坐地日行八万里 B. 扶摇直上九万里 C. 雪夜独钓万里船 D. 千里江陵一日还
- 98.下列观点不属于同一思想流派的是()。
- A.君子和而不同 B. 修身齐家治国平天下 C. 知行合一 D. 利万物而不争
- 99.下列事件或典故发生的背景按时间的先后正确排序的是()。
- A.《兰亭集序》——交子——“一条鞭法”——三藩之乱
B. 武王伐纣——玄武门之变——胡服骑射——扬州十日
C. 虽远必诛——约法三章——赤壁之战——杯酒释兵权
D. 《史记》——“四库全书”——《资治通鉴》——“二十四史”
- 100.小马为一次重要的演讲精心准备并演练了近百次，最后一次甚至堪称完美。他告诉自己演讲时要声音洪亮、面带微笑、吐字清晰、语速适中。可是正式演讲那一刻，他的脑子突然一片空白，所有的准备都化为乌有。
- 根据以上场景，以下描述正确的是()。
- A.当我们熟练掌握某项技能后，大脑就接管了该技能的应用
B. 压力环境会阻碍小脑的任务处理过程
C. 小脑皮层是负责学习和有意识思考的脑区
D. 处理复杂运动的小脑是不受意识控制的

 微信扫描二维码，关注“公务员考试挺简单”微信公众号，可获取更多公考经验。分享公考经验，还可获得现金奖励哈

 手淘扫描淘宝店铺，可以购买省考、国考历年真题哦



微信公众号



淘宝店铺

2011年广州市公务员录用考试《行政职业能力测验》试卷参考答案及解析

第一部分 言语理解与表达

一、言语表达

1. B[解析]根据文段的意思，小邱应该是面试了很多次都没有取得成功。“屡试不爽”是指屡次试验都没有差错，用在此处显然不合适，排除A选项。“战无不胜”与文段的意思明显相反，C项也应该排除。“屡战屡败”与“屡败屡战”不只是汉字的位置不同，意思也截然不同。“屡战屡败”强调的是“败”，表明多次尝试都没有取得成功；而“屡败屡战”则强调的是“战”，体现出执著与不屈。此处使用“屡战屡败”最符合文意，与下文的“沮丧”相符合。所以，正确答案为B选项。

2. D[解析]“衰退”是指衰弱减退，“式微”是指事物由兴盛而衰落，二者相比较，“式微”更符合第一空的语境，即体现出中华文化由兴盛到衰落的变化过程。由下文的“反而”和“越来越”也可以发现，“中华文化的遗传”有一个强弱的变化过程，故排除A、B选项。“显现”指显露，露面；“凸显”指凸出显露，由“越来越”可知，此处应使用语意程度较强的词语，“凸显”更能反映出增强的程度。所以，正确答案为D选项。

3. C[解析]从文段第一个空来看，首先排除B选项，“导致”常用于不好的结果，而“突破性的科技创新成果”显然不属于不好的结果。从第二空来看，经济危机不可能“形成”或者“产生”技术革命，而只能作为一种诱因存在，故排除A和D选项。将C选项的两个词语代入文段，“催生突破性的科技创新成果”，“引发技术革命”，使用恰当。所以，正确答案为C选项。

4. C[解析]“自居”是指自任，自待；“标榜”是指吹嘘，夸耀。第一空处使用“自居”在语意上更为恰当，并且只有“自居”可以与“以”搭配，构成“以……自居”，所以排除B、D两项。“表扬”的发出者必须是人，而第二空和第三空所在句子的主语是“这句调侃的话”，所以此处应该使用“体现”，即“体现……价值”，故排除A选项。所以，正确答案为C选项。

5. C[解析]空缺处的四个词语所要体现的是接受并欣赏一种艺术的过程。由此可见，“接受”是“欣赏”的前提，综观四个选项中的词语，“适应”是“接受”的同义转换，也是其他三个词语的前提，只有C选项将“适应”排在了第一位。接着分析C选项中四个词语的排序，即首先要去“适应”，在适应的过程中逐渐“熟悉”，熟悉之后“习惯”成自然，对这种艺术有了全面的了解，能够“理解”艺术的魅力价值所在，最终欣赏这种艺术，这符合一般人的认知过程。所以，正确答案为C选项。

6. A[解析]先看第一个空，由文段可知，此处应填入表示原因的词语。“毕竟”，表示追根究底所得的结论，常用在肯定句中，强调原因或结果。“因为”，表示原因或理由。“然而”和“其实”两个词都表转折，故排除C、D项。再看后面几个空，由文段可知，作者的论述重点在倒数第二个空后面，落到“为之后的城市决策、管理乃至理念与思路，提供可资借鉴的方面”上，故该空应填入表强调的联结词，结合选项来看，只有A项的“不仅……也不仅……而是……”最符合文意。本题正确答案为A。

7. D[解析]文段中，第一句话的前半句是说存在“矛盾和问题”，后半句则说“充满信心”，故应该使用表转折的虚词，所以排除A和B选项。第二个空，需要对前文“充满信心”的原因进行解释，使用“因为”最恰当，排除C选项。将D选项的后两个词语代入空缺处，“只要……就……”使用恰当。所以，正确答案为D选项。

8. A[解析]“斤斤计较”是指对无关紧要的事过分计较；“步步为营”是指军队每向前推进一步就设下一座营垒，形容防守严密，行动谨慎。从第一空后的“因小失大”可知，此处应该是过分计较之意，故含贬义色彩的“斤斤计较”最为合适。再看第二个空，由前面的“不拘小节”可知，此处应填入“眼观全局”，“全局”与“小节”相对应。“短兵相接”指近距离搏斗，比喻面对面地进行激烈的斗争；“刀兵相见”指用战争解决问题。此处与后面的“作生死斗”搭配，“短兵相接”更恰当。所以，正确答案为A选项。

9. C[解析]本题可以从词义色彩和语义轻重着手排除选项。第一空处，“殚精竭虑”形容用尽心思，是一个褒义词。“挖空心思”比喻想尽一切办法，含贬义色彩。形容骗子应该用贬义词，所以排除A、B选项。第二空处，“防不胜防”形容防备不过来，“谈虎色变”比喻一提到自己害怕的事就情绪紧张起来。由前面的“花样百出”可知，此处应强调老百姓“防备不过来”，“谈虎色变”的语义过重，使用“防不胜防”更为合适，故排除D。所以，正确答案为C选项。

10.D[解析]从文段来看，作者的感情基调显然是建立在“宽容”的基础之上。有些孩子“可能是因为环境的影响”，才成为捣蛋鬼，而“问题”的语义过重，与作者的感情基调不吻合，故第一个空处应该使用“偏差”更为合适。所以，排除A、C选项。“循循善诱”是指善于引导别人进行学习，与“偏差”搭配使用最为恰当，即采用循循善诱的方法来将孩子们的偏差纠正过来。所以，正确答案为D选项。

二、阅读理解

11.D[解析]本题属于细节判断题。A、B和C选项都可以从文段中找到相关信息，可以排除。D选项偷换范围，文段是说“中东多数国家不同于日本、韩国这样的单一民族国家”，而D选项将其扩大为“单一民族国家”和“多民族国家”之间的比较，并且认为前者的民主化进程更为顺利，明显错误。所以，正确答案为D选项。

12. C[解析]本题属于词句理解题。由“这与几千年文化铸就的百姓心中的‘格式塔’”可知，“格式塔”

实际上是中国文化在百姓心中的缩影、定型。由后文可知, 中国文化的主流是文学的, 是“期待明天会更美好”, 故“格式塔”实际上是中国文化铸就在百姓心中的对理想生活的美好想象和向往, C 项正确。

13. B[解析]本题属于主旨概括题。文段是总一分式的行文结构, 第一句话“成本决定了绿色燃料的发展速度”就是文段的主旨句。下面的内容都是围绕主旨句展开的, 即解释了绿色燃料在成本上处于劣势地位的原因。B 项是对文段内容的准确概括。

14. B[解析]本题属于主旨概括题。A 项是对文段内容的部分概括, 不全面, 所以排除。C 项中的“重点发展”在文中并没有体现出来, 也应排除。D 项说法有误, 文中说是在同等经济规模下, 第二、三产业尤其是第三产业的比例越高, 区域劳动力人口承载力越大, 而不是“经济规模对劳动力人口承载力有很大影响”。B 项是文段主要说明的内容, 是对文段两个部分内容的完整概括。

15. C[解析]本题属于态度观点题。解答本题的关键句是“而这显然不符合发展的要求”, 显示出作者对于前文所提到的观点的否定, 也就是说中国不应该等达到与西方发达国家相同的发展水平时才建立覆盖社会全体成员的基本社会保障制度。A、B 和 D 项不是作者想表达的观点, 故排除。

16. D[解析]本题属于意图推断题。A 项明显不属于文段意在指出的内容; B 项的表述片面, 只说出了学者所忽视的内容; C 项是对文中部分内容的复述, 也不是文段意在指出的内容。D 项的表述最为全面, 将“五四运动”前后中国思想界受到两大思潮的影响都表述在内。从“事实上”一词后面的内容也可以看出作者的观点, 即“1919 年的中国思想界同时受到来自南北两大社会思潮的夹击式影响”。所以, 正确答案为 D 选项。

17. C[解析]本题属于词语理解题。“处境化”一词修饰的是“生产和生活经验体系”, 后面的文字是对这一体系的解释, 一正一反, 正面说“由该社会的生产和生活条件所决定”, 反面说“不要脱离当地的社会实际”, 故最准确的解释为 C 项“与当地农村社会实际相联系、相融合的”。A 项, 将选项代入即为“农村文化是一套与农村各地生产、生活经验相适应的生产和生活经验体系”, 由后文可知, “处境化”强调的是“当地化”, 而非与“各地生产、生活经验”都适应, 且 A 项中“与生产、生活经验相适应的”与文中“生产和生活经验体系”表述重复, 故排除。B 项, 文段强调的是与当地实际相适应, 而非“适应发展变化”, 表述不准确, 排除。D 项明显错误。故本题正确答案为 C。

18. C[解析]本题属于细节判断题。文段首句说“把核能看成可持续性资源, 可能会很困难”, 所以 A 项正确。文段最后一句提到“核反应堆也是高效的电力之源……就某些类型的反应堆而言, 其设计能够使废料减少到最低限度, 基本能够防止反应堆熔毁”, 所以 B 项和 D 项说法也正确。C 项说法错误, 文段中说的是“不排放任何污染气体”, 但核反应堆仍然会产生“放射性废物”。所以, 正确答案为 C 选项。

19. B[解析]本题属于细节判断题。A 项的说法过于绝对, 文中只是说经典的法学家“从来都没有孤零零地谈论法律”, 但是不能说“孤零零地探讨法与法律问题不能得出关于法与法律的有益见解”。C 项在文中并没有提及, 故排除。D 项, 文中并没有提及政治哲学家所讨论的主要内容, 也排除。所以, 正确答案为 B 选项。

20. D[解析]文段的主体是思考, 重点在后一句, 即我们应如何思考。由转折词“而”可知, “思考时……只要认识到, 我们的行为是按照人类状况对我们的要求, 认真地、理智地并且是自律地进行的, 就已足够”为文段主旨, D 项是对主旨的准确概括。A 项“使命”一词在文中并未提及, 排除。B、C 项表述片面, 非文段主旨。故正确答案为 D 项。

21. A[解析]本题属于细节判断题。文段最后一句说“如果将所有可见光都过滤出去, 即使剩余的电磁波强度再高, 我们也只能看到一片漆黑”, 由此可见存在可见光是人眼感知颜色的基础, 故 A 项正确。B 项偷换概念, 眼睛捕捉电磁波后所产生的反应是颜色, 而不是光感。C、D 两项的内容在文段中都没有提及, 属于无中生有。所以, 正确答案为 A 选项。

22. A[解析]本题属于标题结语题, 从文段的最后一句话“这实在是一个历史误会”可知, 下文需要对这个历史误会进行澄清。D 项“这个历史误会产生的原因”在文中已经解释过了, 所以排除。C 项“官窑瓷器在民间的流传”与文段内容不相关, 属于干扰项, 应排除。B 项“西方历史上对中国瓷器的评价”看似正确, 但是仍然具有一定的模糊性。最佳答案为 A 选项, 后文通过对中国瓷器出口西方历史的追溯, 来澄清这一历史误会, 揭示真相之所在。

23. D[解析]本题属于细节判断题。A 项说法有误, 道德感是个体生命从家庭生活所习得的情感与社会技能的核心要素, 而不是“道德感决定个体的情感与社会技能”。B 项错误, 神经元编码只是为个体习得这一情感的能力设置了一段时间, 而不能说“个体能否习得道德感是由神经元编码决定的”。C 项的说法过于绝对, 文段中只是说“错过这一时段, 便难以习得相应的技能”, 而不是“无法习得”。D 项正确, 当选。

24. D[解析]本题属于态度观点题。文段第一句话说“经济新闻报道也不例外”, 说明作者对于这一报道方式并不反对。但是, 下文接着谈到了这一报道方式存在的问题以及需要注意的方面, 即要有“大局意识”。由此可见, 作者对于经济新闻选择微观切入的态度是辩证的。所以, 正确答案为 D 选项。

25. A [解析]本题属于主旨概括题。B 项只是文中的部分内容, 概括不全面, 排除。C 项表述过于绝对, 文段的意思是当人们需要作出可靠判断时, 理性更值得信赖, 但这并不意味着非理性工具就不可信赖; 并且 C 项也不是文段所表达的主要意思, 文段主要谈论的是理性的作用。D 项表述过于绝对, 文中的表述是“最可信赖”“最易获得成功”, 依理性作出的对复杂情势的判断也可能出错。故 A 项是文段所表达的主要意思。

第二部分 数量关系

三、数学运算

26.D[解析]滚筒转动一周所压路的面积为滚筒的侧面积，则压路机每分钟可压路的面积为 $2\pi \times 0.54 \times 1.5 \times 16 \sim 81(\text{m}^2)$ 。故选 D。

27.D [解析]路程相同，速度之比等于时间的反比。甲、乙、丙三人所用时间比为 30: 60: 45=2: 4: 3，则他们的速度之比为 1/2: 1/4: 1/3=6:3:4。故本题正确答案为 D。

28.C [解析]6 点时，钟声响了 6 声，有 5 个间隔，因此每个间隔的时间为 $4 \div 5=0.8$ （秒）。11 点时，钟声应响 11 声，中间有 10 个间隔，故所用时间为 $0.8 \times 10=8$ （秒），即最后一下钟声响起的时间为 11 点零 8 秒。

29.B[解析]设小王、小丽、小江分别原有 x 、 y 、 z 本书籍，则有

$$\begin{cases} x-4=\frac{1}{3}(y+4) \\ x+2=4(z-2) \\ y+1=z-1 \end{cases} \Rightarrow \begin{cases} x=6 \\ y=2 \\ z=4 \end{cases}$$

故小王原有 6 本书籍，选 B。

30. C[解析]第一次相遇后，两人仍是沿相反方向跑步，到第二次相遇时，两人跑步距离之和为圆形跑道的周长。此时，乙跑的距离为较短的跑道，为 100 米，则甲跑的距离为 300 米，圆形跑道的周长为 $100+300=400$ （米）。故选 C。

31.A[解析]设瓶子的下底面积为 $x \text{ cm}^2$ ，水的体积为 $y \text{ cm}^3$ ，可得

$$\begin{cases} y=14x \\ y=204-3x \end{cases} \Rightarrow \begin{cases} x=12 \\ y=168 \end{cases}$$

故水的体积为 168Cm³，选 A。

32.D[解析]假设岛上有 x 只这样的鸟，则有 $300/x=4/100$ ，解得 $x=7500$ 。故本题正确答案为 D。

33.B[解析]往返一次需 5 分钟，则从 8 点半到 8 点 57 分，共有 27 分钟， $27 \div 5=5 \dots 2$ ，则一共运过了 5 次人，已经到达的人数为 $(5-1) \times 5=20$ （人），第六次车上的 5 个人正在途中，所以在当地等待运送的人数为 $46-20-5=21$ （人）。故本题正确答案为 B。

34.A[解析]设问号处代表的数字为 x ，则 16 右边的两个数字分别为 $12+x$ 、 $x+25$ ，则第二行的两个数字为 $28+x$ 、 $2x+37$ ，可得 $28+x+2x+37=86$ ，解得 $x=7$ 。故选 A。本题也可用代入法。

35.c[解析]设书的价钱为 x 元。则赵原有钱数为 $(5/3)x$ 元，钱原有钱数为 $(4/3)x$ 元，孙原有钱数为 $(3/2)x$ 元，则 $(5/3)x+(4/3)x+(3/2)x=216$ ，解得 $x=48$ ，则赵、钱两人剩下的钱为 $(5/3)x+(4/3)x-2x=x=48$ （元）。故选 C。

36.B[解析]每个正方形的面积为 $5 \times 5=25(\text{cm}^2)$ ，覆盖面积为 115cm^2 ，则阴影部分面积即重复的面积，为 $5 \times 25-115=10(\text{cm}^2)$ 。本题答案为 B。

37.A[解析]从 0、2、4 中任取三个数相加的和最大为 $4 \times 3=12$ ，最小为 0，故有 0、2、4、6、8、10、12 七种情况，而三行、三列及两个对角线各数的和共有 8 个，因此至少有 2 个是相同的。

38.D[解析]设上个月该培训班人数为 x 人，本月毕业人数为 y 人。由该培训班学制为 1 个半月可知，新增加的 45 名学员本月无法毕业。目前在学人数比上月多了 25%，则 $x-y+45=1.25x$ ，可得 $y=45-0.25x$ 。因为毕业生都是上月的老学员，因此 $y \leq x$ 。即 $y=x$ 时，该月毕业人数最多，此时 $y=x=36$ 。故本题正确答案为 D。

39.B[解析]要使长方形纸没有剩余，且剪成面积相等且尽可能大的正方形，则正方形的边长应为 1007、371 的最大公约数，即 53 毫米。本题也可用代入法解题，选项中只有 53 是 1007 和 371 的公约数，故选 B。

40.A [解析]设成本为 x 元，则减价前的利润为 $60 \times (100-x)$ ，降价 4% 后的利润为 $(60+4 \times 10) \times (100-4-x)$ ，可得： $60 \times (100-x) \times (3/2)=100 \times (96-x)$ ，解得 $x=60$ 。故选 A。

第三部分 逻辑推理

四、逻辑判断

41.B[解析]A 项“骑自行车的人必须和机动车抢道，比较危险”与题干矛盾。C 项“‘绿色通道’通常只是在公园内铺设”与题干叙述显然不符。D 项“该市女性早已普遍将自行车作为主要交通工具”与题干“真正将自行车作为主要交通工具的人口比率依然很低”相矛盾。由此可知，答案为 B。

42. A[解析]题目要反驳的转基因公司的观点是：“种植者通过种植转基因作物增加了收入，所以很多地方的小规模种植者都在种植转基因作物。”要反驳这一观点，选项 A 指出小规模种植者之所以种植转基因作物是另有他因——政府补贴，从而反驳了该观点。所以本题答案为 A。

43.B[解析]题目的逻辑是出生时间不由自己选择，所以犯罪人是否犯罪也不由自己选择，故犯罪人不应当为自己所犯的罪负责。B 项指出出生时间不直接决定所犯的罪，个人选择才是主要决定因素，所以犯罪人应当为自己所犯的罪承担责任。本题答案为 B。

44.D[解析]D项说手足口病病症“变异较大, 很多医生在初诊时无法确诊”, 会导致误将手足口病当做其他病来治疗, 从而使报告的病例数小于实际病例数, 从而加重该卫生组织的担忧。故正确答案为D。

45.C [解析]题干由“过去一年狭长风力走廊上的风力下降”得出结论“过去一年美国风力发电的电力输出比上年大大减少”。C项是必需的前提, 如果风力发电机的输出功率与风力改变无关的话, 则这个论证就不成立。故本题答案为C。

46.A [解析]题干“油缸里还有油”是“我们的车还能开”的必要条件, “我们的车还能开”是“油缸里还有油”的充分条件, 即后半句是前半句的充分条件。A项的推理逻辑方式跟题干相似; B、C、D三项均为前半句是后半句的充分条件。所以本题答案为A。

47.A[解析]A项“人体的疲劳状态很难有一个确切的评价和对比指标”最能够对交警的做法提出质疑, 如果疲劳状态的测定和评价方法各异, 没有统一的指标, 那么交警根本无法准确判断司机是否是疲劳驾驶, 也就无法减少疲劳驾驶的情况。B、C项与题干无关。D项是应对交警的一个方法, 但是客观上起到了减少疲劳驾驶的效果。故本题答案为A。

48.C[解析]题干中治疗败血症的方法是用磁珠过滤病原体, 以使抗菌药物更有效地发挥作用, 这里隐含了一个前提条件, 即“减少病原体数量有助于提升药物疗效”, 故选C。

49.B[解析]该导游的反驳是“每次针对投诉的调查都说明, 这些针对他的投诉只是游客太过挑剔”。要想使这一反驳成立, ③是必须假设的。因为导游的反驳是以调查结果为依据的, 只有调查能够真实反映当时的状况, 之后得出的结论才是可信的。若调查并不能真实反映当时的状况, 那么针对他的投诉很可能并非只是游客太过挑剔, 还有可能是其服务不到位。①和②并非必须的假设, 故正确答案为B。

50.D[解析]D项“所有的空调都应当保证能够在当地正常运转, 才能出售”, 也就是说无论当地空气质量是好还是坏, 所有空调都必须保证能够正常运转, 否则, 在此地就不能出售。D项有效地反驳了该工程师的观点。所以本题答案为D。

五、类比推理

51.B [解析]垃圾利用得好就可以转化为矛盾的对立面, 变成资源。挑战利用得好就可以转化为矛盾的对立面, 变成机会。所以本题答案为B。

52.B[解析]控制的目的是管理, 奖惩的目的是激励。故答案选B。

53.C[解析]窗户需要用窗帘来遮掩, 头发需要用梳子来梳理。所以本题答案为C。

54.D[解析]货币和价值同属名词, 货币体现价值; D项观点和立场也同属名词, 观点表明立场。其他三项不符合。所以本题答案为D。

55.D[解析]快递是一种物流方式; 证券是一种金融工具。所以本题选择D。

56.C[解析]制定和实施都是加诸同一客体的动作, 且有先后之分。如制定和实施计划、政策等。与之相似的是C项, 追踪和猎杀目标、猎物等。注意A项, 痊愈描述的是状态, 而不是动作, 不选。

57.B[解析]家具的原材料是木材; 枪支的原材料是金属。故选B项。

58.B[解析]“前”与“后”、“上”与“下”均是相对关系, 并且“前后”、“上下”可以单独作为词语使用。B项“彼”与“此”、“矛”与“盾”也均是相对关系, 而且“彼此”与“矛盾”也可以单独作为词语使用。

59. D[解析]题干中两个词词义相近, 感情色彩一贬一褒。故本题选D。

60.C[解析]题干激发创意是动宾结构; C项集中注意也是动宾结构。故选C。

六、图形推理

61.C [解析]第一组图形中去同存异得到第三个图形。第二组按照第一组的方法, 可知正确选项为C。

62.A [解析]第一组图形中, 从第一幅到第三幅图实际上表现的是一个图形的完成过程; 第二组图形中, 第一幅图可以看成是两条重合的直线, 第二幅图中重合的直线被拉成了两条曲线, 故第三幅图中两条曲线应完成成为两个椭圆。从曲线的位置和形状来看, A项最符合完成图的形态。故正确答案为A。

63.B [解析]第一组图形中, 前两个图形旋转180。后叠加得到第三个图形; 第二组图形中, 前两个图形旋转360。后叠加得到B项图形。注意, 在第三个图形中, 前两个图形体现为包含关系, 而A、C项均为相交, 故不选。本题答案为B。

64.C[解析]题干图形的封闭区域数依次是1、2、3、4, 故应选择一个封闭区域数是5的图形。奇数项为直线图形, 偶数项为曲线图形, 故应选择一个直线图形。选项中只有C项满足这两个条件。故本题答案为C。

65.A [解析]看每个图形的重心位置, 第一图偏下; 第二图偏下; 第三图在中心; 第四图偏上; 故第五图应偏上。所以本题答案为A。

66.D [解析]第一幅图形旋转180。得到第三幅图形, 第二幅图形旋转180。得到第四幅图形。故第五幅图形应由第三幅图形旋转180。得到, D项正确。

67.B [解析]题干给出的四个图形从结构方面看都是总线型拓扑结构, 即都有主干线, 其余支路都直接联到主干线上, 与此类似的只有B项。A项和D项都是树状结构, 主干不唯一; C项是网状结构。

68.C [解析]九宫格图形推理。从每行来看, 观察黑色三角形和灰色三角形的移动情况。在第一行中, 黑色三角形每次顺时针移动两格, 灰色三角形每次逆时针移动一格, 当二者重合时变为空白; 在第二行中, 黑色三角

形每次逆时针移动三格, 灰色三角形每次逆时针移动两格, 当二者重合时变为空白; 在第三行中, 黑色三角形每次顺时针移动一格, 灰色三角形每次顺时针移动三格。所以本题答案为 C。

69.A[解析]前两行都有三个黑圈和三个白圈, 所以第三行缺少两个白圈, 故排除 B、D 项; 前两行圆圈分别在线段的同一侧, 线段的两侧及线段端点上, 第三行还缺一个圆圈在线段端点上的图形, 故答案为 A。

70.A [解析]每行前两个图形内黑点(黑块)数目相减, 图形外黑点(黑块)数目相加, 构成第三幅图形。第一行图形为矩形十圆一矩形, 第二行图形为圆十圆一圆, 故第三行应为矩形十矩形一矩形。所以答案为 A。

第四部分 资料分析

七、资料分析

71.C [解析]由图 1 可以得出, 在不考虑交回承包地时, 愿意转变为非农户口的农民工群体中, “80 前”中专及以上文化程度群体所占比重最大, 为 33.9%。由于基数相同, 因此他们的总人数也是最大的。故本题选 C。

72.B[解析]在不考虑是否交回承包地时, “80 前”和“80 后”愿意转变为非农户口的农民工中, 小学及以下文化程度农民工所占比重分别是 16.1%和 18.6%, 因为基数都是 5000 名, 因此愿意转变为非农户口的的小学及以下文化程度农民工占有愿意转变为非农户口的的农民工比重约为 $(16.1\%+18.6\%)/2 \approx 17.4\%$ 。故选 B。本题也可以不用计算, 直接观察选项得出答案。很明显, $16.1\% < (16.1\%+18.6\%)/2 < 18.6\%$, 选项中只有 B 项符合。

73.D[解析]即使交回承包地, 仍愿意转变为非农户口的初中文化程度农民工, “80 前”人数为 $5000 \times 21.9\% \times 60.1\% \approx 658$ (人), “80 后”人数约为 $5000 \times 26.3\% \times 52.1\% \approx 685$ (人), 前者比后者少 $685-658=27$ (人), 与 D 项最接近, 故选 D。

74.A [解析]若转变为非农户口需要交回承包地, 则原本愿意转变为非农户口的农民工态度没发生改变的比例依次为:

A 项: $(16.1\% \times 57.4\% + 18.6\% \times 51.1\%) / (16.1\% + 18.6\%) \approx 54\%$;

B 项: $(21.9\% \times 60.1\% + 26.3\% \times 52.1\%) / (21.9\% + 26.3\%) \approx 56\%$;

C 项: $(28.1\% \times 61\% + 27.4\% \times 56.8\%) / (28.1\% + 27.4\%) > (28.1\% \times 56.8\% + 27.4\% \times 56.8\%) / (28.1\% + 27.4\%) = 56.8\%$;

D 项: $(33.9\% \times 59.2\% + 27.7\% \times 52.3\%) / (33.9\% + 27.7\%) > (59.2\% + 52.3\%) / 2 = 55.75\%$ 。

故四个选项中, 原本愿意转变为非农户口的态度没发生改变所占比重最小的是小学及以下文化程度群体, 也即是态度发生改变最大的群体。故本题正确答案为 A。

75. A[解析]材料中并没有说明 5000 名农民工分别占“80 前”或“80 后”农民工的比例, 因此 B、C 两项都无法推出。由图 2 可知, 即使交回承包地, 仍愿意转变为非农户口的农民工比重都超过了 50%, 但小于 65%, 因此 D 项错误。由图 2 可知, 即使交回承包地, 仍愿转变为非农户口的比重, “80 后”都比“80 前”要低, 因此 A 项正确。

76. D[解析]2009 年, 学前教育在园幼儿 2657.81 万人, 初中教育在校生 5440.94 万人, 中等职业教育在校生 2195.16 万人, 普通高等教育本专科在校生 2144.66 万人。因此在校生规模最小的是普通高等教育本专科, 选 D。

77. B[解析]2009 年, 小学招生 1637.8 万人, 比 2008 年减少 57.92 万人; 初中招生 1788.45 万人, 比 2008 年减少 71.15 万人, 因此 2009 年义务教育阶段学校招生人数比 2008 年约下降了 $[(57.92+71.15)/(1637.8+57.92+1788.45+71.15)] \times 100\% \approx (130/3555) \times 100\% \approx 3.6\%$ 。故本题正确答案为 B。

78. C[解析]2009 年, 幼儿园教师共 112.78 万人, 在园幼儿 2657.81 万人, 则平均每 1000 名在园幼儿拥有教师数约为 $(112.78/2657.81) \times 1000 = 40+$ (人)。故本题正确答案为 c。

79. B[解析]由材料中“普通高中规模有所下降, 与 2008 年相比, 招生数减少 6.67 万人, 下降 0.8%”, 可得 2009 年普通高中招生人数为 $6.67/0.8\% = 6.67 \approx 827$ (万人)。故选 B。

80. C[解析]材料只说明九年义务教育的学龄人口和学生数减少, 但不能说明学龄人口毛入学率略有下降, ①无法推出; 2009 年, 普通高中在校生人数减少, 中等职业教育在校生人数增加, ②正确; 2009 年, 普通高等学校数目同比增加 $[42/(2305-42)] \times 100\% \approx (1/50) \times 100\% \approx 2\%$, 小于在校生数量增加的比例 6.12%, 因此 2009 年普通高等学校平均招收本专科人数比 2008 年有所上升, ③正确; 2008 年, 普通高中在校人数为 $(34/1.7\%) = 2000$ (万人), 中等职业教育在校生人数为 $2195.16 - 108.07 = 2000+$ (万人), 普通高中在校生规模比中等职业教育小, ④错误。故正确答案为 C。

81. C[解析]由表可知, 水电工程建设 2008 年和 2010 年投资额的同比增长率都是负值, 排除 B、D。设 2007 年的水电工程建设投资额为 x, 则 2009 年的投资额为 $x \times (1 - 1.18\%) \times (1 + 2.16\%) \approx 1.01x > x$, 则 2009 年的投资额大于 2007 年, 故选 C。

82. D[解析]由表可知, 投资增长率变动最剧烈的是风电, 故选 D。

83. A [解析]核电工程建设占电源建设投资总额的比重, 2010 年为 $(629/3641) \times 100\% \approx 17.3\%$, 2009 年为 $[629/(1+7.67\%)] \div [3641/(1-4.26\%)] \times 100\% = (629/3641) \times (0.9574/1.0767) \times 100\% \approx (1/6) \times (0.96/1.08) \times 100\% \approx 15\%$, 与 A 项最接近, 故选 A。

84. D[解析]由表可知, 从 2005 到 2010 年, 水电工程建设投资额略微减少, 因此 2005 年水电工程建设投资额大于 790 亿元, 则 2005 年非化石能源投资额应大于 790 亿元, 故选 D。

85. A[解析]由表格可知, 火电工程建设投资总额一直在减少, 而核电和风电以较大的同比增长率持续增长, A 项正确。材料中未提到装机容量问题, B 项无法推出。从整个“十一五”期间来看, 各类电源工程建设投资总额是增加的, C 项无法得出。文中未提及我国电源结构的问题, D 项也无法推出。故正确答案为 A。

第五部分 常识判断

八、常识判断

86. C[解析]日全食是日食的一种, 即太阳被月亮全部遮住的天文现象。当太阳、月球、地球三者正好排成或接近一条直线, 月球挡住了射往地球的太阳光, 月球身后的黑影正好落到地球上, 这时发生日食现象, 在地球上月影里的人们就可以看到日食现象。由于月球是由西向东围着地球公转, 黑影在地球上也是自西向东移动, 这样越靠近西边的人越先看到日全食, 从地理位置来看, 选项由东自西排列分别为合肥、武汉、包头、贵阳、重庆, 所以选 C。

87. B[解析]根据 2000 年太湖湖体 20 个监测点的监测数据评价: 高锰酸盐指数达 III 类和 IV 类水质标准的监测点分别为 17 个和 3 个, 所占比例分别为 85% 和 15%; 总磷(TP)除 1 个监测点达 IV 类水质标准外, 其余 19 个监测点全为劣 V 类; 氨氮(NH₃-N) 14 个监测点达 I 类标准, 占 65%, 1 个监测点达 IV 类水质标准, 占 5%, 其余 5 个监测点为 V 类或劣 V 类。太湖湖体水质超标项目主要为总磷。故正确答案为 B。

88. B[解析]解决发展不平衡问题, 根本是要靠科学发展。④错误, ①②③说法均正确。故正确答案为 B。

89. C[解析]弱水, 泛指险而遥远的河流。弱水的出处很多, 其中《山海经·大荒西经》记载: “有大山, 名曰昆仑之丘……其下有弱水之渊环之。”所以本题答案为 C。

90. D [解析]并刀, 指的是并州出产的刀。并州, 唐代属河东道, 为今山西太原一带, 其地精于冶炼, 自古以制造锋利的刀剪著称。

91. A [解析]农历的二月实际上是公历的三、四月份, 正是杏花开放的时节, 故农历二月又称杏月。

92. D [解析]房地产业牵涉行业众多, 房价过高必然带动上下游一系列产品的价格上涨, 造成背离经济发展基础的“虚假繁荣”, ①正确。高房价会对扩大内需产生严重的“挤出效应”。人们为了买房往往透支了几十年的消费, 使消费产生严重的结构性不足, 过度消耗中低收入阶层的购买力, 抑制社会中间阶层的扩大, 使内需增长面临长期抑制, 故②正确。在城里人都望而生畏的房价面前, 农民要想在城市居有所, 更是难上加难。高房价无疑成为农村人口进城的“高门槛”, 甚至成为比户籍制度更大的“围墙”, 阻碍着农民进城的脚步。故高房价将阻碍中国城镇化进程, ③正确。房价的飙升使开发商获得巨额财富, 也使那些收入高、买房早、买得多的群体财富增长加速, 而其他一些群体则被挤出住房市场, 从而使本来已经存在的贫富差距和各阶层间差距拉大, 引发了社会情绪的焦虑, 成为造成社会不和谐、不稳定甚至加剧社会矛盾的重要因素。因此高房价会影响社会公平, ④正确。本题正确答案为 D。

93. B[解析]《侵权责任法》第 83 条规定: “因第三人的过错致使动物造成他人损害的, 被侵权人可以向动物饲养人或者管理人请求赔偿, 也可以向第三人请求赔偿。动物饲养人或者管理人赔偿后, 有权向第三人追偿。”所以本题答案为 B。

94. A[解析]《收养法》第 23 条规定: “自收养关系成立之日起, 养父母与养子女间的权利义务关系, 适用法律关于父母子女关系的规定; 养子女与养父母的近亲属间的权利义务关系, 适用法律关于子女与父母的近亲属关系的规定。养子女与生父母及其他近亲属间的权利义务关系, 因收养关系的成立而消除。”所以本题答案为 A。

95. B[解析]A 项哥伦布是意大利航海家, 他发现了美洲大陆; D 项麦哲伦是葡萄牙著名航海家和探险家, 他进行了环球航行。他们进行的是殖民贸易和掠夺, 与题中“货物从未卖过”矛盾, 所以 A、D 项错误。C 项诺亚是基督教传说中的一个人物, 所以 C 项也不符合。B 项郑和所进行的是朝贡, 没有买卖, 所以本题答案为 B。

96. B[解析]20 世纪 90 年代, 人类社会进入了知识经济时代, 企业竞争的焦点不仅是资金、技术等传统资源, 更是建立在人力资本基础之上的创新能力。同时经济的全球化发展使得企业间的竞争范围更加广阔, 市场变化速度日益加快, 面对这种严峻的挑战, 企业必须保持持续学习的能力, 不断追踪日新月异的先进技术和思想, 才能在广阔的市场中拥有一席之地。于是, 加强对员工的教育培训, 提升员工素质, 使人力资本持续增值, 从而持续提升企业业绩和实现战略规划, 成为企业界的共识。因此, 企业在培训上的投入实际上属于投资。

97. A[解析]“坐地日行八万里”这句话的意思是人在地球上不动, 随地球自转一天也走了八万里。根据圆的周长公式 $C = 2\pi r$, 推出地球半径 $= 80000 \div 3.14 \div 2 \approx 12739$ (里), 所以选 A。经测量, 地球半径约为 6371 千米, 即 12742 里。

98. D[解析]A、B、C 项是儒家的思想, 而 D 项是道家的思想。所以本题答案为 D。

99. A [解析]玄武门之变发生于唐朝初年, 胡服骑射发生于战国时期, 所以 B 项错误。“虽远必诛”出自西汉名将陈汤递给汉元帝的上疏: “明犯强汉者, 虽远必诛”, 意思是“进犯我强大的汉朝的人, 即便地处偏远, 也一定要诛杀”。约法三章发生于刘邦领导的秦末农民战争时期, 所以 C 项错误。四库全书是清乾隆时期组织编撰的中国历史上规模最大的丛书, 《资治通鉴》是北宋司马光主编的一部多卷本编年体史书, 所以 D 项错误。本题答案为 A。

100. B[解析]一旦对一个技能熟练地掌握了, 小脑就能自动接管, 形成习惯。当一个想法出现时, 小脑就开始发出指令要求身体的其他部位去完成这个动作。故 A 项说法错误。大脑皮层是负责学习和有意识思考的脑区。C 项说法错误。丘脑、大脑额叶、纹状体、小脑都与运动有关, 各自分工合作, 共同完成运动的意向、计划、指挥、

控制和执行。丘脑主要合成发放丘觉，产生各种运动意识；大脑根据视听等传入信息分析产出样本，这个样本是关于我们应该进行什么样的运动，是完成任务、达到目的的运动意向；纹状体、小脑分析产出的样本是控制运动的程序、指令，纹状体、小脑是运动的具体控制、指挥者。运动的执行是由肢体（如头、手、脚）或效应器来完成的。大脑不是运动的具体控制、指挥者，不对运动的程序、指令进行分析，而是交给纹状体、小脑完成，使我们能够集中精力进行各种思维活动。大脑额叶运动区掌管着运动指令、程序的最后发放，运动区将运动程序、指令发放出去即产生运动，运动区服从于联络区，服从于意识，意识可以随时中止运动程序、指令的发放，从而停止运动。因此处理复杂运动的小脑是受意识控制的，D项说法错误。B项说法正确，本题正确答案为B。