

## 2015年4月吉林公务员考试《行测》乙卷

来源：F 整理：杨柳（微信：gwy288）

### 一、常识判断，共20题，根据题目要求，在选项中选出答案。

1、习近平总书记在参加2015年全国两会吉林代表团审议时强调，东北老工业基地振兴发展，不能再唱工业“一柱擎天、结构单一”的“二人转”，要做好“加减乘除”。下列发展措施最接近“乘法”的是：

- A、实现创新驱动，大力发展科技创新型产业      B、淘汰落后产能，关闭对环境污染大的产业  
C、调整投资方向，增加对资源依赖少的产业      D、切实简政放权，有效服务各类中小型产业

2、“一带一路”是中国全新的对外开放战略。下列关于“一带一路”说法错误的是：

- A、可纳入的国家和地区范围是开放的      B、吉林省是“一带一路”圈定的重点省份之一  
C、指“丝绸之路经济带”和“21世纪海上丝绸之路”      D、是区域经济合作发展的实体

3、孟子曰：“夫物之不齐，物之情也。或相倍蓰，或相什百，或相千万。子比而同之，是乱天下也。”其哲学寓意是：

- A、事物之间或事物内部普遍存在矛盾      B、矛盾双方在一定条件下可相互转化  
C、内部矛盾总是事物发展的根本动力      D、矛盾着的事物及每个侧面各有特点

4、“但愿苍生俱温饱，不辞辛苦出山林”“些小吾曹州县吏，一枝一叶总关情”“但得众生皆温饱，不辞羸病卧残阳”，这些名言体现了古人的为官之道，中国共产党的群众观点中与之相近的是：

- A、一切依靠人民群众      B、向人民群众负责      C、一切为了人民群众      D、向人民群众学习

5、下列关于环境治理的说法，错误的是：

- A、某造纸厂无证排污，被责令停止却拒不执行，公安机关可对企业主管处以拘留  
B、某工厂属重点排污单位，没如实公开环境信息，县政府环保部门应责令公开  
C、某高校未提交迁建项目环评文件而擅自开工建设，环保监管部门可责令停止  
D、某农药生产企业生产国家禁止生产的农药，主管人员须承担一定的刑事责任

6、在思想政治理论课上，同学们在开展关于“宪法效力”的热烈讨论。下列学生的观点错误的是：

- A、甲：宪法的效力覆盖国家所有领域      B、乙：宪法修正案与宪法具有同等效力  
C、丙：宪法不适用于定居国外的中国公民      D、丁：在一定条件下外国人可享受某些基本权利

7、农民说，幸福就是庄稼收成好，收入增加；职业经理人认为，最幸福的事情就是把公司做成一个世界品牌；教师认为，培养出优秀学生就是最幸福的事。可见，不同的人对幸福的诠释不同，这说明：

- A、价值判断依据事实，具有真理性      B、价值判断因时而异，具有历史性  
C、价值判断因人而异，具有主观性      D、价值判断没有规律，具有盲目性

8、下列活动中所需的货币与其执行的职能对应错误的是：

- A、商店里出售的T恤衫标价为90元——价值尺度      B、农民用卖粮的5000元钱购买种子——流通手段  
C、雇主每月发给保姆的3000元工资——支付手段      D、承租人交给出租人的8000元租金——贮藏手段

9、下列诗句中描述天气而非气候的是：

- A、清明时节雨纷纷，路上行人欲断魂      B、忽如一夜春风来，千树万树梨花开  
C、黄梅时节家家雨，青草池塘处处蛙      D、人间四月芳菲尽，山寺桃花始盛开

10、下列情形中，一定不会发生的是：

- A、东汉时张衡利用自制地动仪测定地震方位      B、司马迁晚年将汉昭帝主要事迹写进《史记》  
C、两晋时人们用“记里鼓车”计算道路里程      D、隋炀帝时期一些读书人开始参加科举考试

11、经考古工作者发掘考证，礼制很早就已经出现了。《说文解字·示部》云：“礼：履也……从示从豊”，又云：“示：天垂象，见吉凶，所以示人也。”《甲骨文字集释》云：“事神之器则为豊。”由此可以推断，礼的原义是：

- A、分等别贵贱      B、谦卑爱臣民      C、处世慎言行      D、敬神以祈福

12、古人常依据自己的名取字，所取的字多与名含义相同或属同义联想，但也有的字与名反义相对。下列属于字与名反义相对的一项是：

- A、班固，字孟坚；杜甫，字子美      B、关羽，字云长；贾岛，字浪仙  
C、韩愈，字退之；朱熹，字元晦      D、周瑜，字公瑾；曾巩，字子固

13、某单位组织员工观看反腐败题材的电影，并在观后进行讨论。这种管理方式属于：

A、现场控制 B、反馈控制 C、预先控制 D、环境控制

14、公务员在处理谈判事务时，应遵循一定的礼仪。以下关于座次安排，不符合礼仪的是：

- A、若谈判长桌与门口垂直摆放，以进门方向为准，客方坐谈判桌右侧
- B、主谈人居中而坐，其余人遵循左高右低原则分坐两侧
- C、如需译员，应安排其就坐于仅次于主谈人员的位置
- D、为了避免失礼，多边谈判一般以圆桌为谈判桌

15、下列不能用来酿酒的农作物是：

- A、谷子 B、黄豆 C、红薯 D、玉米

16、大量议案、提案是每年两会的焦点。关于议案与提案的区别，下列说法错误的是：

- A、议案用于人大会议，提案用于政协会议
- B、议案一经通过便具有法律效力，提案没有法律效力
- C、议案内容应在受案者职权范围内，提案不限内容
- D、议案可由个人提出，提案必须由团体提出

17、目前，垃圾分类投放渐成民众共识，根据垃圾箱上的分类标识，以下垃圾投放错误的是：



A、废纸、塑料



B、烂铁、玻璃



C、果皮、剩菜



D、烟头、灰土

18、爱国诗人于谦的《石灰吟》中，只含有化学变化的诗句是：

- A、千锤万凿出深山
- B、烈火焚烧若等闲
- C、粉身碎骨浑不怕
- D、要留清白在人间

19、蜜蜂载着花蜜飞行时，翅膀平均每秒振动 300 次；不载花蜜时，平均每秒振动 440 次。有经验的养蜂人能辨别出蜜蜂是飞出去采蜜，还是采了蜜飞回来。养蜂人的依据是翅膀振动发出声音的：

- A、音色不同
- B、音调不同
- C、音节不同
- D、响度不同

20、某新闻媒体欲结合 12 月份的重要纪念日、活动日等时间节点，推出系列公益广告，这些公益广告主题可以是：

- A、防范艾滋病、宣传宪法、公祭南京大屠杀死难者同胞
- B、防范艾滋病、节约用水、纪念香港回归
- C、关爱残疾人、节约粮食、纪念澳门回归
- D、宣传劳动法、保障人权、纪念辛亥革命

**二、言语表达，共 35 题，本部分包括表达与理解两方面的内容，请根据题目要求选出答案。**

21、\_\_\_\_\_人生有许多事情要做，\_\_\_\_\_就不要为一时的失去而伤心，因为一时的失去并不意味着永远的失败。\_\_\_\_\_你拥有了这种健康的心态，你就成功了一半。

填入划横线部分最恰当的一项是：

- A、虽然 但是 只要
- B、既然 那么 只有
- C、因为 所以 只有
- D、既然 那么 只要

22、平视是一种严肃的人生态度，是不带色彩的客观，是超越功利的公正，是抛却杂念的单纯，但并非人人都能做到。平视，需要心的正直与坦荡；平视，需要情的\_\_\_\_\_；平视，需要识的\_\_\_\_\_；平视，需要度的\_\_\_\_\_。

填入划横线部分最恰当的一项是：

- A、纯洁与高尚 广博与深邃 准确与合理
- B、准确与合理 广博与深邃 纯洁与高尚
- C、纯洁与高尚 准确与合理 广博与深邃
- D、广博与深邃 纯洁与高尚 准确与合理

23、在刚刚结束的男篮比赛中，数学系以 68 比 56\_\_\_\_\_物理系，历史系以 98 比 42\_\_\_\_\_外语系，化学系以 78 比 77\_\_\_\_\_政治系，中文系以 86 比 80\_\_\_\_\_上届冠军教育系。

填入划横线部分最恰当的一项是：

- A、击败 大胜 险胜 力挫
- B、险胜 击败 力挫 大胜
- C、击败 险胜 大胜 力挫
- D、险胜 力挫 击败 大胜

24、执着的故事不老：愚公移山，夸父逐日，\_\_\_\_\_；执着的人物不朽：\_\_\_\_\_的祖逖，卧薪尝胆的勾践，面壁静修的达摩。执着是 \_\_\_\_\_，是 \_\_\_\_\_，是一支永无休止符的进行曲。

填入划横线部分最恰当的一项是：

- A、闻鸡起舞 直言不讳 艰苦卓绝 坚持不懈
- B、精卫填海 闻鸡起舞 坚持不懈 锲而不舍
- C、精卫填海 悬梁刺股 艰苦卓绝 坚持不懈
- D、守株待兔 闻鸡起舞 精卫填海 锲而不舍

25、车模作为一种营销手段，并没有道德原罪。只不过，伴随着车模的反客为主，视觉暴力和恶俗炒作在车展中\_\_\_\_\_，引发人们的“审\_\_\_\_疲劳”。在商业世界和生活空间的模糊边界里，在私人与公共的复杂关系中，车模“乱花渐欲迷人眼”。

填入划横线部分最恰当的一项是：

- A、习以为常 美    B、屡见不鲜 丑    C、司空见惯 美    D、见怪不怪 丑

26、一项新研究发现，低温能通过将所谓的“坏”脂肪转化为“好”脂肪帮助人体燃烧卡路里。这一理论基于两种脂肪的不同特性。我们都再熟悉不过的讨厌的白色脂肪会吸收额外的卡路里并将它们储存在肚子、腰间和大腿中。但成年人还有少量的另一种“健康脂肪”，这种褐色脂肪专门燃烧卡路里同时产生热量。婴儿有大量褐色脂肪来保暖，褐色脂肪多的成年人也更苗条。

下列在文中没有提及的是：

- A、褐色脂肪是一种“健康脂肪”                      B、成年人体内既有白色脂肪也有褐色脂肪  
C、低温能够将白色脂肪转变成褐色脂肪              D、婴儿体内的褐色脂肪更多

27、互联网改变了世界，互联网也成就了马云。以成功上市开启一个时代的马云，谈起了梦想，享受着告白理想的特权。站在成功者的立场，他说：“今天非常残酷，明天会更加残酷，后天会非常美好，但是绝大多数人都死在了明天晚上。”但审视这个阶层固化的时代，真正的残酷，并不是梦想的煎熬，而是理想不孕不育的苦恼。

对加横线的句子解释最恰当的一项是：

- A、不是为成功而奋斗时的艰难，而是不再梦想着成功    B、不是奋斗中的半途而废，而是被固化在社会底层  
C、不是死在明天晚上，而是没有死在明天晚上的机会    D、不是不想做马云第二，而是马云的成功难以复制

28、钙需求的推荐量是根据人体每天从汗液、尿液等途径损失的钙量，同时考虑钙的吸收效率估算出来的。欧美国家的推荐标准是青少年每天 1300 毫克，成年人每天 1000 毫克，而老年人则是 1200 毫克。不过 WHO / FAO 联合专家组指出这个标准是基于欧美人群的，并不一定适用于其他地方的人群。他们指出，钙的需求量受多种因素的影响，在骨折高发的人群中，应该每天摄入 400-500 毫克以上的钙来减轻骨质疏松，但是对于骨折发生率低的地方则没有推荐。相比于欧美人群，亚洲人的骨折发生率就比较低。如果要直接回答“我们到底需要多少钙”的话，答案是对于以植物性食物为主的中国人，还缺乏确切的科学数据。

下列选项最适合做文字标题的是：

- A、中国人要不要补钙    B、一般人群要补多少钙    C、中国人要补多少钙    D、正常体质者要不要补钙

29、美国 3M 公司有一位研究员，有一次，他想发明一种粘合力非常强的胶水，但因为种种原因，他失败了，实验得到的只是一种粘合力很差的液体，根本无法用作胶水。但一段时间后，他发现人们有这样一种需求：把便条或书签贴到桌上或墙上，在需要时可以随时揭下来。他此前发现的粘合力差的液体正好可以派上用场。就这样，一种险遭废弃的技术促成了“即时贴”的发明。

“即时贴”的发明给我们的最大启发是：

- A、遇到问题时试着从不同的角度来思考    B、一种成功的发明可能是无心插柳的结果  
C、要善于从生活中寻找技术创新的灵感    D、成功的技术发明来自锲而不舍的努力

30、下列句子中划线词语能被括号中的词语替换且不改变句意的一项是：

- A、北雁南飞，活跃在田间草际的昆虫也都销声匿迹，到处呈现(展现)一片衰草连天的景象，准备迎接风雪载途的寒冬  
B、智者和愚者的区别，不仅仅在于天赋的差异，更在于面对困境，愚者往往束手无策(一筹莫展)，而智者却能化解困难，走出一条新路  
C、这伙人利用人民群众对党和政府的信赖，伪装成政府机关工作人员，到处招摇撞骗，其手段之卑劣已达到了登峰造极(叹为观止)的地步  
D、为了完善领导干部行为规范，健全党内责任追究制度，中共中央政治局审议(审查)并通过了《关于实行党政领导干部问责的暂行规定》

31、下列划线词语，意义与其他三项不同的一项是：

- A、一场汇聚了民间绝技、传统工艺、传统戏曲、民歌民乐、土苗风俗五道大餐的民间文化盛宴，在美丽的春城举行，这给市民带来了节日的享受  
B、长白山天池让我感受到了大自然的鬼斧神工，这是一次视觉的盛宴，感受的是眼睛，打动的是心灵  
C、随着人们生活水平的不断提高，更多人选择到酒店吃年夜饭。许多酒店抓住商机，推出口味各异、适合不同消费水准的除夕盛宴，以吸引顾客  
D、书市，是一次知识的盛宴。书市选择这座城市，是这座城市人民的福气

32、根据语义，填入横线处最恰当的一项是：

在求学、就业、看病、收入、居住、治安、生态环境等诸多满足感组合要素中，只要有一项出现问题，就会形成“\_\_\_\_\_”，幸福便会打折扣，甚至被“一票否决”。

- A、鲶鱼效应 B、破窗效应 C、木桶效应 D、蝴蝶效应

33、下面对两个“理”字含义的解释，最恰当的一项是：

俗话说“你不理①财，财不理②你”，对现代人来说，学会理财已是提高生活质量的必备本事。

- A、①管理②理睬 B、①处理②理会 C、①搭理②理会 D、①料理②理睬

34、名字这个东西大家都知道很重要，但是现在的重要和以前的重要还是不一样的，以前要八字合，现在则考虑到传播。一个好名字，要好记，也要好传播，而且要注意的是，在传播的时候不能走样，不能引起误读，若能给人留下好的印象，就非常完美了。

这段文字意在说明：

- A、一个好名字，起码要八字合 B、一个好名字，其印象分要高  
C、一个好名字，其传播力要强 D、一个好名字，不能有歧义

35、下列俗语使用不正确的一项是：

- A、尺有所短，寸有所长，我们西北地区与东南沿海地区相比，虽然经济实力较弱，但物产资源十分丰富  
B、你这个驾驶技术不熟练的新手，竟敢在公路上超速行驶，可真是初生牛犊不怕虎  
C、不入虎穴，焉得虎子，只有敢于靠近火山的摄影家才能拍摄到火山喷薄的那一刹那壮观景象  
D、冰冻三尺，非一日之寒，这位青年歌手最终被捕入狱，正是他长期放纵自我的结果

36、男性在 40 多岁甚至更年轻时就会出现患心脏病和严重的冠状动脉疾病的可能性，而女性在 50 岁以及经历了绝经期后才会真正开始面对这种风险，这让女性在遭遇无论对男性还是女性而言都是第一杀手的心脏疾病之前，赢得了更多的时间。经过研究，女性第一次心脏病发作的时间比男性晚了整整十年。年轻女性较好的胆固醇水平是导致这一结果的因素之一，但雌激素以及像饮食更健康这样的生活方式上的选择似乎也起到了保护作用。

下列说法与原文不符的是：

- A、绝经期是女性面对心脏病风险的分界点 B、作为男性，难以赢得更多的时间防范心脏病  
C、雌激素对女性的心脏很有益处 D、在心脏病风险方面，女人的性别优势突出

37、去年年底以来，专车服务迅速成为人们热议的话题。借助互联网平台的“专车”，选择更加多样化、体验明显改善：预约时间、上门接送、乘坐舒适、多种车型和价位……方便、舒适的专车服务，成为缓解城市居民出行难的“及时雨”。但是，也有消费者提出担忧，最多集中在安全方面。专车上并未安装 GPS 定位系统，也没有强制的保险和车辆安全性能检测，出现纠纷后会出现“求助无门”的现象。

这段文字意在强调：

- A、专车服务模式的创新 B、相关部门监管的缺失 C、专车市场的机遇与挑战 D、专车市场的发展瓶颈

38、微软的智能手表抢占了去年圣诞销售季，但是，它与消费者的蜜月期不会持续很久。在苹果智能手表于今年春天问世之后，较昂贵的可穿戴设备则将由苹果公司主宰。原因之一是苹果的品牌效应，另一个原因则是苹果手表比微软的智能手表更专注于成为一个第三方应用程序平台。2015 年，人们会把购买苹果手表视为地位的象征，类似于他们的首台 iPhone 或 iPad。不过到 2016 年，苹果手表则需要证明，自己能做的不仅仅是测算心率、收到文本时发出提示音或显示时间。

根据这段文字，可以看出作者的意图是：

- A、预言苹果手表的市场前景 B、预测苹果手表的多功能发展趋势  
C、提高公众对苹果手表的期待值 D、激发公众对苹果手表的想象力

39、户外真人秀节目《奔跑吧兄弟》最近热播，收获了较高的关注度和美誉度。作为一种游戏，其过程是随机的，结局是未知的，充满了悬念和不确定性，刺激着人们的观看欲望，调动人们去想象推理。当然，该节目不仅仅满足了观众的娱乐需求，而是在“润物细无声”中传递了正能量。其传递给观众的不是你死我活的厮杀，而是敬业与励志的精神。明星们积极参与游戏，参与者之间相互竞争合作，表现了人性温情美好、积极向上的一面。

根据这段文字，《奔跑吧兄弟》广受欢迎的根本原因是：

- A、游戏的开放性结局 B、竞争与团队配合的张力 C、在娱乐中传递正能量 D、明星的号召力

40、《庄子》中有这样一则故事。庄子找监河侯借粮，监河侯说：“好啊，我很快就要收租税了，到时候可以借给你三百黄金。”庄子就给监河侯讲了一个寓言：我昨天来的时候，半路上听到有呼救的声音。我回头一看，发现车辙里有一条鲫鱼。我问它，你喊什么呀？鲫鱼答道，我是东海里的水族，您可有“斗升之水”，来救救我的

性命吗？我说，行呵，我正要到南方去游说吴越的国王，让他引“西江之水”救济你。这条可怜的鱼说，要是那样的话，你干脆到干鱼铺去找我。

下列选项中与庄子所讲的故事寓意最为贴切的是：

- A、口惠而实不至 B、授之以鱼，不如授之以渔 C、好钢用在刀刃上 D、远水解不了近渴

41、人是生活在一定的社会场域之中的。从传播的角度看，一举手一投足，都是一种表达。观其行再晓其人，公众就是通过外在举止了解行为人的。举止代表什么意义，解释权往往不在自己，对于公众人物尤其如此。就拿前阵子某市领导打伞观看学生淋雨做操的事件来说，可能领导平时也是爱孩子的，到学校也不过是正常的工作，可对比画面凝固下来，传递出的形象就由不得他了。

这段文字意在强调：

- A、舆论对公众人物具有极其重要的作用 B、公众人物更容易暴露在舆论危墙之下  
C、舆论主导的公众形象未必与公众人物自身相一致 D、公众人物更应注重自身形象

42、下列句子中没有使用比喻修辞的是：

- A、汽车沿着标示官兵巡逻路线的一排红旗行驶约十分钟，一条蟒龙似的冰带横亘眼前  
B、老艄公成为失业的舵手，如一只黑色鱼鹰，蜷缩着蹲在船头  
C、院子里，紫色的丁香花安静地绽放，温柔的香气，似乎是记忆中最初的味道  
D、一天，突然下起了鹅毛大雪，雪一下堆满了花盆，皑皑白雪与通红通红的老石榴相映照，显得格外引人注目

43、舒马赫、施耐德、施密特、穆勒、施泰因曼……这些流行的德国姓氏有什么共同点？在德语里，它们都代表一门手艺：制鞋匠、裁缝、铁匠、磨坊主、石匠等。从中世纪开始，老师傅带几个学徒做手艺，就成为德国人的职业常态。时移势易，工业化取代了小作坊，但“手艺人”的基本精神没有变。今天，德国经济结构中30%为制造业，如果算上出口，工业制造几乎占据德国经济的半壁江山。

这段文字意在说明：

- A、德国姓氏都源于制造业 B、德国人“严谨”“认真”的职业精神  
C、德国制造业的传承 D、制造业在德国经济结构中的重要地位

44、清朝乾隆年间，河南巡抚叶存仁为官数十载，美誉有加。准备告老还乡之时，原下属新任巡抚牛某前来送行。寒暄礼毕，牛巡抚道：“请大人留于此地，属下愿供奉于你！”叶存仁道：“承蒙美意，汝年轻有为，任重道远，在此虽好，只恐拖累你，我欲归园田居，颐养天年。”牛巡抚苦留不住，自怀中取出银票，以表栽培之恩。叶存仁亦决然推拒。

下列关于从政修身的名言，与这段文字内容无关的是：

- A、君子笃于义而薄于利 B、君子所贵者在守道，不在求荣  
C、俭，德之共也；侈，恶之大也 D、以德服人者，中心悦而诚服也

45、酷爱嚼口香糖的人今后可以在享受之外再做些有意义的事情：加拿大科学家发明了一种利用咀嚼发电的下颚带。该下颚带的发明者在专业杂志《智能材料与结构》中报告说，发出的电可以用来带动助听器、电子护耳罩或通信设备。

这段文字是一篇文章的引言，文章接下来最可能讲述的是：

- A、嚼口香糖时还可以做些什么事 B、下颚带发电的未来发展前景  
C、下颚带发电所面临的困境 D、发电下颚带的工作原理

46、在微信的《使用条款和隐私政策》里明确写着：“腾讯保留因业务发展需要，单方面对本服务的全部或部分服务内容在任何时候不经任何通知的情况下变更、暂停、限制、终止或撤销腾讯微信服务的权利，用户需承担此风险。”这意味着，哪天腾讯突然关闭微信了，他无需负担任何责任。在免费时代，真正的减免只是“价格”。作为交换，仍需付出其他“代价”，可能是安全，也可能是隐私。爱因斯坦曾说过：“有时候一个人为了不花钱得到的东西付出的代价最高。”即使如此，或许已没有回头路。

下列俗语中，与这段文字主旨相符的是：

- A、丢下西瓜捡芝麻 B、吃人嘴短，拿人手软 C、苍蝇不叮无缝蛋 D、世上没有免费的午餐

47、春秋时期，鲁国上卿大夫季文子掌握国政和统兵之权，却“家无衣帛之妾，厩无食粟之马、府无金玉”。仲孙它提醒他，这样有损国家气派，吝啬而不体面。季文子回答，国家形象的维系要靠高尚品德，而非美妾良马，“若独贪于奢侈，好于文章，是不德也。”

这则故事能给当今公务员带来的启示是：

- A、生活俭朴，官员才能维护国家形象 B、为政以德，勤俭自律，官员要注重个人品行修养

C、联系群众，放下身段到群众中去 D、合理用权，权为民所用而不是以权谋私

48、老话“时间如流水”可能是错的。一个新的理论称，时间并不是向前流逝的，相反，时间中的一切都是始终存在的。该理论称，如果我们“俯瞰”宇宙，那么我们将看到时间是向着所有方向延伸的，正如我们此刻看到的太空。这个有趣的理论是由麻省理工学院的哲学副教授布拉德福德·斯科博士提出的。他认为时间并非从我们身边驶过并永远消失不见——相反，它们存在于时空的不同位置。

下列语句中，符合这一理论的说法是：

- A、我们在时间中穿行，就像一艘船在水上航行
- B、时间是对称的，在另一个宇宙中的智慧体看来，我们宇宙的时间是后退的
- C、你在时间中被展开，类似于你在空间中被展开的那样，我们并非处于单一的时间中
- D、现在是一个“焦点”。从过去移动至未来，我们处于这个焦点之中，并随着它前进

49、人童年时会有很多错觉，从错误出发，不一定步入深渊。童年是不怕错的，只怕苍白。人一辈子很多正确的事，恰恰是错误选择的，在不合适的时间里做了不合适的事，让人生之路变得曲里拐弯，在弯道里留下了惊险和精彩。

下列哪句话能最准确地表达作者意图？

- A、童年的经历至关重要
- B、苍白的人生是可悲的
- C、有时人生中的错误选择反而能令人生更精彩
- D、童年所犯的错误并不会对人生产生重大影响

50、“男性蠢货理论”研究显示，大部分男性的确倾向于冒不必要的风险，且常常做出蠢事。医院急救中心的记录和死亡率统计都能印证这一研究结果。比起女性，男性更易受到意外伤害，在运动中受伤，或遭遇交通事故。造成这种男女差异的有文化和社会经济因素，例如男性参与危险性体育运动的机会更多。但也存在一种所谓“蠢货风险”，即毫无意义的风险，而心甘情愿冒这种风险的往往都是男性。研究人员已搜罗到大量奇闻轶事来佐证这个理论，但他们还希望对男女差异进行系统性分析。

这段文字未暗示的信息是：

- A、女性比男性智商高
- B、社会角色的差异是男性甘愿冒险的因素之一
- C、目前还未对“蠢货理论”进行科学地论证
- D、女性很少去冒毫无意义的风险

三、判断推理，共 30 题，本部分包括图形推理、定义判断、类比推理、逻辑判断。

51、从所给的四个选项中，选择最合适的一个填入问号处，使之呈现一定的规律性：

after	paclm	quaby	mxiao	?
-------	-------	-------	-------	---

nckav	knvca	canvk	vkacn
-------	-------	-------	-------

A                  B                  C                  D

52、把下面的六个图形分为两类，使每一类图形都是各自的共同特征或规律，分类正确的一项是：

①                  ②                  ③                  ④                  ⑤                  ⑥

- A、①②④，③⑤⑥
- B、①③④，②⑤⑥
- C、①③⑤，②④⑥
- D、①④⑤，②③⑥

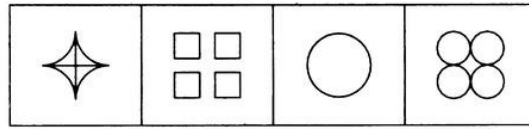
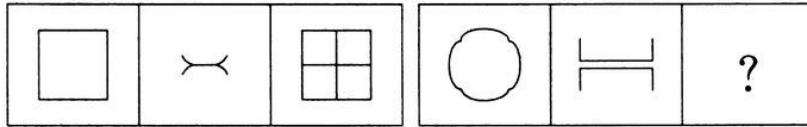
53、从所给的四个选项中，选择最合适的一个填入问号处，使之呈现一定的规律性：

F	E	E	N	N	?
---	---	---	---	---	---

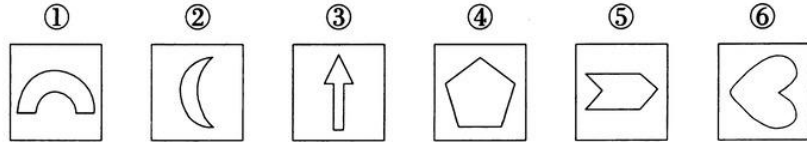
A	B	C	D
---	---	---	---

54、从所给的四个选项中，选择最合适的一个填入问号处，使之呈现一定的规律性：



A B C D

55、把下面的六个图形分为两类，使每一类图形都有各自的共同特征或规律，分类正确的一项是：



A、①②③，④⑤⑥ B、①③④，②⑤⑥ C、①③⑤，②④⑥ D、①④⑥，②③⑤

56、从群体成员活动的效率角度，由不同的角色扮演者组成的群体产生的内聚力或摩擦力，在社会心理学上，统称为关系场效应。

根据上述定义，下列最能体现关系场效应的是：

A、三个和尚没水喝 B、近朱者赤，近墨者黑 C、三人行，必有我师 D、随波逐流，人云亦云

57、同类对象错误，指行为人意图侵害的对象与实际侵害的对象不一致，但属于同一类的，应当按照犯罪既遂定罪处罚。非同类对象错误，指行为人意图侵害的对象与实际行为侵害的对象不一致，且不属于同一类，只能根据行为人的主观故意内容认定犯罪性质。

根据上述定义，下列说法正确的是：

A、甲误将乙当作丙而杀死，应当以故意杀人罪既遂处罚 B、甲误把动物当成人而加以杀害，应当不成立犯罪  
C、甲误把人当成动物而加以杀害，应当成立故意杀人罪 D、甲误把他人放置的财物当成垃圾扔掉，成立犯罪

58、领导权变并非是一种权术，其实质是一切从实际出发，根据领导活动的具体情境，灵活采用合适的领导方式去实现领导价值。在领导活动中权变的是方法和策略，不变的是价值和方向。

根据上述定义，下列属于领导权变的是：

A、赵科长把复杂的任务交给了工作能力较强的小张，新来的小陈负责收集资料  
B、张科长在工作中总是当机立断、雷厉风行，可下班回家后就对老婆言听计从  
C、李县长亲自下乡送水，随行人员拍照、录像后，李县长马上乘专车返回县城  
D、王书记刚刚带领干部群众完成抗旱自救工作，又忙着去协调路网建设纠纷

59、静态博弈，是指参与者们同时选择策略，或者虽然有先后，但是后做出策略的参与者并不知道其他参与者策略的博弈。动态博弈，是指参与者的行动有先后顺序，并且后者是在了解前者策略的前提下制定自己策略的博弈。

根据上述定义，下列属于静态博弈的是：

A、象棋游戏 B、投标竞争 C、田忌赛马 D、黔驴技穷中的驴虎之争

60、长尾理论，是指只要产品的存储和流通的渠道足够大，需求不旺或销量不佳的产品所共同占据的市场份额，可以和那些少数热销产品所占据的市场份额相匹敌甚至更大。

根据上述定义，下列不能体现长尾理论的是：

A、亚马逊网上书店成千上万的商品书中，部分书目虽销量小，但凭借多样化的种类积少成多，占据了总销量的一半  
B、唯品会是一家专门经营大幅折扣名牌商品的 B2C 企业，通过帮助众多品牌商处理小量过季尾货，获得巨大成功  
C、新浪是全球最大的中文门户网站，支撑其业绩的主要是广告营业收入，线上广告在总收入中所占比例也越来越大  
D、ZARA 一年中大约推出 12000 种时装，而每一款时装的量一般不大，凭借“多款式、小批量”的营销策略而成功

61、道路：车辆：行人

A、脑袋：头发：眼睛 B、月亮：嫦娥：后羿 C、眼镜：鼻子：耳朵 D、手提包：钱包：手机

62、健康：锻炼：慢跑

A、疏通：针灸：按摩 B、补钙：补钙：食疗 C、申请：审核：通过 D、胜诉：辩护：聘请律师

63、雨鞋：雨伞：雨衣

A、铅笔：钢笔：中性笔 B、长春：吉林：辽宁 C、报纸：杂志：新闻 D、乡试：殿试：举人

64、二氧化碳对于（ ），相当于（ ）对于水

A、碳酸气 氧化氢 B、干冰 冰 C、氧气 氢元素 D、温室效应 纯净水

65、火药 对于（ ），相当于（ ）对于 盆地

A、硝酸钾 柴达木盆地 B、四大发明 地貌 C、印刷术 丘陵 D、鞭炮 四川

66、(1)在报纸上刊登卖邮票广告

(2)在拍卖会上卖自己的邮票

(3)赚到了 2000 美元中介费

(4)说服邻居把邮票委托给他

(5)支付了很大比例的中介费

A、(1) — (2) — (3) — (5) — (4) B、(1) — (5) — (2) — (3) — (4)

C、(2) — (3) — (4) — (1) — (5) D、(2) — (5) — (4) — (1) — (3)

67、(1)倾听并认可孩子的情绪 (2)认识到情绪教育的机会

(3)引导孩子找到解决方案 (4)帮助孩子表达分辨情绪

(5)多留意观察孩子的情绪

A、(5) — (2) — (1) — (4) — (3) B、(5) — (4) — (1) — (2) — (3)

C、(1) — (2) — (5) — (4) — (3) D、(1) — (2) — (4) — (3) — (5)

68、(1)只接收孤儿和本地弃婴 (2)超过安全岛承受极限

(3)设立开放婴儿安全岛 (4)转型升级进行条件限制

(5)接收的弃婴数量激增

A、(5) — (2) — (4) — (1) — (3) B、(3) — (5) — (2) — (4) — (1)

C、(5) — (2) — (4) — (3) — (1) D、(3) — (2) — (4) — (1) — (5)

69、(1)祸母被烧成一团火，点燃整个国家

(2)一家家搜求缝衣针，百姓怨声载道

(3)人民每日每夜唱歌跳舞，无忧无虑

(4)买了一个祸母，一天能吃掉一升针

(5)刀刺不进、斧砍不伤、石砸也不死

A、(4) — (2) — (1) — (5) — (3) B、(3) — (5) — (4) — (2) — (1)

C、(3) — (4) — (2) — (5) — (1) D、(4) — (5) — (1) — (2) — (3)

70、(1)我欠人的，有凭据照样兑现

(2)名声大震，凭诚信恢复生机

(3)出人意料，老板贴出了告示

(4)人欠我的，账目烧毁可不还

(5)一场大火，绸缎庄烧个精光

A、(3) — (5) — (2) — (4) — (1) B、(3) — (5) — (4) — (2) — (1)

C、(5) — (3) — (4) — (1) — (2) D、(5) — (3) — (2) — (1) — (4)

71、张三、李四、王五和赵六都是湖南人，都爱吃辣椒。我所遇到的湖南人都爱吃辣椒。

所以，所有的湖南人都爱吃辣椒。

下列与题干论证方式最为类似的是：

A、有一份调查报告显示，中国的肺癌者中 90% 以上都是汉族人。由此可见，汉族人更容易患肺癌

B、凡溺水而死的人，内脏都有硅藻反应。钱二、孙六、周五都是溺水而死，所以内脏一定有硅藻反应

C、火烧赤壁的吴将周瑜，36 岁病死；写《滕王阁序》的王勃，26 岁早亡。可见，很早就成功的人往往短寿

D、某厂生产了 100 台电机，随意抽取 50 台进行检查，发现 5 台是次品。由此可知，此批产品的合格率是 90%



72、在某次考试中，有3个关于吉林旅游景点的问题，要求考生每题选择一个景点的名称作为唯一答案。其中4位考生关于上述3个问题的答案依次如下：

第一位考生：天池、天池、松花湖

第二位考生：松花湖、松花湖、天池

第三位考生：天池、松花湖、净月潭

第四位考生：净月潭、松花湖、净月潭

考试结果表明，每位考生都至少答对其中1道题。

根据以上陈述，可知这3个问题的正确答案依次是：

- A、松花湖、净月潭、天池      B、天池、净月潭、天池  
C、净月潭、松花湖、松花湖      D、天池、天池、净月潭

73、iPhone6上市后，有人去计算生产成本，发现成本只需二百多美元，工人加工费才四五美元，而其海外售价多在650美元以上。因此得出结论，iPhone6属于暴利商品。

以下哪项如果为真，最能支持上述论证？

- A、高新产品的直接生产成本不是最重要的，研发成本会占到很大的比重  
B、高科技产品的研发存在高风险，就必然要有高回报才能吸引资本投入  
C、高新产品的定价策略是基于消费者愿意为新产品带来的好处付多少钱  
D、许多高科技新产品，比如医疗器械、眼镜、新药等等都是“暴利”的商品

74、为什么有人一直单身？科研人员发现一种“单身基因”！某研究机构从将近600名企业白领身上提取头发样本，检测分析出一种名为5-HTA1的基因，这种基因有两个不同的类型。携带“C”型基因的人比不携带“C”型基因的人单身的可能性更大。

以下哪项如果为真，最能支持上述论证？

- A、有时来自父母的压力等因素对单身更有影响力  
B、基因对情感关系的影响，在多数情况下比较小  
C、有研究表明，遗传因素对社会关系的构建存在重要影响  
D、研究人员认为，白领群体没有更多时间来构建恋爱关系

75、科学家对近140名比利时阿尔茨海默氏症患者进行了跟踪调查，其中半数受试者会说两种语言。结果显示，只说一种语言的患者平均在71岁首次出现阿尔茨海默氏症症状，双语人群则是76岁。

根据上述材料，可以推出：

- A、掌握两门语言可以延缓认知的老化      B、不掌握两门语言就不能延缓老年痴呆  
C、只有学习外语才可以防治老年痴呆      D、长期使用两种语言能防止大脑退化

76、全球最大的旅游网站Trip Advisor近日公布的“全球女性出游调研报告”显示，43%的中国女性受访者曾独自出游，略高于41%的全球平均水平。在全球近10000名女性受访者当中，有很大一部分女性表示，独自出游给自己带来很多变化，不仅可以领略不同地区的不同文化（36%），还可以使自己更加自信（43%）、更加独立（56%）。与此同时，45%的中国女性受访者还认为，独自出行使她们构建了新的人生观，这一比例远远高于15%的全球平均水平。因此，中国女性较国外的女性更独立。

以下最能质疑上述论证的是：

- A、网站的统计结果是不具有公信力的      B、美国女性在很多方面比中国女性更独立  
C、中国的女性婚后还保留着自己的姓氏      D、独自出游只是衡量独立性的一个方面

77、某网站近日公布的就业调查统计显示，截至目前，仍有50.9%的大学生未收到用人单位的就业通知。就业压力不小，大学生们对待遇的期望却不低，超过四成的被调查者对月薪的期望是8000-10000元。对此，有专家表示8000-10000元的月薪期望不切实际。

以下哪项如果为真，最能支持专家的观点？

- A、被调查的对象中，绝大部分都是硕士生和博士生      B、另一份调查显示，期望月薪4000-6000元的才是主体  
C、每个人都有表达自身愿望的权利，不应该被嘲笑      D、报道中就业调查所涉及的区域主要是二三线城市

78、一项研究指出，倒班十年或更长时间的人可能会出现记忆力和智力衰退，并警告高风险工种存在安全问题。

由此，可以推出：

- A、偶尔倒班对大脑的功能不会产生影响      B、对经常全班的人应当进行医学监控  
C、长期倒班是引起认知衰退的罪魁祸首      D、长期倒班和慢性认知损伤之间存在关联

79、一项民意调查结果显示，在 1000 多名参与投票的网友中，六成网友支持延长女性产假至三年，以便更好地照顾宝宝；四成网友表示反对，认为产假太长，会增加企业负担，进而增加女性就业难度，不可行。

以下哪项如果为真，最能质疑上述反对者的观点？

- A、企业除了追求利润之外，也应当承担社会责任      B、女性产假延长的成本，由财政或社保基金来承担  
C、这份调查样本量不够大，不足以代表真正的民意      D、法律应强制规定企业必须招聘一定比例的女性

80、在决定孩子上什么课外班的问题上，四位老人发生争执。姥姥说：“学习钢琴比较好。”姥爷说：“如果学习视唱练耳，那么也应该学习钢琴。”奶奶说：“不应该学习钢琴，应该学习视唱练耳。”爷爷说：“不应该学习视唱练耳。”

如果四人中只有一人是对的，那么可以推出：

- A、不学钢琴，学习视唱练耳      B、既不学钢琴，也不学视唱练耳  
C、学习钢琴，不学视唱练耳      D、既学钢琴，又学视唱练耳

#### 四、数量关系，共 10 题，本部分包括数字推理、数理计算。

81、1, 3, 9, 15, 25, ( ), 49, 63, 81

- A、34      B、37      C、36      D、35

82、1.2, 2.8, 2, ( ), 2.2, 2.3

- A、2.7      B、2.4      C、2.5      D、2.6

83、 $2 \times 6$ ,  $12 \times 5$ ,  $60 \times 4$ , ( ),  $720 \times 2$

- A、 $240 \times 3$       B、 $320 \times 3$       C、 $480 \times 3$       D、 $120 \times 3$

84、170, 122, 82, ( ), 26, 10

- A、101      B、38      C、50      D、65

85、1, 3, -1, 7, 21, 53, ( )

- A、135      B、142      C、169      D、175

86、2015 年政府工作报告的高频词有 26 个，“发展”、“改革”两词居前，高频词出现的总次数是“改革”一词出现次数的 11.5 倍多 3，“发展”一词出现的次数比“改革”一词多 54 次，比高频词出现的总次数的  $\frac{1}{7}$  多 6。则 2015 年政府工作报告的 26 个高频词共出现多少次？

- A、678      B、854      C、777      D、715

87、某高校学生处要在大一新生中组织篮球比赛，赛制为单循环形式，即每两个队之间都赛一场，如果学生处计划安排 21 场比赛，则应邀请多少支球队参加比赛？

- A、5      B、8      C、7      D、6

88、某书店开学前新进一批图书，原计划按 40% 的利润定价出售，售出 80% 的图书之后，剩下的图书打折促销，结果所得利润比原计划少 14%，则剩下的图书销售时按定价打了几折？

- A、7      B、8.5      C、8      D、7.5

89、央视“出彩中国人”节目中有三位嘉宾为选手进行投票，获得 1 票以上者方可进入下一轮，则选手进入下一轮的概率为：

- A、 $\frac{1}{2}$       B、 $\frac{3}{8}$       C、 $\frac{3}{4}$       D、 $\frac{2}{3}$

90、为响应建设“绿色城市”的号召，某社区党员义务植树 300 棵，由于参加植树的全体党员植树的积极性高涨，实际工作效率提高为原来的 1.2 倍，结果提前 20 分钟完成任务，则原来每小时植树多少棵？

- A、120      B、150      C、135      D、125

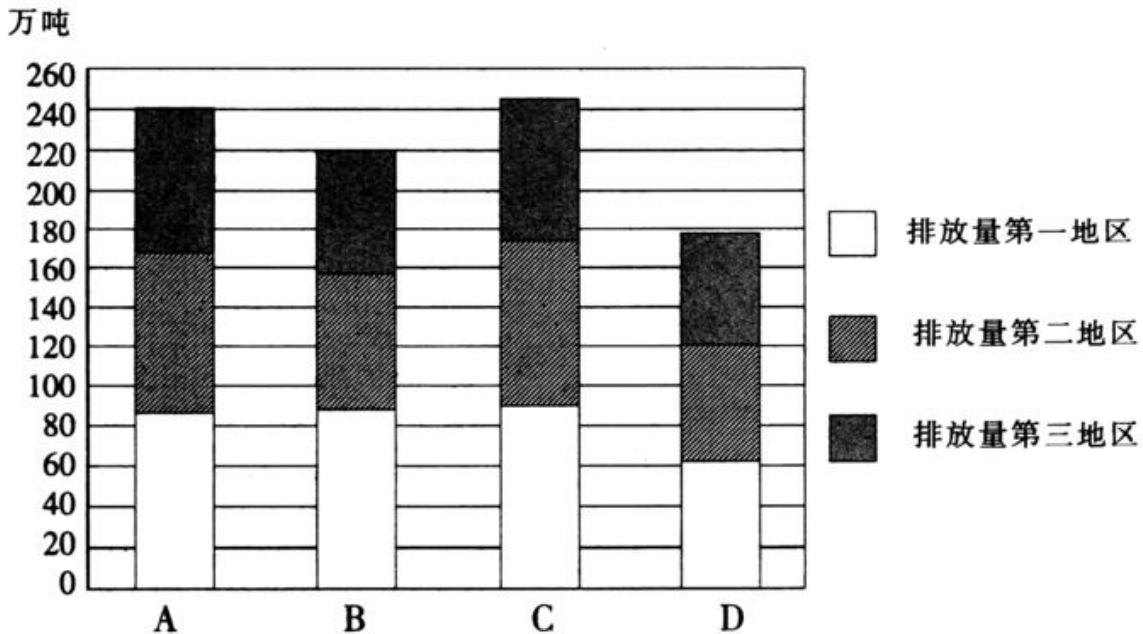
五、资料分析，共 10 题，所给出的材料均有多个问题，根据资料所提供的信息进行分析、比较、计算和判断处理。

(一)

根据下面资料回答 91~95 题。

地区	主要污染物排放量(万吨)				地区生产总值 (亿元)
	化学需氧量	氨氮	二氧化硫	氮氧化物	
全国	1172.20	122.50	1037.20	1099.50	278740.40
北京	9.07	0.95	3.83	7.89	9769.32
河北	64.78	5.24	62.55	79.69	13640.00
山西	23.35	2.79	64.57	55.58	6097.80
内蒙古	43.29	2.61	70.29	70.82	7338.66
辽宁	61.99	5.13	50.39	44.29	13207.48
上海	11.55	2.39	9.06	18.39	10952.64
江苏	56.84	7.22	49.41	68.77	30115.00
浙江	37.42	5.33	29.41	37.48	17978.21
安徽	45.50	5.19	25.98	44.90	9350.54
福建	32.56	4.62	19.10	23.54	9733.61
江西	36.89	4.39	26.80	27.87	6464.95
山东	91.91	8.18	86.78	85.08	28080.26
河南	67.92	7.22	63.93	73.36	15778.62
湖北	52.32	6.18	31.32	29.17	12061.99
广东	84.41	10.46	38.52	60.81	30879.09
广西	37.19	4.20	21.56	22.38	6327.87
重庆	19.36	2.54	27.69	18.37	6440.51
四川	62.44	6.79	40.06	32.57	12697.39

- 91、化学需氧量排放最多的地区的排放量约是排放最少的地区的多少倍?  
 A、9 B、12 C、11 D、10
- 92、地区生产总值最高的地区，化学需氧量排放占全国该污染物总排放量的比重约为：  
 A、4.8% B、8.4% C、7.2% D、6.0%
- 93、以万亿元计，地区生产总值平均的氨氮排放量约为多少万吨？  
 A、3.23 B、5.97 C、5.45 D、4.39
- 94、下图哪个选项为二氧化硫污染物排放量前三地区的二氧化硫排放量的合计数？



95、从上述资料中可以推出, 2014 年上半年:

- A、地区生产总值越高的地区, 氮氧化物排放量越多
- B、表中各种污染物排放量均低于 20 万吨的有 2 个地区
- C、上海市平均每亿元地区生产总值二氧化硫排放量高于 10 吨
- D、地区生产总值占全国生产总值比重超过 10% 的有 2 个地区

(二)

2009~2013 年吉林省城镇居民人均可支配收入和农村居民人均纯收入



96、2013 年吉林省城镇居民人均可支配收入比上年增长:

- A、10.2%    B、111.9%    C、11.9%    D、110.2%

97、2009~2013 年间, 吉林省城镇居民人均可支配收入平均每年增加:

- A、1654 元    B、5569 元    C、4455 元    D、2067 元

98、2009~2013 年间, 吉林省城乡居民收入的差距:

- A、保持稳定    B、有逐年扩大的趋势    C、有逐年缩小的趋势    D、有时缩小有时扩大

99、2009~2013 年间, 吉林省城乡居民收入上涨最快的年份是:

- A、2010 年    B、2013 年    C、2012 年    D、2011 年

100、关于 2009-2013 年间吉林省居民收入, 下列说法正确的是:

- A、农村居民人均纯收入比城镇居民人均可支配收入的增加的绝对值大
- B、城镇居民人均可支配收入各年增长率大于农村居民人均纯收入增长率
- C、农村居民人均纯收入比城镇居民人均可支配收入的增长幅度大
- D、农村居民人均纯收入各年增长率相同

微信扫一扫二维码, 关注“公务员考试挺简单”微信公众号, 可获取更多公考经验。分享公考经验, 还可获得现金奖励哈

手淘扫描淘宝店铺, 可以购买省考、国考历年真题哦



微信公众号



淘宝店铺