

2014年吉林公务员考试《行测》甲卷

来源：F 整理：杨柳（微信：gwy288）

一、常识判断，共20题，根据题目要求，在选项中选出答案。

- 1、2013年3月19日，习近平在接受金砖国家媒体联合采访时提出，中国这样一个大国，领导者要深入了解国情，了解人民所思所盼，要有“治大国、如烹小鲜”的态度。以下最接近这种治国理念的是：
- A、尊重国情，尊重民心，尊重规律 B、强化理论，强化技术，强化创新
C、坚持改革，坚持开放，坚持发展 D、维护稳定，维护传统，维护成规
- 2、十八届三中全会提出规范领导干部工作生活保障制度，探索实行官邸制度。“官邸制”在中国古已有之，也是世界上很多国家通行的制度。以下关于“官邸制”说法错误的：
- A、配偶和子女通常不可以和官员一起居住官邸 B、美国、法国、德国、韩国都实行“官邸制”
C、“官邸制”在我国秦汉时期就已经出现 D、一般情况下，官员对官邸只有居住权，没有产权
- 3、在20世纪60年代，焦裕禄成为那个时代精神的象征。今天，我们仍然敬仰焦裕禄，最主要是因为他身上折射着：
- A、为万世开太平的责任意识 B、勇于创新的时代精神
C、己所不欲勿施于人的理性精神 D、强烈的社会责任感和历史使命感
- 4、孟子从“意志之天”出发，认为君权是“天授之”，而“天授之”又是由“民授之”即人民的态度来决定的。这是一种：
- A、“天人相胜”的思想 B、“天人相通”的思想 C、“天人相分”的思想 D、“天人平等”的思想
- 5、“面子”一词有着浓厚的东方文化色彩，囊括了人的地位、财富、尊严、人格等内涵，是人们进行社交活动的外观表征，代表着他人、社会对自身的综合评价。尽管时代发生了很大的变化，但人们重“面子”的观念依旧存在。这说明：
- A、社会存在决定社会意识 B、物质是运动的，同时又是相对静止的
C、意识是物质的主观映像 D、社会意识具有相对独立性
- 6、“看人间，哪一寸土地不是人民开，哪一片庄稼不是人民栽，哪一间房屋不是人民盖，哪一部机器不是由人民来制造，哪一种商品不是由人民来生产……”这说明：
- A、人民群众是社会物质财富的创造者 B、人民群众是社会革命的决定力量
C、人民群众是社会变迁的主力军 D、人民群众是社会精神财富的创造者
- 7、美国著名影星布拉德皮特主演的电影《返老还童》，描述的是主人公本杰明巴顿一出生便如80岁老人一般，之后便越活越年轻，最后竟以婴儿的形态离开人世。但现实中，古今中外，从没有真正出现这一现象，这是因为：
- A、人类还没有找到可以“返老还童”的神奇干细胞
B、人类现有的医学、生理学技术手段还不可能实现“返老还童”
C、“生-弱-壮-衰-亡”是事物发展不可违背的客观规律
D、人类还没有真正找到“穿越”时空的技术手段
- 8、“旧时王谢堂前燕，飞入寻常百姓家。”唐代诗人刘禹锡的这两句诗词，常被用来形容过去的一些昂贵商品现在变成了大众消费品。导致这种变化的根本原因是：
- A、人民生活水平提高 B、社会劳动生产率提高 C、商品市场日益繁荣 D、大众消费观念发生变化
- 9、卢梭在《爱弥儿》一书中写道，妇女们应该在家中劳动，永远不要到需要讲话的公共集会上去……难道世界上还有比把家里收拾得井井有条的母亲更感人、更让人尊敬的吗？这表明卢梭反对妇女：
- A、争取人身自由权 B、获得劳动权 C、拥有教育权 D、享有政治参与权
- 10、近年来，“民告官”案件时有发生，“民告官”的依据是：
- A、《中华人民共和国民事诉讼法》 B、《中华人民共和国刑事诉讼法》
C、《中华人民共和国行政诉讼法》 D、《中华人民共和国行政诉讼法》
- 11、“请名人代言”是提高广告说服力的好方法。下列四则广告标题，如单就文字意义，寻找背景相契合的古代名人来代言，则最不恰当的组合是：
- A、请庄子代言“自然就是美” B、请司马光、王安石代言“好东西要和好朋友分享”
C、请苏秦、张仪代言“做个不可思议的沟通高手” D、请子路代言“心动不如马上行动”
- 12、有学者认为，先秦时期某学派主张积极救世，做事讲求道德；另一学派以其超凡脱俗、清静自然的美感和灵

性弥补了前一学派的缺陷。

该学者评述的两个学派分别是：

- A、儒家、道家 B、法家、墨家 C、法家、儒家 D、儒家、墨家

13、在中国传统文化中，“龙马负图”“凤鸟来朝”“麒麟至郊”“元龟衔符”乃四大祥瑞之兆。龙、凤、麟、龟等几项动物至今仍广泛流传。

以下对四者主要寓意表述准确的是：

- A、龙：子孙繁荣；凤：飞黄腾达；麟：太平盛世；龟：健康长寿
B、龙：民族昌盛；凤：如意吉祥；麟：太平盛世；龟：健康长寿
C、龙：民族昌盛；凤：如意吉祥；麟：健康长寿；龟：太平盛世
D、龙：民族昌盛；凤：子孙繁荣；麟：如意吉祥；龟：健康长寿

14、三十六计中，以制造假象来迷惑敌人的计策是：

- A、树上开花 B、引人入胜 C、顺手牵羊 D、围魏救赵

15、成语“勾心斗角”现比喻用尽心机，明争暗斗，本意指宫廷建筑结构的交错和精巧。以下成语中，寓意和本义同样发生根本性变化的一项是：

- A、雪中送炭 B、引人入胜 C、口若悬河 D、八面玲珑

16、我国有悠久的酒文化历史，在长期的发展过程中，酿造出多种被誉为“神品”“琼浆”的酒类珍品。

下列关于各类酒的作用说法错误的是：


- A、白酒有杀菌、去腥、防腐作用，可医用
B、啤酒具有清心、提神的作用，可减少过度兴奋和紧张情绪
C、红酒有助于防动脉硬化，还可减少骨质疏松症的危险
D、黄酒有助于通经络、厚胃肠、养脾扶肝、增进食欲、消除疲劳

17、今天人们经常以“姓氏笔画”为序来排名，其实古代特别是先秦时期“姓”与“氏”是有严格区别的。

以下关于“姓”“氏”表述错误的一项是：

- A、“姓”源于母系社会，“氏”源于父系社会
B、秦汉以后，出现姓名合一的倾向，姓和氏不再是贵族的专利，平民也能有姓氏了
C、中国最早的氏，大都从“女”旁，如姬、姚、姜、嬴等
D、一般女子称“姓”用来“别婚姻”，男子称“氏”用来“明贵贱”

18、下列标志与含义对应错误的一项是：



A B C D

- A、食品安全标志 B、循环再生标志 C、强制认证标志 D、环境保护标志

19、假如现在是北京时间12日上午9点，则伦敦时间和纽约时间分别是：

- A、12日凌晨1点；12日晚上9点 B、12日凌晨1点；12日晚上6点
C、12日凌晨1点；11日晚上9点 D、11日晚上11点；11日晚上9点

20、雾霾天气有时会使建筑物呈现“蜃景”。以下关于“蜃景”说法错误的一项是：

- A、古人将“蜃景”归因于蛟龙之属的蜃吐气而形成，因而得名
B、我国广东澳角、山东蓬莱、浙江普陀海面上经常出现这种幻景
C、“蜃景”只会出现在平静的海面、江面，雪原、沙漠和戈壁等地方不会出现“蜃景”
D、“蜃景”是物体反射的光经大气折射而形成的虚像

二、言语理解，共30题，本部分包括表达与理解两方面的内容，请根据题目要求选出答案。

21、填入下面一段文字横线处的语句，衔接最恰当的一项是：

习近平总书记在讲话中提到了“中国梦”的问题，_____ 因此，“中国梦”成为中国人的热门话题。

①因为每个人都渴望实现自己的梦想, 个人梦想的实现是建立在国家繁荣基础上的。

②其实, 换一个角度, 中国梦与我们每个人息息相关。

③它使人联想到民族奋进的滚滚大潮, 气势磅礴的宏伟蓝图。

④所以, 我们每一天向着自己的梦想出发, 也是在缔造着中华民族的复兴之梦。

⑤“中国梦”即中华民族的复兴之梦, 是十三亿中华儿女共同拥有的伟大梦想。

A、⑤④②③① B、③⑤①④② C、②①④⑤③ D、⑤③②①④

22、在今日 10 时的家属沟通会上, 马航工作人员向家属表示, 目前马来西亚外交部已向南北走廊上所有国家发出外交照会, 并请求这些国家提供支持和协助, 包括雷达和卫星信息、海陆空搜救行动、相关国家的搜救行动计划及马来西亚请求提供的信息等。目前已有 26 个国家参与搜救, 几乎涵盖南北走廊的所有国家。

为这段新闻拟写标题, 恰当的一项是:

A、马航组织家属沟通会 B、马来西亚请求援助搜救工作
C、马航与家属协商搜救工作 D、马方已向多国发出外交照会

23、全国孝老爱亲模范孟佩杰 8 岁起就独自挑起了照顾瘫痪养母刘芳英的重担, 至今已有 15 个年头。母女俩相依为命, 日子过得很艰难。在社会各界和当地政府的关照下, 孟佩杰母女的生活状况已经得到了极大改善。如今孟佩杰不仅照料着养母, 也开始了公益生涯。当割肾救子的母亲郭珍珍对手术费一筹莫展时, 孟佩杰母女不仅资助了她 2000 元, 还帮助联系爱心团队筹到了 3.7 万元手术费。

下列名言中, 对本文概括最恰当的一项是:

A、百善孝为先 B、老吾老, 以及人之老; 幼吾幼, 以及人之幼
C、君子喻于义, 小人喻于利 D、弟子入则孝, 出则悌, 谨而信

24、下列各句中没有使用比喻修辞手法的一句是:

A、应中国国家主席习近平夫人彭丽媛的邀请, 美国第一夫人米歇尔·奥巴马携两位女儿玛利亚、萨沙和母亲访问中国。米歇尔与彭丽媛的相会, 将是一场美国玫瑰与中国牡丹的相遇。
B、湖水清澈见底, 如同一块透明的蓝绸布, 静静地躺在大地的怀抱里。
C、残疾人事业是崇高的人道主义事业, 残疾人事业的发展好像一把标尺, 彰显着社会的公平正义和文明进步。
D、她含笑的双眼炯炯有神, 好像一下子年轻了好多, 她抬起沉重的手, 在胸前缓缓地画着十字。

25、领导人整顿风气, 很多人不以为然, 以为这是小题大做。据说, 形成优良社会秩序, 最重要的是制度。这种观念流行一时, 然而不乏偏颇。制度是刚性约束, 风气是柔性导引, 从逻辑上说, 风气导引于先, 制度约束于后。风气、制度交相为用, 自然能够收到奇效。

关于“风气”和“制度”的关系, 描述正确的是:

A、风气与制度并重 B、制度比风气重要 C、制度是风气的引导 D、制度不及风气重要

26、依次填入文中横线处的语句, 顺序恰当的一项是:

“土豪”二字重点在“土”, 重外在、重奢华、好显摆, 表达着一种与富裕的经济状况不相匹配的素质修养、行事风格以及外在气质。_____。_____, _____, _____, 是一种来自骨子里的自卑心态。

①折射出一些“暴发户”一夜暴富之后的茫然与失衡
②急于用金钱向社会表明自己的价值
③而且越是“土”的人却越“豪”, 无论是张扬还是炫耀, 都是一种不正常的、浮躁的心理
④急于用金钱获取他人的尊敬

A、②①④③ B、①③②④ C、③②①④ D、③④①②

27、下列各句中, 加横线成语使用恰当的一项是:

A、莫斯科时间 2 月 7 日 20 点 14 分, 第 22 届冬季奥林匹克运动会开幕式在俄罗斯度假胜地索契市举行, 金碧辉煌的开幕式演出吸引了全球约 30 亿的电视观众
B、联合国特别协调员卡洛, 兴致勃勃地参观正在塞浦路斯利马索尔港补给的中国海军盐城舰, 高度赞扬中国政府为政治解决叙利亚化学武器问题所做的努力
C、3 月 21 日, “雪龙”号上的中国第 30 次南极科学考察队在澳大利亚人员配合下, 倾巢出动, 火速前往搜寻马航 MH370 失联客机
D、《警察日记》和《白日焰火》作为国际电影节获奖影片, 对表达中国文化自信力方面的贡献, 可谓两全其美

28、下列各句中, 没有歧义的一句是:

A、南京某幼儿园是否给孩子“喂药”的问题, 园方负责人已在记者招待会上予以否认

B、剧组全体成员经过一年零三个月的苦战，一个形式新颖、制作精良的选秀节目《中国好歌曲》终于与观众见面了

C、李敏镐的到场令在场的无数观众尖叫不已，找他签名合照的观众将他围堵了 20 多分钟

D、从 2012 年 1 月 1 日起，34 个电视上星综合频道要提高新闻类节目播出量，同时对部分类型节目播出实施调控，以防止过度娱乐化或低俗化倾向

29、进入马年，“马上就有”这一句式迅速流行：“马上有钱”、“马上有房”、“马上有份好工作”。“马上就有”的祝福语，是马年才有；“马上就有”的社会心态，却早已在不经意间造访我们的时代。一毕业马上要有高薪工作，一工作马上让全家人凑钱买房，别人有了自己也马上要有，希望不能“马上兑现”就立刻抱怨。“马上就有”，倾听着人们对美好生活的急切期盼，也在一定程度上映照出当今社会中的焦虑、浮躁与喧嚣心态。

这段话对“马上就有”，所持的态度是：

A、肯定 B、否定 C、有肯定也有否定 D、不置可否

30、下列各句中，没有语病的一项是：

A、《最强大脑》国际 PK 赛第一场，中国男孩李云龙和意大利少年安德烈表现迥异，引发观众对“中国式教育”的大讨论。面对质疑，李云龙的父亲李勇表示将坚持自己的教育方式

B、昨日，长白山上的高山牡丹花已开得十分茂盛，如果明媚的阳光能够持续一段时间的话，山上五光十色的花很快就能冒出来

C、虽然现在所访问的一些国家，对我们很陌生，了解起来比较吃力，不过我相信，在导游的帮助下，整个访问行程一定会非常顺利

D、行政改革蓝皮书《中国行政体制改革报告（2013）》调查，超六成受访者对八项决定的持续实施有信心，民众对官员财产申报和公开制度的建立，有很高的期待

31、下列各句中加横线词，运用正确的是：

A、“两横三纵”快速路投入使用后，长春市交通会更加顺畅，从赛德广场到前进大街的行驶时间估计大体只需十多分钟

B、除了家庭之外，没有一种社会组织对社会生活的变化如此敏感，能够如此明显地反映社会历史发展取得的成就和面临的困难

C、对于公务员考试来说，英语考试并不是必然的，因为只有个别岗位对英文水平有要求

D、一来到台北，我们就径直来到 101 大厦看夜景。此时的台北灯火阑珊，显得尤其迷人

32、美国一项最新调查发现，儿童每天喝碳酸饮料越多，就更容易出现攻击性、注意力不集中以及不合群等问题，其中每天喝 4 杯或 4 杯以上的儿童，破坏别人东西、与人吵架或殴打别人的可能性是不喝碳酸饮料儿童的两倍。

下列说法与文意相符的一项是：

A、碳酸饮料对成年人的行为不会产生任何影响 B、只要限制孩子喝碳酸饮料就能减少其攻击性

C、常喝碳酸饮料的儿童可能比较好斗 D、碳酸饮料是导致儿童不良行为的最主要原因

33、底线无形地存在于两个地方。一在社会中，一在每个人心里。如果人们都降低自己的底线，社会的底线一定下降。社会失去共同遵守的底线，世道人伦一定败坏；如果人人守住底线，社会便拥有一条美丽的水准线——文明。因此说，守住底线，既是为了成全社会，也是成全自己。

对“底线”的理解，不正确的一项是：

A、每个人心中的底线下降会导致社会的底线下降 B、每个人都遵守底线，社会才会变得文明

C、社会的底线下降是每个人心中的底线下降的标志 D、守住底线既有利于个人成长，又有利于社会发展

34、目前，在我国各地，养老问题的管理工作分散在老干部局、民政局、人力资源和社会保障局、医疗卫生部门、老龄办等多个部门和单位。此外，妇联、青联、工会、残联等机构也或多或少地介入了养老的服务保障和管理工作。

对我国养老管理工作描绘最准确的一项是：

A、多龙治水 B、三个和尚没水吃 C、二龙戏珠 D、僧多粥少

35、下列各句中，没有语病的一句是：

A、近视患者都应当接受专业医师的检查，选择合适的眼镜，切忌不要因为怕麻烦、爱漂亮而不戴眼镜

B、《中国好声音》这类“零门槛”的节目，让任何一个拥有音乐梦想的普通人，都可以一展歌喉，享受舞台，也让我们懂得，平凡人成就自我的关键在于是否相信梦想，勇于追求，敢于创造奇迹

C、百年来，中华书局一直以传承文明为己任，本着守正出新的原则，整理出版了大批古籍，也推出了许多高水平的学术新著

D、目前，我国是联合国“人类非物质文化遗产名录”中入选项目最多的国家，这一成绩主要靠的是社会各界的共同努力取得的

36、下列各句中没有使用对比修辞手法的一句是：

- A、君子坦荡荡，小人长戚戚
- B、有的人活着，他已经死了；有的人死了，他还活着
- C、山不在高，有仙则名；水不在深，有龙则灵
- D、亲贤臣，远小人，此先汉所以兴隆也；亲小人，远贤臣，此后汉所以倾颓也

37、“酷抠族”是指拥有较高学历、较高收入的中产阶级人群。这类人擅长精打细算过日子，通过转移消费重点，更好地配置“有数”的金钱。他们摒弃奢侈消费，在不影响生活质量的前提下，用最少的金钱获取最大的物质和心理满足感。他们以着装从简为荣，以盲目攀比为耻；以物尽其用为荣，以铺张浪费为耻；以心态阳光为荣，以纠结抑郁为耻……这是一个崇尚节约，追求简单、自然的生活方式的社会族群。

为“酷抠族”定义最准确的一项是：

- A、是指拥有较高学历、较高收入的中产阶级人群
- B、是指崇尚节约，追求简单、自然的生活方式的社会族群
- C、是指拥有较高学历、较高收入、追求节约、简单、自然的生活方式的社会族群
- D、是指精打细算、摒弃奢侈、从简为荣，主张物尽其用、心态阳光的中产阶级人群

38、依次填入下面一段文字横线处的语句，衔接最恰当的一组是：

“大道春风快马，壮志好梦宏图”是马年春节的一副对联。此联由三对用形容词与名词构成的两字词组组成，其间既没有动词也没有虚字相接，读之节奏快，_____。上联由古人“古道西风瘦马”脱化而来，在替换了三个形容词之后，全局顿生_____之态。“大道”既指人间的道路，又喻_____之途；“春风”寓迎春之意；“快马”即点明了“马”这一主题。下联笔锋一转，一幅“民族复兴，_____”的壮美景象跃然纸上。全联紧扣时代脉搏，辞简意新，激人奋进。

- 1. 昂扬奋发 2. 铿锵有力 3. 国人追梦 4. 社会发展
- A、1234 B、2143 C、1342 D、4321

39、梁君健希望通过《四个中国人》传递这样一种信息——非物质文化遗产的核心是人，淡化非遗本身的美术或者历史价值，强化它对这一个个传承人生命的价值。书中写道：“程宵春手艺的精进，生活态度的恬淡，都向我们展示了一个有传承的行业，是如何塑造出一个个丰富的个体生命。”

符合原文的一项是：

- A、非物质文化遗产应强化其艺术价值 B、非物质文化遗产更注重传承人生命的价值
- C、非物质文化遗产的核心是行业的传承 D、历史价值要比个体生命的价值更重要

40、《爸爸去哪儿》选择了5对明星父子一起参加录制。节目中，平时因为工作繁忙而鲜有时间陪伴孩子的爸爸们，必须单独带着孩子完成为孩子做饭、陪孩子睡觉等多项任务。《爸爸去哪儿》收视情况之优异，据说超过了今年全国迄今为止所有电视节目。为什么观众会对这档节目如此青睐？说到底，是因为节目中体现的浓浓亲情让人心存暖意，也点燃了人们心中回归家庭的渴求。正如泰戈尔曾经在诗里写道：“我们一次次地离开，是为了一次次地归来。”

对文中划线句子的解释，最准确的一项是：

- A、引用这句诗，主要是为了突出这档节目激发了人们回归家庭的渴望
- B、引用这句诗，是为了让人们认识到不要忘了对最初自我的肯定
- C、这句诗的引用，主要是对文意起到点缀作用，为了增添一点诗意
- D、任何一种形式的回归，都意味着对更好的未来的再度憧憬

41、时下，原本被人在网上恶搞的“黑暗童话”，竟成了风行的儿童读物，并且为便于阅读（可获取更多利益吧），多是注音版的：优美的安徒生童话竟成了某些人恶搞的“①”——最后变成白天鹅的丑小鸭，凄惨地被宰杀，成了盘中“烤鸭”；“睡美人”不是被王子唤醒，而是变成了邪恶的复仇女巫；“灰姑娘”最后竟遭遇火刑，成了陪葬者……这种“黑暗”像②在孩子们中间游荡，甚至几欲吞噬那一颗颗幼小的心灵。面对这种情况，我们不能不拍案而起：决不能让“黑暗童话”毁了孩子！一个人所具有的优良品性，很大程度上，取决于童年时期所形成的甲。苏霍姆林斯基曾说：“如果善良的情感没有在童年形成，那么无论什么时候你也培养不出这种感情来。”儿童获得人生滋养的主要途径之一就是读书。像《安徒生童话》这样的童话经典，都是讲良善终归战胜邪恶，似一条条清澈的小溪，泛着仁爱与正义之波，这便成了人们长大的营养。而某些“黑暗童话”像③，正在污染着一片片葱绿的田野。意在渲染暴力、恐怖等内容的“黑暗童话”，颠倒了正确的荣辱观，放逐了崇高与伟大的情感。面对这种被扭曲的价值观，儿童会迷失方向，沉溺于庸俗与丑恶的泥沼。针对“黑暗童话”的问题，仅仅依靠公众舆论对其批判是远远不够的，必须要拿出问题的解决方案。首先，那些将经典视为“④”，

肆意切割，用反主流价值来吸引眼球以牟取暴利的人，需要担负起社会的道义与责任。王蒙曾说：“应该扪心自问，你写的作品能不能拿给自己的小孩看？”这不妨可以看作是对某些人的警策之语。其次，儿童书籍究竟是否宜于儿童阅读以及在多大程度上适合儿童接受的判断，还有赖于一个科学、专业、公共的童书评判和儿童阅读的指導體系。当务之急，是在童书出版、儿童教育、儿童公共图书馆服务等领域，组建起若干支可以有效发挥图书监督和阅读指导作用的专业队伍，指导儿童的读书行为，从而防止“黑暗童话”对孩子的侵蚀。

回答 41-45 题：

填在空格处的语词恰当的一项是：

- A、①橡皮泥 ②幽灵似的 ③汨汨的黑水 ④砧板 B、①橡皮泥 ②汨汨的黑水 ③幽灵似的 ④砧板
C、①砧板 ②汨汨的黑水 ③幽灵似的 ④橡皮泥 D、①砧板 ②幽灵似的 ③汨汨的黑水 ④橡皮泥

42、根据文意判断，“黑暗童话”的最主要特征是：

- A、“黑暗童话”源自网络文学加注了拼音 B、安徒生童话被人恶搞
C、美好的童话故事被篡改了结局 D、“黑暗童话”吞噬着孩子们幼小的心灵

43、根据文意，填在“甲”处的最恰当的一项是：

- A、善良的情感 B、积极的情感态度价值观 C、读书习惯 D、正确的荣辱观

44、本文的中心论点是：

- A、决不能让“黑暗童话”毁了孩子 B、一个人的品性取决于童年时期的情感态度价值观
C、儿童时期需要接受正确的价值观教育 D、解决“黑暗童话”问题需要有切实可行的方案

45、对本文的解说恰当的一项是：

- A、第一段首先列举在风行的儿童读物中存在的种种“黑暗童话”现象，然后阐明“黑暗童话”的危害，为中心论点的提出奠定立论基础
B、第二段引用苏霍姆林斯基的名言，意在强调童年时期培养善良情感的重要性
C、第三段引用王蒙的话意在说明“黑暗童话”的编造者应该肩负起社会的道义与责任
D、本文运用了正反对比论证、比喻论证、归谬法、反证法等，阐述了“黑暗童话”对儿童的巨大危害

阅读以下文字。完成 46-50 题。

有人提出，政策的尺度要和人性的尺度__①__。人性的弹性有多大，政策的松紧程度就有多宽。越来越多的经济学家已经意识到，经济学的“理性行为人”在很多情况下都过于理想了，人的行为很少是非黑即白的简单数字可__②__的。要了解现实中的人性有什么特点，恐怕得求助于社会学和心理学的研究。美国麻省理工学院的 Dan Ariely 教授在自己学校的本科生中做了个实验。学生宿舍的过道里有个公用冰箱，Ariely 在里面放了一排罐装可乐，又在旁边放了一个盘子，上面有几张一元钞票。宿舍门口的自动售卖机里也有可乐，每听一元。过了几天，放在冰箱里的可乐少了好几罐。盘子里的钱却没动。拿可乐的学生明显知道这是不属于自己的东西，原则上算偷，但他们只偷可乐不偷钱。

乍一看很奇怪。一听可乐和一元钱的价值不是相等的吗？正是这点小蹊跷，说明人们在衡量价值的时候，可能会不由自主地在金钱价值之上再附加一个“道德价值”。偷可乐没什么大不了。偷钱就是道德问题了。

那么欺诈呢？也有不由自主的道德界限么？Ariely 为此设计了一个“作弊测验”。他让受试者在很短时间內做 20 道难题。到时间后报告自己做完了几道。他故意制造了一些条件让他们有机会“安全”作弊。作弊者以为自己不会被抓到而谎报题数。这些人都不知道别人完成的情况。Ariely 统计了一下，在严格监视的条件下，大家平均能完成的题数是 4 道，而谎报者平均在 6 道左右。多数谎报者都只往上加了两三道，没有一个人谎报 20 道的。这个结果也很有趣，有机可乘之时大多数人都会撒点小谎，但也都会自我约束，不把谎撒得太离谱。

这意味着，人们确实难抵诱惑，但也不轻易越界。也许这两个例子还没法直接证明偷可乐和谎报成绩的人是在遵守道德底线，而不是因为一元钱和做完全部题目的诱惑力不够。当他们面对更多金钱和更大奖励时。难保不会做出什么丢脸的事。

另外两位心理学家，哈佛大学的 Greene 和 Paxton 做了一组脑成像实验。看看受试者在有机会撒谎时，大脑活动有什么特点。人脑靠近前额的部位有几个脑区主管“自我控制”，分别叫做前扣带回、背外侧前额皮质和腹内侧前额皮质，它们通常在人做困难决定时被__③__。Greene 和 Paxton 想要验证的假说是这样的：当人有机会撒谎并且撒谎比诚实有利时。撒谎就成了一种诱惑，而拒绝这种诱惑的过程是一个做决定的过程，会激活“自我控制”区域。相对地，那些撒谎的人接受了诱惑，“自我控制”区域不用那么努力去做决定，激活的程度就会轻很多。

实验结果让两人吃了一惊，跟他们预想的刚好相反。那些“自我控制”区域在坚持诚实的人脑中激活度完全不显著，反而在撒谎的人脑中高度显著。他们由此提出了一个非常吸引人的假说：有没有可能保持诚实是人的一种天性呢？而正因为撒谎违反了这种天性，才需要“自我控制”区域做出抉择；保持诚实的人表面上是放弃了可能的利益，但行为和大脑的自然反应没有矛盾，所以不需要“自我控制”区域的干预。如果真是这样，那么“良

心不安”这种用来谴责撒谎者的词汇也是有据可依的了。

看来, 在普罗大众身上, 人性也许没那么极端, 诚实守信可能和趋利避害一样是天性使然, 而不仅仅是道德和环境的外在约束使然。我们爱贪小便宜, 但不唯利是图; 有机可乘时像 Kahn 先生那样撒个小谎。并不意味着内心就没有犹豫。也许未来的经济模型中可以有不那么绝对的变量, 它们指导的经济政策能把人性的善恶两面都④考虑范围。

46. 填在空格处的词语恰当的一项是

- A. ①匹配 ②模拟 ③激活 ④纳入 B. ①激活 ②匹配 ③模拟 ④纳入
C. ①模拟 ②匹配 ③纳入 ④激活 D. ①匹配 ②激活 ③模拟 ④纳入

47. 阅读全文推断, 经济学中“理性行为人”的特点是

- A. 人性是复杂的 B. 唯利是图是人类的天性
C. 行为具有价值取向的单一性 D. 人性是不可以被简单模拟的

48. 下列选项中, 对划线语句解释最准确的一项是

- A. 善良的心地是谴责撒谎者的依据
B. 撒谎者自我谴责来自于他大脑中的前扣带回区域
C. 谴责撒谎者的依据是内心对是非、善恶的正确认识
D. 撒谎者自我谴责源于他大脑中“自我控制”区域的干预

49. 本文的主旨是

- A. 人性不是两极化的 B. 经济政策的制定和实施要考虑复杂的人性因素
C. 人性的善恶决定了经济政策制定与实施的难度 D. 经济政策的制定要完全求助于心理学的研究

50. 阅读全文, 推断或评析不恰当的一项是

- A. 人在诚实守信时, 他大脑中的“自我控制”区域激活度不那么明显
B. 这是一篇科普类文章, 要求语言表述具有科学性、客观性、准确性
C. 依据心理实验得出的定论为, 保持诚实是一种天性
D. 道德和环境的外在约束使得人的行为具有社会性, 但这并不意味着人就不具有天性

三、数量关系, 共 10 题, 本部分包括数字推理、数理计算。

51. 计算算式 $\frac{1}{2} + \frac{1}{6} + \frac{1}{12} + \frac{1}{20} + \frac{1}{30}$ 的值:

- A、8/9 B、7/8 C、6/7 D、5/6

52. 地铁工程在某 1000 米路段地下施工, 两头并进, 一侧地铁盾沟机施工, 每天掘进 3 米, 工作 5 天, 休息一天进行检修; 另一侧工人轮岗不休, 每天掘进 1 米, 多少天此段可打通:

- A、282 B、285 C、286 D、288

53. 文化广场举行放风筝比赛, 老年组老王、老侯、老黄三位选手同场竞技, 评委测量各人放出的风筝线长分别为 60 米、50 米、40 米, 风筝线与地平面所成角分别为 $\frac{\pi}{6}$ 、 $\frac{\pi}{4}$ 、 $\frac{\pi}{3}$ 、假设风筝线看作是拉直的, 则三位选手放风筝最高的是:

- A、老王 B、老侯 C、老黄 D、不能确定

54. 某学校组织一次教工接力比赛, 共准备了 25 件奖品分发给获得一、二、三等奖的职工, 为设计获得各级奖励的人数, 制定两种方案: 若一等奖每人发 5 件, 二等奖每人发 3 件, 三等奖每人发 2 件, 刚好发完奖品; 若一等奖每人发 6 件, 二等奖每人发 3 件, 三等奖每人发 1 件, 也刚好发完奖品, 则获得二等奖的教工有多少人:

- A、6 B、5 C、4 D、3

55. 某建筑工地招聘力工和瓦工共计 75 名, 力工日工资 100 元, 瓦工日工资 200 元, 要求瓦工人数不能少于力工人数的 2 倍, 则力工和瓦工各聘多少人才能使日付工资最少:

- A、20, 55 B、22, 53 C、24, 51 D、25, 50

56. 一家人晚饭后去散步, 爸爸给晓宇出了一道数学题: 甲、乙两人年龄之和比丙大 70 岁, 又已知甲比乙大 1 岁, 比丙的 2 倍还多 13 岁, 请你帮晓宇算出乙、丙的年龄之和是多少岁:

- A、55 B、56 C、57 D、58

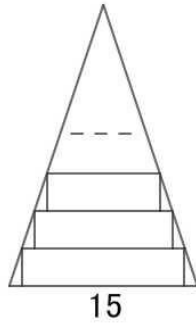
57. 一条客船往返于甲、乙两个沿海城市之间, 由甲市到乙市是顺水航行, 由乙市到甲市是逆水航行。已知船在静水中的速度是每小时 25 海里。由甲市到乙市用了 8 小时, 由乙市到甲市所用的时间是由甲市到乙市所用时间的 1.5 倍, 则甲乙两个城市相距多少海里:

A、240 B、260 C、270 D、280

58、小明将一枚硬币连抛3次，观察向上的面是字面还是花面，请你帮他计算出有2次字面向上的概率是多少：

A、1/4 B、1/6 C、3/8 D、1/10

59、蓝天幼儿园小朋友在做剪纸活动，有一张如图所示的等腰三角形纸片，底边长15厘米，底边上的高为22.5厘米，现在沿底边依次从下往上裁剪宽度均为3厘米的矩形纸条，已知剪得的纸条中有一张是正方形，则这张正方形纸条是第几张：



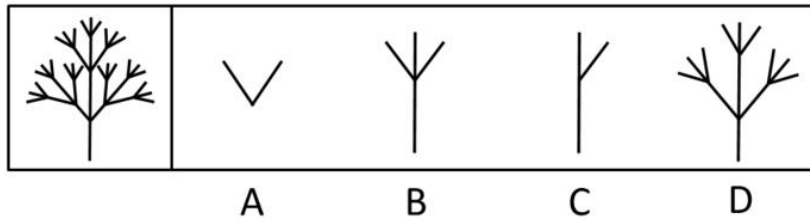
A、4 B、5 C、6 D、7

60、某城市的机动车车牌号由大写英文字母和0~9十个数字组成，共五位。若交通局规定第一位必须是字母，其余四位均为数字，请你计算尾号是0的机动车车牌号有多少个：

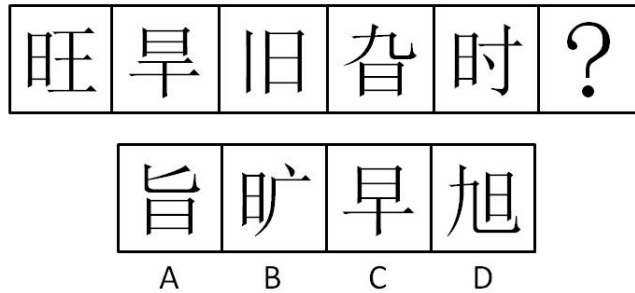
A、3120 B、25480 C、26000 D、131040

四、判断推理，共30题，本部分包括图形推理、定义判断、类比推理、逻辑判断。

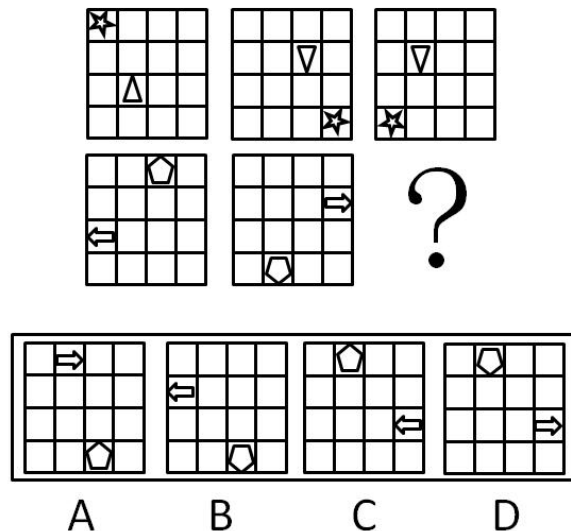
61、下图是由哪个基本图形生成的：



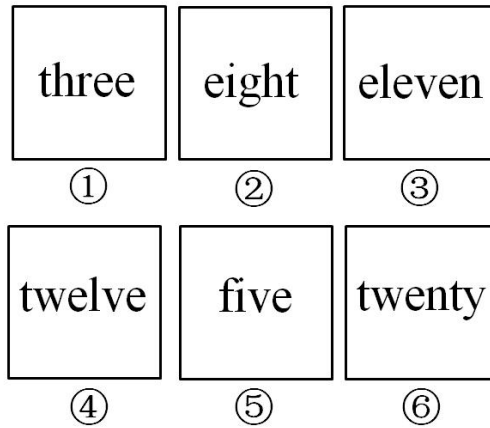
62、请从所给的四个选项中，选择最合适的一项填在问号处，使之呈现一定的规律性：



63、从所给的四个选项中，选择最合适的一个填入问号处，使之呈现一定的规律性：

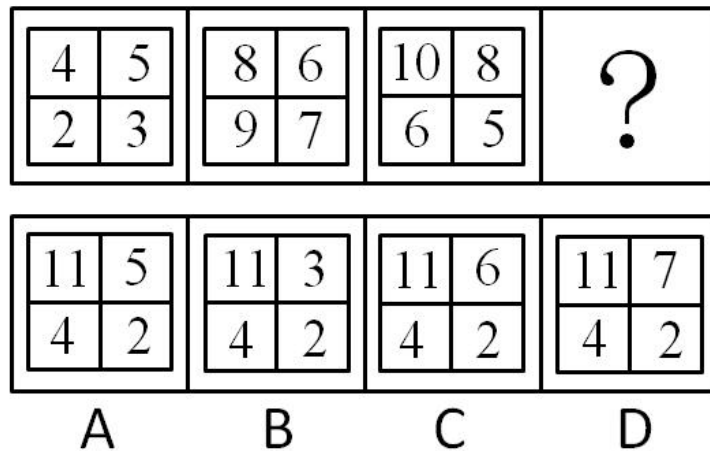


64、把下面的 6 个图形分为两类，使每一类图形都有各自的共同特征或规律，分类正确的一项是：



- A、①③⑥，②④⑤ B、①③④，②⑤⑥ C、①③⑤，②④⑥ D、①④⑥，②③⑤

65、从所给的四个选项中，选择最合适的一个填入问号处，使之呈现一定的规律性：



66、口红效应指的是在经济危机时消费者更愿意购买相对廉价的奢侈品这样一个理论。在美国，每当经济不景气时，口红的销量反而会直线上升，这是因为在经济不景气的情况下，人们仍然会有强烈的消费欲望，而口红作为一种“廉价的非必要之物”，可以对消费者起到一种“安慰”的作用。

根据上述定义，下列选项中符合口红效应的是：

- A、小王最近手头比较紧，所以只能买打折的大米
- B、虽然生活比较富裕，但节俭的小张还是总买廉价的日用品
- C、虽然最近经济不景气，小赵还是坚持给自己买了一辆新款宝马车
- D、虽然最近经济不景气，但节俭的小李却在每周末喝起了高档啤酒

67、二手压力是指在职场中因受其他人压力和焦虑等负面工作情绪的影响，反过来影响到自身的工作态度、工作情绪的情况。

根据上述定义，下列选项中属于二手压力的是：

- A、小王早上起床发现右眼皮一直跳，所以心情一直不好，到单位后果然被领导批评了，心情就更糟了
- B、小张一进入办公室就发现气氛不对，大家都紧张兮兮的，便坦然忙起了自己的工作
- C、小赵发现同事们都专注高效地工作，自己也觉得要更加倍努力工作了
- D、小李高高兴兴地来上班，看到同事因为工作太多而焦头烂额，不停地抱怨，自己也跟着心烦意乱起来

68、性格色彩学将人的性格分为红、蓝、黄、绿 4 种颜色。它认为红色性格的人是快乐的带动者，做任何事情的动机很大程度上是为了快乐，心态开放，喜欢体验新鲜的东西，情感丰富而外露，容易情绪化，随性而又善于交际。

根据上述定义，下列最符合红色性格特征的人物是：

- A、猪八戒 B、林黛玉 C、宋江 D、诸葛亮

69、快闪行动是指一群通过互联网或手机联系，但现实生活中互不认识的人，在特定地点、特定时间聚集后，在同一时间做出指定的不犯法却令人意想不到的“行为”，然后迅速分散。它是都市时尚文化的一种，是现代人在忙碌之余和世界开的一个善意的玩笑。

根据上述定义，下列选项中属于快闪行动的是：

- A、某运送桔子的大货车侧翻，得到短信通知，某村上百村民集体哄抢了十分钟后突然散去
- B、在圣诞节晚上八点，小王请来 50 位自己的朋友，来到女友楼下表白，集体大喊 10 声“我爱涵涵”，然后突然消失
- C、在某广场上，上百号人按约穿上黑色西装，白衬衣，打黑色领带，戴黑色墨镜，在同一时刻出现，然后一起拿起手机边走边做打电话状，人们还在愕然时，突然哨子一响，转眼全部离去
- D、2014 年 2 月 14 日中午，在某单位食堂吃饭的一群同事，突然集体举起纸巾并跳芭蕾舞，行动持续了一分钟，之后四散离开

70、霸王条款是指一些经营者单方面制定的逃避法定义务、减免自身责任的不平等格式合同、通知、声明和店堂告示或者行业惯例等，限制消费者权利，严重侵害消费者利益。

根据上述定义，下列选项中不属于霸王条款的是：

- A、某美容院告示：因已投保，如需要索赔需向保险公司要求赔偿
- B、某餐厅告示：请保管好自己的物品，丢失本店概不负责
- C、某些商场在促销广告中规定：本商场对促销活动内容拥有最终解释权
- D、某房东提出，每个月增加 500 元房租，否则就不与租房者签订房屋续租合同

71、叠补丁效应：指改善工作没有触及根因，反而因为改善而产生了大量的衍生工作，导致组织臃肿、效率低下、管理成本上升等不良现象。

根据上述定义，下列符合叠补丁效应的是：

- A、甲公司为了改善部门间沟通不及时的问题，专设了联络员，沟通问题大有改善
- B、丙公司为了提高出勤率，特设了点名监督员，虽提高了出勤率，但引来了员工的大量抱怨
- C、丁公司为了提高工作效率，颁布了更多的公司守则，特设了监督员，可结果效率更低了
- D、乙公司为了提高员工的忠诚度，工会采用了一系列人性化管理措施


72、复合偏义是一种修辞手法，是把两个意义相对相反的词组合在一起，但在表义上只让一个词起作用，另一个词仅仅是一种陪衬。

根据上述定义，下列画横线词语没有使用复合偏义这种修辞手法的是：

- A、《汉书·刑法志》：“爪牙不足以供奢（嗜）欲，趋走不足以避利害。”
- B、杜甫《草堂》：“旧犬喜我归，低徊入衣裾。”
- C、苏轼《石钟山记》：“则山下皆石穴罅，不知其浅深。”
- D、《玉台新咏·古诗为焦仲卿妻作》：“昼夜勤作息，伶俜萦苦辛。”

73、花瓣与花蕊之间的负形空间巧妙构成一只飞翔的鸟儿，花瓣形似浪花，花蕊形似彩带，花卉代表园艺，飞鸟代表祥和，彩带代表博览会的丰富多彩，有汇聚八方精彩园艺之意，同时，7 根彩带代表第七届，形状宛若彩虹。

根据上述描述，下列各项中最符合的图案是：



74、古罗马历史学家塔西佗曾这样谈论执政感受：当政府不受欢迎的时候，好的政策和坏的政策都会得罪人民，这个见解后来成为西方政治学的定律之一——“塔西佗陷阱”。

以下符合“塔西佗陷阱”定律的是：

- A、当社会发生突发公共事件时，无论政府做好事还是坏事，都会被认为是坏事
- B、当公权力遭遇公信力危机时，无论政府说真话还是假话，都会被认为是假话
- C、当食品安全出现危机时，无论合格食品还是不合格食品，都会被认为是不合格食品
- D、当网络成为信息传递渠道时，无论真信息还是假信息，都会被认为是假信息

75、角色紧张是当一个人同时进行多重角色扮演时，面对各种不同的角色要求，个人在时间和精力的分配上发生矛盾，就会产生角色紧张。

根据上述定义，以下属于角色紧张的是：

- A、李四又当爹又当妈，感觉生活比较艰难
- B、张三作为成功人士，难以面对自己不成器的孩子

C、有的人莫名地对自己不信任，或者茫然无助 D、考生因准备考试不能陪女友过节，感到愧疚

76、赵本山：1+1 在什么情况下等于 3？

范伟：1+1 在什么情况下都不等于 3。

赵本山：错

高秀敏：1+1 在算错的情况下等于 3。

请问赵本山制造幽默的诡辩法手法是：

A、跳出论域，偷换概念 B、模棱两可，自相矛盾 C、错误类比，自作聪明 D、理由不足，强词夺理

77、或者被告是有罪的，或者他是疯子；如果他有罪，则他应当被处死；如果他是疯子，则他应该永远接受住院，如果证据不够有力，则被告不应该被处死。现知，证据不够有力，那么根据已知条件可以推知：

A、被告应该被处死 B、被告是有罪的 C、被告应该永远接受住院治疗 D、被告既无罪又不是疯子

78、所有狗是动物，所有猪是动物，因此所有狗是猪。以下与题干所犯的逻辑错误相同的是：

- A、所有猪都是象，有些猫是鸟，所以有些猫是象
- B、所有树都是动物，所有熊都是动物，所以所有熊都是树
- C、所有鲨鱼都是鸟，所有鸟是政治家，所有鲨鱼是政治家
- D、所有叔叔是男性，克里斯是叔叔，所以克里斯是男性

79、对绝大多数的人来说，大学是浪费时间和金钱的深渊，人们根本无须到学校里进行学习。若你钻进学校不过想的是挣钱，你真是找错了门。在收入超过 2500 美元的人们中，一半以上没大学文凭，你在大学里学得一切，在工作中不过是一张废纸，最好不要浪费你们挣到的钱，虽然你的好朋友们都想挤进大学。

以下哪个为真，能削弱以上论述：

- A、人们进入大学，目的仅在于钱，别无他图 B、许多收入甚丰的人未进过大学校门
- C、大学里一般不传授与工作相关的技能 D、很多人认为进入大学获得学识或成就更重要

80、甲乙丙三人择偶标准：

甲：只要他有钱，就嫁给他

乙：只有他有钱，才嫁给他

丙：只要他人好，就嫁给他

若一男没钱但人好，则一定不愿意嫁给他的人是：

- A、甲 B、乙 C、丙 D、甲和乙

81、想来你绝不会每天吃一勺砒霜，那我不理解你，何以还要抽烟，他们都是要你命的呀！

以下哪项为真，对上述论证的质疑力最弱：

- A、使用砒霜迅速致死，无可幸免，可是吸烟不会立刻死亡也可能有幸免
- B、吸烟时能带来很大的即时满足，这一点砒霜便无能为力
- C、食用砒霜和吸烟存在本质不同，不能通过类比推理得到结论
- D、吸烟有害健康，戒烟势在必行

82、没有规矩不成方圆。

下列选项与题干逻辑结构相同的是：

- A、不吐不快 B、骄兵必败 C、有志者事竟成 D、头发长，见识短

83、甲女生：鲍勃是个好男人，我觉得他在做他的工作，他也不找任何借口，我希望我有更多的像他一样的员工。乙女士：我不同意，鲍勃不是个好男人，他离过 4 次婚，他喝太多的酒，同时他沉溺于赌博。

以下哪项是对甲乙的争论最恰当的解释：

- A、甲说的有道理，在工作上好的男人才是好男人 B、乙说的有道理，在道德上拥有美德的男人才是好男人
- C、甲和乙说的都有各自的合理之处 D、甲和乙对好男人这一核心概念的界定不同

84、德国医生梅林和俄国明科夫斯基合作研究消化功能，他们发现在实验狗群中，切除了狗的胰脏，这类狗的尿总是会招来成群的蜜蜂，化验表明狗的尿中含有大量的糖分。由此科学家猜测胰脏可能跟糖尿病有关系。

以下各项最有力支持以上结论的是：

- A、医生用胰岛素控制糖尿病 B、胰脏具有消化功能 C、胰脏合成糖分 D、胰脏癌患者会加重糖尿病

85、一个老人告诉医生，说他的右腿疼，医生说：“这是上了年纪的缘故。”

以下最能反驳医生说法的是：

- A、老人年轻的时候右腿也疼 B、比老人年纪小的人腿也疼
C、比老人年纪大的人腿不疼 D、老人现在左腿不疼

86、某案的两名凶手在以下五人中, 经过公安部门的侦查后得知:

- ①只有甲是凶手, 乙才是凶手
②只要丁不是凶手, 丙就不是凶手
③或乙是凶手, 或丙是凶手
④丁没有成为帮凶, 就不会作案
⑤戊没有作案时间

这个案件中的凶手是:

- A、甲和乙 B、乙和丙 C、丁和戊 D、丙和丁

87、只有反腐倡廉, 才能规范官员的行为; 只有规范官员的行为, 才能维护国家的稳定。所以, 如果要想维护国家的稳定, 就必须反腐倡廉。

从以上论述可以推导出:

- A、只有反腐倡廉, 才能维护国家的稳定 B、规范官员的行为有利于反腐倡廉
C、世界上反腐倡廉的国家都比较稳定 D、维护国家的稳定, 需要反腐倡廉

88、20 世纪后期的学生经常抗议核武器, 现在的学生很少抗议核武器, 可见学生一定是没有过去那么关心政治了。

上述论证基于以下哪项假设:

- A、核武器带来的威胁越来越小
B、对核武器的抗议能够准确衡量一个群体关心政治的程度
C、现在的学生不像 20 世纪后期的学生那么关心政治
D、对核武器的抗议能够有效防止核武器带来的威胁

89、在所有成年非婚者中, 大龄单身青年是最受人们关注的一个群体。目前, 还没有确切的数字显示全国共有多少“剩男剩女”, 不过从个别城市的统计数据中, 我们不难发现数量在迅速增长。有心理学家指出, 长期独居的生活, 会使人们的社交能力逐渐退化、性情变得孤僻。因此心理学家认为, 大龄青年应尽早结束单身状态, 否则容易导致心理问题。

以下哪项如果为真, 最能削弱上述心理专家的观点:

- A、调查显示, 性情孤僻是单身的主要原因
B、独立的经济能力让大部分女性不再依附于男人生活, 因此女性在挑选伴侣时就会对外貌、性情等条件更为苛刻
C、80 后独生子女一代从小缺乏人际交往能力, 而且恐惧结婚后要承受太多东西
D、主流文化变迁、婚姻观念更新和社会稳定性等影响是导致全球出现单身潮的共同原因

90、某公司专门生产深受年轻人喜欢的高端智能手机, 产品销路一直很好, 但近段时间却出现了销售量明显下降的趋势, 以下是公司职员和经理二人对销量下降原因的分析。

公司职员: 近段时间我们公司的产品销量明显下滑, 这是由于我们生产的产品质量下降导致的。

公司经理: 产品销量下滑与产品质量没有关系, 这是由于我们的产品缺乏市场竞争力。

以下哪项如果为真, 能对公司经理的观点提出质疑:

- A、其他生产相同产品的公司均无缺乏市场竞争力之忧
B、产品质量下降导致其缺乏市场竞争力
C、高端智能手机在市场上一直处于供不应求的状态, 而不是无销路
D、公司近段时间抓产品质量, 产品质量有很大提升

五、资料分析, 共 15 题, 所给出的材料均有多个问题, 根据资料所提供的信息进行分析、比较、计算和判断处理。

(一)

2013 年 12 月下旬, 教育部、国家统计局、财政部发布 2012 年全国教育经费执行情况统计公告, 数据显示, 2012 年国家财政性教育经费 22236.23 亿元, 占 GDP 比例为 4.28%, 比上年的 3.93%增加了 0.35 个百分点, 实现了教育规划纲要提出的 4%目标。

另外, 公告还显示, 2012 年全国普通小学生均公共财政预算教育事业费增长 23.42%。其中农村增长 26.30%,

增长最快的是贵州省(47.35%)。经费上，农村增速超过全国增速，且增速最快的省份全部为中西部省份。

然而，在实现4%目标的同时，2013年5月6日湖北省洪湖市，12月28日黄冈市罗田县先后发生教师罢课，要求提高工资待遇，暴露出教育经费达标后深层次的问题。

2003-2012年全国财政性教育经费情况

年份	国家财政性教育经费 (亿元)	占GDP比重 (%)
2003	3850.62	2.84
2004	4465.86	2.79
2005	5161.08	2.79
2006	6348.36	2.93
2007	8280.21	3.12
2008	10449.63	3.33
2009	12231.09	3.59
2010	14670.07	3.65
2011	18586.70	3.93
2012	22236.23	4.28

91、2004—2012年间，国家财政性教育经费及其占GDP比重：

- A、前者不断增加、后者不断上升 B、前者不断减少、后者不断上升
C、前者不断增加、后者不断降低 D、前者不断减少、后者不断降低

92、资料显示，全国实现《教育规划纲要》提出的目标是在：

- A、2003 B、2012 C、2009 D、2011

93、2012年与2003年相比，国家财政性教育经费增长了：

- A、5.8倍 B、6.8倍 C、7.8倍 D、4.8倍

94、2012年，国家财政性教育经费增速最快的省份全部为：

- A、中东部省份 B、东北部省份 C、中西部省份 D、东部省份

95、资料数据表明：

- A、2012年全国普通小学生均公共财政预算教育事业费增速农村快于全国
B、2007年国家财政性教育经费首次突破万亿元
C、2012年全国普通小学生均公共财政预算教育事业费增长最快的是广东省
D、2012年湖北省教师罢课暴露出教育经费达标后浅层次的问题

(二)

2013年12月26日，中国社科院和社会科学文献出版社共同发布的《社会蓝皮书》显示，2012年，我国城镇居民人均可支配收入达到24565元，是1978年的11.5倍，年均增长7.4%。农村人均纯收入达到7917元，是1978年的11.8倍，年均增长7.5%。二者均为剔除价格因素影响后的数据。2013年上半年，我国城镇居民人均可支配收入达到13649.1元；农村居民人均纯收入达到4817.5元。

从各地城镇居民人均可支配收入、农村居民人均纯收入看，2012年，城镇居民和农村居民收入最高的均为上海，分别达到40188元和17804元。北京排名第二，城镇居民可支配收入为36496元，农村人均纯收入16476元。

从收入高低对比来看，2012年，我国城乡居民高收入家庭（最高20%收入家庭）人均年收入为43797.5元；低收入家庭人均年收入只有1587.7元。

根据城乡居民对2014年物价水平变化的调整数据显示，认为物价水平会有大幅度上涨的人数比重为35.5%；认为物价会平稳上涨的人数比重为48.3%；其他观点的人数比重为16.2%。

96、2012年，上海市城镇居民人均可支配收入与全国平均水平相差：

A、15613 元 B、15643 元 C、15633 元 D、15623 元

97、资料数据表明，2012 年北京城乡居民收入比：

A、1：2.21 B、3.21：1 C、2.21：1 D、1：3.21

98、2012 年我国城乡居民高收入家庭人均年收入是低收入家庭的：

A、27.6 倍 B、30.6 倍 C、29.6 倍 D、28.6 倍

99、对 2014 年物价水平变化的调查数据显示，接近一半的居民认为：

A、物价不会上涨 B、物价会涨跌起伏变化 C、物价会平稳上涨 D、物价会大幅度上涨

100、下列说法正确的是：

A、大部分居民认为 2014 年物价保持不变

B、2012 年我国城乡居民高收入家庭人均年收入与低收入家庭相差 42209.8 元

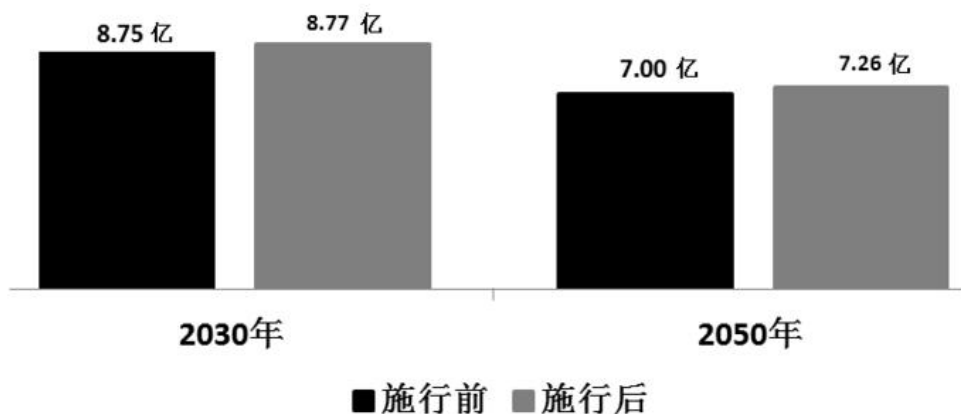
C、从各地城乡居民人均收入来看，北京高于上海，在全国排名第一

D、1978—2012 年间，我国城乡居民人均收入年均增长低于 7%

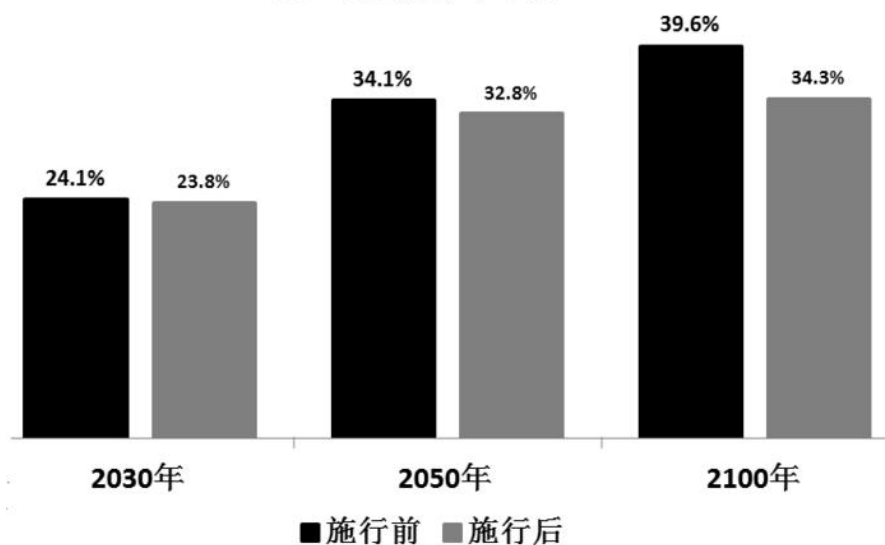
(三)

根据测算，全国城乡普遍实施“单独二胎”政策，将使总人口在 2030 年达到 14.53 亿，峰值人口增加 1500 万；2050 年，总人口下降为 13.85 亿，但比现行生育率增加约 5000 万人。“单独二胎”与现行生育政策相比，2030 年老龄化水平从 24.1%降低到 23.8%；2050 年从 34.1%降到 32.8%；直到 2074 年以后，该政策会影响老年人口数量。另外，城乡普遍推行“单独二胎”政策 15 年，劳动年龄人口规模开始增加，2030 年 15-59 岁劳动年龄人口数量从 8.75 亿升到 8.77 亿；2050 年从 7.00 亿升至 7.26 亿。

增加劳动年龄（15-59岁）人口



人口老龄化水平下降



101、图中数据显示，未来几十年我国老龄化水平：

A、保持不变 B、起伏变化 C、不断上升 D、不断下降

102、我国实施“单独二胎”政策之后，2050 年劳动人口数量将比 2030 年减少：

A、1.51 亿人 B、1.85 亿人 C、1.75 亿人 D、1.61 亿人

103、2050 年与 2030 年相比，“单独二胎”实施后老龄化水平：

A、上升 10 个百分点 B、下降 9 个百分点 C、下降 10 个百分点 D、上升 9 个百分点

104、资料表明，按现行生育率 2050 年我国总人口约为：

A、12.35 亿人 B、13.35 亿人 C、13.15 亿人 D、12.38 亿人


105、下列说法正确的是：


A、城乡普遍推行“单独二胎”政策将使总人口在接下来的 50 年逐年增加

B、资料显示，实施“单独二胎”政策，2050 年就会影响老年人口数量

C、2100 年，“单独二胎”实施后比实施前老龄化水平下降 4.3 个百分点

D、城乡普遍推行“单独二胎”政策 15 年，劳动年龄人口规模开始增加

 微信扫描二维码，关注“公务员考试挺简单”微信公众号，可获取更多公考经验。分享公考经验，还可获得现金奖励哈

 手淘扫描淘宝店铺，可以购买省考、国考历年真题哦



微信公众号



淘宝店铺