

杨柳注：本套题无解析，不建议打印。

2006年云南省考试录用公务员和机关工作人员 行政职业能力测验

（答题时限：120分钟 满分：100分）

第一部分 数量关系

（共15题，参考时限10分钟）

本部分包括两种类型的试题，均为单项选择题。

一、数字推理：共5题。给你一个数列，但其中缺少一或二项，要求你仔细观察数列的排列规律，然后从四个选项选出你认为最合理的一项来填补空缺项。

例题：1, 3, 5, 7, 9, ()

A. 7 B. 8 C. 11 D. 未给出

解答：正确答案是11。原数列是一个等差数列，公差为2，故应选C。

请开始答题：

1. 100, 50, 2, 25, ()

A. 3 B. 1 C. 2/25 D. 2/5

2. 1.01, 1.02, 1.03, (), 1.08, 1.13

A. 1.04 B. 1.05 C. 1.06 D. 1.07

3. 8, 8, 6, 2, ()

A. -4 B. 4 C. 0 D. -2

4. 4, 13, 22, 31, 45, 54, ()

A. 60, 68 B. 61, 70 C. 55, 61 D. 72, 80

5. $1\frac{1}{2}$, 2, $3\frac{2}{4}$, $5\frac{4}{8}$, ()

A. $8\frac{8}{16}$ B. $8\frac{2}{3}$ C. $8\frac{6}{12}$ D. 9

二、数学运算：共10题。你可以在草稿纸上运算，遇到难题，你可以跳过不做，待你有时间再返回来做。

例题：甲、乙两地相距42公里，A、B两人分别同时从甲乙两地步行出发，A的步行速度为3公里/小时，B的步行速度为4公里/小时，问A、B步行几小时后相遇？

A. 3 B. 4 C. 5 D. 6

解答：正确答案为D。你只要把A、B两人的步行速度相加，然后被甲、乙两地间距离相除 即可得出答案。

请开始答题：

6. $78+79+80+81+82+83+77$ 的值是()

A. 546 B. 554 C. 560 D. 568

7. 31.719×1.2798 的整数部分是()

A. 37 B. 38 C. 39 D. 40

8. 有一筐苹果，甲乙丙三人分。甲先拿了一半，乙拿了剩余的一般，丙再拿剩下的 $\frac{1}{3}$ ，筐里还剩14个苹果。问：这一筐苹果有多少个？()

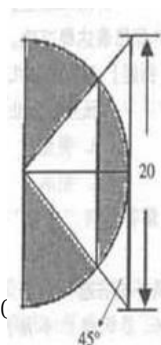
A. 56 B. 64 C. 84 D. 90

9. 全班同学去公园租了若干条船，如果减少一条船，那么每条船正好坐9人；如果增加一条船，那么每条船正好坐6人。问全班有多少人？()

A. 18 B. 26 C. 36 D. 46

10. 右边黑色部分的面积是

A. 50π B. $50(\pi-2)$ C. $50(1-\pi)$ D. $50(\pi-1)$



11. 某企业发奖金是根据利润提成的。利润低于或等于10万元时可提成10%，高于10万

元的按 7.5%提成；高于 20 万元时，高于 20 万元的部分按 5%提成。当利润为 40 万元时，应发放奖金多少万元？（ ）

- A. 2 B. 2.75 C. 3 D. 4.5
12. 某工厂今年生产了 1200 台机器，去年比今年少生产 $\frac{1}{5}$ ，该厂去年的产量为（ ）。
- A. 960 台 B. 1000 台 C. 1500 台 D. 1440 台
13. 某商工厂生产了 A、B、C 三种零件 500 个，其数量比为 1:2:2，分三次验收。第一次验收全部零件的 $\frac{2}{5}$ ，要求三种零件都要有，且数量的比例保持不变。问第一次验收多少个 B 种零件？（ ）
- A. 40 B. 60 C. 80 D. 100
14. 将进货单价为 90 元的某商品按 100 元一个出售，能卖出 500 个，已知这种商品如果每个涨价 1 元，其销售量就会减少 10 个，为了获得最大利润，售价应定为（ ）。
- A. 110 元/个 B. 120 元/个 C. 130 元/个 D. 150 元/个
15. 有一只木桶，上方有两个水管，单独打开第一个，20 分钟可装满木桶；单独打开第二个，10 分钟可装满木桶。木桶底部有一小孔，水可以从孔中流出，一满桶水用 40 分钟流完。若同时打开两个水管，水从小孔中也同时流出，经过多长时间木桶才能装满水？（ ）。
- A. 10 分钟 B. 9 分钟 C. 8 分钟 D. 12 分钟
- A. 12 B. 6 C. 8 D. 10

第一部分结束，请继续做第二部分！

第二部分 言语理解与表达

（共 25 题，参考时限 25 分钟）

一、选词填空（16~25题）：根据题意。从所给的词语中选出最恰当的词语填入空格内。从而使句子的意思表达得最准确：

请开始答题：

16. 苏轼擅长书法，他取法颜真卿，但能____，与蔡襄、黄庭坚、米芾并称宋代四大家。（ ）。
- A. 别具一格 B. 独树一帜 C. 匠心独运 D. 不落窠臼
17. 依次填入下列各句中横线处的词语，恰当的一组是（ ）。
- ①本人不慎在 10 路公交车上丢失黑色公文包一个，有拾到并归还本人者，本人愿付 500 元酬谢，绝不____。
- ②经过长达半年多的努力，我国已经基本完成 SARS 疫苗临床前的研究，即将进入临床____阶段。
- A. 失言 试验 B. 失言 实验 C. 食言 试验 D. 失言 实验
18. 借鉴国外现代化管理经验，是发展智力经济，开发本国智力资源的有效____。（ ）
- A. 途经 B. 方法 C. 方式 D. 手段
19. 对别人文章的理解必须全面，____很可能歪曲本意。（ ）
- A. 生吞活剥 B. 囫囵吞枣 C. 牵强附会 D. 断章取义
20. 中国传统文化中以人为本的精神，____人们要尊重人的价值和尊严，努力在现实生活中去发现人和实现人的价值。（ ）
- A. 鼓励 B. 激励 C. 倡导 D. 鼓动
21. 他将这次检测结果在全市____，____批评某些单位顶风购买豪华进口小汽车，庆典活动发送礼金等问题。（ ）
- A. 通知 严肃 B. 通报 严厉 C. 报告 严正 D. 通告 严格
22. 任何组织和个人不得____未成年人的个人隐私。（ ）
- A. 披露 B. 泄露 C. 暴露 D. 揭露
23. 原始社会许多的____已被考古工作者发现并存放在博物馆内加以精心保护，以便今后研究。（ ）
- A. 文物 B. 遗址 C. 遗迹 D. 遗物
24. 海上升明月，天涯共此时。古往今来，写明月和相思的诗文可谓____，我却独爱此两句。（ ）
- A. 多如牛毛 B. 难以忘却 C. 盈篇满籍 D. 罄竹难书
25. 人与人之间的相处，彼此需要有一些空间，有时太过亲近，不小心失了____，口无遮拦，就会造成彼此的紧张和伤害。（ ）
- A. 氛围 B. 空间 C. 分寸 D. 和气

二、语句表达（26~35题）：从词语运用、语法结构等方面对给出的语句作出判断。

26. 下列各句中，没有语病的一句是。（ ）
- A. 环保产业的发展问题，目前中国社会各界正引起广泛的关注
- B. 环保产业的发展问题，已引起中国社会各界目前广泛的关注
- C. 环保产业的发展问题，目前已引起中国社会各界广泛的关注
- D. 环保产业的发展问题，目前正引起中国社会各界广泛的关注

27. 下这是一个秋季的薄阴的天气，_____。岩面与草丛都从润湿中透出几分油油的绿意，而瀑布也似乎分外的响了。填入上面横线上最恰当的一项是（ ）
- A. 厚厚的云在我们顶上罩着
B. 层层云在我们顶上浮着
C. 薄薄的云在我们顶上压着
D. 微微的云在我们顶上流着
28. _____？不利于他人的话不说，不利于他人的事不做；要平等待人，不高傲自大，不盛气凌人；对人要有礼貌，说话不粗鲁，不带脏字，等等。填到横线上最恰当的一项是（ ）
- A. 一个人能同他人相处的好吗
B. 一个人应该怎样同他人相处呢
C. 薄薄的云在我们顶上压着
D. 微微的云在我们顶上流着
29. 孔子说：“知之者不如好之者，好之者不如乐之者。”_____，正是他们把求知当成人乐事，才这样乐此不疲，乐而忘返。文章中横线上应填入的三句话，顺序合理的一项是（ ）
- ①这与其说是“苦”，倒不如说是“乐”
②许多学业上有成就的人，刻苦读书往往到了废寝忘食的地步
③只有感到读书的乐趣，才能乐于勤奋学习
- A. ①②③ B. ②①③ C. ②③① D. ③②①
30. 下列各句中，没有语病的一句是（ ）
- A. 对于滥用方言词的做法是应该受到批评的
B. 在进一步深化改革时，各个单位要建立健全必要的规章制度的工作
C. 重视和发展教育，是关系到我国能否屹立世界的大问题
D. 经过一段时间的艰苦学习，他的成绩有了很大的提高
31. 下列各句中，没有语病的一句是（ ）
- A. 他的爷爷健在，享年 84 岁
B. 不管天气发生怎样的变化，他都要去上课
C. 一个科学家只有有了锲而不舍的精神，你才能获得成功
D. 最近本市有人明目张胆的仿造伪劣产品
32. 以下各项中，两个短语在理解上都不会产生歧义的一项是（ ）
- A. 母亲的回忆 这件事我说不好
B. 头发剪短了 录取新生的工作
C. 有暴风雪的预报 他的笑话说不完
D. 他的老师教得好 一篇评论鲁迅的文章
33. 下列各句中，没有语病，句意明确的一句是（ ）
- A. 县里的通知说，赵乡长务必在本月 15 前去汇报工作
B. 睡眠三忌：一忌睡前不可恼怒，二忌睡前不可饱食，一忌卧处不可当风
C. 文件对经济领域中的一些问题，从理论上和政策上作了详细的规定和深刻的说明
D. 一个好的比喻，或为形似，或为神似，或为形神兼似，总是离不开相似这一根本特点
34. 对下列复句第一层的划分正确的是（ ）
- ①在社会斗争中，代表先进阶级的实力，有时候有些失败②并不是因为思想不正确
③而是因为在斗争力量的对比上，先进势力这一方，暂时还不如反动势力那一方
④所以暂时失败⑤但是以后总有一天会成功的
- A. ①/②③④⑤（因果）
B. ①②③/④⑤（因果）
C. ①②/③④⑤（转折）
D. ①②③④/⑤（转折）
35. 下列各句中，有语病的一句是（ ）
- A. 袁枚的晚年，仍然精力充沛，充满创作激情，留下了许多脍炙人口的作品
B. 身高体胖曾经是财富和健康的象征，但现在人们已经明白，人不是越高越好，肥胖更会影响健康
C. 中国速度滑冰队出征世界锦标赛，勇夺三金，已于昨晚凯旋，在首都机场受到热烈欢迎
D. 我国反对那些不按照国际有关公约规定办事，而自充国际警察，危害别国航行安全的霸权主义行为
- 三、言语理解(共 10 题)。每道题包含一段短文，后面是一个不完整的陈述，要求你从四个选项中选出一个来完成陈述。注意：答案可能是完成对所给文字主要意思的提要，也可能是满足陈述中其他方面的要求，你的选择应与所提要求最相符合。
36. 一位哲人这样解释乐观与悲观：譬如面对着桌子上的半杯水，乐观主义者说这个杯子的一半是满的，悲观主义者说这个杯子的一半是空的。显然，_____，使我们在任何时候、任何条件下都不会失去信心和追求。一旦遇

到困难, 我们黯淡的心情也能够很快豁然开朗, 从种种苦恼中自我解脱。填入划线上最恰当的是:

- A. 人与人的观察角度和思维方式是不同的
- B. 观察事物时善于选择生活中积极的一面
- C. 乐观主义比悲观主义更有利于人类进步
- D. 这两种理解有其合理性也有一些片面性

37. 做一件事, 往往有利也有弊, 只有利而无弊的事情几乎是没的。《淮南子·人间训》云: “众人皆知利利而病病, 唯圣人知病之为利, 利之为病也。” 看来古人已经注意到利弊的辩证关系。

下列符合文意的是()。

- A. 现实生活中的事情都由利与弊组成
- B. 要善于分析, 争取做到利大于弊
- C. 利与弊不是绝对的, 是可以转化的
- D. 我们应当努力争取做到有利无弊

38. 招标投标是买卖双方为成交某项大宗商品而自由交易的行为, 在建筑业中指发包单位(业主)为建造某项工程与承包单位通过对比达成营造协议的一种方式。这段话主要支持了这样一个论点, 即: ()。

- A. 介绍了什么是招标投标
- B. 招标投标有哪些形式
- C. 什么是建筑业的招标投标
- D. 招标投标的程序

39. 1993 年以来, 全世界至少上百个国家程度不同地开展了反腐败运动。它们采取了健全各项法律制度、强化舆论和行政监督, 加强对官员职业道德教育等措施。有些国家还设立了专门的反贪机构。国际上还建有全球性的廉政组织, 联手反贪防腐。

这段话直接支持了这样一个论点, 即: ()。

- A. 贪污腐败是一种国际化现象
- B. 近年来, 各国加大了反贪反腐的力度
- C. 反贪防腐是各国政治的主要课题
- D. 近年来, 贪污腐败现象在各国得到了抑制

40. 现在有一种误解, 就是许多人都以为自然科学的用处只在增进物质上的文明, 而和人类的精神文明没有关系。事实上, 我们的物质生活, 固然要自然科学知识, 我们的精神生活也一样需要自然科学知识。

这段话的中心意思是: ()。

- A. 说明两个文明建设的相互关系
- B. 纠正人们对自然科学的片面理解
- C. 说明自然科学对精神文明建设具有重要的作用
- D. 说明我们的精神生活需要自然科学的知识

阅读以下文言文, 回答 41-42 题。

王右军(羲之)年减(不及)十岁时, 大将军甚爱之, 恒置帐中眠。大将军尝先出, 右军犹未起。须臾, 钱凤入, 屏人论事, 都忘右军在帐中, 便言逆节之谋。右军觉, 既闻所论, 知无活理, 乃剔吐污头面被褥, 诈孰眠。敦论事造半, 方意右军未起, 相与大惊曰: “不得不除之!” 及开帐, 乃见吐唾从横, 信其实孰眠, 于是得全。于时称其有智。

41. 将文中“屏人论事”翻译成现代文, 最准确的一项是 ()

- A. (两人)在屏风后商量事情
- B. (钱凤)在屏风后想事情
- C. (两人)屏退其他人讨论大事
- D. (钱凤)屏退其他人想事情

42. “右军觉, 既闻所论, 知无活理”翻译成现代文, 最准确的一项是()

- A. 王羲之睡觉醒来, 听到他们商量的事情以后, 知道自己必定没有活下去的道理
- B. 王羲之睡觉醒来, 听到他们商量的事情以后, 心想他们所谋之事不可能成功
- C. 王羲之睡觉醒来, 听了他们讨论的事情后, 认为他们的谈论没有道理
- D. 王羲之睡觉醒来, 听了他们讨论的事情后, 就知道他们活不了多久了

阅读下列文字, 完成 112-115 题:

线性和非线性本来是数学名词。所谓线性是指量与量之间的正比关系, 用直角坐标形象地画出来, 是一根直线。在线性系统中, 部分之和等于整体, 描述线性系统的方程遵从叠加原理, 即方程的不同解加起来仍然是解。非线性则指整体不等于部分之和, 叠加原理失效, 非线性方程的两个解之和不再是方程的解。对于处理线性问题, 已经有一套行之有效的方法, 例如傅里叶变换, 拉普拉斯变换等等。然而对于非线性问题, 长期以来科学家往往束手无策, 只能具体问题具体分析, 无统一方法可循。

线性和非线性物理现象的区分一般有以下三个特征。首先从运动形式上有定性区别, 线性现象一般表现为时空中的平滑运动, 并可用性能良好的函数表示。而非线性现象则表现为从规则运动向不规则运动的转化和跃变。其次, 从系统对外界影响和系统参量微小变动的响应上看, 线性系统的响应平缓, 光滑, 往往表现为对外界影响成比例的变化。而非线性系统中参量的极微小变化, 在一些关节点上, 可以引起系统运动形式的定性改变, 在对

外界激励的响应上，则表现为出现与外界激励有本质区别的行为，比如周期驱动的非线性振动系统可以出现驱动频率的分频，倍频形式的运动，而不仅仅是重复外界频率。第三，反映在连续介质中的波动上，线性行为表现为色散引起的波包弥散，结构的消失，而非线性作用却可以促使空间规整性结构的形成和维持，如孤子，涡旋，突变面等等。自然界大量存在的相互作用是非线性的，线性作用其实只不过是线性作用在一定条件下的近似。

43. 对“线性”描述不恰当的一项是：

- A. 线性在直角坐标系中表现为一根直线
- B. 线性是非线性在一定条件下的特例
- C. 人们通过傅里叶变换，拉普拉斯变换等方法来解决线性问题
- D. 线性作用在自然界中极其少见

44. 分析有误的一项是：

- A. 线性和非线性是数学概念借用到物理现象上
- B. 叠加原理不能应用于非线性方程
- C. 傅里叶变换，拉普拉斯变换都是数学方法
- D. 非线性现象是线性现象的进一步变化和发展

45. 下列描述符合原文意思的是：

- A. 非线性系统中参量极微小变化，往往表现为对外界影响成比例变化
- B. 线性行为可以促使空间规整性结构形成和维持，而非线性却表现为色散引起的波包弥散，结构的消失
- C. 线性现象一般表现为时空中的平滑运动，非线性现象表现为从规则运动向不规则运动的转化和跃变
- D. 针对一些特殊的非线性作用，我们可以参照傅里叶变换、拉普拉斯变换等来进行处理

第二部分结束，请继续做第三部分！

第三部分 判断推理

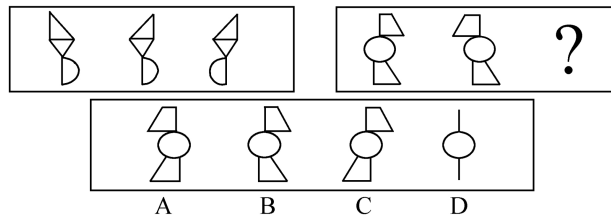
（共 45 题，参考时限 40 分钟）

本部分包括四种类型的试题，均为单项选择题。

一、图形推理：共 10 题

（一）每道题包含两套图形和可供选择的 4 个图形。这两套图形具有某种相似性，也存在某种差异。要求你从四个选项中选择你认为最适合的一个来取代问号。正确的答案应不仅使两套图形表现出最大的相似性，而且使第二套图形也表现出自己的特征。

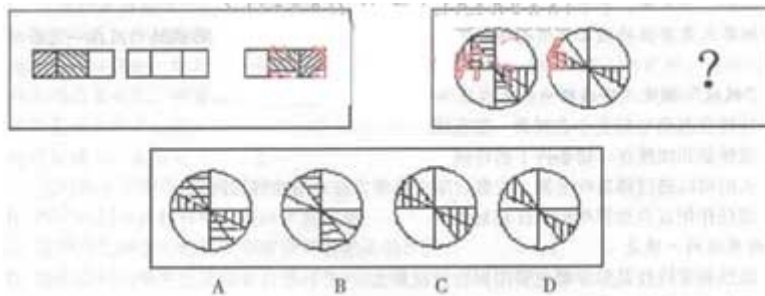
例题：



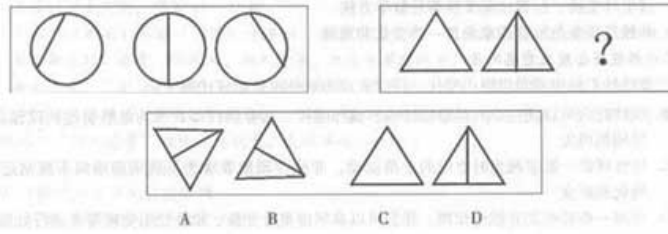
解答：第一套图中，图形的渐变规律为：先是菱形转向，再是半圆转向。结合第二套图的变化趋势，我们发现只有 A 项符合第二套图形的要求，故 A 项正确。

请开始答题：

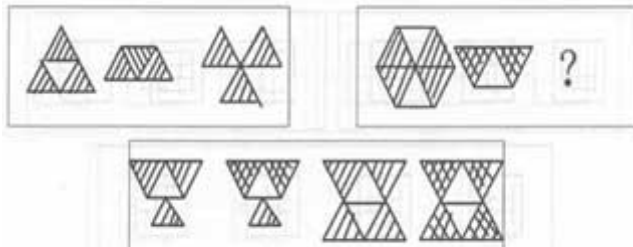
46.



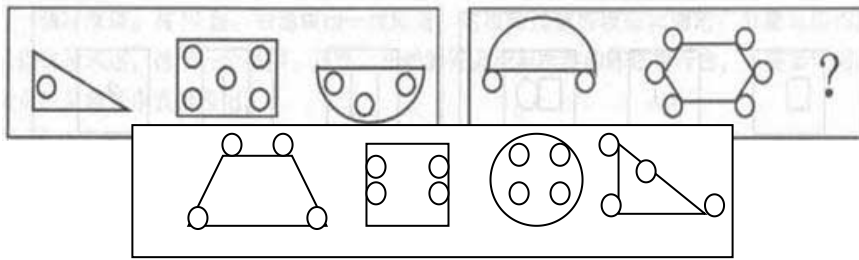
47.



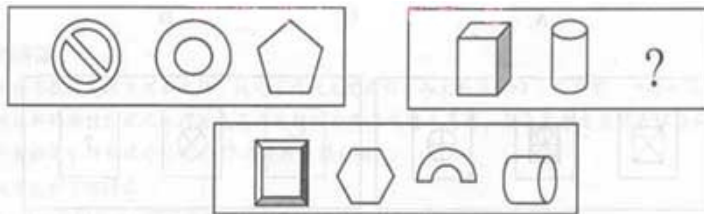
48.



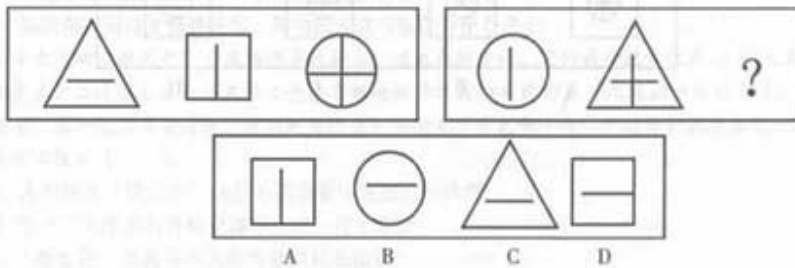
49.



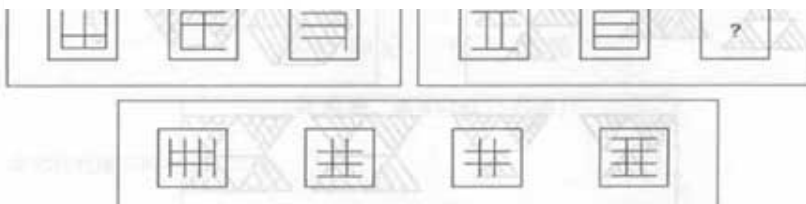
50.



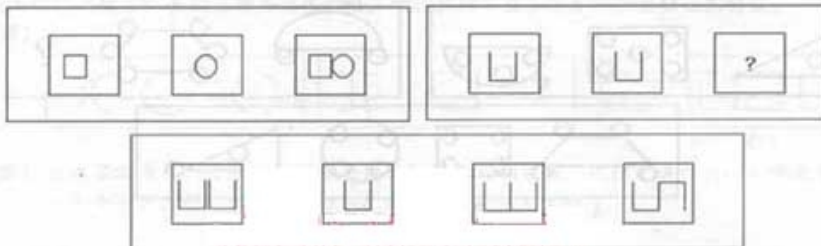
51.



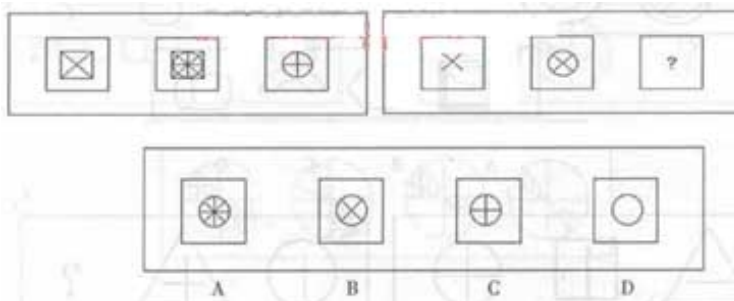
52.



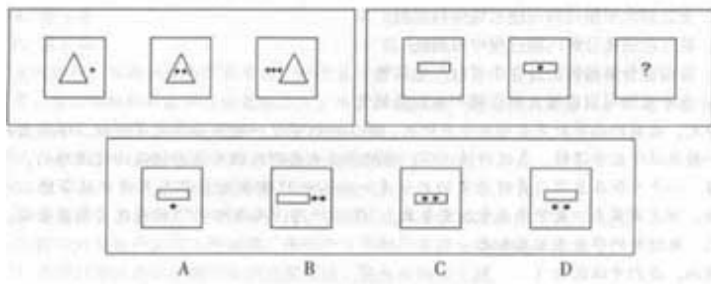
53.



54.



55.



二、演绎推理：共 10 题，每题给出一段陈述，这段陈述被假设是正确的，不容置疑的。要求你根据这段陈述，选出一个答案。注意：正确答案与所给的陈述相符合，不需要任何附加说明即可以从陈述中直接推出。

【例题】某厂有五种产品：甲、乙、丙、丁、戊。它们的年销售额之间的关系为：丙没有丁高，甲没有乙高，戊比丁高，而乙不如丙高。

请问，哪种产品的年销售额最高?()

- A. 甲 B. 乙 C. 丁 D. 戊

【解答】从所给条件可以知道：戊>丁>丙>乙>甲。因此，正确答案为 D。

请开始答题：

56. 哥伦布航海发现美洲新大陆，促进了近代历史进程。而大约在距今 5 万年前，一些生活在亚洲北部的游猎民族从冰河时代海水冻结的白令海峡进入美洲。最近有学者宣称有证据表明，明朝航海家郑和比哥伦布早 72 年发现美洲大陆。从中我们可以得出()。

- A. 哥伦布的发现在亚洲游牧民族之后，意义不大
 B. 郑和到达美洲即使得到证实，意义也比不上哥伦布
 C. 上述学者试图推翻亚洲游牧民族首先到达美洲的历史
 D. 如果郑和到过美洲被证实，郑和的成就可能在哥伦布之上

57. 瑞士生产的“斯瓦奇”手表为许多收藏家、投机商所青睐。它的售价通常仅为 40 美元左右，但是其产品设计大多出自名家之手，有时还被设计成怪异的形象，表现出十足的个性。“斯瓦奇”表一般上市量有限，特别是为促销或纪念某个历史事件而生产的特制表数量更少。由此可以推出()。

- A. 人们购买“斯瓦奇”表并不都是看中它的计时功能
 B. 生产厂家把表的价格定得不合理，过于廉价
 C. “斯瓦奇”表被许多人作为珍贵礼品赠送
 D. 设计最怪异、又只有唯一一块的“斯瓦奇”表售价一定最高

58. 任何一片水域，是否能保持生机，主要取决于它是否有能力保持一定量的溶解于其中的氧气。如果倒进水中的只是少量的污物，鱼类一般不会受到影响，水中的细菌仍能发挥作用，分解污物，因为该片水域能从空气和水中植物那里很快使氧气的消耗得到恢复。据此可知()。

- A. 充足的水中植物即可使水域保持生机
 B. 氧气在细菌分解污物过程中被消耗
 C. 细菌在分解污物的过程中可以产生氧气
 D. 水中植物可以通过分解污物产生新的氧气

59. 今天，我国的高等教育是相当专业化的。学工程的学生一般不必学文学课程，学历史的学生一般不必学数学课程。在这种情况下，学校毕业生要想改换专业应该还是比较困难的。根据常理，一个单位在录用人员时看重的应该是一个人的所学专业是否与其将要从事的工作相符合。但是事实上，大学毕业生改变专业，“学非所用，用非所学”的情况又相当普遍。一些农、林院校的毕业生尤其如此。

据此，我们可以认为()。

- A. 我国高等教育结构存在着较明显的问题
 B. 高等学校的毕业生具有相当强的适应能力
 C. 不少单位在选人进人时并不太看重候选人所学专业是否对口
 D. 过度专业化的教育不利于学生发展广泛的兴趣和培养一般的适应能力

60. 一群孩子在争论今天是星期几。甲说：今天不是星期日；乙说：今天是星期五；丙说：前天是星期六；丁说：昨天是星期二；戊说：今天是星期二；己说：今天不是星期一，也不是星期二，更不是星期三。事实上他们中只有一人讲对了。

问今天是星期几?()

- A. 星期二 B. 星期四 C. 星期六 D. 星期日

61. 上次引进的国外大片《达·芬奇密码》在东海市仅仅上映一周，各影院的总票房以《海神号》应该能突破 1000 万元的票房。上述推断中，作者最可能隐含了以下哪项假设?()

- A. 运用大量电脑特技的灾难片《海神号》的票房号召力令人期待
B. 《达·芬奇密码》的上映时间短，预计很多来不及看《达·芬奇密码》的观众，会通过看《海神号》得到心理补偿，因为它们都是精彩的大片
C. 两部片子都是精品，预计每天的票价和上座率都差不多
D. 最近东海市的许多影院更新了设备，音响效果比以前有很大的改善

62. “因为未成年人不应该吸烟，因此拟议中的禁止向未成年人销售香烟的法律是合理的，然而拟议中的对自动售烟机的禁令就如同为捉拿 500 个中才有一个的没有驾照开车的人而设置路障一样。路障阻止了每个人，而不仅是那些违法的人”。

根据以上短文，我们可以推断作者认为()。

- A. 禁止向未成年人销售香烟的法律将不会有实际效果
B. 售烟机禁令的实施，对阻止未成年人吸烟毫无作用
C. 警方应加强对无照驾驶者的查处
D. 禁止设置自动售烟机会给许多想购买香烟的成年人带来不便

63. 有 12 本书从左到右依次放在一书架上。其中四本是小的平装本，两本是大的平装本，三本是布面装订本，三本是皮革面装订本。已知第一本是大的平装本，第四本是皮革面装订本，三本布面装订本彼此不相邻，三本皮革面装订本放在一起，四本小的平装本也放在一起且在最右边。

问下列哪一本肯定是大的平装本?()

- A. 第 3 本 B. 第 6 本 C. 第 7 本 D. 第 8 本

64. 有网民称，不断加税和提高首付，对于真正想买房用于自己居住的普通民众，无异于雪上加霜。贷款限制的对象不应该是购房人，而应该是房地产公司。只要房地产公司不能轻易贷到款，缺钱，他们才会急于出房，房价才会下降。

以下最可能为该网民认为房价过高的一个直接原因是()。

- A. 想买房用于自己居住的普通民众越来越多
B. 房地产公司控制着绝大部分现房，人为造成供不应求现象，以使房价上升
C. 政府对房地产公司不断加税，房地产公司则把这部分税转到房价上
D. 长期以来政府对房地产业的过度支持，使房价持续上涨

65. 某著名经济学家说，市场经济是一种开放经济，中国肯百折不回地争取入世，从根本上讲是国内市场化改革导致的必然抉择。中国许多问题的解决都得靠外力的推动。从更深层的层面来看，WTO 是中国加入的最后一个重要国际组织，这是中国自立于世界民族之林的最后一次重大外交行动，也是全面重返国际舞台的显著标志和强烈信号。所以有人曾指出，入世的政治意义大于经济意义。

依据上文，不能推出的结论是()。

- A. 加入 WTO 后，中国已经全面重返国际舞台
B. 加入 WTO 后，中国已加入了所有重要的国际组织
C. 加入 WTO 后，中国的政治发展将快于经济发展
D. 中国若没有国内市场化改革，难以取得加入 WTO 的成果

二、定义判断：共 15 题，每道题先给出一个概念的定义，然后分别列出四种行为，要求你严格依据定义从中先出一个最符合或最不符合该定义的答案。注意：假设这个定义是正确的，不容置疑的。

根据以上的定义，下面哪种行为是典型的谋杀?()

- A. 于力清与妻子发生争吵，打了她一巴掌，为的是不让她再哭，不巧将她打倒，她在倒下时，头碰在地板上，后来由于头部受伤而死亡
B. 一位老人得了一种绝症，不能忍受痛苦，请求护士给他服用致死剂量的安眠药，这个护士非常同情老人，就给了他，结果老人死亡
C. 曾宪以每小时 25 公里的速度在拥挤的公路上驾车行驶，没留神，他失去了对汽车的控制，撞上另外一辆汽车并引起爆炸，结果同车赵某死亡
D. 汤啸，动物园管理员，正在动物园打扫老虎的笼子，打扫完后，他忘了锁门就离去，结果虎从笼子里跑出来，咬死了一个游客

【解答】严格依据定义进行衡量，此题的正确答案为 B。

请开始答题：

66. 消化不良：长期的饮食不规律，爱吃刺激性食物，或者暴饮暴食，而导致的腹部不适的症状。

请判断以下哪项不是消化不良的表现()。

- A. 赵梁是公司经理，经常要晚上八九点钟陪客户吃饭，每次回到家已经很晚，躺在床上肚子胀的翻来覆去睡不着，影响了睡眠
B. 小张是 IT 公司白领职员，平时工作非常紧张，常常熬夜，饮食很不规律，半夜睡觉前很饿，会吃些高热量的快餐食品，长期这样不知不觉小张变胖了

C. 特别爱吃四川麻辣火锅的高扬最近好几天没来上班了，同事们一问才知道，高扬前几天和朋友聚会，又吃了很多辣椒，出现了肚子剧烈疼痛，现在在医院休养

D. 老周一一直习惯于喝浓茶、吸烟，有时候会出现胃部反酸的情况

67. 信息产业：是指国民经济活动中与信息产品和信息服务的生产、流通、分配、消费直接有关的相关产业的群体。

根据以上的定义，下面哪种不是信息产业?()

- A. 某公司经营各种软件、耗材等相关产品
- B. 某公司根据国家信息化进程的发展，面向社会有偿培训企业信息管理师
- C. 某部门根据经济发展的需要，为社会提供免费咨询服务，促进信息化的发展
- D. 某公司生产主板、内存等电脑散件

68. 公共支出：政府公共部门在实施政府职能或从事经济活动等过程中，所消耗的一切费用的总和。

根据以上定义，下列不属于公共支出的是()。

- A. 援助印度洋海啸灾区人民的社会捐助资金
- B. 某县政府为修筑农村公路所拨付的资金
- C. 政府对年老、患病、残疾、失业的劳动者提供的补助
- D. 政府支付给公务员的工资及办公费、差旅费等

69. 工资：作为劳动报酬而付给劳动者的货币或实物。根据以上定义，下列哪个不属于工资?()

- A. 某农民工给老孙家搬了两车杂物，老孙给他 50 元钱
- B. 大学生小张在“麦当劳”打工，老板按每小时 10 元的标准付他报酬
- C. 某国有企业改革后，企业按每月 200 元的标准给待岗职工发生活补贴
- D. 由于这个月保姆帮家里做了额外的工作，主人给她买了一套衣服作为报酬

70. 抢劫：指以非法占有为目的，当场使用暴力、胁迫强行劫取公、私财物的行为。

根据以上定义，下面哪种行为是抢劫?()

- A. 甲在逛商场时，看中了一件价值 2000 元的皮大衣，但身上钱不够，就在售货员刚想把皮大衣放回架上时，甲突然喊：“你看那边!”售货员扭头去看，甲抢过售货员手中的大衣逃遁
- B. 一女店主在收摊后正清点当日营业额，突然一个歹徒手持匕首闯进来，让她把手中的钱给他，女店主无奈，只好顺从，将当日所赚 3000 元给他
- C. 刘某和张某夜晚潜入某家公司，点燃一间仓库引开看门人，而后撬开办公室保险柜，拿走了 10 万元人民币
- D. 某中学生因家里不给钱买游戏机，就给一邻居写了一封匿名信，信中说让他们将 1000 元人民币放在他指定的地方，如果不给或者报警，就杀死他家的孩子

71. 反诉：是指在已经开始的民事诉讼中，被告向审判机关提出的旨在使原诉被撤销或失去作用的请求。反诉中的被告即是本诉的原告，反诉最迟应在本诉判决之前提起。反诉只能向审理本诉的审判机关提起，反诉与本诉的诉讼标的或诉讼请求应当具有牵连的关系。

根据上述定义，下面哪种情况属于反诉?()

- A. 两人因为民事纠纷诉诸法律，法庭作出一审判决，被告胜诉，原告不服，于是又向高一级的人民法院提出了诉讼请求
- B. 一个无业游民有一次私闯别人住宅被人以入室行窃罪告上法庭。但是在他进入主人房间时发现了主人有重大的杀人嫌疑，于是他以谋杀罪对该主人进行起诉
- C. 一工厂经理因挪用公款被会计发现，因怕他会告发，于是恶人先告状，以渎职罪等罪名对会计进行起诉
- D. 广东两家公司发生经济纠纷，卖方因为买方拒不履行合同，交付全部货款对卖方进行起诉。在审理中，买方认为因为是卖方货物质量太差造成的，买方理由充分，因而对被告进行起诉，以讨个说法

72. 倾销：是指企业在国外出售商品的价格低于国内市场的价格或低于生产成本。

根据这一定义，下列行为不属于倾销的是()。

- A. 某国以低于产品正常价值的价格向他国销售新闻纸
- B. 某企业在国内有较高的垄断地位和较大的市场份额，但质量不如国外同类产品，为了抢占国际市场，该企业以低于成本价的价格在他国销售
- C. 某国软件公司为了获得他国政府采购的订单，与他国同类软件竞争，以低于该产品在本国的销售价格投标
- D. 某地为著名的蔬菜生产基地，由于采用先进的科学技术和规模化经营，其生产的蔬菜价格远远低于国外同类产品的价格

73. 职务侵占罪：是指公司、企业或者其他单位的人员，利用职务上的便利，将本单位财物非法占为己有，数额较大的行为。

下列行为属于职务侵占罪的是()。

- A. 王某是出租车司机，将乘客遗失在他车上价值 5000 元的物品占为己有
- B. 刘某是某建筑公司一工地的材料工人，负责工地模板等物品的调拨，几次私自将公司的建筑模板卖给一个过路的车主，共卖了 2 万元

C. 刘某是单位的保管员，一天他趁其他同事不注意的时候，将一个 200 元的录音机拿回家给儿子用

D. 赵某是一大钢铁公司的会计师，为了增加公司的利润私自做假账，使公司偷税高达 200 万余元

74. 行政处分：是指国家机关、企事业单位依照法律或规定赋予的权限，根据法律或有关规章制度，按照行政隶属关系，给予违反规章制度或犯有轻微失职行为尚不够刑事处分者的一种制裁。

下列不属于行政处分的是()。

A. 因贪污而被开除公职

B. 工作失职而被给予党内警告

C. 因流氓行为被公安机关处以罚款

D. 因工作不称职而被强制辞退

75. 错觉：是指人在特定的条件下对客观事物产生的某种受到歪曲的知觉。

请问下面哪一项属于错觉?()

A. 饮鸩止渴

B. 望尘而拜

C. 草木皆兵

D. 无风起浪

第四部分 常识判断

(共 40 题，参考时限 20 分钟)

常识部分涵盖法律、政治、经济、管理、人文、科技等方面，考查考生在这些方面应知应会的基本知识以及运用基本知识分析判断的基本能力。根据题目要求，在四个选项中选出一个正确答案。

【例题】下列属于地方性法规的是()。

A. ××省人大常委会通过的《××省人才市场管理暂行条例》

B. ××省人事厅颁布的《××省人才流动管理暂行办法》

C. ××省人民政府制定的《××省城市供水管理办法》

D. ××省人事厅转发人事部制定的《公务员录用面试考官管理暂行办法》

【解答】根据《中华人民共和国立法法》第六十三条“省、自治区、直辖市的人民代表大会及其常务委员会根据本行政区域的具体情况和实际需要，在不同宪法、法律、行政法规相抵触的前提下，可以制定地方性法规。较大的市的人民代表大会及其常务委员会根据本市的具体情况和实际需要，在不同宪法、法律、行政法规和本省、自治区的地方性法规相抵触的前提下，可以制定地方性法规，报省、自治区的人民代表大会常务委员会批准后施行”的规定，正确答案为 A。

请开始答题：

76. 对于科学工作者来说，诺贝尔奖是一项崇高的荣誉。

关于它的说法，下列哪一项是不准确的?()

A. 诺贝尔奖是根据瑞典化学家诺贝尔的遗嘱设立的

B. 诺贝尔经济学奖是后增设的

C. 诺贝尔奖的评定由瑞典有关机构负责

D. 诺贝尔奖中没有设立数学奖

77. 苹果皮中会包含少量的杀虫剂的剩余物。然而，我们吃苹果之前不应该剥皮，因为苹果皮里面有一种维生素，这种维生素在其他水果里面含量很少。

下面哪一项最能破坏上述结论?()

A. 苹果皮中的杀虫剂剩余物不能被洗掉

B. 苹果皮中的维生素不能被人体消化吸收

C. 吸收苹果皮中的杀虫剂剩余物对人体的危害超过了吸收苹果皮中的维生素对人体的益处

D. 苹果皮上的杀虫剂剩余物的数量太少，不会给人体带来危害

78. 地球南北极上空，经常出现极光，下列关于极光成因的正确说法是()。

A. 在地球南北两极，磁场活动异常活跃，磁场与大气层中的气体发生作用，形成了色彩艳丽的极光

B. 地球南北两极气流活动活跃。气流与太阳光交互作用，摩擦放电，形成了极光

C. 来自太阳的高能粒子，在地磁作用下，聚集到南北两极，并且与大气层中的粒子碰撞产生了极光

D. 南北两极大气层比其他地区厚，折射太阳光线的能力很强，照射到南北极区的光线大部分被折射回去，形成了极光

79. 在寒冷的冬天，可以看到户外的人不断呼出“白气”，这属于下列哪一种现象?()

A. 汽化

B. 升华

C. 凝华

D. 液化

80. 电脑的输入设备就是电脑从外界获取信息的设备。我们通过输入设备向电脑发命令、输入资料。

在下列设备中不属于电脑输入设备的一项是()。

A. 键盘和鼠标

B. 扫描仪

C. 数码相机

D. 打印机

81. 生命科学中“克隆”(CLONE)一词的含义是()。

- A. 生物个体的再生
B. 生物个体的无性繁殖
C. 繁殖出的生物个体没有性别
D. 生物个体的细胞移植
82. 冬天大规模袭击我国的寒潮大都来自西伯利亚。西伯利亚成为寒潮生成地的最不可能的原因是()。
A. 西伯利亚靠近北冰洋
B. 西伯利亚纬度高，日照很弱
C. 西伯利亚地势很高
D. 西伯利亚冬季很长
83. 植树造林不能缓解的环境问题是()。
A. 温室效应 B. 臭氧层破坏 C. 洪涝灾害 D. 土地荒漠化
84. 孔子论述通过磨炼和考验来提高自身修养的一段话是()。
A. 岁寒，然后知松柏之后凋也
B. 无求生以害仁，有杀身以成仁
C. 择其善者而从之，其不善者而改之
D. 其身正，不令而行；其身不正，虽令不从
85. 郑和下西洋的西洋指的是()。
A. 大西洋 B. 欧洲 C. 西亚和南亚 D. 美洲
86. 联合国安理会常任理事国进行决策的规则是()。
A. 简单多数规则 B. 绝对多数规则 C. 加权多数规则 D. 全体一致规则
87. 理性认识高于感性认识，因为()。
A. 理性认识可靠，感性认识不可靠
B. 理性认识是对事物本质的把握，感性认识是对事物现象的认识
C. 理性认识是绝对的，感性认识是相对的
D. 理性认识是与经验无关的人的抽象思维的产物，感性认识是人的本能反应
88. 做到实事求是的根本途径和方法是()。
A. 一切从实际出发 B. 理论联系实际
C. 密切联系群众 D. 开展批评与自我批评
89. “三个代表”重要思想中的“始终代表中国先进文化的前进方向”是对_____这一基本原理的运用和阐发。()
A. 生产力和生产关系、经济基础和上层建筑的辩证关系
B. 马克思主义关于人民群众是推动历史前进的动力
C. 马克思主义关于物质生活和精神生活、社会存在和社会意识的辩证关系
D. 马克思主义关于科学技术是第一生产力
90. 现阶段，我国政府全部工作的重中之重仍然是解决好()。
A. 就业问题
B. 经济结构不合理问题
C. 制约经济社会健康发展的体制性机制问题
D. 农业、农村、农民问题
91. 循环经济是以_____为核心的，符合可持续发展理念的经济增长模式。()
A. 提高生产技术含量 B. 减少污染排放
C. 集约化生产规模 D. 提高资源利用效率
92. 某公司采用直线式职能组织结构，公司中有管理人员 40 人，其中总经理 1 名，总经理助理 2 名，部 I”1 经理 5 名，每个部门各下设 2 名项目负责人，其他均为科员，同时每个部门均不设副职。试问，该公司总经理的管理幅度包括几名管理人员?()
A. 2 名 B. 5 名
C. 7 名 D. 17 名
93. 社会主义精神文明建设的最直接目标是()。
A. 提高全民族的思想道德素质和科学文化水平
B. 在全社会形成共同理想和精神支柱
C. 树立人们正确的世界观、人生观和价值观
D. 培育有理想、有道德、有文化、有纪律的公民
94. “三个代表”重要思想的核心是()。
A. 创新 B. 与时俱进 C. 为人民服务 D. 坚持党的先进性
95. 行政管理的首要环节和各项运行职能的基础是()。
A. 行政权力 B. 行政法规 C. 行政领导 D. 行政决策

96. 我国政治制度决定了行政组织的根本属性是()。
- A. 政治性 B. 服务性 C. 权威性 D. 法制性
97. 当问题重大，确急需直接上级和更高层次的上级机关同时了解公文内容时可采用的方式是()。
- A. 超级行文 B. 直接行文 C. 多级行文 D. 逐级行文
98. 行政管理的出发点和归宿是()。
- A. 行政效率 B. 行政组织 C. 行政决策 D. 行政执行
99. 行政执行的最高层次目标是()。
- A. 党和中央政府的各项政策与重大决策
B. 行政首长的命令、指示
C. 国家的法律和权力机关的各项决定
D. 一般意义上的行政决策
100. 公共政策的社会化是指()。
- A. 政策规定已在社会上不起作用了
B. 社会上多数人的要求引起了公共政策的关注
C. 政策能为社会上大多数人自觉接受和执行
D. 社会公众对公共政策有了强烈的诉求
101. 在下列会议纪要特点的说法中，正确的是()。
- A. 会议纪要要有交流会议信息，介绍经验的作用，但没有约束执行的效用
B. 撰写会议纪要以叙述为主要表达方式，也可叙议结合
C. 纪要的性质取决于会议的内容性质与印发会议纪要的目的要求
D. 撰写会议纪要可以根据工作需要，作各种调查，广泛选取材料
102. 下列有关公文格式的表述中，不正确的一项是()。
- A. 附件名称不必加书名号，其后也不用标点符号
B. 加盖印章的公文，落款处一般不再署发文机关名称
C. 每份文件的主题词一般标三至五个为宜
D. 联合行文时，发文机关标识中的“文件”两字应另起一行，置于联署机关名称之下，并居中排布
103. 法律效力是指法律的()。
- A. 生效范围或适用范围 B. 生效空间和生效结果
C. 适用对象和适用结果 D. 生效时间和生效结果
104. 根据我国立法法的规定，法律的解释权属于()。
- A. 国务院 B. 全国人大常委会
C. 最高人民法院 D. 中央军事委员会
105. 甲的一件古董卖给乙，乙当场付清价金，约定甲 10 天后交货。丙听说后，表示愿以双倍的价钱购买。甲当即决定卖给丙，约定第 3 天交货，并收定金 1 万元，乙听说此事后，哄甲 8 岁儿子将古董从家中取出交给他。现对该古董所有权的归属，下列判断正确的是()。
- A. 所有权仍属于甲
B. 乙已取得古董的占有，可认为甲已履行合同，所有权归乙
C. 甲又卖给丙的行为有违诚实信用原则，应认定无效，所有权属于乙
D. 因对丙的合同所约定的交货期限较早，故应属于丙
106. 以下各项中，属于商业贿赂行为的是()。
- A. 入账的折扣行为 B. 给中间人佣金
C. 将商品打折卖给对方但不入账 D. 低于成本价打折
107. 司某为某国有商场经理。一天，司去商场仓库找保管员卢某，见仓库门未锁卢某不在，顺手取走三台笔记本电脑，后将两台送给朋友，一台留给自己儿子用。卢某因此被开除。司某的行为构成()。
- A. 贪污罪 B. 职务侵占罪
C. 盗窃罪 D. 不构成犯罪
108. 段某故意杀人一案，下列哪种人不可以作为其辩护人?()
- A. 段某在检察院担任副检察长的父亲
B. 段某的叔叔，美籍华人
C. 段某在本市人大常委会任职的朋友余某
D. 段某在工商局担任科长的哥哥
109. 在我国确认发明专利权的第一审行政案件应当由()。
- A. 基层人民法院管辖 B. 中级人民法院管辖
C. 高级人民法院管辖 D. 最高人民法院管辖
110. 赵某在该县卫生局旁开了一家饭馆，生意一直不错。但在拒绝过卫生局的一次不合理的摊派后，卫生局就三番五次的派人到该饭馆检查卫生，有时甚至一天三四次，使赵某的生意每况愈下。对于卫生局的行为，以下说

法正确的是()。

- A. 没有对赵某作出任何实体性的处理决定, 因此是不可诉的未产生实际影响的行为
- B. 检查是为了取得必要的行政管理信息的手段, 不可诉
- C. 是行政检查行为, 因为影响了赵某的财产权, 因此具有可诉性
- D. 是行政检查行为, 但因《行政诉讼法》并未明确地列举该类具体行政行为, 是否可诉取决于其他法律法规是否有明确的规定

111. 根据行政许可法的规定, 下列说法正确的是()。

- A. 某区动植物检验检疫局未按照法定标准收取许可费用, 应当对其直接责任人处以行政处罚
- B. 医生李某死亡, 卫生行政主管部门应当依法注销其医师资格
- C. 某省公安厅对某高校教师出国护照的审批不适用行政许可法
- D. 某企业通过贿赂手段取得的烟花爆竹生产许可证被撤销后, 在一年之内不得再申请该项许可

112. 某化工企业生产国家明令淘汰的产品, 某技术监督局依据《产品质量法》某条的规定作出罚款 2000 元的处罚决定。该企业不服, 提起行政诉讼, 法院经审查以技术监督局的处罚决定适用法律不当为由判决撤销了处罚决定。下列哪一说法是正确的?()

- A. 技术监督局不得再对该企业作出行政处罚
- B. 技术监督局不得再对该企业作出罚款决定, 但可以作出其他行政处罚
- C. 技术监督局可以依据原处罚决定适用的《产品质量法》条文规定作出与原来不同的处罚决定
- D. 技术监督局可以依据原处罚决定适用的《产品质量法》条文规定以外的相关条款作出与原来相同的处罚决定

113. 石羊乡油坪村内有乡办塑料加工企业一家, 村办林场一片。村内的耕地, 过去由生产队集体耕种, 以后生产队改为组, 由各组发包给本组的农户。依照法律规定, 以上土地的所有权归属应如何确定?()

- A. 乡办企业用地归石羊乡所有, 林场土地归油坪村所有, 耕地归各组所有
- B. 林场土地归油坪村所有, 其余土地归石羊乡所有
- C. 乡办企业用地和林场土地归石羊乡所有, 耕地归各组所有
- D. 所有这些土地都归石羊乡所有

114. 行政赔偿诉讼中有关举证责任, 说法正确的是()。

- A. 原告负全部举证责任
- B. 被告负全部举证责任
- C. 被告负主要举证责任
- D. 原被告均负举证责任

115. 关于我国行政诉讼与行政复议的受案范围, 下列说法正确的是()。

- A. 行政复议可对抽象行政行为进行审查
- B. 行政复议可对作为被申请具体行政行为依据的效力低于规章的抽象行政行为提起附带审查
- C. 行政诉讼的受案范围与行政复议的受案范围完全衔接
- D. 行政复议的受案范围小于行政诉讼的受案范围

第五部分 资料分析

(共 15 题, 参考时限 20 分钟)

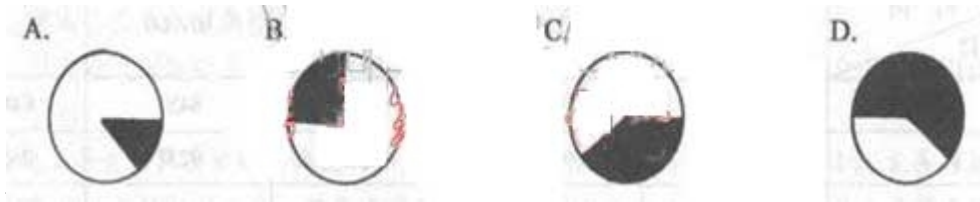
所给出的图、表或一段文字均有若干个问题要你回答。你应根据资料提供的信息进行分析、比较、计算和判断处理。

一、 根据以下表格, 回答 116~120 题。

2003 年杭州市及下辖五县(市)基本情况

指标名称	计量单位	全市	建德市	富阳市	临安市	桐庐县	淳安县
年末总人口	万人	642.78	51.2	62.4	51.49	39.37	45.14
全社会从业人员	万人	450.59	29.23	45.56	31.07	27.8	25.69
生产总值	亿元	2099.77	90.92	151.67	112.73	78.88	47.80
人均生产总值	元	32819	17726	24361	21843	20015	10593
全社会固定资产投资	亿元	1006.74	32.24	72.69	46.38	40.56	17.78
社会消费品零售额	亿元	587.52	15.00	31.72	24.85	20.93	11.99
出口额(海关数)	亿美元	109.55	1.05	1.92	1.93	2.34	0.45
城镇居民人均可支配收入	元	12898	10723	11929	11866	11685	9742
农村居民人均纯收入	元	5740	4443	6173	5952	5480	3562

116. 下图的阴影部分最能体现 2003 年末下辖五县(市)人口总数占全市人口总数比重的是()。



117.

- A. 1 个 B. 4 个 C. 6 个 D. 8 个

118. 2003 年杭州市农村居民人均纯收入最高的县(市)是()。

- A. 建德市 B. 富阳市 C. 临安市 D. 桐庐县

二、某地区劳动文化程度的资料如下表, 请根据此表回答 119~122 题。

单位: 万人

分 组	合 计	文 盲	小 学	初 中	高 中	大 专	本科及以上
男性	345	27	117	120	60	9	12
女性	405	48	228	90	30	6	3
总计	750	75	345	210	90	15	15

注: 学习年限标准为文盲: 0 年; 小学: 6 年; 初中: 9 年; 高中: 12 年; 大专: 15 年; 本科及以上:

119. 16 年。

- A. 350 人/万人 B. 400 人/万人
C. 450 人/万人 D. 500 人/万人

120. 根据上表所示, 男女比例最为均衡的是那种文化程度的人群? ()

- A. 文盲 B. 小学 C. 初中 D. 高中

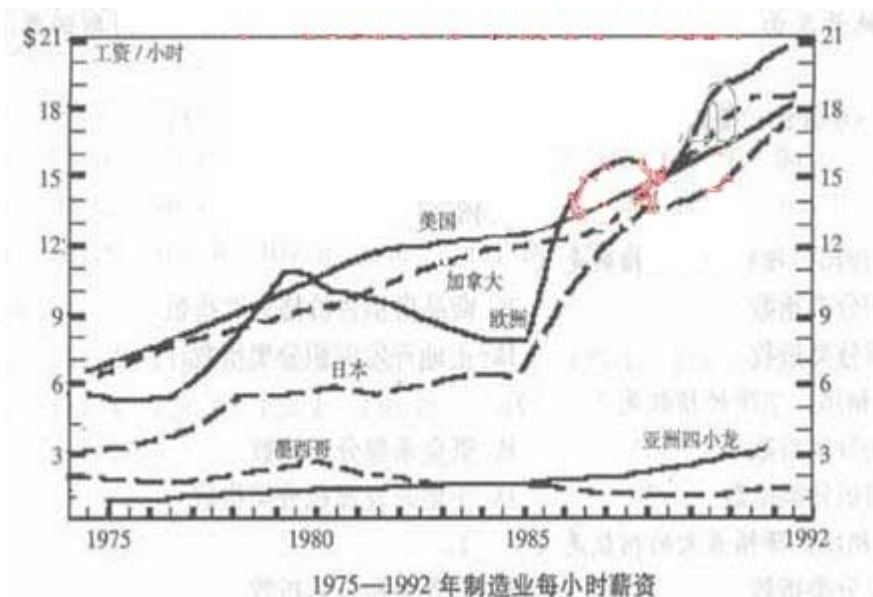
121. 经折算, 该地区劳动力的平均学习年限约为 7.34 年, 那么造成这一现象的主要原因, 我们可以认为是()。

- A. 该地区劳动力的文化程度达到小学水平的人数所占比重较大
B. 该地区劳动力中文化程度高的人数偏少
C. 该地区劳动力中文盲现象相对严重, 对劳动力整体文化素质影响较大
D. 该地区劳动力中女性的受教育程度相对男性是偏低的

122. 当地政府计划将该地区劳动力资源中高中、大专、本科及以上文化程度的人数比例由原来的 6:1:1 调整为 5:3:2, 假设该地区高中文化程度的人数不变, 则大专、本科及以上文化程度的人数应分别增加多少万人? ()。

- A. 43 25 B. 40 22
C. 36 18 D. 39 21

三、根据下图, 回答 123~125 题。



123. 在六个国家和地区中, 哪一个波动最大? ()

- A. 加拿大
C. 欧洲
124. 1980 年与 1985 年相比, 哪个国家或地区的工资增长最快? ()
A. 美国
C. 日本
125. 下列哪种说法不正确? ()
A. 亚洲四小龙每小时工人的工资一直是最低的
B. 美国工人每小时的工资一直在增加
C. 加拿大工人每小时的工资一直比日本高
D. 1992 年工人每小时工资最高的是欧洲

- B. 亚洲四小龙
D. 日本
B. 加拿大
D. 墨西哥

四、根据下面文字, 回答第 126~130 题。

2003 年 6 月份, “国房景气指数” 达到 107.04, 比 5 月份上升 0.76 点, 比去年同期上升 2.39 点。具体的各分类指数情况如下:

6 月份竣工面积分类指数为 111.46, 与 5 月份基本持平, 比去年同期上升 7.42 点。1-6 月份, 全国累计完成房屋竣工面积 8187 万平方米, 同比增长 40.4%, 增幅比去年同期增加 20 个百分点。

6 月份资金来源分类指数为 108.47, 比 5 月份上升 2.41 点, 比去年同期上升 4.68 点。1-6 月份, 全国房地产开发到位资金达到 5723 亿元, 同比增长 48.4%, 增幅比去年同期高 13.4 个百分点。

6 月份新开工面积分类指数达到 108.91, 比 5 月份上升 0.17 点, 比去年同期上升 3.44 点。1-6 月份, 全国房地产新开工面积为 2.43 亿平方米, 同比增长 31%, 增幅比去年同期增加 11.2 个百分点。

6 月份商品房销售价格分类指数为 97.71, 比 5 月份下降 1.23 点, 比去年同期上升 3.73 点。上半年, 商品房平均销售价格为 2424 元 / 平方米, 同比增长 5.4%, 而去年同期是下降 0.1%。

6 月份空置面积分类指数为 96.52, 与 5 月份持平, 比去年同期下降 0.05 点。上半年, 商品房空置面积同比增长 8.4%。

6 月份土地开发面积分类指数为 115.97, 比 5 月份下降 0.64 点, 比去年同期下降 2.60 点。上半年, 完成土地开发面积 7144 万平方米, 同比增长 40%, 增幅比去年同期回落 12.7 个百分点。

126. 2002 年的 1-6 月份, 全国累计完成房屋竣工面积的增幅是()。
A. 40.4% B. 38.6% C. 20.4% D. 18.6%
127. 与去年六月相比, 增幅最大的指数是()。
A. 竣工面积分类指数 B. 商品房销售价格分类指数
C. 资金来源分类指数 D. 土地开发面积分类指数
128. 与去年六月相比, 下降的指数是()。
A. 竣工面积分类指数 B. 资金来源分类指数
C. 新开工面积分类指数 D. 土地开发面积分类指数
129. 与上一个月相比, 降幅最大的指数是()。
A. 资金来源分类指数 B. 空置面积分类指数
C. 销售价格分类指数 D. 土地开发面积分类指数
130. 2001 年上半年, 商品房平均销售价格是()。
A. 2424 元 B. 2299.8 元
C. 2302.1 元 D. 2403.2 元

参考答案

第一部分

1.C 2.B 3.A 4.B 5.D 6.C 7.D 8.C 9.C 10.D
11.B 12.A 13.C 14.B 15.C

第二部分

16.B 17.C 18.A 19.D 20.C 21.B 22.A 23.D 24.C 25.C
26.C 27.D 28.B 29.D 30.D 31.B 32.D 33.D 34.D 35.A
36.B 37.C 38.C 39.B 40.B 41.C 42.A 43.B 44.D 45.C

第三部分

46.D 47.C 48.C 49.A 50.B 51.D 52.A 53.C 54.D 55.B
56.D 57.A 58.B 59.C 60.D 61.C 62.D 63.C 64.B 65.C
66.B 67.C 68.A 69.C 70.B 71.D 72.D 73.B 74.C 75.C

第四部分

76.B 77.C 78.C 79.D 80.D 81.B 82.C 83.B 84.B 85.C
86.D 87.B 88.B 89.C 90.D 91.D 92.C 93.D 94.D 95.D
96.B 97.C 98.A 99.C 100.C 101.C 102.D 103.A 104.B 105.A
106.C 107.C 108.B 109.B 110.C 111.B 112.D 113.A 114.D 115.B

第五部分

116.C 117.D 118.B 119.B 120.B 121.A 122.D 123.C 124.A 125.A
126.C 127.A 128.D 129.C 130.C