

杨柳注：此套题有两道题缺失，任何渠道均未找到，请理解

2019年青海省法院、检察院录用考试《行测》真题

来源：F 整理：杨柳（微信：gwy288）

一、法律基础知识。根据题目要求，在四个选项中选出一个最恰当的答案。

1、关于法的效力，下列哪个选项是正确的？

A、不同位阶法律冲突的处理原则包括宪法至上，法律高于法规，行政法规高于规章，行政法规高于地方性法规，国内法优先于国际法

B、宪法、法律、行政法规、地方性法规等主要是根据其所调整的社会关系作出的分类

C、地方性法规和部门规章有冲突时，由国务院决定适用地方性法规，或者由国务院报请全国人大常委会决定

D、广东省政府的规章和交通部的规章存在冲突时由国务院裁决，而交通部的规章和广州市政府的规章存在冲突时则直接适用交通部的规章

2、关于我国公民的政治权利和自由，下列哪个选项是正确的？

A、外籍华人企业家可以回国参加人大代表选举 B、公民言论自由可以通过口头或书面的方式行使

C、公民有结社、集会、游行、示威、罢工的权利 D、对于任何国家机关和工作人员的违法失职行为，公民有提出申诉、控告、检举或罢免的权利

3、根据我国刑法规定，下列哪个选项构成以危险方法危害公共安全罪？

A、甲抱着“砸着谁谁倒霉”的心理从窗户扔出一块砖头，砸中一位行人，使其身受重伤

B、甲明知炭疽杆菌是一种白色粉状的病菌，遂将家中粉末状食品干燥剂装入信封内，寄给某单位领导乙，造成乙精神高度紧张，同时引起周围人们恐慌

C、甲多次驾车尾随外地高档车辆，在前车正常变更车道时，突然加速撞向前车侧后方，造成前车变更车道时未让借车道内车辆先行的假象，以对方违章为由获取赔偿

D、甲明知盗窃消防栓铜芯将使消防栓丧失功能，仍将路侧草坪上正在使用的几十个消防栓铜芯（价值人民币5000元）盗走

4、关于重大误解，下列哪个选项是正确的？

A、甲遇乞讨的乙，欲赠乙10元，因灯光昏暗，误取一张100元钞票给乙

B、甲误以为放在枕头下的iPhone6丢失，遂在乙处购买一部新iPhone6 C、甲误以为乙收藏的国画“马震图”市场价值在500万元以上（实际该画市场价格约为210万元），遂以200万元的价格购买

D、甲欲将一头牛以5000元出卖给乙，请丙给乙带口信，丙故意告诉乙：“甲将他的牛以2000元出卖给你。”乙又请丙给甲带口信：“同意购买”，丙如实转告给甲

5、关于刑事案件量刑程序，有下列四个说法：①对于公诉案件，人民检察院一般只能在量刑建议书中提出量刑建议；②人民检察院委托制作涉及未成年人的社会调查报告，出于保护未成年人隐私需要，可以采取播放等方式，不在法庭上宣读；③人民法院在刑事裁判文书中必须说明是否采纳公诉人、当事人发表的量刑建议、意见的理由，但不说明所查明的事实对量刑的作用；④对于不开庭审理的二审案件，审判人员在讯问被告人、听取其他当事人的意见时，必须审查量刑事实和证据。下列哪个选项是正确的？

A、①③符合法律规定 B、②④符合法律规定 C、①③④符合法律规定 D、①②③④都不符合法律规定

6、甲（住G市）因资金紧张，向乙（户籍所在地在E市，长期居住在F市）借款50万元，为此双方签订一份借款合同，约定借款到期后，将款项汇入乙在H市开户的银行账户内。借款到期后，甲未还款，乙准备向人民法院起诉。关于管辖权问题，下列哪个选项是正确的？

A、只有E市法院有管辖权 B、只有F市法院有管辖权

C、只有H市法院有管辖权 D、F市和H市法院都有管辖权

7、关于行政处罚，下列哪个选项是正确的？

A、法律法规可以设定各种行政处罚，但限制人身自由的行政处罚，只能由法律设定

B、对于依法给予五十元以下罚款的行政处罚决定，行政机关可以当场收缴罚款

C、对于吊销营业执照的行政处罚，行政机关在作出决定之前应当告知当事人有要求举行听证的权利

D、行政处罚由具有行政处罚权的行政机关在法定授权范围内实施

8、关于正当防卫，下列哪个选项是错误的？

A、甲为杀死乙，故意辱骂乙，致使乙殴打甲，甲趁机将乙杀死，甲的行为不成立正当防卫

B、甲与乙等多人约定互殴，乙突然掏出火药枪准备射击甲等人，甲迅速将乙打倒，致使乙重伤，甲的行为成立正当防卫

C、甲发现正在殴打丙的乙系被通缉的犯罪嫌疑人，为将乙扭送派出所而将乙打成轻伤，甲的行为成立正当防卫

D、甲看见乙正持刀猛砍丙，为阻止其行为，将一砖头砸向乙，将乙砸死，甲的行为成立正当防卫

9、关于合同解除，下列哪个选项是正确的？

A、赠与合同的赠与人享有任意解除权，但赠与标的物所有权已经转移、经过公证的赠与合同具有社会公益、道德义务性质的赠与合同除外

B、保管合同的寄存人和保管人均享有任意解除权

C、合同因违约被解除后，若合同约定有违约金，守约方仍有权在合同解除后请求违约方支付违约金

D、当事人约定解除权成立条件的，自约定条件成就时，合同自动解除

10、法院在审理李某持有枪支案时发现，李某不仅存在持有枪支的事实，还存在盗窃枪支、贩卖毒品等事实。关于本案，下列哪个选项是正确的？

A、人民法院可以建议人民检察院补充或变更起诉

B、如果李某承认盗窃枪支、贩卖毒品等事实，人民法院可以与人民检察院商量后，直接作出判决

C、人民法院可建议人民检察院退回补充侦查

D、人民法院也可以在听取控辩双方意见的基础上作出判决

11、王某接受李某委托，以诉讼代理人身份参加李某起诉张某的一起保险合同纠纷案。下列哪个选项是正确的？

A、如果王某是律师，应提交其所在律师事务所与李某签订的协议书、李某的授权委托书、王某的执业证、律师事务所的证明材料

B、如果王某是基层法律工作者，应提交李某的授权委托书、王某的执业证、基层法律服务所出具的介绍信、当事人一方位于本辖区内的证明材料

C、如果王某是李某的近亲属，应提交与委托人有近亲属关系的证明材料

D、如果王某是李某所在单位推荐的公民，应提交推荐材料、李某属于该单位的证明材料

12、关于行政诉讼中的原被告，下列哪个选项是正确的？

A、针对美丽家园小区的消防设施无法使用问题，某市消防部门给予罚款2万元、责令重新购置消防设施的行政处罚，业主委员会可以自己的名义向人民法院提起诉讼

B、某工商局吊销E企业营业执照，E企业提出行政复议，复议机关以违反法定程序为由确认吊销行为违法，E企业可以复议机关为被告，向人民法院提起诉讼

C、甲对H村民委员会的集体土地分配不服，可以H村民委员会为被告，向人民法院提起诉讼

D、乙的房屋临街，因实施街面改造，由F市人民政府确定的房屋征收部门对乙的房屋进行征收，乙对拆迁补偿数额不服，可以房屋征收部门为被告，向人民法院提起诉讼

13、张某系某股份有限公司发起人之一，持有14%股份。在公司成立后的三年多时间里，因各董事之间存在矛盾，导致公司经营出现困难。关于张某可以采取的法律措施，下列哪个选项是正确的？

A、同时提起解散公司的诉讼和对公司进行清算的诉讼

B、提起解散公司诉讼时，可要求法院采取财产保全措施

C、提起解散公司诉讼时，应以公司为被告

D、可起诉各董事履行对公司的忠实义务和勤勉义务

14、关于因果关系，下列哪个选项是错误的？

A、甲绑架并强奸乙女后离开，随后乙女被邻居不慎引发的火灾烧死，甲的行为与乙女的死亡之间具有因果关系，但不一定承担刑事责任

B、甲超速行驶追尾前面的车辆，巨大的撞击声使路人乙受惊吓摔倒，并经抢救无效死亡，即使认定甲的行为与乙的死亡存在条件关系，也不能将乙的死亡归责于甲

C、甲为抢劫乙的手机而对乙实施暴力行为，但遭到乙的反抗，甲见事不可为，伺机将乙停靠在旁边的摩托车骑跑，甲的暴力行为与取得摩托车之间存在因果关系，成立抢劫既遂

D、甲以杀人故意开车撞乙，以为乙死亡，随后将尸体沉入江中。但尸检报告表明，乙系溺水死亡。即使认定甲存在认识错误，但甲的杀人行为与乙的死亡之间存在因果关系

15、张某受甲公司委托从乙公司订购一批钢材，甲公司未限定钢材单价。张某与乙公司私下商定将钢材单价比正常售价提高 200 元，乙公司给张某每吨 100 元回扣。张某遂以甲公司名义与乙公司签订买卖合同。关于本案，下列哪个选项是正确的？

- A、该买卖合同以合法形式掩盖非法目的，无效
- B、张某的行为属于无权代理，买卖合同效力待定
- C、乙公司行为构成对甲公司的欺诈，买卖合同属可撤销合同
- D、张某与乙公司恶意串通损害甲公司利益，应对甲公司承担连带责任

16、关于刑事案件中人民法院第二审发回重审，下列哪个选项是错误的？

- A、一审违反公开审判规定、回避制度的，应当发回重审
- B、发回重审原则上以二次为限
- C、在发回重审裁定书中应当详细写明发回重审的理由及法律依据
- D、对于事实不清的案件，二审法院既可以改判，也可以发回重审

17、关于民事诉讼证据，下列哪个选项是错误的？

- A、对于自然规律、众所周知的事实、日常经验法则等，当事人无需举证
- B、对于涉及损害国家利益、社会公共利益、涉及身份关系等证据，属于人民法院认为案件审理需要的证据
- C、乙向法院起诉，要求丙支付剩余的租金，返还出租的房屋。丙提出抗辩，认为双方租赁关系已经解除，并提供一份双方同意解除租赁关系的证明材料。为证明自己的主张，乙应当就其与丙存在租赁法律关系、丙提供的材料不真实等承担举证证明责任
- D、一方当事人在答辩状中，对于己不利的事实表示认可，但人民法院在审理中发现该事实与查明事实不相符合，则不予确认

18、关于中国历史上进行的法制变革，下列哪个选项是错误的？

- A、《大清新刑律》采用了罪刑法定原则，规定刑罚分为主刑、从刑
- B、西汉文帝下令废除肉刑
- C、商鞅变法贯彻“明法重刑”主张
- D、唐代废除宫刑制度

19、关于破坏金融管理秩序罪，下列哪个选项是错误的？

A、国家工作人员甲收受贿赂 10 万，随后将 10 万元假币上交纪委，并交代了受贿事实，甲成立受贿罪与使用假币罪

B、甲将大额面值的纸币剪碎后拼接成大量小额面值的纸币，或将金属融化后铸造成更多金属货币，都成立变造货币罪

C、甲为炒股，遂以招工为名招募员工，员工未实际参加工作，而是认购“股金”后领取高额分红，甲成立非法吸收公众存款罪

D、甲明知乙骗取贷款而仍然帮助乙将款项转换成外币，即使无法确定乙是否具有非法占有的目的，甲的行为都成立洗钱罪

20、甲、乙、丙三人拟成立一家小规模商贸有限责任公司，注册资金 20 万元。甲以一辆货车出资，乙以货币出资，丙以新型专利出资。关于本案，下列哪个选项是正确的？

- A、甲出资的货车无需转移所有权，但须交公司管理和使用
- B、甲出资的货车无需评估作价
- C、乙的货币出资不能少于 7 万元
- D、必须依法制定书面的公司章程

21、关于刑事案件中人民检察院的审查起诉，下列哪个选项是错误的？

- A、发现侦查人员以非法方法收集证据的，可以要求侦查机关重新调查取证，也可以自行调查取证

B、认为需要对公安机关的勘验、检查进行复验、复查的，应当要求公安机关复验、复查，也可以自行复验、复查

C、对已经退回侦查机关二次补充侦查的案件，在审查起诉中又发现新的犯罪事实的，应当全案移送侦查机关立案侦查

D、人民检察院对于审查起诉的案件，应当在一个月以内作出决定

22、关于民事公益诉讼，下列哪个选项是错误的？

A、人民法院受理公益诉讼案件后，应当在十五日内书面告知相关行政主管部门

B、对于公益诉讼案件，人民法院可以组织调解

C、公益诉讼案件的原告在法庭辩论终结后申请撤诉的，人民法院不予准许

D、公益诉讼案件的当事人达成和解协议，人民法院应当将和解协议进行公告，公告期间不少于三十日

23、中国丙公司（买方）与美国丁公司（卖方）签订电子产品进口合同，价格条件为CIF。货到目的港时，丙公司发现有五箱货物因包装不当而受损，因此拒收，该货物在目的港码头被雨淋再一次受损。依据1980年《联合国国际货物销售合同公约》，下列哪个选项是正确的？

A、因丙公司拒收货物，丁公司应承担货物在目的港码头被雨淋造成的损失

B、丁公司应承担因包装不当造成的货物损失

C、因本合同已选择CIF贸易术语，故不再适用《公约》

D、在CIF条件下应由丁公司办理投保，故丁公司也应承担运输途中的风险

24、下列哪个选项不属于司法公正的内涵？

A、司法活动的公开性 B、裁判人员的中立性 C、司法过程的参与性 D、案件处理的便民性

25、已满14周岁不满16周岁的人，对下列哪个行为不承担刑事责任？

A、积极参加聚众斗殴，致使他人死亡的

B、绑架他人，将他人打成重伤的

C、14周岁当天非法拘禁他人并殴打他人，使他人抢救无效，于次日凌晨死亡的

D、诈骗他人财物，为抗拒抓捕将他人打成重伤的

26、甲与乙离婚，甲乙的子女均已成年，与乙一起生活。甲与丙再婚后购买一套房屋，登记在甲名下。后甲因病不能自理，常年卧床。丙见状离家出走三年之久。甲乙的子女和乙想要回房屋。关于本案，下列哪个选项是正确的？

A、房屋登记在甲名下，故属于甲的个人财产

B、丙在甲病后未尽夫妻的责任和义务，不能主张房产份额

C、甲乙的子女可以申请宣告丙失踪

D、甲本人向法院提交书面意见后，甲乙的子女可代理甲参与甲与丙的离婚诉讼

27、关于刑事诉讼法律监督，下列哪个选项是正确的？

A、人民检察院侦查监督部门受理对公安机关应当立案而不立案的申诉

B、人民检察院发现公安机关侦查活动中的违法行为，应当向公安机关发出纠正违法通知书

C、人民检察院发现人民法院审理案件违反法律规定的诉讼程序，应当向人民法院提出纠正意见

D、人民检察院对生效刑事判决的复查，以一次为限

28、关于民事诉讼二审程序的表述，下列哪个选项是正确的？

A、引起二审的原因，既可以是当事人的上诉，也可以是检察院的抗诉

B、二审只能是法律审

C、二审原则上应当开庭审理

D、当事人在一审中实施的行为，在二审中对其不具有拘束力

29、关于加强法治队伍建设，下列哪个选项是错误的？

A、加快建立符合职业特点的法治工作人员管理制度，完善职业保障体系，建立法官、检察官、人民警察专业职务序列及工资制度

B、建设高素质的法治专门队伍，把提高业务能力摆在首位，加强理想信念教育、深入开展社会主义核心价值观和社会主义法治理念教育

C、建立从符合条件的律师、法学专家中招录立法工作者、法官、检察官制度、畅通具备条件的军队转业干部进入法治队伍的渠道，健全从政法专业毕业生中招录人才的机制

D、加强律师事务所管理，发挥律师协会自律作用，规范律师执业行为，监督律师严格遵守执业道德和执业操守，强化准入、退出管理，严格执行违法违规职业惩戒制度

30、关于法律职业道德，下列哪个选项是错误的？

A、法律人的基本使命是实现社会的公平正义，所以法律职业道德具有较强的公平正义特征

B、法律职业道德的主体具有特定性，因此与一般的社会道德相比，具有更强的约束性

C、法律职业道德通过更强的自律性和严格的程序性来实现

D、法律职业道德体现的是一种法律职业精神

二、常识判断。根据题目要求，在四个选项中选出一个最恰当的答案。

31、根据十九大报告，下列说法不准确的是：

A、发展是解决我国一切问题的关键

B、创新是建设现代化经济体系的战略支撑

C、社会主义核心价值观是当代中国精神的集中体现

D、就业是中华民族伟大复兴的基础工程

32、“不忘初心，牢记使命”主题教育的根本任务不包括：

A、深入贯彻新时代中国特色社会主义思想

B、锤炼忠诚干净担当的政治品格

C、引导党员干部弘扬优良作风，解决突出问题

D、团结带领全国各族人民为实现伟大梦想共同奋斗

33、下列关于新民主主义革命时期大事件的表述，不正确的是：

A、古田会议确立了人民军队建设的基本原则，重申了党对军队的绝对领导

B、中共二大第一次明确提出了彻底的反帝反封建的民主革命纲领

C、洛川会议提出了建立广泛的抗日民族统一战线，标志着党的全面抗战路线正式形成

D、毛泽东在党的六届六中全会上强调“共产党员应该是实事求是的模范，共产党员不论何时何地都不应该把个人利益放在第一位”

34、乡村振兴战略的总方针是：

A、生产发展、生活宽裕、乡风文明、村容整治、管理民主

B、生产发展、生活富裕、村容整治、乡风文明、管理民主

C、产业兴旺、生态宜居、乡风文明、治理有效、生活富裕

D、产业兴旺、生态宜居、村容政治、治理有效、生活富裕

35、中国特色社会主义的本质要求和重要保障是：

A、人民当家作主

B、党的领导

C、全面依法治国

D、改革开放

36、“五位一体”的总体布局是一个有机整体，其中文化建设是：

A、根本

B、条件

C、保证

D、灵魂

37、1978年5月11日，《_____》发表本报特约评论员文章《实践是检验真理的唯一标准》，由此引发了一场关于真理标准问题的大讨论。

A、新华社

B、人民日报

C、光明日报

D、经济日报

38、“六盘山上高峰，红旗漫卷西风。今日长缨在手，何时缚住苍龙？”此诗句为毛泽东所作，根据文中提供信息，这首诗的创作时间是：

A、1934年10月

B、1935年10月

C、1945年9月

D、1949年10月

39、哪一次会议系统回答了新时代坚持和发展什么样的中国特色社会主义、怎样坚持和发展中国特色社会主义？

A、党的十六大

B、党的十七大

C、党的十八大

D、党的十九大

40、习近平新时代中国特色社会主义思想明确提出全面深化改革的总目标是：

A、坚定道路自信、理论自信、制度自信、文化自信

B、完善和发展中国特色社会主义制度、推进国家治理体系和治理能力现代化

C、建设中国特色社会主义法治体系、建设社会主义法治国家

D、推动构建新型国际关系，推动构建人类命运共同体

41、“不忘初心，牢记使命”主题教育的基础是：

- A、认认真真学原著悟原理 B、注重实际效果，解决实质问题
C、有正视问题的自觉和刀刃向内的勇气 D、学党章党规、学系列讲话，做合格党员

42、“_____”的总要求，是根据新时代党的建设任务、针对党内存在的突出问题、结合“不忘初心，牢记使命”主题教育的特点提出来的。

- A、守初心、记使命，树理想、为人民 B、守初心、记使命，壮筋骨、长才干
C、守初心、担使命，找差距、抓落实 D、守初心、担使命，知荣辱、攻艰难

43、_____是马克思主义生态观在当代中国的最新发展，是以习近平同志为核心的党中央深入把握经济社会发展规律、人与自然发展规律的重要理论创新，彰显了对中国民族永续发展和人类未来的责任担当。

- A、坚持绿色发展 B、尊重并善待自然环境 C、坚持人与自然和谐共生 D、绿色文明

44、“三全育人”即_____、_____、_____。

- A、全力育人 全程育人 全方位育人 B、全员育人 全力育人 全社会育人
C、全部育人 全力育人 全身心育人 D、全员育人 全程育人 全方位育人

45、社会主义核心价值观社会层面的价值取向是：

- A、民主、文明、自由、平等 B、自由、民主、诚信、公正
C、自由、平等、公正、法治 D、民主，诚信、友善、公正

三、言语理解与表达。本部分包括表达与理解两方面的内容。请根据题目要求，在四个选项中选出一个最恰当的答案。

46、不实宣传、随意承诺，招生的时候夸下海口，等学生要毕业了才发现升学和就业都会被耽误。部分民办学校_____的表象之下，_____出一些地方民办学校缺乏有力监管的乱象。

依次填入划横线部分最恰当的词语是：

- A、冠冕堂皇 反射 B、光鲜亮丽 反应 C、唯利是图 折射 D、徒有虚名 映射

47、形式主义人人喊打，但到底形式主义是什么、怎样克服形式主义，一些人却_____。往往是以形式主义反对形式主义，这种不当_____模式，必然导致基层治理空洞化、政策执行空白化、治理对象空心化。

依次填入划横线部分最恰当的词语是：

- A、众说纷纭 认知 B、众口难调 运作 C、指手画脚 应对 D、莫衷一是 思维

48、巡视巡察坚持发现问题、形成震慑，成为了管党治党的重要利器。一些有问题的干部心中不安，可又不想_____，于是便_____干扰巡视巡察。

依次填入划横线部分最恰当的词语是：

- A、束手就擒 铤而走险 B、坐以待毙 奋不顾身 C、粉身碎骨 孤注一掷 D、听天由命 负隅顽抗

49、技术的进步，带来了一种逼真的假象：躲在屏幕后的我们，并不需要为自己的行为负责。隐匿在网名背后的网友，就可以_____地暴露平日里不敢见光的恶。我们都知道，互联网不是法外之地，但要_____这一假象带来的诱惑。并不容易。

依次填入划横线部分最恰当的词语是：

- A、肆无忌惮 抵御 B、堂而皇之 抵制 C、无所顾忌 抗衡 D、专横跋扈 抵抗

50、儿歌《一分钱》主要表达的思想内涵，就是倡导拾金不昧、学雷锋做好事的精神，即便是捡到一分钱，也不应_____。这首儿歌旋律简单，歌词_____。易懂、易学，加上是儿歌必学曲目，经过几代人的传唱，逐渐成为流传甚广的经典儿歌。

依次填入划横线部分最恰当的词语是：

- A、损人利己 字正腔圆 B、据为己有 朗朗上口 C、自私自利 抑扬顿挫 D、唯利是图 珠圆玉润

51、提起机场消费，许多人的第一反应就是“价格高”“垄断”。78元一碗面条，59元一碗馄饨……机场的“天价”餐饮，可以说令人_____。其实，从商业变革和消费升级的角度，未来机场餐饮的变化，或不仅仅体现在价格的更加亲民上。在加快新理念、新技术、新设计改造提升，向场景化、体验式、互动性、复合型消费场所转型等方面，机场、高铁站、高速公路服务区等都_____。

依次填入划横线部分最恰当的词语是：

- A、望尘莫及 不可或缺 B、望洋兴叹 大有裨益 C、望而生畏 举足轻重 D、望而却步 大有可为

52、而今随着社会、经济、文化的发展和商家的营销手段的升级，追剧消费已经不仅是一种经济领域的“景

观”，而且还是文化方面的价值认同。剧中人物的同款西服、风衣、项链、鞋都成了网店爆款商品，这也让营销商再次嗅到了“蹭热点”的无限商机。之所以如此，一方面是公众_____的心理暗示发挥了作用，从喜欢剧中人物延伸到了穿戴服饰等；另一方面则是在经济条件良好的情况下，人们喜欢用消费这样简单的方式_____起自己对剧中人物的价值认同。

依次填入划横线部分最恰当的词语是：

- A、爱毛反裘 建立 B、如获至宝 建设 C、爱不忍释 构筑 D、爱屋及乌 构建

53、她是大清重臣之后，生长在_____之家，她的外祖父曾为挽救大清危局，殚精竭虑，_____，虽未成功，但值得敬佩。

依次填入划横线部分最恰当的词语是：

- A、花天酒地 苦心经营 B、钟鸣鼎食 惨淡经营 C、鼎鼎有名 费尽心机 D、鲜衣美食 挖空心思

54、在患者信息泄露的整个环节中，买方才是真正的始作俑者。如果不能对买方做出有威慑力的惩戒，他们_____患者信息的犯罪活动就不会停止。针对这种情况，可以由政府部门统一_____医疗信息管理的网络安全标准，统一配置高规格的防病毒软件，保证患者的信息不会在诊疗机构信息平台上被不良商家_____。

依次填入划横线部分最恰当的词语是：

- A、挖掘 制定 读取 B、搜集 颁布 撷取 C、贩卖 执行 骗取 D、收集 制订 获取

55、_____无法避免，_____只有忍受，这就是做人的本分。无法避免的事情你无法忍耐，又承受不了，这_____软弱，_____愚蠢。

依次填入划横线部分最恰当的词语是：

- A、如果 那就 虽然 但是 B、因为 所以 不但不 而且

- C、只要 就 一面 一面 D、既然 那就 不但 而且

56、不少基层教师面临待遇差，工作量大，尊严感低的职业困境。有的乡村教师透露“一个星期将近30个课时，还是班主任，每天从早读到放学排队都没法休息。”基层教师的待遇困境，一定程度上加大了“读书无用论”的盛行，也让部分学生更加轻视教师这个职业。由此，不少优秀人才开始逃离基层教师队伍，进入到课外辅导机构和民办学校。

这段文字意在说明：

- A、基层教师的待遇困境 B、基层教师队伍人才流失的原因
C、当前社会对基础教育重视的不足 D、基层教师的待遇亟需提升

57、让《关于解决形式主义突出问题为基层减负的通知》落实落地，防止“浮”于文字、机械操作，必须拿出实实在在的举措，在解决基层“高压”问题上上下实功夫。比如，对基层负担的表现和原因进行全面摸底，结合各部门实际，厘清责任边界，规范责任事项，制定责任清单，以问题为导向，出台系统减负措施和办法，抓深入抓具体，切实让基层干部多些务实、少些事务，能够把心思集中到抓落实上，把精力聚焦到干事业、促发展上。

这段文字意在说明：

- A、切实解决基层减负问题的措施和办法
B、基层减负问题由来已久
C、切实解决基层减负问题要结合部门特点制定具体措施
D、解决基层减负问题应在“解决问题”上出实招，防止机械式操作

58、红雀珊瑚是大戟科大戟属植物，聚伞花序丛生于枝顶或上部叶腋内，每一聚伞花序为一鞋状的总苞所包围，内含多数雄花和1朵雌花。花期12月至翌年6月。中国云南、广西、广东南部常见栽培，北方温室亦有栽培。红雀珊瑚性喜温暖，适生于阳光充足而不太强烈且通风良好的地区，可适应温度较高和半阴的环境，要求疏松肥沃、排水良好的栽培土壤。红雀珊瑚以全草入药，主治疮疡肿毒、疥癣、跌打肿痛、骨折和外伤出血。

根据这段文字，以下理解正确的是：

- A、红雀珊瑚花期是6月至12月 B、红雀珊瑚性喜温，云南、广西、广东常见栽培
C、红雀珊瑚聚伞花序内雌花少于雄花 D、红雀珊瑚其根入药，主治疮疡肿毒、疥癣等

59、无原则的“花钱消灾”往往为“校闹”现象的滋生提供了土壤，此次《意见》明确禁止不顾法律原则的“花钱买平安”行为。例如，规定在相关责任明确前，学校不得赔钱息事；为避免个别人出于息事宁人的考虑片面加重学校责任，规定任何组织和个人不得非法干涉纠纷处理。同时，对于“校闹”中实施的违法违规行为，应坚决依法予以惩处，对其实现有力震慑。

这段文字的主旨是：

- A、“校闹”都是钱闹的 B、学校安心办学需要法律的保护
C、学校不应当是赔偿的主体 D、无论是学校还是其他主体都应守法

60、停车3小时罚款3230元，堪称代价惨重。而如果厘清此事的来龙去脉，我们甚至会发现，本案中对涉事车主的追罚还未完全到位。毕竟，开出此一罚单的乃是城管下辖的执法队，而不是交管部门。三千多的罚款，针对的是“毁坏绿化”这一结果，并不包括对“违停”行为本身的处罚。将车停在公共绿化带上，貌似只是一起简单案件，却涉及了多种违法情形以及跨部门的执法协同。

这段文字意在：

- A、说明“绿化带停车罚三千”的处罚代价惨重 B、强调“绿化带停车罚三千”反映出执法过程中的缺陷
C、强调“绿化带停车罚三千”缺乏法律依据 D、说明规范绿化带停车需多部门协同进行

61、作为一款有着网红属性的食品，港荣蒸蛋糕在广告宣传上重金投入，用曝光度和流量建立自己的品牌效应。这种营销路径现在相当常见，一些实体店销售的网红产品甚至专门雇人排队，来制造广受欢迎的火爆效果。但正如港荣蒸蛋糕频现食品安全问题所显示的，将过多精力投入到营销策略中，而在产品质量的基础性环节投入不足，无疑是本末倒置。

这段文字旨在说明：

- A、曝光度和流量来建立品牌效应成为网红食品最流行的营销路径
B、网红食品只要把好质量关，就能建立品牌效应
C、网红食品不能只讲营销而忽视产品质量
D、打造网红食品品牌须从多角度发力

62、按理说，商家挽留客户，就要拿出足够的诚意，努力以优质、廉价的服务吸引客户“用脚投票”。但一些APP平台偏偏反其道而行之，千方百计通过玩套路、设陷阱等不光彩的手段挽留用户：一不小心就成了会员，被扣款却毫不知情，付费容易、取消时却晕头转向……这不是留人，而是坑人。这种“套路”也注定不得人心，行之不远。

这段文字的中心主旨是：

- A、APP套路越深越留不住用户 B、APP套路形式多多，需谨慎
C、APP吸引用户的方式有待改善 D、APP套路用户亟待整治

63、干净是担当的前提，担当是干净的追求。党员领导干部要秉公无私、廉洁从政、紧绷党纪国法、道德伦理底线之弦，不带私利、清清白白、干净为官。当前，部分党员领导干部遇到事情就躲、遇到责任就推，遇到利益就争、遇到好处就上，明哲保身、投机钻营，这些都是缺乏担当的表现。习近平总书记强调，绝不能把反腐败当成不担当、不作为的借口。这一要求给那些所谓不贪不占、不干不为的领导干部当头一棒。

这段文字意在说明：

- A、要正确处理好干净和担当的关系 B、部分党员干部流于形式主义
C、部分党员干部不作为 D、党员干部应该秉公无私、廉洁从政

64、相比其他领域，加强社会主义意识形态对于文化产品市场的引领作用，这一工作在当下有着重要的现实意义和针对性。改革开放以来，我国文化产品市场繁荣发展，文化产品种类多样、形式多元、内容丰富。但也要看到，受到“资本导向”“投资逐利”等理念影响，一些文化行业从业者错误地认为产品有市场、有票房、有流量、有话题，就是对投资方的负责，却无视对文化产品本身的价值追求。由此，诸如“颜值即正义”“争当网红、实现财务自由”等非主流的、错误的价值观念有所蔓延。

这段文字主要说明：

- A、文化创作不能只追求“流量” B、错误的意识形态在社会蔓延
C、加强社会主义意识形态对于文化产品市场的引领作用 D、必须加强对青少年文化产品市场监管

65、在以描写农民、战士、工人为主流的新中国初期文坛上，王蒙可以说从一开始便找准了自己的方向，写自己最熟悉的中学生题材：“我一定可以写一部独一无二的书。写从旧社会进入新社会，从少年时代进入青年时代，写以政治活动社会活动为主开始了大规模的经济建设，写从黑暗到光明，写从束缚到自由，从欢呼到行动，歌唱新中国，歌唱金色的日子，歌唱永远的万岁青春。”这便是写作《青春万岁》的缘起。

这段材料的主旨内容是：

- A、王蒙的写作内容 B、写作《青春万岁》的缘由

C、王蒙的写作方向 D、新中国初期文坛的主流

66、中国科幻电影尾随着科幻文学一路走来，跌跌撞撞。从20世纪30年代的生活尝试、到新中国成立初期的勇敢探索，直至1980年，上影厂推出新中国第一部真正意义上的科幻电影。其后面出现《霹雳贝贝》《大气层消失》等科幻影片。2019年初，国产科幻大片《流浪地球》更是成为“爆款”。虽然很多国产科幻电影存在着科普意味浓、视觉效果差的毛病，但创作者无一不在放飞想象力的翅膀。因此，_____。

填入文中画线部分最恰当的一项是：

- A、悲喜之间，既反映出人们对科幻文艺的高度期待，也折射出中国科幻文艺离“高峰”尚有距离
- B、在很长一段时间里，国产科幻电影从故事到技术，都由内而外地追随好莱坞模式
- C、中国人从不缺乏想象力，并且在文艺领域存在幻想传统，这正是国产科幻文艺必将强大起来的基础
- D、同为舶来品，科幻比魔幻现实主义经历的“中国化”过程要漫长、繁复得多

67、_____。这场革命包括两个阶段。第一步是用3到5年时间，通过强制性的垃圾分类工作，形成垃圾处理从填埋为主向焚烧为主、辅以资源化利用的重大转型，重点是处理好日益增长的城市生活垃圾；第二步是再用10到15年时间强化循环经济、建设低废城市，重点是减少生活垃圾的增长和末端处理的分量，提高资源循环率，大幅减少垃圾焚烧和填埋比重。

填入文中画横线部分最恰当的一项是：

- A、垃圾分类只是垃圾处理乃至“垃圾革命”的第一步
- B、广大城市居民普遍感慨，垃圾分类这一回“动真格”了
- C、党的十八大以来，城市生活垃圾分类被纳入生态文明建设范畴
- D、当下的垃圾分类行动，正是中国城市一场系统性“垃圾革命”的开端

68、然而，人工智能迅速发展的同时，也出现了一些需要关注的现象：为抢“风口”，一些企业硬是和人工智能“攀亲戚”，结果徒有名头，对自动驾驶、机器人、智慧城市等应用一哄而上，却少有精力用于基础性研究；为争“帽子”、一些地方一窝蜂地开建人工智能产业园，资源整合利用率低，导致不少园区呈现空心化趋势。对此，各地还需解决一些深层次问题，_____，才能使人工智能在提升产业智能化水平、改善民生上迈出坚实的步伐。

填入文中画横线部分最恰当的一项是：

- A、集聚一批专业人才 B、扶持人工智能配套企业
- C、攻破一批关键核心技术 D、给予更多的政策的支持

69、大家当然都理解环保部门的初衷是好的，也相信有些小作坊在生产过程中会造成一些污染。问题在于，这些污染在整体污染源中占多大比例？要以怎样的强度去治理？杀鸡如果用上牛刀，不仅让人觉得荒诞，还会让人怀疑环保部门治污的诚意。治污总得分个轻重缓急，在通常人的理解中，家庭灶火或者小餐馆的这点烟火，在整体大气污染中几乎可以忽略不计，如果对这些都用上了铁腕，那其他更严重的污染源是都治理好了么？_____。

填入文中画横线部分最恰当的一项是：

- A、如果该下猛药的地方不下，反倒是在民众生活领域瞎折腾，那就是舍本逐末
- B、退一步说，即便环保部门对其他严重污染源已经在加快治理，也没必要“一刀切”地捆绑上民众的生活
- C、越是这样，越是应该细致稳妥，精准治污，在治污和民生之间寻找平衡，而不是试图营造一种“呼吁治污就可能连饭都吃不上”的冲突图景
- D、每个地方的经济形势不同，污染源有别，是不是该考虑在充分调研的基础上，明确更细致的阶段性治污目标

70、近年来，我国陆续建立一项项制度，让守信者和失信者越发泾渭分明。但也应看到，尽管社会信用体系在逐步完善，整体上却呈现出一定程度的碎片化状态。目前，国家层面的信用立法亟待推进，跨地区、跨部门、跨领域的激励与惩戒机制有待整合。现实中，一个人在某地有了失信记录，往往并不影响原则是一个地区开展经济活动；因诚实守信积累的“信用积分”，也难以在全国范围享受到实际便利。

这段文字意在强调：

- A、我国社会信用体系机制需要整合
- B、我国社会信用体系已经得到改善
- C、我国社会信用体系的碎片化主要源于立法的不完善

D、社会诚实守信的实现必须与社会信用体系相配合

71、合格的全科医生组成家庭医生团队，在分级诊疗制度中起牵头作用，根据居民健康需求进行首诊、分诊。这样，可以把更多患者留在基层就医，只有小部分疑难重症转到大医院就诊。打个比方，全科医生相当于健康服务体系的指挥官和负责人，分级诊疗制度是主梁，医疗保障、药品供应等体系是若干支柱，由此构成全面支撑的服务体系，以提供更优质的健康服务。

这段文字意在强调：

- A、合格的全科医生将会是我国医疗体系的主力军 B、首诊留在基层将会大大改善我国的医疗状况
C、更优质的健康服务需要全面的服务体系 D、科学的分级诊疗制度将进行按需分级

72、①心理学研究表明，不确定的刺激会加强重复决策，因此一时间盲盒成了让人上瘾的存在

②售卖盲盒的商家，是否放大了“中奖”概率，变相诱导购买？那些经典、限量款的真实“中奖”率会不会低于宣传，留下消费陷阱？标称的设计师原创设计的玩偶是否名副其实？同样是未知数

③所谓盲盒，里面通常装的是动漫、影视作品的周边，或者设计师单独设计出来的玩偶

④但是，盲盒又是个高度不透明，信息极为不对称的行业

⑤就这点来看，这和买彩票颇为相像，都有赌运气的成分

⑥之所以叫盲盒，是因为盒子上没有标注，只有打开才会知道自己抽到了什么

将上述6个句子重新排列，顺序正确的是：

- A、①⑤②③⑥④ B、③⑥①⑤④② C、①⑥③⑤④② D、③⑤⑥①②④

73、①“腊七腊八，冻死寒鸦”，这是一年里最冷的时候

②可是，到了严冬，不久便是春天，所以人们并不因为寒冷而减少过年与迎春的热情

③这种特制的粥是祭祖祭神的，可是细一想，它倒是农业社会的一种自傲的表现——这种粥是用所有的各种的米，各种的豆，与各种的干果（杏仁、核桃仁、瓜子、荔枝肉、莲子、花生米、葡萄干、菱角米……）熬成的

④按照北京的老规矩，过农历的新年（春节），差不多在腊月的初旬就开头痛了

⑤在腊八那天，人家里，寺观里，都熬腊八粥

⑥这不是粥，而是小型的农业展览会

将上述6个句子重新排列，顺序正确的是：

- A、④⑤①③②⑥ B、①②④③⑤⑥ C、④①②⑤③⑥ D、①⑤②③④⑥

74、①9岁的罗若彤就读于榆中县甘草店镇中心小学

②兰州市榆中县甘草店镇距离兰州市区50公里，这里聚集了大量流动的留守儿童家庭

③屋外紧邻大型货车经过的交通要道，附近不少留守儿童都经由此处前往学校

④早年父母离异，父亲远在新疆打工，罗若彤与67岁的祖母张慧芳租住在距离学校1公里、不足10平方米的出租屋内

⑤祖孙俩挤在一张双人床上，床头堆放着被褥、衣物等，电线乱缠乱绕，燃气灶、取暖炉等生活设施杂乱堆放

⑥孩子上学路上存在诸多安全隐患

将上述6个句子重新排列，顺序正确的是：

- A、①②④③⑤⑥ B、②①④⑤③⑥ C、①④⑤②③⑥ D、②④③⑤①⑥

75、①就目前情况而言，我国已经远远超过美国和欧盟，成为全球肉类消耗第一大国

②这其中，39%来自牛、羊肠道发酵排出的温室气体

③联合国统计的一份调查中显示，畜牧业造成的温室气体排放占全球总排放量的14.5%以上

④根据中国肉类协会统计，2015年中国人均肉类消耗量约为63公斤/年，相较于1978年增长了6倍

⑤而另一大部分则是生产饲料和变更土地用途所产生的，约占30%

⑥在畜牧自身的排放中，牛羊等大型物种占据了主导地位，全球约14亿头牛就占总排放量的66%以上，而600亿只鸡只有10%左右

将上述6个句子重新排列，顺序正确的是：

- A、⑥④②⑤①③ B、③②⑤⑥①④ C、④①③②⑤⑥ D、①⑥④②③⑤

四、数量关系。根据题目要求，在四个选项中选出一个最恰当的答案。

76、小明计划到商店为自己购买衣服和鞋子，预算不超过 800 元，已知衣服每套的售价是 99 元，每双鞋子的售价是 67 元，如果小明至少要买 4 套衣服和 3 双鞋。那么他有多少种不同的购买方式？

- A、5 B、7 C、8 D、4

77、某超市为了增加收入，开展“8 个空啤酒瓶换 1 瓶啤酒”的促销活动，老李在活动期间共购买了 127 瓶啤酒，期间老李不断用空啤酒瓶去换啤酒，请问老李在活动期间一共喝掉了多少瓶啤酒？

- A、140 B、142 C、143 D、145

78、一次期末考试，某班同学成绩统计如下表：

数学 90 分以上	语文 90 分以上	英语 90 分以上	数学和英语 90 分以上	数学和语文 90 分以上	语文和英语 90 分以上	三门功课没有一门 90 分以上
23 人	21 人	20 人	8 人	6 人	10 人	5 人

求：这个班最多有多少人？

- A、45 B、51 C、53 D、55

79、A、B 二人开车同时从甲地到乙地，A 到达乙地后立即返回，在距乙地 64 千米处与 B 相遇，已知 A 每小时行 40 千米，B 每小时行 24 千米，求甲乙两地相距多少千米？

- A、192 B、256 C、320 D、512

80、某单位老刘有一个紧急通知要通知到 60 名同事，假如每通知一位同事需要 1 分钟，同事接电话后也可以互相通知，要使所有同事都接到通知至少需要几分钟？

- A、6 B、7 C、8 D、9

81、某环形跑道，两人由同一起点同时出发，异向而行，每隔 10 分钟相遇一次；如果两人由同一起点同时出发，同向而行，每隔 25 分钟相遇一次。已知环形跑道的长度是 1800 米，那么两人的速度分别是多少？

- A、126 米/分 54 米/分 B、138 米/分 42 米/分 C、110 米/分 70 米/分 D、100 米/分 80 米/分

82、甲乙丙三人完成同一幅拼图的时间分别需要 1 小时、1.2 小时、1.5 小时。现在这幅拼图需要甲、乙完成，两人同时开始，丙刚开始帮助甲拼拼图，后来又帮助乙拼，最后两个拼图同时完成。问：丙分别帮助甲、乙多长时间？

- A、0.1 小时 0.3 小时 B、0.3 小时 0.5 小时 C、0.5 小时 0.6 小时 D、0.6 小时 0.2 小时

83、某文具店老板第一次以 100 元购买了一批铅笔，按每支定价 2.8 元出售。第二次购买时每支铅笔的批发价比第一次多了 0.5 元，共花费 150 元，购买的数量比第一次多 10 支，当这批铅笔售出 70%时，正好遇到文具店店庆，剩余的铅笔以定价 6 折售出。那么，该文具店老板第二次批发的铅笔都售出后盈利多少或亏损多少？

- A、盈利 26.8 元 B、亏损 26.8 元 C、盈利 2.16 元 D、亏损 2.16 元

84、某品牌月饼进价比上月提高了 4%，某商场仍按上月售价销售该品牌月饼，利润率比上月下降了 5 个百分点，那么该商场上月销售该品牌月饼的利润率是多少？

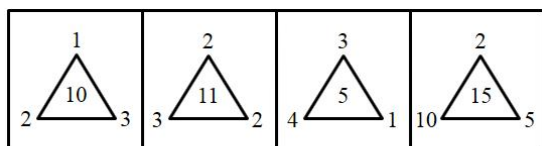
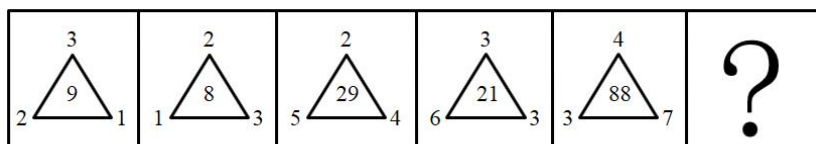
- A、20% B、25% C、30% D、32%

85、小李打算买 38 个梨和苹果，已知苹果每个 3 元，梨每个 2 元，现要求苹果的数量不得少于梨的 3 倍，那么各买多少苹果和梨才能使花费最少？

- A、30 8 B、28 10 C、33 5 D、29 9

五、判断推理。本部分包含图形推理、定义判断、类比推理和逻辑判断四个部分，根据题目的表述选择最佳选项。

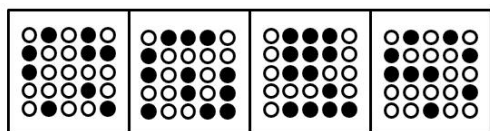
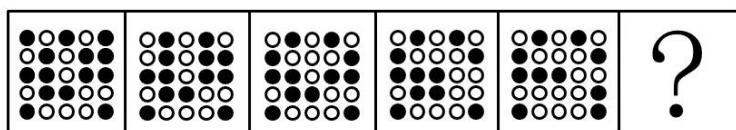
86、从所给的四个选项中，选择最合适的一个填入问号处，使之呈现一定的规律性。



A B C D

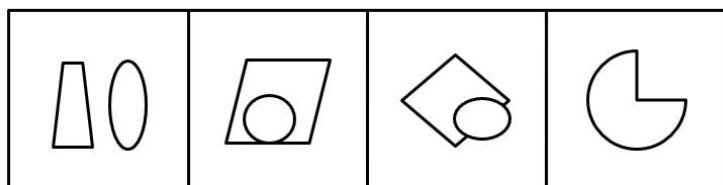
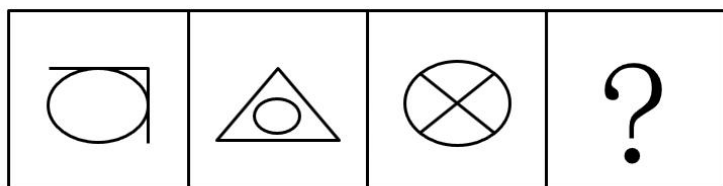
87、题目正在全力以赴征集，将会在征集到后第一时间上传

88、从所给四个选项中，选择最合适的一个填入问号处，使之呈现一定规律性。



A B C D

89、从所给四个选项中，选择最合适的一个填入问号处，使之呈现一定的规律性。



A B C D

90、题目正在全力以赴征集，将会在征集到后第一时间上传

91、法国昆虫学家法布尔曾经做过一个著名的实验：把许多毛毛虫放在一个花盆的边缘上，使其首尾相接，围成一圈，在花盆周围不远的地方，撒了一些毛毛虫喜欢吃的松叶。毛毛虫开始一个跟着一个，绕着花盆的边缘一圈一圈地走，一小时过去了，一天过去了，又一天过去了，这些毛毛虫还是夜以继日地绕着花盆的边缘在转圈，一连走了七天七夜，它们最终因为饥饿和精疲力竭而相继死去。法布尔在做这个实验前曾经设想：毛毛虫会很快厌倦这种毫无意义的绕圈而转向它们比较爱吃的食物，遗憾的是毛毛虫并没有这样做。后来，科学家把这种喜欢跟着前面的路线走的习惯称之为“跟随者”的习惯，把因跟随而导致失败的现象称为“毛毛虫效应”。

根据上述定义，下列属于“毛毛虫效应”的是：

- A、股市中“买涨不买落，经常被套牢”的思想
- B、老张看见小区居民都买了保险，他也毫不犹豫地买了
- C、百事可乐公司向可口可乐公司学习推广模式，迅速打开了中国市场
- D、某公司一直坚持质量第一的原则，使公司规模越办越大

92、注意分配是指在同一时间内，把注意指向不同的对象，同时从事集中不同活动的现象。

根据上述定义，下列不属于注意分配的是：

- A、学生边听讲边做笔记 B、歌手自拉自唱
C、工人边观察仪表边控制调节 D、运动员一鼓作气完成了躲避、转身、投篮的动作

93、印象管理，有时又称印象整饰，是指人们试图管理和控制他人对自己所形成的印象的过程。

根据上述定义，下列不属于印象管理的是：

- A、为了使上级觉得小组所取得的成绩与组长关系密切，当上级来视察时，组长总是与组员在一起讨论问题
B、老陈在工作中勤勤恳恳，兢兢业业，吃苦在前，享受在后
C、晓琳觉得自己的腿粗，每次去公共场合都穿长裙
D、小王上班迟到了，向领导道歉，解释迟到原因

94、信用卡诈骗罪是指以非法占有为目的，违反信用卡管理法规，利用信用卡进行诈骗活动。骗取财物数额较大的行为。利用信用卡，一般是指使用伪造的、作废的信用卡或者冒用他人的信用卡、恶意透支的方法进行诈骗活动。

根据上述定义，下列不属于信用卡诈骗罪的是：

- A、小王是一名数据高手，有一次他提取了小赵的信用卡磁条信息，在其不知情的情况下偷偷做了一张信用卡，并用它买了自己喜爱的手表和提取了 5000 元现金
B、小李在周五下班后，回家的路上捡到了一张信用卡，他觉得反正又没人看见，于是他拿着信用卡去了手机店仿照卡主的签名签字买了一部最新款的智能手机
C、老李遭遇家中巨变，身无分文被逼无奈的他通过信用卡套现的 1 万元买日用品，后来到期后银行多次电话催收，老李拒不接听电话，还为了防止被发现偷偷藏了起来
D、小刘在日常生活中经济压力较大，办理了许多信用卡，以帮助他度过经济难关，但是由于薪资发放不及时，他逾期十天才还上刷卡消费的钱和利息

95、绑架罪，是指勒索财物或者其他目的，使用暴力、胁迫或者其他方法，绑架他人的行为，或者绑架他人作为人质的行为。

根据上述定义下列属于绑架罪的是：

- A、小刘所在单位搞团建活动，活动中，小刘扮演歹徒绑架了扮演人质的小王，并要求小王的父亲老梁拿一百万赎金救人，最后大家成功解救了人质小王，而小刘被反绑了起来
B、老李因为家庭经济困难，他的妻子又患了癌症，走投无路的他绑架了老孙家的宠物狗，让老孙出 1 万元赎回他的狗
C、小明和小红是情侣，在他们分手后，小明把小红迷晕带到郊区的山村里，警告小红如果不同意和他复合就不放她回家
D、刘鑫与张文是好朋友，某次因为吵架张文不听刘鑫解释。刘鑫为了解释，把张文带到家中，跟她解释完后将其送回家

96、当两物体产生相对滑动（或有相对滑动趋势）时，则在接触间将产生阻碍物体滑动的力，这种力称为滑动摩擦力。

根据以上定义，下列属于滑动摩擦力的是：

- A、骑自行车时，车轮与地面之间的摩擦力 B、擦黑板时，黑板擦与黑板之间的摩擦力
C、人在正常走路时产生的摩擦力 D、篮球在地面上滚动时产生的摩擦力

97、呼告是在行文中直呼文中的人或物的一种修辞方式。一般可把它分为呼人、呼物两种形式。运用呼告，可以抒发强烈的思想感情，加强感染力，并引起读者强烈的感情共鸣。

根据以上定义，下列语句未使用呼告这一修辞方式的是：

- A、秋，听说你已来到
B、鼓动吧，风！咆哮吧，雷！闪耀吧，电！
C、周总理，我们的好总理，你在哪里呵，你在哪里？
D、水面冻冰，冰积雪，雪上加霜

98、逆向思维，也称求异思维，它是对司空见惯的似乎已成定论的事物或观点反过来思考的一种思维方式。敢于“反其道而思之”，让思维向对立面的方向发展，从问题的相反面深入地进行探索，树立新思想，创立新形象。

根据上述定义, 下列不属于逆向思维的是:

- A、司马光砸缸放水, 救出了小伙伴
- B、农民老张在秋收中比别人早收了几天, 结果天降大雨, 全村只有自己丰收
- C、法拉第根据电流的磁效应, 认为磁场也能产生电, 提出了电磁感应定律
- D、小王在自己的简历中将经历倒叙, 使得自己在万份简历中脱颖而出

99、高峰体验是指人们在追求自我实现的过程中, 基本需要获得满足后, 达到自我实现时所感受到的短暂的、豁达的、极乐的体验, 是一种趋于顶峰、超越时空、超越自我的满足与完美体验。

根据上述定义, 下列不属于高峰体验的是:

- A、冯导终于拍出大片获得奥斯卡最佳导演时的体验
- B、老崔爬上山峰看到朝阳升起时的体验
- C、村民见到老李与失散多年孩子拥抱时的体验
- D、小张经过努力终于成为飞行员时的体验

100、结构化决策是对某一决策过程的环境及规则, 能用确定的模型或语言描述, 以适当的算法产生决策方案, 并能从多种方案中选择最优解的决策。非结构化决策是指决策过程复杂, 不可能用确定的模型和语言来描述其决策过程。更无所谓最优解的决策。

根据上述定义, 下列属于非结构化决策的是:

- A、某国确定将与周边国家大力发展伙伴关系
- B、某市要再建造一座长江大桥
- C、某景点限制游客进入数量
- D、某网店根据销量确定进货品类

101、长江: 中国

- A、尼罗河: 非洲
- B、密西西比河: 美国
- C、伏尔加河: 俄罗斯
- D、巴拿马运河: 巴拿马

102、木头: 木桌: 家具

- A、百合: 花卉: 药用
- B、橡胶: 轮胎: 汽车
- C、树木: 森林: 自然
- D、小麦: 馒头: 食物

103、图书馆: 书籍: 保存

- A、医务室: 医生: 休息
- B、足球场: 足球: 裁判
- C、冰箱: 午餐肉: 冷藏
- D、教师: 教室: 上课

104、花瓶 对于 _____ 相当于 _____ 对于 照明

- A、瓷器 电路
- B、艺术 灯塔
- C、石狮 地图
- D、装饰 台灯

105、酒驾 对于 _____ 相当于 _____ 对于 尊敬

- A、处罚 善良
- B、拘留 轻视
- C、交通规则 价值观
- D、交警 道德

106、甲乙丙三人商量去钓鱼, 甲说: 如果乙去, 我就去; 乙说: 如果我不去, 丙也不会去; 丙说: 如果甲不去, 那么我就去。

那么可以推出的是:

- A、甲去钓鱼
- B、乙去钓鱼
- C、丙去钓鱼
- D、乙不去钓鱼

107、如今的自媒体都是标题党, 张姓微博大V 肯定会被警告要注意标题的准确性。

下列选项中的逻辑与上述推理最接近的是:

- A、北方人不喜欢甜食, 小张不是北方人, 所以小张不会不喜欢甜食
- B、性格叛逆的孩子有出息, 小刘有出息, 所以小刘性格叛逆
- C、发达国家都是不遵守国际法的, 有些美洲国家不遵守国际法, 所以有些国家不是发达国家
- D、现在的年轻演员普遍长得好看, 小蔡是年轻演员, 所以小蔡长得好看

108、目前我国几大手机厂商均陆续推出了 5G 手机, 但也有外国厂商指出, 目前 5G 手机技术不成熟, 现在还无法大规模推广普及。

以下哪项如果为真, 不能支持外国厂商的观点?

- A、新技术往往价格昂贵
- B、目前 5G 基站主要分布于大城市
- C、媒体宣传 5G 手机非常到位
- D、大部分民众并不对这种技术升级感兴趣

109、春游过程中, 小米、小钱和小何看到了一棵树, 小钱说: “它不是松树, 是柏树。” 小何说: “它不是柏树, 是松树。” 小米不能确定是什么树, 但是他说: “它不是杨树, 也不是柏树。” 最后老师说: “你们三个人的猜测中只有一个人的两个判断都对, 一个人的判断是一对一错, 还有一人全错了。”

如果老师的说法是对的, 则可以得出他们看到的是哪种树?

- A、松树
- B、柏树
- C、杨树
- D、无法确定

110、学校要举行文艺汇演，某系准备在唱歌、跳舞、相声、小品中确定一个或几个节目去参加。系领导通过筛选，最终形成以下三种意见：

- (1) 对于唱歌和跳舞，至多选择一个。
- (2) 对于唱歌和小品，至少选择一个。
- (3) 如果选择相声或者小品，就不能选择跳舞。

最终参加文艺汇演的节目只满足上述一种意见。

根据以上陈述，以下哪项是正确的？

- A、选择跳舞、相声、小品
- B、选择跳舞，但不选择相声和小品
- C、选择唱歌、跳舞、小品
- D、选择相声、但不选择跳舞和小品

111、某小区在2018年之前公共设施经常遭到破坏，2018年在小区居民的要求下，小区物业为小区安装了多角度摄像监控系统，之后该小区的公共设施很少受到破坏，这说明多角度摄像监控系统对于保护小区公共设施起到了重要的作用。

以下哪项如果为真，最能加强上述结论？

- A、从2018年开始，该市其他同等档次未安装监控系统的小区公共设施破坏事件显著增加
- B、该市的另一个小区也安装了多角度摄像监控系统，但效果并不理想
- C、从2018年开始，小区物业增加了工作人员，加强了治安巡逻
- D、多角度摄像监控系统对于商场等公共场所防范作用较差

112、星座预测就是根据星辰的位置及其各种变化来预测人世间的各种事物。有很多人相信并依照星座预测制定每天的日程。因此，有人认为星座预测是正确的，否则也不会有这么多人相信。

以下哪项如果为真，最能反驳上述观点？

- A、星座确实存在
- B、有更多的人不相信星座预测
- C、未成年人才相信星座预测
- D、会有很多人相信非常不科学的事情

113、为了能够使自己保持旺盛的精力投入到工作中去，年轻人小李每天中午用完午餐之后都会冲一杯雀巢速溶咖啡提神，可是通过一周的跟踪观察发现每天中午饮用完咖啡后，小李下午还是犯瞌睡，于是他认为：喝雀巢咖啡不能提神。

以下哪项如果为真，最能削弱上述结论？

- A、以前小李中午不喝咖啡，下午在座位上都睡着了
- B、小李喝的是有食品安全认证的雀巢咖啡
- C、雀巢咖啡在国内销量位居速溶咖啡第一位
- D、雀巢咖啡的国内售价比较其他咖啡更优惠

114、自从某中学在高三年级实行班主任岗位目标责任制后，学校的升学率逐年上升。由此可见，只有实行班主任岗位目标责任制，才能使该校的升学率稳步增长。

以下哪项如果为真，最能削弱上述论证？

- A、近几年高校扩招，学生升学率整体形势较好
- B、没有实行班主任岗位目标责任制的A中学，近几年的升学率也在稳步上升
- C、前年该校开始实行教师薪酬改革，极大地调动了广大教师的积极性
- D、如果该校没有实行班主任岗位目标责任制，近两年的升学率会上升得更快

115、当前，银行面临着这样一个问题，就是对于那些在贷款后不能及时还贷的客户，银行除了不断通过各种形式催款别无他法。因此许多银行都向不能及时还贷的客户收取滞纳金。但有关调查表明，收取滞纳金后不能及时还贷的客户数量不但未减少，反而增加了。

以下哪项如果为真，最能解释上述调查结果？

- A、收取滞纳金后，更多的客户认为即使不及时还贷也不必内疚，只要支付滞纳金就行
- B、有个别客户对收取滞纳金的行为不满，有时会故意不及时还贷来抗议
- C、有些客户因为生活压力大，常常不能及时还贷
- D、收取滞纳金的金额太低，对原本经常不及时还贷的客户没有太大的压力

六、资料分析。所给出的图、表、文字或综合性资料均有若干个问题要你回答。你应根据资料提供的信息进行分析、比较、计算和判断处理。

2018年1-10月份, 全国房地产开发投资99325亿元, 同比增长9.7%, 增速比1-9月份回落0.2个百分点。其中, 住宅投资70370亿元, 增长13.7%, 增速回落0.3个百分点。住宅投资占房地产开发投资的比重为70.8%。

1-10月份, 东部地区房地产开发投资53136亿元, 同比增长10.8%, 增速比1-9月份回落0.2个百分点; 中部地区投资20755亿元, 增长7.1%, 增速回落1.3个百分点; 西部地区投资21254亿元, 增长8.4%, 增速提高0.9个百分点; 东北地区投资4180亿元, 增长15.6%, 增速回落0.9个百分点。

1-10月份, 商品房销售面积133117万平方米, 同比增长2.2%, 增速比1-9月份回落0.7个百分点。其中, 住宅销售面积增长2.8%, 办公楼销售面积下降10.5%, 商业营业用房销售面积下降2.8%。商品房销售额115913亿元, 增长12.5%, 增速回落0.8个百分点。其中, 住宅销售额增长15%, 办公楼销售额下降6.5%, 商业营业用房销售额增长1.7%。

1-10月份, 东部地区商品房销售面积53545万平方米, 同比下降4.7%, 降幅比1-9月份扩大0.4个百分点; 销售额61680亿元, 增长5.4%, 增速回落0.6个百分点。中部地区商品房销售面积37733万平方米, 增长8.7%, 增速回落1.5个百分点; 销售额25380亿元, 增长21.1%, 增速回落1.6个百分点。西部地区商品房销售面积35430万平方米, 增长21.1%, 增速回落0.3个百分点; 销售额24165亿元, 增长26%, 增速回落0.6个百分点。东北地区商品房销售面积6409万平方米, 下降4.7%, 降幅扩大1.2个百分点; 销售额4688亿元, 增长7.2%, 增速回落2.5个百分点。

10月末, 商品房待售面积52789万平方米, 比9月末减少401万平方米。其中, 住宅待售面积减少321万平方米, 办公楼待售面积减少19万平方米, 商业营业用房待售面积减少46万平方米。

116、2017年1-10月, 住宅投资占房地产开发投资的比重约为:

- A、68.4% B、70.8% C、72.8% D、73.4%

117、2018年1-10月, 在东部、中部、西部、东北四个地区中, 商品房销售单价与全国变化相同的有几项?

- A、1 B、2 C、3 D、4

118、在2018年的下列指标中, 同比增长幅度最大的是:

- A、1-9月东部地区房地产开发投资 B、1-10月西部地区商品房销售额

- C、1-9月商品房销售额 D、1-10月住宅投资

119、2018年1-10月, 在东部、中部、西部、东北四个地区中, 按商品房销售额同比增长量的排序正确的是哪一项?

- A、东部地区 > 中部地区 > 西部地区 > 东北地区 B、西部地区 > 中部地区 > 东部地区 > 东北地区

- C、东北地区 > 西部地区 > 中部地区 > 东部地区 D、中部地区 > 西部地区 > 东部地区 > 东北地区

120、根据材料, 下列说法正确的是:

- A、如果保持2018年10月末的同比增量不变, 商品房待售面积将在2019年下半年跌破5亿平方米

- B、2018年10月末, 商品房待售面积同比下降0.75%

- C、2018年1-10月, 在我国四个区域中, 东部地区商品房销售单价最高

- D、2018年10月末, 在商品房待售面积中, 住宅待售面积环比变化最小

微信扫一扫二维码, 关注“公务员考试挺简单”微信公众号, 可获取更多公考经验。分享公考经验, 还可获得现金奖励哈

手淘扫描淘宝店铺, 可以购买省考、国考历年真题哦



微信公众号



淘宝店铺