

# 2020 年 0822 辽宁公务员考试《行测》真题

## 第一部分 常识判断

1、习近平总书记 2020 年 3 月 6 日在决战决胜脱贫攻坚座谈会上强调，这次会议的主要任务是，分析当前形势，克服新冠肺炎疫情影响，凝心聚力，打赢脱贫攻坚战，做到“两个确保”。下列属于“两个确保”内容的是：

- ①如期完成脱贫攻坚目标任务 ②实现经济社会高质量发展  
③打赢疫情防控阻击战 ④全面建成小康社会

A、①② B、①③ C、②④ D、①④

2、习近平总书记 2020 年 1 月 8 日在“不忘初心、牢记使命”主题教育总结大会上的讲话中引用了一句古语“君子之过也，如日月之食焉：过也，人皆见之；更也，人皆仰之。”下列选项最能体现这一古语精髓的是：

- A、敢于自我革命，勇于开拓创新 B、敢于坚持真理，勇于担当作为  
C、敢于直面问题，勇于修正错误 D、敢于坚持原则，勇于承担责任

3、下列有关公共卫生的说法正确的是：

- A、突发公共卫生事件应急响应分为 I 级，II 级，III 级三个等级  
B、按照我国现行标准，甲类传染病有鼠疫、霍乱、传染性非典型肺炎三种  
C、省，自治区，直辖市人民政府卫生行政主管部门有权向社会发布本行政区域内突发事件的信息  
D、医疗卫生机构发现可能发生传染病暴发、流行的，应当在 2 小时内向所在地县级人民政府卫生行政主管部门报告

4、“一带一路”倡议自提出以来，已逐步成为当今世界广泛参与的重要国际合作平台，下列有关 2019 年“一带一路”发展成果的说法正确的是：

- A、中欧班列全年开列 8200 多列，“一带一路”在欧洲稳步前行  
B、2019 年 4 月，第二届“一带一路”国际合作高峰论坛在杭州举行  
C、中国人民银行和联合国开发计划署共同撰写研究报告，提出了“一带一路”投融资规划框架  
D、第六届丝绸之路国际电影节于 2019 年 10 月在泉州举办，推动“一带一路”国家间的文化交流

5、为提升生态文明、建设美丽中国，党和政府做了一系列重要工作。下列有关生态文明建设的说法不正确的是：

- A、自 2020 年 1 月起，黄河流域的自然保护区将全面禁止生产性捕捞  
B、2019 年 8 月第一届国家公园论坛在青海省举行，与会代表形成了 8 条“西宁共识”  
C、2019 年，第二轮中央生态环保督察启动，拟用三年时间完成例行督查，再用一年时间开展回头看  
D、2019 年 11 月，住建部发布了新修订《生活垃圾分类标志》标准，将生活垃圾类别调整为可回收物、有害垃圾、厨余垃圾和其他垃圾 4 个大类和 11 个小类

6、近年来，我国面临的农业安全复杂性不断增加。下列关于农业安全的说法不正确的是：

- A、为确保我国粮食安全，多部门制定了《沙漠蝗及国内蝗虫监测防控预案》，要求各地严防境外沙漠蝗入侵危害，继续做好国内蝗虫防治工作  
B、生物安全三级实验室需要从事某种高致病性动物病原微生物实验活动的，需要报省级以上畜牧兽医主管部门批准  
C、根据现行规定，举报为防控非洲猪瘟作出特别重大贡献的，可一次性给予举报人 10 万元奖励  
D、2020 年是我国第三次全国农作物种质资源普查与收集行动的收官之年

7、为应对新冠肺炎疫情，我国出台了一系列政策举措，帮助企业和个体工商户减负纾困，促进复工复产。下列哪一选项不属于我国在支持复工复产方面的优惠政策：

- A、阶段性减免增值税小规模纳税人增值税 B、阶段性减免企业和个体工商户物业租金  
C、阶段性减征职工基本医疗保险单位缴费 D、阶段性减免企业养老、失业、工伤保险单位的缴费

8、下列关于我国科技自主可控的说法错误的是：

- A、基础性技术创新关乎科技自主可控的根本  
B、国产替代是我国近期和未来科技进步和工业发展的主要途径

- C、当前我国科技发展的主要问题表现为“缺芯少魂”“缺芯少屏”
- D、实现科技自主可控，要着力引进技术，引领关键核心领域科技崛起
- 9、下列关于法律基础知识的表述正确的是：
- A、司法机关在适用法律审理案件时，优先适用法律原则，再适用法律规则
- B、法的渊源通常指法的形式意义上的渊源，即法律规范的创制方式和外部表现形式
- C、法的公布与法的实施是两个不同的概念，但实践中法的公布日期即法的实施日期
- D、当同一机关制定的法律出现效力冲突时，一般解决原则是新法优于旧法，一般法优于特别法
- 10、下列名言中出现最晚的一项是：
- A、笛卡尔：我思故我在
- B、亚里士多德：人是天生的政治动物
- C、亚当·斯密：人天生，并且永远，是自私的动物
- D、阿基米德：给我一个支点，我就能撬起整个地球
- 11、下列俗语与其蕴含的经济学道理对应错误的是：
- A、田忌赛马——成本与收益
- B、知人知面不知心——信息不对称
- C、十年树木，百年树人——长期投资
- D、萝卜白菜，各有所爱——偏好理论
- 12、下列诗词没有描述生物应激性反应的是：
- A、明月别枝惊鹊，清风半夜鸣蝉
- B、我有迷魂招不得，一唱雄鸡天下白
- C、人间四月芳菲尽，山寺桃花始盛开
- D、飞蛾性趋炎，见火不见我，愤然自投掷
- 13、香蕉水作为油性涂料、油漆等建筑材料的溶剂和稀释剂，常用于家庭和办公室装修，下列关于香蕉水的说法正确的是：
- A、香蕉水是无色透明易挥发的有机液体
- B、香蕉水的主要成分是乙醇，易燃无毒
- C、香蕉水是一种特殊水溶液，不易燃烧
- D、香蕉水是提取于香蕉的天然无毒液体
- 14、下列关于我国城市的表述错误的是：
- A、北京市、上海市、天津市和重庆市是直辖市
- B、昆山市、义乌市、江阴市和温岭市是县级市
- C、东莞市、三沙市、中山市和嘉峪关市是地级市
- D、成都市、西安市、杭州市和长沙市是副省级城市
- 15、下列关于光现象的物理理解释正确的是：
- A、小孔成像——光的衍射现象
- B、天空呈现蓝色——光的散射现象
- C、早上和黄昏的太阳是红色的——光的反射现象
- D、衣服湿了颜色变深——布料沾水后反射到眼睛的光波频率发生变化
- 16、下列作家与其作品中所展现的地域对应错误的是：
- A、鲁迅——《阿Q正传》——绍兴
- B、沈从文——《边城》——湘西
- C、汪曾祺——《受戒》——高邮
- D、莫言——《红高粱》——东北
- 17、下列影视剧情符合历史事实的是：
- A、清朝时称官员为大人，如刘大人、李大人等
- B、宋朝官员大声宣读圣旨道“奉天承运皇帝诏曰”
- C、武则天的父亲见到武则天时，称呼其为“媚娘”
- D、唐贞观年间官员对话讲到唐太宗时，称“吾皇太宗”
- 18、下列哪一选项是蚊子用于获取“猎物”信息的主要器官：
- A、复眼
- B、蚊翅
- C、蚊足
- D、触角
- 19、为治疗维生素缺乏导致的夜盲症、败血病、佝偻病和脚气病而需要补充相对应的食物依次是：
- A、谷类、深海鱼、胡萝卜、柑橘
- B、柑橘、深海鱼、谷类、胡萝卜
- C、深海鱼、胡萝卜、谷类、柑橘
- D、胡萝卜、柑橘、深海鱼、谷类
- 20、生活中俗称“暖宝宝”的一次性取暖片主要由铁粉、活性炭、蛭石、水、盐等材料构成，下列关于其发热原理的说法正确的是：
- A、活性炭的作用是减少铁粉和空气的接触面积
- B、盐和水的作用是加快铁粉氧化
- C、发热原理是铁的氧化吸热过程
- D、蛭石的作用是散热



A、衬托 连续 B、渲染 继续 C、装饰 持续 D、点缀 存续

30、在西汉时期，一种青铜染炉非常流行，以至于在许多地方都有出土，这种染炉分为三个构造：主体为炭炉，下部是\_\_\_\_\_炭灰的盘体，上面放置一具活动的杯。它曾让几代学者对它的用途\_\_\_\_\_，直到今天，考古界才确定它是一种类似现代意义上的“小火锅”。

填入划横线部分最恰当的一项是：

A、接收 孜孜以求 B、承接 迷惑不解 C、收纳 朝思暮想 D、盛放 潜精研思

31、中国的格律诗，总体上在唐代\_\_\_\_\_，达到无法超越的地步。宋诗其实是唐诗的延续，宋代有一些优秀的诗人，他们的创作可与唐人媲美，譬如苏东坡、王安石、陆游等。宋诗中，写得情景交融、意境优美的作品，可以说\_\_\_\_\_。

依次填入划横线部分最恰当的一项是：

A、叹为观止 触目皆是 B、登峰造极 俯拾皆是 C、无出其右 汗牛充栋 D、无与伦比 斗量车载

32、两相比较，白话文在通俗易懂的同时，往往在韵律上缺少节奏感，篇幅冗长，而文言文能用\_\_\_\_\_传达出深层或多层意思，其凝练之美、韵律之美和意境之美是白话文\_\_\_\_\_的。

依次填入划横线部分最恰当的一项是：

A、一语双关 略逊一筹 B、只言片语 无与伦比 C、三言两语 相形见绌 D、寥寥数语 无可比拟

33、饮食在中国文化传承中是较稳定的领域，国有盛衰，代有兴亡，用筷子吃饭数千年不变，与宴饮相关的某些礼仪程式也很少变化，盛行西周的乡饮酒礼，上可溯至三代遗风，下传至清道光年间，其敬老、尊长、议政的古风\_\_\_\_\_，连酒会程序——谋宾、迎宾、旅酬和送宾等礼仪也\_\_\_\_\_。

依次填入划横线部分最恰当的一项是：

A、如出一辙 毫无二致 B、一脉相承 大同小异 C、一脉相通 相差无几 D、衣钵相传 半斤八两

34、近年来，人们的生活条件越来越好，对旅游\_\_\_\_\_的要求也越来越高。从前到此一游、\_\_\_\_\_的旅游方式已逐渐被深度体验、注重文化与互动的旅游方式所替代，正是在这种背景下，文化与旅游融合的发展方式\_\_\_\_\_，并成为热点。

依次填入划横线部分最恰当的一项是：

A、质量 浮光掠影 脱颖而出 B、环境 浅尝辄止 蔚然成风  
C、品质 走马观花 应运而生 D、生态 蜻蜓点水 蔚为大观

35、曹雪芹通过贾府的衣食住行把\_\_\_\_\_人家的富贵之相刻画得淋漓尽致。一屋一室，或雕梁画栋，或\_\_\_\_\_，或金碧辉煌，或简约古朴，相映成辉，相映成画；一餐一饮精烹细作，食不厌精；\_\_\_\_\_，雀衣彩绣，美轮美奂。但仍然没有宴席上的浅斟深酌更能体现出贾府“鲜花着锦、烈火烹油”之盛；没有比推杯换盏之时的琴歌酒赋更能体现出翰墨书香之家族的风流雅致。

依次填入划横线部分最恰当的一项是：

A、筚门圭窦 岸芷汀兰 一裙一裳 B、兰艾同焚 粉墙黛瓦 一丝一缕  
C、钟鸣鼎食 曲径通幽 一衣一带 D、桑枢瓮牖 小桥流水 一鞋一袜

36、目前，第五代移动通信（5G）已成为当前和未来全球业界的焦点，将\_\_\_\_\_移动互联网进入新时代，美国高通公司指出，5G技术将成为和电力、互联网等发明一样的通用技术，\_\_\_\_\_未来的转型变革，重新定义工作流程并\_\_\_\_\_经济竞争优势规则，到2035年，5G将在全球创造12.3万亿美元的经济产出，同时创造2200万个工作岗位。

依次填入划横线部分最恰当的一项是：

A、带领 催生 重造 B、引领 催化 重塑  
C、引导 催发 制定 D、带动 催促 制订

37、而不少街坊所熟知的“冬病夏治”，就是根据祖国医学“春夏养阳，秋冬养阴”的理论，\_\_\_\_\_四时特性的养生疗法。“冬病”指某些好发于冬季，或在冬季加重的病变，如支气管炎、慢性阻塞性肺疾病、过敏性鼻炎、失眠、骨关节痛、体质虚寒症等疾病。“夏治”指夏季这些病情有所缓解，趁其发作缓解季节，补气扶阳、辨证施治，以\_\_\_\_\_冬季旧病复发，或减轻其症状。

依次填入划横线部分最恰当的一项是：

A、服从 防止 B、适应 免予

C、顺应 预防

D、符合 避免

38、在未来 30 年里，“气候变化技术”既包括\_\_\_\_\_防洪设施、用转基因技术使庄稼抵御干旱气候等短期防御科技，也包括使用碳隔离方式将温室气体从大气层抽离并存入地下，将二氧化铝植入大气层以此来减少太阳辐射对地球温度影响等的长期防御科技\_\_\_\_\_。

依次填入划横线部分最恰当的一项是：

A、修建 计划

B、兴建 打算

C、建设 设想

D、建造 构想

39、改革开放以来，伴随着一系列体制障碍的清除，物质资本和人力资本得到巨大的\_\_\_\_\_和有效的重新\_\_\_\_\_。中国终于把自己在几个世纪“大分流”中的落后地位，\_\_\_\_\_为向发达经济体的“大趋同”，开始了中华民族复兴的宏伟征程，并以成为世界第二位经济体为象征，取得了世人瞩目的发展成就。

依次填入划线部分最恰当的一项是：

A、累积 组合 扭转

B、积聚 分配 转变

C、积累 配置 逆转

D、积攒 组织 转化

40、随着学校消失，村庄的文化高地不在，村庄文化脉络的\_\_\_\_\_受到了影响；青少年长期“不在场”，对村庄的\_\_\_\_\_感逐渐增强。特别是在以传统农业文明为指征的村庄文化正在大面积\_\_\_\_\_，农村文化呈现虚化、空洞化，无疑更进一步加剧了村庄文化的衰亡，对村庄的可持续发展造成不利的影响。

依次填入划线部分最恰当的一项是：

A、纲维 疏远 消失

B、维系 疏离 式微

C、轴心 隔阂 衰亡

D、衔接 陌生 凋零

41、水熊被认为是世界上最顽强的动物，其显著特征是能在各种极端环境中存活下来。科学家曾经将水熊冰冻在冰层之中，暴露在放射线之下，甚至将它们发送至太空，但令人惊奇的是，水熊仍能从假死状态中复活。最近，科学家揭示了水熊复活的秘密，其 DNA 兼具动物和细菌成分，使其成为“弗兰肯斯坦”混合体。此外，科学家在研究水熊复活过程中哪些基因会被激活时，还发现了一组特殊蛋白质。这组蛋白质能够快速替换体内损耗的水分，并修复受损细胞，致使这种动物接近于不可毁灭状态。

这段文字旨在说明：

A、水熊的显著特征是能在各种极端环境中存活

B、水熊是一种能复活的“弗兰肯斯坦”混合体

C、水熊拥有神秘 DNA 使它接近于不可毁灭

D、水熊拥有的特殊蛋白质能修复受损的细胞

42、正因为中国法律史学除了单纯的理论研究，还要探究解决当代中国的法律问题，所以有必要坚持独立的中国立场，不论是单纯的理论研究，还是切近实际的应用研究，都需坚持独立思想立场，才能做出有价值的研究成果。这里的独立立场，其实就是中国自身的立场，而不是站在别国的立场之上。近代以来，西方国家一些学者对于中国法律不客观的负面评价，曾经影响到中国学者对待本国法律历史的态度。直到今天，这种影响仍没有完全消除，需要加以矫正。

这段文字旨在强调：

A、中国法律史学研究需探究解决当代中国的法律问题

B、中国法律史学研究受到西方学者不客观的负面评价

C、中国法律史学研究必须坚持中国自身独立的立场

D、中国法律史学研究曾受到西方学者影响至今未消除

43、生命存在的首要条件是液态水，一颗行星是否宜居取决于表面温度能否维持液态水的存在。冰行星或冰卫星地表原本被冰雪覆盖，此前研究认为，随着恒星辐射增强，其地表冰雪最终会融化形成液态水，从而适宜生命生存。不过，最新研究证明，随着恒星辐射增强，冰行星或冰卫星将直接进入极端炎热的温室逃逸状态，表面温度将升至 100 摄氏度以上，液态水无法存在。一旦冰雪融化，行星地表反射能力的突然降低使其吸收恒星辐射的能力大大增强。此外，冰雪融化后，大量水汽进入大气，强温室效应也使地表温度进一步升高。

下列说法与原文相符的是：

A、宜居行星在事实上并不存在

B、冰行星或冰卫星其实不宜居

C、冰行星或冰卫星其实没有冰

D、温室逃逸状态阻止了冰融化

44、生长在非洲大草原上的灰犀牛，身躯庞大，给人一种行动迟缓、安全无害的错觉，从而时常忽略了危险的存在——当灰犀牛被触怒发起攻击时，却会体现出惊人的爆发力，阻止它的概率接近于零，最终引发破坏性极强的灾难。概率大、破坏力强是“灰犀牛”事件最重要的特征。很多危机事件，与其说是“黑天鹅”，不如说更像是“灰犀牛”。它们并非发端于不可预测的小概率事件（“黑天鹅”），而是大概率、高风险事件（“灰犀牛”）不断

演化的结果，这些风险的存在早就广为人知，却由于体制或认识的局限，没有得到积极防范和应对，最终升级为全面的系统性危机。

根据上述文字，下列说法正确的是：

- A、“黑天鹅”和“灰犀牛”事件都是严重的无法防范的危机事件
- B、与“灰犀牛”相对，“黑天鹅”是指破坏性不强的小概率事件
- C、许多“黑天鹅”事件背后都隐藏着“灰犀牛”危机
- D、“灰犀牛”和“黑天鹅”事件没有明显区别，一定条件下可以互相转化

45、研究人员发现在大脑中存在着不同种类和巨大数量的高维几何结构，由紧密连接的神经元团块和它们之间的空白区域（空洞）组成。这些团块或空洞似乎对大脑功能至关重要，当研究人员给虚拟大脑组织施加刺激时，他们发现神经元以一种高度有组织性的方式对刺激作出了反应。这意味着我们思考问题的时候，神经元的团块会逐渐组合成更高维的结构，形成高维的孔隙或空洞，团块中的神经元越多，空洞的维度就越高，最高时可以达到11个维度。

根据上述文字，下列说法正确的是：

- A、团块中的神经元越多，空洞的维度就越高，意识越复杂
- B、神经元团块或空洞互相连接，以施压方式促进人的思考
- C、神经元能以高度有组织性的方式反应，取决于大脑功能
- D、人脑充满多维几何结构，最高时可在11个维度上运行

46、最新研究表明，火星表面可能包含着一种叫做高氯酸镁的有毒化学化合物，它在紫外线下能摧毁细菌。研究者将枯草杆菌放置在短波紫外线辐射下，其状况类似于火星表面，发现高氯酸镁具有强杀菌性，这意味着它能潜在杀死所有细菌。只要存在高氯酸镁，枯草杆菌几分钟内就失去生存能力。同时，研究人员发现火星表面其它两种物质——氧化铁和过氧化氢，与高氯酸镁结合后杀菌性能增强10倍。这项发现表明，火星表面对于细胞非常危险。长远来看，可能对后续的火星探索产生影响，尤其是可能大大增加了人类开发火星的成本。

这段文字意在强调：

- A、高氯酸镁杀灭枯草杆菌有奇效
- B、已找到为火星表面消毒的方法
- C、火星自身具有杀菌自净的能力
- D、火星比预想更不适宜生命存活

47、全球数以百计的医疗机构声称可用干细胞疗法修复多发性硬化症患者受损的组织细胞。专家指出，这些机构直接向患者打广告称可治愈疾病，而实际上没有任何证据表明它们有效或不会造成伤害。在这种情况下，处理相关广告十分必要，某些类型的干细胞移植，例如使用血液或皮肤干细胞，经全临床临床试验证实能治疗特定种类的癌症以及让烧伤病人完成植皮手术，因而得到监管机构批准。专家称，虽然干细胞疗法前景广阔，但许多潜在的干细胞疗法仍处于研发的最初阶段，尚未得到监管机构的批准，还需要通过严格的临床试验和监管手续来确定其是否安全有效。

这段文字意在说明：

- A、血液和皮肤干细胞已广泛用于治疗
- B、干细胞疗法目前仍然存在一定风险
- C、监管组织应引入有效广告管理措施
- D、研发细胞和组织疗法仍是巨大挑战

48、人之所以能看到物体，是因为物体阻挡了光波的通过。如想让某个小球隐形，可在该小球的四周覆盖一层以同心圆形状排列的超材料，这种材料能挡住传来的一切光波，并且不发生反射或吸收现象。被挡开的波在物体的另一边再次会合后继续沿直线传播。在观察者看来，物体就似乎变得“不存在”了，也就实现了视觉隐身，简而言之，隐身衣使用的超材料，可以让雷达波、光线或者其他波绕过物体而不会被反弹，进而达到不可视的效果。未来，隐身衣将被首先应用于军事领域，提高作战的隐蔽性和安全性。但如果任何人都可以实现隐形，也会引发一系列社会问题。

与这段文字意思相符的一项是：

- A、隐身衣能够让光线穿透自身
- B、物体阻挡光波使人能够视物
- C、隐身衣用于军事会引发战争
- D、使用超材料能够反弹雷达波

49、在阅读时代，自媒体的影响力不可小觑。由于拥有更广阔的传播路径和分发渠道，受公众关注度高，自媒体人掌握了一定话语权。有些自媒体人与传统媒体机构相比，确实不落伍，公信力给他们带来了收益。然而，公信力是把双刃剑，自媒体人既要看到流量背后的利益，也要认识到滥用自己的公信力会引发哪些负面效果，若以为可以仰仗传播力而“任性”，则实实在在打错了算盘。滥用话语权的后果，将直接影响自己辛苦树立起来的

公信力，失去公众的支持与关注。

这段文字意在强调：

- A、自媒体具有强大的影响力  
B、自媒体人不应只关注收益  
C、自媒体人应争取公众支持  
D、自媒体的话语权不可滥用

50、有研究团队让 22 名 17 岁至 42 岁的志愿者在两周内每晚照常使用电子设备，但在睡前佩戴三小时防蓝光眼镜，发现其晚间褪黑激素水平整体上升了大约 58%，上升幅度甚至超过服用褪黑激素补充剂带来的变化。志愿者感觉睡眠质量改善，入睡更快，整体睡眠时间延长，研究者说，最大的蓝光光源是日光，但大部分基于 LED 灯的设备也会发出蓝光，“人造蓝光”会激活对褪黑激素有抑制作用的内在光敏视网膜神经节细胞，从而干扰睡眠。该研究者建议睡前少用电子设备，或佩戴防蓝光眼镜。

从这段文字可以推出：

- A、电子设备的蓝光会减少褪黑激素的分泌而促进睡眠  
B、天然的日光并不会激活内在光敏视网膜神经节细胞  
C、睡前不佩戴防蓝光眼镜会使褪黑激素水平整体上升  
D、提升褪黑激素水平有助于入睡更快和睡眠质量改善

51、蟑螂的生殖分为有性生殖和孤雌生殖两种方式。蟑螂雌性个体生活在完全由雌性组成的群体中时，会进行孤雌生殖，产卵的时间也会提前。研究者通过实验分别验证蟑螂性别和雌性激素对孤雌生殖的影响。首先，将一只雌性蟑螂和被阉割的雄性蟑螂放在一起饲养，发现这只雌性蟑螂产卵的时间没有发生变化；接着，又为雄性个体定期提供雌性激素，造成它们生活在雌性群体中的假象，但它们的产卵时间也没有提前。据此，研究者推测蟑螂需要雌性散发特有的化学信号才能完成孤雌生殖，并非因为性激素或者其他化学信号的参与。

根据上述文字，下列说法正确的是：

- A、雄性的出现影响了蟑螂的产卵时间  
B、纯雌性群体生活加快蟑螂繁殖速度  
C、定期提供雌性激素对蟑螂毫无作用  
D、孤雌生殖或依赖雌性特有化学信号

52、①虽然农村留守儿童的生活状态令人担忧，所需的关爱力度更大

②长此以往，势必会加重城市留守儿童问题

③当前，留守儿童关爱措施主要是针对农村留守儿童

④但长期以来，城市留守儿童问题始终被边缘化

⑤从而给社会造成新的难题

⑥既无过多关注，也无相应关爱措施

将以上 6 个句子重新排列，语序正确的是：

- A、③①④⑥②⑤  
B、③①②⑥④⑤  
C、①③④②⑤⑥  
D、①④③②⑥⑤

53、我国研究机构日前宣布，世界上第一个全超导托卡马克“东方超环”（EAST）实现了稳定的 101.2 秒稳态长脉冲高约束等离子体运行，创造了新的世界纪录。这标志着 EAST 成为世界上第一个实现稳态高约束模式运行持续时间达到百秒量级的托卡马克核聚变实验装置。EAST 高 11 米、直径 8 米、重达 400 吨，是我国第四代核聚变实验装置，其科学目标是让海水中大量存在的氘和氚在高温条件下，像太阳一样发生核聚变，为人类提供源源不断的清洁能源，所以也被称为“人造太阳”。

这段文字主要说明了：

- A、大力发展清洁能源势在必行  
B、核聚变技术可创造清洁能源  
C、短期内难建成真正的“人造太阳”  
D、“人造太阳”装置取得革命性突破

54、①用小小的木制手织机，固定在房角一柱上，一面伸出憔悴的手来

②做母亲的全按照一个地方的风气，当街坐下，织男子们束腰用的板带过日子

③当白日照到这长街时，这一条街静静的像在午睡

④敏捷地把手中犬骨线板压着手织机的一端，退着粗粗的棉线，一面用一个棕叶刷子为孩子们拂着蚊蚋

⑤许多小小的屋里，湿而发霉的土地上，头发干枯脸儿瘦弱的孩子们，皆蹲在土地上或伏在母亲身边睡着了

⑥什么地方柳树桐树上有新蝉单纯而又倦人的声音

- A、③⑥⑤②①④  
B、⑤①②④③⑥  
C、⑥⑤①②④③  
D、⑤①⑥②④③

55、近来，多家情商教育机构针对不同年龄段推出相应套餐，“情商班”火爆家长圈，情商是控制和驾驭情绪的能力，对人的生活和工作有重要的作用。可是，在很多人的心里，情商的内涵已经被异化，最早的情商概念，和如今流行的情商观念大相径庭。许多人对情商的理解，是圆滑世故、阿谀奉承的另一种说法。实际上，情商的核心既是对自身情绪的认识和控制能力，也包括与人交往、融入集体的能力。这两种能力的培养，需要在日常生活中实践。孩子能否培养出良好的情绪控制能力和社交能力，很大程度上取决于家长，任何情商培训都无法取代日常生活中的情商培养。

接下来最可能讲述的是：

- A、情商补习应当引起家长高度关注
- B、家长在家庭教育中的身体力行
- C、家长要理性地看待情商培训班
- D、需要培养和提高家长的情商

56、一次，苏格拉底与三个学生走过一块麦田，他要学生从这边走过，去摘一穗最大的麦穗。结果有一个学生空手而归，他总想最大的麦穗一定还在前边，不觉到了尽头，两手仍然空空；另一个则摘了一穗很小的麦穗，他一走进麦田便急忙摘了一穗，殊不知前面还有更大的；只有最后的学生摘了一穗很大的麦穗，虽然不一定是最大的，但他的结果是令人满意的。

这段文字意在说明：

- A、生活即思想，思想源于生活实际
- B、把握时机是人生快乐的最大诀窍
- C、优秀哲学家都以其毕生精力在孕育智慧的田地里耕耘
- D、苏格拉底一生注重实践，把哲学的注意力放在生活上

57、作为一种积极有效的开发性保护模式，全域旅游强调旅游发展与资源环境承载能力相适应，要通过全面优化旅游资源、基础设施、旅游功能、旅游要素和产业布局，更好地疏解和减轻核心景点景区的承载压力，更好地保护核心资源和生态环境，实现设施、要素、功能在空间上的合理布局和优化配置，对推动生态保护新格局具有重要意义。

最适合做这段文字标题的是：

- A、以全域旅游减轻景区的承载压力
- B、以全域旅游推动生态保护新格局
- C、以全域旅游资源观保护核心资源
- D、以全域旅游环境观优化产业布局

58、技术是一把“双刃剑”，应用得当可以造福社会，造福人民，应用不当会危害社会，危害人民。当前，从整个世界范围来看，网络安全威胁不断增加，信息安全问题日益突出。没有网络安全就没有国家安全，没有信息安全就谈不上让信息化更好造福人民。信息时代，人们享受着数字化生活带来的诸多便利。但网络黑客、网络诈骗、侵犯个人隐私等又让很多人“中招”。可见，信息化应用越深入，就越要重视信息安全问题。

这段文字意在强调：

- A、必须完善法律法规，为数字化生活提供法治保障
- B、解决信息安全问题，提高数字化生活的安全系数
- C、降低信息化应用成本，增进人民福祉，造福社会
- D、提高数字化生活质量，就必须加强信息技术手段

59、网络书店的页面为了适应人眼的视野范围，又窄又长，容易让人疲倦，而且图书多按销量或排行榜来呈现。随着人工智能的发展，现在还可以利用大数据算法，根据读者浏览和购买历史来确定其读书品味，推荐的书目符合读者口味，这就不可避免地形成“蚕茧效应”，读者只能看到喜欢看的，长此以往，\_\_\_\_\_，这样的不足正好可以通过实体书店来弥补。现在不少大型书店的在售图书多到十万种以上，一入书城，如进书海，给读者带来的体验是网络书店无法比拟的。此时，书店如果能从众多图书中挑选高品质图书，用品质赢得读者，就可以在和网店的竞争中凸显竞争力。

填入划横线部分最恰当的一项是：

- A、读者在网络书店的收获越来越小
- B、逛实体书店才可能带来意外惊喜
- C、读者阅读视野不知不觉日益狭窄
- D、网络书店无法满足读者阅读需求

60、社交恐惧症是焦虑障碍的一个重要亚型，其主要症状是害怕受到注视，例如害怕在大庭广众之下讲话等，症状严重时甚至不敢出门。害羞则是一种常见的人格特质，本身并不具有病理性。不过，绝大多数社交恐惧症患者在接受治疗之后，症状都会得到明显缓解，对于症状程度较轻的患者，应该首选心理治疗；如果患者因工作忙等原因不能或不愿意接受心理治疗，则可以首选药物治疗，但将药物治疗与心理治疗结合起来才是治疗社交恐惧症最有效的方法。此外，大多数社交恐惧症患者都起病于青少年时期，所以预防非常重要。

根据这段文字，以下说法正确的是：



- A、害羞是社交恐惧症的一个重要亚型  
C、中老年人不会成为社交恐惧症患者

- B、社交恐惧症无法通过药物治疗治愈  
D、症状程度较轻者用结合治疗最有效

### 第三部分 数量关系

61、某社区拟对一块梯形活动场地进行扩建，经测算，如果将梯形的上底边增加1米，下底边增加1米，则面积将扩大10平方米；如果将梯形的上底边增加1倍，下底边增加1米，则面积将扩大55平方米；如果将上底边增加1米，下底边增加1倍，则面积将扩大105平方米。现拟将梯形的上底边增加1倍还多2米，下底边增加3倍还多4米，则面积将扩大多少？

- A、280平方米 B、380平方米 C、420平方米 D、480平方米

62、某企业员工组织周末自驾游。集合后发现，如果每辆小车坐5人，则空出4个座位；如果每辆小车少坐1人，则有8人没坐上车。那么，参加自驾游的小车有：

- A、9辆 B、10辆 C、11辆 D、12辆

63、某篮球队共有九人，分三组举行三人制篮球赛，他们的球衣号码分别是从1号到9号，分组后发现三组的球衣号码之和不同，且最大和是最小和的两倍。则各组号码之和不可能下列哪个数？

- A、10 B、11 C、12 D、13

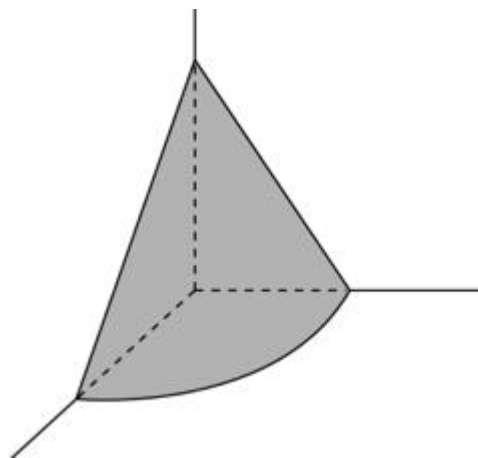
64、某学习平台的学习内容由观看视频、阅读文章、收藏分享、论坛交流、考试答题五个部分组成。某学员要先后学完这五个部分，若观看视频和阅读文章不能连续进行，该学员学习顺序的选择有：

- A、24种 B、72种 C、96种 D、120种

65、甲、乙、丙三人去超市买了100元的商品，如果甲付钱，那么甲剩下的钱是乙、丙两人钱数之和的 $\frac{2}{13}$ ；如果乙付钱，则乙剩下的钱是甲、丙两人钱数之和的 $\frac{9}{16}$ ；如果丙付钱，丙用他的会员卡可享受9折优惠，结果丙剩下的钱是甲、乙两人钱数之和的 $\frac{1}{3}$ ；那么，甲、乙、丙三人开始时一共带了多少钱？

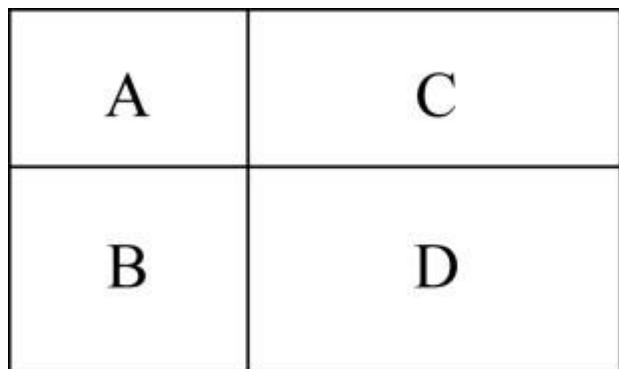
- A、850元 B、900元 C、950元 D、1000元

66、在屋内墙角处堆放稻谷（如图，谷堆为一个圆锥的四分之一），谷堆底部的弧长为6米，高为2米，经过一夜发现谷堆在重力作用下底部的弧长变为8米，若谷堆的谷量不变那么此时谷堆的高为：



- A、 $\frac{9}{8}$ 米 B、 $\frac{8}{9}$ 米 C、 $\frac{9}{16}$ 米 D、 $\frac{4}{9}$ 米

67、村民陶某承包一块长方形种植地，他将地分割成如图所示的4个小长方形，在A、B、C、D四块长方形土地上分别种植西瓜、花生、地瓜、水稻。其中长方形A、B、C的周长分别是20米、24米、28米，那么长方形D的最大面积是：



A、42 平方米 B、49 平方米 C、64 平方米 D、81 平方米

68、甲乙丙丁四人通过手机的位置共享，发现乙在甲正南方向 2 公里处，丙在乙北偏西  $60^\circ$  方向 2 公里处，丁在甲北偏西  $75^\circ$  方向。若丁与甲、丙的距离相等，则该距离为：

A、1 公里 B、 $\sqrt{2}$  公里 C、 $\sqrt{3}$  公里 D、2 公里

69、某城市一条道路上有 4 个十字路口，每个十字路口至少有一名交通协管员，现将 8 个协管员名额分配到这 4 个路口，则每个路口协管员名额的分配方案有：

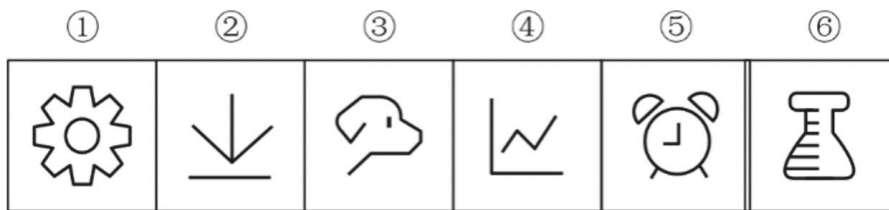
A、35 种 B、70 种 C、96 种 D、114 种

70、小明每天从家中出发骑自行车经过一段平路，再经过一道斜坡后到达学校上课。某天早上，小明从家中骑车出发，一到校门口就发现忘带课本，马上返回，从离家到赶回家中共用了 1 个小时，假设小明当天平路骑行速度为 9 千米/小时，上坡速度为 6 千米/小时，下坡速度为 18 千米/小时，那么小明的家距离学校多远？

A、3.5 千米 B、4.5 千米 C、5.5 千米 D、6.5 千米

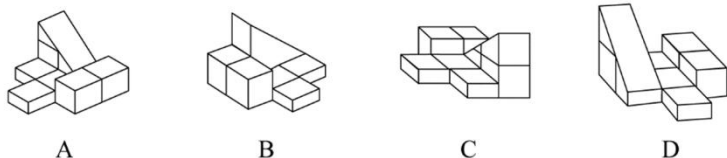
#### 第四部分 判断推理

71、把下面六个图形分为两类，使每一类图形都有各自的共同特征或规律，分类正确的一项是：




A、①⑤⑥，②③④ B、①②⑤，③④⑥ C、①②④，③⑤⑥ D、①③⑤，②④⑥

72、正方体被切除部分后的造型如下图所示，其被切去部分的造型是：

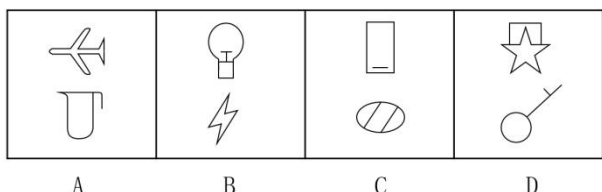
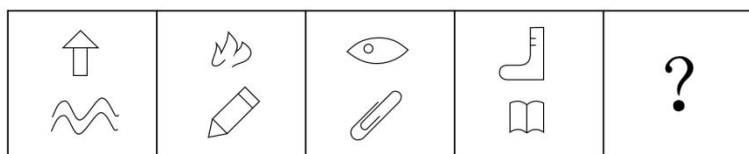


73、把下面的六个图形分为两类，使每一类图形都有各自的共同特征或规律，分类正确的一项是：

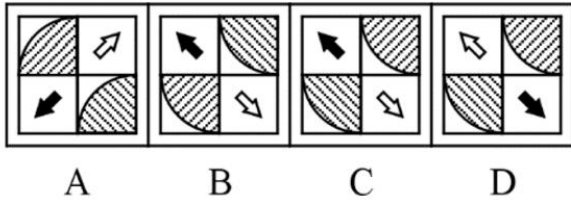
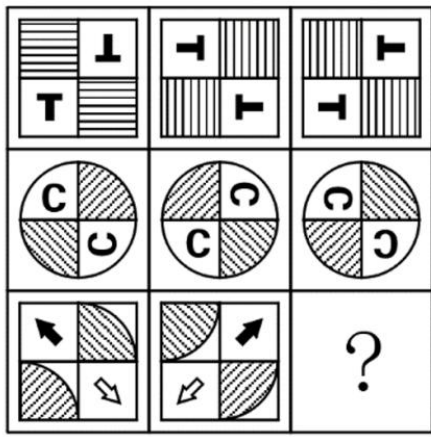


A、①④⑥，②③⑤ B、①③⑥，②④⑤ C、①②⑥，③④⑤ D、①②④，③⑤⑥

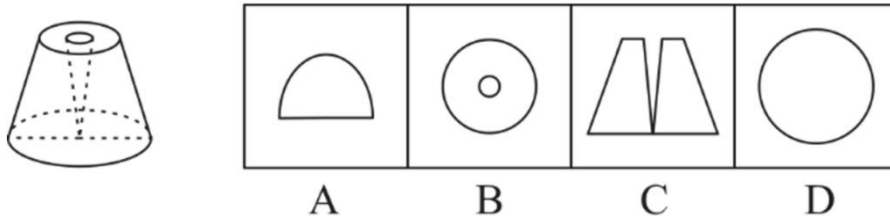
74、从所给的四个选项中，选择最合适的一个填入问号处，使之呈现一定的规律性：



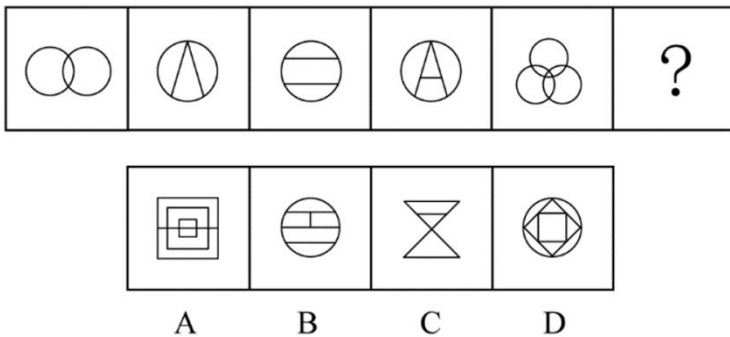
75、从所给的四个选项中，选择最合适的一个填入问号处，使之呈现一定的规律性：



76、一个圆锥台如下图所示，从正中心挖掉一个小圆锥体，然后从任意面剖开，下面不可能是该圆锥台的截面的是：



77、从所给的四个选项中，选择最合适的一个填入问号处，使之呈现一定的规律性：



78、疼痛共情的偏好性，是指个体对他人疼痛的感知、判断和情绪反应，总是由于个体与他人之间的亲疏远近关系或情感认同程度不同而不同。

根据上述定义，下列没有体现疼痛共情的偏好性的是：

- A、小明看到《西游记》里的白骨精被孙悟空打死，高兴得跳了起来
- B、小张看到外来游客不幸溺水而死，从此再也不敢去那条河里游泳
- C、小李在看歌剧《白毛女》时跳上戏台拉住喜儿，不让黄世仁抢走
- D、小红听奶奶回忆自己在旧社会的苦日子时，禁不住潸然泪下

79、社会计算的内涵包括两个层面：一是社会的计算化，二是计算的社会化。社会的计算化是指通过人们在互联网上留下的海量而且相互关联的数据足迹，对人们的社会活动进行追踪、检索、汇编、计量和运算。计算的社会化则是指互联网创造了一种环境、一个平台，使人们能够广泛地参与计算过程，从而在数据的挖掘、分析和应用等方面获得更高效率。

根据上述定义，下列现象符合计算的社会化的是：

- A、某购物平台根据用户购物经历，定期向用户推荐商品
- B、某手机导航软件能为用户自动生成一个月来的行踪图

C、全班同学在暑假田野调查结束后合作制成精美的相册

D、小陈在众筹平台匿名捐款后，受助者上门送来感谢信

80、亲环境行为是指个体通过减少或消除自身活动对环境的负面影响以达到改善生态系统结构的行为。它的本质是通过有效减轻环境问题实现环境改善，核心任务是构造环境稳态友好型的社会。

根据上述定义，下列选项属于亲环境行为的是：

A、植树造林 B、低碳出行 C、细水长流 D、围海造田

81、外部性是指经济当事人的生产和消费行为对其它经济当事人的生产和消费行为施加的有益或者有害影响的效应。正外部性是指某个经济行为个体的活动使他人或社会受益，而受益者无需花费代价。负外部性是指某个经济行为个体的活动使他人或社会受损，而造成负外部性的人却没有为此承担成本。

根据上述定义，下列选项属于正外部性的是：

A、经过农田的蒸汽机车，喷出火花飞到农民种植的麦穗上  
B、飞速行驶的火车尖锐的汽笛声吓跑在农田吃稻谷的小鸟  
C、某工厂在村庄建起了扶贫车间，为村民就近就业提供便利  
D、某工厂排出了大量废水和有害气体，给周围居民带来健康危害

82、积极强化是指用某种有吸引力的结果对某一行为进行奖励和肯定，以期在类似条件下重复这一行为。消极强化是指在行为出现时把不愉快的刺激撤销或减少，这样也可以增加行为频率。

根据上述定义，下列选项属于积极强化的是：

A、君子一日三省其身 B、杀鸡骇猴以儆效尤 C、重赏之下必有勇夫 D、从轻发落戴罪立功

83、印象管理是指人试图控制他人对自己形成的印象的过程。一个人留给他人的印象表明了他人对其的知觉、评价，甚至会使他人形成对其的特定应对方式。因而，为了给他人留下好的印象，得到他人好的评价与对待，人会用一种给他人造成特定印象的方式来自我表现。印象管理的运用，尤其要避免某些表演崩溃，包括无意动作、不合时宜的闯入、闹剧等。

根据上述定义，下列选项体现印象管理运用的是：

A、沙子龙在夜静人稀时，关好门，舞出一套断魂枪，微微一笑说：“不传不传”  
B、许衡看到人们摘食路边的梨解渴，不为所动，说：“梨虽无主，而吾心有主”  
C、一向沉静温柔的小美在毕业之际，承受不住与同学离别的感伤，突然嚎啕大哭  
D、岳飞的母亲为了激励岳飞奋勇抗金，用针在其背上刺了四个字：“精忠报国”

84、在市场竞争十分激烈的时候，一个企业要是不激流勇进，创造出富有竞争力的产品，也不适时撤退、主动割爱，放弃没有前景的市场，那么这个企业最后一定会陷入危机之中。

如果以上论断为真，由此可以推出：

A、在竞争激烈的背景下，某企业未能创造出富有竞争力的产品，最后一定会惨遭淘汰  
B、在竞争激烈的背景下，某企业紧要关头急流勇退，转向其它市场，就可以避免危机  
C、在竞争激烈的背景下，某企业放弃已显颓势的产业，转向新产品的开发，它可能不会被淘汰  
D、在竞争激烈的背景下，某企业研发出了富有竞争力的产品，它最后一定不会陷入危机之中

85、（ ） 对于 世味年来薄似纱 相当于 达观 对于 （ ）

A、忧郁；前度刘郎今又来 B、感伤；莫道谗言如浪深  
C、讽刺；道是无晴却有晴 D、斥责；金陵王气黯然收

86、十年寒窗：悬梁刺股：囊萤映雪

A、七月流火：以荻画地：临池学书 B、三月肉味：蓝田种玉：程门立雪  
C、一寸光阴：凿壁偷光：闻鸡起舞 D、一日三秋：卧薪尝胆：铁杆磨针

87、鸳：鸯

A、蚱蜢：蝗虫 B、白猫：黑猫 C、雄鸡：雌鸡 D、红男：绿女

88、售后：品控

A、数据：科学 B、融资：风投 C、龙骨：地板 D、听证：监管

89、羊：羊奶：腥膻

A、蚕：蚕丝：雪白 B、蜘蛛：蛛丝：粘缚 C、蜂：蜂蜜：甘甜 D、雨燕：燕窝：营养

90、花：牡丹：玫瑰

A、茶：红茶：绿茶 B、草：艾草：蓼草 C、球：足球：绒球 D、车：轿车：客车

91、( ) 对于 裁判 相当于 案件 对于 ( )

A、球员；法庭 B、黑哨；上诉 C、比赛；法官 D、比分；律师

92、了如指掌 对于 ( ) 相当于 ( ) 对于 坚固

A、知道；铁板一块 B、明白；坚不可摧 C、理解；铜墙铁壁 D、了解；固若金汤

93、一项心理学研究认为，出身经济层次最低家庭的人中年后出现代谢综合征的比例最高，无论他们获得多大成就都是如此。该研究同时发现代谢综合征虽与童年生活状况有关，但该群体中那些拥有慈母的人不容易出现该综合征。究其原因，慈母具有同情心，会告诉孩子如何应对压力并鼓励他们健康饮食，保持良好生活方式。因此，我们在现实中可以设计一套方案，指导母亲教育孩子如何应对压力、健康生活和掌控命运。

由此可以推出：

A、设计针对母亲的指导方案，有助于降低特定群体出现代谢综合征的比例

B、因为缺少母爱，出身经济层次最低家庭的人出现代谢综合征的比例最高

C、因为父亲不教导孩子保持良好生活方式，所以父亲对孩子的健康没影响

D、出身经济层次最低家庭的人，童年如受到慈母呵护，中年后身体很健康

94、师范类院校学生来自全国各地，甲大学是师范类院校，所以甲大学的学生来自全国各地。

下列选项所犯逻辑错误与上述推理最相似的是：

A、牛不是食肉动物，而狮子不是牛，所以狮子不是食肉动物

B、父母爱读书的孩子爱运动，小黄爱运动，所以小黄的父母爱读书

C、私人捐赠的教学楼遍布全国各高校，何况是邵逸夫先生捐赠的逸夫楼

D、文明司机都是礼让行人的，有些公务司机礼让行人，所以有些公务司机是文明司机

95、心理学家考察了 450 位中年男性和女性，他们中有白领阶层，也有蓝领阶层；有技能判断型人群，也有决策制定型人群。结果发现，那些身居重要职位的高管人士普遍比一般员工更胖。研究者认为，做出许多决定所承受的压力通过饮食方式得到排解，这最终在一定程度上改变了高管人士之前的饮食习惯，如果你的职位幸运地得到晋升，你将发现不仅是薪水变多，自己的腰围也在变粗，伴随着体重上升。

以下哪项如果为真，最能质疑上述结论？

A、比较而言，技能判断型人群腰围较小，决策制定型人群腰围较大

B、比较而言，身居要职的高管人士更难抽出时间投入锻炼以缩小腰围

C、每晋升一个工作等级，技能判断型人群的腰围平均会减少 0.5 厘米

D、每晋升一个工作等级，决策制定型人群的腰围平均会增大 0.28 厘米

96、一项最新研究发现，世界上的绿海龟越来越“雌性化”。专家估计，到 2100 年，约有 93% 的新生绿海龟为磁性。研究表明，决定绿海龟性别的主要因素是海龟孵化时周围沙子的温度。如果沙子的温度在 28 到 30 度之间，孵化出来的绿海龟雌雄比例差不多；如果温度高出这个范围，那孵化出来的绿海龟大多数是雌性，相反，则大多数为雄性。

以下哪项如果为真，最能支持上述论断？

A、绿海龟终将无法正常繁殖最后在地球上灭绝 B、绿海龟是一种由孵化时温度决定性别的动物

C、温室效应将导致全球气候变暖问题日趋严重 D、温度的持续升高使绿海龟孵化的死亡率增加

97、肌萎缩侧索硬化症（ALS），俗称“渐冻症”。某科研团队研究发现，ALS 的疾病发展与肠道微生物 AM 菌的数量密切相关。研究人员观察和比较了 37 名 ALS 患者及 29 名健康亲属的肠道菌群和血液、脑脊液样本。他们发现肠道细菌菌株有差异，其中有一种菌株与烟酰胺的产生有关。此外，在这些 ALS 患者的血液和脑脊液中，烟酰胺水平有所下降。

若要上述研究发现成立，需要补充的前提是：

A、人类肠道中的微生物非常复杂

B、烟酰胺是肠道微生物 AM 菌的代谢物

C、小鼠补充烟酸胺后，ALS 症状得到了减轻

D、人体肠道细菌的变化与 ALS 的疾病发展速度有关

98、地球表面的大部分都被海洋覆盖，生命也诞生于海洋之中。然而，据估计，地球有 80% 的物种生活在陆地上，而海洋中仅为 15%，剩下的 5% 生活在淡水中。研究者认为，陆地栖息地的物理布局相对海洋可能更加支离破碎，是导致陆地物种更加多样化的主要原因之一。

以下哪项如果为真，最能加强上述研究者的观点？

- A、地球表面可分成热带、南温带、北温带、南寒带、北寒带五个温度带，各温度带物种差异性大，种类丰富
- B、深海相对于有阳光照射的浅海岸地区而言，基本上像个冰箱，而且门已经关上很久，物种远不如浅海丰富
- C、根据某群岛记录显示，随着时间推移，自然选择甚至可以把两个岛屿上相同物种的不同族群变成截然不同的物种
- D、森林覆盖许多陆地，而树叶和枝干形成新的生态环境，海洋中的珊瑚也起同样作用，但覆盖海底的面积没那么大

99、近年来，“类脑计算”从理念走向实践，正走出一条制造类人智能的新途径。所谓“类脑计算”，是指仿真、模拟和借鉴大脑神经系统结构和信息处理过程的装置，模型和方法，其目标是制造类脑计算机。然而有人提出质疑：大脑奥秘尚未揭示，我们还不了解智能背后的基本原理，怎么能制造出具有“大脑智能”的类脑计算机呢？

以下哪项如果为真，最能反驳上述质疑？

- A、类脑计算机的器件速度是生物神经元和突触的百万倍，一旦产生智能，后果难以预料
- B、关于“类脑计算”的伦理制度和风险评估等必须与“类脑计算”的技术发明同步展开
- C、揭示大脑奥秘和发明类脑计算机是相互作用的复杂过程，不是“前者决定后者”的简单关系
- D、国内已经启动集合各高校、科研机构和企业优势研究力量的 10 多项“类脑计算”研究项目

100、食品添加剂是现代食品工业的重要组成部分，按规定使用食品添加剂对人体无害，而且可以改善食品的品质，起到防腐、保鲜的作用。正是因为有了食品添加剂的发展，才有了大量的方便食品，给人们的生活带来极大的便利。如果不加入食品添加剂，大部分食品要么难看、难吃或难以保鲜，要么就是价格昂贵。

如果以下各项为真，最能支持上述结论的是：

- A、食品添加剂和人类文明史一样悠久，例如点豆腐用的卤水
- B、如果不使用添加剂，食品会因微生物作用而引起食物中毒
- C、宣称无食品添加剂往往是商家迎合消费者心理造出的噱头
- D、三聚氰胺也是一种添加剂，在水泥里能够作为高效减水剂

## 第五部分 资料分析

(材料 1)

2019 年 6 月，全国发行地方政府债券 8996 亿元，同比增长 68.37%，环比增长 195.63%。其中，发行一般债券 3178 亿元，同比减少 28.33%，环比增长 117.08%，发行专项债券 5818 亿元，同比增长 540.04%，环比增长 268.46%；按用途划分，发行新增债券 7170 亿元，同比增长 127.11%，环比增长 332.71%，发行置换债券和再融资债券 1826 亿元，同比减少 16.47%，环比增长 31.75%。

2019 年 6 月，地方政府债券平均发行期限 11.1 年，其中新增债券 10.4 年，置换债券和再融资债券 13.4 年；地方政府债券平均发行利率 3.55%，其中新增债券 3.52%，置换债券和再融资债券 3.65%。

2019 年 1 至 6 月，全国发行地方政府债券 28372 亿元，同比增长 101.09%。其中，发行一般债券 12858 亿元，同比增长 23.21%，发行专项债券 15514 亿元，同比增长 322.38%；按用途划分，发行新增债券 21765 亿元，同比增长 553.80%，发行置换债券和再融资债券 6607 亿元，同比减少 38.71%。

2019 年 1 至 6 月，地方政府债券平均发行期限 9.3 年，其中一般债券 11.2 年，专项债券 7.8 年；地方政府债券平均发行利率 3.47%，其中一般债券 3.53%，专项债券 3.43%。

2019 年全国地方政府债务限额为 240774.3 亿元。其中，一般债务限额 133089.22 亿元，专项债务限额 107685.08 亿元。截至 2019 年 6 月末，全国地方政府债务余额 205477 亿元，其中，一般债务 118397 亿元，专项债务 87080 亿元。

101、2018 年 6 月，发行置换债券和再融资债券约为：

- A、3157 亿元
- B、2186 亿元
- C、1657 亿元
- D、1386 亿元

102、2019 年 6 月，全国发行的地方政府债券比 2018 年 6 月多约：

A、6151 亿元 B、5953 亿元 C、3653 亿元 D、3043 亿元

103、2018 年 1 至 6 月，发行一般债券的占比较发行专项债券的占比约：

A、低 9.36% B、低 52.81% C、高 47.93% D、高 53.43%

104、2019 年 1 至 6 月，全国发行地方政府债券同比增量绝对值排序正确的是：

A、新增债券>专项债券>置换债券和再融资债券>一般债券

B、新增债券>置换债券和再融资债券>一般债券>专项债券

C、专项债券>新增债券>置换债券和再融资债券>一般债券

D、置换债券和再融资债券>专项债券>一般债券>新增债券

105、2018 年 1 至 5 月，全国发行地方政府债券约：

A、23029 亿元 B、19376 亿元 C、14109 亿元 D、8766 亿元

(材料 2)

2017 年 A 市现代农业生态服务价值及增速表

指标名称	年值		贴现值	
	2017 年 (亿元)	比上年增长 (%)	2017 年 (亿元)	比上年增长 (%)
现代农业生态服务价值	3635.46	3.0	10769.36	1.9
一、直接经济价值	372.60	-6.0	372.60	-6.0
1.农林牧渔业总产值	308.32	-8.8	308.32	-8.8
2.供水价值	64.28	10.2	64.28	10.2
二、间接经济价值	1214.15	5.6	1214.15	5.6
1.旅游服务价值	804.78	8.4	804.78	8.4
2.水力发电价值	8.68	-10.1	8.68	-10.1
3.景观增值价值	400.70	0.8	400.70	0.8
三、生态与环境价值	2048.71	3.2	9182.61	1.8
其中：气候调节价值	732.34	5.6	2328.74	2.7
水源涵养价值	287.78	10.2	402.98	7.5
环境净化价值	118.83	-3.3	984.83	0.9
生物多样性价值	670.07	0.3	2898.67	1.2
防护与减灾价值	222.58	0.3	1540.38	1.2
土壤保持价值	3.37	-12.6	9.77	-4.7
土壤形成价值	13.74	1.6	288.54	1.6

106、2016 年，A 市旅游服务价值年值比农林牧渔业总产值年值多：

A、494.46 亿元 B、462.79 亿元 C、441.85 亿元 D、404.35 亿元

107、2016 年，A 市直接经济价值年值占现代农业生态服务价值年值的比重为：

A、8.24% B、11.23% C、13.59% D、15.46%

108、2017 年 A 市生态与环境价值中，年值、贴现值较上年均有所上升的指标有：

A、6 个 B、5 个 C、4 个 D、3 个

109、下列 A 市的指标中，2017 年同比增量最多的是：

A、气候调节价值年值 B、水源涵养价值年值 C、水源涵养价值贴现值 D、生物多样性价值贴现值

110、能够从上述资料中推出的是：

- A、2016年A市气候调节价值年值超过700亿元
  - B、2017年A市现代农业生态服务价值年值增长率、贴现值增长率最低的是同一个指标
  - C、2017年A市生态与环境价值贴现值超过直接经济价值贴现值、间接经济价值贴现值之和的5倍
  - D、2017年A市气候调节价值与水源涵养价值的年值之和超过生态与环境价值中其余指标的年值之和
- (材料3)

截至2018年底，中国人工智能市场规模约为238.2亿元，同比增长率达到56.6%。从中国人工智能企业地域分布情况来看，北京企业数量最多，企业数量为368家；其次为广东，人工智能企业数量为185家；排名第三的是上海，数量为131家。

图1 2014-2018年中国人工智能市场规模

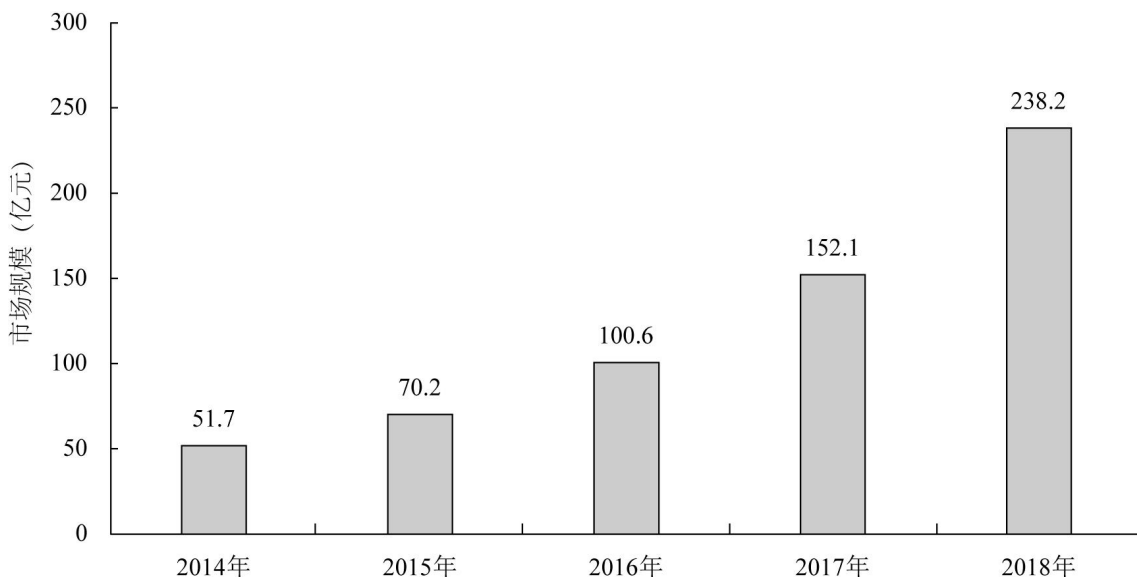
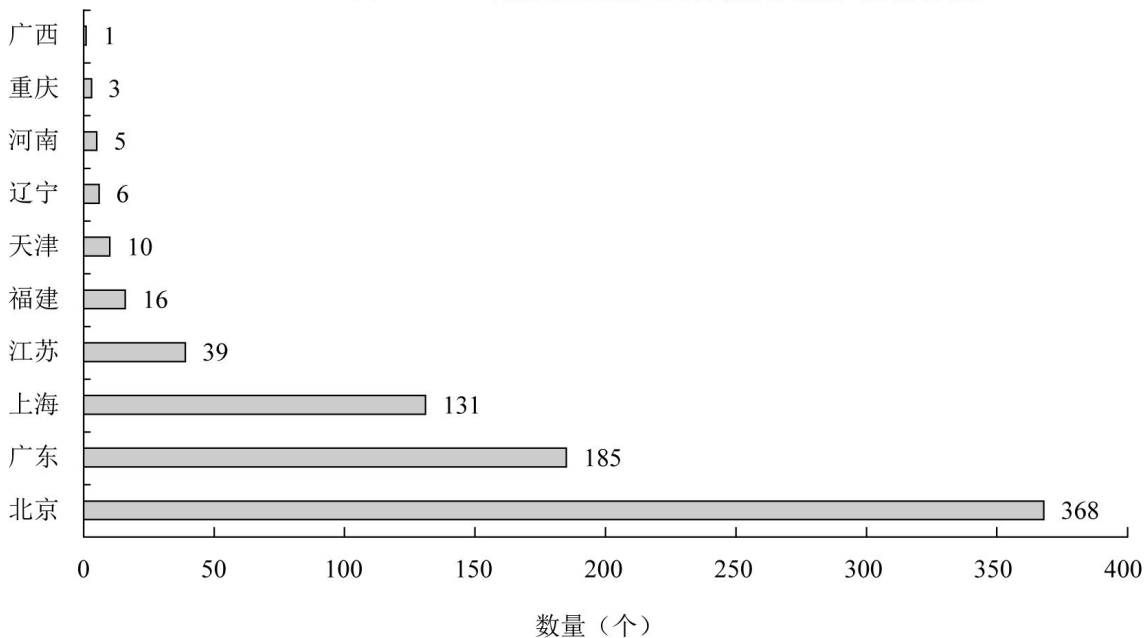


图2 2018年底人工智能企业地域分布情况 (部分省份)



111、2017年中国人工智能市场规模同比增长率与2015年相比约：

- A、减少了13.3个百分点
- B、增加了13.3个百分点
- C、减少了15.4个百分点
- D、增加了15.4个百分点

112、2015至2018年，中国人工智能市场规模同比增长率最高的年份是：

- A、2015年
- B、2016年
- C、2017年
- D、2018年

113、若按照2018年同比增长率，到2019年底中国人工智能市场规模约为：

- A、363亿元
- B、371亿元
- C、373亿元
- D、383亿元

114、图2中排名第二的省份，其人工智能企业数量的个数约是排名后四位数量的多少倍？

- A、11.3
- B、12.3
- C、12.8
- D、13.3



115、下列说法正确的是：

- A、截至 2018 年底，中国人工智能市场规模每年同比增长率都超过 50%
- B、截至 2018 年底，中国人工智能企业地域分布情况中，广东企业数量最多
- C、截至 2018 年底，中国人工智能企业北京企业数量不超过上海企业数量的 50%
- D、截至 2018 年底，福建人工智能企业的数量等于河南、天津、广西三省企业数量之和

(材料 4)

2019 年 5 月，全国 12358 价格监管平台受理价格举报、投诉、咨询共计 37576 件，同比下降 40.70%，环比下降 9.31%。其中，价格举报 4192 件，环比下降 19.06%；价格投诉 2059 件，环比下降 15.92%；价格咨询 31325 件，环比下降 7.34%。平台受理量排名前十的省份依次是北京（5786 件）、江苏（3528 件）、上海（2499 件）、重庆（2486 件）、河南（2469 件）、陕西（2440 件）、浙江（2321 件）、天津（1571 件）、福建（1483 件）、广西（1309 件）。平台受理量行业分布如下表所示：

2019 年 5 月全国 12358 价格监管平台受理行业分布

行业	数量（件）	行业	数量（件）
停车收费	10043	旅游	459
商品零售	3118	邮政通信	421
交通运输	2730	其他商品价格	206
社会服务	2686	机关收费	172
物业管理	2587	农产品及农资产品价格	157
医药	1790	金融服务	105
资源价格	1764	律师公证认证检测服务	82
房地产	1105	网络服务收费	28
住宿、餐饮	1060	协会社团	3
教育	927	其他	7439
网络购物	694	合计	37576

注：其他行业计入受理总数，但不计入行业排名

116、2019 年 4 月，平台受理的价格咨询比价格举报约多：

- A、26146 件
- B、27133 件
- C、28627 件
- D、29614 件

117、2019 年 5 月，平台受理量排名前五的行业占受理总数的比重约为：

- A、61.4%
- B、56.3%
- C、51.8%
- D、46.5%

118、2018 年 5 月，平台受理价格举报、投诉、咨询总数约为：

- A、26706 件
- B、34376 件
- C、41433 件
- D、63366 件

119、2019 年 5 月，平台受理量排名第二的省份约是排名第九的省份的多少倍？

- A、1.4
- B、2.4
- C、3.7
- D、4.4

120、能够从上述资料推出的是：

- A、2018 年 5 月，平台受理价格举报数量多于价格投诉数量
- B、2019 年 5 月，平台受理价格咨询数量环比下降幅度最大
- C、2019 年 5 月，平台受理教育行业数量不超过旅游行业的 2 倍
- D、2019 年 5 月，平台受理量排名前三的省份占总数的比重低于 35%