

杨柳注：因年份久远，此套题未搜到详细解析，请理解

2006 年湖南省公务员录用考试

《行政职业能力测验》试卷

来源：W 整理：杨柳（微信：gwy288）

第一部分 公共基础知识

(共 30 题，参考时限 30 分钟)

本部分为不定项选择题，每题 1 分，共 30 分。各题的五个选项中，至少有一项是符合题意的，请在答题卡上将选出的答案编号相对应的字母涂黑。错选、少选均不得分。也不倒扣分。

1 2005 年 10 月 12 日至 10 月 17 日，“神舟”六号载人航天飞行圆满成功。标志着我国在发展载人航天技术方面取得了又一个具有里程碑意义的重大胜利。执行此次航天飞行任务的航天员是（ ）。

A 杨利伟 B 费俊龙 C 翟志刚 D 聂海胜 E 景海鹏

2 党的十六届五中全会提出建设社会主义新农村的目标是（ ）。

A 生产发展 B 生活宽裕 C 乡风文明 D 村容整洁 E 管理民主

3 实践对认识的决定作用表现在实践是（ ）。

A 认识的目的 B 认识的来源 C 检验真理的唯一标准 D 认识发展的动力 E 客观物质活动

4 在生产力的基本要素中，占主导地位的是（ ）。

A 劳动对象 B 生产工具 C 劳动资料 D 劳动者 E 能源

5 毛泽东思想活的灵魂是（ ）。

A 武装斗争 B 实事求是 C 群众路线 D 独立自主 E 解放思想

6 “科学技术是第一生产力”意味着（ ）。

A 还有第二、第三生产力存在

B 科学技术在历史发展中起第一位的决定作用

C 现代科学日益成为生产的主导

D 人文社会科学并不重要

E 科学技术的进步是国民经济发展的推动力量

7 邓小平同志指出，判断改革和各方面工作是非得失的标准是（ ）。

A 是否有利于发展社会主义社会的生产力

B 是否有利于改革开放

C 是否有利于提高人民的生活水平

D 是否有利于增强社会主义国家的综合国力

E 是否有利于祖国的统一大业

8 社会主义的根本任务是（ ）。

A 改革开放

B 努力解决人民日益增长的物质文化需要同落后的社会生产之间的矛盾

C 以经济建设为中心，坚持两个基本点

D 发展生产力

E 实现共同富裕

9 “三个代表”重要思想的具体内容是（ ）。

A 始终代表全国各族人民的意愿

B 始终代表中国先进社会生产力的发展要求

C 始终代表中国先进文化的前进方向

D 始终代表着中国最广大人民的根本利益

E 始终代表着中国先进科学技术的发展方向

10 贯彻“三个代表”重要思想的关键是坚持与时俱进，核心是坚持党的（ ）。

A 阶级性 B 人民性 C 先进性 D 领导性 E 核心性

- 11 立法程序通常包括（ ）。
A 法律议案的提出 B 法律草案的讨论 C 法律的通过 D 法律的公布 E 法律的实施
- 12 我国社会主义法的正确适用要求是（ ）。
A 以事实为依据，以法律为准绳
B 实事求是，有错必纠
C 依法从重从快
D 准确、合法、及时
E 法律面前人人平等
- 13 我国的根本政治制度是（ ）。
A 人民民主专政制度 B 社会主义制度 C 人民代表大会制度 D 政治协商制度
E 中国共产党领导的多党合作和政治协商制度
- 14 我国公民的政治权利和自由包括（ ）。
A 受教育权 B 劳动权 C 人身自由
D 选举权和被选举权 E 言论、出版、集会、结社、游行、示威的自由
- 15 政府职能的实施主体是（ ）。
A 各级人民代表大会 B 各级政协机关 C 各级人民政府 D 各级公务员 E 各社会团体
- 16 下列属于行政处罚的是（ ）。
A 警告 B 罚款 C 行政拘留 D 劳动教养 E 拘役
- 17 下列属于行政处罚原则的有（ ）。
A 处罚法定原则 B 公正公开原则 C 处罚救济原则
D 一事不再罚原则 E 处罚与教育相结合的原则
- 18 《行政许可法》关于行政许可的分类包括（ ）。
A 特许 B 许可 C 认可 D 核准 E 登记
- 19 行政诉讼管辖的种类有（ ）。
A 级别管辖 B 职务管辖 C 地域管辖 D 行业管辖 E 裁定管辖
- 20 行政诉讼与民事诉讼的区别是（ ）。
A 目的不同 B 诉讼主体不同 C 人民法院受理起诉的条件不同 D 举证责任不同 E 审理原则不同
- 21 《公务员法》的立法宗旨是（ ）。
A 规范公务员管理
B 提高机关人事管理的科学化、民主化、制度化水平
C 对公务员依法监督，同时保障公务员的合法权益
D 为建设高素质的公务员队伍提供制度保证
E 保证机关有效运转，提高工作效能
- 22 根据《公务员法》，下列属于公务员应当履行的义务（ ）。
A 模范遵守宪法和法律 B 清正廉洁，公道正派
C 保守国家秘密和工作秘密 D 全心全意为人民服务，接受人民监督
E 对机关工作和领导人员提出批评和建议
- 23 根据《公务员法》，公务员职位类别按照公务员职位的性质、特点和管理需要，划分为（ ）。
A 领导职务类 B 非领导职务类 C 综合管理类 D 专业技术类 E 行政执法类
- 24 根据《公务员法》，以下人员具有公务员身份的是（ ）。
A 某村委会主任 B 市法院院长 C 致公党省委机关办公室科员
D 某市委统战部主任科员 E 某街道派出所干警
- 25 政府的基本职能包括（ ）。
A 政治职能 B 经济职能 C 文化职能 D 军事职能 E 社会职能
- 26 公文的作者是（ ）。
A 起草公文的机关工作人员 B 制发文件的机关
C 签发文件的领导 D 审核文件的机关工作人员 E 印制公文的机关工作人员
- 27 我国实现行政职能的主要手段有（ ）。
A 行政命令 B 行政指导 C 行政奖励 D 行政惩罚 E 行政强制

- A 行政指令手段 B 经济手段 C 法律手段
D 纪律手段 E 思想政治工作手段

28 我国行政系统的外部监督包括（ ）。

- A 国家权力机关的监督 B 社会及舆论监督 C 政党监督
D 专门监督 E 人民法院和人民检察院监督

29 行政管理对信息的要求有（ ）。

- A 准确 B 及时 C 完整 D 适用 E 经济

30 不属于机关之间相互往来的正式公文的文种是（ ）。

- A 请示 B 函 C 批复 D 报告 E 证明

※※※ 第一部分结束，请继续做第二部分！ ※※※

第二部分 数量关系

（共 20 题，参考时限 20 分钟）

本部分包括两种类型的试题：

一、数字推理：共 10 题，每题 0.5 分。给你一个数列，但其中缺少一或两项，要求你仔细观察数列的排列规律，然后从四个供选择的选项中选出你认为最合理的一项，来填补空缺项。

例题：1, 3, 5, 7, 9, ()

- A、7B. 8C. 11D. 未给出

解答：正确答案是 11，原数列是一个奇数数列，故应选 C。

请开始答题：

31. 0, 2, 2, 4, 6, ()

- A、4 B、6 C、8 D、10

32. 3, 4, 7, 16, ()

- A、23 B、27 C、39 D、43

33. $\frac{6}{28}$, $\frac{21}{98}$, $\frac{18}{84}$, $\frac{9}{42}$, ()

- A、 $\frac{25}{60}$ B、 $\frac{12}{44}$ C、 $\frac{12}{56}$ D、 $\frac{25}{78}$

34. 84, 80, 71, 55, ()

- A、25 B、30 C、35 D、37

35. $\frac{11}{2}$, 2, $\frac{32}{4}$, $\frac{54}{8}$, ()

- A、 $\frac{88}{16}$ B、 $\frac{82}{3}$
C、 $\frac{86}{12}$ D、9

36. 412, 379, 346, 313, ()

- A、280 B、285 C、296 D、305

37. 40, 3, 35, 6, 30, 9, (), 12, 20, ()

- A、15, 25 B、18, 25 C、25, 15 D、25, 18

38. $\sqrt{5}$, $\sqrt{55}$, $11\sqrt{5}$, $11\sqrt{55}$, ()

- A、 $22\sqrt{5}$ B、 $121\sqrt{5}$ C、 $22\sqrt{55}$ D、 $121\sqrt{55}$

39. 119, 83, 36, 47, ()

- A、-37 B、-11 C、11 D、37

40. 3, 15, 35, 63, ()

- A、78 B、81 C、99 D、100

二、数学运算：共 10 题，每题 0.5 分，共 5 分。遇到难题，你可以跳过不做，待你有时间再返回来做。

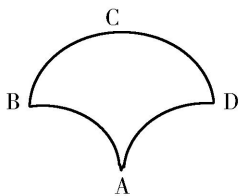
例题：84.78 元、59.50 元、121.61 元、12.43 元以及 66.50 元的总和是：()

- A、343.73 B、343.83 C、344.73 D、344.82

解答：正确答案为 D。实际上你只要把最后一位小数加一下，就会发现和的最后一位数是 2，只有 D 符合要求。就是说你应当动脑筋想出解题的捷径。

请开始答题：

41. $12.5 \times 0.76 \times 0.4 \times 8 \times 2.5$ 的值是 ()。
- A、80 B、8 C、76 D、7.6
42. 若 $x=123456789 \times 123456786$, $y=123456788 \times 123456787$, 则 x 和 y 的大小关系是 ()。
- A、 $x=y$ B、 $x < y$ C、 $x > y$ D、不确定
43. 把一个边长为 4 厘米的正方形铁丝框拉成两个同样大小的圆形铁丝框, 则每个圆铁丝框的面积为 ()。
- A、 8π B、 $8/\pi$ C、 16π D、 $16/\pi$
44. 去年百合食品厂第二季度的生产效率比第一季度高 10%, 第三季度的生产效率比第二季度又高 10%, 问第三季度的生产效率比第一季度高多少? ()
- A、15% B、20% C、21% D、25%
45. 将进货单价为 90 元的某商品按 100 元一个出售时, 能卖出 500 个, 已知这种商品如果每个涨价 1 元, 其销售量就会减少 10 个, 为了获得最大利润, 售价应定为 ()。
- A、110 元 B、120 元 C、130 元 D、150 元
46. 一块三角地带, 在三个边上植树, 三个边的长度分别为 156 米、186 米、234 米, 树与树之间的距离均为 6 米, 三个角上都必须栽一棵树, 问共需植树多少棵? ()
- A、93 棵 B、95 棵 C、96 棵 D、99 棵
47. 现有甲、乙两个水平相当的技术工人需进行三次技术比赛, 规定三局两胜者为胜方。如果在第一次比赛中甲获胜, 这时乙最终取胜的可能性有多大? ()
- A、 $1/4$ B、 $1/3$ C、 $1/2$ D、 $1/6$
48. 一张考试卷共有 10 道题, 后面的每一道题的分值都比其前面一道题多 2 分。如果这张考卷的满分为 100 分, 那么第八道题的分值应为多少? ()
- A、9 B、14 C、15 D、16
49. 假设五个相异正整数的平均数是 15, 中位数是 18, 则此五个正整数中的最大数的最大值可能为 ()。
- A、24 B、32 C、35 D、40



50. 半径为 5 厘米的三个圆弧围成如右图所示的区域, 其中 AB 弧与 AD 弧是四分之一圆弧, 而 BCD 弧是一个半圆弧, 则此区域的面积是多少平方厘米? ()
- A、50 B、 $10+5\pi$ C、25 D、 $50+5\pi$

※※※ 第二部分结束, 请继续做第三部分! ※※※

第三部分 判断推理

(共 25 题, 参考时限 25 分钟)

本部分包括三种类型的题目:

一、事件排序: 共 10 题, 每题 0.5 分。每道题给出五个事件, 每个事件是以简短语句表述的, 接着给出四种假定发生顺序的四个数字序列, 请你选出其中最合乎逻辑的一种事件顺序。在回答问题时, 你可根据自己的一般知识和对事件间逻辑关系的理解作些补充或合理的假设, 以填补缺欠的信息。但要注意以最少的假设来联系和安排这五个事件的发生顺序。

例题:

- (1) 小李的建议没有被采纳 (2) 小李受到工厂的奖励
(3) 小李提出三项合理化建议 (4) 厂长说“贵在参与”
(5) 厂长号召职工关心企业建设

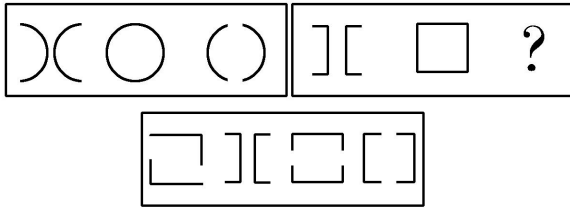
A、4—2—3—1—5 B、5—2—3—4—1 C、5—3—1—4—2 D、4—2—1—3—5

解答: 此题正确答案为 C。事件为: 小李响应号召提出建议, 尽管未被采用, 仍然受到了奖励。这一顺序相对

于其他备选答案中的顺序而言最为合理。 请开始答题：

51. (1)企业进驻 (2)项目初审
(3)提交申报材料
(4)专家评审
(5)管理办公室审批
A、3—2—5—4—1 B、3—2—4—5—1 C、5—4—3—2—1 D、2—3—5—4—1
52. (1)将档案转出 (2)到校保卫处借出集体户口
(3)到公安局申请出国护照 (4)到使馆签证
(5)到学籍管理科开具离校转单
A、2—3—4—5—1 B、1—5—3—4—2 C、3—2—1—4—5 D、2—1—4—5—3
53. (1)剧毒污染物流入河水 (2)市政供水网停止供水
(3)市政府启动应急预案 (4)中央工作组展开调查
(5)炼油厂发生爆炸事故
A、5—1—4—2—3 B、1—4—5—2—3 C、5—1—3—2—4 D、1—2—3—4—5
54. (1)出院 (2)挂号
(3)呕吐 (4)恶心
(5)洗胃
A、5—1—3—2—4 B、5—1—4—3—2 C、1—4—3—2—5 D、4—3—2—5—1
55. (1)美国物理学家戈达德开始火箭实验研究
(2)美国探测船“探路者”成功登陆火星
(3)中国《淮南子》中提出完整的二十四节气及天地起源说
(4)美国宇宙飞船阿波罗八号完成人类首次环绕月球飞行
(5)天主教宗教法庭强迫伽利略放弃他的理论
A、5—3—1—4—2 B、3—5—1—4—2 C、3—1—5—4—2 D、3—5—4—1—2
56. (1)呼出二氧化碳 (2)吸入氧气
(3)在组织中将氧气释放 (4)二氧化碳在肺部与血红蛋白分离
(5)血液从肺部流向心脏
A、2—5—3—4—1 B、1—2—3—4—5 C、2—4—5—3—1 D、4—3—5—1—2
57. (1)强调家俱应舒适、实用 (2)对居住面积提出了新的要求
(3)室内陈设应具有美学观点 (4)住所的位置是关键所在
(5)不满一般的室内装修
A、1—2—3—4—5 B、1—3—5—2—4 C、3—2—1—4—5 D、4—2—5—1—3
58. (1)被监考老师发现 (2)下决心改正
(3)考试作弊 (4)平时不好好学习
(5)受纪律处分
A、4—3—5—2—1 B、3—4—1—5—2 C、3—1—5—4—2 D、4—3—1—5—2
59. (1)发现问题 (2)拿出备选方案
(3)调查研究
(4)确定方案
(5)付诸实施
A、1—2—4—3—5 B、1—3—2—4—5 C、1—4—5—3—2 D、1—2—3—4—5
60. (1)报送候选人材料 (2)公布获奖名单
(3)组织专家评审 (4)举行颁奖仪式
(5)确定获奖人选
A、1—2—3—4—5 B、1—3—5—2—4 C、3—2—1—4—5 D、4—2—5—1—3

二、图形推理：共5题，每题1分。每道题包含两套图形和可供选择的4个图形。这两套图形具有某种相似性，也存在某种差异。要求你从四个选项中选择你认为最适合取代问号的一个。正确的答案应不仅使两套图形表现出最大的相似性，而且使第二套图形也表现出自己的特征。

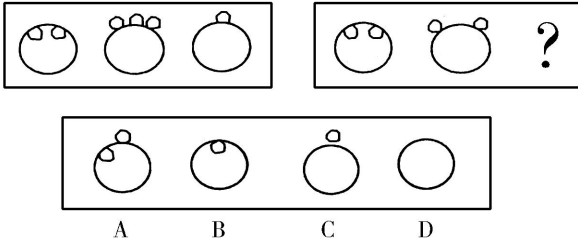


例题

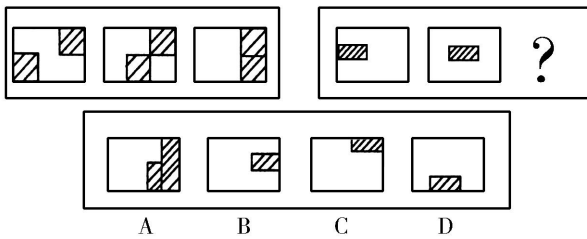
解答：正确答案为D。因为只有D能使两套图形具有相似性，仅仅元素不同，一个是半圆，一个是半个正方形，但两组图形中元素的排列规律完全相同。

请开始答题：

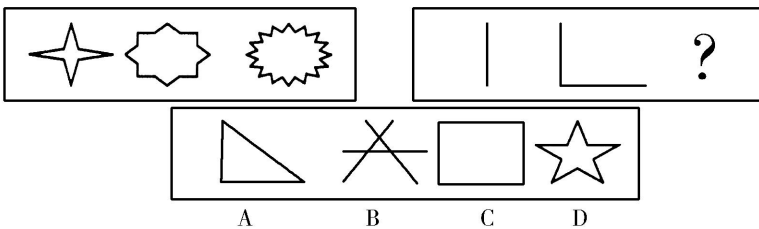
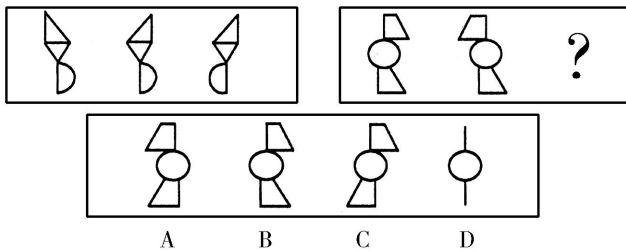
61.



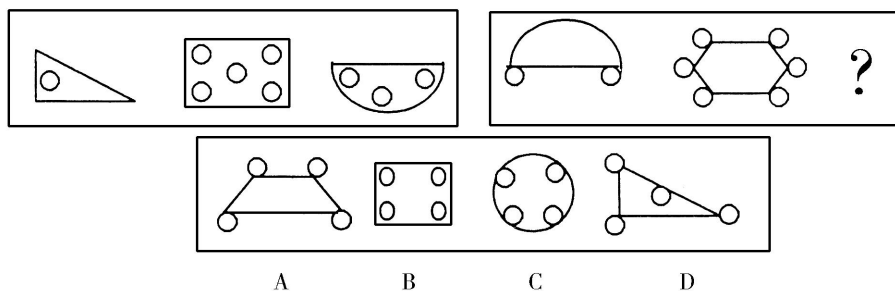
62.



63.



65.



三、演绎推理：共 10 题，每题 1 分，每题给出一段陈述，这段陈述被假设是正确的，不容置疑的。要求你根据这段陈述，选出一个答案。注意，正确的答案应与所给的陈述相符合，不需要任何附加说明即可以从陈述中

直接推出。

例题：某厂有五种产品：甲、乙、丙、丁、戊。它们的年销售额之间的关系为：丙没有丁高，甲没有乙高，戊不比丁低，而乙不如丙高。

请问，哪种产品的年销售额最高？（ ）

A. 甲 B. 乙 C. 丁 D. 戊

解答：从所给条件可以知道：戊>丁>丙>乙>甲。因此，正确答案为D。

请开始答题：

66. “如果王涛是学生会成员，他一定是二年级学生。”

上述判断是基于以下哪个前提作出的？（ ）

- A、只有王涛才能被选入学生会
B、只有二年级学生才有资格被选入学生会
C、入选学生会成员中必须有二年级学生
D、二年级学生也可能不被选入学生会

67. 调查表明，新闻类期刊每一份杂志平均有4到5位读者。由此可以推断，在《音乐之旅》的20000订户的背后约有80000到100000位读者。

上述估算的前提是（ ）。

- A、大多数《音乐之旅》的读者都是新闻类期刊的订户
B、《音乐之旅》的读者与订户的比例和新闻类期刊的读者与订户的比例相同
C、读者通常都喜欢阅读一种以上的刊物
D、新闻类期刊的读者数与《音乐之旅》的读者数相近

68. 文艺作品源于生活而高于生活，没有深入体验生活的人是不可能创作出优秀作品的。

因此，（ ）。

- A、诗人、小说家不可能是年轻人
B、作诗、写小说都是老人们的事
C、创作剧本必须有足够的生活经验
D、写小说要靠运气

69. 青少年如果连续看书时间过长，眼睛近视几乎是不可避免的。菁华中学的学生个个努力学习，尽管大家都懂得要保护眼睛，但大多数学生每天看书时间都超过10小时，这不可避免地导致连续看书时间过长。其余的学生每天看书也有8小时。班主任老师表扬的都是每天看书时间超过10小时的学生。

以上的叙述如果为真，最能得出以下哪项结论？（ ）

- A、菁华中学的学生中没有一个学生的视力正常，大家都戴近视镜
B、每天看书时间不超过10小时的学生学习不太用功
C、菁华中学的学生中近视眼的比例大于其他学校
D、得到班主任老师表扬的学生大部分是近视眼

70. 在行政管理中要求权责一致，拥有一定的权力就要承担相应的责任，承担了一定的责任就应该拥有履行其责任的权力。

因此，（ ）。

- A、承担责任就应该拥有权力
B、人人都应该拥有权力，承担责任
C、行政权力的分配应注意与责任相符
D、权力和责任是按照一定的职位来分配的

71. 有人说，彻底的无私包含两个含义：第一，无条件地实行为他人服务；第二，拒绝任何他人的服务。

下述哪项是上述观点的逻辑推论？（ ）

- A、没有人是彻底无私的
B、不可能所有的人都彻底无私
C、如果有人接受了他人的服务，那么一定存在彻底无私的人
D、如果有人拒绝了他人的服务，那么一定存在彻底无私的人

72. 三个人准备去爬山。天气预报说，今天可能下雨。围绕天气预报，三个人争论起来：

甲说：“今天可能下雨，那并不排斥今天也可能不下雨，我们还是去爬山吧。”

乙说：“今天可能下雨，那就表明今天要下雨，我们还是不去爬山了吧。”

丙说：“今天可能下雨，只是表明今天不下雨不具有必然性，去不去爬山由你们决定。”

对天气预报的理解，三个人中（ ）。

- A、甲和丙正确，乙不正确
B、甲正确，乙和丙不正确
C、乙正确，甲和丙不正确
D、丙正确，甲和乙不正确

73. “消费者并不如厂家所想的那样易受影响，他们知道自己需要什么，而他们所想要的也许与其他人认为他们想要的相差甚远。”

以下哪项如果为真，则上述观点不成立？（ ）

- A、大多数人年复一年地购买同一牌子的商品
- B、当人们与同伴一起购物时，通常很少与同伴发生争执
- C、商店的货架上摆着各种牌子的商品，容易使消费者不知所措
- D、做广告最多的公司销售量也最大

74. “注意力是知识的窗户，没有它，知识的阳光就照射不进来。”这是一位著名学者的经验之谈，它形象地说明：注意力高度集中，是学业上有所成就，科学上有所建树的重要条件因此，（ ）。

- A、学习时一定要集中注意力
- B、无论做什么事都应全神贯注、集中注意力
- C、注意是一种心理品质
- D、并不是每个人都能集中注意力

75. 甲、乙、丙、丁四人在一起议论本班同学申请银行助学贷款的情况。

甲：“我班所有的同学都已申请了贷款。”

乙：“如果班长申请了贷款，那么学习委员就没有申请。”

丙：“班长申请了贷款。”

丁：“我班有人没有申请贷款。”

已知四人中只有一人说假话，则可推出以下哪项结论？（ ）

- A、甲说假话，学习委员没申请
- B、乙说假话，班长没申请
- C、丙说假话，学习委员没申请
- D、丁说假话，学习委员申请了 【LM】

第四部分 言语理解与表达

（共 15 题，参考时限 15 分钟）

本部分包括两种类型的题目：

一、选词填空：共 10 题，每题 0.5 分。请你从所给的四个选项中选出一个填空，使句子的意思表达得最准确。

例题：

只要方向正确，任何一点积极性都应当得到_____ 和支持。

- A. 尊重 B. 肯定 C. 表彰 D. 重视

解答：用“肯定”填空使句子的意思表达得最准确，故应选 B。

请开始答题：

76. 该地区对环境保护采取了强有力的措施，水土流失现象得到了有效_____，生态环境向良性循环转变。填入划横线部分最恰当的一项是（ ）。

- A、抑制 B、控制 C、防治 D、治理

77. 随着中国经济持续增长和社会全面进步，妇女与男子平等的权利和机会不断得到_____，妇女发展获得了前所未有的机遇。

填入划横线部分最恰当的一项是（ ）。

- A、保护 B、保全 C、保障 D、维护

78. 高原冻土是青藏铁路施工必须_____的难题，其特殊性和复杂性在世界上独一无二。

填入划横线部分最恰当的一项是（ ）。

- A、面对 B、面临 C、攻取 D、攻克

79. 中国致力于建设创新型国家，制定了中长期科学和技术发展_____，提出了未来 15 年科技发展的目标任务。

填入划横线部分最恰当的一项是（ ）。

- A、计划 B、设想 C、规划 D、方案

80. 入世几年来，我国面对的包括反倾销、技术壁垒等方面的贸易摩擦有增无减，形势_____，影响了我国上百亿美元的出口贸易。

填入划横线部分最恰当的一项是（ ）。

- A、严峻 B、严厉 C、严重 D、严酷

81. 他事先没有充分调查研究，_____ 得出了错误的结论。

填入划横线部分最恰当的一项是（ ）。

- A、以至 B、以致 C、甚至 D、直至

82. 我国政府规定，自 2002 年 3 月 20 起，在国内销售的转基因食品必须进行_____。

填入划横线部分最恰当的一项是（ ）。

- A、标示 B、标识 C、标明 D、标清

83. 经过一段时间的侦查，公安人员在工业园附近一举_____了这个特大地下制毒工厂。

填入划横线部分最恰当的一项是（ ）。

- A、查处 B、整顿 C、捣毁 D、拆毁

84. 培养人才固然重要，但是当务之急是_____现有人才的作用。

填入划横线部分最恰当的一项是（ ）。

- A、重视 B、挖潜 C、调动 D、发挥

85. 为了激发企业的活力，总经理决定_____一批年轻人。

填入划横线部分最恰当的一项是（ ）。

- A、起用 B、启用 C、利用 D、运用

二、语言表达：共 5 题，每题 1 分。要求你从语气、词序、语法结构等方面对有关语句作出判断。

例题：

从给出的几句话中选出没有语病的一句：（ ）。

- A. 阅读理解与否，是衡量阅读能力好坏的重要标志
B. 阅读与理解，是衡量阅读能力好坏的重要标志
C. 阅读是否理解，是衡量阅读能力的重要标志
D. 阅读能力好坏的标志是理解

解答：从给出的四句话来看，只有 A 没有语病。

请开始答题：

86. 下列各句没有语病的一项是（ ）。

- A、我国棉花的生产，长期不能自给
B、科学的发展逼得反科学的人不得不戴上伪科学的面具来反对科学
C、我们再也而不是被列强任意欺侮的国家了
D、他如果不能实事求是，事业就会受到损失

87. 下列各句没有语病的一项是（ ）。

- A、他的革命精神时刻浮现在我的眼前
B、在激烈的市场竞争中，我们所缺乏的，一是勇气不足，二是谋略不当
C、做好生产救灾工作决定于干部作风是否深入
D、既然你来了，我也该走了

88. 下列各句没有语病的一项是（ ）。

- A、在首个国家级科技创新示范基地终于撩开了神秘的面纱
B、通过这次保持共产党员先进性教育活动，使他受到深刻的教育
C、这个被评为科技创新先进集体的公司，是由三个街道生产小组合并起来的
D、读了这篇文章，能够使广大读者更加深刻地认识到构建和谐社会的重要意义

89. 下列没有歧义的一句是（ ）。

- A、是谁创造了历史，这个问题一直是历史学家争论的问题
B、那个教室我过去看过，没有什么摆设
C、李老师是前几天才调到我们学校的，许多同学还不认识
D、山上的水宝贵，我们把它留给晚上来的人喝

90. 下列各句没有语病的一项是（ ）。

- A、学习成绩的提高取决于学生自身是否努力
B、媒体的生命力在于能否为读者奉上丰富、新颖、优质的精神食粮
C、能否贯彻落实科学发展观，对构建和谐社会，促进经济可持续发展无疑具有重大的意义
D、在专业研究、实验方面有优势的单位，有派出讲学人员、接受访问学者、举办训练班以及对其他协作

单位提供帮助的义务
第五部分 资料分析
 （共 20 题，参考时限 20 分钟）

针对下列文字、表或图回答问题。你应根据资料提供的信息进行分析、比较、计算、处理。共 20 题，每题 1 分，共 20 分。

根据下列文字回答 91~95 题：

2006 年春节期间，湖南省共接待旅游者 265.44 万人次，比上年同期增长 14.8%，实现旅游收入 11.79 亿元人民币，增长 23.9%。其中长沙市接待旅游者 72.78 万人次，实现旅游收入 4 亿元，同比增长 22.2%；张家界、岳阳、常德、郴州、湘潭、株洲等地的旅游接待人数都保持了较好的增长势头，特别是张家界市的增长幅度超过了 40%；张家界和永州两市的旅游收入增幅也超过了 40%。

91. 2006 年春节期间，长沙市接待旅游人数是多少万人次？（ ）
 A、304.73 B、265.44 C、231.22 D、72.78
92. 2006 年春节期间，长沙市接待游客人数占全省接待游客人数的百分之几？（ ）
 A、40% B、27.4% C、23.9% D、22.2%
93. 2005 年春节期间，湖南全省实现旅游收入多少亿元？（ ）
 A、4 亿元 B、9.52 亿元 C、11.79 亿元 D、14.61 亿元
94. 2006 年春节期间，来湖南旅游的游客平均每人消费多少元？（ ）
 A、11.79 亿元 B、444.2 元 C、225.1 元 D、1088.4 元
95. 2006 年春节期间，接待人数、旅游收入增幅都超过 40%的城市是哪个？（ ）
 A、张家界 B、长沙 C、永州 D、岳阳

根据表一，回答 96~100 题：

表一：2004 年湖南省规模以上工业增加值主要分类情况 单位：亿元

指 标	绝对数	比上一年增长%
工业增加值	1198.14	24.1
其中：国有及国有控股企业	678.07	21.4
股份制企业	73.78	7.4
外商及港澳台投资企业	423.91	27.3
其中：轻工业	428.15	23.8
重工业	769.99	24.3

96. 从企业所有制性质看，2004 年湖南省规模以上工业增加值绝对数最高的是哪类企业？（ ）
 A、国有及国有控股企业 B、集体企业
 C、股份制企业 D、外商及港澳台投资企业
97. 2004 年湖南省规模以上工业增加值中重工业占的比重是多少？（ ）
 A、23.8% B、24.3% C、35.7% D、64.3%
98. 2004 年湖南省规模以上工业增长率是多少？（ ）
 A、24.1% B、27.3% C、25.6% D、24.3%
99. 如果 2003 年湖南省规模以上工业股份制企业增长率也为 27.3%，根据上表，2003 年湖南省规模以上工业股份制企业增加值是多少亿元？（ ）
 A、333.0 B、423.91 C、583.09 D、1552.78
100. 根据上表，2004 年湖南省规模以上重工业增加值比轻工业增加值多多少亿元？（ ）
 A、856.3 B、769.99 C、428.15 D、341.84

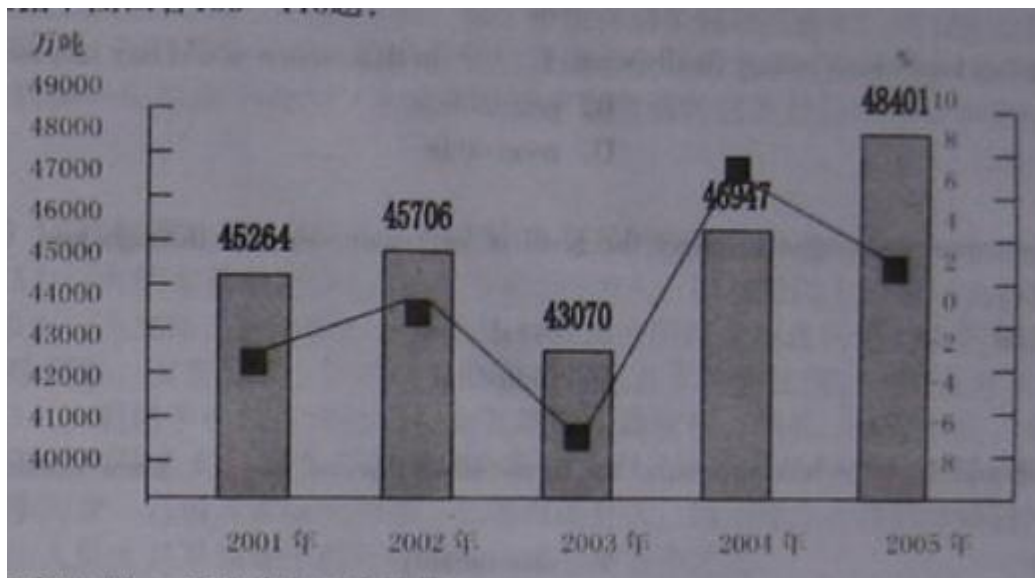
根据表二，回答 101~105 题：

表二：湖南民族地区与周边省区民族地区全国农民人均纯收入比较

地 区	2001 年		2002 年		2003 年	
	人均纯收入	比湖南人均多收入	人均纯收入	比湖南人均多收入	人均纯收入	比湖南人均多收入
广 西	1944.3	579.3	2012.6	611.6	2094.5	607.5
贵 州	1411.7	46.7	1489.9	88.9	1564.7	77.7
全 国	2366		2476		2622	

101. 根据上表，2003 年湖南民族地区农民人均纯收入为多少元？（ ）
 A、2702 元 B、2094.5 元 C、1487 元 D、1624.4 元
102. 2002 年湖南民族地区农民人均纯收入比全国低多少元？（ ）
 A、1401 元 B、1075 元 C、1775.5 元 D、986.1 元
103. 2003 年湖南民族地区农民人均纯收入比 2002 年增长了百分之多少？（ ）
 A、4.1% B、5.0% C、5.9% D、6.1%
104. 根据上表，2003 年贵州民族地区农民人均纯收入是全国农民人均纯收入的百分之几？（ ）
 A、67.6% B、59.7% C、56.7% D、40.3%
105. 根据上表，下列说法错误的是（ ）。
 A、2001 年至 2003 年，全国农民人均纯收入持续增长
 B、2001 年至 2003 年，与相邻省区比较，湖南民族地区农民人均纯收入相对较低
 C、2001 年至 2003 年，贵州民族地区农民人均纯收入比广西民族地区农民人均纯收入高
 D、2002 年，湖南民族地区农民人均纯收入低于全国平均水平

根据下图，回答 106~110 题：



106. 根据上图，下列说法正确的是（ ）。
 A、“十五”时期粮食产量逐年上升
 B、“十五”时期粮食产量年增长率逐年提高
 C、“十五”时期粮食产量最高的年份是 2004 年
 D、“十五”时期粮食产量年增长率最高的年份是 2004 年
107. 2004 年粮食产量比 2003 年提高了几个百分点？（ ）
 A、9 B、3 C、1 D、-2

108. “十五”时期粮食产量最高的年份是哪一年? ()
A、2002年 B、2003年 C、2004年 D、2005年
109. 2005年粮食产量比2001年多多少? ()
A、3137吨 B、3137万吨 C、5331万吨 D、442万吨
110. 根据上图，下列说法不正确的是 ()。
A、“十五”时期粮食产量有所波动
B、2005年粮食产量增长率比上一年有所下降
C、2003年粮食产量比2002年增加2636万吨
D、总体来讲，“十五”时期粮食产量呈上升趋势

第六部分 英语

(共10题，参考时限10分钟)

本部分包括三种类型的题目：

一、词汇选项。从A、B、C、D四个选项中，选出可以填入空白处的最佳选项。共3题，每题1分，共3分。

111 The factory kept losing money and finally went _____ in that no one would buy its products.

A bullish B profitable C broke D receivable

112 The government manages to affect the level of aggregate demand through _____ and monetary policy.

A commercial B fiscal C sluggish D industrial

113 Keys should never be hidden around the house since thieves _____ know where to find them.

A virtually B unavoidably C reliably D invariably

二、完型填空。阅读下面短文，从短文后所给各题四个选项A、B、C、D中选出能填入相应空白处的最佳选项。共3题，每题1分，共3分。

Martin Luther King, [KG-*2] Jr. was born in Georgia in 1929. When was still a boy Martin learned that his people, the black Americans, were often treated differently from most of [ZZ (Z) 114 [ZZ]] fellow Americans. Many could not attend good schools, get good jobs, or live in nice houses because of the color of their [ZZ (Z) 115 [ZZ]]. Martin knew that in a free country this was wrong. He wanted to help his black brothers. [ZZ (Z) 116 [ZZ]] he decided to go to school and become a minister.

114 A his B those C most D their

115 A faces B skin C bodies D people

116 A As B Because C So D But

三、完成句子。阅读下面短文，根据短文提供的信息，完成下列各题。共4题，每题1分，共4分。

Taxes are a big part in the United States, Most Americans pay city taxes, state taxes, social security taxes, sales taxes..., and the list seems endless.

The biggest tax for most Americans is that on the money they earn—the income tax. The personal income tax is called a “progressive tax” because it takes more from those who earn more. For example, a person who earns about 3,500 dollars a year will pay a tax of only about 3 5% of earning, but of the same person earned

85,000 dollars a year, he would pay an income tax of 35%.

Over the years the income tax has become more and more difficult for people to understand. Almost one half of all Americans now have to pay experts to prepare their tax reports in fact, preparing taxes and giving tax advice have become a big industry in America.

117 Most Americans pay _____

A taxes which are too many to list

B taxes either to the cities or the states they live in

C so many kinds of taxes that they even don't know the names

D several kinds of taxes

118. Social security tax is collected from_____ .

- A、 those who have broken the law
- B、 those who often make trouble
- C、 those whose lives and property are in danger
- D、 every citizen living in the area

119. The “progressive tax” is the tax_____ .

- A、 collected for social progress
- B、 that increases with each passing year
- C、 that is collected from those who earn most
- D、 that varies according to how much money a person earns

120 Almost one half of all Americans have to pay experts, because_____ .

- A、 the list of taxes seems endless
- B、 they would rather spend their time and energy elsewhere
- C、 they find their knowledge about taxes is so limited that they are unable to write tax report all by themselves
- D、 paying experts to prepare their tax report and asking for tax advice have become very popular

※※※ 全部测验到此结束 ※※※