

2015年河南公务员考试《行测》卷

来源：F 整理：杨柳（微信：gwy288）

一、言语理解，共30题，本部分包括表达与理解两方面的内容，请根据题目要求选出答案。

1、上世纪二三十年代，娱乐方式少，评弹和电影是_____的，目前电影能够带来各种感官刺激，评弹就做不到了。那么，既然没有土壤，评弹演员的水平怎能提高？

A、旗鼓相当 B、求同存异 C、一脉相连 D、相映成趣

2、当公众把税和预算的治理权交给公共权力的代理人——政府的时候，并没有放弃自己对这个国家财政资源的所有权和统治权，政府只能在人民授予的范围之内行使权力，否则就是_____。市场经济中政府所拥有的权力，只是政府履行社会责任和提供公共服务的_____，政府是一个服务于全体纳税人的载体。

依次填入画横线部分最恰当的一项是：

A、渎职 结果 B、垄断 基础 C、僭越 条件 D、侵权 核心

3、德国职业教育体系一直被认为是实现低失业率的一个重要原因，并享有极高的国际声誉。德国职业培训在时间_____上采取每周3~4天在企业，1~2天在职业学校的方式，教学工作一般由公司经验丰富的高级技师和学校教师_____。国家的通用考核标准保证了各种资格和职称的可比性，这些标准都是由业界负责制定的。

依次填入画横线部分最恰当的一项是：

A、安排 胜任 B、分配 承担 C、调配 担任 D、计划 担当

4、所谓城市文化，说到底是一个城市的灵魂，它可以体现为_____的城市建筑，也可以体现为传统遗存的保护和文化产业的增长，但归根结底，它体现的应是一个城市的价值和精神。如此，城市才可宜居，不同社会阶层之间的关系才可_____，一代又一代的居民才可扎根，经济发展才可能藉此获得自己的文化面孔。

依次填入画横线部分最恰当的一项是：

A、气势恢宏 平衡 B、千姿百态 亲密 C、别具一格 和睦 D、美轮美奂 和谐

5、如今，恶意卸载或屏蔽竞争对手软件，未经告知就修改用户默认设置、上传用户数据等类似事件的不断出现，已经在_____，如果互联网没有规则，互联网竞争不遵守规则，那必然是_____，将不断消耗中国互联网的创新能力，损害网民利益，阻碍互联网的发展。

依次填入画横线部分最恰当的一项是：

A、警示 竭泽而渔 B、预示 鹬蚌相争 C、证明 寅吃卯粮 D、昭告 作茧自缚

6、英国数学家和哲学家罗素从欧几里德的《几何原本》中“读出音乐般的美妙”，德国生物学家海克尔从达尔文的《物种起源》中“见出生物世界无与伦比的统一之美”。尽管科学家们对科学美的_____大多是零散的，但不难看出他们对科学之美的肯定和重视。在这些大科学家眼里，科学美是自然和谐之美的_____，是人们发现自然之秘密而产生的自我超越感。

依次填入画横线部分最恰当的一项是：

A、解释 升华 B、阐述 映射 C、感受 解读 D、概括 延伸

7、我们的生活不断“提速”，凡事追求_____，生活不自觉地迈入“加急时代”。“时间就是金钱，效率就是生命”演变成为一种普世的价值观念，出差是飞机高铁，上网是极速体验，吃饭要争分夺秒，就连蹒跚学步的孩子，都不能输在起跑线上，这份急，夹杂着对结果的狂热、对过程的忽视，进而衍生出对规则的_____，同时催生出各种问题。

依次填入画横线部分最恰当的一项是：

A、立竿见影 漠视 B、当机立断 解构 C、风风火火 裹挟 D、一步到位 歪曲

8、成功摘掉“雾都”帽子的伦敦，是许多人心目中治理空气知耻而后勇的_____。但60年后，伦敦的境况并不乐观，空气难达标，欧盟屡警告，这似乎也昭示着空气治理从来不是_____的事情，也提醒着我国治理之路的漫长。

依次填入画横线部分最恰当的一项是：

A、标志 易如反掌 B、象征 按图索骥 C、榜样 闭门造车 D、典范 一劳永逸

9、从目前市场上微电影项目的特征来看，微电影产业势必更为专业化，将经历内容整理与规范化生产的过程。在盈利模式逐渐明确之后，作为产品的主要组成部分，微电影商业片将会形成一个_____的内容区间与制作标准，相关专家强调：“目前网络微电影的内容_____，一些功利性较强的影片_____，以出位怪异获取关注，缺乏社会责任感，急需相关部门出台相应的法律法规进行规范，而制作标准则是每一个产业都必须做到的原则。”

依次填入画横线部分最恰当的一项是：

A、成熟完备 真假难辨 趁虚而入 B、合情合理 五花八门 大行其道

C、清晰明确 良莠不齐 哗众取宠 D、规范稳定 鱼龙混杂 滥竽充数

10、畅销书已经深入我们的阅读生活，它与当代社会生活最为_____，与时代的变化联系最为密切，我们无法_____畅销书，只期望有越来越多像霍金的《时间简史》那样的书成为畅销书，也期望畅销书的文化品位与其销量_____。

依次填入画横线部分最恰当的一项是：

- A、贴近 拒绝 得而兼之 B、契合 忽视 两全其美
C、紧密 排斥 双管齐下 D、一致 抵触 并行不悖

11、在一线城市，过去一派田园风光的郊区，如今也已高楼林立，无“农”可学正成为不少学校农学专业面临的窘境。再加上时间、场地和内容的限制，学农对农学专业学生的吸引力逐渐减弱，学农的必要性也遭受质疑。

这段文字意在说明：

- A、吸引学生学农迫在眉睫 B、农学专业面临双重困境
C、农学专业应适应城市化发展趋势 D、国家应为农学发展提供必要条件

12、风俗既然是历史的产物，就不可避免地随着历史的发展而变化，但凡能够存在的，都有其依存的自然条件和社会环境。沧海桑田的变化，经济的发展，制度的更迭，都会促使风俗变迁，有些旧风俗的衰亡犹如新风俗的兴起一样，是自然和社会的新陈代谢，是合理的现象。衰亡的不一定都要复兴，有的不妨任其自生自灭。例如，新中国成立初期有的少数民族文字已经消亡，中国社会科学院少数民族语言研究所曾经帮助这些民族恢复文字，但事与愿违，不受当地人的欢迎，因为他们认为学会本民族的文字，走不出家乡，宁可选择学汉字。但是，这种文字既然在历史上存在过，就是一份值得珍视的文化遗产，需要作为文物保存在历史记忆中，让现代人感知先人的智慧，使其“亡而不忘”。

这段文字意在强调：

- A、应该从历史发展的角度对待风俗 B、风俗是一种无法复制的非物质文化遗产
C、风俗的变迁是多种因素耦合的结果 D、风俗作为一种文化遗产应大力保护

13、电影、电视会强有力地抑制读者对文本的自由想象。与电影相比，小说更像是漫画。一方面漫画能教人怎样用寥寥数笔定义人物和物体；另一方面，漫画场景之间的方格，代表着漫画家省略了的内容，同时又让我们注意到创作者构思取景的能力。而在阅读小说时，这些场景（方格）会由读者自行串联起来，合成了一整篇说得通的故事。

这段文字意在说明：

- A、小说与漫画有很多相似之处 B、小说多注重故事情节的完整性
C、小说为读者留下自由想象的空间 D、漫画比电影和小说的表现力更强

14、一个寒冷的冬天，纽约一条繁华的大街上，有一个双目失明的乞丐，那乞丐的脖子上挂着一块牌子，上面写着：“自幼失明”。有一天，一个诗人走近他身旁，他便向诗人乞讨。诗人说：“我也很穷，不过我给你点别的吧。”说完，他便随手在乞丐的牌子上写了一句话。那一天，乞丐得到很多人的同情和施舍。后来，他又碰到那诗人，很奇怪地问：“你给我写了什么呢？”那诗人笑笑，念那牌子上他所写的句子道：“春天就要来了，可我不能见到它。”

最适合这段文字标题的是：

- A、幸运的乞丐 B、温暖的冬天 C、春天的收获 D、诗歌的妙用

15、近年来，众多电商长期耕耘数字阅读市场，造就了全民阅读热潮，政府的支持、数字出版产业经济的迅速发展、手机网民网络文学服务使用率的提高、以及针对多媒体信息的科技的进步，都为移动阅读提供了良好的环境支持。据第十二次全国国民阅读调查成果显示，近三年我国成年国民数字化阅读方式的接触率逐年提高，数字化阅读率首次超过传统图书阅读率。

这段文字意在强调：

- A、全民阅读热潮方兴未艾 B、数字出版产业大规模兴起
C、电商造就了数字化阅读热潮 D、国民数字阅读已超越传统阅读

16、在促使近代科学产生的外部原因中，清教主义的兴盛是一个相当重要的因素。学者们认为，近代科学的一个前提性的假设就是一种广泛传播、出自本能的信念，相信存在事物的秩序，特别是自然的秩序。科学史专家以具体资料表明：在17世纪英国皇家学会会员中，十个当中就有七个是清教徒，这一比例大大高于清教徒在总人口中所占的比例；大多数科学家都是活跃的教士，而很多教士也鼓励或亲自投身科学事业；清教学校在其课程中也会设置自然科学科目。

这段文字意在说明：

- A、清教主义在十七世纪盛行的原因 B、宗教与科学之间并非是绝对对立的
C、宗教对近代科学具有催生及促进作用 D、近代科学的前提性假设与宗教的渊源

17、文化从来都包括物质，同时文化也从来都具有非物质的一面。然而，自从近代“物质”兴起之后，我们的思维和想象都已经相当的物质化。由于近代中国曾经悲惨地示人以积贫积弱之相，故追求富强也就成了理所当然的主流。如今的中国虽然看似已经变得富强，却也确实逐渐淡忘了物质财富之外的天地，对于各类“非物质”的事物久已生疏，以至于视而不见。把“非物质文化”视为招商的选项，就是一种典型的物质化思路。

这段文字表达的主要观点是：

- A、文化是物质层面和非物质层面的综合体
B、中国在实现物质富强之后更应注重非物质层面的富强
C、中国逐渐变为物质巨人的同时却沦为了精神上的贫困者

D、当今人们片面追求物质财富而忽视了非物质性文化建设

18、虽然人们总是这样假定：只要不断提升人类的理性，并使信息透明化，就能消灭谣言产生的土壤。但迄今为止这一直只是个理想，而且很可能永远也无法实现。没有哪个社会的人所传播的信息都完全正确，在很多情况下，人们为了尽快获知自己所关心的“真相”常常在不知不觉中传播那些未经证实的说法。因为在很大程度上，谣言折射的正是群体心理：他们的希望、恐惧、焦虑。

这段文字意在说明：

- A、没有谣言的社会是不存在的 B、人们往往无意识地传播着谣言
C、谣言折射出社会部分群体的心理 D、人们往往为了获取真相而轻信谣言

19、就在“古典音乐注定是一种小众艺术”成为一种基本共识时，这个艺术门类的门槛却被新技术撬动了。之前，古典音乐使尽浑身解数，试图吸引新受众而不得，技术却展现了另一种可能性，如果有适当的机会，人们其实渴望了解古典音乐。

以这段文字作为开头，文章接下来最可能论述什么？

- A、古典音乐的新魅力 B、古典音乐的受众群体
C、新技术促进古典音乐传播的方式 D、新技术在古典音乐传播中的作用

20、天文探索是为了揭示宇宙的奥秘，而占星术则忙于为某个具体的人卜算吉凶；化学揭示了水是由分子构成的，而厂商炮制出的所谓“小分子水”的概念，则成为了典型的商业骗局；在苏联时代，经不起严格推敲的“李森科遗传学”之所以能红极一时，正是“李森科试图消除学术竞争对手”与“苏联当局试图以科学证明意识形态的胜利”二者一拍即合的结果，而并不是它本身正确得无以复加。

这段文字意在说明伪科学：

- A、会对科学发展有消极或负面的影响 B、经不起科学所必须接受的严格检验
C、披着科学的外衣示人，非常有蒙蔽性 D、带有功利性，其传播是有特殊目的的

21、在 20 世纪，失望于西方文明的一代求索者，面对着东西日趋频繁的交流和接触，不满足前辈间接认知中国精神的方式，便纷纷踏上了东来“朝圣”的征途，开辟出直面对话的新途径。他们都梦想用中国哲学精神来根治西方社会弊病，期盼着从那里寻回疗救自身的灵药和补正自家文化的方略。这就决定了他们在接受中国文化价值、分享中国思想精髓时，也难以回避前辈惯常的实用取向。

下列说法与原文相符的是：

- A、部分西方学者在理解中国文化时存在实用主义倾向
B、中国学者认为中国哲学思想可以剷除西方社会弊病
C、20 世纪是东西方文明相互碰撞融合的重要历史时期
D、东西交流的日趋频繁使西方学者接受中国思想文化

22、生态环境是为全人类提供公共服务的一种特殊资产，传统消费主义最大的问题也许是，在它使资本主义体系运转起来的经济平衡等式中，并没有对大自然的“资本”进行过正确的评估。生态经济学家们反对消费主义最根本的论点之一，就是消费经济学将地球不可替代的资本（自然资源）视为了收入，这是理论上的致命错误。

这段文字意在强调：

- A、应当重视生态环境的公共属性
B、人们不应无节制地消费生态环境
C、传统消费主义难以维持经济平衡和持续发展
D、对自然资源的错误认识是传统消费主义的主要问题

23、①这些河谷高山群，北连亚洲腹地和青藏高原，南接亚洲南部热带地区，成为动植物南北扩散通道和东西交汇之地

②学界认为横断山脉是古老物种的庇护所和物种的演化中心

③在喜马拉雅山脉以东，有一系列南北走向的高山峻岭，这就是中外闻名的横断山地区

④因此，这里的动植物不仅种类多，而且特有种所占比例很高，亚种分化复杂，还有不少古老原始的种类

⑤当地民谣“一山有四季，几里不同天，隔山能说话，相见要一天”便是对这里地貌和气候的生动描述

⑥高山深谷纵列，海拔高差巨大，形成垂直多变的立体气候

将以上 6 个句子重新排列，语序正确的是：

- A、③⑥⑤①④② B、③⑥⑤④①② C、②③⑤④⑥① D、②③⑥⑤④①

24、①对于所有希望中国成功转型的知识分子来说，承认这一点也许十分痛苦，但却远比抱着精英心态、充满登高一呼应者云集的幻觉更有价值

②知识阶层需正视自己的影响力但不必悲观，知识分子的特性就在于外界因素很难消磨其与生俱来的使命感

③知识阶层倡导的符合世界潮流的观念在社会上未必具有压倒优势，这与其解读为是对知识阶层所谓“脱离群众”的嘲讽，不如当作传统深厚的国度里常识扎根之难的一个证明

④先贤有云：“士不可以不弘毅，任重而道远”，勉乎哉！

⑤如果说中国的改革开放是对世界潮流的一种靠拢，那么这样一个过程并非顺风顺水，其中还有反复乃至回流

⑥因此，尽管经过看似深刻而剧烈的全方位变革，中国的变化还远远没到知识阶层可以乐观的地步，更没到根据

这种乐观的估计而进行规划的时候

将以上 6 个句子重新排列，语序正确的是：

- A、③⑥①②⑤④ B、⑤⑥①③②④ C、②④⑥①③⑤ D、④⑤⑥②①③

25、①新诗口语化大众化方向是正确的，但旧体诗的优点不能被全部抛弃

②诗之形式美在于顺应自然取法适中，音乐性则古今中外好诗皆同

③主张新诗形式上绝对自由者，在摒弃旧体诗格律化之同时矫枉过正了，将诗的形式美和音乐性一股脑儿抛弃了

④20 世纪初，胡适等人提倡白话文，新诗随之而兴起，挣脱了旧体诗束缚思想之清规戒律，涌现出《雨巷》《再别康桥》等名篇

⑤诗是最美的文体，形式美和音乐性不可或缺。不过，旧体诗死板的格律化固然不对，新诗在形式上绝对自由也未必妥当

⑥看来，新诗要能流传千古，还得在形式美和音乐性方面下功夫，把矫枉过正的过正部分回归原位

将以上 6 个句子重新排列，语序正确的是：

- A、④⑤②①⑥③ B、④①⑤②③⑥ C、④③②①⑥⑤ D、④⑥⑤②③①

26、我们总以为真理掌握在多数人手里，事实是这样的吗？不是，多数人掌握的是舆论，当真理被发现之前，公众有谁会掌握呢？而一旦被有识之士发现了，又有几个人能很快接受呢？伽利略在比萨斜塔证明自由落体速度与质量无关前，谁又不是认为重的物体比轻的落得快呢？一旦大家接受了伽利略的观点，就形成了公众的舆论。所以，舆论包含有真理和谬论的双重成分。真理总是在不断地被少数有识之士发现，进而推广为公众舆论，从而掌握到多数人手里。因此，_____。

填入画横线部分最恰当的一句是：

- A、公众舆论是真理生根发芽的土壤 B、真理演变为舆论的过程是曲折而又漫长的
C、社会公众只是真理的被动接受者和推广者 D、“少数服从多数”的原则阻碍了真理的诞生

27、协同共享是一种新的经济模式，甚至有学者预言其会在 21 世纪下半叶取代资本主义，成为人类社会主导的经济形态之一。届时，生产率将大幅提高，发达的物联网将使边际成本趋近于零，数十亿人既是生产者也是消费者，在互联网上共享能源、信息和实物，所有权被使用权代替，“交换价值”也将被“共享价值”取代。这个结论看似耸人听闻，理论上却符合社会发展的趋势。“共享经济”在金融和经济危机中被接受和广泛传播，最初的功能是给身陷困顿的人们提供了赚钱和省钱的方法。它继而飞得更高，被赋予了更多的意义。

下列说法与原文相符的是：

- A、经济危机促使了共享经济的产生 B、共享经济是物联网迅猛发展的基础
C、共享经济可以避免边际成本的产生 D、共享经济促使生产者和消费者角色统一

28、史学是一门实证的学问，凡事能证实即可。但实证的基础是史料，而实际遗留下来的史料，可能不过是原初材料的千百万分之一。古代史不用说，研究近现代史的人，常觉史料汗牛充栋，但真到了论证具体问题时，立刻产生“书到用时方恨少”之感，因此史料不足是史家始终面临的常态，然而我们不能因为史无明文，便以为实无其事。胡适曾说：“历史家需要有两种必不可少的能力：一是精密的功力，一是高远的想象力。”前者用以严格地评判史料，近于科学；后者则偏于艺术，史料空缺，_____。作曲者可以于无声处表意，画家可以不着笔墨而传神，史家亦然。

填入划横线部分最恰当的一句是：

- A、就靠史家的想象力来填补 B、史家穿凿附会之言比比皆是
C、只能在已知历史事实里驰骋 D、历史的真相就只能靠读者去猜测

29、莫高窟是古代先民聪明智慧的结晶。莫高窟选址在戈壁荒漠的绿洲之中，体现了佛教与世俗隔离、与自然融合的思想。洞窟依山面水，河水滋润着莫高窟周围的绿树，形成了独特的清幽风光。莫高窟呈蜂窝状排列的洞窟最高处不超过 40 米。冬季，从西边刮来的风沙经窟顶而过，吹不到洞窟；夏季，对面的三危山又成了天然屏障，使东边刮来的风沙无法威胁到洞窟。这样，莫高窟便成了干燥区域里一个最安全的地带。正因如此，莫高窟虽经千年，仍完好保存了 11 个朝代的 492 个洞窟及大量的壁画和雕塑，为世界留下了珍贵的文化艺术遗产。

这段文字主要说明了：

- A、莫高窟设计建造中的天人合一思想 B、莫高窟在世界文化史上的重要价值
C、莫高窟及其中壁画完好保存的原因 D、莫高窟的自然环境和独特清幽的风光

30、儒道互补是中国士阶层的文化传统，从积极意义上讲，士阶层中的优秀分子秉持了儒家忧天下、哀民生的社会责任心，也涵养了道家亲自然、轻功利的超脱情怀；从消极意义上讲，士阶层中的平庸之辈以儒家为做官的敲门砖，以道家为归隐的安慰剂。不论何种情形，中国士人的内心都是纠结的。在皇权至上的专制体制下，即使是优秀分子，其社会责任心也被限制在忠君意识的范围内，其超脱情怀也往往成为仕途失意时的自我安慰。

这段文字主要说明了：

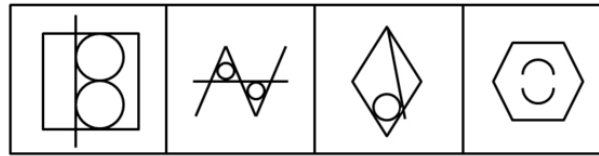
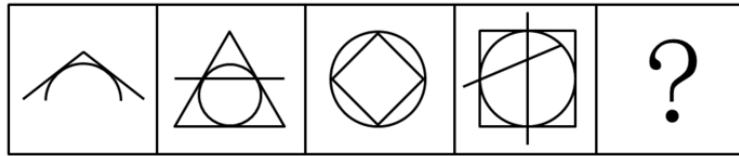
- A、儒道思想是中国知识分子的立身之本 B、中国知识分子秉承了儒道两家之所长
C、中国知识分子长期受儒道思想的影响 D、皇权体制造就了儒道互补的士人传统

二、数量关系，共 15 题，本部分包括数字推理、数理计算。

- 31、甲、乙两人从环形跑道的A点同时出发背向而行，6分钟后两人第一次相遇，相遇后两人的速度各增加10米每分钟，5分钟后两人第二次相遇。问环形跑道的长度为多少米？
A、600 B、500 C、400 D、300
- 32、四个烧杯甲、乙、丙、丁的容量比为3:4:8:10，用甲烧杯装满与水比重相同的A溶液倒入丙烧杯后，用水兑满，然后将混合的溶液倒入乙烧杯至满后，将剩下的部分倒入丁烧杯并用水将丁烧杯注满。问此时乙烧杯中A溶液的浓度是丁烧杯中的多少倍？
A、2 B、2.5 C、4 D、6
- 33、车间共有50名工人，年底进行考核，有12人业务能力为优，10人政治表现为优，没有一项考核成绩为优的有34人，车间要向上级单位推荐2名两项考核均为优的工人作为先进个人的候选人。问有多少种推荐方案？
A、12 B、15 C、18 D、21
- 34、甲、乙两个小分队的人数之和在90到110之间，如果从甲队调一定人数给乙队，则乙队的人数就是甲队的2倍；如果乙队调同样的人数给甲队，则甲队的人数就是乙队的3倍。问甲队调多少人给乙队之后，乙队的人数是甲队5倍？
A、18 B、24 C、30 D、36
- 35、箱子里有标号1至10共10个球，小张随机取了三个球并记下号码后将球放回，小李也随机取了三个并记下号码。这时发现两人取的球的号数之积都恰好是144。已知小张的号数之和比小李的大，那么小张取的球的号数之和是多少？
A、19 B、17 C、16 D、14
- 36、车间里要加工的手套副数是口罩个数的2倍，如果每位工人加工3个口罩，则还需额外生产2个口罩；如果每位工人加工7副手套，则会超额完成6副手套。如每位工人每5分钟可生产1副手套或1个口罩，且车间内的工人数减少一半。问至少需要多少分钟才能完成全部生产任务？
A、85 B、90 C、95 D、100
- 37、工地仓库里有水泥若干，第一天用掉了前一天剩余库存的 $\frac{1}{3}$ 后又补充了500袋，第二天用掉了第一天剩余库存的 $\frac{1}{9}$ 后又补充了400袋，此时仓库的水泥库存是原有水泥的2倍，则仓库原有水泥多少袋？
A、480 B、540 C、600 D、660
- 38、甲、乙两名实力相当（即每一局两人中任意一人获胜的概率相同）的棋手进行7局4胜制的比赛，前3局赛完后，甲以2:1领先于乙，那么甲获得最后胜利的概率是多少？
A、 $\frac{2}{3}$ B、 $\frac{3}{4}$ C、 $\frac{5}{8}$ D、 $\frac{11}{16}$
- 39、有一批规格为1吨的钢锭，计划安排用8辆载重9吨的汽车运送，要求不得对钢锭进行切割，预计每辆车运送25次正好运完，每辆车运送了13次之后，甲方要求增派若干辆载重24吨的汽车，以能够一次将剩下的钢锭全部运完。问需要增派多少辆汽车？
A、33 B、34 C、35 D、36
- 40、论文集中收录了一篇十多页的论文，其所在各页的所有页码之和为1023，问这篇论文之后的一篇论文是从第几页开始的？
A、94 B、99 C、102 D、109
- 41、小明买了7本书共花去100元，后发现有一本书质量有问题，故补了若干元换了另外一本书。回来后却发现，退换后7本书的价格成等差数列且均为整数元，而最贵的书价格为26元。问最便宜的书多少钱？
A、2元 B、6元 C、8元 D、14元
- 42、甲、乙两人共同投资一件收藏品，约定好费用支出均分，利润也均分。某次甲给了乙500元用于支付专家鉴定费，结果专家只向乙收取了300元鉴定费，但乙忘记将余下的钱给甲。后收藏品以20000元的价格转手，问此时甲乙应该各拿走多少钱？
A、甲10050元，乙9950元 B、甲10200元，乙9800元
C、甲10150元，乙9850元 D、甲10350元，乙9650元
- 43、某旅游公司有能载4名乘客的轿车和能载7名乘客的面包车若干辆，某日该公司将所有车辆分成车辆数相等的两个车队运送两支旅行团。已知两支旅行团共有79人，且每支车队都满载，问该公司轿车数量比面包车多多少辆？
A、5 B、6 C、7 D、8
- 44、编号为1—50的选手参加一个爬楼比赛，楼高为60层。所有选手在第1层均获得一个特别的号牌，此后每经过一个楼层，如果选手的编号正好是楼层数的整数倍，就将得到一个特别的号牌。所有选手都到达终点后，正好持有3个特别号牌的选手有多少人？
A、1 B、4 C、7 D、10
- 45、晚上21点整，甲、乙两车同时从A地出发匀速开往B地，同一时间丙、丁两车从B地出发匀速开往A地。甲车时速是乙车的3倍，乙车行驶3小时后首先与丙相遇，再行驶1小时之后与丁相遇，若4辆车到达目的地的时间正好都是第二天内的整点时间，问甲车和丙车是在几点相遇的？
A、0点整 B、23点30分 C、23点整 D、22点30分

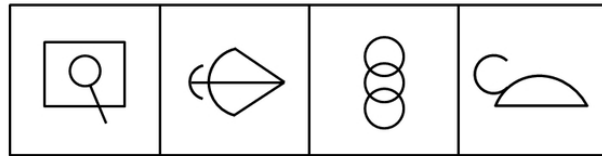
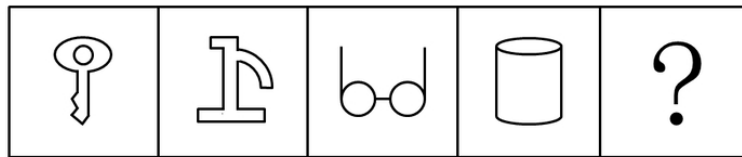
三、判断推理，共 35 题，本部分包括图形推理、定义判断、类比推理、逻辑判断。

46、从所给的四个选项中，选择最合适的一个填入问号处，使之呈现一定规律性：



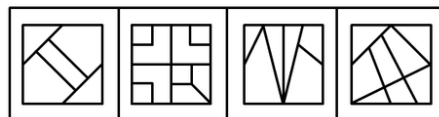
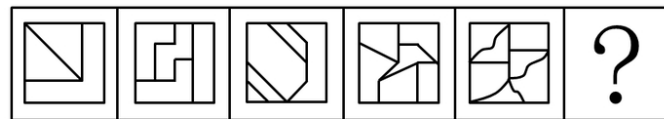
A B C D

47、从所给的四个选项中，选择最合适的一个填入问号处，使之呈现一定规律性：



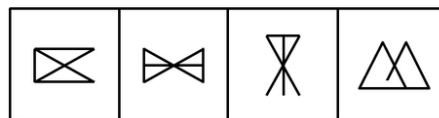
A B C D

48、从所给的四个选项中，选择最合适的一个填入问号处，使之呈现一定规律性：




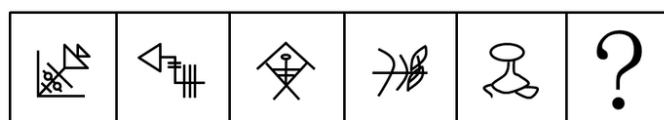
A B C D

49、从所给的四个选项中，选择最合适的一个填入问号处，使之呈现一定规律性：



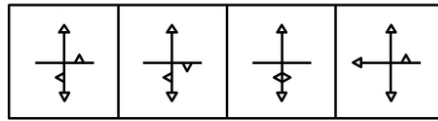
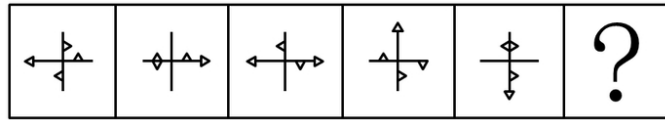
A B C D

50、从所给的四个选项中，选择最合适的一个填入问号处，使之呈现一定规律性：



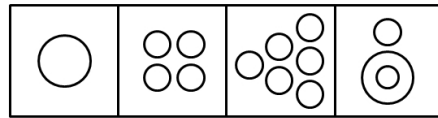

A B C D

51、从所给的四个选项中，选择最合适的一个填入问号处，使之呈现一定规律性：



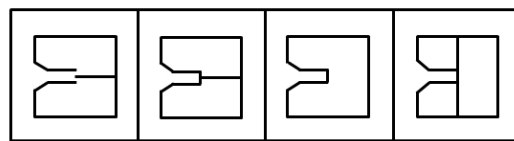

A B C D

52、从所给的四个选项中，选择最合适的一个填入问号处，使之呈现一定规律性：



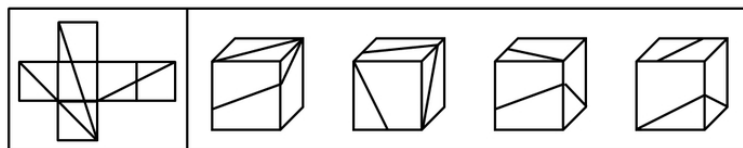
A B C D

53、从所给的四个选项中，选择最合适的一个填入问号处，使之呈现一定规律性：



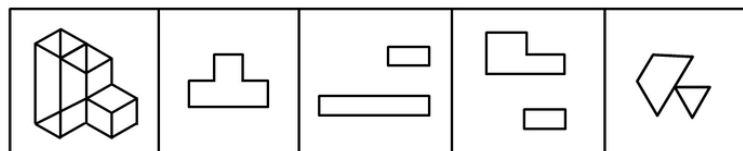
A B C D

54、 左边平面图折叠后可得到右边的哪一立体图？



A B C D

55、 以下哪一项不可能是左边立体图形的切面？



A B C D

56、广度经济是一种多样化生产经营商品或服务的经济，当同时生产X和Y的成本低于单独生产两种商品或服务的时候，就存在广度经济。

根据上述定义，下列不存在广度经济的是：

- A、巧克力工厂生产巧克力的生产线也用于生产巧克力花生豆
- B、干洗店在干洗业务之外，同时提供皮衣保养等服务
- C、“扬名”饮料公司的工业园同时有生产“扬名”牌童装的车间
- D、旅行社销售各种旅游产品的同时有偿提供导游和伴游服务

57、反对关系指的是两个概念所反映的对象类互不相同，没有交叉，并且有些对象均不属于这两个概念。

根据上述定义，以下哪项中涉及的两个下划线词语所表达的概念之间属于反对关系？

- A、实数包括有理数和非有理数
- B、蝴蝶、蜜蜂等都是昆虫
- C、组织既有国际组织又有非国际组织
- D、植物包括观赏性植物和非观赏性植物，挂果植物和非挂果植物

58、病毒式网络营销是通过用户的口碑宣传网络，信息像病毒一样传播和扩散，利用快速复制的方式传向数以千计、数以百万计的受众。

根据上述定义，下列选项中没有应用病毒式网络营销手段的是：

- A、某些网站在帖子下面设置“转发”或“告诉朋友”按钮，使网站信息可以迅速被转发到上网者的个人网页
- B、某些即时通讯工具开发了“发红包”功能，让使用者争先恐后地互发红包，同时增加了该通讯工具的安装量
- C、某体育品牌邀请体育明星拍摄精彩视频，并在视频中承诺，若该视频的转发次数超过一定数量，就会请更多明星来继续拍摄新的视频
- D、某在线购物网站向所有注册会员推送促销信息的邮件，为即将到来的大减价活动做广告

59、间接融资是指拥有暂时闲置货币资金的单位或个人通过存款的形式，或者购买银行、信托、保险等金融机构发行的有价证券，将其暂时闲置的资金先行提供给这些金融中介机构，然后再由这些金融机构以贷款、贴现、购买证券等方式，把资金提供给一些单位使用，获取资金的这些单位就实现了间接融资。

根据上述定义，下列属于间接融资的是：

- A、银行吸收储蓄存款，贷款给私营企业
- B、金融投资人将个人财产投资于新型产业
- C、国家发行债券，获得资金用于教育产业
- D、上市公司向社会发行股票进行融资，促进发展

60、双避冲突又称负负冲突，是动机冲突的一种，指同时有两个可能对个体具有威胁性、不利的事发生，两种都想躲避，但受条件限制，只能避开一种，接受一种，个体在作抉择时内心产生矛盾和痛苦。

根据上述定义，下列面临的情境中属于双避冲突的是：

- A、高不成，低不就
- B、狡兔死，良犬烹
- C、士可杀，不可辱
- D、前有狼，后有虎

61、行政许可，是指在法律一般禁止的情况下，行政主体根据行政相对方的申请，经依法审查，通过颁发许可证、执照等形式，赋予或确认行政相对方从事某种活动的法律资格或法律权利的一种具体行政行为。

根据上述定义，下列不涉及行政许可的是：

- A、伦理审查委员会在详细查阅王教授进行人体试验的研究计划之后，认为符合伦理规范，批准该项研究
- B、临近春节，小李向安全生产监督管理局申请生产经营烟花爆竹并获得批准
- C、小张从医学院本科毕业之后，参加卫生部医师资格考试，获得医师资格证书之后开始行医
- D、国家工商总局在对某进口企业的资质进行了审核之后，给予其进口认证

62、知觉的整体性是指在直接作用于感觉器官的外界刺激不完备的情况下，人们根据自己的经验，对刺激进行加工处理，使知觉保持完备的一种性质。

根据上述定义，下列选项中不属于“知觉的整体性”的是：

- A、在浓雾中，人们看不清前方的物体，但通过对轮廓的大致观察，知道那是一辆自行车
- B、人们在观看有缺口的圆环时，通常会在心里将缺少的部分补足，形成一个整体圆环的形象
- C、小王听到了切瓜果的声音，同时又闻到了香瓜的香味，他觉得隔壁的同事正在切香瓜
- D、一张红纸一半有阳光照射，一半没有阳光照射，从远处看颜色差异很大，人们仍然可以判断出这是一张红纸

63、巴纳姆效应指的是人们常常认为一种笼统的、一般性的人格描述十分准确地揭示了自己的特点。这种心理倾向的出现是因为每个人的思维都有选择性，会优先选择和自己相符的信息，或者选择一些自己能够接受的信息。

根据上述定义，下列现象符合巴纳姆效应的是：

- A、小方听到同学跟别人说“这个人人品有问题”，小方认为同学很可能在说自己
- B、王先生外出不慎摔伤，后来看到黄历上写着那天“不宜出行”，觉得黄历真的很准确
- C、小张看到网上的性格分析说“金牛座的男人个性实际、勤勉”，认为很符合自己
- D、老师在毕业鉴定上给小黄同学的评价是“尊敬师长、待人诚恳”，小黄看到后非常高兴

64、皮格马利翁效应是指个体基于对某种情境的知觉，其情感和观念受到他人的影响和暗示而形成某种期望，并由该期望对情境产生实际效果的现象，亦称期待效应。

根据上述定义，下列选项中不符合皮格马利翁效应的是：

- A、从小顽劣的罗尔斯在一次调皮捣蛋后出乎意料地听到老师对他说“我一看就知道你将来是纽约州的州长”，从此以此为信念，长大后成为纽约州州长
- B、玛莎从小学习刻苦努力但成绩平平，面对老师和同学们不认可的目光，她不予理睬奋起直追，用实际行动证明自己是可塑之材，并最终取得优异成绩
- C、韦尔奇告诉每个团队成员最宝贵的东西就是构想，并激励他们完成构想，实现目标，最终他们共同推动了企业经营的巨大发展
- D、助手贝特因经营失误导致公司损失巨大，总裁却对他说“全靠你处置有方，保全了部分投资”贝特后来成为公司屡创佳绩的中坚人物

65、结果犯，指由危害行为和危害结果共同构成犯罪客观方面的犯罪，结果犯的既遂，不仅要求有犯罪行为，而且必须发生法定的犯罪结果，缺少危害结果，犯罪的客观方面就不具有完整性或者说犯罪客观方面的要件就不齐备，结果犯的结果，是指有形的、可以计量的具体危害结果，是与犯罪的性质相一致的结果。

根据上述定义，以下不属于结果犯的是：

- A、诈骗 B、抢劫 C、故意杀人 D、诬告陷害

66、资料：文件

- A、质量：砝码 B、飞艇：航空器 C、护卫舰：补给舰 D、自然现象：极光

67、开：关

- A、小麦：水稻 B、痛苦：快乐 C、盈利：非盈利 D、工作：休息

68、拍卖公告：拍卖：交付

- A、起诉：应诉：庭审 B、感冒：服药：发热 C、泡茶：加水：饮用 D、开机：关机：重启

69、药物：手术：治疗

- A、火车：公路：运输 B、现金：信用卡：金融 C、物质：精神：文明 D、电子邮件：短信：通讯

70、航空母舰 对于（ ）相当于 潜艇 对于（ ）

- A、巡洋舰 导弹 B、舰载机 鱼雷 C、常规动力 核动力 D、远程偷袭 协同攻击

71、某品牌的新型插座产品中包含防雷击部件，在电路遭到雷击后能保证所连接电器不受损害。有人提出，应将这种部件作为标准配件安装到该品牌所有的插座产品中；另有人认为这么做会提高产品成本，降低其在行业内的价格竞争优势，且国内行业标准并没有强制要求产品加入防雷部件，故没有必要加装防雷击部件。

以下哪项如果为真，最能削弱上述反对意见？

- A、越来越多的其它品牌的插座也开始加入了防雷部件
- B、调查显示大多数消费者对其电路遭受雷击并不感到担忧
- C、在家电遭受雷击的已知案例中，使用了该新型插座的家电都没有受损
- D、在即将发布的国家标准中，强制要求所有插座产品都包含防雷击部件

72、研究人员对平均年龄为66岁的648名痴呆症患者进行研究。发现掌握两种语言的患者罹患痴呆的时间比只掌握一种语言的患者晚大约四年半，研究人员因此认为掌握两种语言可以延缓痴呆的发生。

以下哪项如果为真，最能质疑上述结论？

- A、很多人患上痴呆之后大脑的言语功能均出现显著下降
- B、大脑认知功能好的人才会计说双语，认知功能好可延缓痴呆
- C、相当多的人只掌握一种语言，但一生都未出现痴呆的症状
- D、掌握三种或以上语言的人，痴呆发生时间比掌握两种语言的稍晚

73、某研究员认为，人类语言最初直接来源于鸟类和灵长类。因为如果重新审视现代人类语言，我们可以看到人类的相互交流是如何从鸟类和其他灵长类古老的交流模式系统演化而来的。他宣称，从鸟类身上，我们获得了语言的旋律部分；从其他灵长类身上，我们获得了语言的实用性内容部分。在过去10万年里的某个时候，这些能力最终演化成我们今天所知的人类语言。

上述结论还需基于以下哪一前提？

- A、人类的交流与其他动物的交流之间的相似度比我们一般认为的要多
- B、人类语言包含两个不同层面：与句子可变结构相关的表达层面以及表达句子核心内容的词汇层面
- C、人类语言的交流在过去和现在变化不大
- D、鸟类和除人类以外的其他哺乳动物有自己的交流语言

74、当前，市中心小区车位十分紧张。某天傍晚，某小区仅剩甲、乙、丙3个车位，正好只剩3辆车要停进来，车子的品牌分别是吉利，奇瑞和大众。已知：每个车位只能停一辆车，先到先停；若吉利车停在乙车位，则奇瑞车无法停到丙车位；大众车只能停到甲或乙车位；如果甲车位被吉利或奇瑞车占，大众车就会找不到车位，三辆车最后刚好把3个车位停满。

如果最后吉利车停在丙车位上，则可以得出以下哪项？

- A、奇瑞车比大众车先找到车位 B、大众车比奇瑞车先找到车位
- C、奇瑞车停在乙车位上 D、大众车停在乙车位上

75、一项新的研究认为，如果孕妇在怀孕头三个月接受日光照射过少，所生的孩子日后患多发性硬化症的几率可

能会增加，这是因为人体维生素 D 含量较低与多发性硬化症患病风险增加有关。

以下哪项如果为真，最能削弱上述研究结论？

- A、除了日光照射以外，也可以通过多种食物提高人体维生素 D 的含量
- B、若新生儿体内维生素 D 的含量较低，他们更易患多发性硬化症
- C、孕妇接受日光照射不足，其胎儿的中枢神经系统可能会受到影响
- D、胎儿体内维生素 D 的含量取决于母亲体内维生素 D 的含量

76、2013 年末，一家公司为鼓励员工按时上班，对于 2013 年从未迟到的员工，公司为其免费办理公司旗下电影院 2014 年实名制的年卡，该公司员工张明拥有该电影院的 2014 年的年卡。

据此，可以推出：

- A、张明在 2013 年上班从未迟到
- B、2014 年全年张明可在该影院免费观影
- C、2013 年没有迟到的员工有 2014 年年卡
- D、拥有实名制年卡的员工在 2013 年从未迟到过

77、某景点制定新的门票优惠政策，据此政策，并非有些学生在本景点享受门票优惠，所有在本景点享受门票优惠者年龄都超过 12 岁。

由此可以推出：

- A、有些年龄超过 12 岁的学生在本景点享受了门票优惠
- B、该景点的门票优惠政策仅面向不超过 12 岁的学生
- C、所有年龄超过 12 岁的学生都没在本景点享受门票优惠
- D、所有年龄不超过 12 岁的学生都在本景点享受门票优惠

78、据一项小规模研究显示，身材偏瘦的人并不一定比其他人吃得更少或锻炼更多，他们只是早起多晒了一会儿太阳。曙光对体重指数的影响约为 20%，起床晒太阳的时间越早，体重指数就越低。反之亦然。因此，研究人员提出，想要降低体重，只需早起晒一会儿太阳。

以下哪项如果为真，最能说明上述研究结果不成立？

- A、有些地区的农民每天起早摸黑的辛苦劳动，一直都很瘦
- B、某海滩度假区光照十分充足，但当地人都很胖
- C、与坚持室内健身者相比，迎着曙光慢跑者体重变化相对较小
- D、某大学号召学生晨练，坚持下来的同学晒黑不少，体重却没有减轻

79、研究人员通过基因工程技术将特定基因引入作物，使其能够编码合成 Bt 毒蛋白，该蛋白能杀死侵袭的害虫。某地广泛种植转基因 Bt 棉花，有效控制了棉铃虫的危害，但与此同时，另外一种害虫——盲椿象却泛滥成灾。对此，研究人员认为，盲椿象泛滥并非是转基因 Bt 棉花导致的，而是由于当地气候比较适合盲椿象生长。

以下哪项如果为真，最能削弱研究人员的观点？

- A、盲椿象一般于 6 月上中旬从其他寄主迁入棉田，而这段时间正是二代棉铃虫的防治期
- B、转基因 Bt 棉花大面积种植后，由于棉花本身抗棉铃虫，农药喷洒次数和用量都明显减少，间接导致盲椿象种群获得生存空间
- C、随着盲椿象从棉田继续向其他寄主迁移，盲椿象也威胁到了当地葡萄、苹果树、桃树和梨树的生长，成为多种作物的新虫害
- D、棉花生长期间该地的气候条件同时也有利于棉蚜、地老虎和红蜘蛛等害虫的生长

80、某书店有 10 个书架按序号 1、2、3 ……、10 依次摆放，其中只放置儿童书籍的书架有 1 个；只放置科技书籍的书架有 2 个，并且连号排列；只放置历史书籍的书架有 3 个，并且不与放置儿童书籍的书架连号排列；只放置文学书籍的书架有 4 个，并且不与放置科技书籍的书架连号排列。如果第 1、3、10 号书架放置历史书籍，4 号书架放置科技书籍，那么儿童书籍一定放置在几号书架上？

- A、2 号书架
- B、5 号书架
- C、6 号书架
- D、7 号书架

四、常识判断，共 20 题，根据题目要求，在选项中选出答案。

81、物候就是植物的萌发、开花、结果、凋谢和某些动物的迁徙、冬眠等活动，反映了气候和节令的变化。下列诗词不反映物候知识的是：

- A、远上寒山石径斜，白云深处有人家
- B、清明时节雨纷纷，路上行人欲断魂
- C、一川烟草，满城风絮，梅子黄时雨
- D、红藕香残玉簟秋，轻解罗裳，独上兰舟

82、下列行为中，行政机关的做法构成滥用职权的是：

- A、工商部门对一批疑似走私的物品进行了查扣
- B、质量技术监督局作出处罚决定所适用的标准反复无常
- C、规划局为了公共利益的需要撤回了发给 S 企业的规划许可证
- D、公安局对小钱处以拘留十日的处罚，未告知其事实、理由和依据

83、下列关于国家政治制度的说法正确的是：

- A、秦始皇统一全国后实行了宗法制
- B、明朝在地方实行的行省制度是中国省制的开端
- C、清朝雍正帝时设置军机处以加强君主专制
- D、三公九卿制始于汉武帝时期

84、关于中国陶瓷业的发展，下面说法不正确的是：

- A、明代最早烧出了青花瓷
B、“唐三彩”以青、绿、黄三色为主
C、汝、官、哥、钧、定是宋代五大名窑
D、仰韶文化中出现了绘有彩绘花纹的陶器

85、下列关于中医著作的说法，错误的是：

- A、《黄帝内经》开创了中医学独特的理论体系，标志着我国医学由单纯积累经验的阶段发展到了系统的理论总结阶段
B、《伤寒杂病论》在世界上首次记载了人工呼吸的治疗方法
C、《神农本草经》是一本药物学著作，它改进了中国传统的药物分类方法
D、《难经》中的“难”是“问难”之义，该书是以问难的形式，即假设问题、解释疑难的体例进行编纂的

86、宗教不是下列哪一战争的原因？

- A、两伊战争 B、巴以冲突 C、十字军东征 D、伊拉克战争

87、马基雅维利的法律思想颇有几分中国古代儒家的民本主义色彩。在《君主论》一书中，他强调说“君主统治稳固的基本条件就是他的臣民不憎恨他”，“君主最坚固的堡垒就是人民的支持”，“人民的支持是挫败阴谋的保障”。关于君主如何赢得人民的支持，马基雅维利言简意赅地指出：“只要不对公民或臣民的财产妻女打主意就行了。至关重要的是，不要妄动别人的财产。”

从材料可看出，马基雅维利思想与下列儒家思想表述最接近的一项是：

- A、君之视臣如手足，则臣之视君如腹心；君之视臣如土芥，则臣之视君如寇仇
B、鸡豚狗彘之畜，无失其时，七十者可以食肉矣。百亩之田，勿夺其时，数口之家，可以无饥也
C、得天下有道，得其民，斯得天下也。得其民有道，得其心，斯得民矣。得其心有道，所欲与之聚之，所恶勿施尔也
D、王如好货，与百姓同之，于王何有？王如好色，与百姓同之，于王何有

88、在民族大团结邮票中，下列图案和民族对应正确的是：



A、朝鲜族



B、藏族



C、回族



D、蒙古族

89、下列文学流派、主要代表人物及其作品对应完全正确的是：

- A、语丝派—鲁迅—《野草》
B、新月诗派—郭沫若—《死水》
C、京派小说—钱钟书—《围城》
D、山药蛋派—赵树理—《吕梁英雄传》

90、关于《自由引导人民》这幅名画，下列说法正确的是：

- A、是达·芬奇的名作
B、是一幅布面水粉画
C、是以历史事件为题材的
D、鼓舞了英国资产阶级革命

91、不少作家的书名是从前人的佳辞名句化用而来的。下列对应不正确的是：

- A、袁枚《子不语》—《论语》
B、琼瑶《在水一方》—屈原《离骚》
C、茅盾《霜叶红于二月花》—杜牧《山行》
D、安意如《人生若只如初见》—纳兰性德《木兰花令·拟古决绝词》

92、稀土有“工业维生素”的美称，广泛应用于军事、石化、轻纺、农业等多个领域。下列关于稀土的说法不正确的是：

- A、稀土可大幅度提高用于制造飞机、坦克、导弹的钢材和铝合金的性能
B、稀土可促进种子萌发、提高种子发芽率、促进幼苗生长
C、轻纺工业中，稀土可用于染色、降低织物的白度等方面
D、复合稀氧化物可以用作内燃机尾气净化催化剂

93、关于我国各省区，下列说法不正确的是：

- A、西藏是我国湖泊最多的省区
B、浙江是我国岛屿最多的省区
C、新疆是我国毗邻国家最多的省区
D、福建是我国海岸线最长、海疆最广的省区

94、下列诗句描绘了某个地方的风光，与之对应的现代城市错误的是：

- A、山围故国周遭在，潮打空城寂寞回——南京
B、飞流直下三千尺，疑是银河落九天——南昌
C、昔人已乘黄鹤去，此地空余黄鹤楼——武汉
D、接天莲叶无穷碧，映日荷花别样红——杭州

95、关于紫外线，下列说法错误的是：

- A、沙滩和水面对阳光的高反射率导致紫外线辐射更强
B、多云的天气，人也会受到紫外线辐射伤害
C、紫外线照射影响人体内维生素C的合成
D、紫外线属于不可见光

96、关于世界上的四个国中之国，下列说法错误的是：

- A、莱索托位于非洲
B、梵蒂冈是政教合一的国家

C、摩纳哥是世界上最小的国家 D、圣马力诺的官方语言为意大利语

97、关于地震, 下列表述不正确的是:

- A、地球上主要有五大地震带 B、南北两极不容易发生地震
C、从成因角度说, 构造地震破坏力最 D、由于太阳和月亮引力作用, 绝大多数的地震发生在夜间

98、在晴朗的夜晚, 偶尔抬头仰望星空, 我们可能发现星星在“眨眼睛”, 星星“眨眼睛”的原因是:

- A、星星在不同时刻释放的能量不同
B、亮度不同的星星发射的光线相互影响的结果
C、人们的眼睛要不停地眨, 所以看起来星星是在眨眼睛了
D、星星发射的光线穿过大气层时产生折射的结果

99、下列说法错误的是:

- A、在太阳系中, 太阳是中心天体, 其他天体都在太阳的引力下, 绕太阳公转。其它的主要成员是水星、金星、地球、火星、木星、土星、天王星、海王星等
B、光年是天文学中常用的距离单位, 光在真空中一年所走的距离叫光年
C、生物具有遗传和变异, 既能保持物种相对稳定, 又能促使生物不断演化
D、染色体是细胞核中载有遗传信息(基因)的物质, 由核酸和蛋白质组成。哺乳动物雄性个体细胞的性染色体对为XX, 雌性则为XY

100、航天员在太空行走需要穿舱外航天服, 不出舱、在加压舱内穿的航天服称为舱内航天服。下列不属于舱内航天服功能的是:

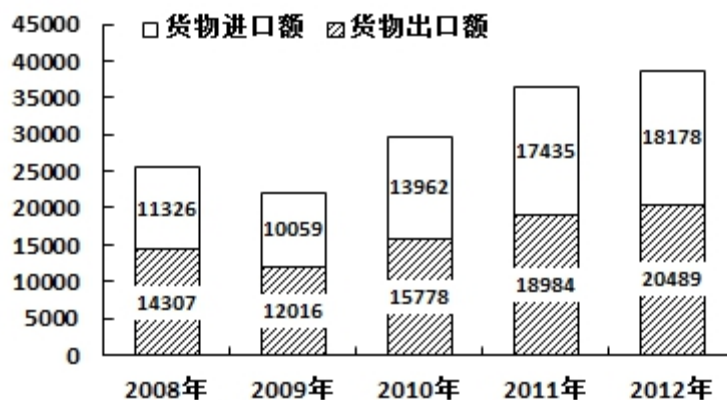
- A、提供一定的温度保障和通信功能 B、防辐射、隔热、防微陨石、防紫外线
C、在座舱减压和氧气丧失时提供压力和氧气 D、飞行中或着陆后遇到空气污染时, 能防止吸入有毒气体

五、资料分析, 共 20 题, 所给出的材料均有多个问题, 根据资料所提供的信息进行分析、比较、计算和判断处理。

一、根据所给材料, 回答 101~105 题。

国家和地区	出口额	比上年增长 (%)	进口额	比上年增长 (%)
美国	3518	8.4	1329	8.8
欧盟	3340	-6.2	2121	0.4
中国香港	3235	20.7	180	15.9
东盟	2043	20.1	1958	1.5
日本	1516	2.3	1778	-8.6
韩国	877	5.7	1686	3.7
印度	477	-5.7	188	-19.6
俄罗斯	441	13.2	441	9.2
中国台湾	368	4.8	1322	5.8

2008~2012年我国货物进出口状况



101、2012 年对华货物进出口额相差最大的国家或地区是:

- A、美国 B、欧盟 C、中国香港 D、印度

102、表中有几个国家或地区 2012 年的对华货物进出口贸易总额高于上年水平?

- A、5 B、6 C、7 D、8

103、从2009年到2012年，我国货物出口贸易额平均每年约增加多少亿美元？

- A、2820 B、2710 C、2120 D、2030

104、2011年我国自日本的货物进口额占当年我国货物贸易进口总额的：

- A、6.4% B、7.7% C、9.8% D、11.2%

105、能够从资料中推断的是：

- A、2008~2012年我国货物进口贸易额逐年递增
 B、2011年我国对俄罗斯的货物贸易出口额高于进口额
 C、2012年我国货物进出口总额比2008年增加超过1万亿美元
 D、2009~2012年我国货物出口贸易额同比增幅最大的年份是2011年

二、根据所给资料，回答106~110题。

2011年我国城乡居民人均文化消费比2002年分别增长170.7%和251.1%，增速分别快于人均消费支出19和66个百分点。2011年城乡居民文化消费占消费支出的比重分别为7.3%和3.2%，比2002年分别提高0.5和0.6个百分点。

2003~2011年城乡居民文化消费相关数据

年份	城镇居民			农村居民				
	人均可支配收入 (元)	人均消费支出 (元)	人均文化消费 (元)	人均纯收入 (元)	人均消费支出		人均文化消费	
					支出水平 (元)	增速 (%)	消费水平 (元)	增速 (%)
2003	8472	6511	420	2622	1943	5.9	53	12.8
2004	9422	7182	474	2936	2185	12.5	59	11.3
2005	10493	7943	526	3255	2555	16.9	68	15.3
2006	11759	8697	591	3587	2829	10.7	74	8.8
2007	13786	9997	691	4140	3224	14.0	84	13.5
2008	15781	11243	736	4761	3661	13.6	93	10.7
2009	17175	12265	827	5153	3993	9.1	108	16.1
2010	19109	13471	966	5919	4382	9.7	126	16.7
2011	21810	15161	1102	6977	5221	19.1	165	31.0

106、与2006年相比，2011年我国农民人均纯收入约上升了：

- A、95% B、166% C、195% D、266%

107、表中农村居民人均文化消费支出占消费支出比重高于上年的有几年？

- A、2 B、3 C、4 D、5

108、表中农民人均纯收入和城镇居民人均可支配收入差距最小的一年，城镇居民和农村居民的人均文化消费之比约为：

- A、7.0:1 B、7.2:1 C、7.9:1 D、8.2:1

109、2002年我国城镇居民人均消费支出约为多少万元？

- A、0.5 B、0.6 C、0.8 D、1.0

110、以下说法正确的是：

- A、表中农村居民人均消费支出增速与人均文化消费增速最低的年份是同一年
 B、表中每年城镇居民人均消费支出均比上一年增长千元以上
 C、2003年城镇居民人均文化消费占人均消费支出的比重接近5%
 D、2004年农村居民人均纯收入的增幅超过10%

三、根据所给资料，回答111~115题。

2014年1~2月中国出口简况如下：

出口额列前五位的省市中，广东、浙江、上海分别出口857亿美元、364亿美元和309亿美元，同比下降11.8%、2.5%和3.5%，去年同期为增长32.4%、26.8%和7.1%；江苏出口465亿美元，同比增长3%，增速同比回落3.6个百分点；山东出口199亿美元，同比增长7.3%，增速同比提高1.9个百分点。

西部地区出口310亿美元，同比增长26.9%，增速同比回落43.5个百分点。8个省份同比增长，增速较快的宁夏、甘肃分别增长1.6倍和1.4倍。4个省份由去年同期增长转为下降，西藏、贵州分别由增长7.2倍和2.4倍转为下降79.7%和50.2%。

中部地区出口235亿美元，同比下降3.6%，去年同期为增长50.1%。4个省份同比增长，增速较快的江西、山西分别增长26.9%和8.2%。4个省份由去年同期增长转为下降，安徽、黑龙江分别由去年同期增长1.4倍和19.2%转为下降31.2%和25%。

东部地区出口2667亿美元，同比下降4%，去年同期为增长18.9%。6个省份同比增长，增速较快的海南、山东分别增长10.6%和7.3%。5个省份由去年同期增长转为下降，广东、福建分别由增长32.4%和32%转为下降11.8%和4.2%。

111、2014年1~2月, 广东、浙江, 上海三省(市)出口额占东部地区出口额的比重约为:

- A、48% B、52% C、57% D、63%

112、2013年1~2月, 以下地区出口额同比增速排序正确的是:

- A、东部地区<中部地区<西部地区 B、东部地区<西部地区<中部地区
C、中部地区<东部地区<西部地区 D、西部地区<东部地区<中部地区

113、2014年1~2月, 西藏自治区出口额约是2012年同期的多少倍:

- A、0.2 B、0.6 C、1.7 D、8.2

114、2014年1~2月, 全国出口额与上年同期相比:

- A、上升了50多亿美元 B、上升了200多亿美元 C、下降了50多亿美元 D、下降了200多亿美元

115、能够从上述资料中推出的是:

- A、2013年1~2月, 黑龙江省出口额同比下降了25%
B、2014年1~2月, 海南省的出口额高于山东省
C、2014年1~2月, 山西是出口额同比增速最快的省份
D、2014年1~2月, 全国有18个省(区市)出口额高于上年同期水平

四、根据所给资料, 回答116~120题。

2014年1~2月份, 我国房地产业土地购置面积4062万平方米, 同比增长6.5%, 土地成交价款1000亿元, 同比增长8.9%。

表1 2014年1~2月房地产开发情况

指标	1~2月房屋新开工面积		1~2月房屋竣工面积		截至2月末房屋施工面积		1~2月房地产开发投资	
	绝对数 (万平方米)	同比增长 (%)	绝对数 (万 平方米)	同比增长 (%)	绝对数 (万平方米)	同比增 长(%)	绝对量 (亿元)	同比增 长(%)
总计	16693	-27.4	12418	-8.2	529593	16.3	7956	19.3
其中: 住宅	12279	-29.6	9266	-10.6	380952	13.5	5426	18.4
办公楼	524	-27.3	368	14.0	20964	26.3	494	27.1
商业营业用房	2164	-15.2	1502	-7.9	66049	25.1	1117	26.4

表2 2014年1~2月商品房销售情况

地区	商品房销售面积		商品房销售额	
	绝对数 (万平方米)	同比增长 (%)	绝对数 (亿元)	同比增长 (%)
东部地区	5089	-6	4356	-9.6
中部地区	2800	15.1	1405	14.3
西部地区	2577	-1.8	1329	1.3
全国总计	10466	-0.1	7090	-3.7

116、截至2013年末, 我国住宅房屋施工面积约为多少亿平方米?

- A、33.6 B、37.8 C、38.4 D、52.5

117、在东部、中部、西部地区中, 2014年1~2月商品房平均销售价格高于上年同期水平的地区有几个?

- A、0 B、1 C、2 D、3

118、2013年1~2月, 我国房地产业土地购置单价约为每平方米多少元?

- A、2300 B、2400 C、2500 D、2600

119、2013年1~2月, 商业营业用房竣工面积约是办公楼的多少倍?

- A、3 B、4 C、5 D、6

120、关于2014年1~2月房地产开发和销售情况, 能够从上述材料中推出的是:

- A、住宅新开工面积占房屋新开工总面积的八成以上
B、各类房屋竣工面积均低于上年同期水平
C、东部地区商品房单价是西部地区的两倍以上
D、中部地区商品房销售额占全国比重高于上年同期水平



淘店铺



微信公众号

微信扫码, 关注“公务员考试挺简单”
公众号, 获取更多公考经验、公考资料、时政等, 真题更新也会通过公众号发通知哦。

手淘扫码, 进入杨柳真题淘宝店铺, 可购买
历年公考真题、事业单位真题等。纯手工整理, 一手资料, 包您满意, 助您上岸。

买真题, 请认准杨柳真题。淘宝“杨柳真题”独家整理, 实时纠错, 拒绝资料贩子。