

2016年0312江苏公务员考《行测》真题(A卷)

第一部分 常识判断

- 1、党的十八届五中全会通过了《中共中央关于制定国民经济和社会发展第十三个五年规划的建议》。下列对于该建议的理解，正确的是：
- A、《“十三五”规划建议》是针对“两个一百年”奋斗目标收官阶段提出的战略蓝图
B、《“十三五”规划建议》充分论述了继续坚持我国改革开放以来发展方式的必要性
C、《“十三五”规划建议》针对社会主要矛盾的新变化提出了经济社会发展的新方针
D、《“十三五”规划建议》提出并阐释了我国经济社会发展的“五大发展理念”
- 2、2015年11月30日，国际货币基金组织宣布将人民币纳入特别提款权(SDR)货币篮子。对此，以下说法正确的是：
- A、中国以后的外汇储备都将以SDR计价
B、中国居民可直接用SDR进行海外购物
C、人民币已经获得世界货币的地位
D、人民币可在世界任何地方自由兑换
- 3、下列关于“三严三实”专题教育的说法，正确的是：
- A、“三严三实”专题教育是加强党的组织建设的根本途径
B、“三严三实”专题教育的对象确定为全体党员干部
C、“三严三实”的重要论述由习近平总书记2014年在江苏调研时首次提出
D、“三严三实”专题教育是党的群众路线教育实践活动的延展和深化
- 4、法国作家雨果说：“最大的决心会产生最高的智慧。”下列与这句话蕴含相似哲理的是：
- A、入山问樵，入水问渔
B、巧妇难为无米之炊
C、只要有信心，黄土变成金
D、劈柴不照纹，累死劈柴人
- 5、某地方政府为推进绿色发展准备采取一些措施。下列措施中最合理的是：
- A、向辖区内钢铁厂提供能耗补贴
B、对过度包装、浪费和过度消费采取惩罚性措施
C、规定居民只能购买新能源汽车
D、向公众推出环境质量实时监控信息平台
- 6、下列诗句描写的景色按春夏秋冬顺序排列正确的是：
- ①稻花香里说丰年，听取蛙声一片
②棠梨叶落胭脂色，荞麦花开白雪香
③碧玉妆成一树高，万条垂下绿丝绦
④山舞银蛇，原驰蜡象，欲与天公试比高
- A、①③②④ B、②①④③ C、③①②④ D、④③②①
- 7、《茉莉花》被称为“流传到海外的第一首中国民歌”。下列关于这首民歌的说法，正确的是：
- A、《茉莉花》的发源地在浙江湖州一带
B、《茉莉花》由波斯商人通过丝绸之路传到欧洲
C、最早记录《茉莉花》的西方著作是《马可·波罗游记》
D、《茉莉花》因歌剧《图兰朵》将其作为主题音乐而风靡欧洲
- 8、“一带一路”是我国当前大力推进的国家经济发展重要战略。下列对“一带一路”战略的认识，正确的是：
- A、2013年是“一带一路”战略全面实施的开局之年
B、“一带一路”战略承载了丝绸之路沿途各国共同繁荣的梦想
C、助推“一带一路”建设的加速器是边境地区的互联互通
D、推进“一带一路”建设的重要依托是边境地区的和平稳定
- 9、预测表明，2020年到2050年，我国60岁以上人口占比将从19.3%上升到38.6%。对此，下列说法错误的是：
- A、我国家庭人口的抚养比系数逐渐减小
B、我国的老龄化社会问题将日益严峻
C、推动我国经济发展的人口红利逐步消退
D、养老保险的支付压力将会越来越大
- 10、资本国际化是指资本越出一国的范围在国际间运动和增值。下列未能体现资本国际化的是：
- A、某集团以数十亿美元收购国外企业
B、某公司撤出伦敦股市的资金转投芝加哥商品期货市场
C、两个国家的农产品贸易集团签署相互持股的协议
D、各国消费者通过电商购买境外的商品和劳务
- 11、如果让你规划“重走长征路”的活动路线，下列不应列入活动路线的地方是：
- A、江西瑞金 B、湖南岳阳 C、贵州遵义 D、四川阿坝
- 12、下列对“收拾金瓯一片，分田分地真忙”诗句的理解，错误的是：

- A、该诗句的创作背景是第二次国内革命战争时期 B、“分田分地”的实质是确立农民个体所有的土地制度
C、该诗句描述的景象发生在闽西地区 D、当时苏维埃政权的基本任务是“打土豪，分田地”
- 13、高铁列车的车窗和车门在运行过程中必须完全密闭。对此，下列解释最准确的是：
A、减少高铁列车运行的能源消耗 B、保持高铁列车车厢内部的安静
C、避免车速过快形成空气压强差 D、确保高铁列车车厢内部的整洁
- 14、发生火灾时应匍匐前进以逃生。对其原因的下列说法，错误的是：
A、低处有残留的新鲜空气 B、有毒有害气体集中于高处
C、浓烟自下而上扩散 D、低处视野比较清晰
- 15、下列诗句与描写的景点对应正确的是：
A、会当凌绝顶，一览众山小——安徽黄山
B、水光潋滟晴方好，山色空蒙雨亦奇——杭州西湖
C、二十四桥明月夜，玉人何处教吹箫——北京昆明湖
D、飞流直下三千尺，疑是银河落九天——贵州黄果树瀑布
- 16、我国山脉众多，给自然与人文地理环境带来深刻影响。对此，下列说法错误的是：
A、秦岭山脉是我国南北方的重要地理分界线 B、祁连山脉融雪是河西走廊绿洲农业的主要水源
C、喜马拉雅山脉是世界上最年轻最高大的山脉 D、阴山山脉是传统上重要的农业与林业的分界
- 17、下列对司法俗语说明错误的是：
A、案结事了——司法解决的根本性 B、有告必理——司法解决的普遍性
C、不告不理——司法活动的被动性 D、一事不再理——司法程序的终结性
- 18、返乡大学生陈某利用互联网销售家乡的土特农产品，取得了较好的收益。为了更好地发展当地的互联网经济，他准备发起成立本县电商协会。该协会的合法登记机关应是：
A、县公安局 B、县工商局 C、县民政局 D、县经信局
- 19、村民王某提出宅基地使用申请，乡政府审核后报县土地主管部门审批，获得批准。县水利主管部门巡查时发现王某的房屋建在泄洪区，便责令王某停止建设，并自行拆除已建部分。王某不服水利部门的处罚。下列关于本案的说法，正确的是：
A、法院应将乡政府列为共同被告 B、法院应将县土地主管部门列为第三人
C、法院应判决县土地主管部门赔偿王某的损失 D、法院应告知王某先复议，不服后方可起诉
- 20、17岁的刘某在工厂打工，月收入3000元。某日，刘某外出忘关水龙头导致租住屋浸水，房东损失2万元。房东要求刘某赔偿遭拒，遂将其诉至法院。下列关于本案的说法，正确的是：
A、法院应判决刘某独立承担赔偿责任，因其是完全行为能力人
B、法院应判决刘某承担主要赔偿责任，因其是限制行为能力人
C、法院应判决刘某家长承担赔偿责任，因刘某是无行为能力人
D、法院应判决刘某与其家长承担连带赔偿责任，因其是部分行为能力人

第二部分 言语理解与表达

21、从特定意义上说，决策的过程就是抢抓机遇，将可能性变为现实的过程。机遇从来都是公正的，机遇一旦到来，就看谁能审时度势，及早地发现它，抓住它；能否抓住它，又关键看谁具有立断立行的智慧和勇气，凡是决策，没有不存在风险的，若想等到有百分之百的把握再拍板，恐怕时机早已逝去。

这段文字主要说明：

- A、应该掌握时机果断决策以免错失机遇 B、决策者的智慧和勇气是决策成败的关键
C、有了充分的把握再决策已丧失最好的时机 D、决策者主要考虑如何将可能性变为现实

22、实际上，实地调研、田野考察，应该成为一切社会科学普遍运用的最基本的研究方法之一。遗憾的是，有些学科在迅速发展它的逻辑分析工具和数学描述语言的同时，在很大程度上抛弃了这个优秀的传统，研究者仅仅依赖那些来自统计年鉴的数据，进行逻辑推理和计量建模，而忽视了直接从真实世界获得鲜活的理论灵感和真实数据。

这段文字主要讨论“社会科学”的：

- A、分析工具 B、数据处理 C、优秀传统 D、研究方法

23、风是地球上空的传送带，它将大陆沙尘吹向海洋，又将海洋的水汽吹向大陆，沙尘和水汽相遇，便能结合为云，最终化为降水。可见沙尘不仅在土壤的分布和补充上扮演着重要的角色，而且在全球的水循环上也扮演着重要的角色。可以说，_____。

填入划横线部分最恰当的一句是：

- A、决定全球生态的平衡因子是沙尘 B、风使得全球生态达到了平衡状态
C、全球生态的平衡因子取决于风向 D、沙尘也是决定全球生态的平衡因子

24、内容产业包括三个层次：信息，知识和智慧。报业更多是生产信息，出版业主要集中生产知识和智慧，生产信息的必然先于生产知识和智慧的受到互联网冲击。其实原先不少报纸有在知识层面生产的传统，但近年来，报纸的这一特色日益褪色。如果报纸不能从知识层面生产信息，只是在海量信息层面做文章，竞争不过新媒体是自然而然的。

这段文字重在说明：

- A、报业竞争不过新媒体是毋庸置疑的事情
B、报业相比出版业更早受到互联网的冲击
C、互联网的海量信息是其取胜的关键武器
D、今天报业欲生存应多在知识层面生产信息

25、在这位演员死后的几周内，很多关于精神疾病和抑郁症的讨论纷纷见诸报端，包括演员自杀的各种猜测也走进了人们的视野。继而，舆论开始转向了对精神疾病和治疗进展的讨论，是的，社会确实需要鼓励开展这种话题的讨论，然而，有多少讨论是聚焦抑郁症患者每天必须面对的精神困扰？似乎更多的讨论集中在精神疾病的悲剧结局上，而不是及时进行干预，似乎抑郁症患者的死亡比他们的生命更容易引起讨论，这种状况亟需改变。

下列说法不符合文意的是：

- A、抑郁症患者的精神状况更值得关注
B、对抑郁症患者的精神困扰讨论不够
C、舆论应减少对精神疾病话题的讨论
D、舆论过度关注精神疾病患者的自杀原因

26、一张照片中的场景是这样的：夜幕降临，各种灯光开始勾勒出城市的轮廓，高低错落的楼宇林立，道路上车流的灯光划出流光溢彩的轨迹。如果时空真的能够穿越，让古人穿越到这里，他们一定不会对眼前的景色陌生，因为古人喜欢将楼阁依水依河而建，喜欢登楼观水，这道路不就是高楼峡谷中蜿蜒流淌的河流吗？

根据文意，这张照片拍摄的角度是：

- A、仰视 B、俯视 C、平视 D、侧视

27、每天，体内的钙会从汗液、尿液等途径排出，维持钙的平衡就需要补充一些钙。对于儿童，骨骼生长需要钙的沉积，需要的钙就比排出的要多。再考虑到人体对钙的吸收效率，欧美国家推荐的标准是青少年每天 1300 毫克，成人每天 1000 毫克，老年人则是 1200 毫克，而婴幼儿、学龄前儿童根据年龄会低一些。

下列不符合文意的一项是：

- A、青少年需要更多的钙帮助骨骼生长
B、不同的人吸收钙的效率是有差别的
C、随年龄的增加，钙的需求量也不断增加
D、人每天会有一定的钙从身体里流失

28、立法者希望通过法律文本语言向社会传递其价值立场，而要准确理解和严格的遵守法律语言背后的价值立场，就需要对法律文本语言进行解释。以一般的、抽象的形式表达出来的法条，最终需要适用于特殊的具体个案。法官需要解决的一个前提性问题就在于，该具体情形是否属于一般性规定所涵摄的范围，而回答这一问题的过程本身就是一个解释的过程。

这段文字着重强调的是：

- A、法律解释的必要性
B、法律文本应通俗易懂
C、法官应准确理解法条
D、法条适用个案需具体化

29、网络用语从一开始就不是交际语言，文字和语言的性质是不一样的，语言本质上是用声音符号做物质外壳的，文字则是用来记录有声语言的。世界上大多数语言并没有文字，这些语言也就不会有网络用语。文字有记录、保存语言的功能，并能远距离传送，网络主要利用文字来实现即时的远距离交流，文字有这样的优点，但是它不能取代语言。

根据文意，网络用语之所以不是交际用语，是因为：

- A、网络用语本质上是用文字符号记载的语言
B、网络语言主要用来实现即时的远距离交流
C、文字虽能远距离传送但不能取代交际语言
D、网络即使再发达也不可能不用交际语言

30、中国传统节日基本上是按天人和谐的精神设立，按时令顺序相继排列的，与大自然的节律相适应。“节”是天地时气的交合之处，是“天”“地”日月的节奏，那么也应当是“人”的节奏，它区隔出一年生活周期中的各个阶段，展现出一年生活中各个阶段的涵义，犹如生命成长过程中的各个阶段，是连通自然节律与人生节律的“节点”。

下列说法与文意不符的是：

- A、中国传统节日的主导观念是天人合一
B、中国传统节日的“节”有多重涵义
C、中国传统节日可以对应人生不同阶段
D、中国传统节日犹如自然与人生的标记

31、现代神经学普遍认为决定情商的机制在人的大脑里，神经学家做了大量的实验来探索情商的神经机制。智商方面的研究发现，智商高的人解决问题的时候大脑的活动量反而低，这表明他们大脑的应用效率很高。而类似的情商研究也发现，当试图解决情感相关的问题时，情商高的人的脑电波活动量也略低一些，显示出和智商类似的机制。

下列说法与文意最相符的是：

- A、情商高的人脑电波活动量比一般人低
B、脑电波活动量较高的人智商相对比较低
C、情商高的人大脑应用效率相对比较高
D、智商高的人大脑机制与情商高的人相同

32、①同一，是因为所有的现代人都是大约二十万年前从同一个人群繁衍下来的

②分布各地的各个所谓种族也彼此杂居、通婚

③遗传学家们早就意识到，人类的生物学特征是既同一又多样的

④因此，将人类划分为几个种族，只有社会、文化意义，没有生物学意义

⑤处于这个连续谱带两端的群体，比如东亚人、北欧人、南非人，他们的特征差异是明显的，但是中间还存在着大量的难以划分的族群

⑥因此人类身体特征的变异，并不具有明显的界限，而是一条连续的谱带

将以上6个句子重新排列语序正确的是：

- A、③①②⑥⑤④ B、③①⑥②④⑤ C、⑥⑤②①③④ D、⑥①②④⑤③

33、相较于传统外贸，跨境电子商务的优势非常明显。跨境电商不仅具有压缩中间环节，降低中小企业发展成本，增加就业等传统优势，还有重塑国际产业链，促进外贸方式转型，增强国际竞争力等作用，对于中国制造发展将带来极大利好。围绕跨境电商，我国正在形成一条从营销到支付，物流和金融服务的非常清晰完整的链条和支撑体系，为中小企业走出去提供了可能。

这段文字重在说明：

- A、跨境电商较传统对外贸易有明显优势 B、跨境电商将为中国制造发展带来机遇
C、跨境电商为我国企业走出去提供支持 D、跨境电商能有效促进外贸方式的转型

34、蓝藻本身没有多少危害，就怕蓝藻上浮形成水华。蓝藻形成水华时，一方面将严重抑制浮游植物利用光合作用产生氧气，另一方面也阻隔空气中的氧进入水体，导致水体中溶解氧严重不足，造成生态失衡。长期以来人们对水资源的不合理开发与利用，导致大量含有氮、磷营养元素的污染物质不断排入海洋、江河、湖泊和水库等水体，造成严重的水体富营养化状态，为蓝藻的爆发提供了得天独厚的条件。

这段话意在强调：

- A、谨防蓝藻上浮形成水华阻隔氧气进入水体 B、蓝藻爆发会影响生态平衡以及水资源开发
C、治理水体污染是控制蓝藻暴发的根本措施 D、适当引种蓝藻吸收氧磷元素以优化水环境

35、一些科学家认为，户外活动和近视关联证据并不充分，大部分流行病学研究都是根据问卷调查估算孩子们待在室外的时间。来自加州大学伯克利分校的验光师克里斯汀·怀尔索耶表示，这种数据的可靠性有待商榷。在一项关于可穿戴光传感器的小规模实验中，她发现人们往往会错误估计自己呆在户外的时间。

下列说法符合文意的是：

- A、流行病学研究中问卷调查方法往往是不科学的 B、人们对自己户外活动时间的估算可能存在偏差
C、户外活动时间长短和是否近视之间不存在关联 D、可穿戴光传感器试验主要用于记录户外活动时间

(材料)

为什么要保护自然？近年来，关于这个问题的争论实质上已经变成两种观点之间的辩论。一些人认为保护自然是为了自然本身，即自然的内在价值；另一些人则认为保护自然是为了人类自己的利益，即自然的使用价值。

自然使用价值的的支持者们认为，为了自然本身的利益而保护自然并不能有效阻止物种灭绝的趋势，自然环境的保护应当通过和产业界合作产生最大化的影响，通过让人们更直接地关注和生活紧密相关的问题（如食品和饮用水安全），进一步扩大人们对环境保护的支持；而内在价值的倡导者们则坚持认为，关于保护自然的伦理道德论据已然充分，和产业界合作会将环境保护工作出卖给环境问题的始作俑者，况且社会已经非常关注环境保护了。

然而不幸的是，这一开始时尚且理性温和的辩论，逐渐沦为了一场在大学、研究机构、环境保护组织、学术会议以至媒体中广泛进行的尖酸刻薄的个人论战。这种情况可能在扼杀有益的言论，影响环境保护的经费筹措并使实践层面的环保工作停滞不前。

另一个问题的存在有一点_____，那就是争论由少数人主导，且几乎都是男性。这说明了一个更大的问题：性别和文化的偏见，也在不断阻碍实际的环境保护工作开展。

环境保护时常会遇到现实世界中各种观点和价值观的挑战。为了处理和吸纳这些观点和价值观，在描绘这一领域的未来时，需要科学家和实践工作者更加包容的态度以及处理环境问题更加包容的方式。

在对环境保护科学家的科研训练中，应当更加精确地描绘这一领域悠久的、全球的共同参与的历史进程，介绍数个世纪以来人类珍爱自然、保护自然的各种方法，还需要在会议和媒体上举办更多的论坛，让人们听到不同性别不同文化背景的环境领域科学家和实践工作者的声音。同时，要动员环保科学家及实践工作者积极参与媒体的相关活动，使得媒体报道能够反应全面真实的观点，而非少数人的一家之言，环境保护组织和科学家们应当欢迎所有的环境保护执行机构，无论是公司、政府机关，还是宗教组织、有志之士，无论有功利目的的，还是纯公益的，和衷共济地将环境保护工作推向前进。要让环境保护不再停留在学理辩论的层面，而是对工作的有效性进行精细严格的评价，从而建立起能容纳不同性别、不同文化、不同年龄和不同价值观的环境保护规范。

36、填入文章中划横线处最恰当的一项是：

- A、迫在眉睫 B、雪上加霜 C、不寒而栗 D、不吐不快

37、下列选项中，不属于两派论争的问题是：

- A、是否可以为筹措经费而与产业界合作
B、是否应当进一步强化环保的社会关注
C、是否需要进一步加大吸引民众的力度
D、是否为改变性别失衡而鼓励女性参与

38、文中所说“将环境保护工作出卖给环境问题的始作俑者”，“始作俑者”指的是：

- A、制造了环境问题的企业
B、各类自然环境的破坏者
C、自然使用价值的支持者
D、自然内在价值的倡导者

39、文中作者担心的最主要问题是：

- A、倡导者们在保护环境的目的问题上存在分歧
B、观点不同者之间的论争逐渐演变为相互攻击
C、不正确的沟通方式影响实际的环境保护工作
D、恶性争论可能会导致有创建性的观点被遮蔽

40、下列选项中，属于作者为改变自然保护现状提出的对策是：

- A、对公众进行科普宣传，让其了解环境保护的历史和各种工作方法
B、通过会议和媒体举办论坛，倾听来自不同性别不同文化的公众声音
C、环境保护组织和科学家们应接纳所有环境保护执行机构共同参与
D、鼓励专业人士进一步展开论争，以提升环境保护认识的理论高度

41、盯着名利干事，难免_____，欲速则不达；盯着责任干事，“不闻掌声”而_____，才能最终赢得掌声。依次填入划横线处最恰当的一项是：

- A、斤斤计较 心无二用
B、急公好义 心怀大局
C、患得患失 心胸开阔
D、急功近利 心无旁骛

42、当你打开书想在书中找到平静的时候，最初的几页是很难读进去的。最初的几页读完后，你就会觉得好书真像是一堵墙，把街面上的_____还有喧嚣的声音阻拦在了外边。你似乎可以在_____里闻到花香，听到鸟鸣，大自然仿佛又回到了你的身边。

依次填入划横线处最恰当的一项是：

- A、车水马龙 白纸黑字
B、纸醉金迷 字里行间
C、灯红酒绿 语言文字
D、红男绿女 字字句句

43、今天，专业的_____让我们谁都无法补齐所有的_____，互联网使得合作的成本越来越低。与其花精力治愈自己的“_____”，不如花时间和精力把自己的优势发挥出来。

依次填入划横线处最恰当的一项是：

- A、划分 短处 痼疾
B、细分 短板 顽疾
C、细化 缺陷 弊病
D、分工 缺项 陈疾

44、苏轼也擅长书法，他_____颜真卿，但能_____，与蔡襄、黄庭坚、米芾并称宋代四大家。

依次填入划横线处最恰当的一项是：

- A、效法 别开生面
B、模仿 独树一帜
C、取法 不落窠臼
D、仿照 匠心独运

45、法律的道德化和道德的法律化是永不停歇的过程，法律规范与道德规范之间也并非_____，而是互动互补，_____。

依次填入划横线处最恰当的一项是：

- A、壁垒森严 浑然天成
B、格格不入 相辅相成
C、非此即彼 水乳交融
D、泾渭分明 浑然一体

46、在全面深化改革的进程中，谋事不实，蓝图再好也不过是_____；创业不实，梦想再美也只是黄粱一梦；做人不实，立身之本必定是_____。

依次填入划横线处最恰当的一项是：

- A、缘木求鱼 空中阁楼
B、画饼充饥 荡然无存
C、纸上谈兵 一无是处
D、闭门造车 子虚乌有

47、传统出版社的竞争优势在于，历史和传统使其在内容创新和版权拥有方面有深厚的_____，这是一个不断累积叠加的过程，不可能_____。

依次填入划横线处最恰当的一项是：

- A、资本 一步登天
B、实力 一挥而成
C、资源 一日千里
D、积淀 一蹴而就

48、洁净是茶室的必要条件，比方说茶室里最幽暗的角落，纵使客人根本_____，主人也必须拭抹得_____。可是仲夏之际，从一株百合花上无意滴落在地板上的水珠，却应任其留存，它暗示着水一般的纯净与清爽。

依次填入划横线处最恰当的一项是：

- A、无暇顾及 一尘不染 B、不以为然 一干二净
C、视而不见 洁白无瑕 D、熟视无睹 纤尘不染

49、生命在进化过程中要经历自然选择，也就是达尔文提出的“适者生存”。病毒感染对于生命来说就是一种选择压力，在病毒面前_____的个体会被淘汰掉，病毒因而成了生物进化的强大驱动力，它们_____和保留下免疫力强大的个体，由此推动生命的_____。

依次填入划横线处最恰当的一项是：

- A、娇生惯养 挑选 进化 B、弱不禁风 筛选 演化
C、节节败退 精选 进展 D、不堪一击 甄选 延续

50、在战争年代，军人的职责在于保家卫国，不惧_____，永远冲在第一线。在和平年代，军人的血性和担当就体现在这些见义勇为的_____之中，平凡之中彰显伟大，这种为了人民生死不顾的正义感更能显出军人的_____和温柔情怀。

依次填入划横线处最恰当的一项是：

- A、舍生忘死 英雄气概 大义凛然 B、马革裹尸 点点滴滴 大智大勇
C、粉身碎骨 一言一行 男儿本色 D、艰难险阻 一举一动 英勇无敌

51、每个时代都有自己的流行语，网络热词则是互联网时代最普遍的副产品。与以往不同，网络热词的更替速度令人_____，“来得快，去得更快”成为网络热词的集体_____。

依次填入划横线处最恰当的一项是：

- A、目不暇接 宿愿 B、不堪重负 命运
C、顾此失彼 结局 D、眼花缭乱 宿命

52、在创业大潮席卷下，创业领域呈现一派_____的景象，创投机构扎堆，创业项目井喷，创业者更是受到社会热烈关注，其中不少人成了_____的创业明星。在资金和各路人马_____的同时，也出现了一些浮夸和造假的现象。

依次填入划横线处最恰当的一项是：

- A、生机勃勃 炙手可热 抢滩 B、热火朝天 万众瞩目 搏杀
C、欣欣向荣 你争我抢 杀入 D、万马奔腾 家喻户晓 争抢

53、社会的和谐，是以人与人之间的爱即仁爱为_____基础的，也是以执政者怀抱民本思想执政为民、惠及民生为基础的。可以说，正是传统仁爱思想和民本思想的有力_____，才确保了中华民族 5000 年历史的_____。

依次填入划横线处最恰当的一项是：

- A、思想 维护 革故鼎新 B、情感 维系 绵延不绝
C、精神 维持 历久弥新 D、理论 维稳 山高水长

54、大数据以量取胜，孤立的单个数据几乎没有商品价值，故而多数记录主体容易_____自己的数据产权。但是一个个数据_____，便是宝藏。而大型数据集的处理使用，须借助复杂的分析算式与大功率计算机，普通人和小公司_____。

依次填入划横线处最恰当的一项是：

- A、忽视 集腋成裘 难以问津 B、忽略 积少成多 难以为继
C、遗忘 日积月累 望而却步 D、遗弃 接踵而至 望洋兴叹

55、要解决我国食品安全有效供给不足的问题，单纯依赖政府监管机制是不可行的。必须充分发挥而不是_____市场治理的作用，挖掘政府监管与市场治理的内在_____，激发政府监管与市场的协同优势，食品安全的政府监管才能_____。

依次填入划横线处最恰当的一项是：

- A、压制 互动性 准确到位 B、抑制 互助性 有理有据
C、替代 互补性 事半功倍 D、取代 互通性 水到渠成

第三部分 数量关系

56、2, 7, 14, 25, 38, ()

- A、54 B、55 C、57 D、58

$$\frac{1}{3}, \frac{1}{3}$$

57、 $\frac{1}{3}, \frac{1}{3}, 1, 5, 35, ()$

- A、315 B、215 C、115 D、96

$$\frac{1}{5}, \frac{3}{7}, \frac{7}{11}, \frac{13}{19}, \frac{3}{5}$$

58、 $\frac{1}{5}, \frac{3}{7}, \frac{7}{11}, \frac{13}{19}, \frac{3}{5}, ()$

- A、 $\frac{11}{47}$ B、 $\frac{21}{37}$ C、 $\frac{31}{67}$ D、 $\frac{31}{47}$

59、4.2, 5.2, 8.4, 17.8, 44.22, ()

- A、125.62 B、85.26 C、99.44 D、125.64

60、2, 3, 4, $3\sqrt{3}$, $\sqrt{46}$, ()

- A、81 B、 $2\sqrt{5}$ C、 $3\sqrt{5}$ D、9

61、已知 A、B 两地相距 600 千米。甲、乙两车同时从 A、B 两地相向而行，3 小时相遇。若甲的速度是乙的 1.5 倍，则甲的速度是：

- A、60 千米/小时 B、90 千米/小时 C、100 千米/小时 D、120 千米/小时

62、某班有 38 名学生，一次数学测验共有两道题，答对第一题的有 26 人，答对第二题的有 24 人，两题都答对的有 17 人，则两题都答错的人数是：

- A、3 B、5 C、6 D、7

63、甲、乙、丙三人共同完成一项工程，他们的工作效率之比是 5:4:6。先由甲、乙两人合作 6 天，再由乙单独做 9 天，完成全部工程的 60%。若剩下的工程由丙单独完成，则丙所需要的天数是：

- A、9 B、11 C、10 D、15

64、有 A、B、C 三支试管，分别装有 10 克、20 克、30 克的水。现将某种盐溶液 10 克倒入 A 管均匀混合，并取出 10 克溶液倒入 B 管均匀混合，再从 B 管中取出 10 克溶液倒入 C 管。若这时 C 管中溶液浓度为 2.5%，则原盐溶液的浓度是：

- A、60% B、55% C、50% D、45%

65、某志愿服务小组购买一批牛奶到一敬老院慰问老人。如果送给每位老人 4 盒牛奶，那么还剩 28 盒；如果送给每位老人 5 盒，那么最后一位老人又不足 4 盒，则该敬老院的老人人数至少是：

- A、27 B、29 C、30 D、33

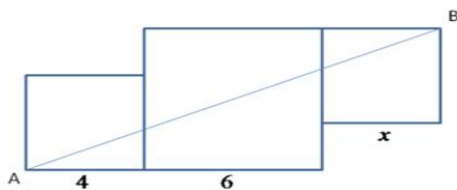
66、小王以每股 10 元的相同价格买入 A 和 B 两只股票共 1000 股。此后 A 股票先跌 5% 再涨 5%，B 股票先涨 5% 再跌 5%。若在此期间小王没有再买卖过这两只股票，则现在这 1000 股股票的市值是：

- A、10250 元 B、9975 元 C、10000 元 D、9750 元

67、小明、小红、小桃三人定期到某棋馆学围棋，小明每隔 3 天去一次，小红每隔 4 天去一次，小桃每隔 5 天去一次。若 2016 年 2 月 10 日三人恰好在棋馆相遇，则下次三人在棋馆相遇的日期是：

- A、2016 年 4 月 8 日 B、2016 年 4 月 11 日 C、2016 年 4 月 9 日 D、2016 年 4 月 10 日

68、下图是由三个边长分别为 4、6、x 的正方形所组成的图形，直线 AB 将它分成面积相等的两部分，则 x 的值是：

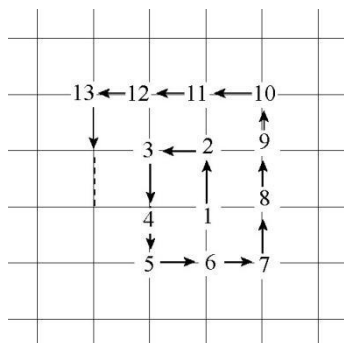


- A、3 或 5 B、2 或 4 C、1 或 3 D、1 或 6

69、一辆公交车从甲地开往乙地需经过三个红绿灯路口，在这三个路口遇到红灯的概率分别是 0.4、0.5、0.6，则该车从甲地开往乙地遇到红灯的概率是：

- A、0.12 B、0.50 C、0.88 D、0.89

70、从 1 开始的自然数在正方形网格内按如图所示规律排列，第 1 个转弯数是 2，第 2 个转弯数是 3，第 3 个转弯数是 5，第 4 个转弯数是 7，第 5 个转弯数是 10，则第 22 个转弯数是：



- A、123 B、131 C、132 D、133

第四部分 判断推理

71、上山：山上

- A、上海：海上 B、回收：收回 C、工人：人工 D、下台：台下

72、舞蹈：天鹅

- A、歌唱：黄莺 B、春燕：呢喃 C、读书：学生 D、采莲：江南

73、静如处子：动如脱兔

- A、顺手牵羊：守株待兔 B、胆小如鼠：胆大包天 C、杀鸡儆猴：惩前毖后 D、呆若木鸡：愚不可及

74、冠军：亚军

- A、热带：亚热带 B、芝麻：亚麻 C、奥运会：亚运会 D、亚健康：健康

75、茶杯：杯盖：杯底

- A、树林：树梢：树根 B、文章：文件：标题 C、苹果：果核：果皮 D、茶叶：春茶：秋茶

76、火车：轨道：行驶

- A、电脑：键盘：上网 B、相机：镜头：拍照 C、飞机：机场：飞行 D、油轮：江海：航行

77、驾驶 之于 () 相当于 讲课 之于 ()

- A、司机：教师 B、网络：教室 C、汽车：学生 D、麦克风：导航仪

78、时间 之于 () 相当于 () 之于 密度

- A、数量：质量 B、流水：磐石 C、速度：体积 D、日晷：天平

79、##Q¥¥Q&&

- A、&#¥¥##QQ B、Q¥Q&##¥¥ C、¥¥##QQ&## D、&#Q¥¥¥QQ

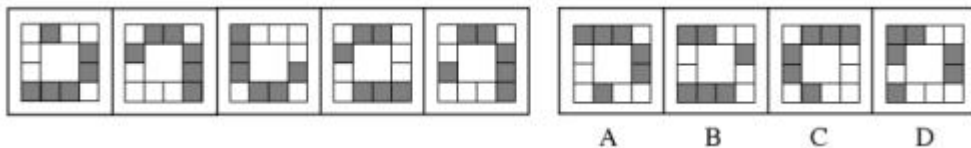
80、悠悠嘻嘎嘻吱吱嘻

- A、嘻嘻悠吱悠嘻吱嘎 B、悠悠嘻悠嘻嘎嘎吱 C、嘻嘻吱悠吱嘎嘎吱 D、吱吱悠嘻悠嘻嘻嘎

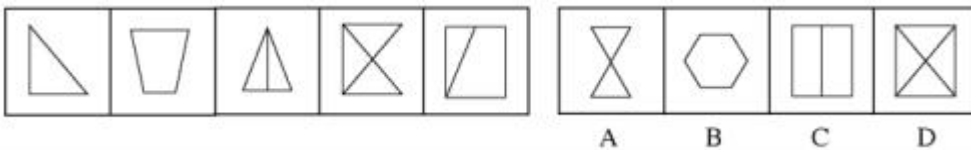
81、在上边的题干中给出一套图形，其中有五个图，这五个图呈现一定的规律性。在下边给出一套图形，其中有四个图，从中选出唯一的一项作为保持左边五个图规律性的第六个图。



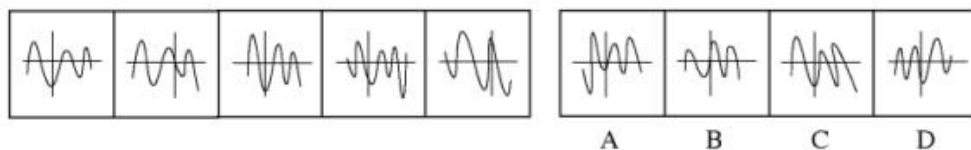
82、在左边的题干中给出一套图形，其中有五个图，这五个图呈现一定的规律性。在右边给出一套图形，其中有四个图，从中选出唯一的一项作为保持左边五个图规律性的第六个图。



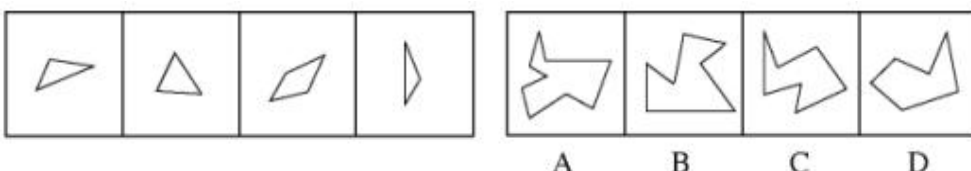
83、在上边的题干中给出一套图形，其中有五个图，这五个图呈现一定的规律性。在下边给出一套图形，其中有四个图，从中选出唯一的一项作为保持左边五个图规律性的第六个图。



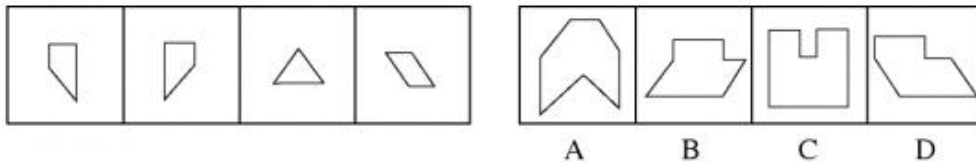
84、在上边的题干中给出一套图形，其中有五个图，这五个图呈现一定的规律性。在下边给出一套图形，其中有四个图，从中选出唯一的一项作为保持左边五个图规律性的第六个图。



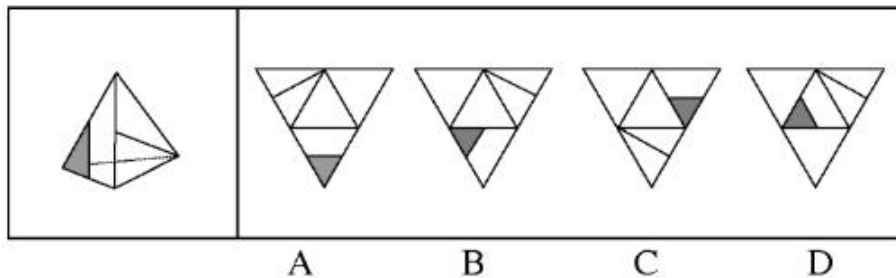
85、下列选项中可以由题干图形拼凑而成的是：



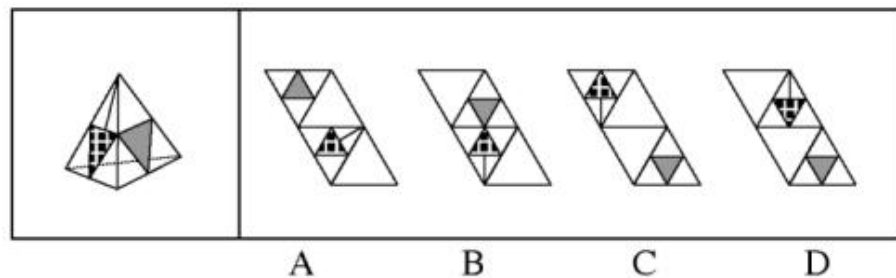
86、下列选项中可以由题干图形拼凑而成的是：



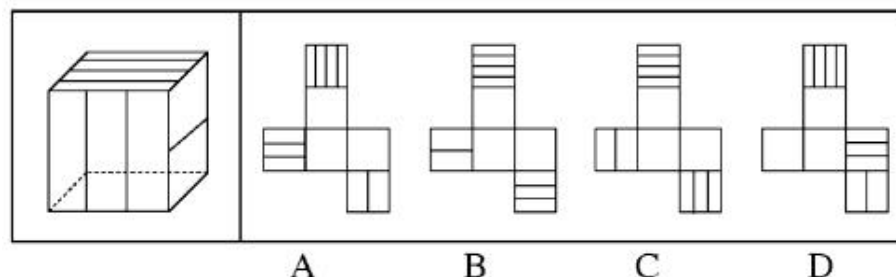
87、左边这个图形是由右边四个图形中的某一个作为外表面折叠而成，请指出它是哪一个？



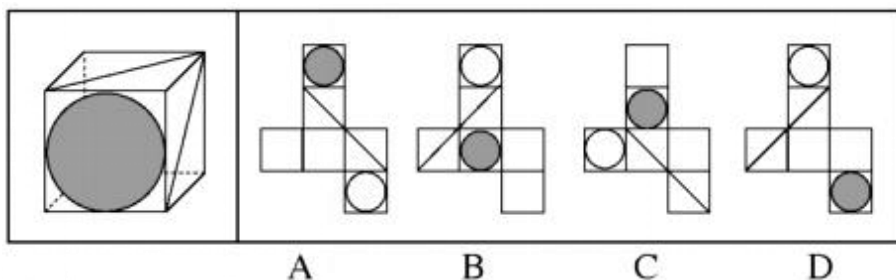
88、左边这个图形是由右边四个图形中的某一个作为外表面折叠而成，请指出它是哪一个？



89、左边这个图形是由右边四个图形中的某一个作为外表面折叠而成，请指出它是哪一个？



90、左边这个图形是由右边四个图形中的某一个作为外表面折叠而成，请指出它是哪一个？



91、与传统的“汗水型”经济不同，创新是一种主要依靠人类智慧的创造性劳动。由于投入多、风险大、周期长、见效慢，创新并非是每个人自觉的行动，它需要强大的动力支持。如果有人可以通过土地资源炒作暴富，或者可以借权钱交易腐败发财，那么人们创新就不会有真正的动力。

根据以上陈述，可以得出以下哪项？

- A、如果有人可以通过土地资源炒作暴富，就有人可以凭借权钱交易腐败发财
- B、如果没有人可以通过权钱交易腐败发财，人们创新就会有真正的动力
- C、如果人们创新没有真正的动力，那么就有人可以通过土地资源炒作暴富
- D、如果人们创新具有真正的动力，那么没有人可以凭借权钱交易腐败发财

92、某学院共有 42 名员工，他们或者做教学科研工作，或者做行政工作。在该学院中，教授都不担任行政工作，而 30 岁以下的年轻博士都在做行政工作，学院中有不少人是从海外招聘来的，他们都具有博士学位，李明是该学院最年轻的教授，他只有 29 岁。

根据以上陈述，可以得出以下哪项？

- A、该学院从海外招聘来的博士大多是教授
- B、该学院从海外招聘来的博士都不做行政工作

C、该学院教授大多是 30 岁以上的海外博士 D、该学院有的教授不是从海外招聘来的

93、经理：小张，这星期你怎么上班总是迟到？

小张：经理，不要只盯着我哟！小李有时比我到的还要晚！

以下哪项的对话方式与上述最为不同？

A、丈夫：老婆，你有没有觉得最近你特别爱发火？妻子：你什么意思！你有没有觉得最近你特别爱唠叨？

B、乘客：师傅，开车时你怎么还打手机啊？司机：你乱嚷什么！把我惹火了，一车人的安全你负责？

C、老师：小明，你最近上课怎么老不注意听课？学生：老师，我注意听讲了但是听不懂！听不懂我怎么听？

D、顾客：老板，你们卖的馄饨里怎么有股怪味呢？老板：你是何居心！你是哪家馄饨店派来的捣蛋鬼？

94、据报道，与国外相比，中国河流的抗生素浓度较高，测量浓度最高达 7560 纳克/升，平均也有 303 纳克/升，而意大利 9 纳克/升，美国为 120 纳克/升，德国为 20 纳克/升。对此，有专家认为不足为虑。因为绝大多数抗生素对于致病细菌的最小抑制浓度都在 10000 纳克/升以上，目前中国江河和土壤中检测的抗生素浓度都小于各种抗生素对病菌的最小抑制浓度。

以下哪项是上述专家所作论断的假设？

A、抗生素浓度如果低于其对病菌的最小抑制浓度，病菌就不会产生抗药性

B、很多病人就诊后，必须要使用更多的新一代抗生素才能控制感染和病情

C、细菌如果具有抗药性，因细菌感染而导致的疾病就很难用抗生素治愈

D、通过环境摄入的残留抗生素浓度高一些可能反而有利于维护人体健康

95、甲、乙、丙、丁、戊 5 支球队进行小组单循环赛。比赛规定，每队胜一场得 3 分，平一场得 1 分，负一场得 0 分；积分前两名出线。比赛结束后发现，没有积分相同的球队，乙队胜了 3 场，另一场负于甲队。

根据以上信息，可得出以下哪项？

A、甲队一定出线 B、乙队一定出线 C、丙队一定出线 D、戊队一定出线

96、俄国作家肖洛霍夫讲过一个故事：“一个兔子没命地狂奔，路遇狼。狼说，你跑那么急干嘛？兔子说，他们要逮住我，给我钉掌，狼说，他们要逮住钉掌的是骆驼，而不是你。兔子说，他们要是逮住我钉了掌，你看我怎么证明自己不是骆驼。”

在这个故事中，兔子最担心的是：

A、只要是骆驼，都要被钉掌

B、即使不是骆驼，也可能会钉掌

C、如果被钉了掌，就一定是骆驼

D、如果没有被钉掌，就不会是骆驼

97、荷兰画家梵高在一家精神病院里创作了著名的绘画作品《星空》。这幅画中的“漩涡”引起了人们长期的争论。许多心理学家认为，“漩涡”是梵高当时脆弱心理状态的延伸和表现。欧洲航天局近日发表了一幅根据“普朗克”卫星探测数据绘制的星空图，神奇的是，这幅图与《星空》有惊人的相似之处。有艺术家指出，自然的星空正是梵高创作的灵感来源。

以下各项如果为真，则除了哪项均能支持上述艺术家的观点？

A、梵高的创作灵感一般均有明显的现实来源

B、《星空》的创作年代要远早于卫星绘制星空图的年代

C、梵高具有超越常人的视觉观察能力与想象能力

D、卫星绘制的星空图和《星空》的画面大体是一致的

98、和谐小区里的居民具有乐于助人的良好风尚。在该小区里，凡帮助过老刘的人，老张都帮助过。一个人，只要有一人没帮助过他，老周就帮助过他。老王新搬来不久，还没有帮助过其他人。

根据以上陈述，可以得出以下哪项？

A、老周没有帮助过老张

B、老周没有帮助过老王

C、老刘与老张互相帮助过

D、老张和老周互相帮助过

(材料)

=某单位工会成立职工业余兴趣活动小组，分台球、乒乓球、羽毛球、登山四个小组。已知该单位的甲、乙、丙、丁、戊、己、庚等 7 人每人各参加其中的两个小组，每个小组最少有其中的两人参加。最多有其中的 5 人参加。另外，还知道：

(1) 丁与戊的参加情况完全相同

(2) 己与庚的参加情况完全相同

(3) 如果甲参加台球组，则丁也会参加台球组

(4) 只有乙和丙参加乒乓球组

99、如果登山组只有己和庚参加，则可以得出以下哪项？

A、甲参加台球组，羽毛球组

B、乙参加台球组，羽毛球组

C、己参加台球组，登山组

D、庚参加羽毛球组，登山组

100、如果乙与丁都没有参加台球组，则可以得出以下哪项？

A、如果己参加台球组，则丙参加登山组

B、如果庚参加台球组，则戊参加台球组

C、如果甲参加羽毛球组，则庚参加登山组 D、如果乙参加羽毛球组，则己参加登山组

101、逆势扩张：指企业在面临巨大压力和困难的情况下，进一步巩固和拓展市场，在竞争中抢占先机的经营行为。

下列不属于逆势扩张的是：

- A、当大多数的国产品牌彩电市场份额纷纷下滑的时候，某电视厂家却连续推出了几款超级电视，市场占比高歌猛进，遥遥领先几大洋品牌
- B、某汽车油箱销售公司是我国规模较大的自主品牌出口企业，近期已正式进入预先披露更新企业名单之列，向上市的目标又进了一步
- C、在人们普遍认为房地产调控政策将严重影响家居行业之际，某品牌家具高调宣布，最近在省城及周边地区又成功开设了多家专营店
- D、国内零售行业近期表现欠佳，各销售企业纷纷收缩实体阵地，某民营企业今日却在省城新增了一家购物中心，另外两家不久也将开业

102、公共信息资源，指社会公共领域中特定管理机构依法管理，面向全体社会公众提供信息服务的各种数据系统，具有公共性、广泛性、基础性和公益性等特点。

下列属于公共信息资源的是：

- A、公安部门为了核查居民身份或侦破案件所建立的公安部信息共享系统
- B、银行为了审核贷款申请、开展各种金融业务而开发的客户个人信息系统
- C、高校教务部门为提高教学管理效率而开发的学生选课、评课、成绩管理系统
- D、国家气象部门建立的气象信息发布系统，如天气预报、地质灾害预警

103、功利化阅读，指在有限的读书时间里，出于特殊目的，只选择阅读那些对提高自己的学习成绩、工作能力或求职更有帮助的书刊资料。

下列不属于功利化阅读的是：

- A、小李平时忙着上课和做家教，资格考试前三天，才一门心思复习考试课程
- B、老李是业务骨干，一有时间就去资料室翻阅与自己工种相关的刊物
- C、为了取得面试好成绩，小江特地去书店买了几本关于面试技巧方面的书
- D、小林虽然工作繁忙，却一直迷恋科幻小说，只要有点空闲就会找一本来看

104、定制旅游，指由游客和旅游服务商共同商定旅游方案，以充分满足旅游个性化要求的旅游方式。

下列不属于定制旅游的是：

- A、某旅行社最近推出了欧洲十日游、沿海五市一周游等产品，提前订好酒店、机票、景点门票等，游客觉得价格合适就可以购买出行
- B、某在线旅游网站根据游客的个性预算、旅游目标等制订行程计划，与客户反复沟通，最终形成了客户满意的方案，并派出专人随行监管
- C、某旅行社组织了一个美食旅游项目，应游客要求精心挑选几家有特色的美食店，预定好当地的个性民居，全程陪游，游客归来后都感到十分满意
- D、小李同几个酷爱摄影的朋友策划了一个拍摄沙漠风光的活动计划，经过与旅行社多次讨价还价，终于成行，参与者过了一个很有意思的假期

105、优势反应，指熟练程度极高、遇到某种刺激时不加思考就做出来的习惯性动作。

下列不属于优势反应的是：

- A、中国人遇到多年未见的朋友时，一般都伸出右手去和对方握手
- B、在街上听到有人喊自己名字，人们总会循着声音方向去寻找
- C、小丽在家看小说时，一碰到不认识的字就会下意识地查字典
- D、人们无意之中伸进滚烫的开水，瞬间就会把手缩回

106、以房养老，指老人将自己的产权房抵押给金融机构，按约定条件定期领取养老金并获得相应服务的养老方式。老人去世后，金融机构可以按约定处置房产，偿付已经支出的各项费用。

下列属于以房养老的是：

- A、最近，老李夫妇把卖房子的钱存进银行，一起住进了附近的老年公寓，每月的存款利息足够支付那里的各种费用
- B、年逾古稀的张先生夫妇与银行签订了协议，生前，他们每月从银行领取 13000 元养老金；身故后，他们的产权房由银行处置
- C、赵某在一次车祸中落下重度残疾，他与典当行的远房侄子签了一份协议：由侄子照顾他的日常起居，自己名下的房子将来过户给侄子
- D、老孙退休后卖掉市中心的大房子，买了一套二手小房住，每月的退休金加上卖房款利息，夫妻俩的日子过得

很是自在惬意

107、自然淘汰育种法，指在良种筛选过程中，减少人为干预，尽量通过被筛选对象的自然生长确定所需良种的育种方法。

下列属于自然淘汰育种法的是：

- A、甲鱼养殖场为了选育出抗病力强的种鱼，在甲鱼接连死亡的情况下，没有使用任何药物，存活到最后的则作为种鱼
- B、锦鲤养殖户从幼鱼开始分拣最有经济价值的鱼苗，经过三次人工选鱼后，最终只有大约 10%的幼鱼成了精品锦鲤
- C、石斛养殖户爬上人迹罕至的悬崖峭壁采集野生石斛，挑选其中的一部分作为种苗，精心培育出了多个新品种
- D、生长在同一片山坡上的某种植物，有的长势非常茂盛，有的则弱小枯黄，泾渭分明，这正是“物竞天择”的形象说明

108、隐形就业：指没有通过传统就业渠道获取固定职业、处于相关部门就业统计范围之外的工作状态。

下列不属于隐形就业的是：

- A、颜某辞去工作后，一边带孩子一边经营一家奶粉网店
- B、某教授受多家培训学校之邀，在工作之余常去指导授课
- C、小陈离开公司后专门为电商店铺提供平台搭建和维护服务
- D、酷爱写作的小王，大学毕业后成了一家报社的自由撰稿人

109、众筹行为：指通过互联网发布筹款项目、实施方案、投资回报的资金募集方式，其构成要素包括有创造能力但缺乏资金的发起人，对筹资者的故事或回报感兴趣的支持者，在两者之间发挥连接作用的互联网平台等。

下列属于众筹行为的是：

- A、地震发生后，市红十字会利用官网、微博、微信等多种网络平台及时发布灾情信息呼吁市民捐款捐物，帮助灾民重建家园，很快筹集到大量善款、赈灾物资
- B、小涛大学毕业后回乡创业资金不足，他在网上发布了自己的创意，争取各界人士的资金援助，在网友们帮助下迅速度过了难关
- C、某中学的一名学生患了白血病，学校在网上发布了募捐活动，两天之内就募捐了几万元，帖子转载后各地的善款越来越多
- D、某青年艺术家为了举办个人画展，利用网络筹集了一大笔启动资金，画展圆满结束后，一一兑现了让出资人享受展品收藏待遇的承诺

110、路怒症：指机动车驾驶者在行车过程中因焦躁、愤怒情绪而产生的攻击性行为。

下列不属于路怒症的是：

- A、在路口等红灯时，小张感觉汽车被碰了一下，下车一看，果然是后车刹车不及时追尾了。小张猛踢后车车轮，大声责怪其司机并且索要赔偿
- B、妻子开车送老陈去上班，一辆小汽车突然窜到了面前，险些撞到他的车，老陈下车拦住那辆车，把司机痛斥一顿
- C、小李开了 8 年车，技术高超，每次被人超车，都忍不住狂踩油门飚上一把，直到反超并羞辱对方一番才罢休
- D、小王正在赶路，旁边车子中飞出一个纸团突然落在他的挡风玻璃上，小王十分生气，他猛按喇叭，嘴里骂个不停

111、跳板策略，指在特定条件下，为了避免因统一指挥造成的信息传递延误而跨越权力边界、直接进行横向沟通。

下列属于跳板策略的是：

- A、小杰被毒蛇咬伤，生命垂危，县医院立即向国家卫生部紧急求救。在卫生部直接干预下，仅两个小时就拿到了所需的特效药，小杰很快转危为安
- B、一次学术会议上，某大学校长遇到了兄弟院校从未谋面的老同行，两人就一些学术热点问题进行了深入探讨，并商定联手申报国家重大科研项目
- C、一次追逃行动中，通讯系统突发故障，为防嫌疑人再次逃脱，第一小组的高组长未向指挥中心汇报就直接请求第二小组的邓组长火速增援，迅速抓获了犯罪嫌疑人
- D、由于路程较远，120 救护车不能马上赶到车祸现场，巡警得知这一情况后，主动用自己的摩托警车把伤员送进了附近的一家医院

112、配套效应，指拥有某件物品后，为了追求完美效果而不断配置其他相应物品。

下列不属于配套效应的是：

- A、邻居送给小李一只宠物狗，半月以后，小李家阳台上狗笼子、狗饭碗、狗澡盆、狗毛衣等一应俱全，几乎变成了宠物用品展示中心

B、小孙穿着朋友赠送的一件质地精良、做工考究的睡袍在书房走动，总觉得身边的一切都不协调，他很快换掉了书房中的地毯、桌椅、书柜

C、张女士在商场亲子装专柜为儿子买了一件T恤，儿子和丈夫都非常满意，于是她又返回商场为丈夫和自己各买了一件

D、赵总在古玩店淘到一件康熙宫廷玉器，特意为其配制了一个红木底座，还请诗友为其专门写了一首咏玉诗，放在大厅最醒目的地方

113、平行竞争：指各家厂商提供不同种类的产品以满足顾客同一需求而形成的竞争。

下列属于平行竞争的是：

A、冬天还没到，电器商场就摆满了各种取暖用品，空调、油灯、热风扇、电热毯应有尽有，价格有高有低，款式或经典或新潮

B、为了扩大市场份额，某公司新近推出了一款平板电脑，硬盘容量有64G、128G和256G三种规格，供不同层次的消费者选择

C、只要走进地下商城，马上就会有一群人把你团团围住，卖服装的、卖玩具的、卖食品的…都迫不及待地要把你拉到自己的摊位上

D、小李拿到了1万多元年终奖，准备好好奖励自己，现在正纠结于出国旅游、买笔记本电脑还是黄金首饰

114、反向激励，指领导者对于工作表现欠佳的下属不仅不批评，反而适度肯定，以期取得与正向激励效果相当的评价策略。

下列属于反向激励的是：

A、小刘提前完成了经理布置的讲演稿，经理要他拿回去认真推敲，第二天小刘的修改稿得到了经理的高度肯定

B、小王因工作失误被顾客投诉，同事老王安慰她，并指导小王如何避免失误，小王经过一段时间的努力，业务能力越来越强，顾客十分满意

C、小李接受撰写市场调研报告的任务后，未能按时完成。经理称赞他调研认真，特意延期两天，小李的调研报告最终写得很出色

D、在工会羽毛球循环赛中，夺冠热门小王首轮意外失手，单位领导没有批评他，反而鼓励他调整好心态，小王最终获得了冠军

115、代际歧视，指上代人从自己的视角对新生代整体形象作出的描述性或定位性负面评价，这种评价往往不够客观、准确。

下列属于代际歧视的是：

A、年近花甲的钱总在职工大会上批评少数年轻的技术人员缺乏创新意识，不思进取，要求他们尽快改变目前的精神状态

B、“80后”曾被父辈斥为“叛逆的一代”，被指责为自我、叛逆和缺乏责任感，然而最近某七十高龄的作家却称“80后”是“懦弱的一代”，缺乏反叛精神

C、孙大妈学会了使用微信，经常关注女儿的朋友圈，由于女儿经常分享一些充满正能量的短文，饭桌上她戏称女儿是“鸡汤党”

D、某“啃老”男整天游手好闲、惹是生非，父母恨铁不成钢，欲将其赶出家门，他却指责父母这一代人自私自利，不顾子女

第五部分 资料分析

(材料)

2015年1~7月，我国机电产品出口额44359.4亿元，同比增长1.2%，占出口总额的57.2%，其中，电器及电子产品出口19373.1亿元，同比增长4.1%，机械设备出口12865.6亿元，同比下降6.6%，同期，服装出口5709.9亿元，同比下降6.4%，纺织品出口3825.5亿元，同比下降1.7%，鞋类出口1901.7亿元，同比下降1.9%，家具出口1883.7亿元，同比增长7.6%，塑料制品出口553.7万吨，出口额1293.3亿元，出口量同比增长2.9%，出口额同比增长2.3%；箱包及类似容器出口166.9万吨，出口额998.9亿元，出口量同比下降3.8%，出口额同比增长8.0%；玩具出口465.0亿元，同比增长11.0%。

上述7大类劳动密集型出口额合计同比下降1.3%，此外，肥料出口1957.3万吨，出口额366.1亿元，出口量同比增长54.7%，出口额同比增长62.7%；钢材出口6213.2万吨，出口额2319.5亿元，出口量同比增长26.6%，出口额同比下降2.6%；汽车出口44.5万辆，出口额411.0亿元，出口量同比下降13.6%，出口额同比下降4.5%。

116、2015年1~7月，我国出口总额为：

A、63534.0亿元 B、77551.4亿元 C、82907.1亿元 D、95772.7亿元

117、2015年1~7月，我国下列商品出口额同比下降最多的是：

A、机械设备 B、服装 C、钢材 D、汽车

118、2015年1~7月，我国下列出口商品平均价格同比上涨最多的是：

A、塑料制品 B、箱包及类似容器 C、肥料 D、汽车

119、2015年1~7月，我国服装、纺织品、鞋类、家具、塑料制品、箱包及类似容器、玩具出口额合计为：
A、13576.1亿元 B、14087.2亿元 C、16078.0亿元 D、18079.3亿元

120、下列判断不正确的是：

- A、2014年1~7月，我国玩具出口额少于422亿元
B、2015年1~7月，我国肥料出口量和出口额同比增长均超过50%
C、2015年1~7月，我国7大类劳动密集型产品中，多数出口额同比有所增长
D、2015年1~7月，我国电器及电子产品和机械类设备出口额同比平均增长-1.3%
(材料)

为了解城镇棚户区改造情况，国家统计局社情民意调查中心2015年选取了20个省(市、区)城镇棚户区的10100位居民进行调查，调查显示，对于棚户区配套公共服务设施改造状况，受访棚户区居民中23.4%表示“满意”，40.2%表示“基本满意”，具体调查结果见下表：

受访棚户区居民对配套公共服务设施改造状况的评价单位：%

棚户区类型	国有工矿	国有垦区 (农场)	国有林区 (林场)	城中村	城市危房	其他
满意	21.8	36.5	27.5	22.6	23.0	24.8
基本满意	39.8	38.3	49.6	41.3	38.9	36.5
不满意	15.9	13.7	15.3	16.7	12.2	9.3
不清楚	22.5	11.5	7.6	19.4	25.9	29.4

121、各类棚户区中，表示“满意”，“基本满意”的受访居民之和占本类棚户区受访居民总数的比重最高的是：

- A、国有林区(林场) B、国有垦区(农场) C、国有工矿 D、城中村

122、表示“满意”“基本满意”的受访棚户区居民数之和比表示“不满意”“不清楚”的居民数之和多：

- A、2508 B、2617 C、2747 D、3676

123、各棚户区类型中，表示“满意”的受访居民数比表示“不满意”的多1倍及以上的棚户区类型有：

- A、1个 B、2个 C、3个 D、4个

124、各类棚户区中，表示“不清楚”的受访居民数占本类棚户区受访居民总数的比重最多相差：

- A、12.7个百分点 B、16.9个百分点 C、21.8个百分点 D、29.4个百分点

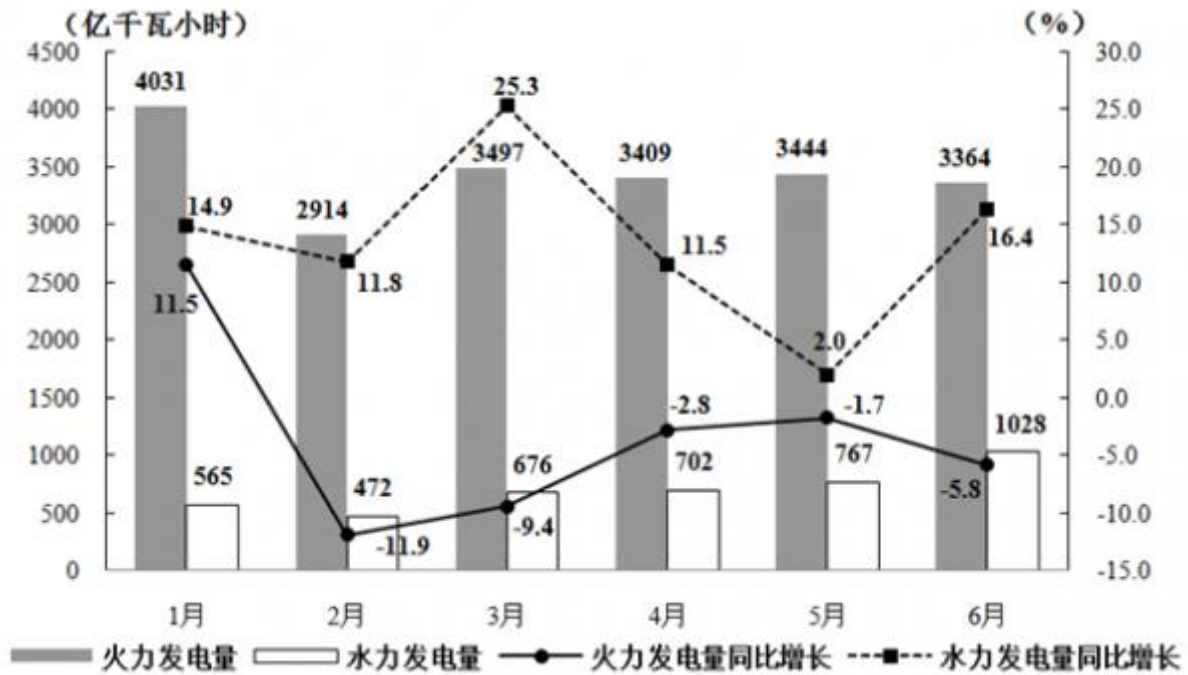
125、下列判断正确的是：

- A、各类棚户区受访居民给出的评价中，占比最少的均是“不满意”
B、各类棚户区都有65%以上的受访居民表示“满意”“基本满意”
C、国有垦区(农场)与国有林区(林场)的受访棚户区居民之和少于5050人
D、各类棚户区受访居民中，表示“基本满意”的人数均多于“不满意”“不清楚”的居民之和。

(材料)

表 2013年第一季度至2014年第四季度我国发电量情况(单位：亿千瓦时)

时间		发电总量	水电总电量	火力总电量
2013年	第一季度	11823	1306	10006
	第二季度	12519	1985	9949
	第三季度	14347	2552	11161
	第四季度	13763	2047	11037
2014年	第一季度	12719	1453	10782
	第二季度	13444	2265	10582
	第三季度	14592	3442	10377
	第四季度	13883	2284	10677



2015年1~6月我国火力、水力发电量及其增长情况

126、2015年1~6月我国火力发电量少于上年同期的月度个数是：

- A、3 B、4 C、5 D、6

127、2014年我国季度发电量同比增长最慢的是：

- A、第一季度 B、第二季度 C、第三季度 D、第四季度

128、2015年第二季度我国火力发电量比上年同期少：

- A、232亿千瓦时 B、260亿千瓦时 C、340亿千瓦时 D、365亿千瓦时

129、如果2015年7月~11月我国水力发电量的月平均增速与2015年2月~6月保持相同，则2015年11月我国水力发电量可达：

- A、1390亿千瓦时 B、1870亿千瓦时 C、2063亿千瓦时 D、2239亿千瓦时

130、下列判断不正确的是：

- A、2014年有三个季度的水力发电量占发电总量的比重不超过20%
 B、2013年~2014年我国各季度火力发电量占发电总量的比重均超过70%
 C、2015年上半年我国水力与火力发电量各月同比增长的方向均相反
 D、2013年第二季度到2015年第二季度我国水力发电量有四个季度环比减少

(材料)

2015年6月某市统计局对应届毕业生的抽样调查显示：有593名受访者打算创业，占28.6%。其中，大专生打算创业的比重比平均水平高7.0个百分点，本科生打算创业的比重比平均水平低3.9个百分点，31.4%的研究生打算创业，有34.5%的受访男生打算创业，比女生高11.2个百分点。

在没有创业打算的受访应届毕业生中，因缺乏启动资金、缺乏社会经验、缺乏创业方向等原因不打算创业的情况见图1，有创业打算的受访应届毕业生能承担的创业资金额度情况见图2。

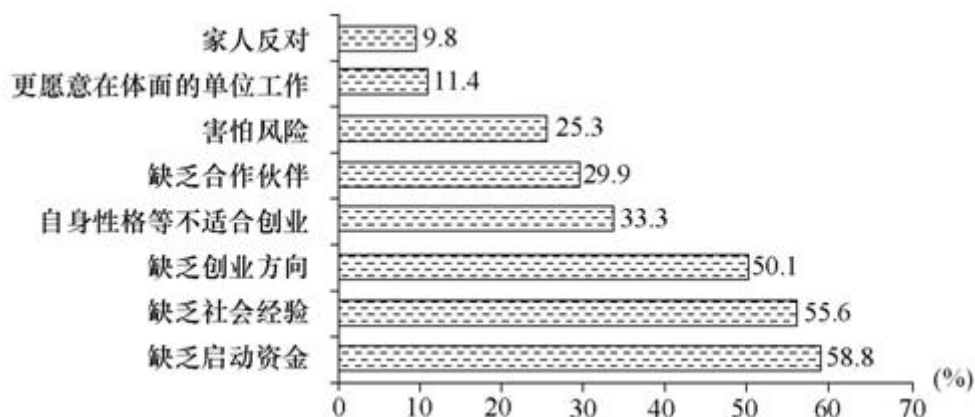


图1 受访应届毕业生不打算创业的原因(多选)

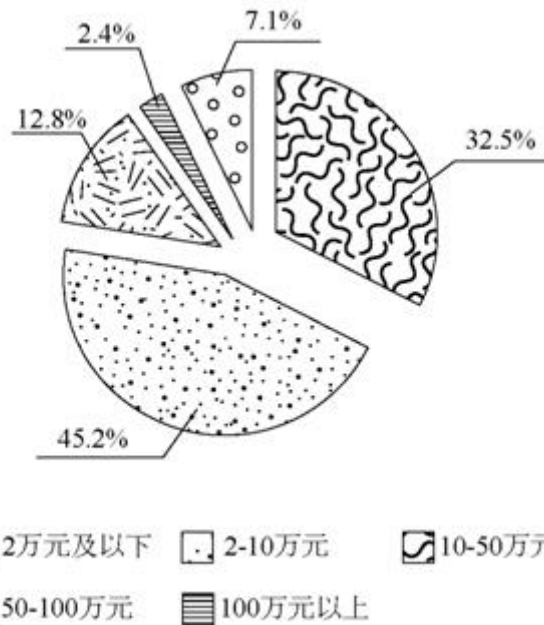


图2 有创业打算的受访应届毕业生能承担的创业资金额度情况

- 131、本次调查中，没有创业打算的毕业生人数约是有创业打算的毕业生人数的（ ）。
- A、1.5倍 B、1.9倍 C、2.5倍 D、2.8倍
- 132、本次调查中，本科毕业生打算创业的比重比大专生低（ ）。
- A、3.1个百分点 B、3.9个百分点 C、7.0个百分点 D、10.9个百分点
- 133、本次调查中，因缺乏启动资金而不打算创业的毕业生有（ ）。
- A、349人 B、870人 C、1219人 D、1480人
- 134、本次调查中，有创业打算的毕业生能承担的创业资金额度低于10万元的人数是（ ）人。
- A、344 B、268 C、249 D、193
- 135、关于本次调查，下列判断正确的是（ ）。
- A、受访男生人数比女生少
- B、有25.3%的受访者因害怕风险而不打算创业
- C、至少有168名受访者因更愿意在体面的单位上班而不打算创业
- D、有超过1成的打算创业的毕业生能承担50万元以上的创业资金额度