

2015年0322江苏公务员考《行测》真题(B卷)

第一部分 言语理解与表达

1、法治的规范性与权威性，可以有效规范与约束政府行为，防止出现违法行使权力、以言代法、以权压法、徇私枉法，使全社会养成遵纪守法的良好社会风气，维护市场秩序与社会秩序。法治保护权利与自由的基本价值，与市场经济自由交换的内在要求高度契合，两者相互促进。法治不但可以弥补市场失灵的缺陷，也可以为市场经济的发展起到规范、保障、引领、推动等不同作用。

这段文字主要讨论的是：

- A、建立法治规范和权威的重要性
- B、市场经济可以强化法治的权威
- C、如何有效规范与约束政府行为
- D、法治建设有利于经济社会发展

2、民以食为天，人多地少是不少国家面临的相同问题。在全球化时代，国际粮价的波动往往对国内粮食生产影响巨大。据介绍，日本在海外开发农田1200万公顷，相当于其国内耕地面积的3倍；韩国在海外购买和租赁农田243万公顷，相当于其国内耕地面积的1.3倍。日韩农业“走出去”，借助多元化的规模经营，获得了强大的国际竞争力，对保证其粮食安全起到了积极作用。

这段文字讨论的重点是：

- A、日本韩国本世纪的耕地面积规模
- B、日韩“走出去”的海外屯田战略
- C、人多地少粮价波动是世界性问题
- D、国际粮价与国内粮食生产的联动

3、如果告诉你，你日常喝的水也许比太阳还要古老，恐怕除了惊讶之外，都有点喝不下去了。话说回来，科学家花费大量精力来论证地球上的水可能是太阳系的长辈，无疑具有极大的科学价值。众所周知，水是生命之源，这一发现意味着宇宙中，或许有类似地球生命的存在。不过对于普通老百姓而言，在水资源日益匮乏的当下，知道地球上水的年龄远不如如何治理地球上被污染的水域来得迫切。

下列说法与文意不符的一项是：

- A、地球上大部分水源地已经受到严重污染
- B、宇宙中可能存在类似人类的智慧生命体
- C、水污染的治理是老百姓迫切关心的问题
- D、地球上水的年龄远远超出我们的想象力

4、儒学的存在不等于儒家哲学家或儒家哲学体系的存在，不能认为有了儒家哲学家才有儒学，这是一种片面的看法。儒学在最基础的层面上，不仅仅是经典的解说，同时也是中国人的文化心理结构。

文中划横线处的“这”指的是：

- A、儒学是儒家哲学家的经典解说
- B、儒学是中国人的文化心理结构
- C、有儒家哲学家才有儒学的存在
- D、儒学和儒家哲学体系是两回事

5、睡眠有个神奇的特点，就是我们大多数人总是在每天晚上相同的时间感受到来自睡魔的召唤。之所以如此，是因为睡眠的启动部分依赖于大脑内的一个“时钟”，这个“时钟”能够追踪记录地球的昼夜更替，以及季节性节律，而这个星球上的其他生物，从细菌和植物，到鱼类，昆虫和哺乳动物，都具有这样的能力，“生物钟”在自然界无处不在。

根据文意，下列现象与“生物钟”无关的是：

- A、腊梅花香寒冬来到
- B、公鸡每天清晨打鸣
- C、旅美归来要“倒时差”
- D、夏季来临昼长夜短

6、针对各种社会事件或现象，常常都可以有也会有许多而不是单一的规则。但对某一具体事件、情境，究竟适用哪一规则才合情合理，并非也不可能由规则自身明确规定，这需要适用者本人通过对事件、情境的了解，对适用不同规则可能引发的不同后果来预测和判断。

对文意概括最恰当的一项是：

- A、运用相同规则也会引起不同后果
- B、规则掌握在不同人手中后果不同
- C、规则的运用必须考虑情境与后果
- D、不同的事件需要适用不同的规则

7、在现代社会中，虽然以有经济保障和物质享受为前提的婚姻数量迅速减少，但是“金钱决定一切”“拜金论”仍然在一些人心中根深蒂固。在恋爱婚姻自由的现代社会里，依然存在家长极力干涉子女婚姻的情形，家庭背景、教育背景和工作条件仍然是主要的参考因素。我们不禁思考：金钱能决定一切吗？当然不是。

通过这段文字最有可能作出的结论是：

- A、纯粹建立在美貌和激情基础上的婚姻将会是失败和不幸的婚姻
- B、婚姻中感情是最重要的因素，经济保障和物质享受均无需考虑
- C、现代社会中女性需要通过婚姻中的财富和地位提高自身的身份
- D、为了美好的婚姻，我们要有正确的婚姻观和对待婚姻的态度

8、老师肩负着培养下一代的重要责任。正确的理想信念是教书育人、播种未来的指路明灯。不能想象一个没有正确理想信念的人能够成为好老师。唐代韩愈说：“师者，所以传道授业解惑也。”“传道”是第一位的。一个老师，如果只知道“授业”、“解惑”而不“传道”，不能说这个老师是完全称职的，充其量只能是“经师”、

“句读之师”，而非“人师”了。古人云：“经师易求，人师难得。”一个优秀的老师，应该是“经师”和“人师”的统一，既要精于“授业”、“解惑”，更要以“传道”为责任和使命。好老师心中要有国家和民族，要明确意识到肩负的国家使命和社会责任。

这段文字的主旨是：

- A、做好老师，要有理想信念
B、做好老师，要有道德情操
C、做好老师，要有扎实学识
D、做好老师，要有引路意识

9、夏商及周早期，中国并无商税。这一时期，由于生产力低下，手工业和商业较为落后，手工业者和商家必须在官府作坊内从事生产和贸易，史称“工商食官”，这种体制决定自己对自己征税并无必要，目前也尚无史料记载这一时期曾开征商税。从上述文段可知，夏商及周早期中国没有商税的主要原因在于：

- A、当时整个社会的生产力水平太低
B、这个时期手工业和商业比较落后
C、当时的统治者还没有征收商税的意识
D、从事生产和贸易的作坊全都属于官府

10、①如果贾珠还在世，他是当然的嫡长子。

②贾宝玉不得不承担起继承贾府家族事业的责任，这是他绝对不愿意承担的责任。

③在一个家庭里，只有嫡长子才是合法的继承人。

④中国古代的宗法制度是“嫡长子制度”。

⑤在小说里，贾宝玉的恐惧与厌倦有着文化的、社会的根源。

⑥但是贾珠早早去世了，腾出位置给贾宝玉。

将以上 6 个句子重新排列语序正确的是：

- A、④③①⑥⑤②
B、⑤④③①⑥②
C、②⑤④③①⑥
D、②④③①⑥⑤

(材料)

2014 年 3 月，几内亚暴发了扎伊尔埃博拉病毒疫情，这种类型的埃博拉病毒具有高达 60—90% 的致死率，因此成了全世界关注的焦点。

埃博拉是一种神秘的病毒，这种病毒的长相令人生畏。典型的病毒呈现圆球形，而埃博拉病毒在电子显微镜下呈现出纤丝状，这些纤丝会出现弯曲或者缠绕的状态，仿佛蠕虫一般。

埃博拉病毒首次暴发是在 1976 年的非洲。当时扎伊尔（现刚果民主共和国）和苏丹几乎同时暴发了一种神秘的传染病。发病之后，病情会在几天内迅速恶化，稍晚期一些的病人开始浑身出血，鼻子、牙床、眼结膜处会往外渗血，有些人表面看起来没有明显的出血，但内脏已经开始“溶解”，严重的出血会引起低血压和休克，等待他们的将是死亡。

导致这种疾病的病原体很快就被确定了，这是一种新型病毒，研究者们用当地一条小河的名字将这种病毒命名为埃博拉。自从第一次暴发以来，科学家一共发现了五种不同亚型的埃博拉病毒，并以首发地点进行了命名。这五种埃博拉病毒对人类的致病能力不甚相同，其中扎伊尔埃博拉病毒的致死率最高，可达 60%—90%，而苏丹埃博拉病毒的致死率为 50% 左右，这两种埃博拉病毒也是历年暴发最为频繁两种亚型。

非洲是世界上面积第二的大洲，人口超过 10 亿。非洲的热带雨林里孕育着大量的生命，人类的祖先也是起源于这里。人类的近亲黑猩猩，今天仍旧居住在非洲的热带雨林中。由于遗传背景过于接近，灵长类动物身上保存的危险病原体很多都能够直接感染人类，它们因此成为了人类病原体巨大的自然储存库。

埃博拉是一种神秘的病毒。科学家已在黑猩猩和猴子等灵长类动物以及蝙蝠体内发现了它们的踪迹，并大致上判断出蝙蝠是埃博拉病毒自然条件下的储存库。埃博拉病毒的传播方式也基本被厘清，它们一般是通过直接接触途径在动物间、动物—人类间或者人类间传播。埃博拉病毒的结构组成甚至基因组序列也已经在科学家的掌握之中。不过，这还是没有揭开这种病毒神秘的面纱。

非洲居民有捕猎黑猩猩、猴子和蝙蝠等野生动物当食物的习俗，科学家估计，如 HIV 等一些威胁人类的病原体就是通过这个途径从野生动物跳到人类身上的。但是，捕猎每天都有，埃博拉病毒疫情却没有连续发生。1980 年后，埃博拉病毒在非洲丛林沉寂了 15 年，一直没有向人类发起进攻。直到 1995 年扎伊尔型卷土而来，一下子在刚果民主共和国杀死了 254 个人。没有人知道为什么埃博拉病毒给了人类 15 年的“休战期”。

埃博拉病毒是通过直接接触传播的，这种传播途径很容易阻断。远离传染源、戴上手套和穿上防护服，就能大大减少被传染的可能。但非洲当地的殡葬习俗，无意中成了埃博拉的帮凶。当地人去世后，遗体必须经过亲人处理后才能下葬。而在处理病亡者尸体的过程中，所有操作者不佩戴任何防护装备，这就可能造成病亡者亲友的大面积感染和死亡。

打开资料

11、埃博拉病毒之所以“神秘”，主要因为：

- A、它的暴发尚无规律可循
B、它的形状异于其他病毒
C、它在动物与人类间传播
D、它有高得惊人的致死率

12、人类发现埃博拉病毒距今：

- A、近二十年
B、近三十年
C、近四十年
D、近五十年

13、埃博拉病毒命名源自：

- A、防控疫情的代号
B、扎伊尔名胜古迹
C、非洲的神话传说
D、发病地天然水道

14、埃博拉屡次在非洲暴发的主要原因是：

- A、非洲人口众多且面积广袤
B、非洲村民沿袭的生活习俗
C、非洲有大面积的热带雨林
D、非洲丰富的野生动物物种

15、文章带给读者的主要启示是：

- A、埃博拉自上世纪七十年代以来已数次在非洲暴发
B、埃博拉主要是由非洲灵长类野生动物传给人类的
C、埃博拉的致病机理已经被医务工作者所破解
D、埃博拉病势凶险，但仍是可预防、可控制的疾病

16、加大简政放权、放管结合改革力度。今年再取消和_____一批行政审批事项，全部取消非行政许可审批，建立_____行政审批的管理制度。

依次填入划横线处最恰当的一项是：

- A、下发 规制
B、下放 规范
C、下行 规定
D、下调 规避

17、党员干部要始终严于律己，做到慎独、慎微、慎交友，才能经受住各种_____与考验；清廉、清明、清正，既是对领导干部自律的要求，也是他律的_____方向。

依次填入划横线处最恰当的一项是：

- A、诱惑 着力
B、挫折 着手
C、奉承 着眼
D、攻讦 着意

18、农业转型过程中，市场发挥决定性作用，切忌_____、揠苗助长，以行政力量_____甚至强推农业规模化。

依次填入划横线处最恰当的一项是：

- A、李代桃僵 指导
B、大包大揽 引导
C、越俎代庖 主导
D、鞭打快牛 倡导

19、书店应当想方设法降低书价或改善服务，让读者_____地掏钱，而不是_____，指责消费者说，我们费了这么大心思，你怎么还是跑去网上买书，太不道德了！

依次填入划横线处最恰当的一项是：

- A、真心诚意 悲天悯人
B、心悦诚服 自怨自艾
C、心甘情愿 怨天尤人
D、慷慨解囊 自说自话

20、外交问题的最终决策不能过于追随网络民意。_____关注网上反映出来的“民意”，_____重视互联网反映不出来的“沉默的大多数”的“民意”，_____兼顾国内、国际局势，以外交大局为重。

依次填入划横线处最恰当的一项是：

- A、既要 也要 更要
B、只要 就要 还要
C、既要 还要 又要
D、只要 只要 就要

21、文风源于内心，你表面上可以做到不动声色，但作为情感的_____，文字通常会将你内心的感受直接表现出来，一个人的文风并不是_____，它会随着人的年龄，心态，思想内涵及_____的变化而改变。

依次填入划横线处最恰当的一项是：

- A、宣泄 一成不变 阅历
B、抒发 一以贯之 经历
C、爆发 一蹴而就 资历
D、表露 持之以恒 历练

22、作品通过引入时间_____，采用纵贯或历时分析法，对乡镇演变的各个子系统进行了全面的_____，为读者_____了一幅关于乡镇结构性变迁的立体画卷，具有厚重的历史质感和丰富的空间内涵。

依次填入横线处最恰当的一项是：

- A、尺度 解析 绘制
B、角度 分析 提供
C、维度 剖析 展现
D、梯度 论析 描摹

23、法治意味着对合法权利的保护，对公平正义的_____，对可预期未来的_____。它不是一个宏大抽象的

概念，而确实确实关乎每个人的_____。

依次填入划横线处最恰当的一项是：

- A、坚持 保卫 福音 B、坚信 守望 福利
C、坚守 庇佑 福祉 D、坚称 维护 福分

24、辞书是工具书，帮助人们对字词加以正确_____与运用，人们认为它有_____的作用。

依次填入划横线处最恰当的一项是：

- A、理解 无师自通 B、解释 有教无类
C、解析 润物无声 D、识别 不可或缺

25、在微信朋友圈这个编织细密的关系网里，你是一个可以被_____却又无法逃脱的小红点，它以不断闪烁的方式，显示自己的存在。你是主动的，也是被动的，一旦创建微信号，就进入了这个令人_____的圈子。

依次填入横线处最恰当的一项是：

- A、鄙视 亢奋 B、忽视 纠结
C、轻视 沮丧 D、藐视 兴奋

第二部分 数量关系

26、1, 7, 17, 31, 49, ()

- A、65 B、67 C、69 D、71

27、 $\frac{1}{4}$, $\frac{1}{2}$, $\frac{3}{2}$, 6, 30, ()

- A、90 B、180 C、150 D、210

28、21, 30, 40, 53, 71, ()

- A、112 B、113 C、95 D、96

29、 $\sqrt{3}$, $\sqrt{5}$, 3, 4, $2\sqrt{7}$, ()

- A、 $\sqrt{24}$ B、5 C、7 D、 $3\sqrt{2}$

30、2.3, 4.8, 8.24, 16.51, 32.89, ()

- A、64.138 B、64.136 C、128.138 D、128.136

31、某商品今年的成本比去年减少15%，由于售价不变，利润率比去年增加了24个百分点，则该商品去年的利润率为：

- A、24% B、30% C、36% D、42%

32、一列火车途经两个隧道和一座桥梁，第一个隧道长600米，火车通过用时18秒；第二个隧道长480米，火车通过用时15秒；桥梁长800米，火车通过时速度为原来的一半，则火车通过桥梁所需的时间为：

- A、20秒 B、25秒 C、40秒 D、46秒

33、某单位扩建周长为44米的长方形草坪，计划扩建后的草坪仍为长方形，其长和宽分别比原来增加5米和3米，面积比原来增加95平方米，则扩建前草坪的面积为：

- A、85平方米 B、105平方米 C、117平方米 D、121平方米

34、瓶子原有浓度为15%的酒精溶液1000克，分别加入A、B两种酒精溶液100克和400克后（假设溶液不会溢出），测得瓶子里的酒精浓度为14%，若A种酒精溶液的浓度是B的2倍，则A种酒精溶液的浓度为：

- A、20% B、24% C、30% D、36%

35、甲、乙、丙三位同学参加某单位的招聘面试，面试合格者可正式签约，甲只要面试合格就签约。乙、丙二人约定：只有两人面试都合格才一同签约，否则都不签约。若他们三人面试合格的概率都是 $\frac{1}{2}$ ，且面试是否合格互不影响，则他们三人没有签约的概率为：

- A、 $\frac{1}{4}$ B、 $\frac{3}{8}$ C、 $\frac{1}{2}$ D、 $\frac{5}{8}$

36、设a, b均为正整数，且有等式 $11a+7b=132$ 成立，则a的值为

- A、6 B、4 C、3 D、5

37、某单位欲将甲、乙、丙、丁4名大学生分配到3个不同的岗位实习，若每个岗位至少分到1名大学生，且甲、乙两人被分在不同岗位，则不同的分配方法共有：

- A、30种 B、36种 C、60种 D、72种

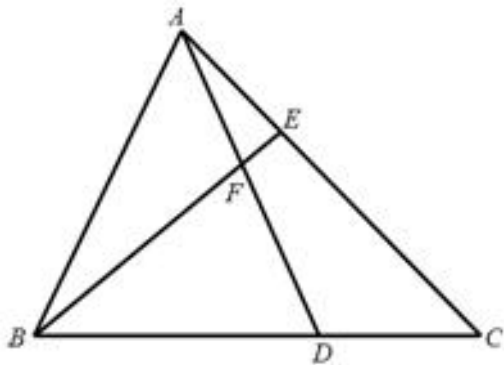
38、甲、乙两个工程队需要在规定的工期内完成某项工程。若甲、乙两队合作，则恰好能按期完成；若甲的效率提高 $\frac{1}{3}$ ，乙的效率提高 $\frac{1}{2}$ ，则用原定工期的 $\frac{5}{7}$ 即可完成；若乙的效率降低 $\frac{1}{4}$ ，则需要推迟2天才能完成。那么，该工程原定的工期为多少天？

A、10天 B、12天 C、16天 D、18天

39、某年的3月有5个星期一和4个星期二，则该年的国庆节是：

A、星期二 B、星期三 C、星期四 D、星期五

40、如图，在△ABC中，已知BD=2DC，EC=2AE，则△BFD与△AEF面积的比值为：



A、4 B、6 C、8 D、9

第三部分 判断推理

41、专家：官员

A、菜农：农民 B、朝阳：落日 C、少年：歌手 D、青山：绿水

42、熊：熊胆

A、鱼：鱼鳔 B、蜂：蜜蜂 C、虫：虫鸣 D、虾：虾须

43、屏幕：手机：精巧

A、枣核：红枣：酸甜 B、荷花：荷塘：垂钓 C、刊号：刊物：刊登 D、扉页：书本：阅览

44、教师：教师法：尊重教师

A、企业：劳动法：招聘童工 B、会计：会计法：虚报账目

C、司机：交通法：肇事逃逸 D、夫妻：婚姻法：婚姻自主

45、天平之于（ ）相当于（ ）之于爱情

A、杆秤；感情 B、男女；法律 C、公正；玫瑰 D、平等；幸福

46、三月之于（ ）相当于月亮之于（ ）

A、月初；希望 B、四月；月色 C、月份；卫星 D、春季；月球

47、扎小羊灯之于（ ）相当于剪福字窗花之于（ ）

A、灯笼；桃花 B、喜乐；过年 C、小羊；窗户 D、细绳；剪刀

48、ddad7757KKLK

A、ssds2332LLJL B、pppe9919QQEQ C、zzvz9929GGHG D、kksk2282PPPG

49、▼★☆△▼★△☆


A、★☆▼△☆★▼△ B、★▼☆△★▼☆△ C、△▼★☆▼★☆△ D、★△▼☆★△☆▼

50、+ ⊥ ⊥ ⊥ ⊥ ⊥ ⊥

A、⊥ ⊥ ⊥ ⊥ ⊥ ⊥ ⊥ ⊥ B、⊥ ⊥ ⊥ ⊥ ⊥ ⊥ ⊥ ⊥

C、⊥ ⊥ ⊥ ⊥ ⊥ ⊥ ⊥ ⊥ D、+ ⊥ ⊥ ⊥ ⊥ ⊥ ⊥

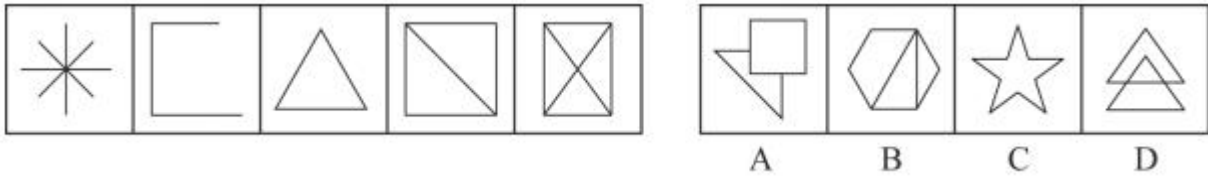
51、在上边的题干中给出一套图形，其中有五个图，这五个图呈现一定的规律性。在下边给出一套图形，其中有四个图，从中选出唯一的一项作为保持上边五个图规律性的第六个图。



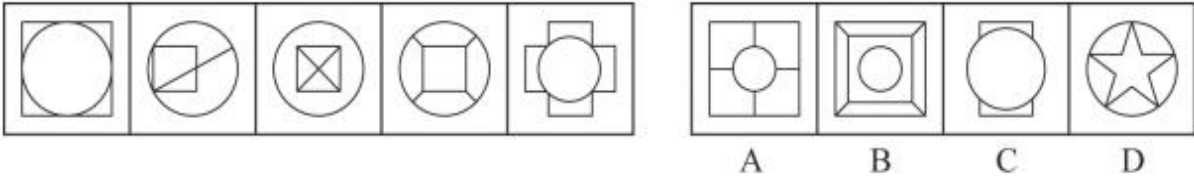
A B C D

52、在左边的题干中给出一套图形，其中有五个图，这五个图呈现一定的规律性。在右边给出一套图形，其中有

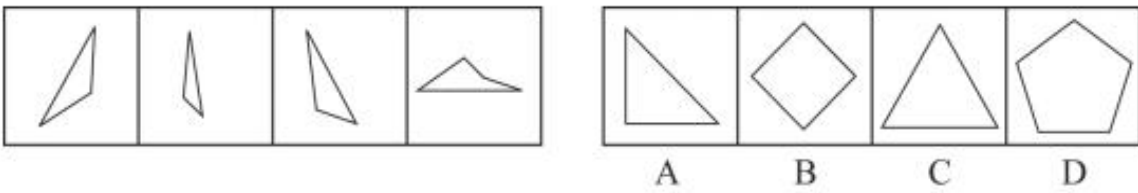
四个图，从中选出唯一的一项作为保持上边五个图规律性的第六个图。



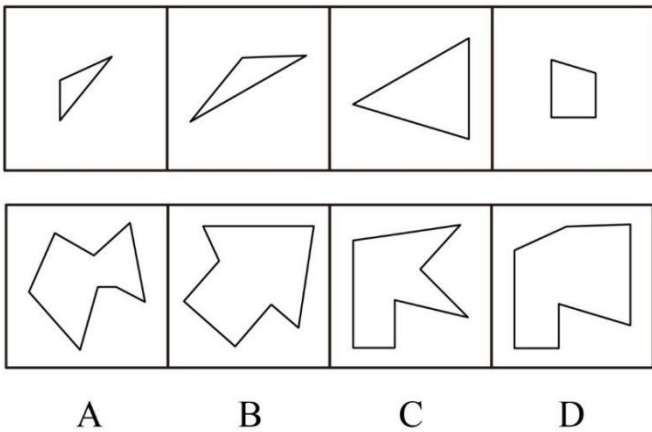
53、在上边的题干中给出一套图形，其中有五个图，这五个图呈现一定的规律性。在下边给出一套图形，其中有四个图，从中选出唯一的一项作为保持上边五个图规律性的第六个图。



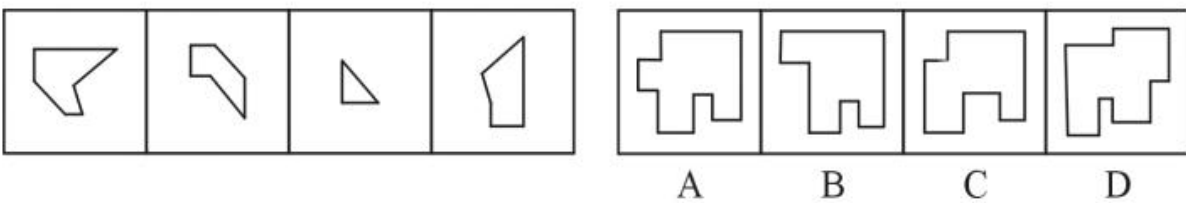
54、下边四个图形中，只有一个是上边的四个图形拼合（只能通过上、下、左、右平移）而成的，请把它找出来。



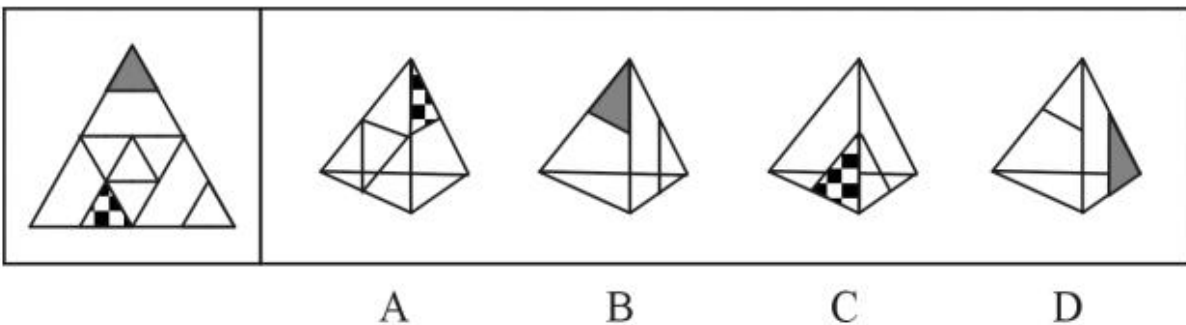
55、下边四个图形中，只有一个是上边的四个图形拼合（只能通过上、下、左、右平移）而成的，请把它找出来。



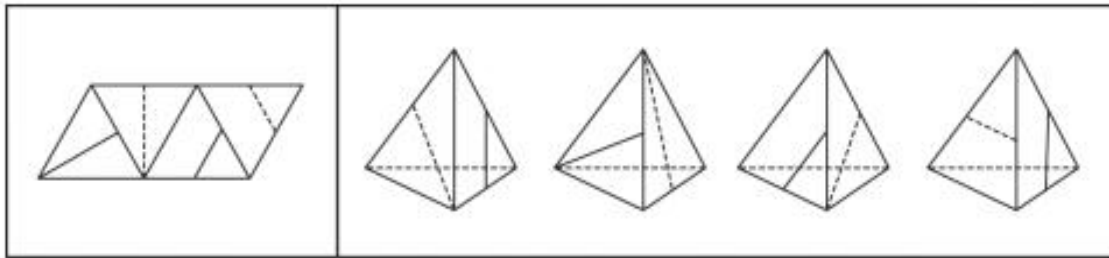
56、下边四个图形中，只有一个是上边的四个图形拼合（只能通过上、下、左、右平移）而成的，请把它找出来。



57、左边给定的是纸盒外表面的展开图，右边哪一项能由它折叠而成？请把它找出来。

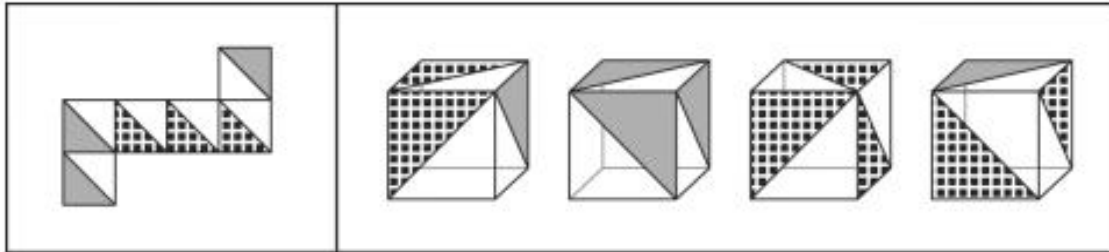


58、左边给定的是纸盒外表面的展开图，右边哪一项能由它折叠而成？请把它找出来。



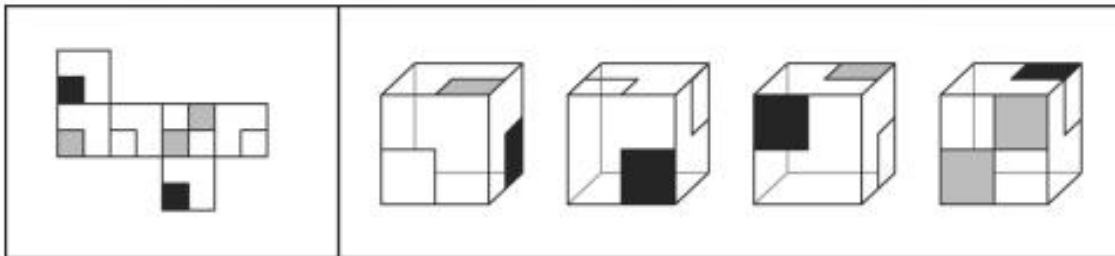
A B C D

59、左边给定的是纸盒外表面的展开图，右边哪一项能由它折叠而成？请把它找出来。



A B C D

60、左边给定的是纸盒外表面的展开图，右边哪一项能由它折叠而成？请把它找出来。



A B C D

61、只有实行依法治国，才能从根本上杜绝腐败；如果不能从根本上杜绝腐败，我们终将失去人民的信任和支持。只有赢得人民的信任和支持，我们的事业才能拥有牢固的政治基础。

根据以上陈述，可以推出的是：

- A、如果实行依法治国，我们就能赢得人民的信任和支持
- B、如果从根本上杜绝腐败，我们的事业就能拥有牢固的政治基础
- C、如果不实行依法治国，我们终将失去人民的信任和支持
- D、如果不能从根本上杜绝腐败，就不能实行依法治国

62、中国人大多是在批评与训斥中长大的，父母、老师、长辈、领导……看你哪一点不顺眼，都能给出指教。话多半不好听，可听者听了多半心悦诚服，心生感激，因为大家想的是良药苦口、忠言逆耳的道理。但是，逆耳的未必都是忠言。有种电话诈骗就是以很凶的方式出现的。电话里的他们就是要批评你、威胁你、吓唬你，一旦你心里打怵了，你就听他们的了；而你听了让他们的，你也就上当了。

根据以上陈述，可以推出的是：

- A、有的逆耳之言可能不是忠言
- B、有的忠言并不逆耳
- C、有的电话诈骗的声音并不是很凶
- D、如果你听到逆耳的电话心里不打怵，你就不会上当

63、甲、乙、丙、丁、戊 5 支球队进行小组单循环赛，每两个队之间互赛一场。循环赛结束后，各队胜负情况如下表所示：

球队	胜	负
甲	2	2
乙	0	4
丙	1	3
丁	4	0
戊		

根据以上信息，可以推出的是：

- A、甲队战胜了丙队和戊队
B、甲队负于丙队和戊队
C、甲队战胜了戊队，但负于丙队
D、甲队战胜了丙队，但负于戊队

64、顾客：老板，你这盘鱼香肉丝里怎么没有鱼啊？

老板：这有什么奇怪的！难道老婆饼里有老婆吗？

以下哪项的对话方式与上述最为相似或相同？

- A、老师：小明，你为什么没有做我昨天布置的家庭作业啊？小明：对不起，老师！难道我没有回家也要做家庭作业吗？
B、妻：亲，你的钱包里怎么没有钱啊？夫：这没什么不正常！难道茶叶罐里总是有茶叶吗？
C、孩子：妈妈，棉花糖里怎么没有棉花啊？妈妈：这很正常！难道你用的英雄墨水里藏了一个英雄吗？
D、顾客：小妹，你卖的珍珠奶茶里怎么没有珍珠？售货员：这有什么稀奇！夫妻肺片里也没有夫妻啊！

65、近年来，在全国除港澳台以外的31个省区市书法家协会中，许多名誉主席、主席、副主席已为官员或退休官员担任。几乎在每个省市书法家协会领导名单中，都能看到同等级政府官员的名字。有专家指出，党政官员热衷于担任各级艺术类人民团体领导，官员与艺术家在省份和职务上相互交叠，会让艺术成为腐败的掮客，使各种肮脏的行贿受贿行为在艺术的光环笼罩下行其无事。

以下哪项不能支持上述专家的论断？

- A、某下属向其领导请求墨宝，再付之以一笔可观的“润笔费”
B、某些官员高价出售自己的作品，并坦然视之为“公平交易”
C、某些官员书法功底颇为深厚，对别人请求题字一般并不推托
D、在多项艺术活动中，具有行政职能的官员总能获得特别的优待

66、某单位寻求对外合作，准备在甲、乙、丙、丁四家单位中确定一个或几个合作对象。单位管理层经过认真调研和讨论，最终形成了以下三种意见：

- (1) 对于甲和乙两单位，至多选一个；
(2) 对于甲和丁两单位，至少选一个；
(3) 如果选择丙或丁单位，就不能选择乙单位。

在最终决定时，单位领导只采纳了上述一种意见。

根据以上陈述，以下哪项最符合单位领导的最终决定？

- A、选择乙、丙、丁
B、选择乙，但不选择丙和丁
C、选择甲、乙、丁
D、选择丙，但不选择乙和丁

67、在许多人看来，从一而终的就是好婚姻。其实，这种看法并不正确。婚姻不仅意味着身体的忠诚，而且还包含了情感的相互扶持。所以不能说只要没有第三者，婚姻就没有问题。当下中国有许多婚姻是这样一种模式：夫妻并没有出轨，但双方都无法从婚姻中获得抚慰、滋养和治愈。实际上，没有单方面“犯错”的人，每个人都需要为自己的婚姻付出更多的努力。

根据以上论述，可以推出的是：

- A、从一而终的并不就是好婚姻
B、没有第三者的婚姻也会有问题
C、只有出现了第三者，婚姻才会有问题
D、当下中国大多数婚姻已经出了问题

68、在以下5X5矩形阵中，每个小方格可填入一个汉字，要求每行，每列及每个由粗线条围成的小区域内均含有松、菊、梅、兰、竹5个汉字，不能重复也不能遗漏。

根据已经给定的条件，可以推出矩阵中①②③④⑤方格中依次填入的汉字是

	兰		①	
菊		竹	②	
			③	
	梅		④	
			⑤	松

- A、松兰梅竹菊
B、菊梅松竹兰
C、松兰菊竹梅
D、梅菊竹兰松

(材料)

王刚、赵虎与李亮是某机关新进的员工。他们三人中，有两人单身，两人爱好打乒乓球，两人是北方人，两人是公共管理专业硕士。如果王刚与李亮是公共管理专业硕士，则他们都是北方人；如果赵虎与李亮爱好打乒乓球，则他们也都是北方人；如果王刚是北方人，则他单身。已知他们每人最多只有3个上述特征。

69、根据以上陈述，可以得出以下哪项？

- A、王刚单身 B、赵虎是公共管理专业硕士 C、李亮是北方人 D、王刚爱好打乒乓球

70、如果王刚是北方人，则可以得出以下哪项？

- A、王刚不是公共管理专业硕士 B、赵虎不爱好打乒乓球
C、李亮不是单身 D、赵虎不是北方人

71、认知地图效应：指通过对特定事物多次探索之后，头脑中形成一张包含各种相关信息的地图，根据这张地图采取行动，往往能够取得事半功倍的效果。

下列不属于认知地图效应的是：

- A、庖丁解牛 B、胸有成竹 C、老马识途 D、管中窥豹

72、社会约定：指某个形式与其所代表的意义之间的关系是由社会成员共同认定并遵守的，两者之间没有必然的联系。

下列属于社会约定的是：

- A、早霞不出门，晚霞行千里 B、高速路上散落的汽车碎片意味着发生过车祸
C、红色和绿色在国内股市中分别代表股指上涨和下跌 D、人的脸色蜡黄表明可能身体患有某种疾病

73、体验广告：指让消费者亲身参与产品试用、感受产品质量，在不知不觉中接受、信任产品的广告方式。

下列不属于体验式广告的是：

- A、某地铁入口处，路人会免费拿到纸巾，纸巾包装袋上印有某新开发楼盘的广告信息
B、某大型超市内，推销员正在将某果汁企业新开发的一款橙汁饮料分给顾客免费品尝
C、只要添加某化妆品公司微信号并发送“我要试用”，即可免费获得其新款面膜试用装
D、某知名家具连锁企业在市区繁华地段新开了家体验馆的消息传开后，一时人满为患

74、趋同进化，指不同生物物种在进化过程中，由于适应相似环境而呈现出外形上的相似性。

下列属于趋同进化的是：

- A、海豚和鲨鱼，一个是哺乳动物，一个是鱼类，只是为了更好地在海洋中生存，它们就变得越来越相似了
B、随着共同生活时间的增加，夫妻二人的价值观念、生活习惯，甚至连五官都变得越来越相近了
C、无脊椎动物中，肠腔动物门的珊瑚、甲壳动物门的藤壶、棘皮动物门的海百合，都有相似的辐射对称躯体构型
D、蚂蚁从金合欢的刺中取食蛋白质、脂肪和蜜，也在金合欢枝叶间巡逻，咬断缠绕金合欢的其他植物，进攻来此觅食的食草动物

75、精神赡养：是指在家庭生活中，子女理解、尊重、关心、体贴父母，尽力满足其精神生活方面的需要。

下列不属于精神赡养的是：

- A、老孙最近专门买了1台液晶电视安装在父母房间，让二老看自己喜欢的节目，还为他们买了许多京剧光盘
B、尽管老五没和父母住在一起，但他多年来已经养成了每天去看望的习惯，无微不至地照顾好他们的生活，老人感到很欣慰
C、春节临近，“夕阳红”敬老院的李院长请来朝阳小学的“小红花”乐团，孩子们的欢声笑语和精彩节目，为老人们带来了无尽的快乐
D、老姜的母亲已70多岁，但仍不服老，报名参加了交谊舞培训班，为避免老人生气并确保安全，每次母亲去上课时，老姜都悄悄跟在后面

76、幻想性错觉，是指人们即便对于一个客观中立，并无任何暗示性的事物，也往往试图从中寻找出某种特殊意义的心理现象。

下列不属于幻想性错觉的是：

- A、夜晚，有时候人们会把高空的灯看成星星 B、人们常常会在云朵中发现一个个动物形象
C、古人认为月亮上有桂树，兔子，嫦娥，吴刚 D、天柱山周围的三座山峰绵延相连，很像卧佛

77、星期一综合症：是指由于在双休日过分消耗精力处理工作之外的事情，导致周一上班时出现头晕、胸闷、腹

胀、食欲不振、周身酸痛、注意力不集中等症状。

下列属于星期一综合症的是：

- A、五一小长假，小李和同事们计划已久的黄山之旅终于成行了。3天下来，爬山、聚餐、照相、乘车，一点也不比上班轻松。这不，长假结束刚一上班，个个都像霜打的茄子——蔫了吧唧的
- B、终于又到周末了，小王将下载好的一部40集连续剧不分白天黑夜地看完了，两天里除了上厕所，就没下过床，饭都是舍友帮忙从食堂带的。周一起床整个人都昏昏沉沉的，干脆向辅导员请假不去上课了
- C、周六上午陪小孩参加绘画兴趣班，下午学钢琴，晚上带着去品尝风味小吃；周日上午带着小孩去游乐场，下午去奶奶家。整个周末，王女士的时间表都被小孩填满了，周一上班脑袋里还是这些，根本没法工作
- D、已经连续工作了5天，也计划好周末陪女友上街购物，但公司临时通知周末加班，小许只好向女友“请假”，回到办公室和同事们通宵达旦地又干了两天的。星期一上班，个个都成了“熊猫眼”

78、标杆效应，指在某一区域内，由于消费者对某种品牌认知度较高，导致其价格往往比同一区域其他同类商品高出一大截，并影响到整个区域同类商品的价格走势。

下列属于标杆效应的是：

- A、在某市，某大品牌电器企业每到节假日就大搞特价促销活动，其他商家纷纷效仿，也出奇招来招揽顾客
- B、某知名品牌推出的新款智能手表受到热捧，虽然价格偏高，却一再脱销，其他品牌的智能手表也纷纷调低价格，抢占市场份额
- C、市一中即将搬往高新区的消息一传开，高新区的房价就一路飙升，连紧邻的湾树区房价也跟着涨了三四成
- D、老徐的网店短短半年内就盈利数万，朋友们纷纷前来取经，采用同样的经营方式，创办了自己的网店，一个个赚得盆满钵满

79、协同治理，指政府部门为了达成公共利益的目标，通过与非政府的、非营利的社会组织和普通公众合作开展社会管理活动的工作模式。

下列属于协同管理的是：

- A、某市辖区内有多个街道办，每个街道办管辖一片区域，有的街道办服务中心专门成立了为老年人和残疾人提供公益服务的绿色通道
- B、某高校学生会多次组织大学生深入周边社区，开展心理咨询、消防安全讲座、帮助孤寡老人等公益活动，受到了当地政府部门的表彰
- C、为创建卫生城市，某市卫生局、环保局、城管局通力合作，卫生防疫人员、环境监测人员、环卫工人和城管人员各司其职，积极工作
- D、某市为确保城市公交畅通安全，每个公交站台都配有治安巡查员，这些人员中既有各职能部门人员，也有志愿者协会成员，还有退休者

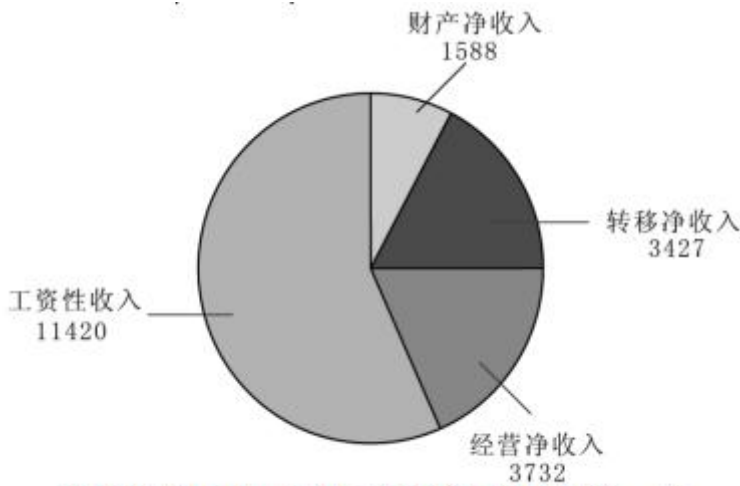
80、O2O的营销方式，即Online To Offline，指以互联网为前台，用线上营销带动线下消费的商业营销模式。通常包括商家网上提供商品信息、折扣信息、服务预订、消费者在线预付、线下消费等环节完成商品交易。

下列不属于O2O营销方式的是：

- A、某公司推出线上、线下同价促销活动，旗下的网上商城和实体店所有商品价格相同，一时间网上商城订单量剧增，到实体店提货的人也摩肩接踵
- B、小兰在时装杂志上看到了一款心仪的长裙，通过某比价网站发现单位附近一家商场，同款长裙正在打折促销，于是趁中午休息时间买了回来
- C、女朋友生日临近，小袁从网上团购了某酒店的自助餐消费券，邀请多名好友为女朋友开了一个难忘的生日派对
- D、某家电厂商利用微信平台向订阅用户定期推送新品上市、促销信息，用户用手机扫描推送消息中商品下方的二维码即可完成支付，等待附近门店完成配送

第四部分 资料分析

2014年全国居民人均可支配收入20167元，比上年增长10.1%，收入来源如下图所示。按常住地分，城镇居民人均可支配收入28844元，比上年增长9.0%，城镇居民按户人均可支配收入的中位数为26635元，增长10.3%。农村居民人均可支配收入10489元，比上年增长11.2%，农村居民人均可支配收入的中位数为9497元，增长12.7%，全国居民人均消费14491元，比上年增长9.6%。按常住地分，城镇居民人均消费支出19968元，增长8.0%；农村居民人均消费支出8383元，增长12.0%。



2014年全国居民人均可支配收入来源(单位:元)

- 81、2014年城镇居民人均消费支出增长比农村居民人均消费支出增长：
 A、低2.2个百分点 B、高4.0个百分点 C、高2.2个百分点 D、低4.0个百分点
- 82、2014年全国居民人均可支配收入中，经营净营业收入占比为：
 A、27.0% B、18.5% C、56.6% D、7.9%
- 83、2013年城镇居民人均可支配收入比农村人均可支配收入多：
 A、17030元 B、18355元 C、16138元 D、22090元
- 84、2013年全国居民人均可支配收入与人均消费支出分别为：
 A、22177元、17222元 B、18317元、13222元 C、16367元、11491元 D、20167元、14491元
- 85、2014年全国城镇居民人数占全国居民人数的比重是：
 A、36.4% B、42.1% C、52.7% D、69.9%

(材料)

2014年1~9月我国入境外国游客1182.9万人，其中男性785.9万人，女性397.0万人。日本、韩国男性分别为160.5万人，191.3万人，女性分别为38.7万人，116.4万人。来自美洲227.8万人，其中男性142.3万人，女性85.5万人。美国、加拿大男性分别为98.3万人，27.6万人，女性分别为55.7万人，20.9万人。来自欧洲408.7万人，其中男性247.2万人，女性161.5万人。英国、德国、法国、俄罗斯男性分别30.8万人，35.3万人，24.8万人，13.9万人，女性分别为13.4万人，12.7万人，13.0万人，4.4万人。来自大洋洲58.3万人，其中男性35.6万人，女性22.7万人，澳大利亚男性为29.5万人，女性为18.8万人，分年龄段的来自部分国家的入境人数见下表：

2014年1—9月来自部分国家不同年龄段入境游人数(单位:万人)

年龄段	15岁以下	15—25岁	25—45岁	45—65岁	65岁以上
日本	7.8	6.8	80.4	89.5	14.7
韩国	12.3	21.7	120.2	127.6	25.9
美国	11.3	11.4	46.5	69.1	15.7
加拿大	4.7	3.8	15.9	20.4	3.7
英国	2.1	3.3	17.1	18.5	3.2
德国	2.0	3.2	19.8	20.6	2.4
法国	2.3	3.4	17.3	12.5	2.3
俄罗斯	0.5	1.1	8.8	6.9	1.0
澳大利亚	4.0	3.2	16.8	20.0	4.3

- 86、2014年1~9月来自加拿大、英国、法国、俄罗斯入境游人数由多到少排序正确的是：
 A、加拿大、英国、法国、俄罗斯 B、英国、加拿大、法国、俄罗斯
 C、加拿大、英国、俄罗斯、法国 D、英国、加拿大、俄罗斯、法国
- 87、2014年1~9月来自韩国的入境游人数比日本多：
 A、134.8% B、34.8% C、54.5% D、154.5%
- 88、2014年1~9月来自下列国家的入境游女性人数占该国入境游人数比重最小的国家是：
 A、日本 B、法国 C、英国 D、加拿大

89、2014年1~9月来自德国的入境游客中，25~45岁的游客人数是15岁以下游客人数的：

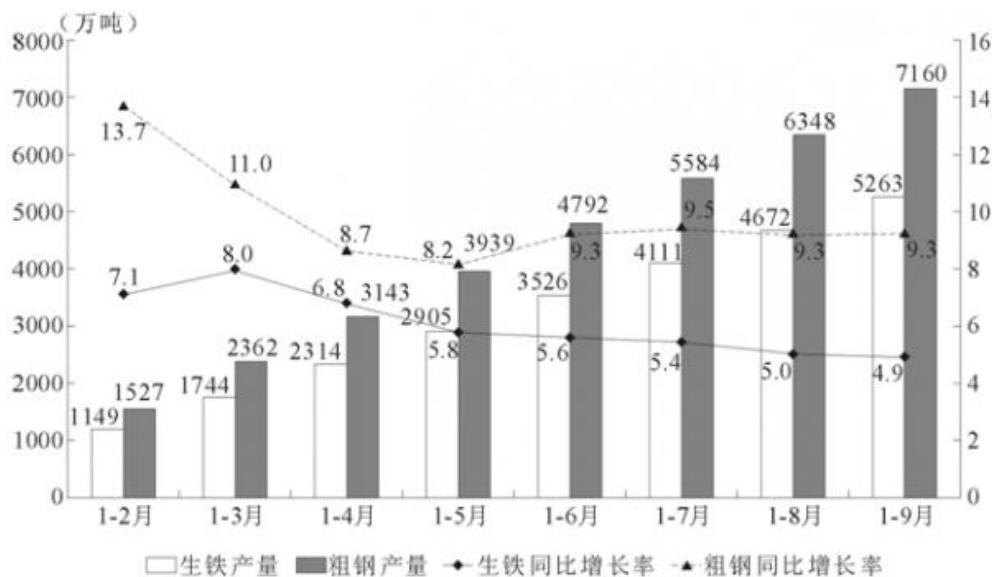
- A、10.3倍 B、9.3倍 C、9.9倍 D、8.9倍

90、下列判断正确的是：

- A、2014年1-9月来自美国的入境游人数为119.2万人
 B、2014年1-9月来自澳大利亚的入境游人数占来自大洋洲入境游人数的82.8%
 C、2014年1-9月来自俄罗斯的入境游客中，45-65岁的游客人数多于其他年龄段
 D、2014年1-9月来自日本入境游人数大于来自韩国入境游人数

(材料)

2014年前9个月江苏钢材产量稳步增长，其中1~2月产量为1932万吨，累计同比增长10.0%，3月产量为1127万吨，1~3月累计同比增长8.5%，4月产量为1013万吨，1~4月累计同比增长7.3%，5月产量为1156万吨、1~5月累计同比增长6.1%，6月产量为1236万吨，1~6月累计同比增长6.3%，7月产量为1094万吨，1~7月累计同比增长4.9%，8月产量为1050万吨、1~8月累计同比增长3.8%，9月产量为1149万吨，1~9月累计同比增长3.7%。1~9月江苏生铁、粗钢及其同比增长情况如下图：



2014年1-9月江苏生铁、粗钢产量及同比增长率

91、2014年9月江苏的粗钢产量比上月增加了（ ）。

- A、56万吨 B、48万吨 C、43万吨 D、40万吨

92、2014年第二、三季度生铁月产量超过600万吨的月份个数有：

- A、1个 B、2个 C、3个 D、4个

93、2014年9月江苏钢材产量是生铁产量的：

- A、1.5倍 B、1.9倍 C、2.2倍 D、2.4倍

94、2014年6-9月江苏粗钢产量同比增长率最低的月份是：

- A、6月 B、7月 C、8月 D、9月

95、下列说法不正确的是：

- A、2014年第三季度江苏的生铁产量为1737万吨
 B、2014年1-9月江苏钢材产量同比增速呈下降趋势
 C、2014年2-9月江苏粗钢产量的年内累计同比增速一直高于钢材和生铁
 D、2014年前三季度江苏钢材的月产量都高于1000万吨

(材料)

某市统计局在针对噪音扰民的一次调查中，当问及受访市民对哪一类噪音反感时，选择社区广场舞活动噪音的占8.6%，比选择居民社区宠物狗叫声的低2.9个百分点，当问及是否支持广场舞活动时，12.8%的市民表示无所谓或者不知道，12.0%的受访者回答表示反对，其他为支持者，在支持的市民中，当被问及支持的主要原因（多选）时，不同年龄段受访者的回答如下图所示；在反对的市民中，被问及支持的主要原因（多选）时，不同区域受访者回答如下：

支持广场舞等活动的受访市民选择各主要原因的比例

