

2018年广州公务员考试行测真题（二）

来源：H 整理：杨柳（微信：gwy288）

第一部分 常识判断

- 1、中国共产党第十九次全国代表大会于2017年10月在北京胜利召开，下列哪个论断，不是十九大首次提出的：
A、习近平新时代中国特色社会主义思想
B、树立文化自信
C、中国特色社会主义进入新时代
D、建成富强民主文明和谐美丽的社会主义现代化强国
- 2、习近平善于用典，常常古为今用、推陈出新，不断激活优秀传统文化，赋予鲜活的当代价值与意义。以下习近平引用的古典名句适用的内容，对应错误的是：
A、宰相必起于州部，猛将必发于卒伍——谈干部的培养选拔
B、取法于上，仅得为中；取法于中，故为其下——谈工作的道德标准
C、万物并育而不相害，道并行而不相悖——谈家国情怀
D、穷则变，变则通，通则久——谈改革创新的重要性
- 3、根据《中华人民共和国妇女权益保障法》，实行男女平等是国家的基本国策，国家采取必要措施，逐步完善保障妇女权益，消除妇女歧视，下列说法错误的是：
A、禁止歧视虐待遗弃残害妇女
B、妇女在政治的、经济的、文化的、社会的和家庭的生活等各方面享有同男子平等的权利
C、国家采取有效措施，适当减轻妇女履行法律规定义务的责任
D、国家保护妇女依法享有的特殊权益
- 4、以下情形，向人民法院提起行政诉讼，法院不予受理的是：
A、对行政拘留、暂扣或吊销许可证和执照、责令停产、没收违法所得、没收非法财物、罚款、警告等行政处罚不服的
B、对限制人身自由或对财产的查封、扣押、冻结等行政强制不服的
C、认为行政机关侵犯其经营自主权或者农村土地承包经营权、农村土地经营权的
D、行政机关对其工作人员的奖惩，任免等决定，工作人员认为不合理，要求撤销的
- 5、根据2018年政府预算报告和预算草案，2017年全国一般公共预算收入扭转了2012年以来增速放缓的态势。2018年，我国一般公共预算收入将超过18万亿元，支出接近21万亿元，赤字规模与去年持平，赤字率比2017年预算降低0.4个百分点。以下对这组数字的理解，有误的一项是：
A、全国一般公共预算收入扭转增速放缓态势，印证了我国经济发展不仅总量扩大，而且质量和效益提升
B、调低赤字率，主要是我国经济稳中向好、财政增收有基础，也为宏观调控留下更多政策空间
C、赤字总规模并未减小，彰显积极财政政策更加聚力增效的新特点，更侧重在减费降税扩大投资方面发力
D、当前财政状况出现好转，各级政府仍要坚持过紧日子，执守简朴、力戒浮华，严控一般性支出，把宝贵的资金更多用于为发展增添后劲、为民生雪中送炭
- 6、“逝者如斯夫，不舍昼夜”“时乎时乎不再来”是古代哲人在启示我们：时间宝贵，珍惜时间的每一分每一秒，这反映出时间（ ）特点。
A、连续性 B、间隔性 C、一维性 D、反复性
- 7、古人常把对联镌刻在门扉上“惟楚有才，于斯为盛”，这一副门联最有可能出现在（ ）门上。
A、岳麓书院 B、清华大学 C、扬州贡院 D、杜甫草堂
- 8、我国经济已由高速增长转向（ ），正处在转变发展方式、优化经济结构、转换增长动力的攻关期。
A、中速增长阶段 B、高速发展阶段 C、高质量增长阶段 D、高质量发展阶段
- 9、中国有位诗人，被辛弃疾用“千载后，百篇存，更无一字不清真”来形容。以下属于这位诗人的作品是：
A、衣带渐宽终不悔，为伊消得人憔悴
B、采菊东篱下，悠然见南山
C、少年不识愁滋味，爱上层楼。爱上层楼。为赋新词强说愁
D、风声雨声读书声，声声入耳；国事家事天下事，事事关心
- 10、某些基因突变有可能给生物体带来繁殖优势，保证基因携带者的后代能够更好地适应某种环境，因而这类突变得以广泛传播。某科学研究团队发现，某个哺乳动物族群与这类动物的其他族群相比，存在一个基因突变，该突变具有调节血液中血红蛋白增长的作用。血红蛋白过低会导致缺氧，过高又会导致血液粘稠度升高，进而引发血栓等血液循环问题。那么，这一哺乳动物的族群祖先很可能是生活在（ ）地区。
A、高海拔 B、海边 C、寒带 D、热带
- 11、在二十四节气起源的黄河流域，雷声一般开始出现在3月末甚至更晚，可见，雷声开始出现的时节是：
A、立春 B、雨水 C、惊蛰 D、春分
- 12、海参生活在海底，以吃海中小生物为生，一旦进入夏季，海参就需夏眠，可能是因为：
A、海水温度偏高，海参不耐热 B、海参为繁殖储备能量

- C、海参用夏眠应对饥饿 D、海参为了逃避天敌
- 13、我国古代在医药科技方面取得了累累硕果，出现了不少重要的医学或科学名著，下列各名著按成书年代排序，正确的是：
A、《黄帝内经》《齐民要术》《本草纲目》《梦溪笔谈》
B、《本草纲目》《梦溪笔谈》《黄帝内经》《齐民要术》
C、《梦溪笔谈》《本草纲目》《齐民要术》《黄帝内经》
D、《黄帝内经》《齐民要术》《梦溪笔谈》《本草纲目》
- 14、以植物和山石为基本材料表现自然景观的艺术品，是自然美与艺术美的有机结合，能在咫尺空间集中体现山川神貌和园林艺术之美，被称为“立体的画”“无声的诗”的是：
A、园林 B、盆景 C、石雕 D、刺绣
- 15、如地球和地面上所有东西在一瞬间停止自转，但大气保持原来的速度，错误的是：
A、赤道将刮起超音速狂风 B、月亮盈亏现象依然存在
C、大陆上的空气温度瞬间急剧升高 D、地球上将再看不到日出日落

第二部分 言语理解与表达

- 16、从十九大到二十大，是“两个一百年”奋斗目标的历史交汇期。我们既要全面建成小康社会、实现第一个百年奋斗目标，又要_____开启全面建设社会主义现代化国家新征程，向第二个百年奋斗目标进军。
A、迎难而上 B、乘势而上 C、一鼓作气 D、中流击水
- 17、对不同季节的雨，古人的态度_____，于是才有春雨如恩诏、夏雨如赦书、秋雨如挽歌的说法。填入下列横线处的词语，最恰当的是：
A、迥然不同 B、毫无二致 C、大相径庭 D、模棱两可
- 18、填入下列横线处的词语，最恰当的是：
如果把各项改革任务比作一个个盘子，那么领导干部就要学会“转盘子”，实现任务之间的_____协调，才能同时转动多个盘子，下好改革一盘棋。
A、沟通 B、统一 C、整合 D、耦合
- 19、依次填入下列横线处的词语，最恰当的是：
新媒体时代有新媒体时代的传播特点，从这些特点出发，对一些文章标题进行_____，以适应网络舆论场的传播，这样的做法不可_____。但有些“标题党”为吸引眼球，故意制作带有误导性、煽动性的标题，扭曲了原意，误导了读者，滋生了不必要的价值冲突。
A、精雕细琢 一语道破 B、全盘否定 一成不变
C、适度改造 一概否定 D、改头换面 一笑了之
- 20、依次填入下列横线处的词语，最恰当的是：
新，还往往伴随着快。新业态的成长有时快到_____、机会宝贵到稍纵即逝，好像逼着经营者不得不“多干快上”。但从另外一个角度看，新业态往往又更敏感、更脆弱、不确定性更大，更加容不得_____、“蒙眼狂奔”。
A、一日千里 急功近利 B、突飞猛进 好大喜功
C、日新月异 浮光掠影 D、应接不暇 好高骛远
- 21、依次填入下列横线处的词语，最恰当的是：
在需要逐级请示、层层审批的制度下，我们已然习惯了对权威的_____，对经验的_____，对实证研究的_____，如何能够培育出自有创新的文化？
A、顺从 相信 轻视 B、服从 相信 藐视
C、顺从 轻信 藐视 D、服从 轻信 轻视

- 22、依次填入下列横线处的词语，最恰当的是：
中国社会正进入环境敏感期，面对环保权益冲突，公民与政府之间实现良性互动，需要公民依法理性表达诉求，更需要政府建立透明的决策机制、畅通的沟通渠道。_____的辟谣，不如_____的公开；_____的处置，不如_____的倾听。
A、事前 事后 临时 常态 B、事后 事前 临时 常态
C、事前 事后 常态 临时 D、事后 事前 常态 临时

- 23、依次填入下列横线处的词语，最恰当的是：
党内生活的新常态也好，组织纪律的新要求也好，_____最终在每个党员干部心理认同的轨迹上运行，_____行之久远，_____反腐败与改作风的风暴之后，一切陈规陋习、不良作风都会卷土重来。
A、既然 那么 不然 B、如果 那么 况且
C、不但 而且 否则 D、只有 才能 否则
- 24、依次填入下列横线处的词语，最恰当的是：
党的十八大以来，城乡一体化发展的“进度条”在加速。_____农民收入水平_____农村城镇化水平，_____有明显提高，乡村正积蓄着变革的伟力。党的十九大提出“城乡融合”的新方向，_____为乡村振兴的“质变”吹响了有力号角。

- A、不管 抑或 也 还 B、不论 遑论 就 也
C、由于 或者 都 又 D、无论 还是 都 更

25、依次填入下列横线处的词语, 最恰当的是:

大国博弈, 正从陆地走向海洋。正如“两弹一星”赋予中国大国地位一样, _____具备与海权相匹配的实力, _____穿越东海南海的激流暗礁, 不欺人的中国才能不被人欺。这_____穷兵黩武, _____自卫反击。

- A、只有 才会 不仅是 更是 B、不仅 而且 不仅是 更是
C、因为 所以 不是 而是 D、只有 才能 不是 而是

26、中国要想在 21 世纪里有较大的作为, 就绝不应该仅仅在国际竞争和互动的一般技巧上下工夫, 更重要的是及时认清世界政治特征演变和发展大势, 从而激发出更大的战略智慧, 敏锐洞察未来世界可能的走势, 及时消除自身存在的不适合未来发展的种种弊端, 维护国家的安全和利益, 谋求社会的全面发展。换言之, 国际战略的使命不是也不可能是为世界设计某种自以为是的结局。

这段文字意在强调:

- A、中国的国际战略应该认清世界政治特征演变和发展大势
B、中国的国际战略应该消除不适合未来发展的种种弊端
C、中国的国际战略应当维护国家安全和利益谋求全面发展
D、中国的国际战略应该适应世界政治特征演变和发展大势

27、当群体成员凝聚力很高时, 群体成员倾向于让自己的观点与群体保持一致, 而其他有争议、有创意甚至更客观合理的观点则会遭到忽视或压制。这可能会导致群体作出不合理甚至很糟糕的决策。类似的现象有可能出现在网络民意表达过程。人们更可能被吸引到自身意见一致的论坛中, 并在其中不断加深自己原有的观点。这样就有可能产生群体迷思, 形成不正确的却为大多数人所拥护的占优势的意见, 出现不同意见者“被代表”和把持言论的情况。

这段文字给政府管理的启示是:

- A、网络舆论未必能够代表网民的真实想法, 政府征求民意时应对此有所甄别
B、网络民意表达存在虚假性, 不适合作为政府征求民意的渠道
C、网络空间匿名性造成网络民意容易被操控, 政府应加强对网络空间的管控
D、政府在通过网络征求民意时, 应当少说多听, 允许不同意见乃至质疑的声音存在

28、从积极层面上看, 过度消费是人们物质生活水平提高, 消费能力提升的一种表征。与此同时, 人们的消费观念也在不断升级, 这在客观上也导致了商品更新换代速度的增快, 以及浪费现象的突出。但更根本的原因是, 消费社会的语境通过赋予商品和消费新的内涵, 始终在不断怂恿着人们的消费行为。

以下最适合作为上文标题的是:

- A、过度消费其实无法控制 B、转变观念, 减少过度消费
C、是什么催生了过度消费 D、被符号绑架的过度消费

29、今天, 正风反腐之下, 有些干部感叹不舒服、不自由了。在一定意义上说, 这种心理与其对自由的观念看法密不可分。诚如马克思所言, 法典是人民自由的圣经。然而道理容易明白, 但在潜意识和直观感受中, 有人还是把自由视为不受限制、没有约束, 或者少受限制、鲜有约束。问题是, 无所限制的自由必然是扭曲的, 也是不真实的, 只能存留于想象之中。谁要真是如此任性地看待自由, 无所顾忌、不知敬畏, 谁就终将付出惨重代价。

这段文字主要说明:

- A、自律是前提和保障, 自由是目的和依归 B、构建在自律基座上的自由, 才是真正的自由
C、自由快乐之人, 必是敬畏法度之人 D、不能恪守自律, 就会导致身心双重的不自由

30、目前, 我国蓝领岗位中依旧还有大量的瓦工、钢筋工、锅炉工、油漆工等工种, 而受专业“学科化”等影响, 在我国中等职业教育专业目录中仅能找到相关的、且带有浓厚“学科”色彩的专业名称, 而这些专业名称很难让学生将未来相应的就业岗位与上述蓝领岗位对应起来, 造成真正进入上述蓝领岗位的毕业生“大打折扣”。

这段文字意在指出:

- A、我国中等职业教育的专业目录需要根据实际岗位需求调整
B、我国中等职业教育的专业教育无法培养学生进入蓝领岗位
C、瓦工、钢筋工、锅炉工等岗位不是传统意义上的蓝领工种
D、专业名称设置与实际教育内容脱节导致中职学生就业困难

31、在当下, 公共性成了博物馆、美术馆最重要的性质之一, 一场大展能产生踏破门槛、万人空巷的盛况。这是现代人与艺术品发生关系最便捷的方式。而如果今天还有人延续流觞曲水、观画赋诗并广而告之以此为之炫耀, 难免被人们斥为“太装”, 最终落下附庸风雅的笑谈。

这段文字意在强调:

- A、审美方式需要与时俱进 B、历史越往后发展, 艺术品越具有公共性
C、强装古雅欣赏艺术不是现代人应该表现的行为 D、中国人艺术修为在不断进化

32、当前，我国考试招生制度改革正全面展开，希望通过高考改革撬动基础教育阶段的改革，鼓励中学将育人方向从“单纯育分”调整为“全面育人”，从追求学科成绩转向促进学生成长。同时，通过综合素质评价鼓励中学个性化教育，引导学生自我认知、找到自己的兴趣特长和个性所在。反过来讲，如果中考加分项目继续扩张，不仅可能影响这一阶段的教育改革质量，还可能会冲掉高考改革的成果。

这段文字认为，从我国教育改革的现实逻辑看：

- A、对中考加分实行瘦身改革是教育改革的大势所趋
- B、考试加分政策改革是体现高考改革效果的必要前提
- C、为彰显教育化人、育人本质，必须全面取消中考加分
- D、中考加分项目应顺应教育规律，进一步推动教育公平

33、地图本来是状物的，它不该有人，也不能有人，地图里要是出了人，就不是地图，而是图画了。这句话在严格意义上应该是定理，但碰到某些旅游图怕是拐弯了——旅游中往往是既有风物又有人物存在的。这就像泰山、兵马俑旅游图中一定要说到秦始皇，十三陵旅游图一定要说到历代明皇，颐和园旅游图中一定会说到慈禧太后一样。因为，在那个环境中许多景致的产生由人的活动为起点，更因为人的活动而增添其审美价值。

这段文字作者认为：

- A、有人物的地图不是真正的地图
- B、有人物的地图更能增添地图的审美价值
- C、旅游图必须有标志风物和人物
- D、旅游图也是一种地图

34、当前，互联网技术发展迅猛，技术进步的同时，也在不断制造新的安全漏洞。依靠政府的力量维护信息安全，经常力有不逮。当今互联网安全的前沿技术，大多掌握在企业手中，需要调动更多的社会力量，发挥企业和市场的作用。通过市场激励机制，也可以调动“白帽子”的网络安全志愿者主动发现报告网络安全漏洞。

这段文字意在说明：

- A、是否善于保护公民个人信息，不仅折射国家理念，更涉及国家利益
- B、应当通过市场激励方式，调动社会力量参与保障网络信息安全
- C、如何保护个人信息安全，不仅是一个技术命题，更是一个制度命题
- D、调动社会力量参与保障网络信息安全，可以达到事半功倍的效果

35、阅读场景的变化，引发了一场知识领域的大变革：传统的知识载体——书籍上的图钉被网络撬开了，知识信息漂浮了起来，成为碎片化的存在。网络放大了这些信息碎片，进而改变了人们的阅读心态。换句话说，面对海量信息，人们的信息焦虑症也更严重，时间不够用了，注意力也不够用了，读过的信息像手中的沙子一样，记不住、留不下。海量信息缺乏装订工具和装订方式，正是被很多人称为“阅读危机”的根本所在。

关于这段文字，以下理解准确的是：

- A、“阅读危机”的产生是因为海量阅读
- B、读者的阅读心态随着阅读场景的变化而发生改变
- C、传统阅读比网络阅读更能吸引读者的注意力
- D、全新的装订方式能够解决“阅读危机”

36、将下列句子组成一段逻辑连贯、语言流畅的文字，排列顺序最合理的是：

- ①于是弘扬古老的节气，不是从古籍中摘录关于节气物候的词句，而是需要能下苦功夫耐得住寂寞，完成前人没有完成的节令物候的本土化描述
- ②随着疆土的扩展，人们早已发现气候并无通例
- ③立春一候，在东北，距离“东风解冻”尚远。立冬一候，在海南，只能在冰箱体会节气所说的“水始冰”
- ④古老的物候，似乎更具史学意义和文化价值，于今天无法承担物候坐标的职能
- ⑤各地的物候完全无法以同一标尺进行“一刀切”的表达

- A、⑤③②①④
- B、③⑤②④①
- C、②③⑤④①
- D、④②③①⑤

37、将下列句子组成一段逻辑连贯、语言流畅的文字，排列顺序最合理的是：

- ①只有通过构建新型国际关系，坚持和平发展、互利共赢，各国才能避免冲突、务实合作，实现共同利益最大化，最终建成“共同体”
- ②西方主流观点认为，世界是竞争性、冲突性、二元对立的，国际政治是零和游戏；各国只考虑自己的利益，必然是各自为政，以邻为壑
- ③如果被这种想法支配，那就还是赤裸裸的权利政治，就永远实现不了人类命运共同体
- ④“构建新型国际关系”和“构建人类命运共同体”是路径和目标的关系

- A、④①③②
- B、④②③①
- C、②④①③
- D、②①③④

38、将下列句子组成一段逻辑连贯、语言流畅的文字，排列顺序最合理的是：

- ①经济结构化、创新能力提升、区域发展协调、生态环境改善、人民获得感增强等，都是高质量发展时期的新追求
- ②把好脉、选对路、巧施策，我国经济在实现高质量发展上就能不断取得新成效
- ③推动高质量发展，应更好兼顾社会效益
- ④制定宏观政策不仅要善于算好经济账，更要算好生态账、民生账、社会账，看看是否有利于美好生活需要的

实现

⑤与过去高速度发展单纯追求经济增长不同, 高质量发展是一个“多目标、多任务”的系统工程

A、①④②⑤③ B、③⑤①④② C、④⑤②③① D、⑤③②④①

39、随着国家综合实力的不断增强, 国家在“三农”领域的政策由过去的“只取不予”完全变成了“只予不取”, 对广大农民而言, 这是一个伟大的转折。在“只予不取”的视野下, _____。措施得当, “四两拨千斤”, 花少钱也能办大事; 措施欠妥, 花再多钱也有可能把好事办坏。

填入划横线部分最恰当的一句是:

A、农村治理必须突出基层群众的自主性、自治性 B、有必要对农村实际情况进行全面了解
C、农村治理依然存在讲求什么样的方式方法的问题 D、只有符合农村实际, 符合农民意愿, 才能有所成效

40、如果社会机制健全, 社会弱势群体能够通过合法的制度化途径来表达自己的利益并均衡社会利益, 那么社会冲突的频率、强度和烈度将大为降低。但在社会的转型加速期, 由于某些结构性的原因, 社会中的弱势群体最终通过社会冲突的方式来捍卫自身的权益。结果是, _____。

填入划横线部分最恰当的一句是:

A、弱势群体利益表达的话语权缺失
B、转型加速期成为社会冲突的多发时期
C、弱势群体社会组织化程度低, 谈判能力受限
D、强势群体操控媒介、干扰公共政策加剧了社会冲突

第三部分 数量关系

41、1, $\frac{1}{3}$, 2, $\frac{2}{3}$, 3, 1, 4, ()

A、2 B、 $\frac{4}{3}$ C、5 D、 $\frac{5}{2}$

42、2, 8, 18, 32, 50, ()

A、68 B、72 C、76 D、98

43、9, 20, 35, 54, 77, ()

A、104 B、135 C、154 D、166

44、1, 4, 10, 22, 46, ()

A、70 B、72 C、92 D、94

45、3, 11, 13, 29, ()

A、31 B、34 C、38 D、41

46、甲、乙、丙三个小朋友中任意两人身高的平均数加上另外一个小朋友的身高, 分别为 258 厘米, 238 厘米, 230 厘米, 则这三个小朋友的平均身高值是 () 厘米。

A、118 B、120 C、121 D、122

47、篮子里有苹果和梨子两种水果若干个, 将这些水果分发给 13 人, 每人最少拿一个, 最多拿两个不同的水果。已知有 9 个人拿到了苹果, 有 8 人拿到了梨, 最后全部分完。那么, 有 () 人只拿到了苹果。

A、4 B、5 C、6 D、7

48、A、B、C、D 四个小朋友进行分组跳绳比赛, 结果 A 与 B 两个小朋友比 C 与 D 两个小朋友多跳 20 个。又已知 A 比 B 少跳 9 个, C 比 D 多跳 15 个。那么, 跳得最多的小朋友比最少的多 () 个。

A、19 B、20 C、21 D、22

49、现有左右相邻规模一样的两个水池, 左边水池的水位比右边的高 36cm。用抽水机从左边的水池抽水注入右边的水池, 每分钟能使右边的水池水位升高 3cm, 那么 () 分钟后两个水池的水位一样高。

A、12 B、9 C、6 D、3

50、公司安排甲、乙、丙三人从周一开始上班, 已知甲每上班一天休一天, 乙每上班两天休一天, 丙每上班三天休一天, 那么三人第三次同时休息是星期 ()。

A、日 B、一 C、二 D、三

51、办公室需要复印一批文件, 使用甲复印机单独印需要 20 分钟, 使用甲乙两台复印机一起印需要 12 分钟, 已知甲复印机每分钟比乙复印机多印 6 份文件, 则这批文件一共有 () 份。

A、216 B、240 C、360 D、600

52、文体用品店有一批数量为 35 支的羽毛球拍, 进货价为每支 130 元, 在进货价基础上提高 20% 销售, 并实行消费返现制度, 顾客购买羽毛球拍每满 100 元即减 5 元。假如规定每名顾客最多只能买 3 支球拍, 则销售这批球拍至少可赚 ()。

A、650 元 B、675 元 C、735 元 D、900 元

53、某单位计划在户外举办讲座, 计划使用 72 米的隔离带围成长方形作为活动场所, 其中一边不封闭 (即成 |__| 形), 缺口面向讲坛。能围成的场所面积最大是 () 平方米。

A、324 B、648 C、972 D、1296

54、投资公司计划对甲乙两个创业项目进行投资, 若甲项目投资额减少 8%, 乙项目投资额增加 10%, 则总投资额将减少 8 万元; 若甲项目投资额增加 10%, 乙项目投资额减少 5%, 则总投资额将增加 19 万元。那么, 原计划的总投资额是 () 万元。

- A、350 B、370 C、420 D、450

55、用全部 156 个边长为 1 的小正方形, 最多可以拼成 () 种形状不同的长方形。

- A、5 B、6 C、7 D、8

第四部分 判断推理

56、治标：治本

- A、量变：质变 B、道德：法律 C、承诺：合同 D、外貌：修养

57、大步流星：寸步难行

- A、大公无私：公而忘私 B、大刀阔斧：雷厉风行 C、动荡不安：放荡不羁 D、江河日下：蒸蒸日上

58、拐弯抹角 对于 () 相当于 () 对于 富有

- A、直接；家徒四壁 B、委婉；穷困潦倒 C、直白；家财万贯 D、清楚；富可敌国

59、听证会 对于 () 相当于 () 对于 职工

- A、证人；运动会 B、专家；职代会 C、领导；展览会 D、居民；家长会

60、记者 对于 () 相当于 () 对于 剪裁

- A、采访；裁缝 B、记录；园丁 C、新闻；衣服 D、摄像；模特

61、招商 对于 () 相当于 () 对于 自评

- A、战略；得分 B、资金；对象 C、优势；问卷 D、创业；调查

62、人民币：美元：兑换

- A、现金：支票：货币 B、写作：绘画：文字 C、诗词：音乐：旋律 D、中文：英文：翻译

63、医生：检查：诊断病情

- A、警察：警局：逮捕犯人 B、厨师：烹饪：品尝美食

- C、演员：表演：吹拉弹唱 D、教师：讲课：传授知识

64、营业税：增值税：减免

- A、笔试：面试：选拔 B、燃油车：电动车：环保 C、土楼：木屋：搭建 D、平信：快递：降价

65、豆：黄豆：四季豆

- A、瓜：西瓜：佛手瓜 B、果：糖果：罗汉果 C、茶：奶茶：乌龙茶 D、油：酱油：绵羊油

66、某科研单位招聘研究人员, 要求被录取人员必须具备生物专业背景, 并且得到两名同行专家的推荐。

以下哪项为真, 说明录取没有遵守招聘要求?

(1) 杜林被录取, 但只有一名同行专家推荐;

(2) 李力被录取, 但他所学专业为文学;

(3) 张娜生物专业毕业, 且由两名同行专家推荐, 但没有被录取。

- A、(1) 和 (2) B、(2) 和 (3) C、(1) 和 (3) D、以上都不是

67、世界级钢琴演奏家每天练习弹钢琴不少于八个小时, 除非是元旦、星期天或者当天有重大的演出项目。

如果以上论述为真, 以下哪个人不可能是世界级钢琴演奏家?

A、某钢琴演奏家在某个星期的星期一、星期四、星期五和星期天都没有练习弹钢琴

B、某钢琴演奏家连续三个月没有练习弹钢琴

C、某钢琴演奏家几乎每天练习跑马拉松四个小时

D、某钢琴演奏家连续三天每天练习弹钢琴七个小时, 并且没有演出项目

68、某厅决定在厅机关选派援疆干部, 并成立了由党委办、人事处、就业处组成援疆干部推荐小组, 还初定了赵某、李某、周某三个推荐人选。党委办、人事处、就业处三个部门分别提出了各自推荐意见:

党委办: 赵某、李某中只能去一个。

人事处: 如果不选派赵某, 就不选派周某。

就业处: 只有不选派李某或赵某, 才选派周某。

以下方案能同时满足三个部门意见的是:

A、选派周某, 不选派赵某和李某 B、选派李某和赵某, 不选派周某

C、选派赵某, 不选派李某和周某 D、选派李某和周某, 不选派赵某

69、所有优秀的物理学家都具有良好的数学运用能力, 张杰没有良好的数学运用能力, 所以张杰不是优秀的物理学家。

下述推理中与上述推理在结构形式上最为相似的是:

A、H 公司今年招聘的人才都具有良好的专业背景和综合素质, 小刘具有良好的专业背景和综合素质, 所有小刘是今年 H 公司招聘的人才

B、所有年满七十周岁的人都可以领到老年人生活补贴, 王老师今年七十五周岁, 他可以领到老年人生活补贴

C、所有条件适宜的环境都能使企鹅孵化, 但 T 岛上企鹅蛋没有孵化, 所以 T 岛的环境不是适宜的

D、所有被顶尖高校录取的学生都是聪明的学生, 李可没有被顶尖高校录取, 所以李可不是聪明的学生

70、在全球经济背景下, 跨国公司的利润转移问题越来越成为各国政府关注的焦点。如果这一问题得不到解决, 将加剧大资本与劳动之间收入分配的不平等。除非各国能够制定统一的公司所得税率, 或者形成跨国界税收治理新规则, 否则, 这将是难解之题。

如果以上陈述为真, 则以下哪项陈述必然为真?

- A、各国制定统一的公司所得税率, 或者形成跨国界税收治理新规则, 就可以解决跨国公司的利润转移问题
- B、如果跨国公司的利润转移问题得到解决, 就能消除大资本与劳动之间收入分配的不平等
- C、如果各国不制定统一的公司所得税率, 或者不形成跨国界税收新规则, 大资本与劳动之间收入分配的不平等将会进一步加剧
- D、如果各国不能制定统一的公司所得税率, 那么形成跨国界税收治理新规则也无法解决跨国公司的利润转移问题

71、只有具有良好的逻辑思维能力并且具有物理学专业背景的人, 才能胜任这个岗位。

如果上述判断为真, 以下哪项不可能为真?

- A、物理学专业博士小赵胜任了这个岗位
- B、从未学习过物理学知识的小李, 胜任了这个岗位
- C、小刘具有物理学专业背景, 但他不能胜任这个岗位
- D、小孙不能胜任这个岗位, 但他的逻辑思维能力是大家公认的

72、一项研究发现, 二氧化硅是一种植物容易吸收的硅元素形态, 通过使用二氧化硅改善土壤, 植物可沉淀出称为“植结石”的小颗粒。颗粒中含有的硅元素可减缓昆虫的发育, 颗粒的石头质地还能磨损昆虫口器, 从而降低植物的虫害程度。由此, 有关研究人员建议, 可以在那些农作物经常受昆虫侵害的地区土壤中加入这类硅元素。

以下哪项如果为真, 最能反驳上述建议?

- A、各地区昆虫的耐药性及药物作用的敏感性都相同
- B、受昆虫侵害严重的地区, 土壤中普遍缺乏硅元素
- C、农作物中的硅元素会对食用者的身体发育产生影响
- D、富含硅元素的农作物的口感比普通农作物更好

73、每周饮酒 2-10 次是适量饮酒。有调查发现, 每周饮酒 2-10 次的男士, 比每周饮酒少于 2 次的男士患心脏病的概率要低。因此, 适量饮酒可降低男士患心脏病的风险。

以下哪项为真, 最不能削弱该论证?

- A、适量饮酒的女士比每周饮酒少于 2 次的女士患肝炎的概率更高
- B、适量饮酒的男士更注意加强身体锻炼
- C、适量饮酒的男士普遍比每周饮酒少于 2 次的男士要年轻
- D、男士们都认为, 身体良好的情况下可以适当增加饮酒量

74、有教育专家提出, 如果采取按照年龄、学历水平和职称等级将教师平均分配到所有学校的办法来配置教育资源, 实现教育公平, 就能较好解决目前因上重点学校竞争激烈而引起的社会问题。

以下哪项如果为真, 将最能削弱该教育专家的观点?

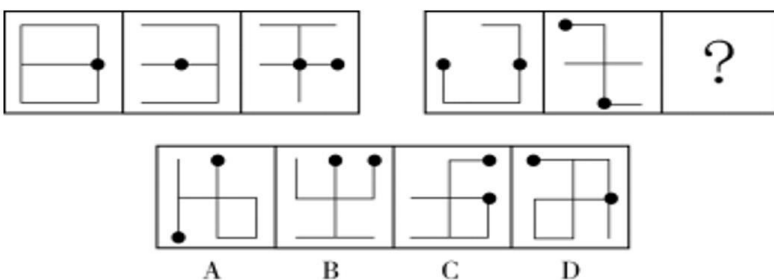
- A、很多重点学校老师表示支持
- B、绝大多数学生和家長表示反对
- C、一些重点学校老师要求到物价低的郊区学校工作
- D、普通学校的硬件设施建设比起重点学校存在明显差距

75、某调查小组对 Y 地区吸烟青少年群体调查发现, 75%吸烟青少年来自二手烟家庭, 父母至少有一人为吸烟者。因此, 该地区二手烟家庭如果能大幅减少, 新的吸烟青少年数量将显著减少。

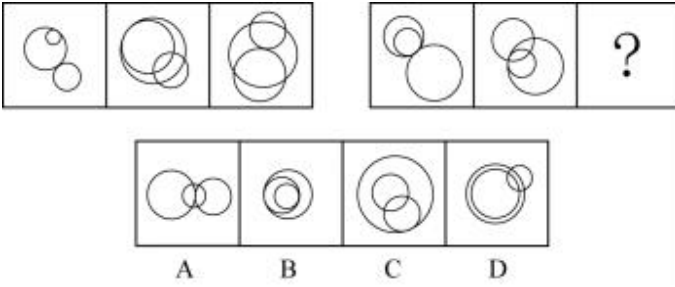
以下哪项如果为真, 最能支持上述论证?

- A、成年人的戒烟方法和青少年的戒烟方法是不同的
- B、吸烟青少年可以通过积极的干预而戒烟
- C、成年人和青少年学会吸烟的方式是相同的
- D、Y 地区成长于二手烟家庭的青少年吸烟的比例比其他家庭高

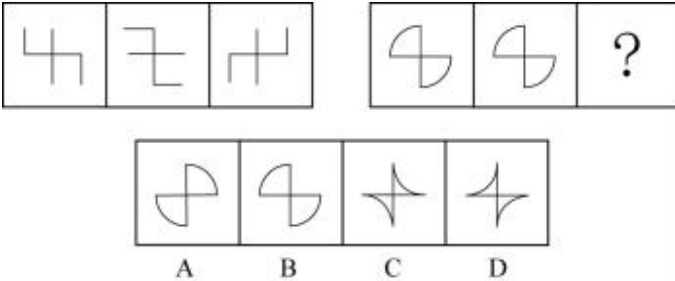
76、从所给的四个选项中, 选择最合适的一个填入问号处, 使之呈现一定的规律性:



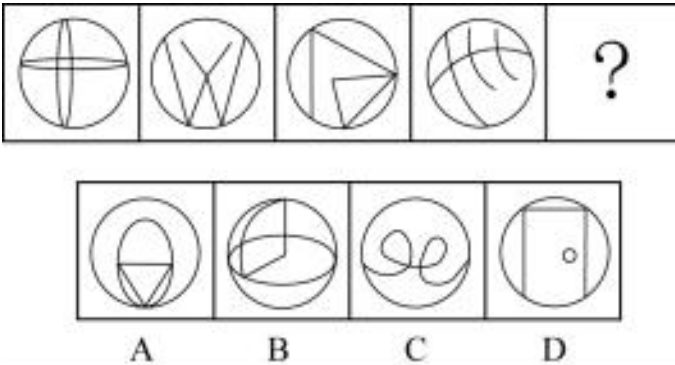
77、从所给的四个选项中，选择最合适的一个填入问号处，使之呈现一定的规律性：



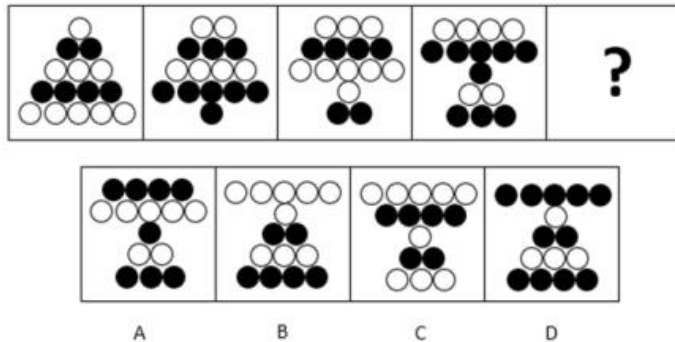
78、从所给的四个选项中，选择最合适的一个填入问号处，使之呈现一定的规律性：



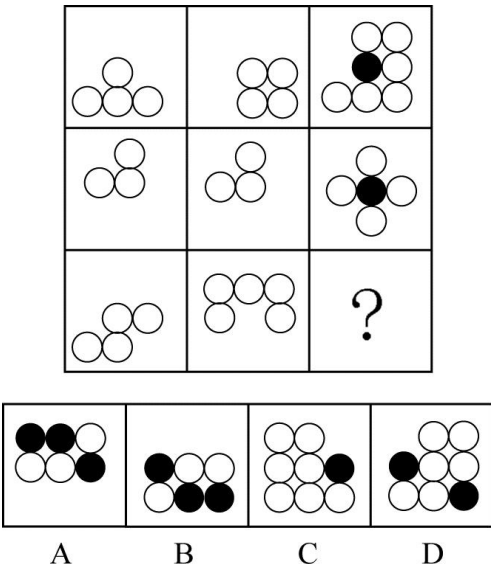
79、从所给的四个选项中，选择最合适的一个填入问号处，使之呈现一定的规律性：



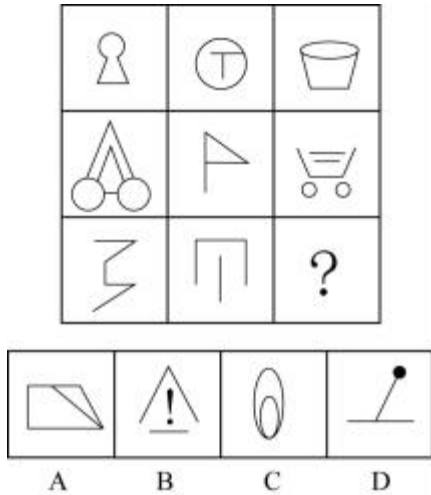
80、从所给的四个选项中，选择最合适的一个填入问号处，使之呈现一定的规律性：



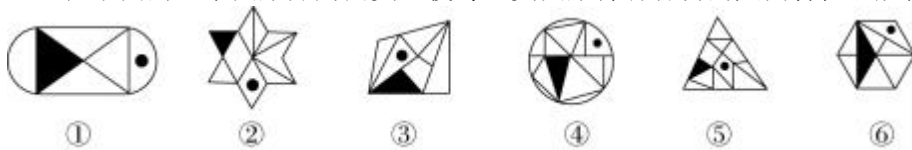
81、从所给的四个选项中，选择最合适的一个填入问号处，使之呈现一定的规律性：



82、从所给的四个选项中，选择最合适的一个填入问号处，使之呈现一定的规律性：

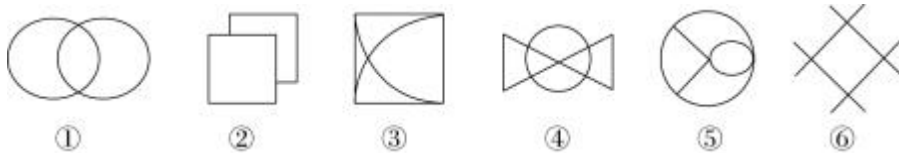


83、把下面的六个图形分为两类，使每一类图形都有各自的共同特征或规律，分类正确的一项是：



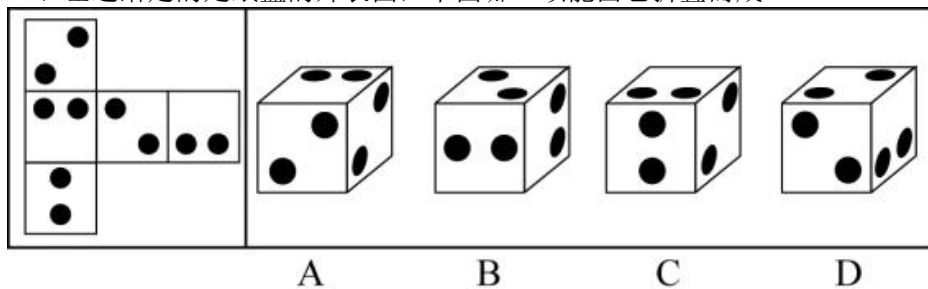
A、①③⑥，②④⑤ B、①③⑤，②④⑥ C、①②④，③⑤⑥ D、①②③，④⑤⑥

84、把下面的六个图形分为两类，使每一类图形都有各自的共同特征或规律，分类正确的一项是：



A、①②③，④⑤⑥ B、①②⑤，③④⑥ C、①③⑤，②④⑥ D、①④⑥，②③⑤

85、左边给定的是纸盒的外表面，下面哪一项能由它折叠而成？

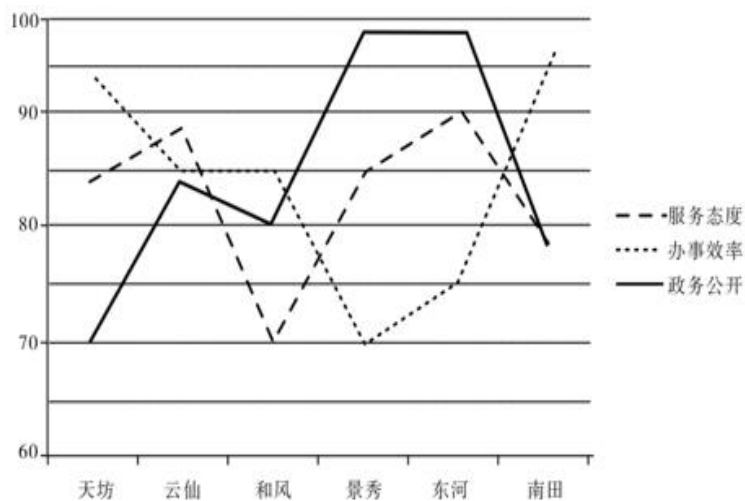


第五部分 资料分析

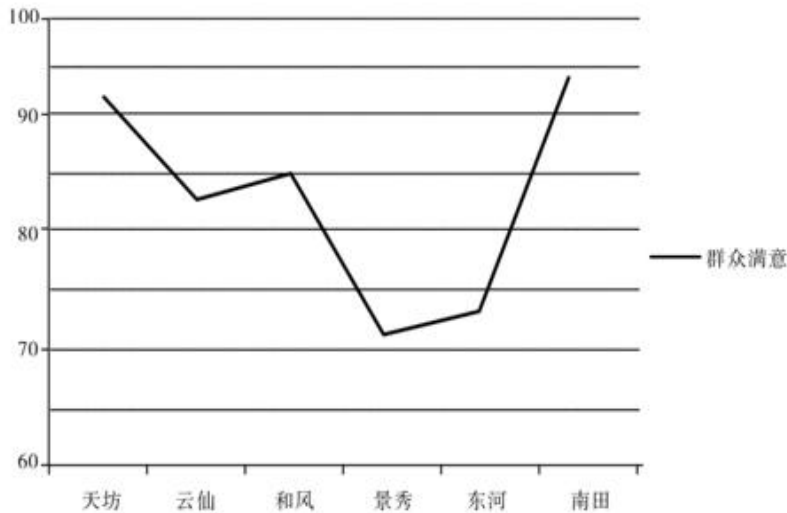
(材料)

某行政区从“服务态度”“办事效率”“政务公开”三个方面评价下属的6个街道办事处（简称为街道办）的综合服务效能水平，并调查了群众对各个街道办的满意度。这6个街道办分别为天坊街道办、云仙街道办、和风街道办、景秀街道办、东河街道办、南田街道办。每个方面评价分数采用百分制。评价结果如下图：

效能水平评价



群众满意度评价



- 86、“服务态度”“办事效率”“政务公开”分数依次由高到低排序的街道办是：
 A、天坊 B、景秀 C、云仙 D、南田
- 87、该行政区六个街道办的群众满意度平均分约为：
 A、89 B、83 C、75 D、70
- 88、如果要选择一个指标代替群众满意度得分，则最适合的指标是：
 A、服务态度 B、办事效率 C、政务公开 D、三项分数的均值
- 89、如果效能指数=服务态度×权重1+办事效率×权重2+政务公开×权重3，其中权重1+权重2+权重3=1，而天坊的效能指数为84，那么以下权重1、权重2、权重3的数字依次排序最可能是：
 A、0.3, 0.4, 0.3 B、0.3, 0.5, 0.2 C、0.2, 0.3, 0.5 D、0.1, 0.2, 0.7
- 90、以下说法错误的是：
 A、街道办的“群众满意”分数从高到低排序分别是南田、天坊、和风、云仙、东河、景秀
 B、在“政务公开”中分数并列第一的街道办是东河和景秀
 C、南田街道办在“服务态度”和“政务公开”取得的分数相同
 D、云仙街道办三个效能分数均比和风街道办的要高
- (材料)

A市各行政区文化事业财政拨款与支出概况

单位：万元

行政区		雅溪	童新	桃甘	英远	东丰
艺术表演	拨款	0	659	0	0	35
	支出	0	625	0	0	35
文化展示及纪念机构	拨款	704	0	0	0	1064
	支出	699	0	0	0	1064
图书馆	拨款	2592	1880	2877	4413	3244
	支出	2665	1871	3058	4072	3289
群众文化	拨款	1832	1796	9922	7637	2817
	支出	1180	1774	9775	11590	2888
艺术表演场馆	拨款	0	0	4665	0	20
	支出	0	0	4665	0	20
文化活动	拨款	582	0	2320	0	1039
	支出	582	0	2314	0	1039
其他	拨款	890	6796	6068	4179	1129
	支出	239	6732	2330	2755	1180

91、A市文化事业财政资金拨款最少的行政区是:

- A、雅溪 B、童新 C、英远 D、东丰

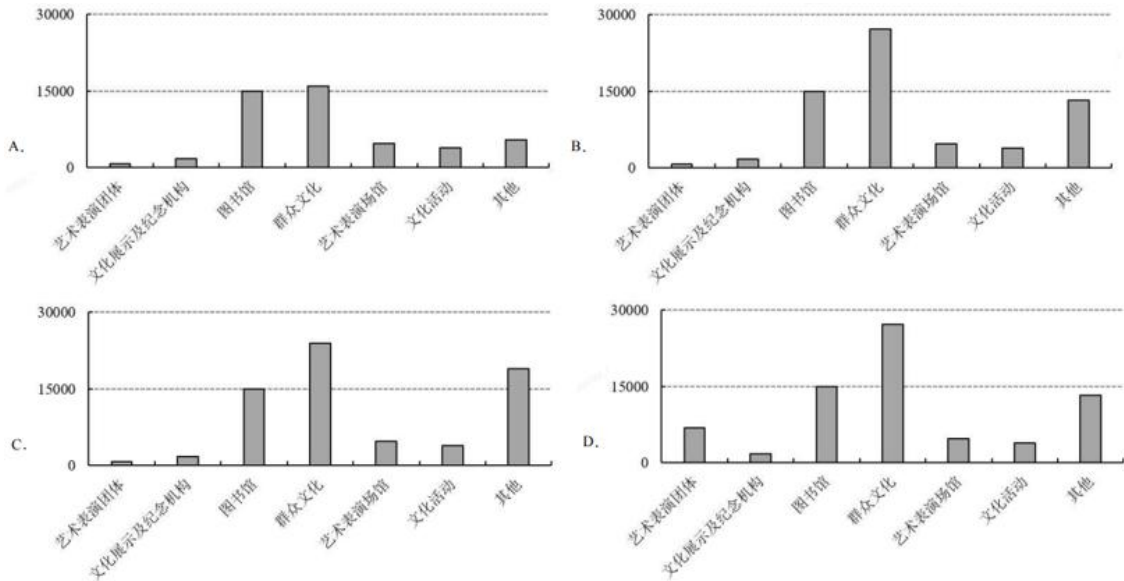
92、以下A市各行政区的某项文化事业财政资金, 支出额占拨款额的比重最低的是:

- A、雅溪——群众文化 B、童新——图书馆 C、英远——群众文化 D、东丰——文化活动

93、A市文化事业财政资金使用最为全面的行政区是:

- A、雅溪 B、童新 C、桃甘 D、东丰

94、下图最符合A市所有行政区各项文化事业财政支出总额情况的是:



95、以下说法正确的是 ()。

- A、各行政区的文化事业财政支出总额均比拨款总额低
 B、有些行政区并未在群众文化上支出财政资金
 C、并未出现拨款金额与支出金额相等的情况
 D、各行政区在图书馆上均有财政投入

(材料)

我国 2017 年粮食种植面积 11222 万公顷, 比上年减少 81 万公顷。其中, 小麦种植面积 2399 万公顷, 减少 20 万公顷; 稻谷种植面积 3018 万公顷, 减少 0.2 万公顷; 玉米种植面积 3545 万公顷, 减少 132 万公顷。棉花种植面积 323 万公顷, 减少 12 万公顷。油料种植面积 1420 万公顷, 增加 7 万公顷。糖料种植面积 168 万公顷, 减少 1 万公顷。

2017 年粮食产量 61791 万吨, 比上年增加 166 万吨, 增产 0.3%。其中, 夏粮产量 14031 万吨, 增产 0.8%; 早稻产量 3174 万吨, 减产 3.2%; 秋粮产量 44585 万吨, 增产 0.4%。全年谷物产量 56455 万吨, 比上年减产 0.1%。其中, 稻谷产量 20856 万吨, 增产 0.7%; 小麦产量 12977 万吨, 增产 0.7%; 玉米产量 21589 万吨, 减产 1.7%。全年棉花产量 549 万吨, 比上年增产 3.5%。油料产量 3732 万吨, 增产 2.8%。糖料产量 12556 万吨, 增产 1.7%。茶叶产量 255 万吨, 增产 6.0%。



96、2017 年棉花产量比 2016 年约增产了 () 万吨。

- A、7 B、19 C、31 D、48

97、相较于上一年, 2015 年全国粮食产量的增长率约是 2014 年的 () 倍。

- A、3 B、5 C、7 D、9

98、2017 年, 小麦、稻谷、玉米、棉花四种农作物中, 种植面积减少速度最快的是 ()。

A、小麦 B、稻谷 C、玉米 D、棉花

99、三种谷物中，2017年产量比上年增加最多的谷物，其种植面积约是全国粮食种植面积的（ ）。

A、12% B、21% C、27% D、32%


100、以下说法中正确的是（ ）。


A、2017年，我国各种粮食产量均有所增长

B、2017年，小麦，稻谷，玉米的产量总和为谷物的总产量

C、2017年，小麦，稻谷，玉米这三种谷物中单位面积产量最高的是稻谷

D、2017年，油料的产量增长率等于其种植面积增长率的3倍

 微信扫描二维码，关注“公务员考试挺简单”微信公众号，可获取更多公考经验。分享公考经验，还可获得现金奖励哈

 手淘扫描淘宝店铺，可以购买省考、国考历年真题哦



微信公众号



淘宝店铺