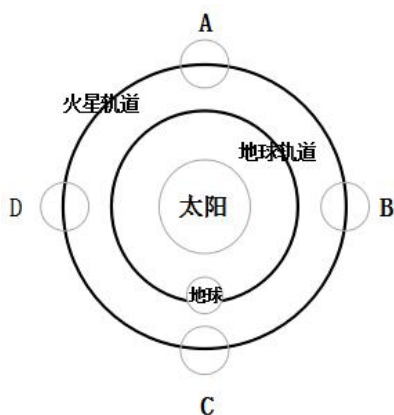


## 2018年广州市公务员考试《行测》真题（一）

来源：H 整理：杨柳（微信：gwy288）

- 1、我国2018年政府工作报告指出，目前我国经济增长实现了由主要依靠投资、出口拉动转向依靠（ ）协同拉动。
- A、投资、出口、进口 B、消费、进口、出口 C、投资、消费、进口 D、消费、投资、出口
- 2、按照我国现行《社会救助暂行办法》，国家建立健全自然灾害救助制度，对（ ）受到自然灾害严重影响的人员，提供生活救助。
- A、基本生活 B、日常生活 C、工作生活 D、家庭生活
- 3、党的十九大提出新时代我国社会主义主要矛盾是人民日益增长的美好生活需要和不平衡不充分发展之间的矛盾。这一论断所蕴含的哲学原理是：
- A、“两点论”与“重点论”的统一 B、事物发展是质变和量变的统一  
C、矛盾是事物发展的根本动力 D、事物是普遍联系的
- 4、改革开放以来，国内不少水果产量和品质都有了较大提升，而精深加工却发展不够快，至今仍以鲜食为主，有些地方出现“丰产歉收”、果农“挥泪砍树”现象。而“砍树莫如酿酒”，发展果酒产业的思路说明了要推进的改革是：
- A、市场营销体系改革 B、供给侧结构性改革 C、要素价格市场化改革 D、现代流通体系改革
- 5、以下情形，不违反《中华人民共和国公务员法》规定的任职回避情形的是：
- A、甲乙为夫妻，在同一机关工作，甲担任领导职务，乙在组织部门任普通科员  
B、甲乙为表兄妹，在同一机关工作，甲担任领导职务，乙是甲的下级由甲直接领导  
C、甲乙为兄妹，在同一机关工作，甲在组织部门担任部长，乙在行政部门担任普通科员  
D、甲乙为父子，在同一机关工作，两人都在人事部门任普通科员
- 6、以下诗句反映的不是边塞生活的是：
- A、更吹羌笛关山月，无那金闺万里愁 B、撩乱边愁听不尽，高高秋月照长城  
C、北风卷地白草折，胡天八月即飞雪 D、云横秦岭家何在？雪拥蓝关马不前
- 7、农历“正月”读作“征月”，很可能是始于：
- A、康熙年间 B、汉武帝年间 C、秦始皇年间 D、春秋时期
- 8、火星轨道在地球轨道的外圈，与地内行星相比，从地球上能观测到火星的时间和位置变化范围很大。古人有“火星冲日”的说法，在“火星冲日”这天，火星最亮，在夜空停留的时间也最久。“火星冲日”最可能发生在右图（ ）位置。



- 9、随着科技发展，微生物在我们生活中发挥越来越大的作用。以下不属于微生物应用事例的是：
- A、用青霉素治疗疾病 B、注射减毒疫苗  
C、利用木质纤维素水解发酵生产生物燃料 D、在伊蚊身上植入编码了疟原虫抗体的基因
- 10、克隆属于无性繁殖。如果人们将黑色兔子的乳腺细胞核移植到白色兔子的去核卵细胞中，形成重组细胞，再经过一系列培育，克隆出一只兔子。那么，这只克隆兔子的毛色是：
- A、白色 B、黑色 C、黑白相间 D、灰色
- 11、当前我国国企改革扎实推进，（ ）改革基本完成，兼并重组、减压层级、提质增效取得积极进展。
- A、公司制 B、股份制 C、混合所有制 D、股权制

12、“赋”“比”“兴”是《诗经》中的三种基本表现手法。其中“兴”有感发兴起之意，是因某一事物之出发而引出所欲叙写之事物的一种表达方法。下列不属于“兴”手法的诗句是：

- A、苕之华，芸其黄矣。心之忧矣，维其伤矣。 B、硕鼠硕鼠，无食我黍！三岁贯女，莫我肯顾。  
C、关关雎鸠，在河之洲。窈窕淑女，君子好逑。 D、桃之夭夭，灼灼其华。之子于归，宜其室家。

13、具有社会行为的动物大多具有以下特征：①群体内部往往形成一定组织；②组织成员之间有明确的分工；③群体内有一定的等级。下列属于动物社会行为的是：

- A、母猩猩哺育幼猩猩 B、乌贼遇敌喷出墨汁 C、蜂王依靠工蜂喂养 D、狗为吃骨头而争抢

14、为建立生态文明绩效考评和责任追究制度，我国已推行（ ），开展省级以下环保机构垂直管理制度改革试点。

- A、河长制、江长制 B、江长制、湾长制 C、河长制、湖长制 D、湖长制、湾长制

15、以下国家没有热带雨林的是：

- A、加拿大 B、印度尼西亚 C、刚果民主共和国 D、巴西

## 第二部分 言语理解与表达

16、填入下列横线处的词语，最恰当的是：

慎众，慎的是“\_\_\_\_\_”。群体心理学认为，个体行为容易受群体的意识、情绪和选择影响。正如《乌合之众》一书所说，“群体中的个人，不过是众多沙粒的一颗，可以被风吹到无论什么地方”。所以，当身处群体中时，要格外注意自己的言行，不为“生态”所染、不为“氛围”所乱、不为“情绪”所惑。

- A、出众 B、众怒 C、从众 D、众说

17、填入下列横线处的词语，最恰当的是：

文化遗产不可复制，也不能再造。不管申遗还是入选之后，\_\_\_\_\_应始终放在第一位。只有这样，文化遗产才能更好造福于民，传之子孙。

- A、开发 B、保护 C、重建 D、研究

18、填入下列横线处的词语，最恰当的是：

中国梦传递\_\_\_\_\_的家国天下情怀，唤醒内心深处的命运共同体意识，凝聚振兴中华的探索与奋斗，成为亿万人民认同的最大公约数，激发起中华民族强烈的\_\_\_\_\_和豪迈的进取心。

- A、喷涌而出 幸福感 B、富丽堂皇 获得感  
C、美轮美奂 认同感 D、绵延已久 归属感

19、填入下列横线处的词语，最恰当的是：

“多”与“少”，两者之间绝不仅仅是数量上的对立存在，而恰恰是“量变”与“质变”的一个\_\_\_\_\_。一味追求多，或一味追求少，都有可能把事情的发展引向\_\_\_\_\_的另一面。因而，在看待“多”与“少”上，也要有辩证的观点。

- A、独立状态 截然相反 B、中间过程 无法控制  
C、相对状态 难以接受 D、演变过程 截然相反

20、依次填入下列横线处的词语，最恰当的一组是：

不可否认，相比以往，现在的信息来源更加芜杂，信息质量也是\_\_\_\_\_。也正因为此，人们更需要权威而不\_\_\_\_\_、专业而又通俗易懂的“官方回应”。这类信息一旦供给不足，就会产生“信息逆差”，让那些\_\_\_\_\_、偏激，甚至是虚假、错误的信息占据了舆论市场。

- A、蒸蒸日上 旁敲侧击 武断 B、泥沙俱下 装腔作势 片面  
C、良莠不齐 指手画脚 怪异 D、恒河沙数 张冠李戴 决绝

21、依次填入下列横线处的词语，最恰当的是：

每一位党员干部，都要有\_\_\_\_\_的态度，鼓起\_\_\_\_\_的勇气，拿出\_\_\_\_\_的担当。

- A、不容过 不讳过 不谏过 B、不谏过 不讳过 不容过  
C、不讳过 不谏过 不容过 D、不谏过 不容过 不讳过

22、依次填入下列横线处的词语，最恰当的是：

《史记》中记载：“子产治郑，\_\_\_\_\_；子贱治单父，\_\_\_\_\_；西门豹治邺，\_\_\_\_\_。”子产靠的是亲力亲为，明察秋毫；子贱注重教化百姓，选贤任能；而西门豹则以水利富民，以重典治乱。

- A、民不敢欺 民不能欺 民不忍欺 B、民不能欺 民不忍欺 民不敢欺  
C、民不忍欺 民不敢欺 民不能欺 D、民不忍欺 民不能欺 民不敢欺

23、依次填入下列横线处的词语，最恰当的是：

一个劳模，朴素的事迹本来很让人感动，平凡\_\_\_\_\_能触动和抵达人心，\_\_\_\_\_一旦拔高到不食人间烟火的地步，\_\_\_\_\_让读者产生强烈的抵触情绪，让人觉得很假，\_\_\_\_\_会连累劳模和典型受到批评和抵制，实际上是“黑”了好人。

- A、可能 然而 反而 因为 B、必然 甚至 无论是 还是  
C、本就 然而 就会 甚至 D、当然 进而 可能 也可能

24、依次填入下列横线处的词语，最恰当的是：

“露凝千片玉，菊散一丛金”。\_\_\_\_\_菊花被视为傲寒的标识，农历九月\_\_\_\_\_被称为菊月，\_\_\_\_\_还有一种花，往往被文人们忽视，那便是棉花。“寒露时节尾花收。寒露不收棉，霜降莫怨天。”在农人的眼中，棉花\_\_\_\_\_是秋季的“尾花”。

- A、尽管 又 因而 也 B、即使 却 可是 就  
C、因为 并 所以 正 D、虽然 也 但是 才

25、依次填入下列横线处的词语，最恰当的是：

习近平讲述马克思写《资本论》的故事，以此重申这样一个道理：高尚的气节是每一个成大事业者应有的品质，\_\_\_\_\_面对怎样的艰难险阻，\_\_\_\_\_坚定信念、坚守气节，\_\_\_\_\_一定能战胜困难、取得成功。

- A、即使 也要 就 B、无论 只要 就  
C、一旦 只要 也 D、如果 但是 也

26、在古罗马时代，为了确保法官的独立性和公正性，法官往往并不主动搜集或调查证据，而只是在案件审判过程中，通过当事人双方所提交的证据来确定案件事实。在案件审理之前，法官对案件事实往往一无所知，这有利于避免法官就案件事实形成不合理的前见，避免先入为主作出评判。

关于这段文字，以下理解准确的是：

- A、公正性是法官审理案件的首要因素 B、先入为主会对法官的裁判带来严重影响  
C、不讲程序正义，无法保证结果正义的实现 D、法官对案件事实一无所知，有利于公正裁判

27、“新零售”虽然已经成为当下最火热的概念，但究竟何为新零售其实并没有一个准确的定义，专业的说法是“人、货、场在互联网和大数据下的重构”，通俗地理解大概就是线上和线下结合，然后辅之以人工智能、大数据、云计算等技术手段，对传统零售业的生产销售等环节实现全方位的升级改造。

以下说法可以从原文推出的是：

- A、人工智能等新技术的出现是实现新零售的必要条件  
B、新零售能够弥补传统零售业线下销售渠道单一的不足  
C、新零售大量运用高科技，能够有效降低传统人力成本  
D、传统电商的增长瓶颈是推动新零售落地的动力

28、多少干部，倒在类似的“大节”“小节”的认识误区中，以为“干部出点小问题是难免的，但只要干事业就‘大节不亏’”。从来没有不起眼的蚁穴，只有守不住的长堤，丢了“清政”，何以“有为”？这两者没有“大”“小”之分，都是党员干部须臾不可丢失的“大节”。

下列哪个词语，最符合这段文字所表达的意思？

- A、惩前毖后 B、积微成著 C、正本清源 D、积羽沉舟

29、对于脑性瘫痪的婴儿来说，爬行是件很困难的事。这些孩子的大脑受到损伤，对肌肉的控制力较差，所以往往无法在地上爬行。相应地，与运动技能和空间定位相关的神经连接的发育也会由此停滞，这将导致患者日后遇到更多与运动有关的问题。有研究团队开发出了一种旨在有助于婴儿爬行的新设备，在机器的帮助下，疑似脑性瘫痪婴儿的相应神经得到锻炼，从而能够更早学习爬行，爬得也更远。

这段文字旨在说明：

- A、脑性瘫痪儿爬行很困难 B、早期干预可以改善运动控制  
C、新设备可帮助脑瘫婴儿学习爬行 D、大脑受损的婴儿对肌肉的控制力很差

30、法律的实施效果很大程度上是由民众和执法者对违法行为的态度决定的。禁止燃放烟花爆竹的规定与中国人“逢年过节喜庆应该放鞭炮”的社会习俗是不一致的。在大多数人的心目中，燃放烟花爆竹是“辞旧迎新”，是“热热闹闹过新年”的重要标志。甚至在很多人的意识中，会有“如果不放鞭炮，怎么算过年”这样的意识。所以许多人看到别人违反法规放鞭炮、点烟花，不仅不鄙视他，而且还会觉得挺高兴，乐观其成，无形中减弱了执行的惩罚效果。

下列论断最符合上文观点的是：

- A、在法律和社会风俗不一致时法律的实施效果不会太好

B、法律实施效果的好坏完全由法律本身所决定

C、凡是违反社会习惯的法律法规都应当被废除

D、法律法规在制定时应当征求民众和执法者意见

31、新技术往往会以其特有的未知性、前瞻性，冲撞我们的心理认知舒适区。人们害怕大数据的发展，会使自己在未来被控制或被替代，这样的担心不能说是多余。据统计，欧盟目前 90%的工作需要人们具备某种数字技能，而 65%的欧盟新入学儿童长大后将从事目前尚不存在的职业。不过这一尚处在青年时期的“新技术”，如人类本身一样，是复杂的多面体，因此观察也需要更丰富、更多元的角度。

关于这段文字，以下理解准确的是：

A、不具备某种数字技能，很难在欧盟开展工作

B、65%的欧盟新入学儿童长大后面临失业的风险

C、新技术的发展往往弊大于利

D、大数据的发展会控制人类本身

32、平心而论，自古至今闲逸都是一种奢侈品，它取决于两个一般人最难以企及的前提：物质上的丰裕或者至少能够自给自足的生存自由，时间上有足够的闲余甚至或许靠没事找事来打发时光的自由。以此两者为前提，再辅以特定的精神需求，无论这种精神要求是来自虔诚如宗教意义上的感召，还是纯属内在的好奇，抑或是为了迎合时尚以示高贵、体面与教养，至少在被称之为“科学崛起”或“科学革命”的十七世纪，科学还只是极少数人方能消费得起的“瓷器活”。

下列说法与原文相符的是：

A、闲逸和精神需求的要求使得科学难在特定年代普及

B、时间上的闲余可以迎合时尚以示高贵、体面与教养

C、在十七世纪，只有富有的人才能从事科学相关工作

D、精神需求必然来源于宗教的感召或是心灵的好奇

33、就世界范围而言，在成熟的市场，大企业都是通过不断创新来赢得更多利润的。只有在不够成熟的市场，才有空间通过其他手段来获得高额利润。在一个信息日益对称的时代，畸形的高利润是不正常的，利用消费者心里不成熟等因素获得高额利润的企业将不再受欢迎。随着国内市场和消费者的更加成熟和理性，企业的未来一定会为消费者提供更好的更多样的产品。

下列不符合作者观点的是：

A、未来企业可以通过不断创新来获得更多利润

B、未来企业只有通过更多样营销才能获得高额利润

C、能够为消费者提供更好更丰富产品的企业才能在未来崛起

D、市场成熟度影响了企业获得高额利润的可能性

34、肉食悖论指的是，一些人喜欢吃肉，但不能联想到提供肉的动物死去的场景。研究者发现，人们通过一种被称为“语言伪装”的方法，让有感觉的生灵与潜在的食物来源之间的关联变得更模糊，以此来消除这种认知失调。例如，我们提到肉时不直接说动物的名称，英语里把猪肉叫做 pork，牛肉叫做 beef 或者叫做培根什么的。而 18 世纪的日本，由于当时的幕府禁止人们吃兽肉，偷吃肉的人以植物名称代替肉类，把马肉称为樱肉，把鹿肉称为红叶，把野猪肉称为牡丹。

这段文字主要说明：

A、“语言伪装”是人类自欺欺人的表现

B、日本人对植物的热爱超过动物

C、文化因素是消解肉食悖论的关键

D、“语言伪装”有助于克服认知失调

35、近年来，广州经济正经历一次深刻转型。此前，广州作为全球重要的商贸中心，更多的是汇聚全球的货物流、人流。而广州现在对枢纽型网络城市的打造，则旨在汇聚更重要的资金和智力（技术）要素，以形成一个全球性的高端要素配置枢纽。同时广州的产业结构也加速优化。在原有汽车、日化等优势产业的基础上，代表未来产业方向的“两端”产业——“终端产业”和“高端产业”正被引入广州，并实现集群化发展，从而补上了这座城市长期存在的产业短板。

最适合做这段文字标题的是：

A、广州顺应全球产业大势的自我变革

B、广州产业体系的未来发展趋势

C、广州未来经济体系建设

D、广州未来经济发展战略部署

36、将下列句子组成一段逻辑连贯，语言流畅的文字排列顺序，最合理的是：

①简单的答案是，如果信息是完全的，平等和效率是可以分开的。

②读者可能会问，什么时候平等和效率可以分开呢？

③在社会当中，平等和效率的关系是人们经常讨论的一个问题。

④也就是说，在完全信息的条件下，社会既可以实现最大效率，同时又可以达到合意的平等。  
⑤平等和效率之所以搅合在一起，有的时候为了效率会损害平等，而为了平等，就会损失效率，就是因为信息不完全造成的。

- A、②①③④⑤ B、③①②⑤④ C、③②①④⑤ D、②①④③⑤

37、将下列句子组成一段逻辑连贯，语言流畅的文字排列顺序，最合理的是：

- ①但是，当你一旦走入生活就不一样了，那里面有精彩的故事、鲜活的人物和传神的细节。  
②特别是艺术的形式与美感，只能从人类的生活本身去发现、提炼与获得。  
③有一位诗人形容作家坐在屋里挖空心思写不出东西的窘态是“把手指甲都绞出了水来”。  
④深入地去体察自然，才能胸有万壑，下笔有神。  
⑤艺术虽然高于生活，但归根结底源于生活，源于客观实际。

- A、②①⑤③④ B、③②①⑤④ C、④③②①⑤ D、⑤②④③①

38、将下列句子组成一段逻辑连贯，语言流畅的文字排列顺序，最合理的是：

- ①但是要真正落实“地方各级人民政府应当对本行政区域的环境质量负责”，光“亮相”是不够的，还得“亮剑”。  
②从某种意义上来说，这种“亮相”，也为这些环保落后城市提供了一个奋发向上的契机。  
③督促政府守法的手段，最常见的就是把那些环保不力的城市，放到聚光灯下“亮相”。  
④“亮相”并不是一种“法律责任”，但通过舆论的压力，可以起到很好的威慑效果。  
⑤只有把追责的板子直接打到党政领导干部身上，他们才会有更充分的压力和动力“真重视，真抓”环保工作。

- A、③④②①⑤ B、④③①⑤② C、③②①④⑤ D、④②③⑤①

39、近代以来，中华民族遭受的苦难之重，付出的牺牲之大，在世界历史上都是罕见的，可谓“\_\_\_\_\_”。改革开放以来，我们不断艰辛探索，终于找到了实现中华民族伟大复兴的正确道路，正是“\_\_\_\_\_”。而现在，我们比历史上任何时期都更接近中华民族伟大复兴的目标，比历史上任何时期都更有信心，有能力实现这个目标，一定是“\_\_\_\_\_”。

依次填入画横线部分，最恰当的是：

- A、雄关漫道真如铁，人间正道是沧桑，长风破浪会有时  
B、人间正道是沧桑，雄关漫道真如铁，长风破浪会有时  
C、长风破浪会有时，人间正道是沧桑，雄关漫道真如铁  
D、长风破浪会有时，雄关漫道真如铁，人间正道是沧桑

40、善念如花，善举是果。善念之花常开，善举之果却不易结。心怀善念，是有善端，这就像水之源、火之星，正是善的基础。然而，如果徒有善念而不为，也不过停留在“想”的层面，既不能给陷入困境的人以帮助，也不能给社会风气注入正能量，最终难免水源枯竭，火星熄灭。就此而言，\_\_\_\_\_。

填入画横线部分，最恰当的一句是：

- A、善念和善行是相辅相成，彼此促进的 B、善念对善行起到了驱动和引导作用  
C、善行比善念更重要，行动比观念更重要 D、只有落实到善行的善念，才是真正的善念

### 第三部分 数量关系

41、2, 4, 10, 28, 82, ( )

- A、244 B、246 C、248 D、250

42、1, 2, 4, 7, 12, ( )

- A、18 B、19 C、20 D、21

43、5, 7, 17, 19, 29, ( )

- A、31 B、39 C、41 D、47

44、1,  $\frac{1}{3}$ , 2,  $\frac{1}{2}$ ,  $\frac{8}{3}$ , ( )

- A、3 B、 $\frac{5}{3}$  C、4 D、 $\frac{5}{8}$

45、2, 3, -1, 4, -5, ( )

- A、-8 B、-9 C、8 D、9

46、水果店里有相同数量的苹果和梨，现要把这些苹果和梨放入若干个水果篮中。已知每个水果篮放6个苹果和4个梨，最后还剩下2个苹果和18个梨，那么一共包装了( )个水果篮。

A、2 B、4 C、6 D、8

47、某条道路进行灯光增亮工程，原来间隔 35 米的路灯一共有 21 盏，现要将路灯的间隔缩短为 25 米，那么有（ ）盏路灯无需移动。

A、2 B、3 C、4 D、5

48、一个车间需要生产模具 256 个，每小时生产 32 个可按时完成。但是生产期间机器发生了故障，修理了 1.5 个小时。后来只能加派人手使得每小时生产的模具提高到 48 个，这样恰好按时完成任务。机器在生产了（ ）个零件后发生了故障。

A、112 B、108 C、96 D、72

49、快递员小张在 A、B、C 三个小区送快递。已知小张走三条线路 A—B—C，B—C—A 和 C—A—B 所花的时间分别为 15 分钟、17 分钟和 18 分钟。那么距离最近的两个小区之间的路程要花（ ）分钟。

A、7 B、8 C、9 D、10

50、某单位计划为 95 名员工每人购买一本政策法规小册子，该小册子的售价为 6 元。书店对购买 100 本及以上者给予 9 折优惠。该单位可与其他单位拼团购买，如果该单位想完成这一任务，则最少需要花费（ ）元。

A、570 B、540 C、513 D、500

51、印刷厂印刷了一批共 1080 本字典，用大、小两种箱子进行分装。已知每个大箱子比小箱子多装 15 本，且 8 个小箱子的容量等于 3 个大箱子的容量。如果只用大箱子进行分装，则至少需要（ ）个大箱子。

A、40 B、45 C、50 D、55

52、某电影院根据放映时间将电影票分为 A 档、B 档和 C 档，票价分别为 30 元、50 元和 80 元。某天有 5200 名观众购票观影。电影院售票收入为 25.5 万元。已知售出的 A 档电影票是 C 档电影票的 2 倍。则当天售出 B 档电影票（ ）张。

A、500 B、1000 C、3700 D、4600

53、某部门开展年终评选工作。需从 11 名员工中评选出一名优秀员工和两名积极员工，且优秀员工与积极员工不能为同一人。则可能会出现的评选结果共有（ ）种。

A、495 B、990 C、1210 D、1980

54、某人用一笔钱买入两年期年化利率为 5% 的银行理财产品 M。两年后连本带息又追加 10 万元买入了年化利率为 6% 的银行理财产品 N，又一年后全部收益为 3.09 万元。那么这个人第一次买入了（ ）万元的银行理财产品 M。

A、10 B、15 C、20 D、30

55、如图所示，市政部门在一块周长为 260 米的长方形草地旁边铺设宽为 10 米的 L 形道路。已知铺好道路后，道路和草地面积之和为草地面积的 1.5 倍。则草地的面积为（ ）平方米。



A、4200 B、4000 C、3000 D、2800

#### 第四部分 判断推理

56、头发：理发剪

A、指甲：指甲钳 B、橡皮：橡皮擦 C、铅笔：铅笔盒 D、蜜糖：蜜糖罐

57、司机：乘客

A、教师：家长 B、医生：病人 C、编剧：演员 D、警察：小偷

58、招标：中标

A、宣传：推广 B、请示：批准 C、抽象：具体 D、支出：收入

59、电热毯：（ ） 与 （ ）：信鸽 在内在逻辑关系上最为相似

A、电扇；诗人 B、毛衣；织女 C、棉被；农民 D、暖炉；邮差

60、银行：（ ）与（ ）：拖拉机 在内在逻辑关系上最为相似。

A、叫号机；农民 B、点钞机；农场 C、取款机；农业 D、电视机；农田

61、树叶：季节

A、灰尘：历史 B、口才：道理 C、皮肤：年龄 D、运气：成绩

62、重量：公斤：天平

A、容量：千克：杯子 B、长度：厘米：尺子 C、温度：平方：被子 D、体积：大小：柜子

63、稻谷：粮食：种植

A、钢笔：文具：绘画 B、水果：西瓜：切割 C、人才：资源：培养 D、煤炭：石油：挖掘

64、购票：乘车：到达

A、报名：参赛：领奖 B、下单：付款：送达 C、排队：用餐：点餐 D、毕业：就业：失业

65、设计：张贴：海报

A、购置：发放：清单 B、粘贴：复制：段落 C、订阅：推广：报纸 D、制定：执行：方案

66、随着某市常住人口增加，运动场的人均面积正在逐渐减少。近期的一项研究指出，近几年来，该市居民的身体素质在逐步下降。据此，有专家认为，运动场地的缺乏，导致了居民运动量不足，因此居民身体素质逐年下降。

以下哪项如果为真，最能削弱上述结论？

A、该市大部分免费的运动场所常年冷清 B、居民运动年消费总额持续上升  
C、该市居民常规运动的种类正在增多 D、能坚持运动的居民数量逐年下降

67、下面是某冬日我国北方某些城市的天气情况：

(1) 有些城市有降雪；

(2) 有些城市没有降雪；

(3) 北京和邯郸没有降雪。

如果三个断定中只有一个为真，那么以下选项中哪个断定一定为真？

A、北京有降雪，但邯郸没有 B、所有这些城市都有降雪  
C、所有这些城市都没有降雪 D、以上各选项都不一定为真

68、去年，某镇把甲、乙、丙三个大学生村官分别分配到和丰村，团结村，杨梅村。人们开始并不知道他们当中究竟谁分配到哪个村工作，只是作了如下三种猜测：

①甲分配到和丰村工作，乙分配到团结村工作

②甲分配到团结村工作，丙分配到和丰村工作

③甲分配到杨梅村工作，乙分配到和丰村工作。

后来证实，三种猜测都是只猜中了一半。

由此可以推出：

A、甲分配到和丰村工作，乙分配到团结村工作，丙分配到杨梅村工作

B、甲分配到团结村工作，乙分配到和丰村工作，丙分配到杨梅村工作

C、甲分配到杨梅村工作，乙分配到和丰村工作，丙分配到团结村工作

D、甲分配到杨梅村工作，乙分配到团结村工作，丙分配到和丰村工作

69、由于我国大城市的房价和物价过高，导致生活成本明显高于中小城市，尤其是对于小城镇来讲，大城市的生活成本是小城镇的数倍。这样一来，势必限制了农村人口向大城市流入。因此，我国仅仅依靠发展大城市来实现城市化，是一条难以为继的艰难之路。

以下哪项是上述论证所隐含的前提？

A、大城市吸纳农村人口的能力没有上限 B、所有城镇都得到充分发展才能被称为城市化  
C、大城市对农村人口的吸引力远远大于中小城市 D、要实现城市化，需要让城市充分吸纳农村人口

70、国土资源部、住房和城乡建设部联合印发《利用集体建设用地建设租赁住房试点方案》，正在允许城中村、城郊村、城边村集体建设用地建设租赁住房，引起各方关注。有观点认为，集体建设租赁住房入市后，将使大量有购房意愿和购房能力的人去租房，进而平抑房价。

以下哪项如果为真，将最能质疑上述观点？

A、集体建设用地租赁住房试点会导致商品房建设用地供应量减少

B、允许集体建设用地租赁住房会使农民农业生产收入受损，试点方案的推进会受到阻碍

C、该试点方案的出台赋予了城中村、城郊村、城边村的出租房合法地位

D、该试点方案出台前就有大量集体建设用地偷偷入市，租房市场需求已经得到满足

71、格陵兰岛的冰架以疯狂的速度退却，阿拉斯加和挪威的冰川融化明显，安第斯山脉冰川陆续消失，巴塔哥尼亚的冰川处于危险之中，阿尔卑斯山脉最高的山峰惨不忍睹，就连珠穆朗玛峰和南极洲的冰川都出现了衰退的迹象……以上现象说明：全球冰川在气候变暖的影响下纷纷凋零。但是近年来冰川学家研究发现一个不同寻常的现象，喀喇昆仑山脉的冰川并未融化，数据显示，这些冰川甚至在增厚，每年增加 11 厘米。

上述断定最能支持以下哪项结论？

A、全球气候事实上并未变暖

B、气候变暖不是影响冰川融化的唯一原因

C、气候变暖不会影响冰川的增加或减少

D、气候变暖对冰川的影响小于对其他生态的影响

72、某大学教授认为我国住房公积金制度自实行以来，只有一些有购房能力的缴存职工享受到了低息购房贷款，而对于那些收入较低且无购房能力的工薪阶层并没有起到住房保障作用。所以，住房公积金制度是一种“劫贫济富”的制度，国家应该取消住房公积金制度。

以下哪项如果为真，将最能削弱该教授的观点？

A、住房公积金制度是国家建立的一项强制性住房保障制度

B、企业缴存部分的公积金对个人来说是一项额外收入

C、民营企业的缴存职工因收入不高而没有购房能力

D、外地务工人员一般不愿意在工作地买房

73、据统计，美国大约 2000 万人受螨虫过敏之扰。某大学的研究结果表明，相对于其他物种，美国东部和西海岸是螨虫的乐土，而西部内陆则是螨虫的地狱。因为螨虫只能生活在潮湿环境下。对此，专家建议，“如果你对螨虫过敏，住在美国和加拿大的干燥和高海拔地区，绝对是个不错的选择”。

以下哪项如果为真，最能有效支持上述专家建议？

A、住在美国西部内陆地区的对螨虫过敏人士数量要比居住在美国东部的多得多

B、从潮湿地区搬到干旱地区的床垫、毯子和家具也会滋生螨虫

C、很多对螨虫过敏的人士都表示他们在美国西部内陆出差期间过敏症状减轻了

D、通过用防过敏罩子床垫和毯子，每周更换床单，能有效抑制螨虫

74、在某次电子产品促销会中，某款电子产品特别受消费者欢迎。促销会负责人总结经验时说，看来只有投入了大量广告费用做宣传的电子产品才有好的市场接受度。

以下哪项如果为真，最能质疑负责人的论述？

A、某款电子产品的外观设计增加了更多科技元素，尽管没有做广告宣传，仍然受到市场欢迎

B、最关注电子产品广告的人群是青年人，而参加此次促销会的消费者恰好青年人多

C、某款电子产品投入了大量广告费用做宣传，但由于其价格过高，并不受市场欢迎

D、某些电子产品投入了大量广告费用做宣传，但是实际上并不具备所宣传的部分功能

75、企业管理学认为，人力资源管理部门在现代企业管理过程中有着十分重要的作用。但调研发现，该部门并未全程参与公司发展规划的决策，而且公司聘请的高级经理都是由 CEO 决定，所以，人力资源部门更多的时候只是起到支持和辅助的作用。

以下哪项如果为真，将最能削弱上述论证？

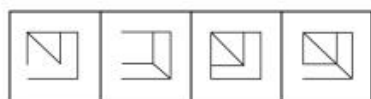
A、人力资源管理部有权雇佣中层管理人员

B、个别大型公司，人力资源管理部经理有权参加公司最高决策会议

C、人才是公司发展的核心要素，而人力资源管理部门能为公司吸引并留住人才

D、世界 500 强企业中，人力资源管理部门都是从有一线工作经验的员工中选调人员

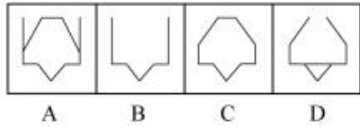
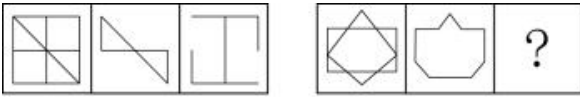
76、从所给的四个选项中，选择最合适的一个填入问号处，使之呈现一定的规律性：



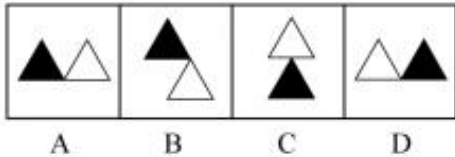
A B C D

77、从所给的四个选项中，选择最合适的一个填入问号处，使之呈现一定的规律性：

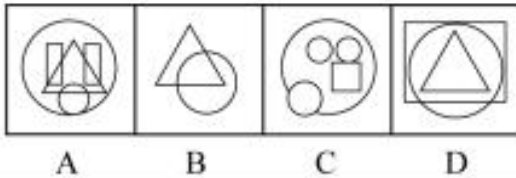
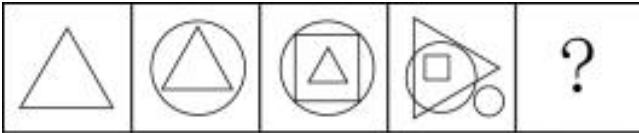




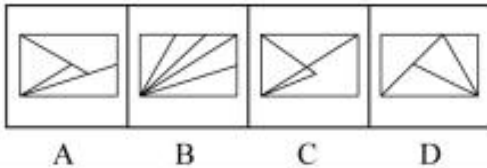

78、从所给的四个选项中，选择最合适的一个填入问号处，使之呈现一定的规律性：



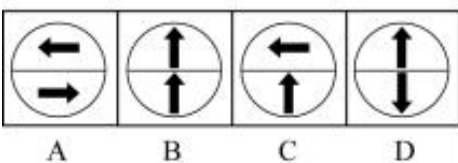
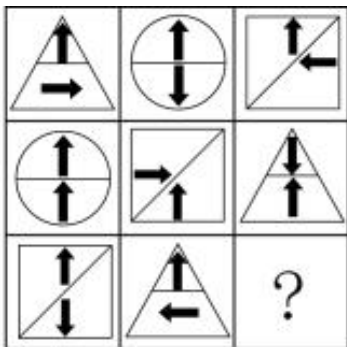
79、从所给的四个选项中，选择最合适的一个填入问号处，使之呈现一定的规律性：



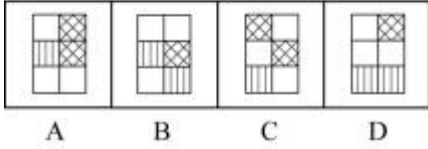
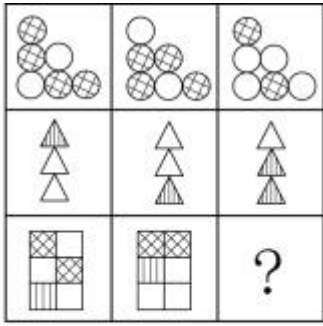
80、从所给的四个选项中，选择最合适的一个填入问号处，使之呈现一定的规律性：



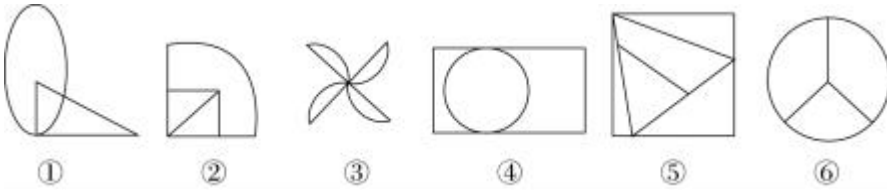
81、从所给的四个选项中，选择最合适的一个填入问号处，使之呈现一定的规律性：



82、从所给的四个选项中，选择最合适的一个填入问号处，使之呈现一定的规律性：

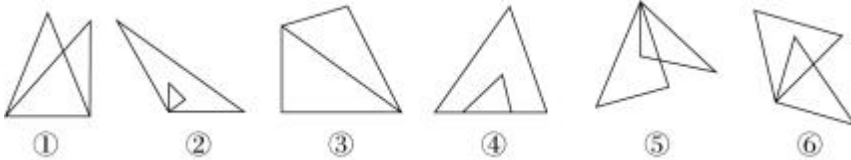


83、把下面的六个图形分为两类，使每一类图形都有各自共同特征或规律，分类正确的一项是：



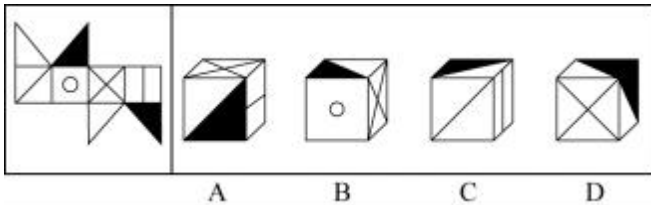
A、①④⑥，②③⑤    B、①②③，④⑤⑥    C、①③⑤，②④⑥    D、①③④，②⑤⑥

84、把下面的六个图形分为两类，使每一类图形都有各自共同特征或规律，分类正确的一项是：



A、①④⑥，②③⑤    B、①③④，②⑤⑥    C、①②⑤，③④⑥    D、①②③，④⑤⑥

85、左边给定的是纸盒的外表面，下面哪一项能由它折叠而成？



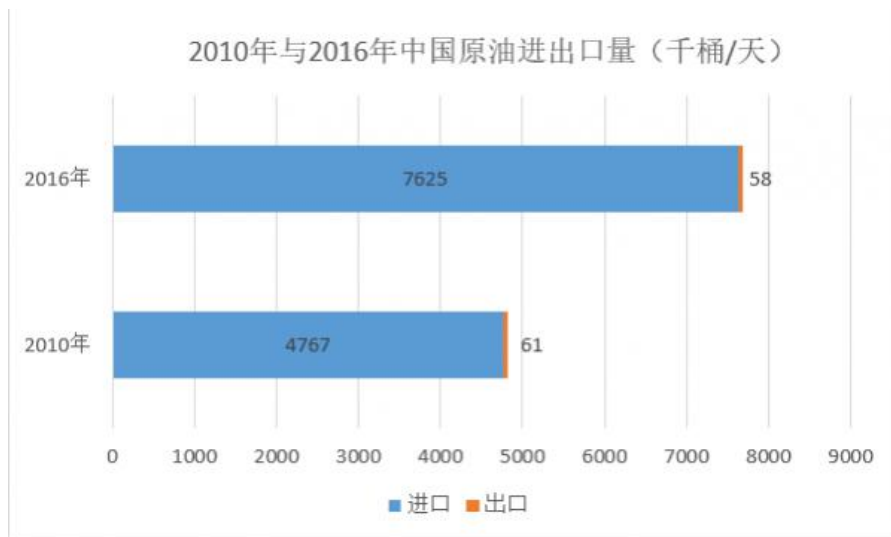
### 第五部分 资料分析

(材料)

2010年与2016年世界各地区原油进出口量

单位：千桶/天，%

地区	2010年		2016年		2010年		2016年	
	进口量	占世界比重	进口量	占世界比重	出口量	占世界比重	出口量	占世界比重
北美	10627	24.7	8768	19.5	1520	3.7	3262	7.4
拉丁美洲	1381	3.2	837	1.9	4624	11.2	5122	11.6
东欧	1850	4.3	1771	3.9	7273	17.7	7382	16.7
西欧	10625	24.7	10303	22.9	2555	6.2	2096	4.7
中东	519	1.2	501	1.1	15988	38.8	19211	43.5
非洲	805	1.9	653	1.5	7635	18.6	5747	13.0
亚太地区	17269	40.1	22074	49.2	1565	3.8	1356	3.1
世界	43075	100.0	44908	100.0	41159	100.0	44175	100.0



- 86、2016年中国原油进出口总量约比2010年增长了（ ）。
- A、-4.9% B、59.1% C、60% D、60.8%
- 87、按照原油出口量占世界比重由高到低排位，2016年排位与2010年完全相同的地区有（ ）个。
- A、0 B、1 C、2 D、3
- 88、与2010年相比，2016年原油进口量和出口量占世界比重变化最大的地区分别是（ ）。
- A、北美和中东 B、北美和非洲 C、亚太地区和中东 D、亚太地区和非洲
- 89、2016年中国原油进口量占世界比重约比2010年上升了（ ）个百分点。
- A、4.2 B、4.9 C、5.9 D、7.3
- 90、以下说法中正确的是（ ）。
- ①2016年中东地区原油出口量比2010年增长超过了15%
- ②2016年中国原油出口量占进出口总量的比重高于2010年
- ③与2010年相比，2016年东欧和西欧两个地区的原油进口量都有所下降
- A、①和③ B、①和② C、②和③ D、仅有③

(材料)

2017年10月份全国铁路主要指标完成情况

指标	计算单位	本月	比上年同期增长%	当年累计	比上年同期增长%
一、铁路运输					
1.旅客发送量	万人	27621	10.5	262457	9.3
2.旅客周转量	亿人公里	1122.06	6.5	11673.05	6.7
3.货物总发送量	万吨	32199	4.8	307705	13.5
4.货物总周转量	亿吨公里	2380.47	8.9	22278.33	15.9
二、铁路固定资产投资累计完成额					
	亿元	6256.38	0.4	6256.38	0.4

2017年11月份全国铁路主要指标完成情况

指标	计算单位	本月	比上年同期增长%	当年累计	比上年同期增长%
一、铁路运输					
1.旅客发送量	万人	22703	11.2	285160	9.4
2.旅客周转量	亿人公里	899.88	9.1	12572.93	6.9
3.货物总发送量	万吨	30774	0.9	338478	12.2
4.货物总周转量	亿吨公里	2350.74	6.4	24629.08	14.9
二、铁路固定资产投资累计完成额					
	亿元	7020.07	0.3	7020.07	0.3

2017年12月份全国铁路主要指标完成情况

指标	计算单位	本月	比上年同期增长%	当年累计	比上年同期增长%
一、铁路运输					
1.旅客发送量	万人	23219	11.8	308379	9.6
2.旅客周转量	亿人公里	883.99	8.4	13456.92	7.0
3.货物总发送量	万吨	30387	-3.8	368865	10.7
4.货物总周转量	亿吨公里	2333.13	-1.0	26962.20	13.3
二、铁路固定资产投资累计完成额					
	亿元	8010.43	-0.1	8010.43	-0.1

91、2017年10—12月全国铁路共完成旅客发送（ ）万人。

A、2905.93 B、73543 C、308379 D、855996

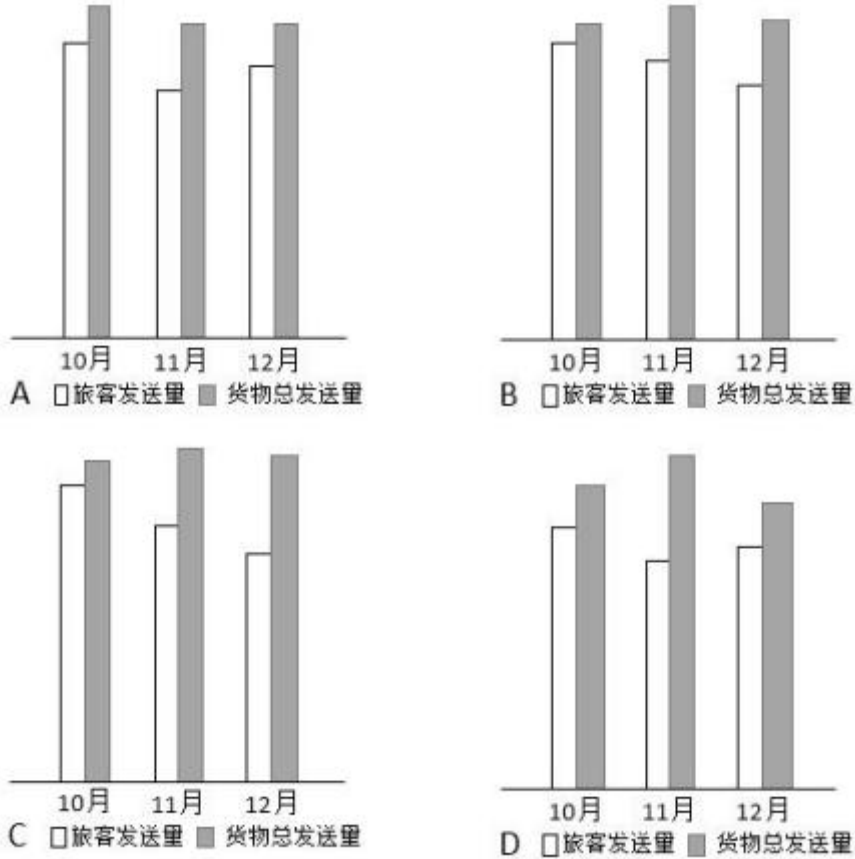
92、2016年1—9月全国铁路货物总发送量累计约为（ ）万吨。

A、215129 B、234836 C、240381 D、275506

93、2016年全国铁路货物总周转量当年累计完成约（ ）亿吨公里。

A、8018 B、21435 C、23797 D、333211

94、2017年10—12月份全国铁路旅客发送量和货物总发送量的图示应为（ ）。



95、以下说法正确的是（ ）。

A、2017年10—12月全国铁路旅客周转量合计超过3000亿人公里

B、2017年铁路固定资产投资当年累计完成额高于2016年

C、2017年10—12月份全国铁路货物总周转量呈现上升趋势

D、2016年全国铁路旅客发送量当年累计超过280000万人

(材料)

截至2017年末，全国农村贫困人口从2012年末的9899万人减少至3046万人，比上年末减少1289万人；贫困发生率从2012年的10.2%下降至3.1%，比上年末下降1.4个百分点。

分三大区域看，2017年东、中、西部地区农村贫困人口全面减少。东部地区农村贫困人口300万人，比上年减少190万人；中部地区农村贫困人口1112万人，比上年减少482万人；西部地区农村贫困人口1634万人，比上年减少617万人。

分省看，2017年各省农村贫困发生率普遍下降至10%。其中农村贫困发生率降至3%及以下的省份有17个，包括北京、天津、河北、内蒙古、辽宁、吉林、黑龙江、上海、江苏、浙江、安徽、福建、江西、山东、湖北、广东、重庆等。

全国农村贫困检测调查显示，2017年，贫困地区农村居民人均可支配收入9377元，比上年增加894元。

2017年贫困地区农村居民收入增速快于上年。其主要特点：一是粮食丰收，贫困地区农村居民出售农产品数量增加，粮食、肉羊等部分大宗农产品市场价格回升。农民家庭一产经营净收入人均2826元，增长3.2%，增速比上年提高0.5个百分点。二是随着产业扶贫、旅游扶贫、电商扶贫等深入推进，贫困地区二三产业加快发展，一二三产业融合发展取得可喜进展。农民家庭二三产业经营净收入人均897元，增长20.4%，增速比上年提高6.5个百分点。

2017年贫困地区农村居民分项收入增速全面快于全国农村居民。贫困地区农村居民人均工资性收入3210元，比上年增长11.8%，增速比全国农村平均水平高2.3个百分点；人均经营净收入3723元，增长6.9%，增速比全国农村平均水平高0.9个百分点；人均财产净收入119元，增长11.9%，增速比全国农村平均水平高0.5个百分点；人均转移净收入2325元，增长14.8%，增速比全国农村平均水平高3.0个百分点。

96、2016年，西部地区农村贫困人口占全国农村贫困人口的比重为（ ）。

A、9.8% B、36.5% C、51.9% D、57.9%

97、2016年贫困地区农民家庭一二三产业经营净收入人均（ ）元。

A、3483 B、3608 C、3723 D、8483

98、2017年全国农村居民分项收入增速最高的是（ ）。

A、人均工资性收入 B、人均经营净收入 C、人均财产净收入 D、人均转移净收入

99、以下省份，2017年农村贫困发生率全部在3%及以下的是（ ）。

A、吉林、安徽、海南 B、黑龙江、江西、贵州

C、内蒙古、湖北、河北 D、湖北、辽宁、宁夏

100、以下说法中错误的是（ ）。

①2012年末全国农村贫困人口约为2017年末的3.8倍

②2017年东、中部地区农村贫困人口之和占全国农村贫困人口的46.4%

③2016年贫困地区农村居民人均经营净收入占人均可支配收入的比重超过50%

A、①和② B、①和③ C、②和③ D、仅有③

👉 微信扫描二维码，关注“公务员考试挺简单”微信公众号，可获取更多公考经验。分享公考经验，还可获得现金奖励哈

👉 手淘扫描淘宝店铺，可以购买省考、国考历年真题哦



微信公众号



淘宝店铺