

2008年1025四川公务员考试《行测》真题

来源：粉笔 整理：杨柳（微信：gwy288）

第一部分 常识判断

- 1、政府机构改革中的“三定”是指：
A、定任务、定人员、定机构 B、定职责、定机构、定职务
C、定任务、定职务、定职位 D、定职责、定机构、定编制
- 2、我国宪法序言中的规定大都具有宣誓性质，不规定具体的权利义务内容，针对这些规定说法正确的是：
A、法律都应规定具体的权利义务内容，因此宪法序言中的这些规定不具有法律效力
B、宪法不同于一般法律，有一些宪法规范不规定权利义务的内容，这些宪法规范不具有法律效力
C、宪法不同于一般法律，宪法规范都不规定权利义务的内容，但这些宪法规范具有法律效力
D、宪法序言是宪法的组成部分，虽然大都没有规定权利义务的内容，但这些宪法规范具有法律效力
- 3、下列可以免税的个人收入是：
A、稿酬所得 B、国债和国家发行的金融债券利息 C、财产转让所得 D、偶然所得
- 4、交通控制表示停止的灯是红灯，公共场所的安全门上是红灯，自行车、汽车的尾灯也是红灯。这些地方使用红灯的主要原因是：
A、红光鲜艳，易识别 B、红光波长长，穿透能力强，远处可以看到
C、红光波长短，穿透能力强，远处可以看到 D、从心理上分析，红光使人易警觉、兴奋
- 5、第一届现代奥运会于19世纪末在古代奥运会的发源地召开，在形式、赛程设置等各个方面为现代奥运会奠定了基础。以下关于第一届现代奥运会的说法中不正确的是：
A、于1896年召开 B、地点在希腊的雅典 C、不允许女子参加比赛 D、马拉松没有被列入赛程

第二部分 言语理解与表达

- 6、有人_____比较理想化的模式——“环状+楔状城市绿地系统”，这样的系统有利于城乡一体化的形成。填入横线处最恰当的一项是：
A、认为 B、发现 C、提出 D、利用
- 7、我国荒漠化总体扩张的趋势还在延续，不断_____原本有限的生存空间，直接制约了国家社会和经济的可持续发展。填入横线处最恰当的一项是：
A、侵蚀 B、占据 C、损害 D、蚕食
- 8、经过10多万筑路大军历时5年的艰苦奋斗，青藏铁路格尔木至拉萨段建成，_____世界上海拔最高、线路最长的高原铁路青藏铁路全线胜利建成通车。填入横线处最恰当的一项是：
A、从此 B、此时 C、致此 D、至此
- 9、在开架的图书馆里，我可以自由地取阅架上任何我想翻阅的书。我竟成了_____的来客，不到闭馆时间，可以终日不离座位。填入横线处最恰当的一项是：
A、驾轻就熟 B、轻车熟路 C、囫囵吞枣 D、饥不择食
- 10、下岗工人将获得7万美元补偿，这相当于普通蓝领工人两年的税后年薪。仅靠这笔钱，在美元疲软、物价上涨的时代并不能_____，不过尚能维持一个家庭几年的正常生活。填入横线处最恰当的一项是：
A、高枕无忧 B、一劳永逸 C、丰衣足食 D、为所欲为
- 11、死了的植物如何会变成飞动的甲虫呢？我们若能这样追问，一切虚妄的学说都会_____。填入横线处最恰当的一项是：
A、迎刃而解 B、不攻自破 C、烟消云散 D、销声匿迹
- 12、地铁的诞生不仅仅是一场交通革命，是解决一座城市交通拥堵的根本出路，它更是一个现代化大城市发展的重要标志。地铁能改善城市结构，_____城市功能，提升城市的_____，对城市经济、文化的发展，都具有十分重要的战略意义。填入横线处最恰当的一项是：

A、完善 知名度 B、增强 国际化 C、维持 影响力 D、促进 智能化

13、生命意识是_____一个民族文明程度的重要标尺。如果不逐渐_____自己的生命意识，就永远也无法走进高度文明的现代社会。

填入横线处最恰当的一项是：

A、判断 增添 B、衡量 增强 C、区别 提高 D、甄别 提升

14、知识在本质上不是书本_____给我们的现成结论，知识的本质是发现，只有在自由的环境中，人们才_____更多发现的可能。

填入横线处最恰当的一项是：

A、灌输 具有 B、展示 拥有 C、传递 争得 D、呈现 获得

15、双方领导人强调应对存在分歧的问题进行高级别政治对话和各级别_____，这对增进理解、扩大共识和_____双边关系具有重要意义。

填入横线处最恰当的一项是：

A、商讨 提高 B、协商 增进 C、磋商 提升 D、商议 强化

16、指出下面没有语病的句子是：

- A、经过各方面的努力，大火和消防隐患都得到了有效控制。
- B、经过改变旧机制，企业干部的思想认识和福利待遇都有了很大提高。
- C、成功的经验和失败的教训对于完成一项事业来讲都是很重要的。
- D、教师、工人、农民在我国都是一种很神圣的职业。

17、从给出的几句话中选出有语病的一句：

- A、好奇本来就是人的天性，如果有不当的好奇心，那往往成为纷争的因由、祸患的起源。
- B、好奇本来就是人的天性，但是不当的好奇心，却往往成为纷争的因由、祸患的起源。
- C、好奇本来就是人的天性，但是好奇心不当，反而会成为纷争的因由、祸患的起源。
- D、好奇本来就是人的天性，假如有不当的好奇心，纷争往往难以避免，祸患也许就会降临。

18、下列各句中，下划线的词语使用恰当的一句是：

- A、二恶英成了当今词汇以后，各种媒体对它的“包装”可谓五花八门。有的写成“二恶英”，有的写成“二恶因”，有的写作“二巫英”。
- B、刚刚兴起跳交际舞的时候，我和妻极看不惯。不但自己不入“舞流”，而且还颇有微言。
- C、自从中国颁布实施外商投资法规以来，不少外商蠢蠢欲动，纷纷来中国投资。
- D、据专家测算，在首都市内的空气污染中，汽车尾气的排放可算首当其冲，竟占了污染总量的45%。

19、下面的四句话中有一句多一个“只”，请找出这一句：

- A、我不是不想去，只是没有时间而已。
- B、他从不向人说自己过去的功绩，人们都以为他只是一个普普通通的人。
- C、这又让我们看到猜忌的残酷，它只找到一点借口，就可以将一个人顷刻间置于死地。
- D、所谓综合，就是把部分结合成整体，它不只是各部分简单相加，而是再现事物各部分的本质联系。

20、下列各句，哪一句的表述最连贯：

- A、只要肯约束自己的贪欲，把欲望减少到最低限度，就可以过上比较简单的生活。
- B、只要把欲望减少到最低限度，就可以约束了自己的贪欲，满足于过比较简单的生活。
- C、一个人只要肯约束自己的贪欲，满足于过比较简单的生活，就可以把欲望减少到最低限度。
- D、一个人满足于过比较简单的生活的话，就可以把欲望减少到最低限度，因而约束自己的贪欲。

21、近年来，中国南方地区河川径流和水资源总量有所增加，增幅接近5%，而北方地区水资源量明显减少，其中以黄河、淮河、海河和辽河地区最为显著，资源总量减少了12%。按目前的正常需要，如果不超采地下水，正常年份全国缺水近400亿立方米。

这段文字意在强调：

- A、近年来全国缺水情况依旧很严重
- B、我国北方水资源总量明显低于南方
- C、我国水资源南方和北方分布不均衡
- D、全国水资源总量整体呈下降趋势

22、王旦与寇准同为北宋真宗时期才能出众、政绩卓著的宰相，同样受到宋真宗的器重。一次王旦这边送公文到寇准那边，体例不合。寇准禀报上去，王旦被真宗批评，手下人也跟着挨了罚。不久，寇准那边送来的公文也

C、家长学会使用电脑对帮助孩子学习和成长有诸多好处

D、家长要帮助孩子学电脑，首先自己要学会电脑

30、如果一直往上看的话，就会觉得一直在下面；如果一直向下看的话，就会觉得一直在上面；如果一直觉得在后面，肯定是一直在向前看。目光决定不了位置，但位置却永远因为目光而存在。关键是，即使我们处于一个确定的位置，目光却仍然可以投往任何一个方向。

符合这段文字的寓意的是：

A、即便现在处于逆境，我们也应当积极面对未来

B、我们应当树立远大目标来鼓励自己并为之付出努力

C、我们应当切实地认识自己，不要为虚无的幻想所牵绊

D、不论是何时、何地、何种情况，我们都应当独立地进行思考

31、有专家认为，上世纪80年代以来，通过多种融资渠道进行市场化运作的收费公路，确实从根本上改善了我国的交通条件，但这种市场化运作的公路投资管理体制，在解决我国交通供给严重短缺问题的同时，也付出了较大的代价，就是目前遍布全国的设卡收费的高价公路，已经成为影响我国经济持续快速健康发展的一个硬约束。

这段文字意在说明：

A、公路采取市场化运作并非明智之举

B、经济健康发展需要改变公路高价收费的现状

C、采用市场化运作的公路投资管理体制得不偿失

D、公路市场化运作是改善我国交通条件的必要条件

32、新中国成立以来，中国近代史研究取得了很大成就，但还存在着一些薄弱环节甚至盲区，比如，一般民众的历史、普通人的历史，包括他们的思想观念、行为方式、风俗习惯、日常生活等，就未能引起足够的重视。我们的历史研究应该注重老百姓自己的真实故事，只有把老百姓的故事讲清楚了，才是一部真实的中国近代史。

这段话主要谈论的是中国近代史研究：

A、取得的成就

B、存在的问题

C、发展的趋势

D、突破的关键

33、现在是传播过剩的时代，电视频道对于人们而言不再稀缺，电视频道的不断增加给了观众更多的选择，观众的注意力选择已经成为电视媒体追逐的稀缺资源。

这段文字最可能引起下面哪个话题？

A、电视媒体在对观众注意力的争夺战中如何获胜

B、传播过剩时代的电视观众应如何理智选择频道

C、传播过剩时代对人们的生活将会产生什么影响

D、热衷追逐观众注意力如何影响电视媒体的品位

34、现代科学的思维方式在科学发展过程中经历了巨大的变化，形成了与近代科学差异很大的新角度、新方位，从机械观思维向以系统观为主导的思维转变，强调认识系统的整体性、动态性和复杂性。

这段文字主要支持了以下哪种论点？

A、现代科学与近代科学的研究方法不同

B、现代科学的思维方式从机械观向系统观转变

C、思维方式总是伴随着科学发展过程而变化

D、现代科学强调认识的角度和方位的重要性

35、假若城市的教育资源能够在不同学校之间公平分配，那么就不会出现重点校与普通校的区别，也不会有一些教师因教育资源的过度聚集而“暴富”。假若教育资源在地域之间得到公平分配，边远地区的山村学校能获得更多的投入，那么，乡村教育就不会如此艰难。

这段文字主要谈论的是：

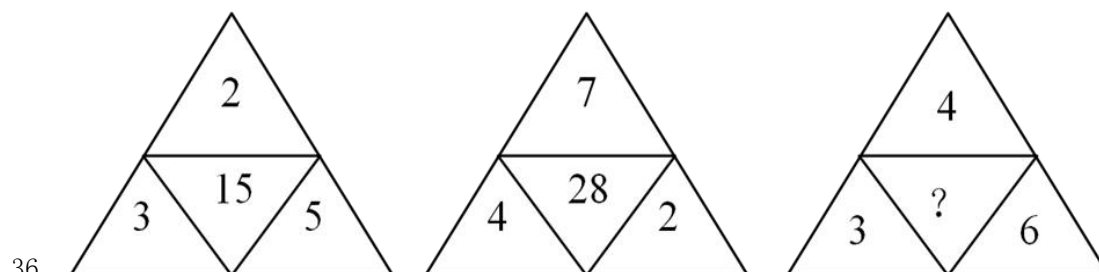
A、教育资源的公平化

B、教师收入的两极化

C、教育资源分配的地域差距化

D、学校划分的等级化

第三部分 数量关系



A、16 B、24 C、25 D、36

37、2，-2，6，-10，22，（ ）

A、-36 B、-40 C、-42 D、-48

38、22，8，28，40，24，32，（ ）

A、8 B、16 C、24 D、36

39、3, 8, 33, 158, ()

A、219 B、378 C、512 D、783

40、6, 21, 52, 105, ()

A、172 B、186 C、210 D、224

41、 $236^2 + 768 - 148^2$ 的值为：

A、33462 B、33568 C、34560 D、34664

42、两个数各加 2 的比为 3 : 2，两个数各减 4 的比为 2 : 1，问这两个数各是多少？

A、16、10 B、14、12 C、16、8 D、18、10

43、如果不堆叠，直径 16 厘米的盘子里最多可以放多少个边长 6 厘米的正方体？

A、1 B、2 C、3 D、4

44、某商品进价 240 元，8 折销售后还可获利 40 元，则原销售价比进价提高了：

A、17% B、45.83% C、60% D、145.83%

45、有四个学生恰好一个比一个大一岁，他们的年龄相乘等于 93024，问其中最大的年龄是多少岁？

A、16 岁 B、18 岁 C、19 岁 D、20 岁

46、一架飞机飞行在 A、B 两个城市之间。当风速为 28 千米/小时，顺风飞行需 2 小时 30 分钟，逆风飞行需 2 小时 50 分钟。问飞机飞行的速度是多少千米/小时？

A、338 B、410 C、448 D、896

47、从钟表的 12 点整开始，时针与分针的第一次垂直与再一次重叠中间相隔的时间是：

A、43 分钟 B、45 分钟 C、49 分钟 D、61 分钟

48、木材原来的水分含量为 28%，由于挥发，现在的水分含量为 10%，则现在这些木材的重量是原来的：

A、50% B、60% C、70% D、80%

49、某公交线路共有 15 站。假设一辆公交车从起点站出发，从起点站起，每一站都会有到前方每一站下车的乘客各一名上车，那么在第九站和第十站之间，车上有多少人？

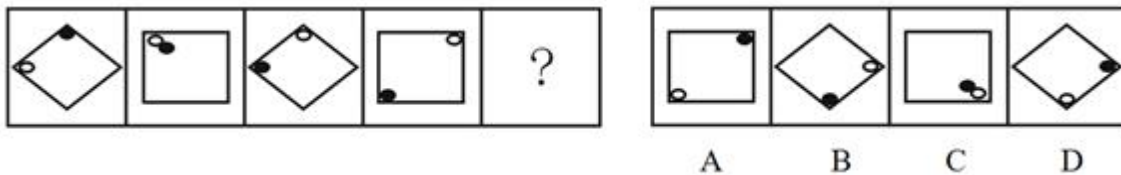
A、48 B、54 C、56 D、60

50、在火车车厢的通道两边每排各有两个座位，且全部坐满。列车员 A、B 负责为某一车厢旅客倒水（限每位一杯）。A 给右边的 6 位旅客倒完水时，被告知她应负责左边的旅客。于是 A 重新到左边开始给旅客倒水，B 接着给右边剩下的旅客倒水。之后，B 又帮 A 给 10 位旅客倒了水，最后两人同时结束工作。请问，多干的列车员比少干的列车员多为几位旅客倒了水？（A 给右边 6 位乘客倒完水后 B 才开始倒水）

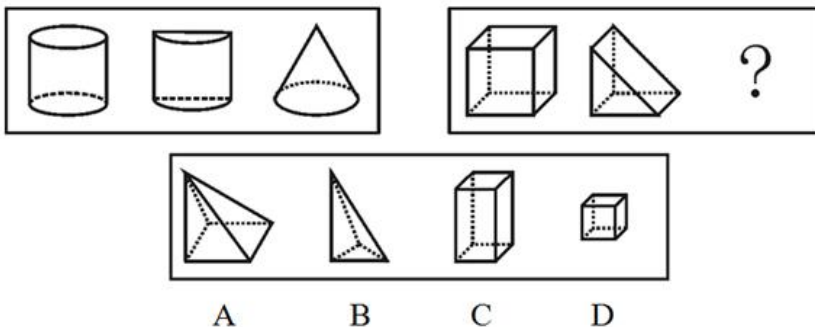
A、24 B、16 C、8 D、4

第四部分 判断推理

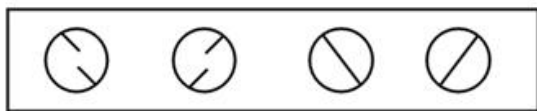
51、从所给的四个选项中，选择最合适的一个填入问号处，使之呈现一定的规律性：



52、从所给的四个选项中，选择最合适的一个填入问号处，使之呈现一定的规律性：



53、从所给的四个选项中，选择最合适的一个填入问号处，使之呈现一定的规律性：



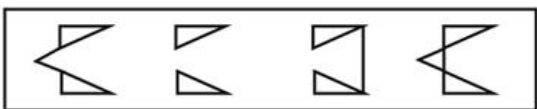
A B C D

54、从所给的四个选项中，选择最合适的一个填入问号处，使之呈现一定的规律性：



A B C D

55、从所给的四个选项中，选择最合适的一个填入问号处，使之呈现一定的规律性：




A B C D

56、从所给的四个选项中，选择最合适的一个填入问号处，使之呈现一定的规律性：



A B C D

57、从所给的四个选项中，选择最合适的一个填入问号处，使之呈现一定的规律性：



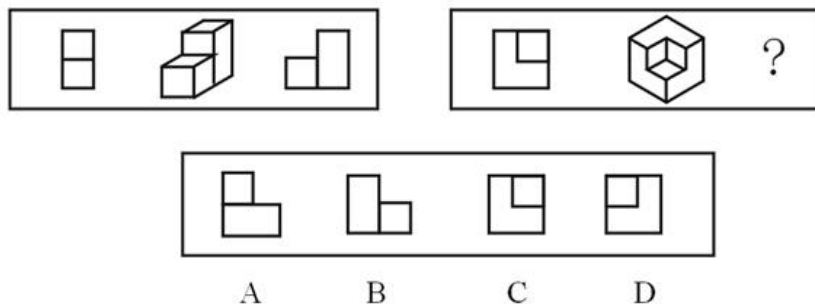
A B C D

58、从所给的四个选项中，选择最合适的一个填入问号处，使之呈现一定的规律性：

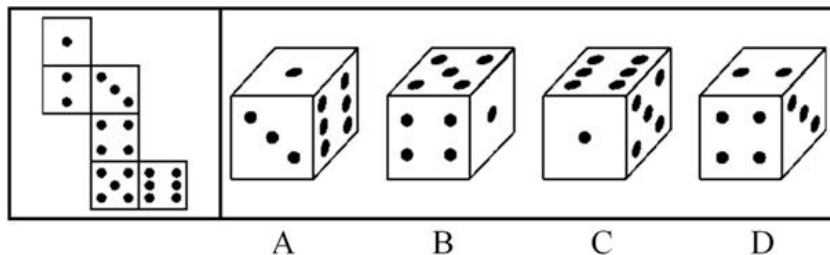


A B C D

59、从所给的四个选项中，选择最合适的一个填入问号处，使之呈现一定的规律性：



60、左边给定的是纸盒的外表面，下面哪一项能由它折叠而成？



61、科技实力：是指国家为了追求和实现发展战略目标，在全国和全球范围内，利用各种科学技术资源的能力。它包括科学创新能力、技术创新能力、利用新技术的能力、利用全球信息的能力和研发与发展的能力。一个国家的科技实力，为该国获取、利用和配置各类科技资源的能力集。

根据以上定义，一个国家的科技实力是指：

- A、科技是否处在世界同类科技的先进水平
- B、在世界科技技术竞争格局下的总体实力情况
- C、该国科学技术的“绝对实力”
- D、该国科学技术的“静态实力”

62、法律文书：是指法律机关依法制作的在其法律活动中承担法律职能、具有法律意义和法律效力的文书。

下列属于法律文书的是：

- A、张某关于其死后遗产分割问题的遗嘱
- B、法院关于冻结李某银行账户的裁定
- C、检察院关于调整上下班时间的公告
- D、公安局关于规范干警职务行为的十条禁令

63、标杆管理是指企业不断寻找和研究同行一流公司的最佳实践，以此为基准与本企业进行比较、分析、判断，从而使自己企业得到不断改进，以求进入赶超一流公司创造优秀业绩的良性循环过程，其核心是向业内或业外的最优企业学习。

根据上述定义，下列属于标杆管理的是：

- A、空调业内两大巨头公司合力投资、联合研发新一代生态环保空调
- B、某保险公司将本公司与业内最优公司的年终业绩差距与员工年终奖金挂钩
- C、某公司将同行公司“生产产品之前先造就人才”的先进经营理念引入本公司
- D、某公司研究对手公司的优势和弱势，改进自身生产流程，增强了产品的市场竞争力

64、非经济薪酬：是指员工从自身工作中得到的报酬，指员工由于努力工作受到表扬、晋升与重视，从而产生工作荣誉感、成就感、责任感，并获得社会的尊重与职业发展机会。

以下不属于非经济薪酬的是：

- A、在春节前组织部分员工出国旅游
- B、月度优秀员工得到一天额外的年假
- C、单位在年底总结会上为优秀员工发奖状
- D、在光荣榜中张贴业绩特别突出的员工照片

65、文饰作用，是指人们在受挫折后会想出各种理由原谅自己或为自己的失败辩解的现象。

根据上述定义，下列选项中不属于文饰作用的是：

- A、因经常上班迟到挨批后，小肖抱怨糟糕的交通
- B、小张没被评上教授，他认为自己没有走关系的缘故
- C、张先生因为丑闻颜面尽失，闭门不出
- D、因为晚归遭到父母追问，小红推说陪同学上医院看病

66、文化休克：是指势单力薄的族群或个体在优势文化中接受同化的过程中，由于新文化与母文化的巨大差异，人们面临进行重大调整、适应的压力，容易产生困惑、紧张、焦虑、过分敏感、情感不稳定、“思乡病”等消极体验，并且常常伴发心身性障碍。

下列属于文化休克的是：

- A、公司派小张出国学习一年。当其回国后，在生活和工作中一遇到挫折，就想起国外的好处和方便，心里产生消极情绪，变得沮丧和消沉
- B、某学者发现女性土耳其移民多数有紧张感。其原因除疾病、职业、居住拥挤因素外，与她们长期夫妻分居、文化水平及宗教信仰、价值观念、生活方式与当地文化生活环境冲突、语言障碍等因素有关
- C、前几年一名美国白人在匹兹堡枪杀数名少数族裔。据了解他是一名移民事务所的律师，一方面为许多外国人办理移民事务，另一方面又极度恐惧和仇恨这些外国人
- D、小赵毕业后不顾家人阻拦放弃优厚的待遇毅然选择去西北边疆支教，由于环境的不适应，很快出现剧烈的高原反应，开始后悔自己做出的选择

67、侵占罪：是指以非法占有为目的，将为他人保管的财物或者其他遗忘物、埋藏物占为己有，数额较大且拒不交还的行为。

根据以上的定义，下面哪种行为是典型的侵占罪？

- A、某甲的朋友某乙到某甲家中做客。酒后某乙将自己的内有价值 1.2 万元的手包忘在某甲的家中，返回寻找时某甲称未曾看到此包
- B、某一中外合资企业的会计利用其经手公司财务的便利，将公司的一笔 2 万元的收入转借给其好友，但是好友由于生意不好而未归还
- C、一位中年男子由于手头拮据，在一天晚上到其邻居家串门时，顺手拿走一条价值 5000 元的项链
- D、王某几年前向朋友刘某借用 1 万元，多年后一直忘记归还

68、模仿反射：是指当一个人看到别人完成一个动作时，这个人大脑的相应神经元会兴奋，且人类大脑中有一个基于个人自己模式的动作模板，因而大脑会自动模仿这个动作，以帮助得知动作的目标，从而明白动作产生主体的意图。

根据以上定义，以下不属于模仿反射的是：

- A、乙打哈欠，同一房间的甲也开始打哈欠
- B、甲看到有人把手伸向书架，便猜测这个人是要拿书
- C、篮球比赛中甲观察乙传球的动作，便知道乙要传给哪个队友
- D、一个小孩被大人的威吓动作给吓哭了

69、负性强化：是指一个行为的发生，随着这个行为出现了刺激的移去或刺激强度的降低，导致了行为的增强。

下列属于负性强化的是：

- A、一位正在雨中等车的妇女撑起了雨伞
- B、莎莎在餐桌上打嗝，妈妈立刻生气地看着她
- C、琴琴在课上认真听讲，老师表扬她，琴琴更认真地听课
- D、自行车厂实行按件付酬，工人每天组装的车更多

70、市场支配地位：是指经营者在相关市场内具有能够控制商品价格、数量或者其他交易条件，或者能够阻碍、影响其他经营者进入相关市场能力的市场地位。

以下说法正确的是：

- A、某村只有一家豆腐店，该豆腐店可以自行决定豆腐的价格，因此可以认为该豆腐店具有市场支配地位
- B、某市有五家实力相当的家电企业，这些企业实力强大，其他同行很难进入该市的市场，因此可以认为该市的每家家电企业都具有市场支配地位
- C、某通讯公司在国内占有绝大部分的市场份额，消费者不得不接受其电讯业务收费的价格规定，因此可以认为该通讯公司在国内具有市场支配地位
- D、某家具商城在某市很有知名度，很多市民都乐意去该家具商城买家具，而其他家具商城生意较为冷清，因此可以认为该家具商城在该市具有市场支配地位

71、近年来，生物燃料需求迅速增加。2000 年至 2007 年全球乙醇产量增加了两倍，到 2017 年其产量还会再翻一番，生物柴油的产量 10 年内也将增长一倍多。这些生物燃料是由玉米等谷物、糖类和油料作物生产的，因此其产量的扩大必然导致相关农作物价格的飙升。

如果上述观点正确，可以推出：

- A、农产品价格上涨将导致生物燃料产量降低
- B、如果农产品价格下降则说明生物燃料产量没有提高
- C、如果生物燃料产量下降则说明农产品价格提高
- D、乙醇等生物燃料产量增加是受农产品价格过低的影响

72、5000 年来，长江流域的气候变迁幅度小于黄河流域，雨量充沛，植被恢复能力也比北方强。每次严寒袭来，北方遭受的破坏要远大于南方，因此，中国经济中心就由北方移向南方。

最能反驳这一论述的是：

- A、自然环境并不是经济发展的主要因素 B、并非纬度越高气候变迁的幅度越大
C、北方并非年年遭遇严寒冬季 D、长江流域降雨并非总多于黄河流域

73、当臭氧达到一定浓度之后，会对人体造成严重的伤害。当人们吸入臭氧之后，臭氧就会因为其强氧化作用而使呼吸道产生烧灼感，造成呼吸系统充血或发炎，儿童、老人和患有呼吸道疾病的人受到臭氧的伤害尤为严重。据专家统计，在欧洲，臭氧污染导致欧洲人的死亡率增加了 2%~12%。

据此，可以推知：

- A、臭氧污染目前在欧洲最为严重 B、低浓度的臭氧并不会对人体造成伤害
C、臭氧的强氧化作用是其对人有害的原因 D、患有呼吸疾病的人对臭氧污染最为敏感

74、在当前的笔记本电脑市场上，存在大量的通过非正规渠道进入市场的廉价“水货”，即按照厂商政策不允许在中国大陆销售的产品。大量的“水货”冲击了正规渠道产品的销售。有的分析人员认为导致这种现象的主要原因是“水货”价格上的优势太大。

以下哪项是这位分析人员在分析中必须隐含的前提？

- A、市场监督管理部门没有强力打击“水货”现象 B、许多消费者无法承受正规渠道产品的价格
C、厂商销售政策不合理，给“水货”横行留下了空间 D、“水货”与正规渠道的产品相比，性价比更高

75、近来，我们对保险公司的保险商进行调查，结果显示那些工作环境比较好的保险商的工作业绩要比那些不好的高出 25%。评价工作业绩的客观标准包括工作量和工作的复杂程度。这表明改善工人工作环境会提高他们的劳动生产率。

那么，下述最不可能的是：

- A、劳动生产率高的工人的工作时间并不多于生产率低的同事
B、通常情况下，对劳动生产率高的工人回报以令人愉快的工作环境
C、相对于令人愉快的劳动环境来说，不愉快的工作环境会降低工人的工作劲头
D、平均来看，劳动生产率低的工人在工作岗位上所花费的时间少于生产率高的同事

76、如果有人出生于 60 年代，那么他肯定读过《毛主席语录》。

李同读过《毛主席语录》，则：

- A、李同一定出生于 60 年代 B、李同不可能出生在 70 年代
C、李同可能出生于 90 年代 D、李同可能出生于任何年代

77、等到贝克特获得诺贝尔奖的时候，20 世纪 60 年代已接近尾声了。他的一生不是在等待，就是在被等待。作为《等待戈多》的作者，虽然最终没有出席诺贝尔奖颁奖典礼，不过，他也没有拒绝奖金，否则他就成了萨特。

根据这段文字，可以推出：

- A、萨特没有出席颁奖典礼 B、萨特 20 世纪 60 年代获得诺贝尔奖
C、《等待戈多》写作于 20 世纪 60 年代 D、贝克特因《等待戈多》获得诺贝尔奖

78、由于同一宗房地产在不同的时间价值会有所不同，所以，估价通常只是对估价对象在某个特定时间的价值做出估计，这个时间被称为估价时点。

根据这段文字，下列说法一定错误的是：

- A、根据不同的估价目的，估价时点可以是过去
B、估价时点就是提前确定的估价作业开始的特定时间
C、拆迁的房产项目会因估价时点的不同获得不同的补偿
D、预测某一房地产项目建成后的价格时，估价时点为未来

79、化学物质 X 溶于水成为溶液，此溶液温度升高时，X 的化学活性增强；当 X 溶液与化学物质 Y 的溶液混合时，混合液的温度升高，Y 的化学活性增强而 X 的活性不变；当单独加热 Y 溶液时，Y 的活性保持不变。

由此可知：

- A、温度改变对 X 的活性不产生影响
B、温度的改变对 Y 影响大于对 X 的影响
C、把 X 和 Y 混合时，二者表现出的活性与单独被研究时不同
D、当与 X 混合时，Y 表现出的反应与单独被研究时相同

80、老王的四个儿子老大、老二、老三和老四中有一人买彩票中了大奖。有人问他们时，老大说“中大奖的可能是老三，也可能是老四”，老二说“老四中了大奖”，老三说“我没有中大奖”，老四说“中大奖的肯定不是我”。了解儿子的老王说“他们中有三位绝不会说谎话”。

若老王说得正确，则中大奖者为：

- A、老大 B、老二 C、老三 D、老四

81、（ ） 对于 跳水 相当于 跳高 对于 （ ）

- A、游泳；田径 B、表演；竞技 C、起跳；助跑 D、游泳；跳远

82、（ ） 对于 汽车 相当于 公寓 对于 （ ）

- A、轮胎；别墅 B、方向盘；钥匙 C、道路；小区 D、轿车；住宅

83、小气 对于 吝啬 相当于 （ ） 对于 （ ）

- A、闲话；聊天 B、发抖；战栗 C、盐；氯化钠 D、拷贝；复制

84、（ ） 对于 痊愈 相当于 改革 对于 （ ）

- A、服药；发展 B、治疗；挫折 C、疗养；创新 D、诊断；论证

85、（ ） 对于 毁誉 相当于 赞赏 对于 （ ）

- A、得失；奖励 B、功过；歌颂 C、褒贬；称道 D、成败；诋毁

第五部分 资料分析

(材料)

我国税收收入占国民生产总值比重表

年份	GDP (亿元)	税收收入 (亿元)	税收收入/GDP (%)
1985	8964.4	2040.8	22.8
1986	10202.2	2090.7	20.5
1987	11962.5	2140.4	17.9
1988	14928.3	2390.5	16.0
1989	16909.2	2727.4	16.1
1990	18547.9	2821.9	15.2
1991	21617.8	2990.2	13.8
1992	26638.1	3296.9	12.4
1993	34643.4	4255.3	12.3
1994	46759.4	5126.9	11.0
1995	58478.1	6038.0	10.3
1996	67884.6	6906.8	10.2
1997	74462.6	8234.0	11.1
1998	79395.7	9262.8	11.7

打开资料

86、1985~1998年期间我国国内生产总值（GDP）总计为：

- A、451059.8亿元 B、489870.3亿元 C、491394.2亿元 D、662167.8亿元

87、1985~1998年期间我国税收收入占国内生产总值的比重（税收收入/GDP）比上年减少的年份共计有：

- A、5年 B、7年 C、8年 D、10年

88、1985~1998年期间我国国内生产总值（GDP）增加额最大的年份是：

- A、1992年 B、1994年 C、1996年 D、1998年

89、1985~1998年期间我国税收收入增长率最大的年份是：

- A、1993年 B、1994年 C、1996年 D、1997年

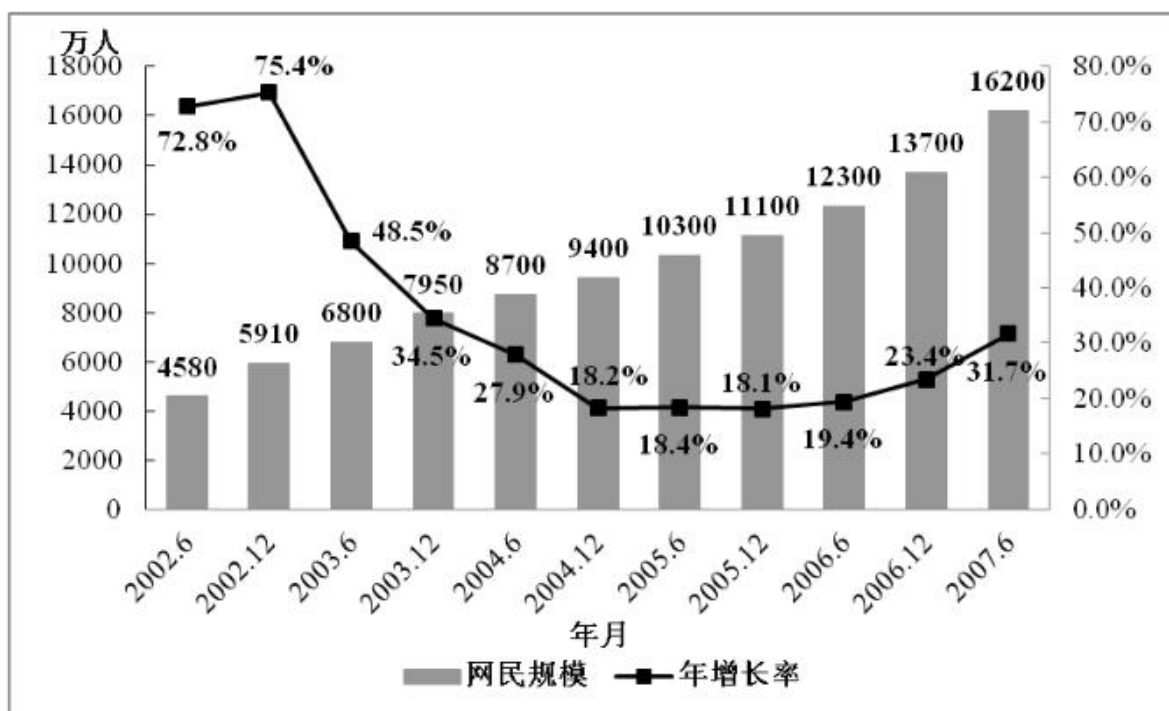
90、1985~1998年期间，我国国内生产总值（GDP）、税收收入、税收收入占国内生产总值比重（税收收入/GDP）三者比上年同方向增减的年份共计有：

- A、1年 B、3年 C、5年 D、6年

(材料)

阅读下列材料，回答下面的题目。

网民规模和年增长率



91、2007年6月与2006年同期相比，网民数增加了：

- A、1400万 B、2000万 C、2500万 D、3900万

92、年底与年中相比，网民规模增长最快的年份是：

- A、2002年 B、2003年 C、2004年 D、2006年

93、2003~2006年，网民规模的年平均增长率是：

- A、21% B、23% C、32% D、34%

94、2002年6月到2007年6月，网民的年平均增长数约为：

- A、1298万 B、1948万 C、2324万 D、2789万

95、下列说法正确的是：

- A、2002年到2007年，网民人数翻了两番
 B、从2003年开始，网民规模年增长率开始持续下滑
 C、2002年到2007年，每6个月的网民增长人数保持在800万左右
 D、若保持2007年的同比增长率，则到2008年6月网民人数将超过20000万人

(材料)

2006年，全国参加基本医疗保险人数为15737万人，比上年底增加1954万人。其中，参保职工11587万人，比上年底增加1565万人，参保退休人员4150万人。2006年，全国基本医疗保险基金收入1728亿元，支出1275亿元，分别比上年增长23.0%和18.1%。截至2006年底，基金累计结存1720亿元，其中统筹基金结存1056亿元，个人账户积累664亿元。

2006年全年城镇基本养老保险基金比上年增长23.9%，其中征缴收入5215亿元（增长20.9%），各级财政补贴基本养老保险基金971亿元，中央财政预算安排774亿元。全年基金总支出4897亿元，比上年增长21.2%。

2006年全国参加农村养老保险的人数为5374万，全年共有355万农民领取了养老金，比上年增加53万人，全年共支付养老金30亿元，年末农村养老保险基金累计结存354亿元。

2006年全国参加失业保险的人数为11187万人，比上年末增加539万人。全国领取失业保险金人数为327万人，比上年末减少35万人。全年失业保险基金收入385亿元，比上年增长15.8%，全年基金支出193亿元，比上年减少6.9%，年末失业保险基金累计结存708亿元。

打开资料

96、2006年参保退休人员数量比上年增加了：

A、9.37% B、10.34% C、13.51% D、19.91%

97、2005年全国基本医疗保险基金支出额为：

A、1079.6亿元 B、1123.7亿元 C、989.4亿元 D、1201.9亿元

98、如果2007年全国城镇基本养老保险基金支出总额与2006年持平，且月支出额相等，那么，2006年结存的城镇基本养老保险基金大约可维持2007年（ ）个月的支出。

A、4 B、5 C、6 D、7

99、2005年年末失业保险基金累计结存：

A、395亿元 B、385亿元 C、192亿元 D、516亿元

100、2006年，资料中所述的四种保险中：

A、全国基本医疗保险基金的结存额最高

B、全国城镇基本养老保险基金收入和支出的增幅均最大

C、全国农村养老保险，参加人数最少，基金支出额最低

D、全国失业保险基金是唯一一项支出减少的基金

👉 微信扫描二维码，关注“公务员考试挺简单”微信公众号，可获取更多公考经验。分享公考经验，还可获得现金奖励哈

👉 手淘扫描淘宝店铺，可以购买省考、国考历年真题哦



微信公众号



淘宝店铺