

# 2007 年福建秋季公务员行政职业能力测试真题

注:此套题解析为图片格式,不是很清晰

## 第一部分 常识判断(共 25 题,参考时限 25 分钟)

1-25 题为单项选择题,每小题 0.8 分,25 题共 20 分。

1. 今年 6 月 25 日,胡锦涛在中央党校省部级干部进修班发表的重要讲话中指出,加强社会建设,要以解决人民最关心、最直接、最现实的利益问题为重点,使经济发展成果更多体现到改善民生上。这体现了( )

- 1 党全心全意为人民服务的宗旨 2 立党为公,执政为民的理念  
3 党代表中国最广大人民的根本利益 4 民生问题是党执政兴国的第一要务

A. 124 B. 123 C. 234 D. 134

2. 2008 奥运会在中国北京举办,下列关于奥运会不正确的是( )

- A.2008 北京奥运会火炬名称叫“祥云” B.第一届奥运会在雅典举行  
C.奥运会周期是四周年 D.建国后,我国第一次参加奥运会

3. 纪录片《长征路上》的热播引起了强烈反响。假如让你按当年的足迹重走长征路,没有经过的省份是( )

- A.浙江 B.江西 C.湖南 D.贵州

4. 2007 年 3 月 25 日《人民日报》发表文章提出:收入分配是关系到社会公平能否实现的核心问题,抓住了收入分配调整这个关键,就牵住了社会公平的牛鼻子。这句话体现了( )

- A.发挥主观能动性是尊重客观规律的前提 B.正确认识是实践发展的根本动力  
C.事物的性质是由事物的主要矛盾所规定的 D.主要矛盾在事物发展过程中起决定作用

5. 2007 年 1 月 29 日,新华社全文发布了《中共中央国务院关于积极发展现代农业,扎实推进社会主义新农村建设的若干意见》,这是继 2004 年连续第四年制定的指导“三农”工作的“一号文件”。下列说法不属于发展现代农业要求的是( )

- A. 用现代科学技术改造农业 B. 扩大耕地面积,提高土地产出率  
C. 培养新型农民发展农业 D. 用现代产业体系发展农业

6. 明天就是选举日了,以下公民中不具有选举权的是( )

- A. 张某刚过完 17 岁生日 B. 黄某被判劳动教养 3 年执行中  
C. 王某被查出患有精神病 D. 陈某被拘留 15 天执行中

7. 下列不属于我国公务员应当具备的条件是( )

- A. 具有中华人民共和国国籍 B. 年满十八周岁 C. 具有良好品行 D. 具有大专以上文化程度

8. 古诗词是古人为我们留下的宝贵财富。下列诗句中只涉及物理变化的是( )

- A. 野火烧不尽,春风吹又生 B. 春蚕到死丝方尽,蜡炬成灰泪始干  
C. 只要功夫深,铁杵磨成针 D. 爆竹声中一岁除,春风送暖入屠苏

9. 下列无须缴纳个人所得税的是( )

- A. 小周从编辑部领到稿酬 2000 元 B. 小郑购买彩票中了 5000 元  
C. 小马经营的公司这个月收益 10 万元 D. 小芳办了一个培训班,每月获 4000 元收益

10. 下面对“扬州八怪”理解有误的是( )

- A. 以金农为首的一批聚集在扬州的书画家 B. 八位扬州的名画家  
C. “扬州八怪”中郑板桥擅画兰竹图 D. “扬州八怪”是清代中期最著名的书画流派

11. 中医说的“望、闻、问、切”中的切,指的是号脉。这里的脉是指( )

- A. 动脉 B. 静脉 C. 毛细血管 D. 经络

12. 近年来,市场上出现了“红心鸭蛋,多宝鱼,福寿螺”等黑心食品,我国政府用技术和法律手段进行严加监管,让消费者放心使用食品。对此,下列说法有误的是( )

- A. 市场调节有一定局限性 B. 政府在履行经济监管职能  
C. 我国政府是人民意志的执行者和利益的捍卫者 D. 市场调节的缺陷是不可克服的

13. 在北方,人们常用地窖储存粮食和蔬菜。当人们要进入地窖时总会在通风口打开一段时间,最主要是因为( )

- A. 地窖内太冷了 B. 地窖里有大量的二氧化氮 C. 地窖里有大量的二氧化碳 D. 地窖里有大量的氧气
14. 夏天,从冰箱里拿出冰冻的啤酒发现啤酒瓶外面“出汗”,以下对这种现象解释正确的是( )  
 A. 酒从瓶中渗出 B. 空气中水蒸气汽化 C. 啤酒瓶上水汽化 D. 空气中水蒸气遇冷液化
15. 张某刚刚购得一辆新车,有次外出因刹车失灵导致翻车受伤。下列说法不正确的是( )  
 A. 张某可要求商家承担赔偿责任 B. 张某可要求厂家承担赔偿责任  
 C. 商家向张某赔付后可向厂家进行索赔 D. 张某在要求厂家承担赔偿责任的同时,可要求商家进行赔偿。
16. 陈某是某控股公司的员工,且持有该控股公司的股票,年底分红时获得3万元股息收入。陈某收入属于( )  
 A. 资本要素获得收入 B. 技术要素获得收入 C. 按劳分配要素获得收入 D. 经营要素获得收入
17. “我们向广大市民群众表示深深的歉意,并诚恳接受市民群众的批评。”2007年1月11日,深圳市三个政府部门首次发布的《关于改善梅林关及周边区域交通状况工作告市民书》同时出现在几家深圳媒体上.政府公开向市民道歉表明  
 A. 政府正在逐渐转变职能 B. 我国国家机构实行依法治国原则  
 C. 自觉接受公众监督,我国国家机构努力为人民服务 D. 社会主义民主与法制不可分割
18. 对于被困在火区中的人,不恰当的做法是( )  
 A. 烟大时,用湿毛巾捂住口鼻 B. 乘坐电梯逃生 C. 到阳台求救 D. 打电话报警
19. 毛泽东诗词“一桥飞架南北,天堑变通途。”中的“一桥”指的是( )  
 A. 钱塘江大桥 B. 上海浦东大桥 C. 南京长江大桥 D. 武汉长江大桥
20. 我们时常会看到,在池塘的水面上,蜻蜓飞得很低,它们不时地把尾巴往水里沾一沾,这就是我们常说的蜻蜓点水。蜻蜓沾水主要是( )  
 A. 为了降温 B. 戏水玩耍 C. 在水中产卵 D. 在水中寻找食物
21. 现在儿童的饮食结构普遍不合理,其中对微量元素尤为缺乏。缺乏微量元素不仅会影响儿童的生长发育,还会影响儿童智力的正常发育。主要是因为儿童缺乏所必需的( ) A. 钙 B. 铁 C. 磷 D. 锌
22. 2007年年初以来,人民币汇率屡创新高,下面有关汇率升高说法正确的是( )  
 A. 有利进口,不利出口 B. 有利出口,不利进口  
 C. 能够增加我国外汇储备 D. 能够增强对外资的吸引力
23. 2000年至2006年,中央已累计投入1300亿元用于退耕还林工程。中央不断加大退耕还林力度主要是为了( )  
 A. 财政在资源配置中起基础作用 B. 国家通过财政有效调节资源配置  
 C. 农业发展主要靠国家财政支持 D. 经济发展水平对财政影响是决定性的
24. 为了吸引外商投资,我国自上世纪80年代以来实行了内外资企业所得税双轨制,采取了一些对外资倾斜的税收优惠政策。在2007年3月16日通过的《企业所得税法》中我国将内外资企业所得税率统一规定为25%。内外资企业所得税的统一表明( )  
 A. 体现了市场经济的法制性特征 B. 是我国坚持独立自主的表现  
 C. 是市场经济平等性的要求 D. 必然导致外资对中国投资减少
25. 2007年《物权法》获得高票通过,这部法律被认为对于推进中国经济体制改革和建设法治国家都具有重大意义,标志着社会主义市场经济进一步完善,政治文明迈出了重要一步。《物权法》的通过,有利于( )  
 1 各种所有制经济充分发挥各自优势,相互促进,共同发展  
 2 充分发扬社会主义民主,保障人民政治权利  
 3 充分发挥国家的宏观调控手段在资源配置的基础作用  
 4 明确私有财产范围,依法对私有保护  
 A. 12 B. 34 C. 14 D. 23

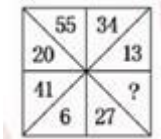
## 第二部分 数量关系 (共15题,参考时限15分钟)

本部分包括两种类型的试题:

一、数字推理:共5题。给你一个数列,但其中缺少一项,要求你仔细观察数列的排列规律,然后从四个选项选出最符合规律的一项来填补空缺项。

请开始答题:

- 26 8 15 24 35 ( )  
 A 47 B 48 C 49 D 50
- 27 18  $\frac{1}{3}$  6 2 12 ( )  
 A 26 B 24 C 22 D 20
- 28 12 1112 3112 211213 ( )  
 A 3112213 B 132231 C 112233 D 332211

29  3 42  
 D 58 ( )

30 ( )



- A 21 B 42 C 50 D 78

二、数学运算：共 10 题。每道试题呈现一道算术式，或表述数字关系的一段文字或几何图形，要求你迅速、准确地计算或认证出答案。

31  $1^2 - 2^2 + 3^2 - 4^2 + 5^2 - 6^2 + \dots + 9^2 - 10^2 = ( )$   
 A -55 B -45 C 45 D 55

32 已知  $f(x+1) = -\frac{1}{f(x)}$ , 若  $f(2) = 2007$ , 则  $f(2007) = ( )$   
 A 2 B  $-1/2007$  C  $1/2007$  D 2008

33 已知  $3x^2 = 2x + 1$ , 则  $9x^4 - 4x^2 - 4x + 1 = ( )$   
 A 0 B 1 C 2 D 4

34 一批武警战士平均分成若干小组执勤。如果每 4 人一组，恰好余 1 人。如果每 4 人一组，恰好也余 1 人。如果每 6 人一组，恰好还是余 1 人。这批武警战士至少有( )人。  
 A 121 B 101 C 81 D 61

35 一个几何体的正视图，俯视图与侧视图都是腰长为 1 的等腰直角三角形。则这个几何体的体积是( )  
 A 1 B  $\frac{1}{2}$  C  $\frac{1}{3}$  D  $\frac{1}{6}$

36 一项工程计划用 20 天完成，实际只用了 16 天就完成了。则工作效率提高了( )%。  
 A 20 B 25 C 50 D 60

37 某股民以 12 元的均价买了某公司股票 5000 股。该股票下跌 12 元时，又买入该股票 3000 股。此后这只股票涨 10%，他将该股票全部卖出，则该股民操作这只股票的业绩情况是( )  
 A 盈利 13200 元 B 盈利 2640 元 C 亏损 3020 元 D 亏损 2400 元

38 用铁丝折成一个如图风轮状的图案。大圆半径为 10cm，则所用铁丝总长为( ) cm

- A 31.4 B 62.8  
 C 94.2 D 125.6



39 依序连接正方形各边的中点得到新的正方形，如此反复三次。阴影部分与空白部分的面积比为( )

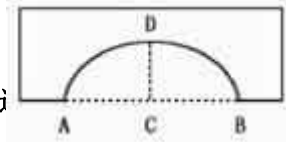
- A 3:1 B 3:2



C 5:3 D 5:2

40 圆拱桥的拱高  $cd=2\text{cm}$ 。跨度  $AB=8\text{cm}$ ，可以计算圆拱半径是( )  $\text{cm}$

A 5 B 10  
C 12 D 17



### 第三部分 言语理解与表达

(共 30 题，参考时限 25 分钟)

每道题包括一段话或一个句子，后面是一个不完整的陈述，要求你从四个选项中选出一个来完成陈述。注意：答案可能是完成对所给文字主要意思的提要，也可能是满足陈述中其他方面的要求，你的选择应与所提要求最相符合。

41 提倡助人为乐，多为他人着想，是亲和邻里关系，建设和谐社会的基础。以下选项中，对句中划线字读音正确的是( )

A 都读 wéi B 都读 wèi C 分别读 wéi wèi D 分别读 wèi wéi

42 所谓彩色木刻画就是用木刻套印的方法印成画模，人物、花鸟、山水……差不多跟中国画画家笔下的真迹一模一样。我家里挂着一幅新罗山人的花鸟画，一块石头前伸出一枝海棠，三个红胸鸟停在枝上，上下照应，瞧那神色正在那里使劲地叫呢！文中加点词运用不恰当的是( )

A 所谓 B 差不多 C 照应 D 神色

43 下列句中划线词运用恰当的是( )

A 消费者一旦被认为遭到经营者的精神损害，经营者将支付至少五万元以上的精神赔偿  
B 我省不同地区有不同特点，努力发展本地区的特点，是切合实际的做法  
C 细究起来，华夏民族文化这一概念，本身就有一个动态发展的过程，而并非是一个封闭的稳定范畴。  
D 老人吃力得推着车，但无论如何都推不上那个土坡，我上前帮他一把，趁机向他聊了起来。

44 下列句中语意明确的是( )

A 近日汇市美元对日元的比价小幅攀升。B 有偿新闻 应受到严肃批评，这是及其错误的。  
C 税收改革为家庭带来收入增加并提高消费水平。D 大家已经认识到，通讯的畅通是招商引资的重要筹码。

45 面对耶路撒冷孤立的哭墙，我没有眼泪，心中却充满悲情，这是由古至今最悲怆的犹太民族啊！两千多年的历史无立锥之地，600 万的犹太人民被屠戮，在纳粹的刀光剑影之下。

句中划线部分有错别字的一项是( )

A 悲怆 B 立锥之地 C 屠戮 D 刀光剑影

46 科学发展观对中国特色社会主义事业的\_\_\_\_\_指导意义将随着时间的发展越来越充分的现实出来，句中划线应填入( )

A 重大而深刻 B 极其重大 C 极其深远 D 重大而深远

47 一个人，一个家庭，一个国家，具备了节约的美德，具有艰苦奋斗的精神，那么，无论环境多么\_\_\_\_\_，生活多么\_\_\_\_\_，道路多么\_\_\_\_\_，都会顽强生存，一步步走出困境，最终走向强盛。

句中划线部分填词最恰当的一项是( )

A 恶劣 艰难 曲折 B 艰难 恶劣 曲折 C 恶劣 曲折 艰难 D 曲折 艰难 恶劣

48 中国共产党坚持抗战，\_\_\_\_\_，坚持团结，\_\_\_\_\_，坚持进步，反对倒退，成为引导全民族抗战走向胜利的一面旗帜，下列依次填入划线处的词语最恰当的一项是( )

A 反对妥协 反对分裂 B 反对分裂 反对妥协 C 反对投降 反对妥协 D 反对妥协 反对投降

49 下列句子中没有语病的一项是( )

A 风儿掠过稻田时，恰似波涛滚滚的黄河上下起伏  
B 最近他的缺点已经改进了不少。  
C 老人那清晰的思路，开朗的性格，乐观的情绪和坚定的信心深深的感染了我们。  
D 我们看到了脚踏实地、积极勤奋，不断进取的现代教育者形象，听到了一曲耕耘者之歌

50 下列句中有语病的一项是( )

A 青藏铁路纵贯青海，西藏两省区，跨越青藏高原，是连接西藏与内地的一条具有战略意义的铁路干线。  
B 五一路乒乓球馆是经体育局和民政局批准的专门推广乒乓球运动的团体。  
C 明朝嘉靖之后，世风日下，贪官被视为正常，清廉被绩效，因而在官员离任时人们常以宦囊的重轻来评判他们能力的大小。  
D 南昌八一起义纪念馆陈列这周恩来当年使用过的许多物品。

51 一个社会的文化极其传统在很大程度上决定着这个社会的精神面貌，没有和谐的文化就没有和谐的社会，在当今中国建设和谐文化就是建设社会注意先进文化，这个文化以社会主义意识形态为核心，继承发扬中华民族 和合 的文化传统，吸引借鉴世界文化传统的文明成果，立足当代实践，体现时代精神，使人们树立和谐的思想观念和思维方式，使和谐的理念成为社会的重要价值取向。

根据上文不属于论述范围的是( )

- A 构建和谐社会必须着力建设和谐文化 B 和谐文化要以高尚的精神塑造人，以优秀作品鼓舞人  
C 没有和谐文化就没有和谐社会 D 构建和谐文化目的是使和谐理念成为全社会的价值取向

52 建设海峡西岸经济区必须按照中央提出的又好又快发展的要求，把“好”字放在突出的位置，更加注重“好”，准确地理解“好”。协调是一种好，比如速度，质量，效益相协调；消费，投资，出口相协调；人口，资源，环境相协调；质，量，度的把握是一种好，从经济发展来讲，没有质就没有量，没有量也就没有质，没有“好”就没有“快”，没有“快”也无所谓“好”，它是一个统一的整体。

上面这段话的中心意思是( )。

- A.建设海峡西岸经济区要贯彻落实“好”与“快”协调发展的原则  
B.建设海峡西岸经济区要把速度放在首位  
C.建设海峡西岸经济区要把重量放在首位  
D.建设海峡西岸经济区不能忽略环境因素

53.黄河是我国第二大河，也是世界上屈指可数的明川。她从巴颜喀拉山北麓起步，接纳千溪百川，一路浩浩荡荡，奔腾东流，经青海，四川，甘肃，宁夏，内蒙古，陕西，山西，河南，山东等九个省区，注入浩瀚的大海。全长 5464 公里，流域面积 75 万多平方公里，像一条金色的巨龙，昂首横卧在我国北部辽阔的大地上。

下列选项中不属于黄河特点的是( )。

- A. 黄河流程漫长 B. 黄河流域广大  
C. 黄河气势雄伟 D. 黄河是中华民族的摇篮

54.林语堂曾以“两脚踏东西文化，一心评宇宙文章”自许，他的文化思想信仰也以“博取众家之长”，“融会贯通”为旨归。这种文化观念之形成，当然有许多内在和外在的原因，但我认为这与蔡元培的影响是密不可分的。

这段话的中心意思是( )

- A.林语堂是一个颇为自负的文化人 B.林语堂于东，西方文化皆有很深的造诣  
C.林语堂和蔡元培关系密切 D.蔡元培是林语堂文化观念形成过程中不容忽视的重要人物

55 心是花园，思想为种，既可以繁花似锦，也能杂草丛生。仅种下一粒幸福的种子，随即便抛在脑后是不行的，孱弱的秧苗很快就会被杂草吞噬。那些害怕，怀疑与忧虑的杂草一长出来，就要将它们拔除并丢弃。爱，幸福与宁静都是会传染的。那些不断在心灵花园里种下这些种子的人们，也正把爱，幸福与宁静播到别人的心田里。

这段话意在表明( )。

- A.人们的心灵往往充满害怕，怀疑与忧虑，很难驱除  
B.我们应该时时陪护自己心中善良美好的品质  
C.我们应该将自己的爱，幸福与宁静传播给他人  
D.人们对爱，幸福与宁静的渴求总是被害怕，怀疑与忧虑所吞噬

56.有人说，周庄是以苏州的毁灭为代价的。我眼前即刻闪现出古苏州的模样。是的，苏州脱掉了罗衫长褂，苏州现代得多了。尽管手里还拿着丝绣的团扇，已经不是躲在深闺的旧模样。这样，周庄这位江南的古典绣女便名播四海了。

这段话意在表明( )。

- A.苏州的现代化，使仍然保有江南古典风韵的周庄脱颖而出  
B.周庄比苏州更富有江南古典绣女的韵味  
C.苏州的现代化，使她失去了原有的古典风韵  
D.周庄是江南著名的旅游景点之一

57.精神生活趋向平庸是我们现实生活的一个突出现象。其主要表现是：人生缺乏精神目标，既无传统的支持，又无理想的引导；功利意识扩张导致人与人之间真情淡薄；诉诸感官的大众消费文化泛滥，诉诸心灵的严肃文化陷入困境。

通过这段话，我们可以知道( )。

- A.精神生活的趋向平庸主要表现为信仰失落，真情淡薄和文化错位  
B.大众消费文化富有活力，而严肃文化则死气沉沉  
C.在精神文化事业中进行独立探索和创造的人是脱离他们所处的时代的  
D.由于精神生活的趋向平庸，人们很容易产生失落感

58.微软公司目前的挑战不仅来自司法部和市场上强大的竞争对手,还来自内部-----人才流失.在过去 18 个月,多名重量级人物相继离开,包括科技主管南茜 迈福德及领导发展视窗 95 的西尔弗伯格.发现他们离职原因有一个共同点,即感到微软已失去活力.

用言简意赅地概括这段话的意思,最恰当的一项是( )

- A.微软渐失锐气,重臣纷纷离巢    B.微软面临严峻挑战    C.微软人才流失严重    D.微软重臣离巢而去

59 幸运的机会好像银河,他们作为个体是不显眼的,但作为整体却光辉灿烂。同样,一个人也可以通过不断作出细小的努力来达到幸福,这就是不断地增进美德。

这段文字的主要内容是( )

- A 一两次幸运的机会并不显眼,若干次幸运的机会将会给人带来成功,带来荣耀  
B 个别人获得幸运并不起眼,许多人都获得幸运定将引人注目  
C 具备许多细小的优良素质,将可能获得幸运  
D 某一种优良的素质是不显眼的,具备许多优良的素质就会显得光辉灿烂

60 流量压缩装置和电子注入器把脉冲高压转化成电子束。高强电磁场把它在长长的电子枪中加速,通过电子喷嘴向集流加速器喷射,作为形成和加速质子的介质。

语段中“它”指的是( )

- A 流量压缩装置    B 电子注入器    C 脉冲高压电    D 电子束

61 我们的时代被描述为“信息时代”,它意味着我们不仅能迅速获取大量信息,而且也意味着我们所获信息的大量更替,网络信息的粘贴和更新就是典型的例子。而“经典”则是天才大脑艰苦创造的结晶,是一种恒久性的精神存在。信息时代的状态与经典所需要的深思精神不合拍,这也正是我们的时代难以产生经典的因素之一。

这段话的中心意思是( )。

- A 网络信息时代是一个可以不断复制的时代    B 从某种意义上说,信息时代就是经典危机的时代  
C 网络文化同样可以成为经典    D 我们的时代已经没有经典产生

62 我们读书,总是从一本书的最高境界来欣赏和品评;我们使用绳子,总是聪最薄弱的一段来断定绳子的质量。坐冷板凳的书呆子,不妨以读书之法待人,政治家或企业家则应该以衡量绳子的方法来规避用人过程中的风险。

这段话最主要想表达的意思是( )。

- A 政治家 企业家 和书呆子是两类人    B 读书和生活是两码事  
C 待人宜宽,用人宜谨    D 书呆子缺乏社会经验

63 如果说有哪一个城市,由于深厚的历史原因,本身即拥有一种精神品质,能施加无形然而重大的影响于居住,一度居住以至过往的人们的,这就是北京。北京属于那种城市,它使人强烈地感受到它的文化吸引,它永远古老而又恒久新鲜,同时是历史又是现实,有无穷的历史容量且不乏生机,诱使人们探究,却又永远无望穷尽……

根据上文,以下理解有误的一项是( )

- A 北京是一个具有深厚文化含蕴的城市    B 北京历史悠久同时又富于现代感  
C 北京总使人体验到它无所不在的魅力    D 北京被任何其他中国城市都抽象,也更加模式化

64 关于中国的历史,不仅中国学者在研究与思索,在美国,欧洲等地也同样有学者试图探出有意义的解释。近来世界形势的巨变,不可避免地影响这些学者的研究思路。首先,全球化的现象对当代中国历史研究产生巨大影响;其次,中国社会自身的变化,对欧美学者研究中国也产生了重大影响。

从这段话中,我们可以知道( )

- A 目前对中国历史的研究是内,外两种环境因素的交互影响下进行的  
B 对中国历史的研究,欧美学者比中国学者更深透  
C 中国历史的研究受全球化因素的影响比受中国自环境的影响更大  
D 中国历史的研究还处在起步阶段

65 明智的选择胜于盲目的执着。古人云,塞翁失马,焉知非福。选择是量力而行的睿智与远见;放弃是顾全大局的果断与胆识。每个人都自己生命的唯一导演,只有学会选择与放弃的人才能彻悟人生,笑看人生,拥有海阔天空的人生境界。

根据这段话,以下的理解有误的是( )。

- A 每个人都应该学会在适当的时候有所选择,有所放弃  
B 对于一部分人来说,学会选择与放弃并不容易  
C 学会选择与放弃的人往往比盲目执着的人更易达到一个理想的人生境界  
D 人生就是一场戏,所以该放弃就放弃,何必太执着

根据以下文字回答第 66-70 题。

西部地区的文化文物资源十分丰富。大漠孤烟、长城峰燧、丝绸古道、帝王陵寝、江河源头、葡萄美酒、古寺梵音、戈壁驼铃、敦煌艺术、雪域风情、峨眉佛光、丽江古城、三峡风光……无不引人入胜。旅游作为一个产业，在促进经济、文化发展方面，有重要作用。就资源而论，文物古迹是旅游业发展的重要资源。一些地方把旅游作为发展经济的龙头，就是因为那里有丰富的文化遗产。任何事情都有两面性，文物保护与旅游发展，两者关系处理得当，就可以互相促进，相得益彰。如果处理不好，破坏了文物，也破坏了旅游资源，就会两败俱伤。因此，在旅游业高速发展中，大声呼吁保护文物，声音高一点，也是不为过的。

首先，旅游业是经济产业，而旅游本身却是一种文化活动。因此，我们不仅要经济效益，而且要注意社会效益，而社会效益有时比经济效益更重要。其次，文物单位接待旅游，一定要适度，不可超出自己的容量。美国《洛杉矶时报》今年 8 月 23 日刊登了一篇文章：《旅游业的高速发展侵蚀着中国古代的财富》。文章说：一些“地方官员越来越把旅游业当做摇钱树，毫无节制地利用文化和天然景点，从而对这些不可估价的景点构成威胁”。丽江 1999 年接待了 280 万游客，一些专家认为，这个数字太大了。”文章还引用联合国教科文组织顾问恩格尔哈特的话：“当游客的人数超过一处古迹的承受能力时，就难以使文物保护工作达到作为世界遗产所要求的标准。”试想，敦煌莫高窟的洞窟，面积那样狭小，又不通风，如果几十人往里挤，那将是个什么局面？对壁画肯定是灾难，故宫在旅游高峰期曾一天接待 12 万人次，游客摩肩接踵，比赶庙会还要热闹，这哪里是参观博物馆？这种情况如果不加以限制，不仅文物受到破坏，对参观者也是一种愚弄。第三，缺乏管理的文物单位，不可贸然开放旅游。例如楼兰故城、尼雅遗址，没有全面发掘清理，甚至有文物暴露于地表，在没有人管理的情况下，贸然开放旅游，其后果可想而知。第四，在文物景点，防止乱拆乱建。前引《洛杉矶时报》文章提到洛杉矶盖蒂文物保护研究所负责人阿格纽(与我国文物单位有很好的合作关系)去年到泰山参观时“大吃一惊”的情况，因为他在那里发现了“缆车、废弃物和惟利是图的商业行为”。文章还说：“同样，在北京郊外的万里长城，游客们可以乘缆车上山”。在外国人感到吃惊的地方，我们都习以为常。在文物景点架缆车、建商店甚至游乐设施，破坏景观，污染环境。总之，实施文物旅游时，一定要注意其文化内涵的宣传，把文物保护放在首位。保护好了文物，也就保护了旅游业可持续发展的美好前景。

66 文物单位接待游客要适度，文中举出的不适度的例子是( )。

- A 丽江去年接待 280 万游客，郭煌一个石窟里一下子挤进了几十人
- B 丽江去年接待 280 万游客，故宫高峰期一天接待了 12 万人
- C 郭煌一个石窟里一下子挤进了几十人，故宫高峰期一天接待了 12 万人
- D 泰山上居然有缆车，在文物景点居然建起了商品和娱乐设施

67 美国洛杉矶文物保护官员游泰山时“大吃一惊”，说明了( )。

- A 泰山上真的有缆车，人们登山览胜便利多了
- B 文物旅游单位经济效益和社会效益都很喜人
- C 泰山在旅游高峰游人严重超量，使人很扫兴
- D 文物景点上乱拆乱建现象相当严重

68 假定下列旅游方式在参观文物景点时都是实际存在的，请根据作者在文中表达的观点，推断作者不赞成的一组旅游方式是( )。

- ①在国家森林公园做缆车鸟瞰湖光山色
  - ②在八达岭做缆车游览长城，将长城内外的风光尽收眼底
  - ③游客乘敞篷车进入曲阜的孔林参观游览
  - ④做直升飞机盘旋于江河源头，观赏那里的起义风光
- A ①②
  - B ①④
  - C ②③
  - D ③④

69 根据文意，不符合作者观点的一项是( )。

- A 保护文物与发展旅游要协调进行
- B 西部文物古迹丰富，要大力发展文物古迹旅游
- C 开展文物古迹旅游的，文物保护要放在首位
- D 开展旅游不仅要看经济效益，更要看重社会效益

70 以下选项最合适做文本标题的是( )

- A 旅游发展对文物破坏极大
- B 文物古迹是旅游业的重要资源
- C 在发展旅游中注意保护文物
- D 保护文物刻不容缓

第三部分 判断推理

(共 30 题，参考时限 30 分钟)

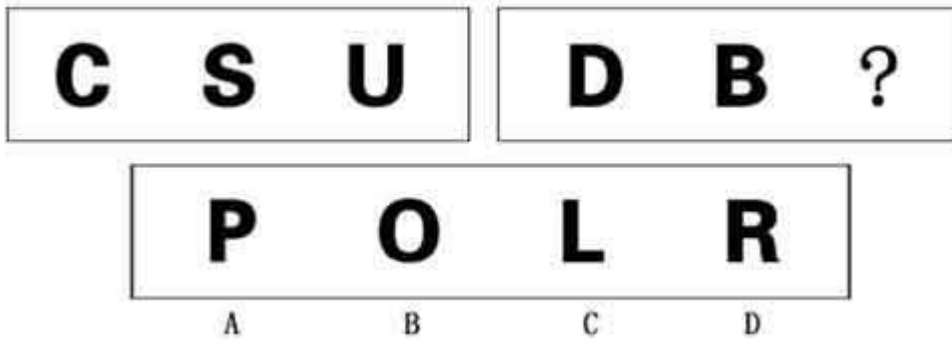
本部分包括四种类型的试题：

一. 图形推理：包括两种类型的题目，共 10 题。

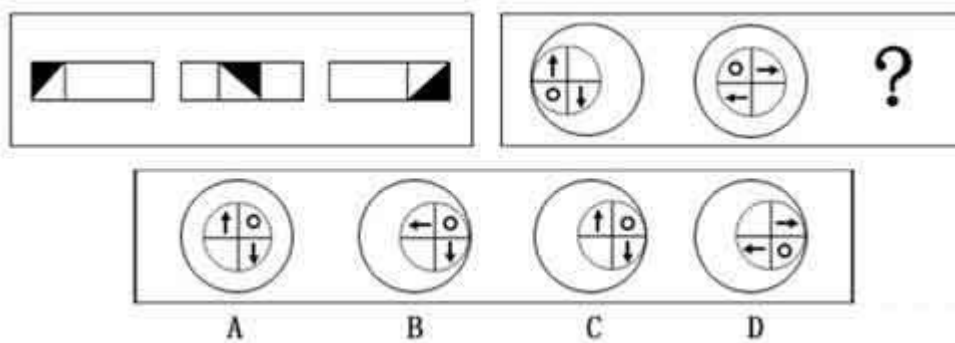
1. 每道题目的左边 4 个图形呈现一定的规律性。根据这种规律，您需要在右边所给出的备选答案中选出一个最合理的正确答案。每道题只有一个正确答案。

请开始答题：

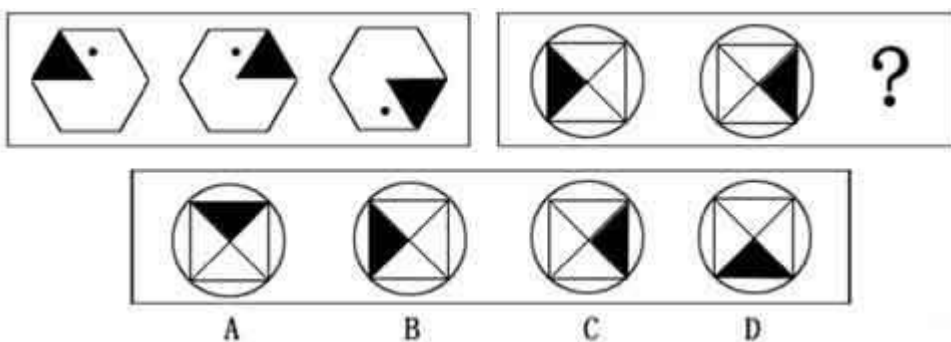
71 ( )



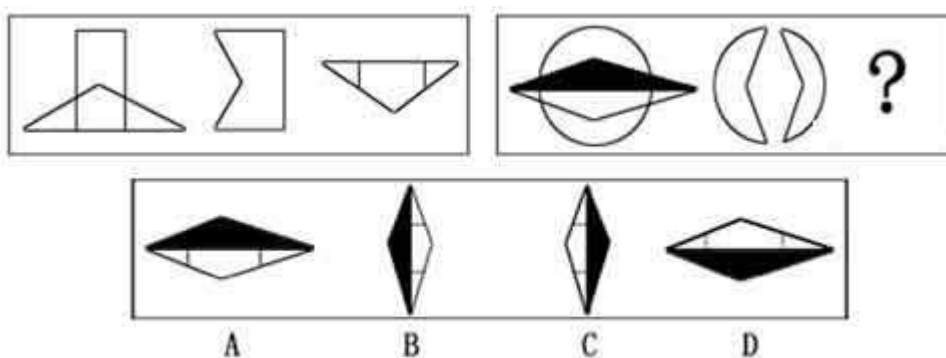
72 ( )



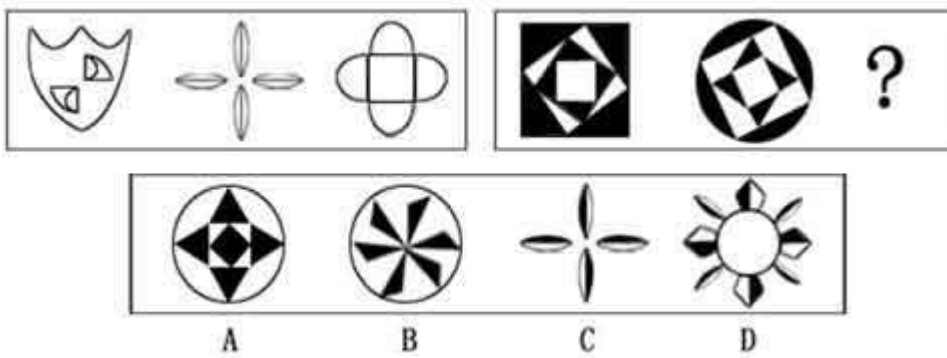
73 ( )



74 ( )







**二、定义判断：共 10 题。**每道题先给出一个概念的定义，然后分别列出四种情况，要求你严格一句定义从中选出一个最符合或最不符合定义的答案。注意：假设这个定义是正确的，不容置疑的。

76 意外事件：是指因为当事人故意或过失意外的偶然因素而发生的事故。

根据上述定义，下列选项属于意外事件的是：( )

- A 黄某私自驾驶一辆报废汽车中途发生车祸。
- B 课间打闹玩耍时，小明不慎撞伤同学。
- C 医生未给张某进行过敏测试就注射了青霉素，导致张某死亡。
- D 李某夜间昏睡，造成仓库失窃。

77 表达自由权：是指个人将其内在精神活动的结果或精神生活的方式。以语言，文字图书，肢体动作或者其他任何方法表达于外，而使他人或社会得以知悉其内心意念的权力。

根据上述定义，下列选项属于表达自由权的是：( )

- A 某公司职员要求参加岗位培训
- B 某作家在报纸上发表连载小说
- C 某受害人要求侵权人赔偿经济损失
- D 某房申请改建许可

78 直观形象记忆法：是指在识记抽象材料时，为增强记忆效果将其直观现象进行记忆的方法。

根据上述定义，下列选项属于直观形象记忆法的是：( )

- A 把“1.41421”记为“意思意思而已”
- B 把光的速度“29.979”万公里/秒记为“贰酒碘酒汽酒”
- C 把日本富士山的最高峰的高度“12365”尺记为“12个月365天”
- D 把多哥地形记为“1”，越南地形记为3”

79 低价倾销行为：是指经营者以排挤竞争对手为目的，以低于成本的价格销售商品的行为。

根据上述定义。下列选项属于低价倾销行为的是：( )

- A 春季即将来临某服装店甩卖冬季服装
- B 某商店为占据皮包市场，以低于进价的价格抛售皮包
- C 低价出售某破产家电公司的电脑
- D 某家具店低价处理长期积压的家具

80 内心信念：是指人们在自我良心的审视下，对自身的行为及其动机进行善恶判断的一种精神力量，是道德评价的一种重要方式。

根据上述定义，下列选项属内心信念的是：( )

- A 问心无愧
- B 某精神病患者扬言要杀人
- C 某幼儿拿了妈妈的钱
- D 某人误闯入他人家门

81 审美境界：是指从人生境界中升华出来的超越了自然境界，功利境界和道德境界的愉悦情怀和情境。

根据上述定义，下列选项不属于审美境界的是：( )

- A 欣赏油画《蒙娜丽莎》感觉优雅
- B 读“采菊东篱下，悠然见南山”产生逍遥感
- C 听二胡演奏《二泉映月》使人宁静
- D 阅读《股票经》对股票产生兴趣

82 商品差价：是指同一商品由于流通环节，购销跌去，购销季节以及质量不同而形成的价格差额。

根据上述定义，下列选项不属于商品差价的是：( )

- A 超市青菜上午 1.5 元一斤，下午变成 2 元一斤
- B 大众轿车与富康轿车价格不同
- C 甲地的牛肉比乙地的每斤便宜 2 元，因为甲地是牧区。
- D 同一本书刚上市时与两年后的价格不同

83 学习性行为：是指并非动物生来就有的，而是动物在成长过程中，通过生活经验和学习逐渐建立起来的新的行为。

以下选项不属于学习性行为的是( )

A 母鸡抱窝 B 大山雀提绳取食 C 黑猩猩学会用树枝捕食白蚁 D 小狗做算数，狗熊钻火圈

84 实验法：是指对发生行为的动物或接受行为的动物，模拟或干扰他们之间使用的信号，进而分析刺激行为发生的主要因素的方法。

以下选项属于实验法的是( )

A 用摄影机拍摄猎豹的运动，研究猎豹追逐猎物的方法。 B 用望远镜观察鸟类繁殖的活动

C 动物园用闭路电视研究东北虎剩余幼虎的过程

D 用声波干扰水中活动的海豚，观察到海豚对声波的反应。

85 同业拆借：是指金融机构之间相互融通短期资金的业务方式，其目的在于调剂寸头和临时性资金余缺。

以下选项属于同业拆借的是( )

A 甲银行为弥补信贷资金缺口从乙银行拆入一笔资金

B 甲银行融入资金投资房地产

C 甲银行在停止营业时发现资金收支不平衡向其他银行融入资金

D 甲银行内部分支机构之间的资金调度

**三、类比推理：共 5 题。先给出一对相关的词，要求你在备选答案中找出一对与之逻辑关系上最贴近或相似的词。**

86 巴西：智利 ( )

A 喀麦隆：老挝 B 葡萄牙：波兰 C 英国：美国 D 尼日利亚：瑞士

87 拱桥：弧度 ( )

A 足球：操场 B 毛巾：方形 C 翠竹：哨子 D 汤圆：冬至

88 杂交水稻：袁隆平 ( )

A 微生物学：巴斯德 B 跨栏：刘翔 C 篮球：姚明 D 神舟六号：杨利伟

89 投资：收益 ( )

A 猎物：捕捉 B 住院：治疗 C 发明：发现 D 巡逻：放哨

90 九华山：安徽 ( )

A 泰山：河北 B 三清山：江西 C 衡山：陕西 D 雁荡山：湖南

**四、时间排序：每题 0.6 分，5 题共 3 分。**

91 ①房屋倒塌②房客修缮要求遭拒

③财产受损引起纷争④强台风即将来临 ⑤租住民房

A ⑤④②①③ B ③⑤②①④ C ④⑤②③① D ⑤①④②③

92 ①制成琥珀标本毛胚②熔化松香

③制成人造琥珀标本④将小虫放入纸盒 ⑤把熔化的松香倒入纸盒

A ②④⑤③① B ②④①③⑤ C ④②⑤③① D ④②⑤①③

93 ①违章建筑②强制拆除

③通知拆除④乱占耕地 ⑤提起诉讼

A ②④①③⑤ B ①②⑤④③ C ④①⑤③② D ④①③②⑤

94 ①签订合作协议②进行市场调研

③初步确定合作对象④进行谈判 ⑤达成合作意向

A ①②③④⑤ B ②③④⑤① C ③②④①⑤ D ④②③⑤①

95 ①加入世界贸易组织②成功发射神舟六号载人飞船

③澳门回归④召开中共十四届六中全会 ⑤抗击非典

A ③①⑤②④ B ③④①②⑤ C ④③①⑤② D ④③⑤①②

**五、演绎推理：共 10 题。每题给出一段陈述，这段陈述被假设是正确的，不容置疑的。要求你根据这段陈述，选择一个答案。注意，正确的答案应与所给的陈述相符合，不需要任何附加说明即可以从陈述中直接推出。**

- 96 已知“若小明去上海，那么小红或者小青也去上海”为真，则以下选项必定为真的是( )
- A 如果小红不去上海，那么小明不去上海      B 如果小青不去上海，那么小明不去上海  
C 如果小红和小青不去上海，那么小明也不去上海      D 如果小明不去上海，那么小红和小青均不去上海
- 97 机关行政现代化是指机关行政观念民主化，规章制度人性化和手段科学化。机关行政是现代社会发展和科学技术进步的客观需要，是经济社会发展的重要组成部分，现在，行政环境已经发生了根本性的划时代的变化，以下选项能最好得补充上文的是：( )
- A 行政机关也不能因循守旧，裹足不前，必须随着时代的发展而发展，随着时代的变化而变化。  
B 行政机关必须树立很强的时效观念，及时高效地为行政首长和行政部门服务  
C 每个行政机关必须制定行之有效的规章制度，这是实现机关行政规范化管理和提高行政效率的保证  
D 随着科学技术和计算机网络技术的发展，行政机关必须实现办公自动化和网络化
- 97 机关行政现代化是指机关行政观念民主化，规章制度人性化和手段科学化。机关行政是现代社会发展和科学技术进步的客观需要，是经济社会发展的重要组成部分，现在，行政环境已经发生了根本性的划时代的变化，以下选项能最好得补充上文的是：( )
- A 行政机关也不能因循守旧，裹足不前，必须随着时代的发展而发展，随着时代的变化而变化。  
B 行政机关必须树立很强的时效观念，及时高效地为行政首长和行政部门服务  
C 每个行政机关必须制定行之有效的规章制度，这是实现机关行政规范化管理和提高行政效率的保证  
D 随着科学技术和计算机网络技术的发展，行政机关必须实现办公自动化和网络化
- 98 目前,越来越多的新婚夫妇登记结婚前进行个人财产登记，这种做法无论对社会还是对家庭都是有利的。应当提倡，至少不应反对。
- 以下选项不能支持上述结论的是：( )
- A 在以往的离婚案中，财产分割是最棘手的问题  
B 我国离婚率上升的一大重要原因是双方社会地位的失衡，名人的离婚率是最高的。  
C 世界先进国家中，婚前财产公正普遍存在。  
D 婚前财产公证，只要当事人对此有正确的理解，不会对新婚夫妇的感情产生不利影响。
- 99 甲乙丙三人从法学专业毕业后，一人当上律师，一人当上法官，一人当上检察官，对三人的职位存在以下三种猜测正确的是( )
- (1) 甲当上律师，乙当上法官  
(2) 甲当上法官，丙当上律师  
(3) 甲当上检察官，乙当上律师
- A 甲可能是律师，丙可能是法官      B 乙可能是法官，丙可能是律师  
C 甲是检察官，乙是法官，丙是律师      D 丙可能是律师，也可能是检察官
- 100 大多数独生子女都有以自我为中心的倾向。有些非独生子女同样有以自我为中心的倾向。自我为中心倾向的产生有各种原因，但一个共同原因是缺乏父母的正确引导。
- 如果以上断定是真，则以下哪项一定为真？( )
- A. 每个缺乏父母正确引导的家庭都有独生子女。  
B. 有些缺乏父母正确引导孩子是非独生子女。  
C. 有些家庭虽然缺乏父母正确引导，但子女并不以自我为中心。  
D. 大多数缺乏父母正确引导的家庭都有独生子女。
- 101 一个足球教练这样教导他的队员：“足球比赛从来是以结果论英雄。在足球比赛中，你不是赢家就是输家；在球迷的眼里，你要么是勇敢者，要么是懦弱者。由于所有的赢家在球迷眼里都是勇敢者，所以每个输家在球迷眼里都是懦弱者。”
- 为使上述足球教练的论证成立，以下哪项是必须假设的？
- A.在球迷看来，球场上勇敢者必胜。  
B.球迷具有区分勇敢和懦弱的准确判断力。  
C.球迷眼中的勇敢者，不一定是真正的勇敢者。  
D.即使在球场上，输赢也不是区别勇敢和懦弱的唯一标准。
- 102 一颗树的年头越长，它的年轮越多。老张院子中槐树的年头比老李家的槐树年头长，因此，老张家的槐树比老李家的年轮多，以下哪项中的推理与题干的最为类似？( )
- A. 一个人的年龄越大，他就变得越成熟。老张的年龄比他的儿子大，因此，老张比他的儿子成熟。  
B. 海拔越高，空气越稀薄。因为西宁的海拔高于西安，因此，西宁的空气比西安稀薄。  
C. 今年马拉松冠军的成绩比前年好。张华是今年的马拉松冠军，因此，他今年的马拉松成绩比他前年的好。  
D. 在激烈竞争的市场上，产品质量越高并县域广告投入越多，产品需求就越大。甲公司投入的广告费比乙公司的多，因此，对甲公司产品的需求量比对乙公司的需求量大。



A 快 2.8 个百分点 B 快 5.3 个百分点 C 慢 2.8 个百分点 D 慢 5.3 个百分点

110 以下选项不正确的是( )

- A 2006 年世界各国人均 GDP 增长率居首位的国家是阿塞拜疆
- B 2006 年人均国内生产总值居世界第 8 位的是美国
- C 2005 年中国香港人均国内生产总值居世界第 29 位
- D 2006 年台湾人均国内生产总值是中国人均国内生产总值的 7.7 倍

二、根据以下资料，回答 110—115 题。

### 1994-2006 年全国 GDP 和能源消费表

单位% 吨标准煤/万元 GDP

年份	GDP 增长率	能源消费增长率	能源消费弹性系数	万元 GDP 能耗
1994	13.1	5.8	0.44	1.80
1995	10.9	6.9	0.63	1.73
1996	10	5.9	0.59	1.67
1997	9.3	-0.8	-0.09	1.52
1998	7.8	-4.1	-0.53	1.36
1999	7.6	1.2	0.16	1.25
2000	8.4	3.5	0.42	1.19
2001	8.3	3.4	0.41	1.13
2002	9.16	6	0.66	1.11
2003	10	15.3	1.53	1.16
2004	10.1	16.1	1.59	1.22
2005	10.4	10.6	1.02	1.22
2006	10.7	9.3	0.87	1.21

注：能源消费弹性系数=能源消费增长率/GDP 增长率 万元 GDP 能耗按 2005 年可比价计算

111 1994 至 2006 年间能源消费增长率最高的年份是( )

- A 1994 B 2003 C 2004 D 2005

112 2003 年我国资源消费总量为 170943 吨标准煤，则 2002 年我国能源消费总量为( )

- A 197097 吨标准煤 B 148222 吨标准煤 C 161267 吨标准煤 D 155403 吨标准煤

113 1994 至 2006 年间万元 GDP 能耗最少的是( )

- A 1994 B 1997 C 1998 D 2002

114 1994 至 2006 年间能源消费增长率比 GDP 增长率高的年份有( )

- A 3 个 B 4 个 C 5 个 D 6 个

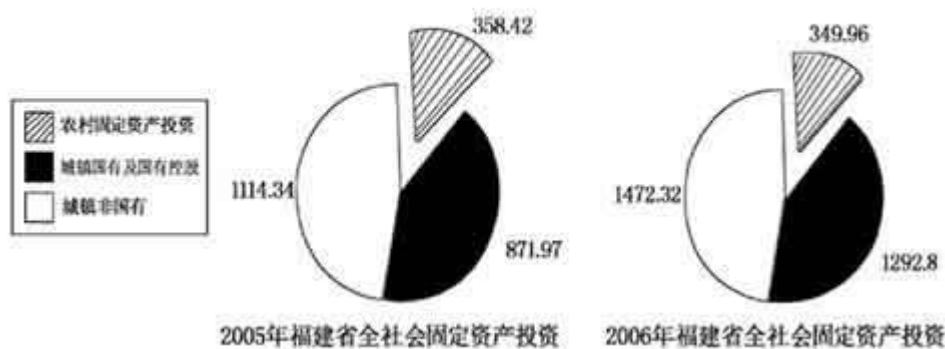
115 以下选项不正确的是( )

- A 1994 年以来，我国能源消费增长率与 GDP 增长率基本上是同向增长
- B 1994 至 2006 年总体上 GDP 增长快于能源消费增长
- C 1994 年以来万元 GDP 能耗呈现下降趋势
- D 1994 年至 2003 年能源消费弹性系数小于 1，2003 年至 2006 年能源消费弹性系数大于 1，2006 年能源消费弹性系数小于 1

三、根据以下资料，回答 115—120 题。

### 2005-2006 福建省全社会固定资产投资情况表

单位：亿



注：全社会固定资产投资=农村固定资产投资+城镇固定资产投资

城镇固定资产投资=城镇国有及国有控股固定资产投资+城镇非国有资产投资

- 116 2006年福建省城镇国有及国有控股固定资产投资为( )亿元  
A 349.96 B 1292.8 C 1472.32 D 871.97
- 117 2006年福建省全社会固定资产投资比2005年增长( )  
A 32.9% B 48.3% C 39.2% D -2.4%
- 118 2005年福建省农村固定资产投资占全社投资比重为( )  
A 37.2% B 47.5% C 15.3% D 11.2%
- 119 2006年与2005年比，福建省农村固定资产投资( )  
A 增加了8.46亿元 B 减少了846亿元  
C 增加了846亿元 D 减少了8.46亿元
- 120 2006年与2005年比，福建省城镇固定资产投资占全社投资比重( )  
A 上升了4.3个百分点 B 上升了4.1个百分点  
C 下降了0.3个百分点 D 下降了3.9个百分点

## 2007年福建秋季公务员行政职业能力测试

### 参考答案

#### 第一部分 常识判断(0.8\*25=20分)

1. B 2. D 3. A 4. D 5. B 6. A 7. D 8. C 9. C 10. B  
11. A 12. D 13. C 14. D 15. D 16. A 17. C 18. B 19. D 20. C  
21. D 22. A 23. B 24. C 25. C

#### 第二部分 数量关系(1\*15=15)

26. B 27. B 28. A 29. A/D 30. D 31. A 32. B 33. C 34. D 35. D  
36. B 37. B 38. D 39. C 40. A

#### 第三部分 言语理解与表达

41. C 42. D 43. B 44. D 45. C 46. A 47. A 48. A 49. D 50. B  
51. B 52. A 53. D 54. D 55. C 56. A 57. A 58. B 59. C 60. D  
61. B 62. C 63. D 64. A 65. D 66. D 67. D 68. A 69. B 70. B

#### 第四部分 判断推理

71. A 72. C 73. C 74. D 75. A 76. B 77. B 78. C 79. B 80. A  
81. D 82. B 83. A 84. D 85. A 86. B 87. B 88. A 89. B 90. B  
91. A 92. D 93. D 94. B 95. C  
96. C 97. A 98. B 99. C 100. B 101. A 102. B 103. D  
104. A 105. D

#### 第五部分 资料分析

106. C 107. B 108. D 109. A 110. C 111. C 112. B 113. D 114. A  
115. C  
116. B 117. A 118. C 119. D 120. B