

杨柳（微信：[gwy288](#)，淘宝：[杨柳真题](#)）**温馨提示**：此套题最后更新于 2021 年 6 月 19 日，尚有 1 题暂缺，据情更新，关注公众号通知。倒卖资料可耻，不能[及时更新](#)。订单截图发微信，可免费进[时政群](#)、[免费更新](#)、[答疑](#)等。

2021 年 0327 海南公务员考试《行测》真题参考答案及解析

来源：H 整理：杨柳（微信：[gwy288](#)），可公考答疑及面试指导

1、正确答案：A，全站正确率：60%，易错项：D。（认准淘宝：[杨柳真题](#)，微信：[gwy288](#)，公众号：[gwyeasy](#)）

解析

第一步，本题考查时政。

第二步，2020 年 11 月 28 日，习近平总书记致信祝贺“奋斗者”号全海深载人潜水器成功完成万米海域并胜利返航。“奋斗者”号完成万米海域的区域为马里亚纳海沟，被称为“地球第四极”，水压高、完全黑暗，是地球上环境最恶劣的区域之一，其最深处约 11000 米，相当于珠穆朗玛峰叠加华山的海拔高度。A 项符合题意。

因此，选择 A 选项。

拓展

B 项：大陆架是大陆向海洋的自然延伸，通常被认为是陆地的一部分。又叫“陆棚”或“大陆浅滩”。一般不超过 200 米。

C 项：在大陆架外是大陆坡，在这里海床坡度突然增大，往往达 3~6 度甚或更大，水深一般在 200~1500 米之间。

D 项：深海平原是大洋深处平缓的海床，是地球上最平坦和最少被开发的地段。它们通常位于 3000 至 6000 米的深处，位于大陆架和大洋中脊之间，延展数百公里宽。

2、正确答案：A，全站正确率：29%，易错项：B。（认准淘宝：[杨柳真题](#)，微信：[gwy288](#)，公众号：[gwyeasy](#)）

解析

第一步，本题考查地理。

第二步，珠穆朗玛峰形成原因是由于珠穆朗玛峰位于亚欧板块与印度洋板块交界处，由于板块挤压运动，珠穆朗玛峰被猛烈抬升，每年仍然处于不断上升之中，所以和第一个对应的为“板块挤压”；8848.86 米对应的为雪面高程。综合来说，A 项正确。

因此，选择 A 选项。

拓展

B 项和 D 项：2020 年 12 月 8 日，中国与尼泊尔共同宣布珠穆朗玛峰的最新高程——8848.86 米，世界第一高峰的雪面高程数字就此刷新。珠穆朗玛峰的高程并不是只有一个，而是有“雪面大地高”“雪面正常高”“雪面海拔高”“岩石面海拔高”这四个高程。这次公布的 8848.86 米的珠峰高程是包含珠峰峰顶雪面的高度，不是岩石面高度。

在此之前，关于珠峰高程尼泊尔等国家是采用雪盖高（总高）8848 的结果，而中国采用的则是 2005 年国家测绘局测量的岩面高（裸高即地质高度）8844.43 米。

C 项和 D 项：在板块张裂的地区，常形成裂谷和海洋，如东非大裂谷、大西洋就是这样形成的。板块相撞挤压的地区，常形成山脉。珠穆朗玛峰是由于由于板块挤压形成的山峰，不是板块张裂导致。

3、正确答案：D，全站正确率：53%，易错项：C。（认准淘宝：[杨柳真题](#)，微信：[gwy288](#)，公众号：[gwyeasy](#)）

解析

第一步，本题考查时政。

第二步，《中共中央关于制定国民经济和社会发展第十四个五年规划和二〇三五年远景目标的建议》中关于社会主义文化强国建设目标任务明确指出，提高社会文明程度。推动形成适应新时代要求的思想观念、精神面貌、文明风尚、行为规范。提升公共文化服务水平。全面繁荣新闻出版、广播影视、文学艺术、哲学社会科学事业。健全现代文化产业体系。坚持把社会效益放在首位、社会效益和经济效益……以讲好中国故事为着力点，创新推进国际传播，加强对外文化交流和多层次文明对话。①②③④均来源于原文内容。

因此，选择 D 选项。

4、正确答案：B，全站正确率：30%，易错项：C。（认准淘宝：[杨柳真题](#)，微信：[gwy288](#)，公众号：[gwyeasy](#)）

解析

第一步，本题考查时政并选错误项。

第二步，根据《中共中央关于制定国民经济和社会发展第十四个五年规划和二〇三五年远景目标的建议》可知，“十四五”时期经济社会发展主要目标包括：①经济发展取得新成效。②改革开放迈出新步伐。③社会文明程度得到新提高。④生态文明建设实现新进步。⑤民生福祉达到新水平。⑥国家治理效能得到新提升。A 项对应①和②，C 项对应③和④，D 项对应⑤和⑥。

因此，选择 B 选项。

拓展

《中共中央关于制定国民经济和社会发展第十四个五年规划和二〇三五年远景目标的建议》第四篇形成强大国内市场构建新发展格局：坚持扩大内需这个战略基点，加快培育完整内需体系，把实施扩大内需战略同深化供给侧结构性改革有机结合起来，以创新驱动、高质量供给引领和创造新需求，加快构建以国内大循环为主体、国内国际双循环相互促进的新发展格局。不属于经济社会发展主要目标的表述。

5、正确答案：B，全站正确率：17%，易错项：C。（认准淘宝：杨柳真题，微信：gwy288，公众号：gwyeasy）

解析

第一步，本题考查时政并选错误项。

第二步，习近平总书记在 2020 年 12 月份主持召开中共中央政治局民主生活会并发表重要讲话，会议强调：把党和人民事业长长久久推进下去，必须增强政治意识，善于从政治上看问题，善于把握政治大局，不断提高政治判断力、政治领悟力、政治执行力。因此，不是识别力。

因此，选择 B 选项。

拓展

A 项：习近平总书记在 2020 年 12 月份主持召开中共中央政治局民主生活会并发表重要讲话，会议强调：不忘初心，牢记使命是讲政治最本质的要求。职位越高越要忠于人民，全心全意为人民服务。A 项正确。

C 项：习近平总书记在 2020 年 12 月份主持召开中共中央政治局民主生活会并发表重要讲话，会议强调：讲政治，概括起来就是从政治上观察和处理问题。习近平指出，旗帜鲜明讲政治，既是马克思主义政党的鲜明特征，也是我们党一以贯之的政治优势。C 项正确。

D 项：习近平总书记在 2020 年 12 月份主持召开中共中央政治局民主生活会并发表重要讲话，会议强调：党领导人民治国理政，最重要的就是坚持正确政治方向，始终保持我们党的政治本色，始终沿着中国特色社会主义道路前进。中央政治局的同志要找准坐标、选准方位、瞄准靶心，善于从政治上观察和处理问题，使讲政治的要求从外部要求转化为内在主动。D 项正确。

6、正确答案：D，全站正确率：62%，易错项：A。（认准淘宝：杨柳真题，微信：gwy288，公众号：gwyeasy）

解析

第一步，本题考查民法知识并选错误项。

第二步，《民法典》第 20 条规定，不满八周岁的未成年人为无民事行为能力人，由其法定代理人代理实施民事法律行为。D 项错误，当选。

因此，选择 D 选项。

拓展

A 项：《民法典》第 399 条规定，下列财产不得抵押：（一）土地所有权；（二）宅基地、自留地、自留山等集体所有土地的使用权，但是法律规定可以抵押的除外；（三）学校、幼儿园、医疗机构等为公益目的成立的非营利法人的教育设施、医疗卫生设施和其他公益设施；（四）所有权、使用权不明或者有争议的财产；（五）依法被查封、扣押、监管的财产；（六）法律、行政法规规定不得抵押的其他财产。故现在耕地使用权可以抵押。A 项正确，不符合题意，排除。

B 项：《民法典》第 9 条规定，民事主体从事民事活动，应当有利于节约资源、保护生态环境。B 项正确，不符合题意，排除。

C 项：《民法典》第 1234 条规定，违反国家规定造成生态环境损害，生态环境能够修复的，国家规定的机关或者法律规定的组织有权请求侵权人在合理期限内承担修复责任。侵权人在期限内未修复的，国家规定的机关或者法律规定的组织可以自行或者委托他人进行修复，所需费用由侵权人负担。

《民法典》第 1235 条规定，违反国家规定造成生态环境损害的，国家规定的机关或者法律规定的组织有权请求侵权人赔偿下列损失和费用：（一）生态环境受到损害至修复完成期间服务功能丧失导致的损失；（二）生态环境功能永久性损害造成的损失；（三）生态环境损害调查、鉴定评估等费用；（四）清除污染、修复生态环境费用；（五）防止损害的发生和扩大所支出的合理费用。C 项正确，不符合题意，排除。

7、正确答案：D，全站正确率：69%，易错项：C。（认准淘宝：杨柳真题，微信：gwy288，公众号：gwyeasy）

解析

第一步，本题考查长江保护法。

第二步，长江保护工作涉及面广、情况复杂、任务艰巨。作为我国第一部流域法律，全国人大常委会法制工作委员会经济法室主任王瑞贺指出《长江保护法》有四大亮点：

一是做好统筹协调、系统保护的顶层设计。切实增强长江保护和发展的系统性、整体性、协同性。由此可知，①⑤项正确，当选。

二是坚持把保护和修复长江流域生态环境放在压倒性位置。通过规定更高的保护标准、更严格的保护措施，加强

山水林田湖草整体保护、系统修复。由此可知，②项正确，当选。

三是坚持把把握新发展阶段、践行新发展理念、构建新发展格局。准确把握生态环境保护和经济发展的辩证统一关系，毫不动摇地坚持在发展中保护、在保护中发展，共抓大保护，不搞大开发。③项中“不搞新开发”表述错误。由此可知，③项错误，排除。

四是坚持责任导向，加大处罚力度。《长江保护法》强化考核评价与监督，在现有相关法律的基础上补充和细化有关规定，并大幅提高罚款额度，增加处罚方式，补齐现有法律的短板和不足，切实增强法律制度的权威性和可执行性。由此可知，④项正确，当选。

故①②④⑤表述正确，当选。

因此，选择D选项。

拓展

2020年12月26日下午，十三届全国人大常委会第二十四次会议表决通过了《中华人民共和国长江保护法》。这部法律从2021年3月1日起施行，将形成保护母亲河的硬约束机制。

8、正确答案：B，

2020年6月，中共中央、国务院印发《海南自由贸易港建设总体方案》。该方案指出，到2025年，初步建立，以贸易自由便利和投资自由便利为重点的自由贸易港政策制度体系。营商环境总体达到国内一流水平，市场主体大幅增加，产业竞争力显著提升，风险防控有力有效，适应自由贸易港建设的法律法规逐步完善，经济发展质量和效益明显改善。

B项不属于。该方案指出，到21世纪中叶，全面建成具有较强国际影响力的高水平自由贸易港。该项不属于海南自由贸易港到2025年的发展目标，而是到21世纪中叶的发展目标。

因此，选择B。

9、正确答案：C，全站正确率：31%，易错项：D。（认准淘宝：杨柳真题，微信：gwy288，公众号：gwyeasy）

解析

第一步，本题考查文学常识。

第二步，《史记》，二十四史之一，最初称为《太史公书》或《太史记》、《太史记》，是西汉史学家司马迁撰写的纪传体史书，是中国历史上第一部纪传体通史，记载了上至上古传说中的黄帝时代，下至汉武帝太初四年间共3000多年的历史。《史记》全书包括十二本纪（记历代帝王政绩）、三十世家（记诸侯国和汉代诸侯、勋贵兴亡）、七十列传（记重要人物的言行事迹，主要叙人臣，其中最后一篇为自序）、十表（大事年表）、八书（记各种典章制度记礼、乐、音律、历法、天文、封禅、水利、财用）。陈胜虽然出身雇农，但是他首事反秦功大，又曾建立“张楚”政权，因此司马迁给予他重要的历史地位，列入“世家”，即“陈涉世家”。C项正确。因此，选择C选项。

10、正确答案：D，全站正确率：34%，易错项：C。（认准淘宝：杨柳真题，微信：gwy288，公众号：gwyeasy）

解析

第一步，本题考查民法并选错误项。

第二步，《民法典》第279条规定，业主不得违反法律、法规以及管理规约，将住宅改变为经营性用房。业主将住宅改变为经营性用房的，除遵守法律、法规以及管理规约外，应当经有利害关系的业主一致同意。D项中“小区全体业主”与法条中提到的是“有利害关系的业主一致同意”相违背。

因此，选择D选项。

11、正确答案：C，全站正确率：54%，易错项：B。（认准淘宝：杨柳真题，微信：gwy288，公众号：gwyeasy）

解析

第一步，本题考查生活常识并选错误项。

第二步，“小雪雪满天，来岁必丰年”的主要原因是：第一，新雪孔隙度高、里面贮藏空气多，空气的导热性能很差，阻止了土壤中的热量向外扩散，对土壤和农作物有着很好的防冻保温作用；第二，雪融化时会吸收土壤内部热量，导致土壤中的温度降低，越冬虫卵不易存活；第三，雪融化时会渗入土壤，能直接供给土壤水分，提高土壤含水量，有利于缓解春旱。因此，“来岁必丰年”并不是因为雪花中含有磷化物作为肥料的原因。同时，雪花作为一种结晶体，主要成分是水，也并不含有磷化物。

因此，选择C选项。

12、正确答案：D，全站正确率：70%，易错项：B。（认准淘宝：杨柳真题，微信：gwy288，公众号：gwyeasy）

解析

第一步，本题考查地理常识。

第二步，我国处于北半球，北半球昼夜长短的变化规律：北半球在夏季是昼长夜短（3月21日—9月23日），

在冬季是昼短夜长（9月23日—3月21日），在春分和秋分为昼夜平分。D项“辛苦孤花破小寒，花心应似客心酸”出自南宋诗人范成大的《窗前木芙蓉》。诗句中“小寒”是第二十三个节气，在1月5-7日之间，故是昼短夜长。

因此，选择D选项。

拓展

A项：“谷雨春光晓，山川黛色青”出自唐代诗人元稹的《咏廿四气诗·谷雨三月中》。诗句中“谷雨”是指的二十四节气的第六个节气，每年4月19日—21日，故昼长夜短。A项错误。

B项：“露从今夜白，月是故乡明”出自唐代诗人杜甫的《月夜忆舍弟》，指的是白露节气，时间点在每年9月7日到9日，故昼长夜短。B项错误。

C项：“清明时节雨纷纷，路上行人欲短魂”出自于唐代杜牧的《清明》。诗句中“清明”时间在4月4-6日，故昼长夜短。C项错误。

13、正确答案：A，全站正确率：34%，易错项：C。（认准淘宝：杨柳真题，微信：gwy288，公众号：gwyeasy）

解析

第一步，本题考查中国史。

第二步，周文王姬昌（约前1152年—约前1056年），姬姓，名昌，岐周（今陕西岐山县）人。周朝奠基者。管仲（前723年—前645年），姬姓，管氏，名夷吾，字仲，谥敬，颍上（今安徽省颍上县）人。中国古代著名经济学家、哲学家、政治家、军事家。春秋时期法家代表人物，周穆王的后代。孔子（公元前551年9月28日—公元前479年4月11日），子姓，孔氏，名丘，字仲尼，鲁国陬邑（今山东省曲阜市）人，祖籍宋国栗邑（今河南省夏邑县），中国古代思想家、政治家、教育家，儒家学派创始人、“大成至圣先师”。根据先后顺序为周文王、管仲、孔子。

因此，选择A选项。

拓展

B项：周公，姬姓，名旦。西周开国元勋，杰出的政治家、军事家、思想家、教育家，“元圣”、儒学先驱，周文王姬昌第四子，周武王姬发的弟弟。采邑在周，故称周公。李斯（？—公元前208年），战国末楚国上蔡人。秦朝著名政治家、文学家和书法家。楚庄王熊旅（？—公元前591年），名旅（一作侣、吕），楚穆王之子，春秋时期楚国国君，楚庄王元年（前613年）到楚庄王二十三年（前591年）在位，春秋五霸之一。正确顺序应为周公、楚庄王、李斯。B项错误。

C项：孙臧（生卒年不详），出生于阿、郚之间，华夏族，战国时期齐国军事家，是孙武的后代。诸葛亮（181年—234年10月8日），字孔明，号卧龙，琅琊阳都（今山东省沂南县）人，三国时期蜀汉丞相，中国古代杰出的政治家、军事家、文学家、发明家。蒙恬（？—前210年），姬姓，蒙氏，名恬，齐国蒙山（今山东省临沂市蒙阴县联城乡边家城子村）人。秦朝时期名将，上卿蒙骜之孙，内史蒙武之子。正确顺序应为孙臧、蒙恬、诸葛亮。C项错误。

D项：屈原（约公元前340—公元前278年），出生于楚国丹阳秭归（今湖北宜昌），战国时期楚国诗人、政治家。勾践（？—前464年），姙姓，本名鸠浅，会稽（今浙江省绍兴市）人，春秋时期越国君主（前496年—前464年），春秋五霸之一。伍子胥（公元前559年—公元前484年），字子胥，楚国人，春秋末期吴国大夫、军事家。以封于申，也称申胥。正确顺序应为伍子胥、勾践、屈原。D项错误。

14、正确答案：C，全站正确率：51%，易错项：D。（认准淘宝：杨柳真题，微信：gwy288，公众号：gwyeasy）

解析

第一步，本题考查传统美德。

第二步，①项：“天行健，君子以自强不息”出自孔子为《周易》写的《象传》，意思是天（即自然）的运动刚强劲健，相应的，君子处事，也应像天一样，自我力求进步，刚毅坚卓，发奋图强。①项属于中华传统美德，正确，当选。

②项：“天下兴亡，匹夫有责”源于《日知录·正始》，原句是“保国者，其君其臣肉食者谋之；保天下者，匹夫之贱与有责焉耳矣”，梁启超总结为“天下兴亡，匹夫有责”。意思是国家的兴盛或衰亡，每个普通人都有一份责任。②项属于中华传统美德，正确，当选。

④项：“仁者爱人”是儒家的观点，“仁者爱人”这句话虽然出自《孟子》，但这个观念却是直接继承孔子的。根据《论语·颜渊》的记载，樊迟曾经向孔子请教，到底什么是仁。孔子的回答就是“爱人”。“仁”是整个儒家学说的核心，是儒家道德规范体系的根本原则，其他道德规范都贯穿和体现着“仁”的要求。“仁者爱人”属于中华传统美德，正确，当选。

所以，选项中属于中华传统美德的共有3项，C项正确，当选。

因此，选择C选项。

拓展

③项：“美德即知识”，是古希腊哲学家苏格拉底的道德伦理命题，也是其道德哲学的核心，出自公元前 420 年柏拉图的著作《美诺篇》。苏格拉底认为，道德即知识，道德与知识是同一的。美德并非天生，而是得自于教育。苏格拉底“美德即知识”不属于中华传统美德，排除。

15、正确答案：B，全站正确率：63%，易错项：A。（认准淘宝：杨柳真题，微信：gwy288，公众号：gwyeasy）

解析

第一步，本题考查生物学知识并选错误项。

第二步，在同等自然条件下，无林地土壤，没有森林植被等的遮挡，蒸发量显然大于林内土壤。

因此，选择 B 选项。

拓展

A 项：单位时间内单位面积上渗入土壤中的水量，称为下渗率或下渗强度。流域植被、地形条件影响：通常有植被的地区，由于植被的滞水作用，增加了下渗时间，从而减少了地表径流，增大了下渗量。A 项正确。

C 项：植物根系的生理活动使液流从根部上升的压力，称为根压（root pressure）。根压把根部的水分压到地上部，土壤中的水分便不断补充到根部，这就形成根系吸水过程，这是由根部形成力量引起的主动吸水。从而增加了土壤的渗蓄能力。C 项正确。

D 项：蒸发散包括两个过程：蒸发是指林地土壤和植物枝、干、叶表面的水分蒸发，这是个物理过程，因此林地蒸发是植被截留蒸发、植物散发和土壤蒸发的总和。D 项正确。

16、正确答案：A。（认准淘宝：杨柳真题，微信：gwy288，公众号：gwyeasy）

解析

A 项表述错误，B 项表述正确。1994 年，我国天文学家提出了建造“中国天眼”500 米口径球面射电望远镜工程的构想。“中国天眼”从预研到建成历时 22 年，是具有我国自主知识产权、世界最大单口径、最灵敏的射电望远镜。A 项“350 米口径”的表述有误。

C 项表述正确。与德国波恩的 100 米望远镜相比，“中国天眼”的灵敏度提高了约 10 倍；与美国阿雷西博的 350 米望远镜相比，“中国天眼”的综合性能也提高了约 10 倍。“中国天眼”能够接收到 137 亿光年以外的电磁信号，观测范围可达宇宙边缘。

D 项表述正确。截至 2020 年 11 月，“中国天眼”设施运行稳定可靠，取得一系列重大科学成果，发现脉冲星数量超过 240 颗，基于“中国天眼”数据发表的高水平论文达到 40 余篇。借助“中国天眼”，我国科研团队迅速成为国际快速射电暴领域的核心研究力量。

故本题选 A。

17、正确答案：C，全站正确率：36%，易错项：B。（认准淘宝：杨柳真题，微信：gwy288，公众号：gwyeasy）

解析

第一步，本题考查物理并选错误项。

第二步，吊扇在不转动时，拉力与重力相等。①正确。当电风扇转动时，风扇叶对空气施加了一个向下的力，由于物体间力的作用是相互的，空气对风扇叶施加了一个向上的反作用力；此时风扇叶受到了三个力的作用，重力 G、天花板的拉力 F 拉、空气对扇叶施加的力 F 空，吊扇受到的三个力： $G = F_{空} + F_{拉}$ ，所以 $G > F_{拉}$ 。②正确。吊扇转动时扇叶对空气有向下的作用力，根据牛顿第三定律，空气对吊扇叶片有向上的反作用力。转速越大，此反作用力越大。所以，吊扇在转动时悬挂点受的拉力比未转动时小，转速越大，拉力减小越多。所以③正确，④错误。

因此，选择 C 选项。

18、正确答案：C，全站正确率：59%，易错项：D。（认准淘宝：杨柳真题，微信：gwy288，公众号：gwyeasy）

解析

第一步，本题考查生物医学常识。

第二步，碘是人体的必需微量元素之一，当人体缺碘时就会患甲状腺肿大。因此碘化物可以防止和治疗甲状腺肿大。多食海带、海鱼等含碘丰富的食品，对于防治甲状腺肿大也很有效。C 项正确。

因此，选择 C 选项。

拓展

A 项：酒精是有机化合物乙醇的俗称。不同浓度的酒精的作用是不同的。一般来说，70%~75%的酒精用于消毒。这是因为，过高浓度的酒精会在细菌表面形成一层保护膜，阻止其进入细菌体内，难以将细菌彻底杀死。若酒精浓度过低，虽可进入细菌，但不能将其体内的蛋白质凝固，同样也不能将细菌彻底杀死。其他浓度酒精如 95% 的酒精用于擦拭紫外线灯，25%~50% 的酒精可用于物理退热等。A 项错误。

B项：科学发现，含氟牙膏能有效预防龋齿，增强牙齿抗龋的能力。含氟牙膏的防龋作用体现在：直接抑制牙菌斑的细菌、增强牙釉质的结构、促使已被脱矿质化的牙釉质重新矿化等。并无科学实验表明氟与防龋齿的关系。B项错误。

D项：乙醚是一种有机物，结构式为 $C_2H_5OC_2H_5$ ，外观为无色透明液体，有特殊刺激气味，医学用作麻醉剂。D项错误。

19、正确答案：A，全站正确率：15%，易错项：D。（认准淘宝：杨柳真题，微信：gwy288，公众号：gwyeasy）

解析

第一步，本题考查物理知识。

第二步，③④：以火车为参考系，无论是近处的还是远处的景物都是向后运动的，但移动相同的距离，近处的景物对人的眼睛造成的视角更大些，所以看起来移动的距离更大些，也就是近处景物相对观察者移动的快，相比较，远处景物相对观察者移动的就较慢。因此③错误，④正确。

①②：当人同时看近处和远处的景物时，人会不自觉的以近处的景物为参考系，这样看起来远处的景物是在朝火车前进的方向旋转。①正确，②错误。

①④说法正确。

因此，选择A选项。

20、正确答案：C，全站正确率：16%，易错项：D。（认准淘宝：杨柳真题，微信：gwy288，公众号：gwyeasy）

解析

第一步，本题考查物理并选错误项。

第二步，迈克尔·法拉第（1791—1867） 富兰克林（美国）——近代电学之父。C项错误。

因此，选择C选项。

拓展

A项：阿基米德（公元前287年—公元前212年），古希腊哲学家、百科式科学家、数学家、物理学家、力学家，静态力学和流体静力学的奠基人，享有“力学之父”的美称。A项正确。

B项：开尔文男爵威廉·汤姆森（1824年6月26日—1907年12月17日）是一位在北爱尔兰出生的英国数学物理学家、工程师，也是热力学温标（绝对温标）的发明人，被称为热力学之父。B项正确。

D项：欧内斯特·卢瑟福（1871年8月30日—1937年10月19日），英国著名物理学家，知名为原子核物理学之父。D项正确。

21、正确答案：C，全站正确率：88%，易错项：A。（认准淘宝：杨柳真题，微信：gwy288，公众号：gwyeasy）

解析

第一步，分析第一空。根据第一空后面的“这些都是网上观影所不具备的”可知，第一空表示院线观影具有网络平台所不具备的优势，A项“遥遥领先”指远远地走在最前面；D项“无与伦比”指没有能够比得上的（多含褒义），两项均强调对比，不符合文意，排除A项和D项。

第二步，分析第二空。根据前文内容可知，第二空表示影院和互联网会带来“不同”的观影体验，B项“背道而驰”指朝着相反的方向跑，比喻行动方向和所要达到的目标完全相反，原文并未强调完全相反，不符合文意，排除B项。C项“截然不同”是事物之间界限分明，全然不一样，强调不同，符合文意，当选。

因此，选择C选项。

拓展

文段出处：《院线电影有了发行新模式》

22、正确答案：D，全站正确率：34%，易错项：A。（认准淘宝：杨柳真题，微信：gwy288，公众号：gwyeasy）

解析

第一步，分析第一空。第一空强调很多人的“多动症”症状会从儿童期持续到成年期，侧重时间上的持续性。A项“影响”指对别人的思想或行动起作用或对人或事物所起的作用，符合文意。B项“延迟”意思是推迟到较后的时间，不符合文意，排除B项。C项“保留”指保存不变；暂时留着不处理；留下，不拿出来，语义均不符合，排除C项。D项“延续”意思是照原来的样子持续下去，符合文意。

第二步，分析第二空。根据后文可知，“不靠谱”“拖延症”“低情商”“冲动狂”并不是对“多动症”的正确认知，因此是对成年人“多动症”的忽视，也就是不了解相关病情，D项符合文意。B项“歧视”侧重不平等地看待，语义不符，排除B项。

因此，选择D选项。

拓展

文段出处：《ADHD—注意缺陷多动障碍》

23、正确答案：A，全站正确率：53%，易错项：C。（认准淘宝：杨柳真题，微信：gwy288，公众号：gwyeasy）

解析

第一步，分析第一空。该空照应“一个国家没有共同的核心价值观”，表达“观念不同”之意。A项“莫衷一是”形容意见分歧，没有一致的看法，符合语境。B项“自以为是”形容主观，不虚心；C项“各行其是”比喻各搞一套；D项“积非成是”指长期所形成的错误，往往被当作正确的。三者均不符合语境，排除。答案锁定A选项。

第二步，验证第二空。“屡见不鲜”指常常见到，并不新奇，符合语境。

因此，选择A选项。

拓展

数不胜数：形容数量极多，很难计算。不一而足：指同类的事物不只一个而是很多，无法列举齐全。层出不穷：比喻事物或言论接连不断地出现，尚未穷尽。

文段出处：《青年要自觉践行社会主义核心价值观》

24、正确答案：D，全站正确率：71%，易错项：C。（认准淘宝：杨柳真题，微信：gwy288，公众号：gwyeasy）

解析

第一步，先看第一空。根据“保证固定的开机时长……提供了足够大的曝光空间”可知，文中要表达的意思是受众数量多。A项“积极性”意思是肯定的、正面的、促进发展的、努力进取的、热心的。B项“多样化”意思是指多种样式。两者均不符文意。故排除A项、B项。

第二步，再看第二空。要填入的词是修饰广告的效果的。C项“交互”，意思是替换着、互相、彼此，指交流互动。而广告的效果是单向的，即让受众了解，不涉及互动，故语义不符，排除C项。

因此，选择D选项。

拓展

保有量：保有量指某地某个时间点上已登记在册的或处于在用状态的某种物品的数量。覆盖量：指笼罩一定范围。营销：指企业发现或发掘准消费者需求，让消费者了解该产品进而购买该产品的过程。吸引：是指把事物或别人的注意力引到自己方面来。传播：传播是指两个相互独立的系统之间，利用一定的媒介和途径所进行的、有目的的信息传递活动。

文段出处：《互联网的下半场，电视产业的风口在哪里？》

25、正确答案：A，全站正确率：78%，易错项：B。（认准淘宝：杨柳真题，微信：gwy288，公众号：gwyeasy）

解析

第一步，破题点在第二空。根据“反复测量个体的健康状态”可知，文中要表达的意思是获得的信息更为真实可靠。B项“前瞻性”指向前面看，有远见。C项“创新性”指创立或创造新的。D项“主动性”意思是不待外力推动而行动，能够造成有利局面，使事情按照自己的意图进行。均不符合文意。排除B项、C项和D项。

第二步，验证第一空。“要求”指提出具体愿望或条件，希望做到或实现，符合文意。

因此，选择A选项。

拓展

门槛：比喻一件事情的难点。期望：意思是指人们对某样东西的提前勾画出的一种标准，达到了这个标准就是达到了期望值。标准：标准是对重复性事物和概念所做的统一规定。精准性：非常准确；精确。

文段出处：《“智能马桶”可监测用户健康》

26、正确答案：D，全站正确率：88%，易错项：A。（认准淘宝：杨柳真题，微信：gwy288，公众号：gwyeasy）

解析

第一步，分析语境。根据搭配对象“爱与付出”与后文“整个家庭才能和和睦睦”可知，文段想要强调的是爱与付出都是有条件的，需要体谅和沟通才能获得，所以所填成语应该含有不需要条件，自然而然就有的意思。

第二步，辨析选项。A项“无缘无故”形容（事物）没有一点原因，不符合文意，排除A项。B项“责无旁贷”指自己的责任不能推卸给别人，多用于指自己应当做的不可推卸的事，不符合文意，排除B项。C项“轻而易举”形容事情做成容易，毫不费力，不符合文意，排除C项。D项“理所当然”指从道理上说应当这样，符合文意。

因此，选择D选项。

拓展

文段出处：《家人是用来爱的，而不是用来伤害的》

27、正确答案：A，全站正确率：33%，易错项：B。（认准淘宝：杨柳真题，微信：gwy288，公众号：gwyeasy）

解析

第一步，分析语境。根据“而目前这一技术的应用潜能还远未被完全开发”以及“在金融、物流、医疗、保险等领域的应用，仅是_____般的一瞥所见”可知，区块链技术的应用潜能很大，远没有发掘出来，我们“一瞥所

见”的仅仅是其诸多应用的很少一部分这个结果，空白处的成语应该有观察不细致、不深刻的意思且注重结果。第二步，分析选项。A项“浮光掠影”的意思是水面上的反光和一闪而过的影子。比喻观察不细致，没有深的印象，侧重结果，符合文意。B项“走马观花”比喻观察事物或了解情况不深入细致，侧重过程，不符合原文语境，排除B项。C项“蜻蜓点水”比喻做事肤浅不深入，不符合文意，排除C项。D项“浅尝辄止”意为略微尝试一下就停下来，指不深入钻研，不符合题意，排除D项。

因此，选择A选项。

拓展

文段出处：科技日报《挖掘区块链商机 中国：区块链走进了春天》

28、正确答案：B，全站正确率：61%，易错项：C。（认准淘宝：杨柳真题，微信：gwy288，公众号：gwyeasy）

解析

第一步，分析语境。根据空白之后“有些时候，‘当头棒喝’甚至比温言软语更有效果”可知，文段重在强调批评惩戒和赏识鼓励都是行之有效的教育形式。

第二步，辨析选项。A项“如影随形”指的是好像影子老是跟着身体，比喻两个事物关系密切或两个人关系密切不能分离。侧重关系密切，不能体现二者均行之有效，排除A项。B项“并行不悖”意思是指同时进行而互相不违背，符合文意。C项“各有所长”侧重于强调各有各的长处，无法体现批评惩戒和赏识鼓励是两种同时有用的教育方式这一含义，排除C项。D项“不可或缺”侧重强调不可缺少，与文意不符，排除D项。

因此，选择B选项。

拓展

文段出处：长安观察《老师不敢批评学生了？缺乏“棒喝”的教育有缺陷》

29、正确答案：B，全站正确率：17%，易错项：C。（认准淘宝：杨柳真题，微信：gwy288，公众号：gwyeasy）

解析

第一步，分析语境。根据“冷门”以及后面的“因为”可知，横线处要表达冷门专业的学生在就业市场上不受欢迎，横线前有“很难”，所以横线处要填入受欢迎的意思。

第二步，辨析选项。A项“如鱼得水”比喻得到跟自己最相投的人或最合适的环境，也比喻有所依靠，没有体现出不受就业市场欢迎的意思，不符合语境，排除A项。B项“炙手可热”可引申为很受欢迎，放入文段符合语境，保留。C项“学以致用”指为了实际应用而学习，横线前搭配的是“就业市场”，而且意思不符合语境，排除C项。D项“鹤立鸡群”形容一个人的仪表或本领出众，语义不符，排除D项。

因此，选择B选项。

拓展

文段出处：光明日报《这个专业，全校就她一个》

30、正确答案：A，全站正确率：93%，易错项：B。（认准淘宝：杨柳真题，微信：gwy288，公众号：gwyeasy）

解析

第一步，分析第一空。根据“但是”可知转折前后的内容相反，所以文中第一空要表达的意思是不落后，不比国民党的差。A项“不亚于”指比得上，不比别的差，符合语境，保留。B项“不低于”指大于等于，多用于指数量、数字，搭配不当，排除B项。C项“不少于”也是指大于等于，多形容数量，搭配不当，排除C项。D项“不优于”指比别的差，与文意相背，不符合文意，排除D项。答案锁定A选项。

第二步，验证第二空。修饰的对象是“武器装备”，“缴获武器”常见搭配，符合文意。

因此，选择A选项。

拓展

俘获：俘虏敌人和缴获武器装备。抓获：逮住，捕获。

文段出处：《人民解放军小米加步枪不等于装备落后》文章摘要

31、正确答案：D，全站正确率：92%，易错项：C。（认准淘宝：杨柳真题，微信：gwy288，公众号：gwyeasy）

解析

第一步，分析第一空。根据“搭便车困境”“导致公共事务乏人问津”可知，文中要表达的意思是人人都只想享受，不愿意为公共事务付出行动。A项“蜂拥而上”形容许多人一起涌上来；B项“鸠占鹊巢”比喻强占别人的住屋或占据别人的位置；C项“据为己有”将别人的东西拿来作为自己的，均不符合文意，排除A项、B项和C项。D项“坐享其成”指自己不出力而享受别人取得的成果，符合文意。答案锁定D选项。

第二步，验证第二空。根据“需要久久为功”可知，文中要表达的意思是功效并没有那么快体现出来，“立竿见影”指行事能马上看到效果或付出能马上得到收获，符合文意。

因此，选择D选项。

拓展

妙手回春：比喻将快死的人救活，指医生医术高明。神通广大：形容本领高超，无所不能：没有什么不能做的，样样能做。一劳永逸：辛苦一次，把事情办好，以后就可以不再费力了。

文段出处：中国经济网《“零浪费”用更深刻的环保观念拥抱美好生活》

32、正确答案：A，全站正确率：90%，易错项：C。（认准淘宝：杨柳真题，微信：gwy288，公众号：gwyeasy）

解析

第一步，突破口为第二空。根据转折关联词“但是”，及前文“有着共同的祖先”可知第二个空所填成语应该表达“不同”之意。A项“大相径庭”指相差很远，大不相同，符合文意。B项“毫无二致”指丝毫没有两样，指完全一样；C项“云泥之别”指相差像天空的云和地下的泥，比喻高低差别悬殊；D项“异曲同工”指不同的曲调演得同样好，比喻做法不相同而效果一样好。三者均无单纯的“不同”之意，排除B项、C项和D项。答案锁定A选项。

第二步，验证第一空。根据后文“生物多样性的神奇”，A项“惊叹”指惊讶赞叹，符合文意。

因此，选择A选项。

拓展

惊奇：觉得很奇怪；探索：多方寻求答案，解决疑问；追寻：跟踪寻找。

文段出处：《热带雨林中的鸟类和深海中的蠕虫，我们该保护哪个？》

33、正确答案：B，全站正确率：59%，易错项：A。（认准淘宝：杨柳真题，微信：gwy288，公众号：gwyeasy）

解析

第一步，分析第一空。根据量子计算将“极大促进”、“深刻”可知横线处语义程度偏重，且后文“借助于量子计算技术……得到极大拓展”，说明“包括基础教育在内的众多领域”均受到了很大影响，发生了深刻的变化。A项“融合”侧重两个事物融为一体，强调二者合并，合二为一，未体现很大影响与深刻变化，文意不符，排除A项。B项“改变”指事物发生显著的差别，侧重对比中的变化，符合文意。C项“解决”指梳理清楚，作出决断。多搭配“问题”、“办法”，与“领域”搭配不当，排除。D项“支持”指支撑，供应，赞同鼓励。“支持”与“领域”搭配不当，且“支持”一般表述为：“对……表示支持”，“支持了……”，“支持着……”，另外“支持”亦无法体现“深刻”的程度，语义不符，排除D项。答案锁定B项。

第二步，验证第二空。“从而”后体现“引发人类思维能力提升”的结果，而这种“提升”与全程度相一致，程度偏重。“根本性”指触动根基，发生巨大的变化，符合文意。

因此，选择B选项。

拓展

文段出处：潇湘晨报《量子科技为何成为多国战略布局的重点领域》

34、正确答案：C，全站正确率：92%，易错项：A。（认准淘宝：杨柳真题，微信：gwy288，公众号：gwyeasy）

解析

第一步，分析第一空。根据“便车”以及“随着水流或空气，传播到世界各个角落”，可知只有C项“搭乘”可与“便车”搭配。A项“降解”、B项“消化”和D项“吸附”均与“便车”搭配不当，排除A项、B项和D项，答案锁定C项。

第二步，验证第二空。根据“随着……传播到世界各个角落”以及“跨生物地理区域”可知横线处体现为空间位置的变化，“迁移”指搬动转移，符合题意。

因此，选择C选项。

拓展

降解：一般指有机化合物分子中的碳原子数目减少，分子量降低。消化：动物或人的消化器官把食物变成可以被机体吸收养料的过程。吸附：指物质（主要是固体物质）表面吸住周围介质（液体或气体）中的分子或离子现象。酶解：是机体通过消化管的运动和消化腺分泌物的酶解作用。

文段出处：科普中国网《新研究：扔掉的垃圾会回到你的肚子里，并且影响营养吸收》

35、正确答案：C，全站正确率：83%，易错项：B。（认准淘宝：杨柳真题，微信：gwy288，公众号：gwyeasy）

解析

第一步，分析第一空。根据横线后面表示并列的分句，紫禁城“也是著名世界的文化遗产”可知，第一空应表示紫禁城同样是“中华民族传统文化遗产”。A项“财产”指拥有的金钱、物资、房屋、土地等物质财富。B项“产业”指社会分工和生产力不断发展的产物。二者均与“紫禁城”历史留存、传统文化的特征无关，排除A项和B项。C项“遗产”指历史上遗留下来的精神财富或物质财富，符合语境，当选。D项“象征”指不可见的某种物（如一种概念或一种风俗）的可以看见的标记；迹象，特征。说“紫禁城”是中华民族传统文化的象征，语义过

重，排除D项。答案锁定C项。

第二步，验证二、三空。“宏伟”指宏大雄伟，可以用来修饰“宫殿建筑群”。“传承”指传授继承，与“文脉”搭配合理。

因此，选择C选项。

拓展

文段出处：《600年的记忆：紫禁城历史上的几个关键词》

36、正确答案：B，全站正确率：87%，易错项：D。（认准淘宝：杨柳真题，微信：gwy288，公众号：gwyeasy）

解析

第一步，分析第一空。题干表达内容为儿童大脑的两个半球都具有学习语言的能力，一半受损，另外一半也可以实现语言学习，二者为互补关系。A项“赔偿”指因自己的行动使他人或集体受到损失而给予补偿，与文意不符，排除A项。B项“补偿”可以表示抵消损失或补足缺欠，符合文意，且可以与“机制”搭配。C项“补充”意思是因不足或损失而加以添补，符合文意。D项“填充”指填补（某个空间），侧重空间，不符合文意，排除D项。

第二步，分析第二空。所填词语与“中风”搭配。“中风”对儿童大脑半球产生“损害”，而不能搭配“损失”，排除C项，B项符合文意。

因此，选择B选项。

拓展

祸害：①祸事，导致物质损害、损失和不幸的一次突然灾难；②造成灾祸，也指引起灾祸的人或事；③损害，毁坏。毁坏：破坏。

文段出处：参考消息网《研究显示：儿童同时使用左右半脑进行语言学习》

37、正确答案：B，全站正确率：85%，易错项：D。（认准淘宝：杨柳真题，微信：gwy288，公众号：gwyeasy）

解析

第一步，分析第一空。根据“原创是作品的生命力之源，抄袭无异于_____”可知，填入的词语应该有自寻死路的意思。A项“自相残杀”指自己人互相杀害，不符合文意，排除A项。D项“自欺欺人”指欺骗自己，也欺骗别人，不符合文意，排除D项。B项“自掘坟墓”和C项“自投罗网”都含有“自寻死路”的意思，但自掘坟墓偏重指“自己为自己的灭亡准备了条件”；“自投罗网”偏重指自己走入对手设下的圈套而送死。文段并没有体现“走入对手设下的圈套”的意思。而且根据横线前“原创是作品的生命力之源”，可得原创对应抄袭，生命力对应“无生命力”，将死。近些年，逻辑填空题的趋势，除了成语的本意外，专家所选文段，也颇有“形象化”表述之意，“自掘坟墓”较之“自投罗网”，是“坟墓”与“网”之间的关系。其一，“坟墓”和“无生命力”更接近，坟墓侧重“离死不远了”，“网”只是捆绑限制束缚，其二，“坟墓”与“网”相对而言，前者语义也要更重一些。所以B项较之C项更符合文意，排除C项，答案锁定B项。

第二步，验证第二空和第三空。第二空“放任抄袭作者活跃在屏幕上”，搭配恰当。第三空“腐蚀”指物质与环境相互作用而失去它原有的性质的变化，可引申指腐烂、消失、侵蚀，符合文意。

因此，选择B选项。

拓展

自掘坟墓：自己的所作所为就像在替自己挖掘坟墓一样；比喻自寻死路。自投罗网：自己投到罗网里去；比喻自己送死。消蚀：消耗，消损。磨蚀：①流水、波浪、冰川、风等所携带的沙石等磨损地表，也指这些被携带的沙石之间相互摩擦而破坏。②使逐渐消失。

文段出处：人民资讯《影视圈的抄袭之风，怎么破？》

38、正确答案：B，全站正确率：85%，易错项：D。（认准淘宝：杨柳真题，微信：gwy288，公众号：gwyeasy）

解析

第一步，分析第一空。根据顿号可知，第一空与“共御外侮”词义相近，体现共同抵御外敌、团结之意。A项“团结一心”指团结一致。B项“众志成城”意思是指万众一心。C项“风雨同舟”指在狂风暴雨中同乘一条船，一起与风雨搏斗，比喻共同经历患难。D项“同舟共济”比喻团结互助，同心协力，战胜困难。以上选项均符合文意。

第二步，分析第二空。根据顿号可知，第二空与“视死如归”词义相近，体现不怕牺牲之意。A项“见义勇为”指敢于斗争，无法体现牺牲之意，排除A项。B项“宁死不屈”意思是宁愿死也不屈服，符合文意。C项“英勇无畏”意思是非常勇敢，不畏艰险，与文意不符，排除C项。D项“宁折不弯”本指白杨木受到外力作用，只会断折，不会弯曲变形；后用来比喻宁可死也绝不屈服妥协，符合文意。

第三步，分析第三空。根据顿号可知，第三空与“百折不挠”词义相近，体现意志坚强，品节刚毅之意。B项“坚忍不拔”形容信念坚定，意志顽强，不可动摇，符合文意。D项“意志坚定”中的“意志”与空格后的“信念”语义重复，且语体风格偏口语化，排除D项。

因此，选择B选项。

拓展

勇往直前：不怕艰险，奋勇地一直往前进。能屈能伸：能弯曲也能伸直。指人能适应各种境遇，在失意时能忍耐，在得志时能施展抱负。

文段出处：光明日报文章《抗战精神激励我们奋勇前进》

39、正确答案：C，全站正确率：48%，易错项：A。（认准淘宝：杨柳真题，微信：gwy288，公众号：gwyeasy）

解析

第一步，分析文段，重点分析尾句，判别文段话题落脚点。文段提出历史上的“大国争霸”冲突的表现，然后通过两个方面的介绍与过去世界结构作对比，指出当今世界结构发生了很大变化。最后一句话，指出当今“全球性问题清单加长，单个的超级大国无力应对”的问题，根据“提出问题-解决问题”的行文脉络，下文应该讲解决当前冲突的对策。

第二步，对比选项。C项为对策项，符合文段行文脉络。

因此，选择C选项。

拓展

A项：“全球公共产品”非尾句核心话题，不符合文段的整体行文脉络；B项：对应文段第一句话，前文已提及；D项：对应文段“一方面……另一方面”，前文已提及。

文段出处：广州日报《学者新论 | 刘世锦：树立“十四五”时期改革的问题意识》

40、正确答案：C，全站正确率：51%，易错项：A。（认准淘宝：杨柳真题，微信：gwy288，公众号：gwyeasy）

解析

第一步，分析文段。文段首句指出荷兰研究人员意外发现一个新器官，后文进一步介绍这个新器官，这个被命名为“咽鼓管唾液腺”的新器官可能是人体用来湿润上咽喉部的，可能会影响癌症治疗。文段为“总一分”结构，主旨句为首句，主要讲述科学家意外发现一个新器官。

第二步，对比选项。C项是对文段主旨句的同义替换。

因此，选择C选项。

拓展

A项：“人体唾液腺”表述范围宽泛，没有指明这是一个新发现的器官。B项：“治疗癌症”属于后文解释说明的内容，且文段强调的是“可能影响癌症治疗”。D项：“放射性治疗中的禁区”表述不清，没有点明“新器官”。

文段出处：中国青年网《科学家意外发现人体新器官》

41、正确答案：B，全站正确率：88%，易错项：A。（认准淘宝：杨柳真题，微信：gwy288，公众号：gwyeasy）

解析

第一步，分析横线处的上下文语境。横线位于文段中间，承上启下。前面提到互联网发展对文学创作和传播的益处，“但”表转折，划线处应该提到互联网发展对文学创作的不利影响。后文从两方面阐述了网络文学“抄袭”界定困难、维权困难的问题。因此，划线处填入的句子应表示网络原创作品维权困难。

第二步，对比选项。B项符合上述语境。

因此，选择B选项。

拓展

A项、C项和D项：“影视圈”“影视作品”“影视剧”与上下文话题不一致。

文段出处：《影视圈的抄袭之风，怎么破？》

42、正确答案：A，全站正确率：88%，易错项：C。（认准淘宝：杨柳真题，微信：gwy288，公众号：gwyeasy）

解析

第一步，分析文段。文段首先介绍背景——“云观展”成为一种热潮，接着指出不少观众希望欣赏实物，然后具体解释了原因。文段属于“分—总—分”结构，主旨句是第二句。

第二步，对比选项。A项是主旨句的同义替换项。B项“要求越来越高”属于无中生有。C项“比较分析”和D项“对展览的认知框架”属于分说的部分，非重点。

因此，选择A选项。

拓展

文段出处：《疫情结束后“云观展”能否取代线下展览》

43、正确答案：D，全站正确率：75%，易错项：A。（认准淘宝：杨柳真题，微信：gwy288，公众号：gwyeasy）

解析

第一步，分析文段。整个文段一共有五句，第一句讲述田山歌的主要内容和流传区域，第二句讲述田山歌的艺术

价值，第三句讲述田山歌的历史溯源，最后两句讲述田山歌的产生环境。文段为“分一分”结构，整个文段讲述了田山歌各方面的具体情况。

第二步，对比选项。D项“底蕴”的意思是详细的内容，正好概括田山歌各方面的具体情况。

因此，选择D选项。

拓展

A项、B项和C项：都是只概括了文段的部分内容，片面，可以排除。

文段出处：尚一网《从松江“田山歌”看如何保留传统音乐的生存土壤》

44、正确答案：A，全站正确率：88%，易错项：B。（认准淘宝：杨柳真题，微信：gwy288，公众号：gwyeasy）

解析

第一步，分析语境。阅读文段，了解文段内容。阅读可知文段提到了酸奶的制作、成分以及它的益处。

第二步，对比选项。B项酸奶的成分在文段中间部分有提及，C项酸奶的益处文段后半部分有提及，D项酸奶的制作在文段开头有提及。A项酸奶的起源全文没有提及。

因此，选择A选项。

拓展

文段出处：《老人喝酸奶好还是牛奶好？》

45、正确答案：A，全站正确率：58%，易错项：B。（认准淘宝：杨柳真题，微信：gwy288，公众号：gwyeasy）

解析

第一步，分析文段。第一句引出“经济效益”对民间艺术的重要性，接下来具体论述“经济效益”为何重要，最后一句话通过转折关系“而”引出对策“在保证民间艺人基本生活和物质需要的基础上，提升民间艺人的自觉意识”，故文段重点句为尾句对策，强调要提升民间艺人的自觉意识。

第二步，辨析选项。A项是对重点句的同义替换，B项“经济效益”和C项“提高民间艺人的经济收入”为转折前强调的内容，并非文段重点，排除B项和C项，D项“断代危机”文段未提及，排除D项。

因此，选择A选项。

拓展

文段来源：中国艺术报《以人民为中心繁荣发展社会主义民间文艺》

46、正确答案：B，全站正确率：67%，易错项：D。（认准淘宝：杨柳真题，微信：gwy288，公众号：gwyeasy）

解析

第一步，分析文段。文段先介绍了中国艺术中色彩的三个子系统，并指出“文人士大夫系统”似乎是主要的，紧接着通过“不过”转折，指出这是一种“史实遮蔽”，“色彩的探索和应用从未停止”，即中国艺术对于色彩一直在更广大的领域探索和应用。文段为“分一总”结构，最后一句为文段重点。

第二步，对比选项。A项：为引出话题部分，非重点。C项和D项偏离主体“色彩”。B项为主旨句的同义替换，符合文段意图。

因此，选择B选项。

拓展

文段出处：《“国色”是什么颜色？》

47、正确答案：B，全站正确率：82%，易错项：A。（认准淘宝：杨柳真题，微信：gwy288，公众号：gwyeasy）

解析

第一步，分析语境。阅读文段前两句介绍了免疫防御系统会在细菌入侵时引起炎症反应，炎症反应会逐渐消失，文段第三句“但”转折后，指出会存在特殊情况：“低度炎症”之后均围绕“低度炎症”进行论述，即“低度炎症”的影响及机制。

第二步，对比选项。A项、C项和D项都偏离“低度炎症”。B项符合文段主旨。

因此，选择B选项。

拓展

文段出处：《警惕慢性低度炎症的危害》

48、正确答案：A，全站正确率：75%，易错项：D。（认准淘宝：杨柳真题，微信：gwy288，公众号：gwyeasy）

解析

第一步，分析文段，将选项与原文一一对应。

第二步，辨析选项。A项对应“汉代人物画……艺术追求的意义不太明显，都应归于‘用’之范畴”，可以看出汉代人物画基本以实用为目的，因此，A项与原文相符；B项“张彦远对东晋人物画的评价”原文中并未体现，无中生有，排除B项；C项“绘画工具”无中生有，排除C项；D项对应“汉代人物画……艺术追求的意义不太

明显，都应归于‘用’之范畴”、“‘近于艺’的后半段，实际是从唐宋时期才开始的”并没有对唐代与汉代谁更具写实性做对比，无中生有，排除D项。

因此，选择A选项。

49、正确答案：C，全站正确率：66%，易错项：D。（认准淘宝：杨柳真题，微信：gwy288，公众号：gwyeasy）

解析

第一步，分析文段，将选项与原文一一对应。

第二步，辨析选项。A项对应第一句“今年的寒冬，其实恰恰部分源于全球变暖，这种反常的现象，和一种极地漩涡的气候现象有关”，说明寒冬和极地漩涡有关，并没有提到极地漩涡是全球气候变暖的“元凶”，错误。B项，对应“最早记载极地漩涡现象的文献出现于1853年”，只是最早记载，而不是极地漩涡最早出现在1853年，错误。C项对应最后一句话“该术语推广成为了对极低温寒潮的解释”，正确。D项对应首句“今年的寒冬，其实恰恰部分源于全球变暖，这种反常的现象”，说明寒冬是反常的，并不是极地漩涡，偷换概念，错误。

因此，选择C选项。

拓展

文段出处：科普时报《这个冬天为什么这么冷》

50、正确答案：B，全站正确率：89%，易错项：A。（认准淘宝：杨柳真题，微信：gwy288，公众号：gwyeasy）

解析

第一步，定位原文。“新办法”出现在首句，其后就提到了应“走好网上群众路线”。接下来文段分别论述了“老办法”和“新办法”，最后一句是对“新办法”的具体说明，即“群众通过互联网平台……”，“领导干部要掌握运用互联网……”，由此得知，“新办法”是与互联网相关。

第二步，对比选项。A项，“网络舆情”与互联网相关；B项，“实地走访”不属于互联网；C项，“网络问政”与互联网相关；D项，“网民需求”与互联网相关。

因此，选择B选项。

拓展

文段出处：中国法制网《多措并举推进社会基层治理》

51、正确答案：A，全站正确率：81%，易错项：B。（认准淘宝：杨柳真题，微信：gwy288，公众号：gwyeasy）

解析

第一步，分析文段。文段第一句指出我国主要依靠引进外国技术实现发展，将会导致我国与国外技术差距拉大，产能分工格局低端这一问题。第二句分析关键核心技术是要不来，买不来，讨不来的，即针对这一问题进行分析。接下来，针对这一问题，提出对策，即“要推动技术发展，增强创新能力”。文段最后一句为文段重点。

第二步，对比选项。A项为对策的概括归纳项，符合文段意图。

因此，选择A选项。

拓展

B项：问题的本质是要掌握核心技术，但并未指出怎么掌握，表述不具体。C项：对策缺少核心词“创新”。D项：对策表述宽泛，并未指出应该如何减少依赖，而重点句已经点明要通过创新这一方式来摆脱对国外技术的依赖。

文段出处：人民网《产业链供应链自主可控 中国经济方能“气血充盈”》

52、正确答案：C，全站正确率：69%，易错项：A。（认准淘宝：杨柳真题，微信：gwy288，公众号：gwyeasy）

解析

第一步，分析文段。此文段为说明文，说明文就是围绕某个说明对象来具体阐述的。标题要体现说明对象，所以本文要重点找出说明对象。前两句的意思是，在撞上地球的陨石内发现最古老的物质，提出“最古老的物质”这一话题。文段第二句和第三句讲这种古老物质的构成和由来方式。第四句和第五句讲述了这种古老物质的提炼方式。因此，整个文段都是围绕“古老的物质”这一话题来说明的。

第二步，对比选项。C项更符合说明文文段的标题要求。

因此，选择C选项。

拓展

A项：侧重的是“价值”，文段说明这种物质的时候侧重的是“古老”。B项：话题不一致，文中讲的是陨石中发现的古老物质，而不是这种陨石。D项：话题不一致，且研究价值只是说明对象的某个方面。

文段出处：《2020年十大科学新纪录》

53、正确答案：D，全站正确率：90%，易错项：A。（认准淘宝：杨柳真题，微信：gwy288，公众号：gwyeasy）

解析

第一步，分析横线处上文语境。文段首先引出“无糖饮料”这一话题，接着列举具体数据，说明这类饮料销量增速明显的现象，并于下文介绍了这类饮料“走红”的原因，既能让怕发胖的人过足嘴瘾，心里也少了“罪恶感”。横线前出现了“因此”这一总结词，则横线处填入的句子应对上文内容进行总结，表明这类人群对无糖饮料的态度。

第二步，对比选项。D项“追求健康体型的人群”照应前文“众多管不住嘴又怕发胖的人”，“无糖饮料备受推崇”符合这类人群对无糖饮料的态度，符合语境。

因此，选择D选项。

拓展

A项和C项：“无糖饮料并不如所想的那么完美”“引起人体代谢的变化不是特别大”属于消极表述，和前文积极的感情色彩不一致，不能准确总结前文。B项：表述过于绝对，且无糖饮料是否对人体产生影响文段未提及。文段出处：中新网《无糖饮料只是“看上去很美”》

54、正确答案：C，全站正确率：90%，易错项：D。（认准淘宝：杨柳真题，微信：gwy288，公众号：gwyeasy）

解析

第一步，分析文段。文段第一句话通过背景铺垫先介绍了越来越多的老年人掌握互联网技术，能够熟练使用智能手机。紧接着第二句话通过转折关联词“但”，指出即便是数字化社会成长起来的年轻人，未来也可能面临今天部分老人所面临的困境，属于问题表述。最后一句提出对策，即我们的公共服务应在理念上有更多的包容、普惠底色，真正依据不同群体的需求去设定公共服务提供方式。文段为“分—总”结构，最后一句为文段重点，即文段主旨句。

第二步，对比选项。C项为对策的概括归纳项，符合文段意图。

因此，选择C选项。

拓展

A项：“从资源和技术上”为无中生有，排除。B项和D项：均为文段描述的问题，偏离文段对策。

文段出处：光明网《让老人在数字化时代少碰壁，别再把他们视为“少数群体”》

55、正确答案：D，全站正确率：62%，易错项：C。（认准淘宝：杨柳真题，微信：gwy288，公众号：gwyeasy）

解析

第一步，观察选项。⑤句引出“音准”这个话题，并谈到它具有两种含义。①句谈到人们听音乐依靠的是“音准感”。根据逻辑关系可知，应该先有“音准”，才会有“音准感”，故⑤句更适合作首句，排除B项和C项。

第二步，代入验证。A项和D项前两句均为⑤⑥两句。⑥句最后谈到“音准”，②句通过代词“这种音准”进行指代，故⑤⑥两句可以捆绑，D项符合要求。④句与⑥句之间没有相似话题，故排除B项。验证D项，③句引出“音准感”，①句说人们依靠“音准感”，③①的顺序固定，锁定D项。

因此，选择D选项。

拓展

文段出处：人民日报《有了绝对音准，唱歌就能不跑调吗？》

56、正确答案：D，全站正确率：20%，易错项：C。（认准淘宝：杨柳真题，微信：gwy288，公众号：gwyeasy）

解析

第一步，本题考查基础应用题，用方程法解题。

第二步，设B作物的种植面积为x，已知“A作物的种植面积是B作物的3倍”则A的面积为3x，已知三个面积一共是100，所以C作物种植面积为 $100-x-3x=100-4x$ 。

第三步，已知“三种作物亩产量分别为300、500和600千克，总产量为45吨”，可建立等量关系 $300 \times 3x + 500x + 600(100-4x) = 45000$ ，解得 $x=15$ ，所以B作物的面积是15，C作物的面积为 $100-4 \times 15=40$ 。C作物的种植面积是B

作物的 $40 \div 15 = \frac{8}{3}$ 倍。

因此，选择D选项。

57、正确答案：B，全站正确率：41%，易错项：C。（认准淘宝：杨柳真题，微信：gwy288，公众号：gwyeasy）

解析

第一步，本题考查工程问题。

第二步，赋值甲乙丙的效率分别为5、4、3，由于天数有具体数值，令工程总量为5、4、3的公倍数60x，那么甲乙的天数分别为12x、15x。由丁比甲多4天，比乙少5天，可知 $15x-12x=5+4$ ，解得 $x=3$ 。

第三步，总量为180，丁的时间为 $12x+4=40$ 天，效率为 $180 \div 40=4.5$ 。四队合干需要 $180 \div (5+4+3+4.5) \approx 10.9$ ，取整为11天。

因此，选择 B 选项。

58、正确答案：D，全站正确率：12%，易错项：C。（认准淘宝：杨柳真题，微信：gwy288，公众号：gwyeasy）

解析

第一步，本题考查基础应用题，用方程法解题。

第二步，设乙单位总人数为 x ，群众为 y 。已知“甲单位职工人数是乙单位的 2 倍”，所以甲单位的总人数为 $2x$ 。已知“甲单位的职工中群众人数比乙单位多 18 人”，所以甲单位的群众为 $y+18$ 。已知“两个单位中有一半是党员”，所以群众也是一半，根据这个建立等量关系， $2(y+y+18)=x+2x$ ①。“已知甲单位职工中党员占比比乙单

位高 15 个百分点”那么甲单位的群众占比比乙单位低 15 个百分点，根据这个建立等量关系， $\frac{y+18}{2x}+15\%=\frac{y}{x}$ ②。

第三步，解这两个方程， $x=60, y=36$ ，所以甲单位的总人数 $2x=120$ ，群众为 $y+18=36+18=54$ ，所以党员为 $120-54=66$ 。所以党员比群众多 $66-54=12$ 。

因此，选择 D 选项。

59、正确答案：D，全站正确率：18%，易错项：C。（认准淘宝：杨柳真题，微信：gwy288，公众号：gwyeasy）

解析

第一步，本题考查年龄问题。

第二步，设 2020 年小王年龄为 x 岁，则老张年龄为 $4x$ 岁，2021 年小王年龄为 $x+1$ 岁，老李年龄为 $3(x+1)$ 岁。根据题意列方程 $4x-[3(x+1)-1]=12$ ，解得 $x=14$ 岁，即 2020 年小王 14 岁，老张 56 岁，老李 44 岁，三人年龄和为 $14+56+44=114$ 岁。 $(140-114) \div 3 \approx 8.6$ ，即过 9 年三人年龄和超过 140 岁。

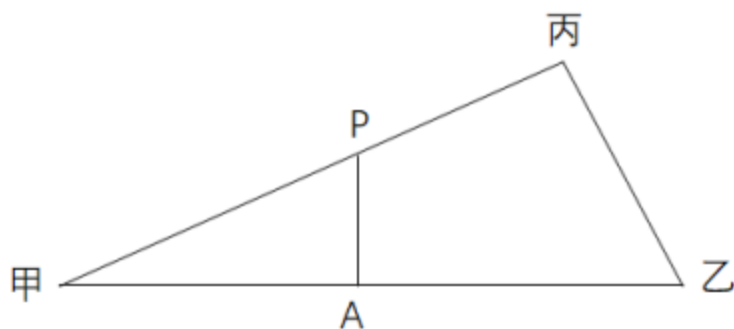
因此，选择 D 选项。

60、正确答案：C，全站正确率：44%，易错项：B。（认准淘宝：杨柳真题，微信：gwy288，公众号：gwyeasy）

解析

第一步，本题考查平面几何计算。

第二步，如图：



甲乙丙三者关系如图，A 点为甲乙的中点，P 点为甲丙的交点。由条件可知甲乙=26 千米，甲丙=24 千米，丙乙=10 千米，满足勾股数，因此角丙为直角。根据题意，PA 垂直甲乙所在直线，因此两个三角形相似，设 P 点到甲的距离为 x ，则， $x:26=13:24$ ，可得 $x=14.08$ ，则 P 点到丙的距离为 $24-14.08=9.9$ 。

因此，选择 C 答案。

61、正确答案：A，全站正确率：11%，易错项：C。（认准淘宝：杨柳真题，微信：gwy288，公众号：gwyeasy）

解析

第一步，本题考查基础计算问题。

第二步，退出人数 $4+(-1)^n$ ， $(n=1, 2, 3, \dots, 30)$ ，当 n 为奇数时，会有 3 个人退出，当 n 为偶数时，会有 5 个人退出， $n=30$ ，奇偶各一半，共 $(3+5) \times 15=120$ 人。

第三步，会议开始后加入会议人数是退出人数的 1.5 倍，则加入 $120 \times 1.5=180$ 人，设会议开始时可能有 x 人在线，则 $180+x-120=100$ ， $x=40$ 。

因此，选择 A 选项。

62、正确答案：C，全站正确率：50%，易错项：B。（认准淘宝：杨柳真题，微信：gwy288，公众号：gwyeasy）

解析

第一步，本题考查基础应用题。

第二步，设第一小时 A 产品销售额为 x ，根据第 1 小时 B 产品销售额比 A 产品多 50 万元，C 产品只有 B 产品的 60%，则 B 产品销售额为 $x+50$ ，C 产品销售额为 $0.6 \times (x+50)$ ；根据第 2 小时与第 1 小时相比：A 翻倍，B 增

加幅度比 A 少 20%，而 C 增加两倍。则第二小时 A 产品销售额为 $2x$ ，B 产品销售额为 $(1+0.8) \times (x+50)$ ，C 产品销售额为 $3 \times 0.6 \times (x+50)$ ；根据 A 产品带货额比第 1 小时大幅增加 300%，B、C 均比第 2 小时增加 50%，则第三小时 A 产品销售额为 $4x$ ，B 产品销售额为 $1.5 \times 1.8 \times (x+50)$ ，C 产品销售额为 $1.5 \times 1.8 \times (x+50)$ ；由最后 1 小时共带货 3090 万元，可得 $4x + 1.5 \times 1.8 \times (x+50) + 1.5 \times 1.8 \times (x+50) = 3090$ ，求得 $x=300$ 。最后代入第二小时可得直播带货额 $2x + 1.8 \times (x+50) + 1.8 \times (x+50) = 1860$ 。

因此，选择 C 选项。

63、正确答案：B，全站正确率：42%，易错项：C。（认准淘宝：杨柳真题，微信：gwy288，公众号：gwyeasy）

解析

第一步，本题考查基础应用题，用方程法解题。

第二步，设第二批医疗队中传染科医生人数为 $5a$ ，重症科医生人数为 $2a$ 和护士人数为 $3a$ ，可列方程： $5a+2a-3a=40$ ，解得 $a=10$ ，那么第二批医疗队共有 100 人。

第三步，根据第一批比例为 4:2:4 和第三批比例为 4:3:3，设第一批传染科医生、重症医生、护士人数分别为 $4x$ 、 $2x$ 、 $4x$ ，第三批传染科医生、重症医生、护士人数分别为 $4y$ 、 $3y$ 、 $3y$ 。根据护士总人数是 113，可列方程：

$4x+30+3y=113$ ，根据三批传染科医生人数成等差数列，可列方程： $50-4x=3y-50$ 。联立解得 $x=8$ ， $y=17$ 。则三批医疗队一共有 $80+100+170=350$ （人）。

因此，选择 B 选项。

64、正确答案：C，全站正确率：53%，易错项：B。（认准淘宝：杨柳真题，微信：gwy288，公众号：gwyeasy）

解析

第一步，本题考查概率问题。

第二步，每门课程限选 30 人，那么 3 门课程最多可选 90 人，则该专业学生每人各选 1 门且其中 30 人选的 A，30 人选的 B，30 人选的 C。那么小李能选中课程 A 的概率为 $30 \div 90 = 1/3$ 。

因此，选择 C 选项。

65、正确答案：B，全站正确率：42%，易错项：C。（认准淘宝：杨柳真题，微信：gwy288，公众号：gwyeasy）

解析

第一步，本题考查几何特殊性质，可以采用带入排除。

第二步，根据题意，代入 A 选项，若 $m=6$ ，则第二条边长为 $3+4=7$ ，第三条边长为 15，两边之和小于第三边 15，不满足题意，排除。

代入 B 选项，若 $m=7$ ，则第二条边长为 7.5，第三条边长为 13.5，满足题意。

代入 C 选项，若 $m=8$ ，则第二条边长为 8，等于第一条，不满足第一条边长为最短。同理可排除 D 选项。

因此，选择 B 答案。

66、正确答案：B，全站正确率：58%，易错项：C。（认准淘宝：杨柳真题，微信：gwy288，公众号：gwyeasy）

解析

第一步，观察特征。

题干出现多个圆相交，是典型的一笔画特征图，因此考虑笔画数。

第二步，根据规律进行分组。

图形①③⑥为一笔画，图形②④⑤不是一笔画，分为两组。

因此，选择 B 选项。

67、正确答案：B，全站正确率：82%，易错项：C。（认准淘宝：杨柳真题，微信：gwy288，公众号：gwyeasy）

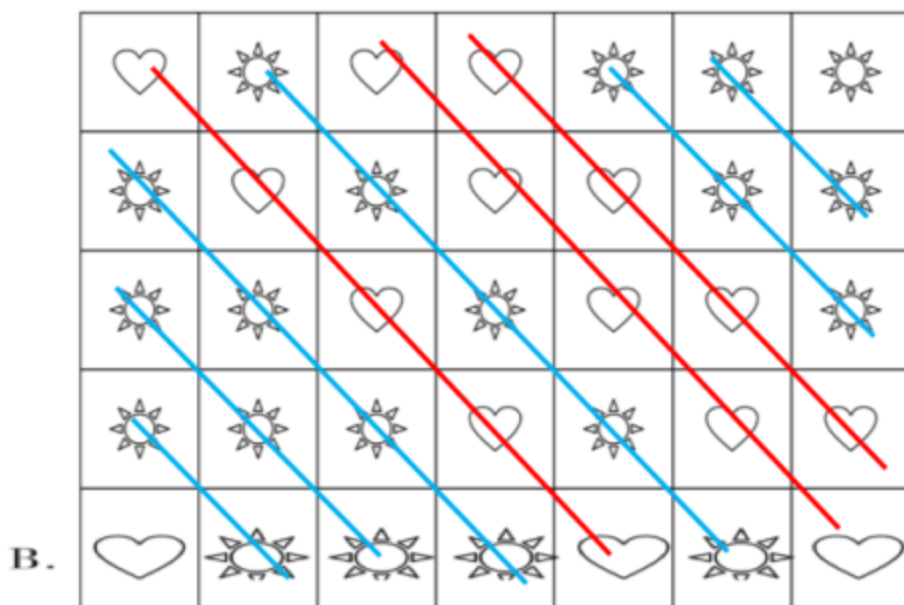
解析

第一步，观察特征。

已知图形为太阳与心形交替出现，考查排布规律。

第二步，寻找排布规律。

左上到右下的连线上的图案均相同。只有 B 项符合。示意图如下：



因此，选择 B 选项。

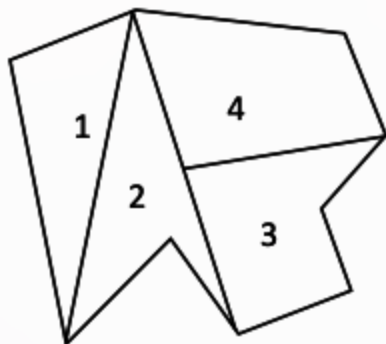
68、正确答案：C，全站正确率：71%，易错项：B。（认准淘宝：杨柳真题，微信：gwy288，公众号：gwyeasy）

解析

第一步，明确设问内容。

题目要求各面平移后拼合

第二步，观察图形特征，寻找平行且等长边及最特殊的角或边，将其拼合后得到如下图所示：



因此，选择 C 选项。

69、正确答案：B，全站正确率：68%，易错项：A。（认准淘宝：杨柳真题，微信：gwy288，公众号：gwyeasy）

解析

第一步，观察特征。

图形组成均为圆点，优先考虑数量类元素个数。

第二步，九宫格，横向规律较为常见，优先考虑。

第一行圆点个数为 6、1、8 整体相加为 15；第二行圆点个数为 7、5、3 整体相加为 15；第三行后两幅图形圆点个数为 9、4，根据前两行元素整体相加为 15，所以“？”应为 2 个圆点，只有 B 选项符合。

九宫格也可看整体，圆点数量 1-9 遍历分布，所以“？”缺 2 个圆点，并且奇数个圆点都为白色，偶数个圆点都为黑色，B 项符合。

因此，选择 B 选项。

70、正确答案：C，全站正确率：81%，易错项：B。（认准淘宝：杨柳真题，微信：gwy288，公众号：gwyeasy）

解析

第一步，观察特征。

题干出现多种比较标准的几何图形，优先考虑整体图形的特征，观察发现每个图形均为对称图形，因此考虑对称

性。

第二步，根据规律进行分组。

在图形中将对称轴画出，可以看出图形①③④只有一条对称轴，图形②⑤⑥有两条对称轴，按此分为两组。

因此，选择C选项。

71、正确答案：A，全站正确率：58%，易错项：C。（认准淘宝：杨柳真题，微信：gwy288，公众号：gwyeasy）

解析

第一步，观察特征。

已知图形为圆柱、正方体、正方体周期循环出现，考查排布规律。

第二步，寻找排布规律。

观察已知图形发现，每3个图形为一个周期。那么第88、89、90为圆柱、正方体、正方体，继续往后91、92为圆柱、正方体。所以，题目中所问的90、91、92的图形应该是正方体、圆柱、正方体。只有A项符合。

因此，选择A选项。

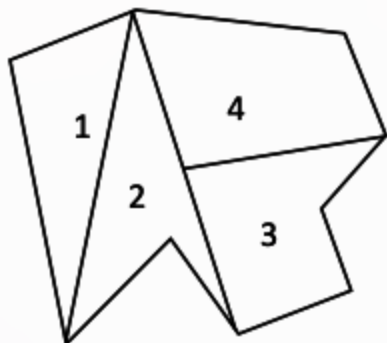
72、正确答案：C，全站正确率：71%，易错项：B。（认准淘宝：杨柳真题，微信：gwy288，公众号：gwyeasy）

解析

第一步，明确设问内容。

题目要求各面平移后拼合

第二步，观察图形特征，寻找平行且等长边及最特殊的角或边，将其拼合后得到如下图所示：



因此，选择C选项。

73、正确答案：D，全站正确率：33%，易错项：C。（认准淘宝：杨柳真题，微信：gwy288，公众号：gwyeasy）

解析

第一步，根据提问方式，确定为选是题。

第二步，找关键信息。

①行为人为谋取不法利益或形成非法影响；

②对他人或者在有关场所进行滋扰、纠缠、哄闹、聚众造势等；

③足以使他人产生恐惧、恐慌进而形成心理强制的行为，或者足以影响、限制人身自由、危及人身财产安全，影响正常生活、工作、生产、经营的违法犯罪手段。

第三步，辨析选项。

A项：张某威胁王法官的目的是希望其秉公判案，不属于“行为人为谋取不法利益或形成非法影响”，不符合定义；

B项：甲公司采取的措施是私下散步竞争对手的不利消息，不属于“对他人或者在有关场所进行滋扰、纠缠、哄闹、聚众造势等”，不符合定义；

C项：某恶势力将王某堵在房间不让其睡觉，已经是更为严重的人身强制行为，超过十二小时的人身限制，已经构成非法拘禁罪，不属于“对他人或者在有关场所进行滋扰、纠缠、哄闹、聚众造势等”，不符合定义；

D项：网贷公司使用群呼，群发，揭发隐私等手段滋扰欠款人等，属于“行为人为谋取不法利益或形成非法影响，对他人或者在有关场所进行滋扰、纠缠、哄闹、聚众造势等，足以使他人产生恐惧、恐慌进而形成心理强制的行为，或者足以影响、限制人身自由、危及人身财产安全，影响正常生活、工作、生产、经营的违法犯罪手段”，符合定义。

因此，选择D选项。

74、正确答案：C，全站正确率：84%，易错项：B。（认准淘宝：杨柳真题，微信：gwy288，公众号：gwyeasy）

解析

第一步，根据提问方式，确定为选是题。

第二步，找关键信息。

①名词指示的人或物在空间维度所表现出的诸如数量、大小、形状和结构等特征

②是一种认知方式和结果。

第三步，辨析选项。

A项：“激战上甘岭”，并没有涉及到对于空间维度的特征描述，不符合定义；

B项：“原始人的独木舟”其中，“原始人”和“独木舟”均未涉及对于空间维度的特征的描述，不符合定义；

C项：“弯弯的月亮”中的“弯弯的”正是对月亮这一事物“空间维度中形状特征描述”，符合定义；

D项：“未来的希望”，其中，“未来的”和“希望”均未涉及对于空间维度的特征的描述，不符合定义；

因此，选择C选项。

75、正确答案：C，全站正确率：17%，易错项：D。（认准淘宝：杨柳真题，微信：gwy288，公众号：gwyeasy）

解析

第一步，根据提问方式，确定为选是题。

第二步，找关键信息。

与同龄人相比，青少年自我感觉自身的青春发育水平是适中。

第三步，辨析选项。

A项：父母认为其正常，没有体现甲对自己的感觉，不符合“青少年自我感觉”，不符合定义；

B项：乙长了青春痘，而同学没有，其感到不自在，说明其与同龄人不同，不符合“适中”，不符合定义；

C项：丙和其他同学一样充满好奇，说明他和同龄人较为相似，符合“与同龄人相比，青少年自我感觉自身的青春发育水平是适中”，符合定义；

D项：丁在评估表上选择正常，没有体现其他同学的选择，不符合“与同龄人相比”，不符合定义。

因此，选择C选项。

76、正确答案：D，全站正确率：22%，易错项：C。（认准淘宝：杨柳真题，微信：gwy288，公众号：gwyeasy）

解析

暂缺

77、正确答案：D，全站正确率：19%，易错项：A。（认准淘宝：杨柳真题，微信：gwy288，公众号：gwyeasy）

解析

第一步，根据提问方式，确定为选非题。

第二步，找关键信息。

单定义，考查“化学沉积作用”，其关键信息为：

①在水介质中，以胶体溶液和真溶液形式搬运的物质到达适宜场所后，当化学条件发生变化时，产生沉淀、堆积的过程；

②胶体溶液是指含有一定大小的固体颗粒物质或高分子化合物的溶液，真溶液是指透明度较高的水溶液。

第三步，辨析选项。

A项：湖水含有氯化钠，湖水是透明度较高的水溶液，即氯化钠是湖水搬运的物质，在蒸发作用下产生了累积，符合定义；

B项：海水中的绿色粘土矿物随水流动，符合以真溶液形式搬运的物质，当存在铝和铁的胶体物质时，产生聚合堆积形成海绿石，符合定义；

C项：海水富含磷质，海水是透明度较高的水溶液，即磷质是海水搬运的物质，在压力减小和温度升高的条件下，磷质沉积形成磷矿，符合定义；

D项：湖泊里的生物骨骼不是以水为介质，即骨骼不是湖泊里的溶质，也就不是以胶体溶液和真溶液形式搬运的物质，不符合定义。

因此，选择D选项。

78、正确答案：A，全站正确率：33%，易错项：B。（认准淘宝：杨柳真题，微信：gwy288，公众号：gwyeasy）

解析

第一步，看提问方式，本题属于选是题。

第二步，找关键信息。

①生物有机体或处于同一营养级上的许多生物种群；

②从周围环境中蓄积某种元素或难分解化合物，使生物有机体内该物质的浓度超过环境中该物质浓度。

第三步，辨析选项。

A项：DDT从昆虫通过食物链传到白头鹰，并且一直没有分解，导致白头鹰下的是软壳蛋，符合定义；

B项：并未体现生物从周围环境中蓄积某种元素或难分解的化合物，使其浓度超过环境中该物质的浓度，不符合定义；

C项：山羊吃玉米引起胃胀，并未涉及其蓄积某种元素或难分解的化合物，不符合定义；

D项：并未涉及到生物有机体，不符合定义。

因此，选择A选项。

79、正确答案：C，全站正确率：58%，易错项：A。（认准淘宝：杨柳真题，微信：gwy288，公众号：gwyeasy）

解析

第一步，根据提问方式，确定为选非题。

第二步，找关键信息。

①把通常相互对立、排斥的两个概念联系到一起；

②揭示存在于客观事物深层的矛盾辩证关系。

第三步，辨析选项。

A项：“千夫指”和“孺子牛”是相互对立和排斥的两个概念，前半句指对待敌人绝不屈服，后半句指对人民甘愿服务，符合定义；

B项：“活着”和“死了”是相互对立和排斥的概念，体现了“深层次的矛盾辩证关系”，符合定义；

C项：头“重”脚“轻”，虽然有对立的观念，但是并不是对同一个对象的描述，并不是“矛盾辩证关系”不符合定义；

D项：“死去”和“永生”，“永生”和“埋葬”，均符合关键信息①、②，符合定义。

因此，选择C选项。

80、正确答案：D，全站正确率：25%，易错项：A。（认准淘宝：杨柳真题，微信：gwy288，公众号：gwyeasy）

解析

第一步，根据提问方式，确定为选是题。

第二步，找关键信息。

单定义，考查“农业生产周期”，其关键信息为：

①在连续不断的农业再生产过程中，从开始生产到获得产品的整个过程所经过的全部时间；

②种植业中一般是从整地开始到产品收获所经过的全部时间。畜牧业中一般是从饲养幼畜开始到获得畜产品的时间。

A项：小李从耕地开始种植棉花，所涉及的生产周期应该是从耕地开始，到摘棉花为止，棉花就是种植业中涉及的收获的产品，而纺线和织布不属于农业生产过程了，不符合定义；

B项：小黄办乡镇企业，只涉及原材料的购进、生产和销售，但是否是属于农业生产不确定，不符合“连续不断的农业再生产过程”，不符合定义；

C项：小刘承包荒山种植优质苹果树苗，只说到树苗成活且长势良好，但并未体现产品的收获，不符合“从整地开始到产品收获所经过的全部时间”，不符合定义；

D项：小王在养猪场养猪，属于畜牧业，而把幼崽养大的过程即从饲养幼畜开始到获得畜产品的时间，符合“畜牧业中一般是从饲养幼畜开始到获得畜产品的时间”，符合定义。

因此，选择D选项。

81、正确答案：C，全站正确率：89%，易错项：D。（认准淘宝：杨柳真题，微信：gwy288，公众号：gwyeasy）

解析

第一步，确定题干逻辑关系。

“就地保护”与“异地保护”属于并列关系中的矛盾关系。

第二步，辨析选项。

A项：“汽车爆胎”与“汽车漏油”都是汽车事故，二者属于并列关系中的反对关系，排除；

B项：“防洪堤”是指为了防止河流泛滥而建的堤坝，“绿化带”是指供绿化的条形地带，二者属于交叉关系，排除；

C项：“纯种繁育”与“杂交繁育”属于并列关系中的矛盾关系，与题干逻辑关系一致，符合；

D项：“销售提成”与“股份分红”都是收入方式，二者属于并列关系中的反对关系，排除。

因此，选择C选项。

82、正确答案：D，全站正确率：45%，易错项：C。（认准淘宝：杨柳真题，微信：gwy288，公众号：gwyeasy）

解析

第一步，确定题干逻辑关系。

“防洪”与“洪涝”属于对应关系，“抗旱”与“干旱”属于对应关系，且“洪涝”与“干旱”都是自然灾害，二者属于并列关系。

第二步，辨析选项。

A项：“抗震”与“地震”属于对应关系，“救灾”与“海啸”不属于对应关系，排除；

B项：“滑坡”和“雪崩”时需要进行“道路抢修”，与题干对应方式不一致，排除；

C项：“防冻”与“严寒”属于对应关系，“消暑”与“酷热”属于对应关系，但是“严寒”与“酷热”不属于自然灾害，与题干逻辑关系不一致，排除；

D项：“防沙”与“风沙”属于对应关系，“除霾”与“雾霾”属于对应关系，且“风沙”与“雾霾”都是自然灾害，二者属于并列关系，与题干逻辑关系一致，符合。

因此，选择D选项。

83、正确答案：A，全站正确率：88%，易错项：D。（认准淘宝：杨柳真题，微信：gwy288，公众号：gwyeasy）

解析

第一步，确定题干逻辑关系。

“党员”和“干部”属于交叉关系，前两词与“服务人民”属于对应关系。

第二步，辨析选项。

A项：“青年”和“才俊”属于交叉关系，前两词与“报效国家”属于对应关系，与题干逻辑关系一致，符合；

B项：“科学”和“精英”没有明显的逻辑关系，排除；

C项：“大国”和“工匠”属于偏正关系，排除；

D项：“教师”在“学校”工作，二者属于对应关系，排除。

因此，选择A选项。

84、正确答案：C，全站正确率：43%，易错项：B。（认准淘宝：杨柳真题，微信：gwy288，公众号：gwyeasy）

解析

分别将选项代入题干，确定逻辑关系。

A项：“轮胎”是“汽车”的一部分，二者属于包容关系中的组成关系，“手机”和“相机”属于并列关系，前后逻辑关系不一致，排除；

B项：“速度”是指“汽车”在单位时间内驶过的距离，“速度”是衡量“汽车”行驶快慢的指标，二者属于必然对应关系，“像素”是“相机”感光器件上的感光最小单位，“像素”是衡量“数码相机”清晰度的指标，胶片相机不涉及“像素”这一概念，“像素”与“相机”二者属于或然对应关系，前后逻辑关系不一致，排除；

C项：“马达”是“汽车”的核心部件之一，二者属于包容关系中的组成关系，“快门”是“相机”的组成部分，二者属于包容关系中的组成关系，前后逻辑关系一致，符合；

D项：“单车”和“汽车”属于并列关系，“单反”相机属于“相机”的一种，二者属于包容关系中的种属关系，前后逻辑关系不一致，排除。

因此，选择C选项。

拓展

像素是指由图像的小方格组成的，这些小方块都有一个明确的位置和被分配的色彩数值，小方格颜色和位置就决定该图像所呈现出来的样子。可以将像素视为整个图像中不可分割的单位或者是元素。

85、正确答案：C，全站正确率：84%，易错项：A。（认准淘宝：杨柳真题，微信：gwy288，公众号：gwyeasy）

解析

分别将选项代入题干，确定逻辑关系。

A项：“绵羊”属于哺乳动物，“麻雀”属于鸟类，二者不属于并列关系，“水稻”和“高粱”都是植物，二者属于并列关系，前后逻辑关系不一致，排除。

B项：“绵羊”属于哺乳动物，“老鹰”属于鸟类，二者不属于并列关系，“麦子”和“高粱”都是粮食作物，二者属于并列关系，前后逻辑关系不一致，排除。

C项：“绵羊”与“羚羊”都属于偶蹄目动物，二者属于并列关系，“玉米”与“高粱”都属于粗粮作物，二者属于并列关系，前后逻辑关系一致，符合。

D项：“绵羊”与“山羊”都属于偶蹄目动物，二者属于并列关系，“玫瑰”与“高粱”虽都属于植物，但是“玫瑰”是观赏性植物，“高粱”是粮食作物，前后逻辑关系不一致，排除。

因此，选择C选项。

86、正确答案：B，全站正确率：24%，易错项：D。（认准淘宝：杨柳真题，微信：gwy288，公众号：gwyeasy）

解析

第一步，确定题干逻辑关系。

“山”与“水”对应，“有色”与“发声”对应，两词的组词结构一致。

第二步，辨析选项。

A项：“山河”与“草木”对应，“在”与“深”词性不同，排除；

B项：“客舍”与“柳色”对应，“青”与“新”对应，两词的组词结构一致，与题干逻辑关系一致，符合；

C项：“鸟”与“人”对应，“飞绝”与“踪灭”不对应，排除；

D项：“花”与“鸟”对应，“作尘”与“不惊”不对应，排除。

因此，选择B选项。

87、正确答案：A，全站正确率：70%，易错项：C。（认准淘宝：杨柳真题，微信：gwy288，公众号：gwyeasy）

解析

第一步，确定题干逻辑关系。

“匹马”是指一匹马，“单枪”是指一杆枪；二者属于并列关系，且“匹”和“单”都表示数量。

第二步，辨析选项。

A项：“万水”和“千山”属于并列关系，其中，“万”和“千”都表示数量，与题干逻辑关系一致，符合；

B项：“花红”和“柳绿”属于并列关系，但没有表示数量的词，排除；

C项：“地久”和“天长”属于并列关系，“地”和“天”不是表示数量的词，排除；

D项：“猴年”和“马月”属于并列关系，但没有表示数量的词，排除；

因此，选择A选项。

88、正确答案：C，全站正确率：79%，易错项：D。（认准淘宝：杨柳真题，微信：gwy288，公众号：gwyeasy）

解析

第一步，确定题型。

根据提问方式中的“支持”，确定为加强论证。

第二步，找论点和论据。

论点：气温升高将加剧野生动物传染病的暴发。

论据：热带、亚热带或低海拔地区的动物，因生活环境炎热，一直面临患传染病的风险，生活在高纬度和高海拔等低温环境的动物，因长久寒冬可免于病毒入侵，现在冬季变得越来越温暖，持续时间也越来越短。

第三步，辨析选项。

A项：无关选项。该项说的是气候不管怎样变化，炎热地带的动物始终面临患传染病风险，与气温升高是否会加剧野生动物传染病的暴发无关，论题不一致，排除。

B项：无关选项。该项说的是寒带和高海拔栖息地的动物遭遇传染病的风险在升高，与气温升高是否会加剧野生动物传染病的暴发无关，论题不一致，排除。

C项：增加论据。气温高低和野生动物患传染病的风险存在正相关，说明气温越高，患传染病的风险会增大，具有加强作用。

D项：无关选项。该项说的是寒冷气候野生动物免受病毒入侵，炎热更容易导致野生动物感染病毒，对比的是寒冷和炎热，而论点主要讨论“气温升高”，说的是气温的变化，论题不一致，排除。

因此，选择C选项。

89、正确答案：D，全站正确率：66%，易错项：B。（认准淘宝：杨柳真题，微信：gwy288，公众号：gwyeasy）

解析

第一步，确定题型。

根据提问方式中的“质疑下列哪项观点”，确定为削弱论证。

第二步，分析题干。

题干信息：埃兰语与美索不达米亚原始楔形文字一样久远，但不是起源于美索不达米亚，而是在古波斯一带使用。与表音并表意的美索不达米亚楔形文字不同，埃兰语是表音语言。

第三步，辨析选项。

A项：题干提及埃兰语不是起源于美索不达米亚，是独立使用的语言，而该项讨论的是埃兰语的构成和书写规则等，无法质疑。

B项：题干提及埃兰语不是起源于美索不达米亚，是独立使用的语言，而该项讨论的是埃兰语的使用时间，无法质疑。

C项：题干提及埃兰语不是起源于美索不达米亚，是独立使用的语言，而该项讨论的是埃兰语与美索不达米亚楔形文字、古埃及圣书体产生的时间相同，无法质疑。

D项：题干提到“埃兰语与美索不达米亚原始楔形文字一样久远，但不是起源于美索不达米亚”，可以质疑该项“埃兰语源于美索不达米亚原始楔形文字，与楔形文字是母体和子体关系”的观点，可以质疑。

因此，选择D选项。

90、正确答案：C，全站正确率：75%，易错项：D。（认准淘宝：杨柳真题，微信：gwy288，公众号：gwyeasy）

解析

第一步，确定题型。

根据提问方式中的“支持”，确定为加强论证。

第二步，找论点和论据。

论点：AI助手在医学应用上有着明显的优势。

论据：放射科医生每天要阅读并分析大量的影像，医生会因为疲劳导致效率降低，AI助手则不会，它甚至比人眼能更加迅捷地找到影像中的可疑病变，帮助医生做出初步诊断。

第三步，辨析选项。

A项：不明确项。该项提及可以借助AI技术将疑难影像分类归档，但是并未和人类医生做比较，故无法判断这是否是一项优势，不具有加强作用。

B项：不明确项。该项提及可以借助AI助手完成了一次远程会诊，但是并未和人类医生做比较，故无法判断这是否是一项优势，不具有加强作用。

C项：增加论据。该项指出仅半天就可以完成200多个患者的影像诊断，说明诊断效率高，具有优势，具有加强作用。

D项：不明确项。该项提及可以借助AI助手远程会诊及确定方案，但是并未和人类医生做比较，故无法判断这是否是一项优势，不具有加强作用。

因此，选择C选项。

91、正确答案：A，全站正确率：31%，易错项：D。（认准淘宝：杨柳真题，微信：gwy288，公众号：gwyeasy）

解析

第一步，确定题型。

根据提问方式中的“质疑”，确定为削弱论证。

第二步，找论点和论据。

论点：素食或少吃肉可避免儿童罹患哮喘的风险。

论据：肉食中的化合物可能引发部分儿童气喘，进而导致哮喘或其他呼吸道疾病。这些化合物被称作“晚期糖基化终产物”，是肉类在高温烤炸烘焙时释放出的物质。

第三步，辨析选项。

A项：增加反向论据。该项指出肉类在非高温的情况不产生“晚期糖基化终产物”，即证明吃肉其实不一定会有气喘影响，同时，说明与哮喘关联度不明确，具有削弱作用。

B项：增加论据。该项明确“晚期糖基化终产物”有部分来自肉类，故少吃肉可以避免儿童罹患哮喘的风险，具有加强作用。

C项：增加论据。该项明确“晚期糖基化终产物”能够导致哮喘，故少吃肉可以避免儿童罹患哮喘的风险，具有加强作用。

D项：无关选项。能够说明会随着年龄增长而增加，不能证明肉食与气喘之间的关系，论题不一致，排除。

因此，选择A选项。

92、正确答案：D，全站正确率：67%，易错项：A。（认准淘宝：杨柳真题，微信：gwy288，公众号：gwyeasy）

解析

第一步，确定题型。

根据提问方式中的“则”，确定为翻译推理。

第二步，翻译题干。

（1）食用富含黄烷醇的食物→将会促进心血管功能和脑血管功能；

（2）某种物质有益于脑血管功能→对认知功能产生积极影响

第三步，进行推理。

A项：“要改善心血管功能”属于对（1）的肯后，肯后推不出必然结论，排除；

B项：“要改善脑血管功能”属于对（1）的肯后，肯后推不出必然结论，排除；

C项：“要改善认知功能”属于对（2）的肯后，肯后推不出必然结论，排除；

D项：“食用富含黄烷醇的食物”属于对（2）的肯前，肯前必肯后，符合。

因此，选择D选项。

93、正确答案：D，全站正确率：77%，易错项：B。（认准淘宝：杨柳真题，微信：gwy288，公众号：gwyeasy）

解析

第一步，确定题型。

依据题干特征和提问方式，确定为归纳推理。

第二步，辨析选项。

- A项：题干中提到的是“蛋白质”和“乙醇”，并不清楚二者和“食品和酒类”之间关系，无法得出，排除；
B项：题干中提到的是“蛋白质”能否合成人造食品并不清楚，无法得出，排除；
C项：“只有……才……”为条件关系，即实现温室气体零排放一定满足二氧化碳资源化利用，表述过于绝对，无法得出，排除；
D项：满足可能性原则，可以得出。
因此，选择D选项。

94、正确答案：B，全站正确率：35%，易错项：D。（认准淘宝：杨柳真题，微信：gwy288，公众号：gwyeasy）

解析

第一步，确定题型。

根据提问方式中的“质疑”，确定为削弱论证。

第二步，找论点和论据。

论点：小米粥上的这层米油营养价值极高，滋补能力极强，还可以保护胃黏膜。

第三步，辨析选项。

①句：无关选项。论点在讨论这层米油的营养价值是否高，滋补能力是否强，但是①说的是否含有维生素B1B2和钾成分，这和论点讨论的话题并不一致。排除。

②句：否定论点。第二句直接告诉我们，米油没有极高的营养价值和滋补能力，这是对论点的直接否定，具有削弱作用。

③句：不明确项。第三句说助消化不等于营养价值高，那么营养价值究竟高不高并不确定，该句不具有削弱作用。

④句：否定论点。第四句告诉我们，米油对胃黏膜没有保护作用，这是对论点当中可以保护胃黏膜的直接否定，具有削弱作用。

因此，选择B选项。

95、正确答案：A，全站正确率：66%，易错项：C。（认准淘宝：杨柳真题，微信：gwy288，公众号：gwyeasy）

解析

第一步，确定题型。

题干有明显的信息匹配特征，确定为分析推理。

第二步，分析条件，进行推理。

根据条件①②③可得：小王参观的动物猴子，排除C项；

根据条件②④⑤可得：住在西边的骆驼年龄最小，所以小张参观的是骆驼，小李参观大象，排除D项；

根据条件⑤中“三个动物的平均年龄为5岁”和条件②中“骆驼已经四岁”，利用平均数计算公式可得：大象和猴子的年龄之和为11，再根据条件⑤中“三种动物年龄从西到东依次增加”和题干中“它们的年龄均为整数”，可得：猴子的年龄为5岁，大象的年龄为6岁，排除B项。

因此，选择A选项。

96、正确答案：C，全站正确率：85%，易错项：D。（认准淘宝：杨柳真题，微信：gwy288，公众号：gwyeasy）

解析

第一步，本题考查读数比较。

第二步，定位表格“销量”所在行。

第三步，根据全年销售量=第1季度销量+第2季度销量+第3季度销量+第4季度销量。通过表格数据发现，丙产品四个季度的销量分别是46350、48980、45610、45820，均大于甲、乙、丁各个季度的销量，则丙产品全年销量最大。

因此，选择C选项。

97、正确答案：D，全站正确率：68%，易错项：C。（认准淘宝：杨柳真题，微信：gwy288，公众号：gwyeasy）

解析

第一步，本题考查简单计算。

第二步，定位表格，销售单价所在行。

第三步，波动绝对值指的是销售单价的最大值与最小值的差值，甲产品销售价格的波动绝对值为 $13-12=1$ ；乙产品销售价格的波动绝对值为 $15-15=0$ ；丙产品销售价格的波动绝对值为 $5.0-4.5=0.5$ ；丁产品销售价格的波动绝对值为 $138-128=10$ 。比较可知，波动绝对值最大的是丁产品。

因此，选择D选项。

拓展

在统计分析时，常用方差来衡量一组数据的离散程度，即波动程度。但在公考中几乎没有出现过方差的考点，故将本题中“波动绝对值”理解为“变化量的绝对值”只需比较最大值与最小值的差值即可。

在国家统计局的解释中，提到波动，指的是“量”的变化，而非“率”的变化。

98、正确答案：B，全站正确率：81%，易错项：C。（认准淘宝：杨柳真题，微信：gwy288，公众号：gwyeasy）

解析

第一步，本题考查现期比重比较。

第二步，定位表格“丁产品的销售单价和销量”所在行。

第三步，由于整体量丁产品全年销售总额一定，求占比最大的季度，只需要比较各季度销售总额的大小。根据销售总额=销售单价×销量，观察表格数据发现，第2季度销量4578与销售单价138均高于其他季度，则丁产品第2季度销售总额最高。

因此，选择B选项。

99、正确答案：C，全站正确率：75%，易错项：B。（认准淘宝：杨柳真题，微信：gwy288，公众号：gwyeasy）

解析

第一步，本题考查其他比较。

第二步，定位表格“甲产品销量、单位成本、销售单价”所在行。

第三步，销售利润=(销售单价-单位成本)×销量。甲产品第1季度销售利润(12-10)×20350=2×20350，第2季度销售利润(12-10)×22010=2×22010，第3季度销售利润(13-11)×18080=2×18080，第4季度销售利润(13-10)×19320=3×19320，明显第1季度利润<第2季度，排除D选项，第2季度利润>第3季度利润，排除AB。

因此，选择C选项。

100、正确答案：D，全站正确率：61%，易错项：C。（认准淘宝：杨柳真题，微信：gwy288，公众号：gwyeasy）

解析

第一步，本题考查综合分析问题，且需选出说法正确的一项。

第二步，A选项，利润率比较。定位表格，利润率= $\frac{\text{利润}}{\text{销售单价}} = \frac{\text{销售单价} - \text{单位成本}}{\text{销售单价}}$ ，甲产品第1季度利润率

率= $\frac{12-10}{12} \approx 17\%$ ，第2季度利润率 $\frac{12-10}{12} \approx 17\%$ ，第3季度利润率 $\frac{13-11}{13} \approx 15\%$ ，第4季度利润率 $\frac{13-10}{13} = 23\%$ ，则甲产品利润率介于15%-23%。丙产品第1季度利润率= $\frac{4.5-2.5}{4.5} \approx 44\%$ ，第2季度利润率

$\frac{4.5 - 2.5}{4.5} \approx 44\%$ ，第3季度利润率 $\frac{5 - 3}{5} \approx 40\%$ ，第4季度利润率 $\frac{4.6 - 2.6}{4.6} \approx 43\%$ ，则丙产品利润率介于40%~44%。明显丙产品利润率高于甲产品，错误。

B选项，读数比较。定位表格，乙产品的销量在四个季度分别是12260、13130、13280、13550，一直上升，错误。

C选项，读数比较。定位表格，利润总额=利润×销量，丙产品每个季度的利润（销售单价-单位成本）不变，但是销量有变化，则每个季度利润总额都有变化，错误。

D选项，比重比较，定位表格，要求销售总额占比最大，由于整体量相同，故只需算出四种产品中销售额最高的产品即可，分析第一季度发现，丁产品的销售额（ $4360 \times 130 = 43600 \times 13$ ）高于甲产品（ 20350×12 ），乙产品（ 12260×15 ），丙产品（ 46350×4.5 ）；第二季度，丁产品销售额（ $4578 \times 138 = 45780 \times 13.8$ ）高于甲产品（ 22010×12 ），乙产品（ 13130×15 ），丙产品（ 48980×4.5 ）；第三季度，丁产品销售额（ $3940 \times 128 = 39400 \times 12.8$ ）高于甲产品（ 18080×13 ），乙产品（ 13280×15 ），丙产品（ 45610×5 ）；第四季度，丁产品销售额（ $4256 \times 136 = 42560 \times 13.6$ ）高于甲产品（ 19320×13 ），乙产品（ 13550×15 ），丙产品（ 45820×4.6 ）。故四种产品中，销售总额占全年全公司销售总额比重最大的是丁产品，正确。

因此，选择D选项。

101、正确答案：C，全站正确率：59%，易错项：A。（认准淘宝：杨柳真题，微信：gwy288，公众号：gwyeasy）

解析

第一步，本题考查简单比较中的读数比较。

第二步，定位表格材料，“2020年度排名”、“排名环比升降”两列。

第三步，2019年各选项通勤高峰交通拥堵指数的年度排名分别为：北京3-1=2（名），上海5+2=7（名），重庆与上年持平仍为第1名，南京9-3=6（名），故2019年重庆的通勤高峰交通拥堵指数排名最高，是通勤高峰最拥堵的城市。

因此，选择C选项。

102、正确答案：C，全站正确率：73%，易错项：B。（认准淘宝：杨柳真题，微信：gwy288，公众号：gwyeasy）

解析

第一步，本题考查读数比较。

第二步，定位表格材料，“广州、成都、苏州、西安通勤高峰实际速度分别为29.84km/h、32.72km/h、37.26km/h、26.41km/h”。

第三步，根据路程=速度×时间，路程相同，时间与速度成反比，求哪个城市居住高峰时段通勤用时最短，即求哪个城市通勤高峰实际速度最大，观察数据可得苏州（37.26）最大。

因此，选择C选项。

103、正确答案：B，全站正确率：61%，易错项：C。（认准淘宝：杨柳真题，微信：gwy288，公众号：gwyeasy）

解析

第一步，本题考查读数比较。

第二步，定位表格材料，“合肥的地面公交线路网密度、地铁线路网密度分别为3.029、0.480；成都分别为4.678、0.977；郑州分别为4.106、0.753；长沙分别为3.953、0.630”。

第三步，根据题意，公共交通最便利的即公共交通线路网密度最大的，观察数据发现成都的地面公交线路网密度（4.678）、地铁线路网密度（0.977）均为各选项城市中最大的。

因此，选择B选项。

104、正确答案：D，全站正确率：48%，易错项：A。（认准淘宝：杨柳真题，微信：gwy288，公众号：gwyeasy）

解析

第一步，本题考查简单比较中的读数比较。

第二步，定位表格材料。

第三步，通勤高峰交通拥堵排名越高，则说明越拥堵。根据2020年排名和环比升降的名次，可得2019年通勤高峰交通拥堵排名分别为：北京3-1=2（名），上海5+2=7（名），广州6（名），深圳21+12=33（名），通勤高峰交通拥堵程度由重到轻依次为北京、广州、上海、深圳。

因此，选择D选项。

105、正确答案：A，全站正确率：37%，易错项：B。（认准淘宝：杨柳真题，微信：gwy288，公众号：gwyeasy）

解析

第一步，本题考查综合分析问题，且需选出说法错误的一项。

第二步，A选项，求比重。定位表格材料，2020年，在通勤高峰交通拥堵指数排名全国前10位的城市中，新一线城市（表中除4个一线城市北京、上海、广州、深圳以外的）有重庆（排名第1）、西安（排名第4）、南京

（排名第9）和青岛（排名第8），共4个，根据比重 $= \frac{\text{部分量}}{\text{整体量}}$ ，可得占比为 $\frac{4}{10} = 40\%$ ，错误。

B选项，直接读数。定位表格材料，表中新一线城市中通勤高峰交通拥堵指数最低的是郑州（1.526），2020年度排名第45，通勤方便，比较宜居，正确。

C选项，直接读数。定位表格材料，2020年佛山地面公交线路网密度较高，为5.029km/km²，在一线城市和新一线城市中排名第2；而地铁线路网密度较低，为0.236km/km²，在一线城市和新一线城市中排名倒数第1。如果2020年佛山的拥堵排名要比上年下降，则极有可能是通过增加地面公交投入，而非地铁投入，正确。

D选项，直接读数。定位表格材料，2020年重庆地面公交线路网密度（4.372km/km²）和地铁线路网密度（1.016km/km²）在一线城市和新一线城市中都已经相对较高，则要想缓解交通拥堵，应鼓励人们利用公共交通工具出行，限制私家车出行，正确。

因此，选择A选项。

106、正确答案：B，全站正确率：77%，易错项：C。（认准淘宝：杨柳真题，微信：gwy288，公众号：gwyeasy）

解析

第一步，本题考查简单比较中的读数比较。

第二步，定位图形材料。

第三步，观察柱状图数据，7月全国公路货运量（30.81亿吨）<6月（30.85亿吨），8月（32.52亿吨）>7月（30.81亿吨），9月（34.04亿吨）>8月（32.52亿吨），10月（33.07亿吨）<9月（34.04亿吨），11月（35.24亿吨）>10月（33.07亿吨），12月（33.73亿吨）<11月（35.24亿吨），高于上月的有8、9、11月，共3个。

因此，选择B选项。

107、正确答案：D，全站正确率：61%，易错项：C。（认准淘宝：杨柳真题，微信：gwy288，公众号：gwyeasy）

解析

第一步，本题考查增长率计算。

第二步，定位图形材料。

第三步，根据增长率 $= \frac{\text{现期量} - \text{基期量}}{\text{基期量}}$ ，选项首位各不相同，可将分母从左向右截取前两位，分子分母均出

现加减法，整体考虑截位舍相同处理数据，可得增长率为 $\frac{(52 + 52 + 56) - (37 + 14 + 41)}{37 + 14 + 41} = \frac{160 - 92}{92} = \frac{68}{92}$ ，

直除首位商7。

因此，选择D选项。

108、正确答案：C，全站正确率：66%，易错项：B。（认准淘宝：杨柳真题，微信：gwy288，公众号：gwyeasy）

解析

第一步，本题考查简单计算中的和差类。

第二步，定位图形材料。

第三步，加法计算，可将数据截位舍相同处理（并保留量级），代入数据可得2020年3月份累计为3690+1400+4140=9230（亿吨公里）<1万亿吨公里，排除A、D选项，前7个月累计为3690+1400+4140+5160+5220+5580+5340=30530（亿吨公里）>3万亿吨公里，7月份累计已达3万亿吨公里，排除B选项。

因此，选择C选项。

109、正确答案：B，全站正确率：28%，易错项：D。（认准淘宝：杨柳真题，微信：gwy288，公众号：gwyeasy）

解析

第一步，本题考查现期平均数比较。

第二步，定位图形材料。

第三步，根据货物平均运输距离 $= \frac{\text{货物周转量}}{\text{货运量}}$ ，比较类问题，可将分母从左向右截取前三位，分子分母均出现加减法，考虑截位舍相同处理，代入数据可得一季度公路货物平均运输距离

$= \frac{3690.2 + 1396.4 + 4141.3}{21.07 + 8.27 + 23.53} \approx \frac{369 + 140 + 414}{21.1 + 8.3 + 23.5} \approx \frac{923}{52.9} \approx 17.4$ ，二季度公路货物平均运输距离

$= \frac{5156.7 + 5217.3 + 5583.5}{29.05 + 30.43 + 30.85} \approx \frac{516 + 522 + 558}{29.1 + 30.4 + 30.9} \approx \frac{1596}{90.4} \approx 17.7$ ，三季度公路货物平均运输距离

$$= \frac{5341.2 + 5576.3 + 6122.3}{30.81 + 32.52 + 34.04} \approx \frac{534 + 558 + 612}{30.8 + 32.5 + 34} \approx \frac{1704}{97.3} \approx 17.5$$

，四季度公路货物平均运输距离

$$= \frac{5837.8 + 6167.6 + 5941.2}{33.07 + 35.24 + 33.73} \approx \frac{584 + 617 + 594}{33.1 + 35.2 + 33.7} \approx \frac{1795}{102} \approx 17.6$$

。因此，第二季度的公路货物平均运输距离最高。

因此，选择 B 选项。

110、正确答案：B，全站正确率：45%，易错项：C。（认准淘宝：杨柳真题，微信：gwy288，公众号：gwyeasy）

解析

第一步，本题考查综合分析问题，且需选出正确的一项。

第二步，A 选项，现期平均数计算。定位图形材料可知，“2020 年 2 月货运量为 8.27 亿吨，货物周转量为 1396.4

亿吨公里”，根据平均运输距离 = $\frac{\text{货物周转量}}{\text{货运量}}$ ，代入数据可得 $\frac{1396.4}{8.27} \approx 169 < 170$ （公里），错误。

B 选项，现期平均数比较。定位柱状图，根据平均数 = $\frac{\text{总数}}{\text{总个数}}$ ，日均货运量 = $\frac{\text{当月货运量}}{\text{天数}} > 1$ 亿吨，即当月货运量数值 > 当月天数，符合的月份有 6 月（30.85 > 30）、8 月（32.52 > 31）、9 月（34.04 > 30）、10 月（33.07 > 31）、11 月（35.24 > 30）、12 月（33.73 > 31）这 6 个月份符合，正确。

C 选项，增长率计算。定位折线图可知，“2020 年 2 月份货物周转量为 1396.4 亿吨公里、3 月份为 4141.3 亿吨

公里”，根据增长率 = $\frac{\text{现期量} - \text{基期量}}{\text{基期量}}$ ，将数据截位舍相同处理后代入可得，增长率为

$$\frac{414 - 140}{140} = \frac{274}{140} < 200\%$$

，错误。

D 选项，现期平均数计算。定位柱状图，根据平均数 = $\frac{\text{总数}}{\text{总个数}}$ ，利用中间值法可得全年月均货运量为 $30 + \frac{-8.93 - 21.73 - 6.47 - 0.95 + 0.43 + 0.85 + 0.81 + 2.52 + 4.04 + 3.07 + 5.24 + 3.73}{12} = 30 + 0^- < 30$

（亿吨），错误。

因此，选择 B 选项。



淘宝店铺



微信公众号

微信扫码，关注“公务员考试挺简单”，免费获取真题更新、公考经验、时政等，订单截图发微信，可免费面试练习、指导等。

手淘扫码，进入杨柳真题淘宝店铺，可购买历年公考真题、事业单位真题等。纯手工整理，一手资料，包您满意，助您上岸。

买真题，请认准杨柳真题。淘宝“杨柳真题”独家整理，实时纠错，拒绝资料贩子。