

2007 年河南公务员考试行政职业能力测试真题

来源：W 整理：杨柳（微信：gwy288）

第一部分 言语理解与表达

（共 30 题，参考时限 30 分钟）

本部分包括两种类型的题目：

一、句子理解：共 20 题，每道题包含一段短文，短文后面是一个不完整的陈述，要求你从四个选项中选出一项来完成这一陈述。注意：供选择的答案有时可能是对短文内容的一个复述，有时则满足了陈述中其它方面的要求，你的选择应与所提要求最相符合。

例题：铁路新线路的开辟是否往往必须在建路花费尽可能少的要求与新建路线的贸易运输量尽可能多的要求之间取得妥协。这段话主要支持了这样一种论点，即新建铁路的线路：

- A、应该是一造价最低的线路
- B、其选择决定了新兴贸易中心的位置
- C、决定于是否与终点之间的距离最短
- D、不会总是具有最低建造成本的路线

解答：仔细考察四个选项，您可以发现，选项 A 与题中“妥协”的含义不相符；选项 B 和 C 都无法从题中得出；只有选项 D 是短文支持的一种主要观点，因此正确答案为 D。

请可始答题：

1、选出没有歧义的句子：

- A、反对你的游行的人不少
- B、我们计划请著名的学者和教育家来我校作报告
- C、A 国对 B 国的进攻早有准备
- D、学生的成绩好坏并不能反映其素质的高低

2、选出没有歧义的句子：

- A、没有人相信他的话
- B、我和小王已经商量好了，下了课去打球
- C、最后出席会议的教授的弟子作了精彩的发言
- D、我们需要相信自己人

3、请选出有歧义的句子：

- A、在大多数人眼里，他是一无所知的
- B、去趟西安，他就买了三件礼品回来
- C、成功是赢得了整场战争，而不是赢得每一场战斗
- D、他叔父原来在上海一所不错的中学里当数学教师

4、下面句子中有语病的一项是：

- A、他在学习中从不投机取巧，勤奋努力
- B、只有取得了会员资格，才能享受到不同于普通人的待遇
- C、真正的英雄有时也会胆怯
- D、在前进的道路上谁都会遇到挫折和困难

5、下面句子中没有语病的一项是：

- A、体育比赛胜负的关键在于技术水平能正常发挥
- B、我们应该继承和发扬革命前辈的优良作风
- C、安定团结的政治局面正被得到巩固和发展
- D、教育必须继承和弘扬中华民族文化历史的优秀传统

6、下面没有语病的句子是：

- A、大路向天边延伸很远很远，直到遥远的看不见的天际
- B、一条小船很难渡众生，必须是众人建造的大船才能同舟共济
- C、相信科学的人们绝不会让封建迷信影响了他的思想
- D、路是人走出来的，但人走过的地方都不一定成为了路

7、选出没有语病的一句：

- A、我出身在工人家庭，令尊常常告诫我，要清白做人，自食其力
- B、美国所以能取得经济的持续增长，是因为重视了 IT 产业发展的结果
- C、青年一代正在为强国梦的实现打下坚实的物质基础和精神准备
- D、从产生的时间来看，引力早于强力，强力早于弱力。

8、下面四句话中有一句缺少一个必不可少的“的”，请将这一句选出：

- A、各公园门票必须严格执行国家统一收费标准

B、市物价局正在对群众反映较大问题进行检查

C、消费者有权向当地物价部门领导举报

D、如果超过规定收费标准，则属乱收费

9、从给出的几句话中选出有语病的一句：

A、现在，我们的城市到处可见摩天大楼，从远处看和国外的大都市没什么两样，但近看就差强人意了，在许多细节设计和创意上差距非常大。

B、细想历史，王充之后，惟李贽、鲁迅有此逆俗的风骨，然而红尘蔽世，智者的文安，仿佛是孤寂的文本，只在俗世里散着奇异的光

C、庙会的研究也引发了他对更大问题的思考：在历史上，道德说教与民众实践之间到底有多大差距

D、有些人本来很有造诣本事，但就是见不得人家超越自己，否则，就下暗绊使阴坏，干出嫉贤妒能的蠢事来

10、下列文句中，字面意思与实际表达的意思相反的是：

A、《在不列颠百科全书》的狗照相上，就很有几匹是咱们中国的叭儿狗，这也是一种国光

B、我以为“打死老虎”者，装怯作勇，颇含滑稽，虽然不免有悲切之嫌，却怯得令人可爱

C、它却虽然是狗，又很像猫，折中，公允，调和，平正之状可掬

D、便是霍乱病菌，虽然生殖得快，那性格却何等地老实

11、科学家发现大洋底部的裂陷扩展从来没有停止过，这个发现可能会解答一个曾引起人们关注的问题。地球每天的时间都比前一天延长 1/700 秒，即每过一年，一天要延长 0.5 秒，据此预测，再过 2 亿年，一年将只有 250 天了。对“一个曾引起人们关注的问题”的“解答”，最准确的是：

A、大洋底部裂陷扩展，地球自转速度减慢 B、大洋底部裂陷扩展，地球运行时间缩短

C、大洋底部裂陷扩展，地球运行时间延长 D、大洋底部裂陷扩展，地球自转速度加快

12、细菌虽然小得肉眼看不见，但它们在分解枯枝败叶的过程中确实起了关键性的作用，它们能将吸收二氧化碳和其他养分而长成的树干与枝叶，再分解成二氧化碳释放到大气中，若没有细菌的存在，那么地球上的二氧化碳只能维持植物利用 40 年，因为碳素将被锁定在植物体内而不能参与到物质循环中去，由于细菌的这种作用，维持了整片森林甚至整个地球的盎然的绿意。下面对文段中“关键性的作用”解说不正确的一项是：

A、细菌在分解枯枝败叶的过程中释放了二氧化碳，维持了地球上的物质循环

B、细菌把有可能被锁定在植物体内的碳素分解出来并释放到大气中去

C、细菌把分解树干与枝叶的过程中将它吸收的二氧化碳又释放到大气中去

D、如果没有细菌做分解枯枝败叶的工作，地球将无法维持盎然的绿意

13、人类拥有一切力量和弱点，拥有一切只有人类才拥有的感情，我希望每一项新的惊人的技术突破都会遇到来自心理学家、社会学家、医学家和法律专家以及一切能够监督、评估新技术对人的影响的其他各种专业人士的怀疑主义的质难。这段文字的主要意思是：

A、人类不断取得新的惊人的技术突破 B、人类既拥有力量又拥有感情和弱点

C、新的技术突破必然伴随被广泛地质疑 D、人类必须重视技术突破带来的负面影响

14. 从 1901 年到 1961 年，诺贝尔文学奖几乎完全为欧美白人垄断；60 年代以后亚、非、拉美作家居多；90 年代则完全没有欧美白人作家获奖。而 60 年代以后正是欧美科学技术突飞猛进的时代。这是否意味着科学技术的发展会使文学作品失去人文魅力？这段话主要支持了这样一种观点，即（ ）

A. 科技发展是以文学作品丧失人文魅力为代价的

B. 真正优秀的文学作品产生在落后的国家和地区

C. 不排除技术和科学的干扰，就没有优秀的文学作品

D. 科技高度发展可能使文学中的人文精神走向浅薄

15、中国妇女发展基金会将委托专业金融机构对中国女足发展基金进行管理和运作，其收益部分用于资助中国女子足球队改善生活和训练条件，开展交流与合作，培养选拔后备力量。下列表述，符合文意的是：

A、中国女足发展基金，将解决中国女足所面临的问题

B、中国女足发展基金，已确定了管理机制和动作规则

C、中国女足的活动，由受委托的专业金融机构管理和动作

D、广泛开展交往合作，是培养和选拔女足后备力量的保证

16、至今，研究者发现在胚胎及胸腺组织中蕴含的生长因子有 40 种之多，其中多种因子已被证明可以成为促进皮

肤生长的目标组织、对皮肤细胞的新陈代谢及分裂繁殖有重要调节促进作用，倘能以敷涂面霜的方式将这些生长因子填补到中年人的皮肤组织之内，对维持皮肤组织的健康及延缓皮肤的老化将会有一定功效

对这段文字理解准确的一项是：

- A、包含生长因子的面霜有可能维护皮肤的健康
- B、研究者发现有 40 种以上保护皮肤的生长因子
- C、中年人使用包含生长因子的面霜最有效果
- D、延缓皮肤老化的有效方法是在敷涂包含生长因子的面霜

17、做一件事，往往有利也有弊，只有利而无弊的事情几乎是没有的，《淮南子·人间训》云：“众人皆知利利而病病，唯圣人知病之为利，利之为病也。”看来古人已经注意到利弊的辩证关系

下列表述符合文意的是：

- A、我们应当努力争取做到有利无弊
 - B、现实生活中的事情都由利与弊组成
 - C、利与弊不是绝对的，是可以转化的
 - D、要善于分析，争取做到利大于弊
- 18、原始社会的人们自觉或不自觉总能意识到，世上并不具有真正的坐享其成，为了生存，必须拿起改造自然的武器，改造自然客观上已经属于对神灵的摆脱，但改造自然极为不易，某些成功，在很大程度上取决于是偶然的机遇，在这种情况下，古人一方面凭着自己的力量获得某些胜利，另一方面又把胜利归功于神灵。这段话主要支持的观点是：

- A、原始社会普遍存在着对神灵的崇拜
- B、原始社会的人们对神灵的崇拜是由于生活环境的恶劣
- C、原始社会中，人们往往把成功的希望寄托在神灵保佑上
- D、神灵观念的产生是由于原始社会人们生产能力的低下

19、语言要素的变化，有时并非等待社会生活的变革而变化——也就是说，即使社会生活没有发生显著变动，语汇、语音和语法都可能悄悄地起变化，语汇的变化比较显而易见。这段话直接支持的观点是：

- A、语言要素的变化并非完全受社会生活支配
 - B、语言要素的发展变化是经常存在的
 - C、当社会生活发展变化时，语言要素的变化比较明显
 - D、一般地讲，语汇变化较语音变化明显
- 20、科学研究表明，原来太阳是一个能量输出不断变化的天体，正是这些变化，才引起了高层大气和电离层状态的强烈扰动由此可以得出以下推断：

- A、太阳是一个能量输出不断变化的天体，它的变化导致空间天气的变化
- B、太阳能量输出的不断变化，引起高层大气和电离层状态的强烈扰动，这是造成严重灾害的根本原因
- C、太阳能量的不断输出，将引起地球空间环境发生急剧变化
- D、太阳能量的不断变化，是造成自然灾害的直接因素和直接原因

二、选词填空：共 10 题，要求你从所给的四个选项中选出一个填空，使句子的意思表达得最准确。

例题：只要方向正确，任何一点积极性都应当得到（ ）和支持。

- A、尊重
- B、肯定
- C、表彰
- D、重视

解答：用“肯定”填空使句子的意思表达得最准确，故应选 B

请开始答题：

21、为了统一工资总额的计算方法，保证国家对工资进行统一的（ ），有利于编制、检查计划和进行工资管理，国家统计局颁布了工资总额组成的规定。

- A、估算
- B、测算
- C、核算
- D、运算

22、特撰短文一篇，拟借贵刊一角发表，文中不妥处敬请（ ）。

- A、扶正
- B、斧正
- C、修正
- D、呈正

23、（ ）党纪国法的人，必将自食其果。

- A、忽视
- B、无视
- C、轻视
- D、漠视

24 大自然的鬼斧神工，人类生命的顽强、绚烂，人的思想的深邃、奇妙，创造性思维的拓展、放飞，（ ）成了世界文化遗产，它们正以各自不同的方式述说着人类的智慧及文明的轨迹。

- A、演化
- B、蜕变
- C、演变
- D、变化

25、人的某些情感缺陷会（ ）人与人之间的吸引。

- A、阻拦
- B、阻碍
- C、阻隔
- D、阻挡

26、《全宋诗》的编纂是一项浩大的工程, 北京大学古典文学研究所经过 8 年努力, 终于在上月 ()。

- A、告罄 B、告竣 C、告吹 D、告终

27、这个新的设计方案大方向正确, 尽管缺点不少, 但从目前来看 ()。

- A、无出其右 B、无可非议 C、无人问津 D、无与伦比

28、“被告陈 XX 到京后, 即窜入故宫珍宝馆 () 作案路线, 选定盗窃目标。”

- A、探测 B、窥测 C、侦测 D、探视

29、在这个世界上, 每个人都蕴藏着独特的天赋, 这种天赋就像金矿一样埋藏在我们看似 () 的生命中。

- A、朴实纯真 B、平淡无奇 C、日新月异 D、光彩夺目

30、对孩子来说, 没有哪种 () 比同龄人的音容笑貌、一举一动更能引起心灵的共鸣。

- A、方法 B、方式 C、形式 D、行为

第二部分: 数量关系

(共 20 题, 参考时限 20 分钟)

本部分包括两种类型的试题:

一、数字推理: 共 10 题。给你一个数列, 但其中缺少一或二项, 要求你仔细观察数列的排列规律, 然后从四个供选择的选项中选出你认为最合理的一项, 来填补空缺项。

例题: 1 3 5 7 9 ()

- A、7 B、8 C、11 D、未给出

解答: 正确答案是 11, 原数列是一个奇数数列, 故应选 C。

请开始答题:

31、2 8 32 128 ()

- A、256 B、169 C、512 D、626

32、0.001 0.002 0.006 0.024 ()

- A、0.045 B、0.12 C、0.038 D、0.24

33、 $\frac{2}{3}$ $\frac{1}{2}$ $\frac{2}{5}$ $\frac{1}{3}$ $\frac{2}{7}$ ()

- A、 $\frac{1}{4}$ B、 $\frac{1}{6}$ C、 $\frac{2}{11}$ D、 $\frac{2}{9}$

34、6 7 3 0 3 3 6 9 ()

- A、5 B、6 C、7 D、8

35、3 9 4 16 () 25 6 ()

- A、5 36 B、10 36 C、6 25 D、5 30

36、13 19 11 22 () 25 7 ()

- A、15 26 B、25 24 C、16 18 D、9 28

37、3 10 21 36 55 ()

- A、67 B、76 C、78 D、81

38、172 84 40 18 ()

- A、22 B、16 C、7 D、5

39、 $\frac{1}{2}$ $\frac{3}{4}$ $\frac{7}{8}$ $\frac{15}{16}$ () $\frac{63}{64}$

- A、 $\frac{31}{34}$ B、 $\frac{33}{34}$ C、 $\frac{31}{32}$ D、 $\frac{23}{32}$

40、-2 1 7 16 () 43

- A、25 B、28 C、31 D、35

二、数学运算: 共 10 题, 你可以在草稿纸上运算, 遇到难题, 你可以跳过不做, 待你有时间再返回来做。

例题: 84.78 元、59.50 元、121.61 元、12.43 元以及 66.50 元的总和是:

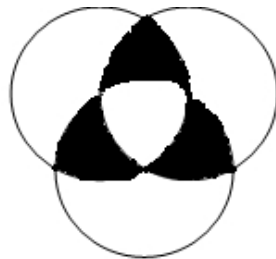
- A、343.73 B、343.83 C、344.73 D、344.82

解答：D。实际上你只要把最后一位小数加一下，就会发现和的最后一位数是2，只有D符合要求，就是说你应当动脑筋想出解题的捷径。

请开始答题：

41、 $\frac{47}{83} \times 83 \div \frac{47}{83} \times 83 =$

- A、1 B、83 C、2209 D、6889
- 42、用一个尽量小的自然数乘以1999，使其乘积的尾数出现六个连续的9，求这个乘积。
A、5999999 B、4999999 C、3999999 D、2999999
- 43、有一筐苹果，甲、乙、丙三人分，甲先拿了一半，乙拿了剩余的一半，丙再拿剩下的1/3，筐里还剩14个苹果，问：这一筐苹果有多少个？
A、56 B、64 C、84 D、90
- 44、某仪仗队排成方阵，第一次排列若干人，结果多余100人；第二次比第一次每排增加3人，结果缺少29人，仪仗队总人数是多少？
A、600 B、500 C、450 D、400
- 45、有a、b、c三个数，已知 $a \times b = 24$ ， $a \times c = 36$ ， $b \times c = 54$ ，求 $a + b + c =$
A、23 B、21 C、19 D、17
- 46、圆形的周长扩大至原来的2倍，它的面积比原来增大：
A、1倍 B、2倍 C、3倍 D、4倍
- 47、某企业的固定资产，甲车间是乙车间的1/2，乙车间是丙车间的1/4，那么，丙车间是甲车间的：
A、8倍 B、1/8 C、1/2 D、2倍
- 48、某外语班的30名学生中，有8人学习英语，12人学习日语，3人既学英语也学日语，问有多少人既不学英语又没学日语？
A、12 B、13 C、14 D、15
- 49、甲乙丙三人买书共花费96元钱，已知丙比甲多花16元，乙比甲多花8元，则甲乙丙三人花的钱比是：
A、3:5:4 B、4:5:6 C、2:3:4 D、3:4:5
- 50、三个圆的半径都是5cm，三个圆两两相交于圆心。求阴影部分的面积之和。
A、29.25cm² B、33.25cm² C、35.35cm² D、39.25cm²



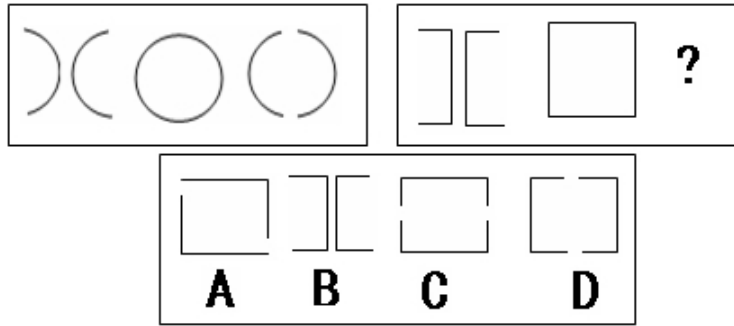
第三部分 判断推理
(共40题，参考时限40分钟)

本部分包括四种类型的试题。

一、图形推理：共10题，每道题包含两套图形和可供选择的4个图形。

这两套图形具有某种相似性，也存在某种差异。要求你从四个选项中选择你认为最适合取代问号的一个，正确的答案应不仅使两套图形表现出最大的相似性，而且使第二套图形也表现出自己的特征。

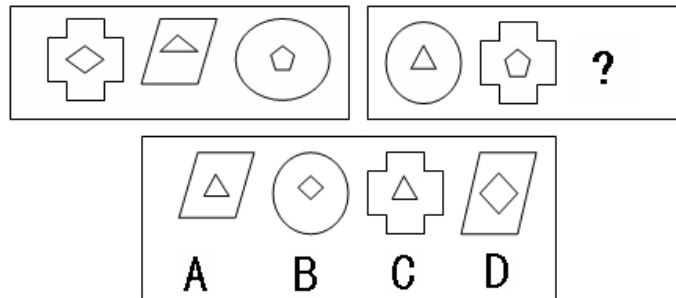
例题：



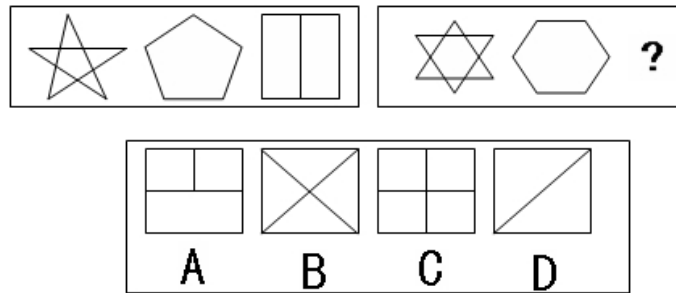
解答：D。因为只有D能使两套图形具有相似性，仅仅元素不同，一个是半圆，一个是半个正方形，但两组图形中元素的排列规律完全相同。

请开始答题：

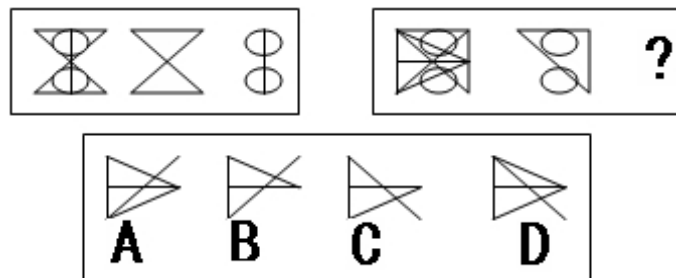
51、



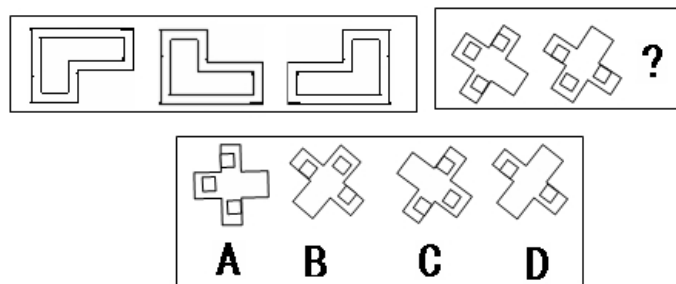
52、



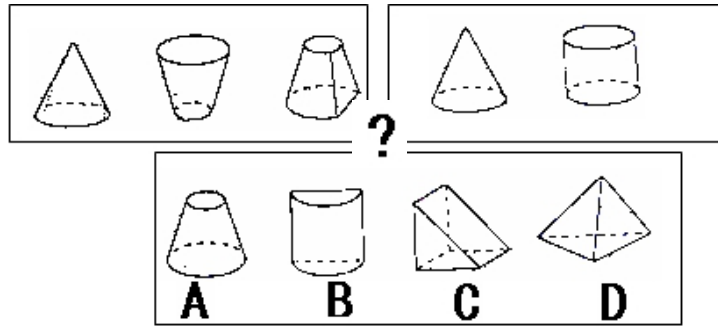
53、



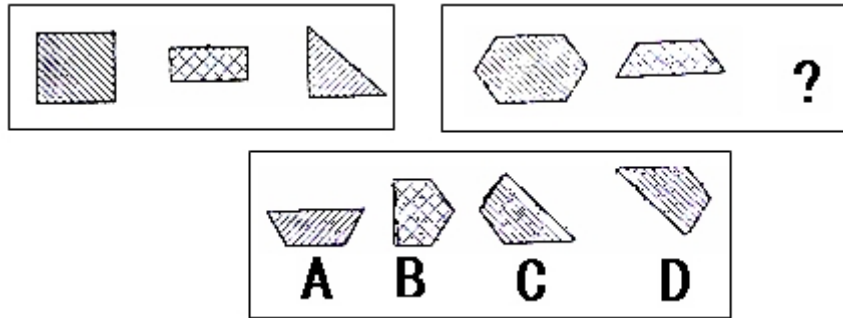
54、



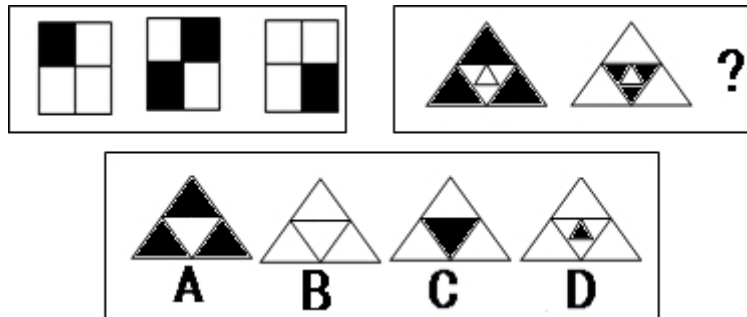
55、



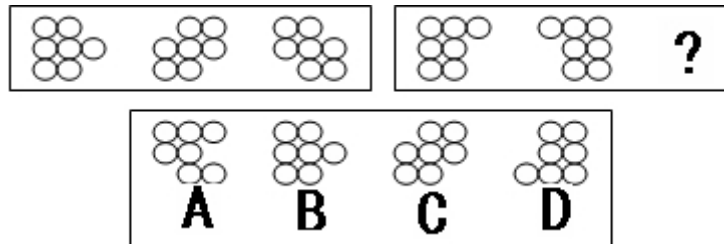
56、



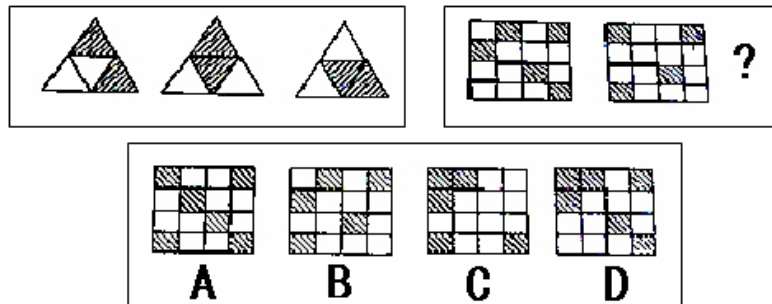
57、



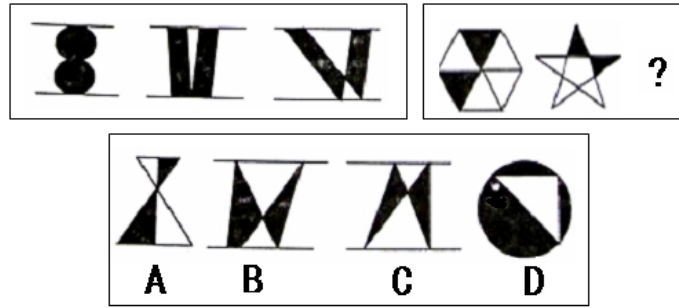
58、



59、



60、



二、定义判断：共 10 题，每道题先给出一个概念的定义，然后分别列出四种行为，要求你严格依据定义从中选出一个最符合或是不符合该定义的答案。注意：假设这个定义是正确的，不容置疑的。

例题：谋杀：当一个人不但企图造成另一个人的死亡，而且也造成了这个人的死亡，或一个人，明明知道自己正做着一件可能造成他人死亡的危险的事情，仍不顾别人生命继续行为并造成他人的死亡。

根据以上的定义，下面哪种行为是典型的谋杀：

- A、于力清与妻子发生争吵，打了她一巴掌，为的是不让她再哭，不巧将她打倒，她在倒下时，头碰在地板上，后来由于头部受伤而死亡
- B、一位老人得了一种绝症，不能忍受痛苦，请求护士给他服用致死剂量的安眠药，这个护士非常同情老人，就给了他，结果老人死亡
- C、曾宪在驾车行驶中，失去了对汽车的控制，导致车祸，造成同车赵某死亡
- D、动物园管理员汤啸，因忘了锁门导致老虎从笼子里跑出来，咬死了游客

解答：严格依据定义进行衡量，此题的正确答案为 B

请开始答题：

61、“循环经济”本质上是种生态经济，它要求运用生态学规律不是机械论规律来指导人类社会的经济活动，特征是低开采低排放高利用。下列不属于循环经济做法的是：

- A、退田还湖，退耕还林
- B、变单程式经济为循环式经济
- C、变消耗型经济为休养生息型经济
- D、变储备型经济为增长型经济

62、反诉：是指在已经提起的诉讼中，被告针对与原告有联系的行为，提起独立诉讼请求的行为。根据以上定义，下列行为属于反诉的是：

- A、原告起诉被告居住的房屋所有权是他的，被告请求法院让原告偿还房款
- B、原告起诉，要求被告按买卖合同交货，被告起诉供货商未能按时交货
- C、原告起诉离婚，被告请求法院确认婚姻关系本来就是无效
- D、老师起诉学生借钱不还，学生起诉老师剽窃

63、行为：指人们说的和做的，具有一种以上的测量尺度，可以被观察、描述和记录，受自然规律的支配，并对外界环境产生影响，可以是公开的，也可以是隐蔽的，据此，下列不是行为的是：

- A、雨雨躺在婴儿床里大声哭闹
- B、小军在屋里偷偷生妈妈的气
- C、徐师傅拧下机油箱上的塞子
- D、小明坐在计算机前给父母写信

64、实在判断：是判断的最简单的形式，这里是肯定地或否定地表明某一单个的事物的某种一般的性质（肯定判断：玫瑰花是红的；否定判断：玫瑰花不是蓝的；无限判断：玫瑰花不是骆驼）。根据以上定义，下面哪种不是实在判断？

- A、地球绕着太阳做圆周运动
- B、地球不是恒星
- C、地球是圆的
- D、地球不是圆的

65 新闻侵权：是指新闻单位或者个人利用大众传播媒介以故意捏造事实或者过失报道等形式向受众传播内容违法或失实的新闻，从而侵害公民和法人的合法权益的行为。新闻侵权可分为刑事犯罪行为和民事违法行为，前者主要是诽谤罪，指“捏造事实诽谤他人，情节严重”的行为，后者主要是指侵害著作权、肖像权、名誉权和隐私权。以下不属于新闻侵权的是：

- A、某电台为名不副实的增高产品“高尔宝”做广告，欺骗了很多消费者
- B、某杂志未经过刘翔本人允许，擅自将其在奥运会上的跨栏照片当作封面
- C、某电视台大肆宣传包治百病的某种秘方药物，引来观众的阵阵声讨
- D、某出版社经过鲁迅先生家属的同意，再次修订出版《鲁迅全集》

66、行政相对人：是指行政管理中处于被管理地位的公民、法人或其它组织。根据以上定义，下列哪个选项的表述是正确的：

- A、某县检察院在向市建委申请批建职工宿舍数时属于行政相对人
- B、公务员李某对于其隶属的行政机关而言属于行政相对人
- C、某公司在向市政府申请行政复议时属于行政相对人
- D、公民甲在公证时属于行政相对人

67、受贿：国家工作人员、集体经济组织工作人员或者其他从事公务的人员，利用职务上的便利，索取或者非法收受他人财物，为他人谋取利益的行为。

根据以上定义，下面哪种行为是受贿：

- A、刘某想倒卖彩电，就托人找到电视机厂主管彩电批发的王某，送去 10000 元人民币，希望李某按批发价卖给他 100 台彩电，郑某收到钱后交给了领导
- B、甲是某厂财务主管，在给乙报销时，多报销 2000 元，事后与乙平分，二人各得 1000 元
- C、卫某（女）因盗窃金店而被公安机关收审，贾某负责审理这个案子，卫某想让贾某帮助她，即以身相许，尔后贾某便利用自己的职权设法使卫某逃避了法律制裁
- D、王某主管某单位分房子，李某为了给他在该单位工作的儿子分得一套住房，贵州省给王某送去价值 5000 元的厚礼。王某得到钱后给甲的儿子分了房子

68、半导体：是导电性能介于金属和绝缘体之间的物质。根据这个定义，下面说法错误的是：

- A、某种溶液的导电性能不如金属，又不是绝缘体，所以，这种溶液是半导体
- B、汞的导电性大大小于铝、铜、铁等金属材料，所以，汞是半导体物质
- C、干燥的木块不导电，将木块弄潮湿后开始导电，但导电性能远不如铝、铜等金属材料，有人说，“潮湿将木块由绝缘体变为半导体”的说法是错误的
- D、在纯结晶状态的硅中掺入某些元素原子后，会由不导电变为导电，但它在某一个方向导电比另一个方向容易些，而且导电能力受电压等外界因素影响大。这些导电性能不如金属，所以，硅是半导体物质

69、倾销：是指企业在国外出售商品的价格低于国内市场的价格或低于是生产成本。根据这一定义，下列行为不属于倾销的是：

- A、某地为著名的蔬菜生产基地，由于采用先进的科学技术和规模化经营，其生产的蔬菜的价格远远低于国外同类产品的价格
- B、某国软件公司为了获得他国政府采购的定单，与他国同类软件竞争，以低于该产品在本国的销售价格投标
- C、某企业在国内有较高的垄断地位和较大的市场份额，但质量不如国外同类产品，为了抢占国际市场，该企业以低于成本价的价格在他国销售
- D、某国以低于产品正常价值的价格向他国销售新闻纸

70、医疗事故：凡是在诊疗、护理工作中，因医务人员诊疗、护理过失，直接造成病人死亡、残废、器官组织损伤，导致功能障碍者，称为医疗事故。

根据以上定义，下面哪一种情况属于医疗事故？

- A、丁某既往无药物过敏史，近日因发热在急诊观察室输注某种免皮试抗生素，输液过程中出现精神异常，不语，不认识亲人，行为怪异，冲动
- B、某出租车司机肇事后逃离现场，被撞者身无分文被周围群众送至附近某医院急诊，因患者无现金支付并强调医院抢救设备不足，医院拒绝收治该病人，结果患者在转院途中因大失血死亡
- C、小李是实习医师，一天在紧急抢救病人时，没有向上级医师请示，擅自盲目处理，险些造成病人生命危机，幸亏上级医师及时发现更正，病人才脱离危险
- D、于芬因急性阑尾炎在某大医院由张医生主刀进行阑尾切除术，术后住院期间无不适，但出院后第三天，于芬的伤口出现化脓并破溃，伤口不愈合

三、类比推理：共 10 题，先给出一对相关的词，要求你在备选答案中找出一对与之在逻辑关系上最为贴近或相似的词。

请开始答题：

71、蜜蜂：蜂蜜

- A、橡胶：塑料
- B、牛：牛肉
- C、蚌：珍珠
- D、鸟：鸟巢

72、瞄准: 射击

- A、闪电: 下雨 B、学习: 进步 C、打铃: 下课 D、入水: 游泳

73、空调: 风扇

- A、电梯: 楼梯 B、橱窗: 天窗 C、领带: 围巾 D、衣柜: 衣架

74、救生圈: 浮力

- A、压路机: 阻力 B、降落伞: 重力 C、高压锅: 压力 D、润滑油: 摩擦力

75、饭馆: 食堂

- A、歌剧: 京剧 B、市场: 商场 C、宾馆: 宿舍 D、教师: 老师

76、员工: 经理

- A、大学: 教育部 B、使馆: 大使 C、孩子: 父母 D、教学楼: 大学

77、酸奶: 奶酪

- A、木头: 桌子 B、豆浆: 豆腐 C、干冰: 冰块 D、土壤: 沙尘

78、元宵节: 灯谜

- A、端午节: 龙舟 B、清明节: 菊花 C、春节: 饺子 D、中秋节: 嫦娥

79、醋: 酸

- A、叶: 绿 B、花: 红 C、雪: 白 D、雨: 涝

80、东奔西走: 奔走

- A、上和和睦: 和睦 B、左思右想: 思想 C、南腔北调: 腔调 D、日积月累: 积累

四、演绎推理: 共 10 题, 每题给出一段陈述, 这段陈述被假设是正确的, 不容置疑的。要求你根据这段陈述, 选出一个答案。注意, 正确的答案应与所给的陈述相符合, 不需要任何附加说明即可以从陈述中直接推出。

例题: 某厂有五种产品: 甲、乙、丙、丁、戊。它们的年销售额之间的关系为: 丙没有丁高, 甲没有乙高, 戊不比丁低, 而乙不如丙高。请问, 哪种产品的年销售额最高?

- A、甲 B、乙 C、丁 D、戊

解答: 从所给条件可以知道: 戊>丁>丙>乙>甲。因此, 正确答案为 D。

请开始答题

81、中美科学家进行的一项联合研究调查表明, 在其他条件基本一致的情况下, 种植抗虫转基因水稻的农户平均每季使用农药不到 1 次, 而种植普通水稻的农户平均每季需要使用农药 3.7 次; 种植转基因水稻的农户大幅度减少了农药用量, 由此引起的健康问题也明显减少, 转基因水稻的产量比以往大大提高, 由此可以推测:

- A、转基因水稻经济及健康效益明显, 将具有广阔的发展前景
B、转基因水稻因为使用较少的农药, 节省了农民的开支
C、转基因水稻是高科技的产物, 因而是好的, 有前途的
D、转基因水稻种子的代价较高, 农民种植成本相应提升, 会制约其大规模的推广

82、以保健品名义出现的核酸等“基因食品”对人体健康并无多大帮助。从科学角度看, 所谓人体需要补充外源核酸的说法不能成立, 人体缺的是营养, 而核酸不可能缺, 某些广告说人老了或得了病, 制造基因的能力会减弱, 更是无稽之谈。由此可以推出:

- A、人生病都是营养不良的结果 B、人体内的核酸会随年龄的增长而减少
C、所有关于保健品的广告都缺乏科学依据 D、食用保健品未必能增进身体健康

83、国际社会的多样性有利于国家间的取长补短。无论社会制度是相同还是不同, 都可以而且应该相互借鉴。一种文明的优点, 不用强迫, 别人也会学; 反之, 再强迫, 别人也不愿学, 国家之间还应积极寻找利益的汇合点, 合作解决人类面临的共同问题, 这些合作领域十分广泛, 如可持续发展、治理污染、反对毒品和恐怖活动等。由此可以推出:

- A、国家之间在社会制度上的差异正日益加大 B、社会制度不同的国家存在不少共同的问题
C、国际社会的多样性是恐怖活动猖獗的根本原因 D、一个国家不可能学到另一个国家的长处

84、据统计, 家长每天吸烟十支以上的家庭的儿童, 比不吸烟的家庭的儿童平均矮 0.65 厘米; 而家长每天吸烟十支以下的家庭的儿童, 比不吸烟的家庭的儿童平均矮 0.45 厘米, 由此可推测:

- A、儿童被动吸烟, 会影响到身体的生长发育
B、儿童的身高取决于家长是否有抽烟的习惯

- C、抽烟较凶的家长，缺乏对孩子足够的关爱，严重影响到儿童的成长
D、家长抽烟，会给孩子带来示范作用，孩子偷偷抽烟，因而影响到长个子
- 85、心理学家曾研究过丈夫的权力动机与妻子的职业水平之间的关系，研究发现，男子的权力动机与妻子的职业相关程度为-0.42。由以上研究结果可以推导出的是：
A、丈夫的权力动机使他不鼓励妻子选择有竞争性的职业
B、丈夫有强烈权力动机，他的妻子有较少的可能寻找竞争性职业
C、有强烈权力动机的男人只选择不希望做有竞争性工作的女性为妻
D、有职业抱负的女性只选择权力动机较弱的男性结婚
- 86、有时为了医治一些危重病人，医院允许使用吗啡作为止痛药，其实，这样做是应当禁止的，因为，毒品贩子会通过这种渠道获取吗啡，对社会造成严重危害，通过这段话我们可以知道：
A、目前医院里使用的吗啡不是毒品
B、目前还没有吗啡从医院流向毒品贩子
C、国家已经有禁止医院使用吗啡的法规
D、医院已经成为社会上毒品的一个来源
- 87、龙舟竞赛前，人们对参赛的红、黄、蓝、绿四个队的成绩作了三种估计：（1）蓝队获冠军，黄队获亚军；（2）蓝队获亚军，绿队得第三名；（3）红队获亚军，绿队得第四名。然而，实际的比赛结果显示，以上三种估计中，每一种均对了一半，错了一半，由此推出，比赛结果列一至四名的顺序为：
A、蓝队、绿队、黄队、红队
B、绿队、黄队、红队、蓝队
C、蓝队、红队、绿队、黄队
D、红队、黄队、蓝队、绿队
- 88、“己所不欲勿施于人”虽被很多人当作美德，但也可能产生矛盾。例如，没什么人想要和一个周末工作、夜里两点钟还要出诊的医生结婚，可是每个病人都希望找到这样的医生。由此可以推出：
A、越有道德的医生越难结婚
B、“己所不欲施于人”才是真正的美德
C、“己所不欲勿施于人”只会给人带来痛苦
D、一个人不需要的东西有时恰恰是另一个人所需要的
- 89、黄土村，只要现年不超过25岁，都是辛老师的学生，该村的人没有一个不认识辛老师，赵大认识辛老师，黄土村的李兰是赵大的老婆，她现年24岁，14岁时才小学毕业
由此可以推出：
A、赵大不是黄土村人
B、李兰是辛老师的学生
C、赵大是黄土村人
D、赵大不是辛老师的学生
- 90、为恶意和憎恨所局限的观察者，即使具有敏锐的观察力，也只能见到表面的东西；而只有当敏锐的观察力同善意和热爱相结合，才能探到人和世界的最深处，并且还有希望达到最崇高的目标。
由此可以推出：
A、有善意的观察者见不到表面的东西
B、世界上没有人能够达到最崇高的目标
C、没有敏锐的观察力不可能探到人的最深处
D、人性恶是人的表面现象

第四部分 常识判断

（共20题，参考时限10分钟）

请依据常识做出判断。似乎合理的答案可能有多种，你应选择最为合理的一个。

- 91、依据刑法规定，构成行贿罪要求在主观方面必须具有谋取（ ）的目的。
A、个人利益
B、非法利益
C、经济利益
D、不正当利益
- 92、下列各项中，不具有行政主体资格的是：
A、乡、镇人民政府
B、公安派出所
C、街道办事处
D、国务院办公厅
- 93、下列属于法律、法规授权的情形的是：
A、《植物检疫条例》规定，县级以上地方各级农业部门所属的植物检疫机构负责行使植物检疫权
B、某县政府的文件规定，县自来水公司行使节约用水、计划用水的行政执法权
C、某文物局局长要求一副局长代行其外出期间的局长职权
D、宪法规定国务院决定省、自治区、直辖市范围内部分地区进入紧急状态
- 94、公务员违法或违纪的，可能承担一定的后果，但一般不包括：
A、批评教育
B、纪律处分
C、民事责任
D、行政赔偿
- 95、下列不属于公务员权利的是：

- A、对涉及本人的人事处理决定的申诉权 B、以涉及本人的人事处理决定的起诉权
C、工资福利权 D、辞职权
- 96、下列关于公务员纪律的说法中，错误的是：
A、对违纪的公务员的处分可以有警告、记过、记大过、降级、撤职和开除等形式
B、对公务员的处分决定应以书面形式通知公务员本人
C、公务员的违纪行为严重的，可能构成刑事犯罪
D、公务员虽然不能从事经商、办企业以及参与其他营利性的经营活动，但可以在企业和营利性事业单位兼任职务
- 97、下列不属于公务员的是：
A、某县公安局刑警队队长 B、某省高级人民法院副院长
C、某市中学校长 D、某民主党派机关干部
- 98、公务员本人申请并经批准可以自愿提前退休的条件不包括：
A、工作年限满三十年的
B、部分丧失工作能力的
C、距国家规定的退休年龄不足五年，且工作年限满二十年的
D、符合国家规定的可以提前退休的其他情形的
- 99、依照我国《公司法》的规定，股东的出资方式不包括：
A、土地使用权 B、知识产权 C、劳务 D、实物
- 100、根据《企业所得税法》，企业所得税的税率为：
A、33% B、25% C、24% D、20%
- 101、根据《宪法》和《物权法》，下列自然资源中不专属于国家所有的财产是：
A、矿藏 B、土地 C、水流 D、海洋
- 102、有限责任公司与股份有限公司最重要的区别是：
A、股东的数量不同 B、法定最低注册资本额不同
C、后者的全部资本分为等额股份，前者则不然 D、公司组织机构不同
- 103、下列关于有限责任公司的说法中，不正确的是：
A、有限责任公司由 50 个以下、2 个以上股东出资设立
B、有限责任公司注册资本的最低限额为人民币三万元
C、全体股东的货币资金额不得低于有限责任公司注册资本的百分之三十
D、股东向股东以外的人转让股权，应当经全体股东过半数同意
- 104、下列不属于民法调整的社会关系的是：
A、甲、乙两公司之间发生的租赁合同纠纷 B、胡某与其弟弟之闪电战因继承发生的纠纷
C、杨某与其供职的公司之间发生的知识产权纠纷 D、赵某与某行政机关因罚款数额发生的争议
- 105、如企业法人的法定代表人和其他工作人员以法人名义从事经营活动，由于自己的过错给他人造成经济损失，则：
A、法定代表人和其他工作人员应当承担民事责任
B、企业法人应当承担民事责任
C、法定代表人和其他工作人员与企业法人共同承担民事责任
D、法定代表人和其他工作人员应当首先承担民事责任，不足部分由企业法人承担补充民事责任
- 106、甲乙丙三人合伙，甲乙以资金出资，丙以技术性劳动出资，对于合伙经营的亏损额，丙对外承担责任的方式是：
A、承担约定的按份责任 B、在分得的利润范围内承担责任
C、按技术性劳务折抵的出资比例承担责任 D、承担连带责任
- 107、下列有关民事行为的成立和生效的说法中，不正确的是：
A、民事行为于成立时生效 B、民事行为的成立和生效是两个不同的概念
C、民事行为的生效以其成立为前提 D、民事行为成立后不一定能生效

- 108、在买卖合同订立前, 买方已占有标的物的, 自 () 时起视为标的物交付。
- A、合同生效后, 卖方做出支付表示 B、买方对标的物取得占有
C、买方接到对方的支付通知 D、合同生效
- 109、按照合同方式取得财产, 除法律另有规定或者当事人另有约定以外, 财产所有权从 () 时起转移。
- A、财产交付 B、财产被实际占有 C、合同成立 D、合同生效
- 110、下列属于主物权的是:
- A、留置权 B、地役权 C、地上权 D、抵押权

第五部分 资料分析

(共 20 题, 参考时限 20 分钟)

针对下列图、表或文字回答问题。你应该根据资料提供的信息进行分析、比较、计算、处理。

一、根据下列材料, 回答 111-115 题:

据某市海关统计, 今年前两个月该市外贸进出口总值为 53.67 亿美元, 比去年同期增长 28.7%。其中: 出口 26.38 亿美元, 增长 27.4%, 进口 27.29 亿美元, 增长 30.1%。

2 月份当月该市外贸进出口总值为 29.69 亿美元, 比去年同期增长 58.2%, 增速比 1 月份加快 53.6 个百分点。其中: 出口 14.75 亿美元, 增长 55.4%, 增速比 1 月份加快 51.7 个百分点; 进口 14.95 亿美元, 增长 61.1%, 增速比 1 月份加快 55.6 个百分点。

今年前两个月, 一般贸易出口 8.97 亿美元, 增长 31%, 与一月份增幅基本持平, 一般贸易出口增幅高于全市出口平均增幅 3.6 个百分点, 全市加工贸易出口 16.67 亿美元, 比去年同期增长 24.8%, 扭转了一月份同比下降的局面。

今年前两个月集体、私营企业出口 0.96 亿美元, 比去年同期增长 71.4%, 在 1 月份增长 51.5% 的基础上又提高 19.9 个百分点; 外资企业出口 21.92 亿美元, 比去年同期增长 33.2%, 比 1 月份增长 2.5% 的增幅提高 30.7 个百分点, 占该市出口的比重由上年的 79.5% 提高到今年的 83%, 提高 3.5 个百分点。

国有企业出口出现下降, 今年前两个月国有企业出口为 3.49 亿美元, 下降 5.2%, 而 1 月份国有企业出口仅增长 9.1%, 国有企业出口增长出现的这种变化值得关注。

今年前两个月, 该市对亚洲出口 12.2 亿美元, 比去年同期增长 2.8 亿美元; 对欧洲出口 5.11 亿美元, 比去年同期增长 1.61 亿美元; 对拉丁美洲出口 0.79 亿美元, 比去年同期增长 0.32 亿美元, 对北美洲和大洋洲出口分别增长 12.2% 和 37.5%。

今年前两个月该市对外出口超亿美元的国家有六个国家和地区, 分别是: 美国、日本、韩国、德国、新加坡和香港。六个国家和地区出口总额为 18.38 亿美元, 占全市出口总额的 69.7%。其中对美国出口 7.3 亿美元, 增长 12.2%, 扭转了一月份下降的局面。对日本出口 2.99 亿美元, 增长 12.2%, 扭转了一月份下降的局面, 对日本出口 2.99 亿美元, 增长 16.2%; 对韩国出口 2.66 亿美元, 增长 32%; 对德国出口 2.46 亿美元, 增长 1.2 倍; 新加坡出口 1.62 亿美元, 增长 1.8 倍; 对香港出口 1.35 亿美元, 增长 25.4%。

今年前两个月该市出口增长达到 27.4%, 在全国十大出口省市中某市的出口增幅排在第七位, 比全国平均出口增长 28.7% 的增幅低落 1.3 个百分点。

- 111、去年 1 月份, 该市进出口贸易总值为:
- A、18.77 亿美元 B、19.32 亿美元 C、22.93 亿美元 D、23.98 亿美元

112、根据原文, 以下描述不正确的是:

- A、2 月份进、出口大幅度提速
B、一般贸易出口保持快速增长, 加工贸易出口增长加快
C、集体、私营企业出口增长继续加快, 外商投资企业出口大幅提速
D、对亚洲、欧洲、非洲和北美洲、大洋洲等主要市场出口全面快速增长

113、今年前两个月, 一般贸易出口占总出口的比重比去年同期:

- A、下降了大约 1 个百分点 B、上升了大约 1 个百分点 C、上升了 3.6 个百分点 D、持平

114、与去年同期相比, 该市对下列哪一地区的出口增长最快?

- A、亚洲 B、欧洲 C、拉丁美洲 D、北美洲

115、今年前两个月该市对外出口超亿美元的六个国家和地区中, 与去年相比, 出口额增长最多的是:

- A、美国 B、日本 C、新加坡 D、德国

二、根据下表回答第 116-120 题：

2005 年 1-10 月北京进出口贸易伙伴情况

单位：亿美元，%

| 主要出口贸易伙伴情况 | | | | 主要进口贸易伙伴情况 | | | |
|------------|-------|------|-------|------------|-------|------|-------|
| 位次 | 国家或地区 | 出口金额 | 同比增长 | 位次 | 国家或地区 | 出口金额 | 同比增长 |
| 1 | 欧盟 | 33.4 | 52.8 | 1 | 欧盟 | 37.4 | 26.8 |
| 2 | 中国香港 | 19.6 | 172.4 | 2 | 日本 | 34 | 22.5 |
| 3 | 日本 | 16.9 | 25 | 3 | 韩国 | 28.7 | 42.1 |
| 4 | 美国 | 15.7 | 29.4 | 4 | 美国 | 19.7 | 28.4 |
| 5 | 东盟 | 13.6 | 105.2 | 5 | 东盟 | 17.9 | 34.6 |
| 6 | 韩国 | 5.9 | 75.7 | 6 | 中国香港 | 10.9 | 77.1 |
| 7 | 俄罗斯 | 4.2 | 416.2 | 7 | 澳大利亚 | 5.4 | 59.2 |
| 8 | 印度 | 3.4 | 82.4 | 8 | 中国台湾 | 4.7 | -0.2 |
| 9 | 中国台湾 | 1.4 | 16.2 | 9 | 印度 | 3.6 | 111.7 |
| 10 | 伊朗 | 1.4 | 139.6 | 10 | 巴西 | 2.4 | 84 |

116、2005 年 1-10 月，北京对俄罗斯的出口金额比 2004 年同期约净增多少亿美元？

- A、0.8 B、1 C、3.2 D、3.4

117、在以下贸易伙伴中，进口额与出口额相差最大的是：

- A、美国 B、日本 C、韩国 D、欧盟

118、2004 年 1-10 月，北京对中国台湾的进口额是多少亿美元？

- A、3.92 B、4.69 C、4.71 D、5.88

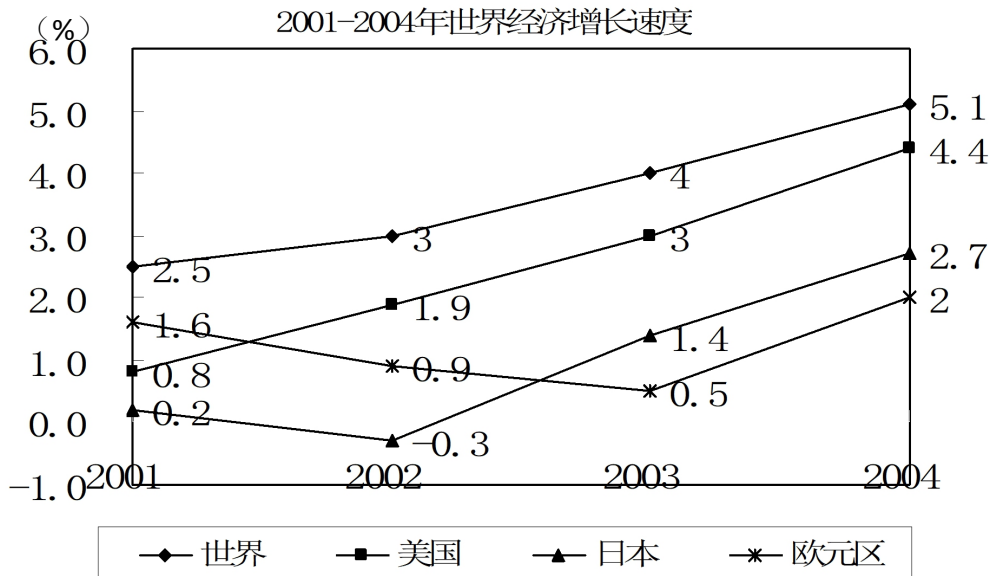
119、从上表可以看出北京实现贸易顺差的国家或地区是：

- A、中国香港 B、印度 C、欧盟 D、日本

120、2005 年 1-10 月，北京对欧盟、日本和美国三大贸易伙伴的出口额在地方出口额中的合计比重为 49%。地方出口额是多少亿美元？

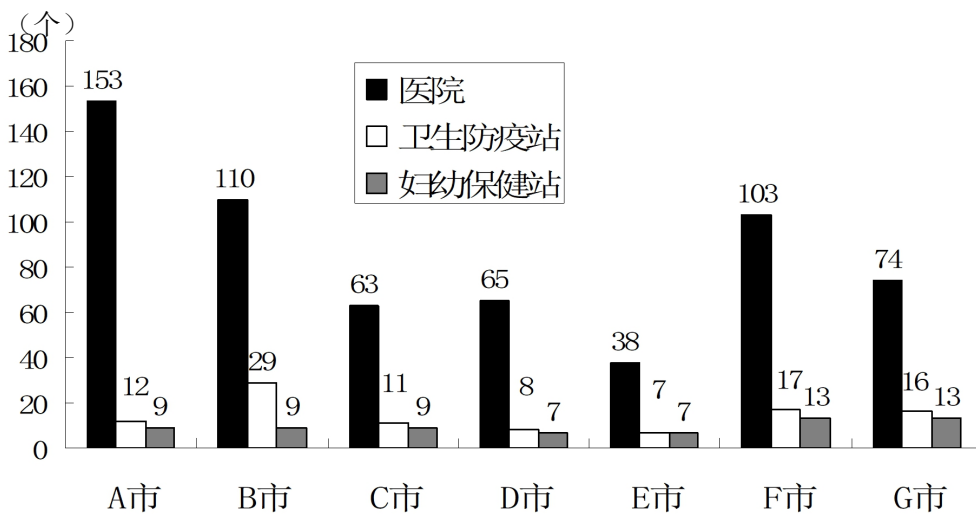
- A、44.3 B、114.3 C、134.7 D、120.1

三、根据下图回答第 121-125 题：

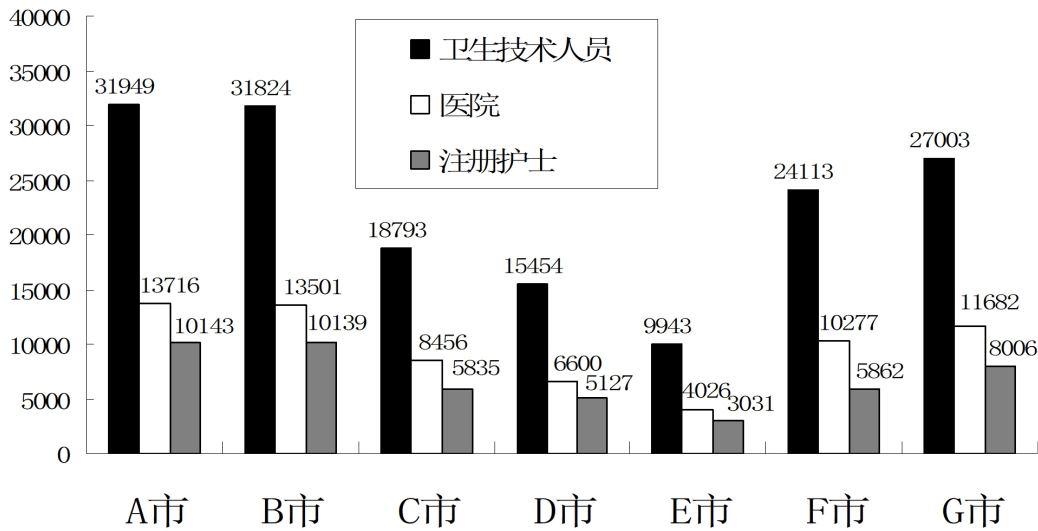


- 121、2001-2004 年间世界经济增长最快的是：
 A、世界 B、美国 C、日本 D、欧元区
- 122、与 2003 年相比 2004 年世界经济增长最快的是：
 A、世界 B、美国 C、日本 D、欧元区
- 123、下面哪种说法不正确：
 A、2001-2004 年间美国与世界相比经济增长速度在直线上升
 B、2001-2004 年间美国与世界相比经济增长速度是相同的
 C、2001-2004 年间美国经济增长速度高于世界
 D、2001-2004 年间世界经济增长速度最快的是 2004 年
- 124、2001-2004 年间美国的经济增长速度，平均每年加快多少个百分点？
 A、0.6 B、0.9 C、1.1 D、1.2
- 125、2001-2004 年间美国的经济增长速度是欧元区经济增长速度的几倍？
 A、2.2 B、5 C、7 D、9

四、根据下面两图中某省对 7 个城市的卫生事业基本情况的统计回答第 126-130 题：



(人)



126、如果该省的卫生机构数按照医院、卫生防疫站和妇幼保健站数的总和来统计，那么B市和E市的卫生机构数的总和是多少？

- A、200 B、228 C、231 D、251

127、医生人数和注册护士人数的比例最高的城市是哪个？

- A、G市 B、F市 C、A市 D、C市

128、图中卫生技术人员的人数包括医生和注册护士，还包括其他相关工作人员。那么A市卫生技术人员中除去医护人员以外的工作人员人数，占卫生技术人员人数的比例为多少？

- A、74.7% B、42.9% C、31.7% D、25.3%

129、如果该省要求医护人员的比例至少达到1:1，那么如果各市医生人数保持不变，最缺注册护士的是哪个市？

- A、G市 B、A市 C、F市 D、B市

130、如果该省的卫生机构数按照医院、卫生防疫站和妇幼保健站数的总和来统计，那么妇幼保健站占卫生机构数的比例最低的是哪个市？

- A、D市 B、A市 C、F市 D、B市



淘宝店铺



微信公众号

 微信扫码，关注“**公务员考试挺简单**”公众号，获取更多公考经验、公考资料、时政等，真题更新也会通过公众号发通知哦。

 手淘扫码，进入**杨柳真题**淘宝店铺，可购买历年公考真题、事业单位真题等。纯手工整理，一手资料，包您满意，助您上岸。

买真题，请认准杨柳真题。淘宝“杨柳真题”独家整理，实时纠错，拒绝资料贩子。