

2009年江西公务员考试行测真题及其答案解析

来源：W 整理：杨柳（微信：gwy288）

第一部分 言语理解与表达

（共25题，参考时限25分钟）

本部分包括两种类型的试题：

一、选词填空：共10题。要求你从四个选项中选出一个填空，使句子的意思表达得最准确。

1. 绘画，笔墨不必过周，以拙为巧，以空为灵，含不尽之意于画外，（ ）更见幽远。
A. 画意 B. 境界 C. 意象 D. 诗情
2. 什么样的人，做什么样的梦。梦是思想感情的延伸，是心灵世界的（ ）。
A. 陈述 B. 自白 C. 反照 D. 透视
3. 不会“异想天开”要僵化，只会“异想天开”要退化，“异想天开”和“脚踏实地”结合才能“（ ）”。
A. 美化 B. 进步 C. 进化 D. 强化
4. 生活就像一杯茶，平淡是它的本色，苦涩是它的（ ），清香是它的馈赠。
A. 历陈 B. 归宿 C. 历程 D. 结果
5. 体操是一个结合了杂技和舞蹈的体育运动。它的魅力，在于那种刀锋上的平衡与美感，在于每一秒都让人（ ）。运动员在空中翻腾的时候，即使不在现场的观众，也会不由自主地屏住呼吸，直到运动员稳稳落地。
A. 心旷神怡 B. 赏心悦目 C. 战战兢兢 D. 如痴如醉
6. 如果说，听懂话语是听话能力的（ ），那么，理解话语就是听话能力的（ ）。
A. 根本 中心 B. 基础 核心 C. 根本 核心 D. 基础 中心
7. 书籍是我们的良师益友，困惑时它给你（ ），悲哀时它给你慰藉，得意时它给你（ ），低落时它给你力量。
A. 启发 指引 B. 鼓舞 清醒 C. 启发 清醒 D. 鼓舞 指引
8. 古人云：“凡事预则立，不预则废。”有了计划，才能够胸中有（ ），行动有目标，工作有程序，才能够增强自觉性，减少（ ）性，调动积极性。
A. 大局 盲目 B. 全局 消极 C. 大局 消极 D. 全局 盲目
9. 《权谋书》成书于汉成帝鸿嘉四年，是刘向在校书的过程中（ ）而成的。他编辑此书的目的是有感于当时社会风俗的奢靡荒淫，礼教零落，用历史上古圣先贤的事迹和流传下来的格言警句来引起皇帝的（ ）。
A. 整理 兴趣 B. 总结 反思 C. 编写 警戒 D. 分析 警惕
10. 劝说朋友，话不必说尽，只要其心领神会，便当止住，否则就是（ ）；做文章句子不要显，诡文而谲谏，寓言以讽喻，点景以生情，意味更见（ ）。
A. 啰嗦 深刻 B. 啰嗦 深长 C. 肤浅 深长 D. 肤浅 深刻

二、阅读理解：共15题。每道题包含一段短文，短文后面是一个不完整的陈述，要求你从四个选项中选出一项完成这一陈述。

11. 下列各句没有语病的一句是：（ ）
A. 他们谩骂法庭执法人员，殴打执行公务的干警，这实属是蔑视国家法律尊严与权威的违法行为。
B. 大会期间，代表们认真学习领会《公民道德规范》的精神实质，提出了许多具有建设性的意见和建议。
C. 尽管克隆技术引发的多方面问题仍有许多难以明确给予定论，但对生殖性克隆人实验应当严格禁止。
D. 从大量观测到的事实中告诉我们，要掌握天气的连续变化，最好每小时都进行观察。
12. 在教学活动中，教师起什么作用？叶圣陶先生的看法是，“各种学科的教学都一样，无非教师帮着学生学习的一串过程”。换句话说，教学，教学，就是“教”学生“学”，主要不是把现成的知识教给学生，而是把学习的方法教给学生，学生就可以受用一辈子。这段文字的主旨是：
A. 教师要讲究教学方法 B. 教师应讲授学习的过程
C. 教师应把学习的方法教给学生 D. 教师教学主要不是把现成的知识教给学生
13. 当你端着满满的一杯咖啡行走时，如果你的眼睛老是盯着液面，心中总在设法使之平衡。结果你会发现咖啡液面的波动会越来越剧烈，以至溅出杯子，相反，如果你不过分地小心翼翼，大胆地走，它反而不会溅出杯子。政府对经济的干预也是这样，（ ）。
A. 过分地通过干预追求平衡反而会出现问题，而任其自由发展反而没有问题
B. 过分地通过干预追求平衡反而会出现问题，而放开手脚让经济在市场中自由发展反而容易达到平衡
C. 放开手脚让经济在市场中自由发展，反而容易达到平衡
D. 不要过分干预，干预总是走向反面
14. 夏天有苍蝇、蚊子，但夏天能长出我们必需的粮食和各种作物；冬天虽然少一些害虫，但冬天不长庄稼，因此，谁也不会希望总是过冬天。对这段话的理解不准确的一项是：（ ）
A. 对事物不要求全责备 B. 取长补短，双方得益
C. 事物的优劣是相比较而言的 D. 客观条件，为我所用
15. 社情不等同于民意，但社情包含着民意；民意不等同于社情，但民意是最重要的社情。了解和反映社情民意，最主要的是了解和反映民情民意。这段话表达的主要观点是：（ ）

- A. 社情包括民情 B. 民意不包括社情
C. 一般说，社情就是民情 D. 反映民情就是社情

16. 梁朝简文帝诗云：“紫燕跃武，赤兔越空。”二句中赤兔指良马，紫燕亦指良马。李善注谢灵运诗云：“文帝自代还，有良马九匹，一名飞燕骝。”在古代，武威铜马足下的飞燕无疑是用来比喻良马之神速，这种造型让人一看便知其意，所以铜马应直截了当取名为“紫燕骝”或“飞燕骝”，此名恰合古意，最为雅致贴切。这段文字的主旨是：

- A. 中国古代诗人多善于写马
B. 武威铜马足下的飞燕是用来比喻良马神速的
C. 武威铜马直接命名为“紫燕骝”或“飞燕骝”更为贴切
D. 南北朝文人都喜欢马

17. 每 100 克巧克力中含 40~500 毫克可可碱，可可碱能刺激平滑肌，还能加速神经传导。但和咖啡因不同的是，可可碱对中枢神经系统几乎没有任何影响。每 100 克巧克力中含 70 毫克咖啡因，咖啡因的作用在于提高警觉性，促使人超常发挥，提升观察力，抵抗疲劳，提高脑力活动的效率。巧克力中还含苯丙胺，也具有提神醒脑的作用，能刺激下丘脑中的去甲肾上腺素分泌。这段话主要说明了：

- A. 巧克力具有促进神经兴奋的作用 B. 巧克力和咖啡对人体的影响不同
C. 可可碱比咖啡因对人体更加有益 D. 咖啡因会对人体的中枢神经系统产生影响

18. 许多比赛之所以不能取胜，是因为自己身上的包袱太重：骄傲是包袱，急躁是包袱，气馁是包袱，荣誉是包袱，患得患失是包袱，不动脑筋、马虎大意也是包袱。对这段话理解最准确的是：（ ）

- A. 轻装才能前进 B. 患得患失是失败的主要原因
C. 要想战胜对手，首先要战胜自己 D. 战胜了自己，就能战胜对手

19. 毛泽东说：“只有让人民来监督政府，政府才不敢松懈。只有人人起来负责，才不会人亡政息。”民主管理的一个重要的内容就是对经营者的监督，监督其经营行为的合理性、科学性和可行性，民主管理的另一个重要内容就是劳动者主人翁地位即人人负责的管理环境的建立。对这段话的理解不正确的是：（ ）

- A. 毛泽东的话在此更加形象深刻地揭示出民主管理的必要性
B. 民主管理包括两个方面的内容
C. 民主管理重在强调对经营者的监督
D. 民主管理的这两个方面同等重要，不可偏废任何一方

20. 一个已经二十岁身高不足一米的残疾乞丐躺在地上乞讨，将近一天时间所获无几，一个老外路过，送给他一张百元大钞。令人惊异的是，不到半分钟后，他一瘸一拐地参加了为一位身患重病却无力支付医疗费的女孩募捐的队伍，那队伍有 200 多人。对这段话的理解准确概括的是：（ ）

- A. 身残志不残，个矮情却长 B. 奉献爱心，已蔚然成风
C. 最缺少爱的人最懂得爱的温馨 D. 爱是无价之宝

21. 截至 2007 年 12 月 7 日上午，三峡电站年内已发电约 590 亿千瓦时。至此，三峡电站投产已累计发电 2050 亿千瓦时。三峡电站的经济效益从来没有人怀疑过。屡遭质疑的是三峡工程的环保效益，如破坏长江流域生态，造成泥沙沉积等。而三峡工程 26 台发电机组全部投产后，与燃煤火力发电机比，每年要少消耗 5000 万吨煤炭，向大气少排放 1 亿吨的二氧化碳。这段话主要表明了：（ ）

- A. 三峡电站的经济效益是主要的 B. 三峡电站的经济效益大于环保效益
C. 对三峡电站的环保效益的评价应是一个整体 D. 对三峡电站的环保效益现在尚不能作出评价

22. 温总理在中欧领导人会议上的讲话，首先重申了中国政府一贯坚持的原则，即西藏和台湾都是中国领土不可分割的一部分。并希望默克尔能在会见达赖喇嘛一事上认错，此后特别强调，法国、德国是中国的伙伴，是战略合作的伙伴，朋友和伙伴也有说过错话做过错事的时候，但只要认识了，改正了，我们还是一如既往友好相待。对这段话的正确理解是：（ ）

- A. 表明了中国底线外交的三个层面：清晰性、反馈性和建设性
B. 表明了中国底线外交的三个层面：原则性、反馈性和灵活性
C. 表明了中国的外交政策的原则性和灵活性
D. 表明了中国的外交政策的原则性和适应性

23. 国家主权神圣不可侵犯。不过，全球化下，征服土地式的主权侵犯已变得不太可能。于是，“主权”意识正在被淡忘。但是，有种主权侵犯却是潜移默化、无声无息的，这就是文化侵犯。这段话主要是为了说明：

- A. 国家主权神圣不可侵犯 B. “主权”的意识正在被淡化
C. 文化侵略的特点 D. 文化侵略很容易被忽略

24. 邻居在房屋的周围种上许多梨树，其中有一颗正好靠近我家稻田，致使我家稻田的两平方米面积或多或少减产，但父亲从来没有怨言。后来，邻居觉得不好意思，每到梨子成熟的时候摘最大的梨子送到我家，还将猪圈里的肥料朝我家稻田里撒，因此，我家稻田的收成总体上没有减少。父亲便以此为例，告诫我：_____。

填入横线最恰当的一句是：（ ）

- A. 以德抱怨，是为自己造福 B. 宽容是不会蚀本的
C. 不要锱铢计较 D. 退一步，海阔天空

25. 大亚湾地理位置得天独厚，地处 21 世纪亚太经济圈的核心位置。近年来，她以集港口工业、国际贸易、旅游

为一体的未来百万人口海滨一流新城市的宏伟蓝图, 吸引着众多的海内外客商。举世瞩目的熊猫汽车城, 东风汽车城、南海石化城、庄土工业城等一批超大型工业和旅游项目, 都先后落户在这里。这段话的中心意思是: ()

- A. 大亚湾得天独厚的地理位置
B. 大亚湾的工业和旅游项目
C. 大亚湾得天独厚的地理位置将给她带来繁荣的商业前景
D. 大亚湾是一座现代化城市

第二部分 数量关系

(共 20 题, 参考时限 20 分钟)

本部分包括两种类型的试题:

一、数字推理: 共 10 题。给你一个数列, 但其中缺少一或两项, 要求你仔细观察数列的排列规律, 然后从四个供选择的选项中选出你认为最合理的一项, 来填补空缺项。

26. 0, 3, 9, 21, (), 93
A. 40 B. 45 C. 36 D. 38
27. -3, 3, 0, (), 3, 6
A. 3 B. 4 C. 5 D. 6
28. 44, 54, 65, 77, ()
A. 91 B. 90 C. 89 D. 88
29. 12, 10, 14, 13, 16, 16, (), ()
A. 14, 18 B. 20, 19 C. 18, 19 D. 15, 18
30. 13, 9, 11, 6, 9, 13, (), ()
A. 6, 0 B. -1, 1 C. 7, 0 D. 7, 6
31. $\frac{2}{5}, \frac{3}{7}, \frac{4}{10}, \frac{6}{14}, \frac{8}{20}, \frac{12}{28}, ()$
A. $\frac{224}{56}$ B. $\frac{14}{32}$ C. $\frac{20}{48}$ D. $\frac{16}{40}$
32. 3, 6, 8, 13, 20, (), 51
A. 31 B. 28 C. 42 D. 32
33. 22, 122, 1221, 11221, 112211, ()
A. 111221 B. 111122 C. 1122111 D. 1112211
34. 7, 4, 14, 8, 21, 16, (), ()
A. 20, 18 B. 28, 32 C. 20, 32 D. 28, 64
35. 160, 80, 40, 20, ()
A. $\frac{1}{5}$ B. 1 C. 10 D. 5

二、数字运算: 共 10 题。要求你在四个选项中, 选出你认为正确的一项。要求你充分利用所给的条件, 寻求解决问题的捷径。

36. 把一根钢管锯成两段要用 4 分钟, 若将它锯成 8 段要多少分钟?
A. 16 B. 32 C. 14 D. 28
37. 一个四边形广场, 它的四边长分别是 60 米、72 米、96 米、84 米, 现在四边上都植树, 四角需种树, 而且每两棵树的间隔相等, 那么, 至少要种多少棵树?
A. 22 B. 25 C. 26 D. 30
38. 甲、乙二人同时同地绕 400 米的循环形跑道同向而行, 甲每秒钟跑 8 米, 乙每秒钟跑 9 米, 多少秒后甲、乙二人第三次相遇?
A. 400 B. 800 C. 1 200 D. 1 600
39. 一个等腰三角形, 两边长分别为 5cm、2cm, 则周长为多少 cm?
A. 12 B. 9 C. 12 或 9 D. 无法确定
40. 电影票 10 元一张, 降价后观众增加一倍, 收入增加 $\frac{1}{5}$, 则一张票降价多少元?
A. 8 B. 6 C. 4 D. 2
41. 在浓度为 40% 的酒精中加入 4 千克水, 浓度变为 30%, 再加入 m 千克纯酒精, 浓度变为 50%, 则 m 为多少?
A. 8 B. 12 C. 4.6 D. 6.4
42. 一架飞机所带燃料, 最多用 6 小时; 出发时顺风, 每小时飞 1 500 千米, 飞回时逆风, 每小时飞 1 200 千米, 此飞机最多飞出多少小时就需往回飞?
A. $\frac{8}{3}$ B. $\frac{11}{3}$ C. 3 D. $\frac{5}{3}$
43. 学生在操场上列队做操, 只知人数在 90-110 之间。如果排成 3 排则不多不少; 排成 5 排则少 2 人; 排成 7 排

则少 4 人；则学生人数是多少人？

- A. 102 B. 98 C. 104 D. 108

44. 一个长方体模型，所有棱长之和为 72，长宽高的比是 4:3:2，则体积是多少？

- A. 72 B. 192 C. 128 D. 96

45. 某次考试中，小林的准考证号码是三位数，个位数字是十位数字的 2 倍，十位数字是百位数字的 4 倍，三个数字的和是 13，则准考证号码是：

- A. 148 B. 418 C. 841 D. 814

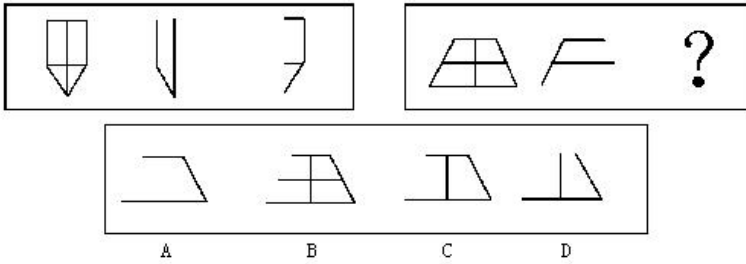
第三部分 判断推理

（共 35 题，参考时限 35 分钟）

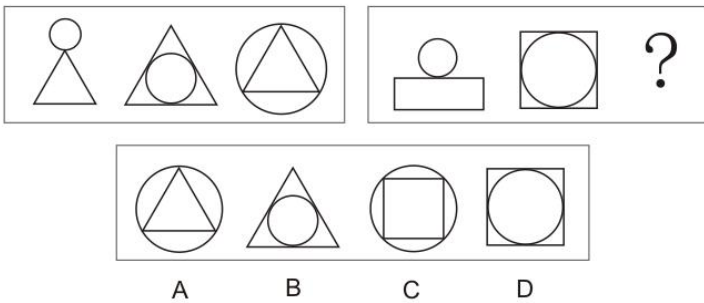
本部分包括四种类型的题目：

一、图形推理：共 5 题。每道题包含问题图形和可供选择的 4 个图形。问题图形具有一定的相似性，也存在某种差异。你要从中找出其变化的规律，并把这种规律正确地运用到解题过程中，或者依据图形变化的规律进行选择。

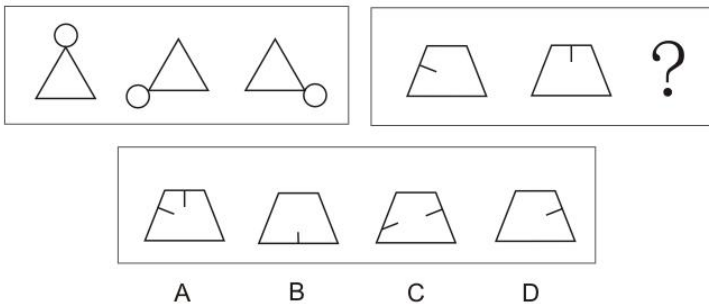
46.



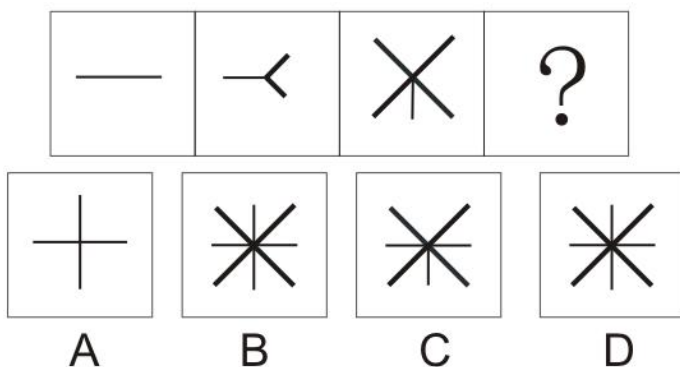
47.



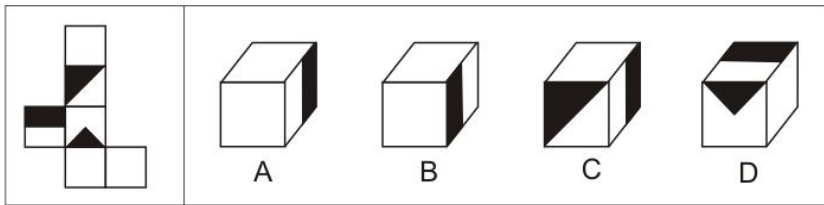
48.



49.



50.



二、演绎推理：共 10 题。每题给出一段陈述，这段陈述被假设是正确的不容置疑的。要求你根据这段陈述，选出一个答案。注意，正确的答案应与所给的陈述相符合。不需要任何附加说明即可以从陈述中直接推出。

51. 所有的亲戚我都问过了，谁也不知道明明的下落。上述断定为假，以下判定可以确定为真的是：
 A. 有的亲戚不知道明明的下落 B. 有的亲戚知道明明的下落
 C. 没有亲戚知道明明的下落 D. 知道明明下落的亲戚没有问到
52. 有些不是鱼的动物外表像鱼。与以上判断等值的是：
 A. 有些外表像鱼的动物不是鱼 B. 有些外表像鱼的动物是鱼
 C. 有些不是鱼的动物外表不像鱼 D. 有些鱼外表不像鱼
53. 如果“我们班有的同学不会使用计算机”是一个真判断，下面不能确定其真假的是：
 A. 我们班至少有一个同学不会使用计算机 B. 我们班所有的同学都会使用计算机
 C. 我们班有的同学会使用计算机 D. 不会使用计算机的有些是我们班的同学
54. 某人说：“不可能所有的人都会投他的赞成票。”与以上判断的意思最相近的是：
 A. 可能所有的人都会投他的赞成票 B. 可能所有的人都不会投他的赞成票
 C. 必然所有的人都会投他的赞成票 D. 必然有的人不会投他的赞成票
55. 调查人员发现，被害人曾两次向朋友提到了被威胁的事，一次是 1996 年 5 月，她向男朋友周某提出分手，周某威胁要毁她的容。另一次没有说时间，只说她在 6 年里经常受到周某的威胁。以上事实最好地支持了下面哪项？
 A. 被害人 1996 年 5 月开始受到周某的威胁 B. 周某威胁了被害人 6 年
 C. 被害人是被周某杀害的 D. 被害人因要和周某分手而经常受到威胁
56. “如果你关掉了所有错误的大门，真理它将被拒之门外。”与以上判断的含义最为接近的是：
 A. 如果真理被拒之门外，那一定是你关掉了所有错误的大门
 B. 只有关掉所有错误的大门，真理才不会拒之门外
 C. 如果真理没有被拒之门外，那么，一定是没有关掉所有错误的大门
 D. 若要接纳真理，必须拒绝错误
57. 为了成功地进行沟通，我们需要参照重叠的系统，用这种方式所看到的世界是一个相容的世界。但是我们不可能与所有的人有着相同的经历，因而完全相同的参照系统是不可能的。最能支持以上推理的是：
 A. 完全相同的参照系统必须是相容的 B. 完全相同的参照系统必须依赖相同的经历
 C. 不同的经历造成了一个不相容的世界 D. 成功的沟通是不可能的
58. 村里的房子都不是木房子。有些房子涂上了颜色。由此可以推断：
 A. 有些房子是涂了颜色的木房子 B. 有些房子不是涂了颜色的木房子
 C. 有些房子或者是木房子或者是涂了颜色 D. 有些房子或者不是木房子或者没涂颜色
59. 有一批新产品不合要求，经检查，不合要求的原因不是由于原材料质量差，也不是由于产品设计有差错。由此我们认定，这批产品不合要求是由于工人技术水平低造成的。最能支持以上结论的是：
 A. 影响产品质量的因素有很多 B. 该厂没有对工人进行必要的培训
 C. 新产品面世总是会有不少波折
 D. 产品不合要求，或者是由于原材料质量差或者是由于产品设计有差错，或者是由于工人技术水平低
60. 当一种语言的谓语排列在宾语之后时，它的所有者总是排列在名词中心语之前。与这句话蕴含的意思逻辑上相排斥的是：
 A. 某语言的谓语排列在宾语之前时，所有者也排列在名词中心语之前
 B. 某语言的谓语排列在宾语之前时，所有者的有的排列在名词中心语之前，有的排列在名词中心语之后
 C. 某语言的所有者排列在名词中心语之后时，谓语排列在宾语之后
 D. 某语言的所有者排列在名词中心语之前时，谓语排列在宾语之前

三、定义判断：共 10 题。每道题先给出一个概念的定义，然后分别给出四种情况，要求你严格依据定义，从中选出一个最符合或最不符合该定义的答案。注意：假定这个定义是正确的，不容置疑的。

61. 应激性是指生物对外界刺激所发生的反应，是生物趋利避害的一种措施，也是生物的根本特征之一。以下属于应激性的是（ ）。
 A. 鞭炮点燃后发生爆炸，灰飞烟灭 B. 湖水中扔入石头泛起波澜
 C. 手碰到燃烧的蜡烛马上缩回 D. 铁钉放置在潮湿环境中生锈
62. 动物消化食物的方式有两种，细胞内消化和细胞外消化，细胞内消化是单细胞的原生动物将食物颗粒吞入细胞内进行消化。以下属于细胞内消化的是（ ）。
 A. 鸟类的胃对食物进行消化 B. 人生病时不能进食便从静脉注射葡萄糖溶液

- C. 牛休息时将吃过的食物进行反刍 D. 生活在淡水中的草履虫吞噬枯草杆菌
63. 体液是指人体体内含有的大量以水为基础的液体, 包括细胞内液和细胞外液, 其中除含有大量的水外, 还有许多离子和化合物。以下不属于体液的是 ()。
- A. 炎热环境排出的汗液 B. 血管中流动的血浆
C. 组织细胞间隙的组织液 D. 淋巴管内流动的淋巴
64. 反射是指在中枢神经系统的参与下, 动物体或人体对内外环境变化作出的规律性应答。以下不属于反射的是 ()。
- A. 人的手碰到燃烧的蜡烛马上缩回
B. 伸手触摸含羞草的叶片, 含羞草触碰后叶片下垂
C. 巴甫洛夫在对狗进行实验中, 摇铃时狗便分泌唾液, 即使没有提供食物
D. 猫看见老鼠便追, 虽然并不是处于饥饿状态
65. 个人所得税的纳税人是指在中国境内有住所, 或者无住所而在境内居住满一年, 从中国境内和境外取得所得的个人; 在中国境内无住所又不居住或者无住所而在境内居住不满一年, 从中国境内取得所得的个人。根据上述定义, 下列不属于中国个人所得税的纳税人的是 ()。
- A. 亨利是美国人, 应聘在“北京华尔街英语学校”任教6个月
B. 汤姆是英国人, 应聘在“北京华尔街英语学校”任教2年
C. 高红是美籍华人, 在回国探亲两个月内, 她在美国工作的公司仍然向她支付工资
D. 李扬是北京大学的教授, 她在新加坡出版了一本书, 得到一笔稿费
66. 考试信度是指考试的客观性: 指一个考试反映考生真实水平的程度。根据以上定义, 对考试信度影响不大的一项是 ()。
- A. 同一篇作文, 张老师给了50分, 赵老师却只给了30分
B. 许多女生都没有答对这道有关足球比赛的题目
C. 考试这天天气特别闷热, 许多同学的发挥受到影响
D. 高考前数学老师押中了两道大题, 考后同学们都很高兴
67. 竞争是两种或两种以上生物相互争夺资源和空间。竞争的结果常表现为相互抑制, 有时表现为一方占优势, 另一方处于劣势或死亡。下面两种生物表现不是竞争的是 ()。
- A. 猴群为争夺王位而进行的斗争 B. 水稻田中的水稻和稗草
C. 同一块草地上的牛和羊 D. 同一个池塘中的草鱼和鲫鱼
68. 民事法律关系, 是由民法规范调整的发生于民事主体之间的具有民事权利义务内容的社会关系。下列哪种情形形成民事法律关系?
- A. 男青年甲与女青年乙约定一起外出游玩 B. 男青年甲与女青年乙相互鼓励共同进步
C. 男青年甲与女青年乙确定恋爱关系 D. 男青年甲赠与女青年乙订情信物
69. 强度相对数是两个不同性质但又有联系的总量指标之间的比值, 用以说明现象的强度、密度和普遍程度的综合指标。根据以上定义, 以下描述属于强度相对数的是 ()。
- A. 2006年, 我国人均GDP超过2000美元
B. 2007年, 某地区城镇在职职工的人均月工资为1800元
C. 美国与中国的人均GDP之比约为20:1
D. 2008年1月某地区劳动生产率为3000元/人
70. 季节变动是指某些客观现象在一年之内随季节的更替而出现某种有规律性的明显波动。根据以上定义, 下列属于季节变动的是 ()。
- A. 2008年春天长沙出现50年一遇的冰冻天气 B. 2006年6-8月长沙市西瓜销售量全年最高
C. 2007年报考研究生人数比2006年减少了7.2万 D. 2007年冬季我国居民消费价格指数上升迅速
- 四、类比推理: 共10题。先给出一组或多组相关的词, 要求你在备选答案中找出一组与之在逻辑关系上最为贴近、类似或匹配的词。
71. () 对于南宋相当于西游记对于 ()
- A. 封神演义 南宋 B. 三侠五义 汉朝
C. 说岳全传 唐朝 D. 水浒传 清朝
72. () 对于氯化氢相当于石灰水对于 ()
- A. 硫酸 钠 B. 盐酸 氢氧化钙 C. 氨水 氯化钙 D. 甲烷 氢氧化钠
73. 英国: 伦敦
- A. 美国: 加州 B. 中国: 北京 C. 东京: 日本 D. 葡萄牙: 西班牙
74. 义务警员: 警察
- A. 小偷: 模范 B. 狮子: 小羊 C. 肖像: 装饰 D. 死刑: 刑罚
75. 公共汽车: 售票员
- A. 司机: 火车 B. 汽车: 乘客 C. 飞机: 空姐 D. 营业员: 商店
76. () 对于 U.K 相当于美国对于 ()
- A. 德国 P. R. C B. 中国 G. C C. 联合国 U. K D. 英国 U. S. A

77. () 对于精确相当于讨厌对于 ()
A. 准确 厌恶 B. 精细 喜欢 C. 正确 厌烦 D. 精明 憎恶
78. () 对于恺撒相当于印度对于 ()
A. 希腊 伯利克里 B. 罗马 阿育王 C. 埃及 埃阿斯 D. 巴比伦 屋大维
79. () 对于拉萨相当于云冈石窟对于 ()
A. 马王堆汉墓 开封 B. 布达拉宫 大同 C. 白马寺 冀州 D. 晋祠 洛阳
80. () 对于鸵鸟相当于梵蒂冈对于 ()
A. 蜂鸟 俄罗斯 B. 麻雀 加拿大 C. 燕子 美国 D. 喜鹊 中国

第四部分 常识判断

(共 20 题, 参考时限 15 分钟)

共 20 题。本部分为单项选择题, 各题的四个选项中, 只有一项是符合题意的, 请将答案填在答题卡上。

81. 甲出售伪劣“良种”, 被农民乙、丙、丁起诉。甲应诉答辩后突然失踪。对此法院应当如何处理?
A. 中止诉讼 B. 终结诉讼 C. 延期审理 D. 缺席判决
82. 很多人认为贵州省的旅游可以归纳为: 一栋房子(遵义), 一个瓶子(茅台酒), 一棵树子(黄果树)。你认为贵州省这栋房子之所以能够成为旅游景点主要是因为这里:
A. 打响了武装反抗国民党反动统治第一枪 B. 党的历史上生死攸关的转折点
C. 召开了中国共产党第一次代表大会 D. 宣告两万五千里长征胜利结束
83. 个体经营户张某因不服区工商局 5000 元的处罚而申请复议, 市工商局认为处罚过轻, 遂改为没收张某的工商营业执照, 张某若想提起行政诉讼, 应以哪个单位为被告?
A. 市工商局 B. 区工商局 C. 区人民政府 D. 市工商局和区工商局
84. 某市劳动部门发现某玩具厂使用一批不满 15 周岁的学徒工。对此, 劳动行政部门拟采取的下列哪一项措施不符合法律规定?
A. 责令雇主改正, 并处以罚款 5 万元 B. 责令雇主解除劳动合同, 遣返这批学徒工
C. 责令雇主承担遣返费用, 并给予经济补偿 D. 收缴雇主在非法用工期间的经营所得
85. 许多家庭的门上都装有防盗门镜(俗称“猫眼”)。从室内透过防盗门镜向外看, 可以看到来客的直立、缩小的像。由此可以断定, 此时防盗门镜的作用相当于一个:
A. 凸透镜 B. 凹透镜 C. 三棱镜 D. 玻璃砖
86. 某省人民政府建设一项国家重点高速公路, 决定占用沿途部分农民的土地, 省人民政府对被占用土地的农民给予了各种补偿, 并对多余的劳动力进行了安置。省人民政府的这项行为属于:
A. 行政征用 B. 行政征收 C. 行政征购 D. 行政没收
87. 行政征收的实施应以下列哪一项内容为前提?
A. 行为相对人违法 B. 行政机关与行政相对人意思表示一致
C. 公共利益的需要 D. 行政相对人负有行政法上的缴纳义务
88. 张某因逆行驾驶被交通警察李某拦截, 李某口头作出罚款 200 元的处罚决定, 并要求当场缴纳。张某要求出具书面处罚决定和罚款收据, 李某认为其要求属于强词夺理, 拒绝听取其申辩。关于该处罚决定, 下列哪个说法是正确的?
A. 该处罚决定无效 B. 该处罚决定违法
C. 该处罚决定可以被撤销 D. 该处罚决定不成立
89. 在影视剧的拍摄中, 常见一些房屋道具倒塌或重物落下, 不会将演员砸成重伤, 这些重物是用:
A. 密度比实物大的材料做成 B. 密度比实物小的材料做成
C. 密度与实物相同的材料做成 D. 密度与实物相近的材料做成
90. 刘某的月工资为 1800 元。2008 年 10 月 1 日至 3 日, 公司安排刘某在这 3 天值班。根据劳动法的规定, 公司除应向刘某支付每日工资外, 还应当向王某支付多少加班费?
A. 180 元 B. 360 元 C. 540 元 D. 720 元
91. 根据《国家赔偿法》的规定, 下列情形不属于国家赔偿的是:
A. 某地政府为挽救当地一濒临倒闭的国有企业, 强令另一企业与该国有企业订立订购合同。该企业不服, 政府将其银行账户冻结
B. 税务局工作人员钱某与个体户赵某素有矛盾, 以赵某偷税为名借税务局名义没收其 5000 元的财物。
C. 狱警李某的朋友被犯人张某打伤, 李某指使同监犯人将张某打伤
D. 工商局孙某骑自行车上班途中与人相撞, 发生争执后将人打伤
92. 近年来, 许多城市都作出了限放烟花爆竹规定, 其原因主要是燃放烟花爆竹会:
A. 污染水源 B. 产生温室效应 C. 污染土壤 D. 污染空气、产生噪声、易引发火灾
93. 法官甲在审理民事案件时, 下列哪一情形可以不予回避?
A. 甲是案件当事人 B. 甲是当事人的表哥
C. 当事人是甲的妻子 D. 当事人是甲的同学
94. 下列关于行政处罚中“一事不再罚原则”的表述, 正确的是:
A. 针对一个违法行为, 不能进行多种行政处罚

- B. 针对一个违法行为, 不能由两个或两个以上的行政机关处罚
C. 针对一个违法行为, 不能进行两次或两次以上的罚款
D. 针对一个违法行为, 不能依据同一法律规范进行两次或两次以上的处罚
- 回答 95-96 题。党的十六届六中全会提出, 要让百姓共享改革发展成果, 要坚持发展为了人民、发展依靠人民、发展成果由人民共享, 切实解决人民群众最关心、最直接、最现实的利益问题。
95. 要让百姓共享改革发展成果体现了:
- ①社会主义的本质
②社会主义的根本目标
③价值规律是市场经济的基本规律
④效率优先的原则
- A. ①② B. ②③ C. ③④ D. ①④
96. 要切实解决人民群众最关心、最直接、最现实的利益问题, 从根本上说必须:
- A. 免征各种针对居民个人的税收, 切实减轻居民的税收负担
B. 进一步完善我国的分配制度, 杜绝一切非法收入
C. 鼓励、支持和引导非公有制经济的发展, 为百姓营造良好的创业环境
D. 大力发展生产力, 提高我国的经济水平
97. 2006 年 10 月是中国工农红军长征胜利 70 周年, 在新的历史时期, 我们应当继承和发扬“长征精神”, 这是因为:
- A. “长征精神”的内容永远不会发生变化 B. 正确的意识对事物发展起促进作用
C. 正确的社会意识才能反作用于客观事物 D. “长征精神”决定着社会主义现代化建设的发展
98. 关于行政许可程序, 下列哪一选项是正确的?
- A. 申请事项依法不属于本行政机关职权范围的, 应当即时作出不予受理的裁定
B. 涉及公共利益的重大行政许可事项, 行政机关应当向社会公告, 并举行听证
C. 行政机关作出的准予行政许可决定, 应当予以公开
D. 行政许可适用范围没有地域限制的, 申请人取得的行政许可在全国范围内有效
99. 对于人民法院作出的下列哪一种民事裁定, 当事人不可以上诉?
- A. 关于不予受理的裁定 B. 关于驳回起诉的裁定
C. 关于管辖权异议的裁定 D. 关于对财产保全的裁定
100. 我国《宪法》所规定的人民行使国家权力的机关是:
- A. 全国人民代表大会 B. 国务院
C. 各级人民政府 D. 全国人民代表大会和地方各级人民代表大会

第五部分 资料分析

(共 25 题, 参考时限 25 分钟)

共 25 题, 针对下列文字、表或图回答问题。你应根据资料提供的信息进行分析、比较、计算、处理。

根据下列文字资料回答 101~105 题。

据海关统计数据显示: 2004 年 1~10 月, 医药产品进出口贸易总额为 87.39 亿美元, 同比增长 19.04%。其中出口 45.61 亿美元, 增长 13.11%; 进口 41.78 亿元, 增长 25.3%。从贸易结构看, 2004 年前 10 个月医疗器械占医药产品贸易总额的 41.5%, 化学原料药品所占比例为 31.68%, 中成药和卫生材料所占比重在 8%左右。从进口结构看, 进口最大的仍然是医疗器械, 占医疗产品进口金额的比例达到 53.32%。其次是化学原料药品为 16.44%。再次是中成药的 14.32%和西药的 12.76%。在出口的产品结构方面, 45.65%为化学原料药品, 30.67%为医疗器械, 卫生材料所占的比例也达到了 12.77%。

另据海关统计数据显示, 2005 年 1~9 月中药出口总额突破 5 亿美元, 同比增长 18.32%。对亚洲, 北美洲和欧洲的中药出口分别占我国中药出口总额的 66.08%, 14.56%和 14.46%; 对南美洲、非洲和大洋洲的出口占我国中药出口总额的 4.9%。

101. 2003 年 1~10 月, 我国医药产品实现进出口贸易顺差约为多少亿美元?

- A. 6.98 B. 5.94 C. 4.56 D. 3.83

102. 2004 年前 10 个月, 我国化学原料药品贸易总额约为中成药和卫生材料贸易总额的?

- A. 1 倍 B. 2 倍 C. 3 倍 D. 4 倍

103. 根据下列材料, 下列说法正确的是:

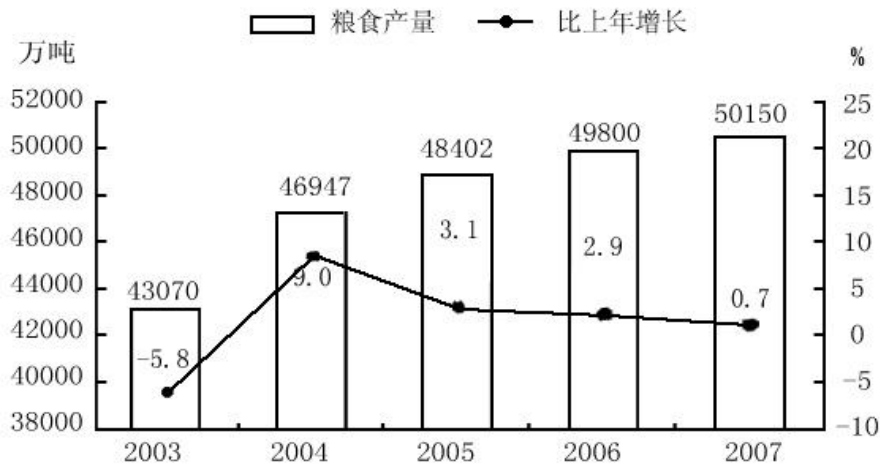
- A. 2004 年 1~10 月, 医疗器械进口贸易总额约占同期医药贸易总额的 3/5
B. 2004 年化学原料药品进口年增长率高于医疗器械的进口年增长率
C. 2004 年 1~10 月, 医疗器械的进出口贸易差额为 8.29 亿美元
D. 卫生材料出口贸易总额约是化学原料药品进口总额的 32.6%

104. 2004 年 1~10 月, 医疗器械占医药产品贸易总额的比例是:

- A. 53.32% B. 41.5% C. 31.68% D. 52.2%

105. 根据材料, 不能推出的是:

- A. 2005 年 1~9 月中药出口总额与 2004 年同期相比增长额
 B. 2005 年 1~9 月中药出口总额增长率比 2004 年 1~10 月高 2.3 个百分点
 C. 目前亚洲成为我国中药出口的主要地区
 D. 我国对北美洲的中药出口总额比南美洲高
- 根据下列图形回答 106~110 题。



2003-2007年粮食产量及其增长速度

106. 2003 年—2007 年粮食产量增长速度最快的是哪一年?
 A. 2003 年 B. 2004 年 C. 2006 年 D. 2007 年
107. 2007 年全国粮食的总产量是多少万吨?
 A. 48 402 B. 49 800 C. 53 021 D. 50 150
108. 2003 年—2007 年增长幅度超过 3% 的是哪几年?
 A. 2003 年和 2004 年 B. 2003 年与 2005 年
 C. 2004 年与 2005 年 D. 2004 年与 2006 年
109. 2006 年的粮食总产量比 2003 年的粮食总产量多了多少万吨?
 A. 6 730 B. 6 530 C. 6 947 D. 6 070
110. 下列说法不符合上图的是哪一项?
 A. 2007 年粮食总产量的增长速度为 0.7% B. 2003 年粮食总产量的增长速度是 5.8%
 C. 2005 年粮食总产量为 48 402 万吨 D. 2006 年的粮食总产量为 49 800 万吨

根据下表回答第 111—115 题。

2004 年财政科技拨款情况

	财政科技拨款额(亿元)	比上年增长(%)	占财政科技拨款总额的比重(%)
合计	1095.3	16.0	—
其中: 科技三项费	484.0	16.2	44.2
科学事业费	335.9	11.7	—
科研基建费	—	19.6	8.7
其中: 中央	692.4	13.7	63.2
地方	402.9	20.1	36.8

111. 科学事业费与科技三项费相比差多少亿元?
 A. 148.1 B. 752.3 C. 562.3 D. 482.3
112. 科学事业费占财政科技拨款总额的比重:
 A. 28% B. 35% C. 33% D. 31%
113. 科研基建费为多少亿元?
 A. 76.3 B. 64.2 C. 95.29 D. 85.6
114. 上年中的中央拨款约为多少亿元?
 A. 657 B. 609 C. 625 D. 591
115. 财政科技拨款额合计增长多少亿元?
 A. 944 B. 67 C. 151 D. 16

根据文字资料回答第 116—120 题。

2007 年粮食种植面积 10 553 万公顷, 比上年增加 70 万公顷; 棉花种植面积 559 万公顷, 增加 7 万公顷; 油料种植面积 1 094 万公顷, 减少 60 万公顷; 糖料种植面积 167 万公顷, 增加 10 万公顷。

全年粮食产量 50 150 万吨, 比上年增加 350 万吨, 增产 0.7%, 其中, 夏粮产量 11 534 万吨, 增产 1.3%; 早稻产量 3 196 万吨, 增产 0.3%; 秋粮产量 35 420 万吨, 增产 0.6%。

全年棉花产量 760 万吨, 比上年增产 1.3%。油料产量 2 461 万吨, 减产 4.2%。糖料产量 11 110 万吨, 增产 11.4%。


烤烟产量 239 万吨, 减产 3.9%。茶叶产量 114 万吨, 增产 10.9%。
 全年肉类总产量 6 800 万吨, 比上年减少 3.5%。其中, 猪肉减少 9.2%; 牛、羊肉分别增长 6.1%和 5.8%。全年水产品产量 4 737 万吨, 增长 3.3%。全年木材产量 6 974 万立方米, 增长 5.5%。
 全年新增有效灌溉面积 107 万公顷, 新增节水灌溉面积 136 万公顷。


116. 2007 年下列哪种粮食作物种植面积的增加幅度最大?
 A. 棉花 B. 油料 C. 糖料 D. 森林
117. 2006 年全国的粮食总产量是多少万吨?
 A. 50 150 B. 49 800 C. 50 500 D. 50 350
118. 下列哪种作物在 2007 年产量没有增加?
 A. 棉花 B. 糖料 C. 茶叶 D. 烤烟
119. 2006 年全年, 全国的肉类总产量是多少万吨?
 A. 7 047 B. 7 132 C. 6 643 D. 6 745
120. 下列说法错误的是哪一个?
 A. 2007 年全国的油料种植面积是 1 094 万公顷 B. 2007 年全国的夏粮产量为 11 534 万立方米
 C. 2007 年全国的木材产量为 6 800 万立方米 D. 2007 年全国新增节水灌溉面积 136 万公顷

根据下表回答第 121—125 题。
 2006 年河北主要农产品产量 单位: 万吨

指标	产量	比上年增长 (%)
粮食	2702. 8	4. 0
油料	150. 3	-1. 6
棉花	62. 8	8. 8
蔬菜	6646. 8	2. 8
其中: 设施蔬菜	1292. 8	1. 7
鲜果	1453. 1	3. 9
其中: 园林水果	968. 5	5. 5
肉类	606. 4	5. 0
其中: 猪肉羊肉	486. 5	5. 2
禽蛋	465. 1	1. 3
牛奶	407. 6	19. 8
水产品产量	108. 0	9. 1

121. 2006 年河北的蔬菜产量是多少万吨?
 A. 1 292.9 B. 6 646.8 C. 2 702.8 D. 6 982.8
122. 2006 年河北哪种主要农产品的产量相比上一年没有增加?
 A. 粮食 B. 牛奶 C. 肉类 D. 油料
123. 2006 年河北的园林水果在鲜果中所占的比重是多少?
 A. 66.65% B. 68.91% C. 72.17% D. 74.29%
124. 2006 年河北主要农产品的产量超过千万吨的有哪些?
 A. 粮食、棉花 B. 禽蛋、蔬菜 C. 鲜果、粮食 D. 肉类、油料
125. 2005 年河北的蔬菜产量是多少万吨?
 A. 6 425.74 B. 6 512.93 C. 6 465.76 D. 6 762.18

 微信扫描二维码, 关注“公务员考试挺简单”微信公众号, 可获取更多公考经验。分享公考经验, 还可获得现金奖励哈

 手淘扫描淘宝店铺, 可以购买省考、国考历年真题哦



微信公众号



淘宝店铺

