

2007 年广州市公务员录用考试《行政职业能力测验》试卷

来源: W 整理: 杨柳 (微信: gwy288)

第一部分 言语理解与表达

(共 25 题, 参考时限 20 分钟)

本部分包含两种类型的试题:

一、言语表达。共 10 题, 每题 1 分, 共 10 分。请你从用词、语气、语法、辞章等方面对下列各题作出判断, 选出最符合题目要求的一个选项。

【例题】“三国”是我国民间流传最广、老百姓最为()的一段历史。

- A. 喜爱 B. 难忘 C. 熟悉 D. 熟知

【解答】用“熟知”填空使句子的意思表达得最准确, 所以正确答案为 D。

请开始答题:

1. 依次填入下列横线处的关联词语, 最恰当的一组是()。

一个人_____不懂得正确的意见只能是对实际事物的客观的全面的反映, _____坚持要按自己的主观的片面的想法去办事, 那么, _____他有善良的动机, _____还是会犯或大或小的错误。

- A. 因为 所以 虽然 但 B. 由于 因此 即使 也
C. 不但 而且 虽然 但 D. 如果 而 即使 也

2. 将下列词语依次填入各句横线处, 最恰当的一组是()。

①书的封面设计_____于书籍出版发行的整体规划, 同时必须结合书的内容特点和读者对象进行构思。

②应该以实际运用能力来_____我们的学习效果。

③人们在异国他乡为了生存而不得不放弃自己原有的文明时, _____首先放弃也最难放弃的就是母语。

- A. 从属 考察必需 B. 归属 考察必须
C. 从属 考查必须 D. 归属 考查必需

3. 下列各句中, 加点的成语使用不恰当的一句是()。

A. 近十多年来, 我国的城市“夜景观”建设琳琅满目, 发展十分迅速

B. 从被科尼法官讲述的一起案件深深触动, 到把科尼的故事写成《复活》, 托尔斯泰惨淡经营了整整了 12 年之久

C. 他扮演的角色尽管各不相同, 但都有一种共同的东西, 那就是舍我其谁的傲气和不达目的决不罢休的豪气

D. 他有便宜从事的职权, 地方性和局部性的问题, 可以全权处理

4. 下列各句中, 加点的成语使用恰当的一句是()。

A. 美国黑人电影明星福克斯和弗里曼在第七十七届奥斯卡奖角逐中首当其冲, 分别夺得最佳男主角奖和最佳男配角奖

B. 出于自身利益的考虑, 一些地区画地为牢, 实行地方保护主义, 人为地分割和控制煤炭资源

C. 有缺点错误就要及时改正, 否则就会养虎遗患, 铸成大错

D. 随着贝克特等人的先后逝世, 荒诞戏剧作为一个流派也渐渐偃旗息鼓了, 但其创作成就和产生的影响依然存在

5. 下列各句中, 有语病的一句是()。

A. 如何体会企业文化的深刻内涵, 认识用优秀文化提升企业竞争力的重要性, 是摆在每一位中国企业家面前的重要课题

B. 幸福是一个人在一定的社会关系中, 对生活产生的种种愉快、欣慰的感受

C. 生物入侵就是指那些本来不属于某一生态系统, 但通过某种方式被引入到这一生态系统, 然后定居、扩散、暴发危害的物种

D. 成功者在设定想要达到的每一个目标时, 总是要先找出设定这些目标的理由来说服自己

6. 下列各句中, 没有语病的一句是()。

A. 能否贯彻落实科学发展观, 对构建和谐社会、促进经济可持续发展无疑具有重大意义

B. 实施名牌战略, 精心打造世界知名品牌, 是加入 WTO 之后, 面对机遇与挑战并存的形势, 我国各大企业相继制定的发展策略

C. 进入 21 世纪, 随着经济全球化进程的加快和知识经济的深入发展, 竞争越来越集中到国与国之间的知识和人才方面

- D. 在激烈的市场竞争中，我们所缺乏的，一是勇气不足，二是谋略不当
7. 下列各句中，标点符号使用正确的一句是()。
- A. 一场名为“相约文博会·爱心万里行”的大型文艺晚会将在省体育中心举办，一万人将现场进行手语表演，以此倡导“爱心文化”。
- B. 记者由此推想，在五一这个劳动者的神圣节日里，农民工到底能够有多少人享受到法律赋予他们的休息权？
- C. 老人拿到医疗救助金后感动地说：“如今有这么好的政策，有这么好的医疗条件，虽然得了重病，但并不可怕，我呀！还得活一阵子呢。”
- D. 目前大学毕业生就业存在一种奇怪的现象：一方面很多学生毕业后找不到工作，一方面很多民营以及西部边远地区招不到需要的工作人员，出现这种现象的原因之一在于大学毕业生没有树立正确的择业观。
8. 填入下面横线处的语句，与原文衔接最恰当一项是()。
- 情趣是感受得来的，起于自我的，可经历而不可描绘的；意象是观照得来的，起于外物的，有形象可描绘。

- A. 情趣是基层的生活经验，意象则起于对基层经验的反省。情趣如对镜自照，意象则为自我容貌。
- B. 情趣是起于对基层经验的反省，意象则是基层的生活经验。情趣如自我容貌，意象则为对镜自照。
- C. 情趣是基层的生活经验，意象则起于对基层经验的反省。情趣如自我容貌，意象则为对镜自照。
- D. 情趣是起于对基层经验的反省，意象则是基层的生活经验。情趣如对镜自照，意象则为自我容貌。
9. 把下面几个句子组成语意连贯的一段文字，排序正确的一项是()。
- (1)在古代，这个信念有些神秘色彩。
- (2)在一切比较深入的科学研究后面，必定有一种信念驱使我们。
- (3)对于数学研究则还要加上一点，这个世界的合理性，首先在于它可以用数学来描述。
- (4)可是发展到现代，科学经过了多次伟大的综合，如欧几里得的综合，牛顿的综合，爱因斯坦的综合，计算机的出现，哪一次不是或多或少遵循这个信念？
- (5)这个信念就是：世界是合理的，简单的，因而是可以理解的。
- A. (2) (5) (3) (1) (4) B. (1) (4) (2) (3) (5) C. (2) (1) (4) (3) (5) D. (1) (4) (2) (5) (3)
10. 把下面几个句子组成语意连贯的一段文字，排序正确的一项是()。
- (1)强调以史为鉴，不是要延续仇恨，而是为了更好地汲取历史教训，更好地开辟未来。
- (2)中国政府和人民历来坚持向前看，一贯主张以史为鉴，面向未来。
- (3)中日和则两利，斗则俱伤。
- (4)对此，中国政府和人民给予积极评价。
- (5)实现两国人民世代友好，完全符合历史潮流和两国人民愿望，也是亚洲和国际社会的殷切期盼。
- (6)中日邦交正常化以来，日本政府和日本领导人多次在历史问题上表明态度，公开承认侵略并对受害国表示深刻反省和道歉。
- (7)我们衷心希望，日方以实际行动体现有关表态和承诺。
- A. (3) (6) (4) (1) (2) (5) (7) B. (6) (4) (3) (7) (2) (1) (5)
- C. (5) (3) (2) (1) (6) (4) (7) D. (2) (1) (6) (4) (7) (3) (5)

二、阅读理解。共 15 题，每小题 1 分，共 15 分。阅读短文，然后回答问题。

【例题】本世纪 30 年代，人们开始试用瑞士化学家缪勒发明的滴滴涕。正当人们庆幸自己找到置害虫于死地的高效农药时，害虫的天敌也近乎绝迹了。同时，由于滴滴涕的残毒可以长期累积，已经引起遗祸无穷的世界性公害。

上面一段话说明的道理是()。

- A. 如果使用不当，高效农药的应用也会带来世界性公害
- B. 滴滴涕已经被证明是一种对人类有害无益的农药
- C. 滥施高效农药对害虫的天敌也会造成毁灭性灾难
- D. 某些科学成果是把“双刃剑”，对其利用需持谨慎态度

【解答】该题的正确答案是 D。

请开始答题：

11. 一个人真正的“精神饥饿感”应该从中小学时期开始培养。现阶段我国必须在学校教育阶段“拯救阅读”，尤其是儿童阅读。“阅读是消灭无知、消灭贫穷、消灭绝望的武器”。一个民族精神境界的高下取决于阅读的水平；一个人的阅读史，就是他的精神发育史；一个没有阅读的学校永远不可能有真正的教育，而没有阅读的‘学习’只能

称作“训练”。

对这段话主旨的理解, 正确的一项是()。

- A. 是否从儿时就养成阅读的习惯, 将在很大程度上决定一个人的精神境界
- B. 阅读应当成为学校教育的重要内容
- C. “学习”与“训练”的最大区别在于“训练”仅仅是技能的培养
- D. 阅读是培养“精神饥饿感”的最佳方法

12. 商品化使民间艺术发生的变异正在全国各地普遍发生着, 这种貌似“茁壮成长”的民间艺术, 在文化意义上却是本质性的消亡。难道民间艺术只有这样一种出路吗? 世界上还有另一种对待自己传统和文化的方式——那就是保持住民间艺术中那种对生活的虔诚与执着, 把它视为一种传统精神, 一种民族情感与精神的载体。人们知道, 在当今这样做何其困难。所以普查与记录原生态的民间艺术就是迫不及待要做的事了。这不只是为了记录一种文化形态, 一种充满情感的美, 更是为了见证与记录一种历史的精神。

对这段话的理解, 正确的一项是()。

- A. 民间艺术的商品化使民间艺术得以保存, 而不至于因传统社会向现代社会的大变革而消失
- B. 民间艺术的商品使民间艺术得以保存, 普查与记录现在的民间艺术已没有实质意义
- C. 要保持民间艺术作为民族情感的一种载体, 在商业化的现时代已变得非常困难
- D. 在民间艺术商品化的情况下, 民间艺术的传承者应重视民间艺术充满情感的美, 并使得民间艺术成为一种见证与记载历史的载体

阅读下面的文字, 完成 13-16 题。

研究发现, 具有深海潜水本领的动物们, 首先具有一个神奇的肺。即使是被压扁变形收缩至原来体积的 15% 也不会受到任何伤害, 并且可以在短时间内自行恢复, 而人类的肺却无法做到这一点。在分析海豹的肺组织时发现, 因为它表面覆盖着一层由特殊化学物质构成的活性剂, 所以海豹的肺才如此坚韧有力, 在轻松对付高压的同时, 还能自如地舒展恢复。

摄取和储存氧气的能力是决定生物能否长时间深潜的主要标志。与陆地动物的区别是, 潜水动物在屏住呼吸时主要依赖储存在肌肉中的氧气, 而陆地动物却是依靠停留于肺部的氧气。实验数据显示, 企鹅在下潜至 510 米深时, 可将体内全部氧气的 47% 储存在肌肉中, 其余的在血液和肺部循环。宽吻海豚在下潜同样的深度时, 能将体内 39% 的氧气储存在肌肉中。我们人类却不具备潜水途中储存氧气的能力, 平时在我们肌肉中只能储存体内 15% 的氧气。

在海豚、海豹和抹香鲸等深潜高手的肌肉中, 肌红蛋白的含量都格外高。肌红蛋白是一种将血液中的氧吸收并储存起来的蛋白质, 它为肌肉提供以后可使用的能量。因此, 它们的肌肉在不需要进行呼吸的情况下还能坚持长时间的工作。此外, 为了节约能量, 在下潜时它们还具有降低心率的神奇本领。在美国的加利福尼亚大学, 两组科研人员得出的结论颇为接近。7 头小海象在陆地上的平均心跳为每分钟 107 次, 当它们在海水中下潜时, 心跳下降到每分钟 39 次, 下降了 64%。在它们潜水的初期, 心率一般急剧降低, 随着它们下潜的深度不断加大, 心率随之缓慢下降, 极限记录是每分钟 3 次。

人在深潜过程中, 容易发生减压病。造成减压病的原因是, 在下潜时越来越大的压力会将肺中的氮气压迫进他的血液或别的组织液中。当他快速返回水面时, 氮就会骤然间从溶液中冒出来。这对于所有正常的生理活动都是毁灭性的打击, 包括神经功能和血液循环。所以, 潜水者在从水下上升时, 除必须遵守潜水表或计算器数据要求外, 每上升 5 米作几秒钟的安全停留, 便可以避免减压病的发生。

深潜动物们为什么不得减压病呢? 哈佛大学的动物学家吉米·卡瑞恩, 不久前揭示了这一谜底。卡瑞恩发现生活在南极洲附近的海豹, 它们可以下潜到七八百米的深度。但不论它们下潜多么深, 体内的氮的浓度基本不变。原因是它们的肺被强大的水压迅速地压扁了, 一开始就阻止了大量的氮气进入血液。所以深潜动物们免去了减压病的烦恼。

13. 下列对深海潜水动物肺的特性和功能的理解, 不正确的是()。

- A. 深海潜水动物的肺覆盖着一层活性剂, 因而坚韧有力, 具有抗击高压的神奇功效
- B. 深海潜水动物的肺覆盖着一层活性剂, 因而舒展自如, 并具有降低心率的神奇功效
- C. 与人类不同, 深海潜水动物的肺在水压下变形后可迅速恢复
- D. 深海潜水动物的肺被压扁变形收缩至原来体积的 15% 也不会受损伤

14. 下列关于深海潜水动物体内肌红蛋白的表述, 不正确的是()。

- A. 深海潜水动物在从水下上升时, 肌红蛋白为肌肉提供能量以避免减压病
- B. 深海潜水动物体内的肌红蛋白是使其肌肉得以储存氧气的决定性物质
- C. 深海潜水动物在不能呼吸时, 肌红蛋白能为其肌肉提供能量, 使之得以持续工作

- D. 深海潜水动物体内肌红蛋白含量, 明显高于一般陆地动物
15. 根据原文提供的信息, 下列表达不符合原文意思的是()。
- A. 深海潜水动物不会得减压病是因为它们的肺在强大水压下能迅速收缩, 从而阻止大量氮气进入血液
- B. 陆生动物在强大压力下, 肺中的氧气会因此进入它的血液或其他组织液, 进而破坏它的体内组织
- C. 人类肌肉能储存的氧气量过小是其不能长时间深海潜水的重要原因
- D. 溶于体液的氮气如果瞬间大量释放, 将破坏所有组织的正常活动, 这是造成减压病的根本原因
16. 根据原文提供的信息, 下列推断正确的是()。
- A. 深海潜水动物从水下上升时不能过快, 否则将危及生命
- B. 氧气供应与生理结构的保护机制是决定深潜能力强弱的根本因素
- C. 能否用肺进行深海呼吸是人类与深海潜水动物在肺功能上的根本差异
- D. 人与深海潜水动物一样, 在下潜的过程中, 肺部的氮气浓度基本不会发生变化

下面这篇文章的段落顺序已被打乱, 请先阅读这些段落, 然后按要求回答 17-19 题。

①“原谅他的罪恶, 也原谅他的美德。”哲学家的通达与宽容, 适于评价一切历史上的伟人。而当后人记起某一位伟人的时候, 总是因为他的美德或罪恶依然活在现实中。不过, 仰视着伟人的常人, 多半是宽容的。

②但后世对汉武帝的评价并不一致。蓬莱银阙、露溥金掌的求仙生涯不必说, 就是开西域、击匈奴, 也有好大喜功、穷兵黩武之讥。只是, 仍然要说他是伟大的。他的伟大不仅在于他有能力成就他的功业, 也同样在于他有能力破坏他的功业。而对于他的破坏与建立、失败与成功, 别人都是没有力量阻止的。因为他的伟大永远与权力联系在一起。晚年他发布了《轮台罪己之诏》, 纠正了方针大政上的失误。但连这种自我批评, 也只能用权力形式表现出来。

③不过, 上溯两千年, 这里何尝寂寞呢。阳关以南是玉门, 那时, 车辚辚, 马萧萧, 使者、商人, 冠盖相望, 不绝于道。守卫在烽燧亭障的官兵, 在一片肉香氤氲中大快朵颐——当日一斤肉不过七个钱。自然, 金戈铁马, 汉军挥师西向, 更是屡屡打破旷野的寂寞。那正是汉武帝的辉煌业绩之一。

④伟大常常是权力造就的。

⑤天黑很久, 渐渐地, 才有星星露出来, 从坐着的方向看去, 北斗星的勺正对着墩墩山的烽燧。只是, 怎么不见“秦月依依”呢? 那想必不是秦淮河上与灯火交融着的缠绵的月, 而是独与大漠、云天相往来的冷寂的月。

⑥汉武帝一生是做了几件大事的。在他当政的半个世纪中, 中央的集权的“大一统”巩固了; 朝纲制度模式化了; 儒术正式纳入政治轨道了; 疆域的开辟, 也达于空前。司马相如说, 世必有非常之人, 然后有非常之事; 有非常之事, 然后有非常之功。便是有了雄才大略的汉武帝, 才有了专制制度的巩固, 有了这号令天下、统帅一切的权利, 才可以举全国之力, 不容置疑地建他所要建的非常之功——这的确是历史上的一个非常年代。

⑦伟人的时代, 常常是伟人一个人的时代。

⑧暮色四合, 视野中只有墩山的烽燧兀立在高阜上。守候着一片静寂, 眼看着天边的最后一抹绛紫, 渐渐转做深蓝, 一点一点地, 黑定了。

17. 这篇文章正确的段落排序应该是()。
- A. ⑤③④⑥⑦①②⑧ B. ⑧③⑥②④⑦①⑤
- C. ④⑥⑦②①⑧③⑤ D. ⑦④⑥②⑧③⑤①
18. 对“世必有非常之人, 然后有非常之事; 有非常之事, 然后有非常之功”这句话的理解, 不正确的一项是()。
- A. 雄才大略的汉武帝集号令天下, 统帅一切权力于一身, 是他那个时候的非常之人
- B. 从统治疆域到政治体制, 到影响中国两千多年的正统思想的确立, 汉武帝实现了他的非常之功
- C. 汉武帝晚年发布《轮台罪己之诏》不足以成为那个时代的非常之事
- D. 非常之功只能因非常之事而建立, 非常之事也只有非常之人才能完成
19. 下列对本文的理解, 不正确的是()。
- A. 这篇怀古散文浸透着悲凉的气息
- B. 作者认为, 汉武帝以权力铸就他的辉煌业绩使那个时代成为了他一个人的时代
- C. 只有以宽容的心才能对历史上的伟人作出公正客观的评价
- D. 汉武帝对匈奴及西域各族的持续打击彻底摧毁了汉代边疆的繁华景象

阅读下面的文字, 完成 20、21 题。

中国在商品经济发展中的落后, 重要原因之一是集权官僚制和小农经济对农民在身份上的限制。农民的社会地位要比农奴高, 但仍被束缚于专制之下, 尚未达到“市民社会”中市民的程度。这使中国不可能充分地调动全体民众的每个个体自由地从事基本权利平等的商品经济。新中国的成立使农民从专制下获得了解放, 但这种解放还不够,

特别是集体制和户籍制又将农民困于其特定的身份, 限制了其个体自由和商品经济的发展, 从而也就与商品经济的发展产生了矛盾。

商品经济的发展要求每个参与其中的人在基本权利上都是平等的, 而现在的农民却因其身份, 不能以平等的基本权利参与商品经济, 时下的一些称谓, 就充分体现了这一点, 如“农民企业家”, “农民工”, 虽然职业已经改变, 但其本人身份未变, 从而在经营、贸易和出卖劳动力使用权等各方面, 都会因“农民”的身份而受到歧视和损害。

广西宜州市合寨村农民自发组建的“村民委员会”, 以“村民”自居, 表现出中国农民对权利平等的要求。国家以法律认可了“村民”这一提法, 承认了农民在本村公共权利和公共事务上的平等权利, 这是一个进步。但“村民”的权利还是限于本村, 并未扩展至乡镇至县至市至省至全国, 还没有真正确立“公民”的地位和权利。这样, 农民在商品经济的发展中就被迫处于劣势地位, 不仅受歧视、受损害, 更不能充分地发挥其聪明才智, 不能平等地利用社会条件和资源提高自己和后代的素质技能。而这又势必制约中国商品经济的总体发展, 使已经建立的初级社会主义制度不能体现其世界商品经济发展中的优越性, 从而也不能为社会主义制度的改革和发展创造必要条件。

20. 根据上文, 以下对“市民”和“农民”两种身份的理解, 不正确的是()。

- A. 市民能够以平等的基本权利参与商品经济
- B. 集体制和户籍制的限制会使农民因身份而受到歧视和损害
- C. 因身份而使农民在商品经济竞争中被迫处于劣势或许会影响中国商品经济的总体发展
- D. “村民”概念为法律所认可, 为农民争取到了更多的公民权利

21. 下列有关这篇短文主旨的说法, 正确的是()。

- A. 在我国发展商品经济的大背景下, 受限制的农民身份与商品经济的发展存在矛盾
- B. 集权官僚制和小农经济导致了商品经济的落后
- C. 社会主义制度的改革和发展要求赋予农民能够参与商品经济的基本权利
- D. 农民身份必将向市民身份过渡, “村民”概念就是朝这一方向过渡的一种表现

阅读下面的文字, 完成 22-25 题。

太虚絪縕之气聚而生人物, 人物死而散为气, 其清者重返于太虚。聚散、生死是自然变化的必有之几。气聚为人而可见, 这是“明”; 人物死散而不可见, 这是“幽”。从生到死, 是从“明”转变为“幽”, 而不是从“有”消灭为“无”。

然而, 人的善恶对“生”有何意义, 对“死”有何意义?

存神尽性, 全归其所生之本体。这就是君子对死的意义的追求。

气有聚散, 人有死生, 这是自然变化的法则, 也是永恒的势运, 决无停止之时。生死聚散有自己的规则, 人对于气化聚散生死的过程是无所作为的, 人所能够做的, 就是顺其自然, 而无所恐惧留恋, 非但如此, 还要尽力于心性的修养。

至诚的修养才能使自己与太虚絪縕保持一致, 存神的修养才能使自己与太虚神化的良能一致。人并不是在死后便可自然地“全归”其所生的本体, “全归”实是“存神”修养的结果。

须要知道, 人生在世时的善或恶, 在人死之后, 依其类而归散为气。善气和恶气各依其类而散, 善气散归入善气类中, 恶气散归入恶气类中, 互不混淆。恶气以客感杂滞遗留天地两间, 人就无法“全而归之”于太虚本体了。

人如果不能知生知死, 不能对生命的根源与死亡的归宿有完整的了解, 那就不能了解善恶的意义, 不能理解为善去恶是人性固有的当然, 进而会认为善恶的分别没有意义。原始反终, “善”是本性所固有的, “为善”是我们天生的责任。生命是真实的, 死亡并不可怕。

人, 要以善生善死来承担起他保持和净化太虚絪縕及天地两间的责任!

——本文是王船山对生死与善恶的关系的基本看法。改编自陈来《王船山(正蒙注)的终极关怀》

22. 根据上文, 以下有关“太虚絪縕之气”的说法, 不正确的是()。

- A. 太虚絪縕之气始终是圣洁的
- B. 一世为善去恶, 聚而为生的絪縕之气才能全而重返太虚
- C. 从“明”转“幽”, 就是太虚絪縕之气从“有”到“无”的一次变化
- D. 人死气化之后, 其气可因人生的善恶而分作不同的部分

23. 由文义可知, ()的做法不符合“存神尽性”的要求。

- A. 悬壶济世, 治病救人
- B. 见贤思齐, 过而能改
- C. 出悌人孝, 敬业乐群
- D. 大智若愚, 安常处顺

24. 依照文意, 下列有关生死与善恶关系的说法, 正确的是()。

- A. 对生时的善便是对死后的善, 生时的善对于死后是有影响、有作用的

- B. 人对于生死的过程是无法控制的, 善恶行为也会随一死而消散无余
 C. 王船山对生死与善恶关系的论述从其出发点上看, 其终极关怀是主观的、唯心的
 D. 以上说法均不正确
25. 依照文意, 下列说法错误的是()。
- A. 王船山这一思想的要旨是要立生死观和善恶观来解决人“安身立命”的问题
 B. 王船山曾自题墓铭“幸全归于兹丘”。由本文可以推断, 他认为自己达到了“存神尽性”要求
 C. “存神”是君子的作为, “所生之本体”是人的身体和生命的来源
 D. 人在死后便可自然地全归其所生之本体

第一部分结束, 请继续做第二部分!

第二部分 数量关系

(共 15 题, 参考时限 15 分钟)

本部分包含四种类型的试题:

一、数字推理。共 5 题, 每题 1 分, 共 5 分。下面的数列都缺少其中一项, 请仔细观察数列的排列规律, 然后从四个供选择的选项中选出你认为最合理的一项来填补空缺项。

【例题】1, 3, 5, 7, 9, ()。

- A. 7 B. 8 C. 11 D. 13

【解答】正确答案是 11, 原数列是一个等差数列, 故应选 C。

请开始答题:

26. 1.03, 3.04, 3.05, 9.06, 5.07, 27.08, ()。

- A. 7.09 B. 9.09 C. 34.00 D. 44.01

27. 3, 5, 8, 13, 20, ()。

- A. 31 B. 33 C. 37 D. 44

28. 37, 40, 45, 53, 66, 87, ()。

- A. 117 B. 121 C. 128 D. 133

29. 1, 5, 14, 32, ()。

- A. $93/2$ B. 59 C. 67 D. 71

30. 12, 12, 18, 36, 90, ()。

- A. 186 B. 252 C. 270 D. 289

二、数学运算。共 10 题, 每题 1 分, 共 10 分。请根据以下题干中提供的信息计算出正确答案。

【例题】有 1 分、2 分、5 分三种同样个数硬币共 10 元, 那么三种硬币共有()个。

- A. 340 B. 355 C. 360 D. 375

【解答】正确答案是 D。

请开始答题:

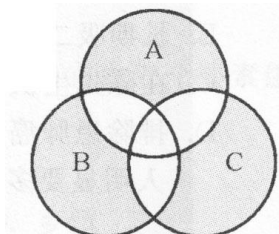
31. 小陈骑车自 A 地往 B 地, 先上坡后下坡, 到达 B 地后立即返回 A 地, 共用 19 分钟。已知小陈的上坡速度为 350 米 / 分钟, 下坡速度为 600 米 / 分钟, 则 A 地距离 B 地()米。

- A. 3600 B. 4200 C. 4600 D. 5400

32. 某协会每三年竞选一次协会主席, 且协会主席不能连任, 则在正常情况下, 11 年间该协会最多会有()个协会主席。

- A. 3 B. 4 C. 5 D. 11

33. 如图所示, 每个圈纸片的面积都是 36, 圈纸片 A 与 B、B 与 C、C 与 A 的重叠部分面积分别为 7、6、9, 三个圈纸片覆盖的总面积为 88, 则图中阴影部分的面积为()。



- A. 66 B. 68 C. 70 D. 72

34. 某工程甲单独做 50 天可以完成, 乙单独做 75 天可以完成。现在两人合作, 但途中乙因事离开了几天, 最后一共花了 40 天把这项工程做完, 则乙中途离开了()天。
 A. 15 B. 16 C. 22 D. 25
35. 商家的利润计算公式为: 利润=售价-进价-售价×税率。若税率由 25.5% 调为 30%, 且商品的进价和利润都未改变, 则商品的售价约为原来的()倍。
 A. 1.012 B. 1.064 C. 1.095 D. 1.18
36. 从时钟指向 5 点整开始, 到时针、分针正好第一次成直角, 需要经历()分钟。
 A. 10 B. $10\frac{10}{11}$ C. 11 D. $11\frac{1}{11}$
37. 甲乙双方第一次用 30 元 / 千克的价格购买了一批材料, 到第二次再购买时, 价格涨到了 40 元 / 千克。已知甲每次购买 10000 千克, 乙每次用 10000 元购买。则甲乙双方这两次交易的平均价格差约为()元 / 千克。
 A. 0.5 B. 0.7 C. 1.5 D. 1.8
38. 甲与乙准备进行一个游戏: 向空中扔三枚硬币, 如果它们落地后全是正面向上或全是反面向上, 乙就给甲钱; 但若出现两正面一反面或两反面一正面的情况, 则由甲给乙钱。乙要求甲每次给 10 元, 那么, 从长远来看, 甲应该要求乙每次至少给()元才可考虑参加这个游戏。
 A. 10 B. 15 C. 20 D. 30
39. 甲、乙两班的学生人数相等, 各有一些学生参加选修课。甲班参加选修课的人数恰好是乙班没有参加的人数的 $\frac{1}{3}$, 乙班参加选修课的人数恰好是甲班没有参加的人数的 $\frac{1}{4}$ 。那么甲班没有参加的人数是乙班没有参加的人数的()。
 A. $\frac{3}{8}$ B. $\frac{2}{3}$ C. $\frac{3}{4}$ D. $\frac{8}{9}$
40. 有 68 个数排成一排, 除头尾两个数外, 每个数的 3 倍恰好等于它两边两个数之和。经分析发现, 这些数除以 6 所得的余数以 12 个数为周期重复出现。已知前两个数是 0 和 1, 则该数列最后一个数除以 6 的余数是()。
 A. 2 B. 3 C. 4 D. 5

第二部分结束, 请继续做第三部分!

第三部分 判断推理

(共 30 题, 参考时限 25 分钟)

本部分包含四种类型的试题:

一、逻辑判断。共 7 题, 每题 1 分, 共 7 分。下列每道题都给出了一段陈述, 这段陈述被假设是正确的, 不容置疑的。请你根据这段陈述, 从被选项中选择一答案。注意, 正确的答案应与所给的陈述相符合, 不需要任何附加说明即可从陈述中直接推出。

【例题】某厂有五种产品: 甲、乙、丙、丁、戊。他们的年销售额之间的关系为: 丙没有丁高, 甲没有乙高, 戊没有丁高, 而乙不如丙高。

哪种产品的年销售额最高? ()

- A. 甲 B. 乙 C. 丙 D. 丁

【解答】该题正确的答案是 D。

请开始答题:

41. 新一年的音乐颁奖典礼打破了过去只有一首最佳金曲的评选方式, 而按照摇滚、爵士等几种音乐风格分别评选最佳金曲。这样可以使音乐工作者的工作能得到更为公平的对待, 也可以使听众和音乐爱好者对音乐的优劣有更多的发言权。

根据以上信息, 这种评选方式的改变所隐含的假设是()。

- A. 划分音乐风格, 能促进音乐界百花齐放, 百家争鸣
 B. 每一首歌都可以按照该划分方式进行分类, 没有遗漏
 C. 听众和音乐爱好者都有各自喜欢的歌曲风格
 D. 评选方式的改变为音乐工作者提供了更多展现自己、实现自我价值的机会

42. 丙中毒而死。为此, 甲和乙受到了法官的审讯。

甲: 如果这是谋杀, 那肯定是乙干的。

乙: 如果这不是自杀, 那就是谋杀。

法官作了如下的假定:

(1) 如果甲和乙都没有撒谎, 那么这就是一次意外事故。

(2) 如果甲和乙两人中有一人撒谎, 那么这就不是在一次意外事故。

最后的事实表明, 法官的假定是正确的。

则丙()。

A. 是意外事故而死 B. 是自杀

C. 是被谋杀 D. 有可能被谋杀, 也有可能自杀

43. 在某件案件的审理中, 被告方律师说“控方律师曾称我的当事人甲在案发现场出现过。因为证人乙看见甲在现场出现过。但现在已证明证人乙是不可能看见甲在现场出现的, 所以, 我的当事人肯定没有在现场出现过。”

以下推理与这位律师的推理所采取的方式相类似的是()。

A. 媒体曾报导了这样一则新闻: 一位老师为了查出班中的小偷, 采用了全班公投的方式。当这位被选出来的“小偷”进行申辩时, 这位老师反驳道: “如果你不是的话, 为什么这么多同学认为你是小偷?”

B. 有科学家认为从量子理论层面看宇宙, 存在着与我们当前生活着的这个世界相平行的时空, 至少现在从数学计算的方式来推测, 这是完全符合的。

C. 我们经过讨论推测明年的房价依然会涨, 因为目前没有一个信息能预测房价在明年会下降。

D. “你肯定就是那个当年帮助我的人!” “你认错人了。” “那你能证明你不是当年帮助我的那个人吗?” “我不知道。” “既然你不能证明你不是, 那你肯定就是当年帮助我的人啦!”

44. 人生最遗憾的事莫过于与所爱擦肩而过。就如当你喜欢橱窗里的一件漂亮的衣服, 却嫌它太贵而离去, 当你做梦都梦到这件衣服, 匆匆再去那间商店时, 却被告知已经卖完了, 你会多么的遗憾啊。如同于爱情与婚姻, 当我们看到自己一见钟情的人, 就应该主动与之恋爱和结婚。

以下哪项, 如果为真, 则最能反驳以上论证? ()

A. 与所爱的人擦肩而过比与一件所爱的衣服擦肩而过所引起的遗憾要大得多

B. 有研究表明, 一见钟情而结婚的夫妻的幸福感与非一见钟情而结婚的夫妻的幸福感并无明显差异

C. 事实证明, 只有长久的了解和认识, 才能清楚地知道对方是否为你所爱

D. 伴侣不是衣服, 不能进行类比

45. 有人认为, 放松对私人轿车的管制, 可以推动中国汽车工业的发展, 但同时会使原本紧张的交通状况更加恶化, 从而影响经济和社会生活秩序。因此, 中国的私人轿车在近五年内不应该有大的发展。

以下哪项如果为真, 则最能支持上述观点? ()

A. 交通事业能达到现在的规模, 是与早期汽车工业的生产相辅相成而得来的

B. 引起交通状况恶化的主要原因是人们没有很好地遵守交通规则

C. 在未来的五年内, 我国的交通硬件措施不可能有根本改善

D. 现在油价上涨得厉害, 比起使用成本较高的私人轿车, 政府更提倡人们更多地使用廉价的公共交通工具

46. 私人企业通过提供高薪, 以吸引有技能的专业技术人员。大多数受雇于私营企业的专业技术人员赚的钱比技能相仿的在政府部门工作的专业技术人员多出 50%。所以, 除非政府雇用的专业技术人员更多地被对公众的职责感而不是被他们的个人利益所驱使, 否则政府的专业技术人员就有可能流失到私营企业。

以下哪项是上述论述所必需的前提假设? ()

A. 政府雇用的专业技术人员比起私人企业的专业技术人员更有对公众的职责感

B. 比起私人企业, 政府并没有给专业技术人员提供除薪酬以外的更好的其他条件如更好的工作环境或福利

C. 专业技术人员会在个人利益和公众职责两方面作出衡量

D. 在私人企业里工作的专业技术人员比起在政府工作的专业技术人员工作时间要长得多

47. 陈先生认为吸烟与健康之间并无太大关系, 原因是在其认识的人当中, 好几个患有肺癌的人都是从来不吸烟的人。

以下各项如果为真, 则哪项不能反驳陈先生上述观点? ()

A. 癌症的起因是许多医学工作者研究的课题, 目前还没有一个确定的结论

B. 长期吸二手烟的人比起吸烟者本身更容易患上肺癌

C. 在陈先生认识的人当中吸烟的人都是年轻小伙子, 不吸烟的都是体弱病残的老人

D. 排除患肺癌的人, 在陈先生认识的人当中, 吸烟者比从来不吸烟者患呼吸道类疾病的人明显要多

二、定义判断。共7题。每题1分，共7分。下列每道题给出一个概念的定义，这个定义被假设是正确的，不容置疑的。请你根据这个定义，从被选项中选择一个最为符合或最不符合该定义的典型事物或行为。

【例题】健康是指个体智力正常，行为合乎常理，能够适应正常工作、社会交往或者学习，能够抵御一般疾病。根据健康的定义，选项（ ）中的人是健康的。

- A. 大学教授老李，虽然五十多岁，今年春天也曾患流感，但工作起来仍然精力充沛
- B. 张婶十九岁的儿子肖聪，读书十一年还是小学二年级水平，但是从小到大没生过什么大病，体力活干得很好
- C. 小胡硕士毕业后，工作表现一直很优秀。自一次事故后，当工作压力比较大时，就会精神失常
- D. 小刘身体很好，工作非常努力，孝敬父母，但是很多同事说他古怪，不愿与其交往

【解答】此题的正确答案为A。

请开始答题：

48. 方位定向是指动物或人对物体的空间关系、位置和对机体自身所在空间位置的知觉，它是各种感觉协调活动的结果。

根据此定义，以下现象或行为不属于方位定向的是（ ）。

- A. 狗通过嗅觉发现食物
- B. 我们能看到太阳是圆的，发亮的
- C. 玩捉迷藏的小明被蒙住了眼睛，只能通过声音去判断朋友们的位置
- D. 蜜蜂飞出数里之外采蜜，能按原来的方向返回巢中

49. 授权是指主管或领导者按层次领导原则委授副职或下属以一定责任与部分理事权，使副职或下属在其领导、监督下有相应的自主权和行动指挥权，被授权者对授权者负有报告及完成之责。

根据此定义，下列属于授权的是（ ）。

- A. 根据单位制度，下属有权拒绝上司的不合理要求
- B. 部门成员每周向部门领导人汇报工作完成情况
- C. 领导委托他的秘书去买份报纸，秘书因临时有事要处理，又委托另外一个同事去买
- D. 单位负责人由于公务出差，单位内的日常事务和业务处理都交由其助理负责

50. 企业文化是指一个企业中所有员工共有的一套观念、信念、价值和行为准则，以及由此导致的行为模式。

根据此定义，以下理解或说法正确的是（ ）。

- A. 企业文化是由各种因素引起的一种共有的行为模式
- B. 一个星期工作五天，每天八个小时的工作时间安排也是企业文化的一种体现
- C. “企业领导具有雷厉风行的作风，决策果断”是企业文化的集中体现
- D. 企业文化是个多因素构成的系统，对企业有着重要的影响

51. 社区是指人们共同生活的一定区域，也称为占有一定地域的人口集中体，它由五个要素组成，分别是人口、地域、制度、政策和机构。

根据以上定义，下列选项不属于社区的是（ ）。

- A. 企业
- B. 学校
- C. 公园
- D. 乡镇

52. 替代品是指功能或用途基本相同的不同种类的商品，在满足消费者需求时可相互替代，它们之间互称为替代品。

根据此定义，以下选项中划横线的内容互为替代品的是（ ）。

- A. 银行利率升高，小张决定不再进行股票投资，而把资金转入定期储蓄
- B. 最近猪肉不断涨价，有一部分主妇买牛肉、鸡肉等其他肉类作为替代
- C. 小陈想换个新发型，但身上没有足够的钱去发型屋，后来就只买了个小头饰打扮自己
- D. 何先生最近买手机，要了个 nokia N73 的红色版，但是后来觉得还是黑色版好看些，就回去商家那边换了

53. 偷换概念是指在同一思维中故意用一种概念代替另一种不同的概念，从而制造概念混乱的行为。这是一种逻辑错误。

根据此定义，以下选项中有偷换概念行为的是（ ）。

- A. 甲：“你们通宵达旦、吵吵嚷嚷地打麻将，影响别人休息。”乙：“影响别人，又不影响你。”
- B. 某家饭店，菜名玄得离谱：“小蜜傍大款”、“玉女脱衣”、“勾勾搭搭”，其实一个是枣嵌在糯米团里，一个是削去皮的萝卜，一个是黄豆芽炒绿豆芽。
- C. 管理学也是一门艺术，因为它也能创造出有序的美。
- D. “工作的时候不准吸烟！”“对啊，所以我在吸烟的时候不工作。”

54. 统计工作是指人们运用科学方法对调查研究的对象进行数据搜集、整理、分析的全部工作, 最终形成一系列的统计资料。

下列属于统计工作的是()。

- A. 记者为了解人们对某一问题的看法, 连续走访了几位路人, 发现大家的看法都较为一致
- B. 某公司为了解新产品的市场需求, 特意在各大商场进行问卷调查, 并将收集得来的信息进行整理分析
- C. 村委会发现最近村民对某化工厂的排污问题颇有意见, 决定对该工厂的排污问题进行研究
- D. 市政府要举办一次大型的商品展览会, 在网上开展了展览会会徽征集活动

三、类比推理。共 8 题, 每题 1 分, 共 8 分。以下题目会先给出一组有着内在联系的词, 请你找出这组词的内部逻辑, 并在选项中找到逻辑与之最为贴近的一组。

【例题】义工: 职员

- A. 球迷: 球员
- B. 学生: 老师
- C. 志愿者: 雇员
- D. 新手: 生手

【解答】此题正确答案为 C。

请开始答题:

55. 陶瓷: 器皿

- A. 钛丝纤维: 羽毛球拍
- B. 塑料: 杯子
- C. 耀斑: 太阳
- D. 黄金: 饰物

56. 扫描仪: 显示器

- A. 电话: 来电显示屏
- B. 眼睛: 嘴巴
- C. 能量: 热量
- D. 投资: 消费

57. 安全: 舒心

- A. 危险: 保护
- B. 攻击: 防御
- C. 和谐: 活力
- D. 蓝天: 白云

58. 股票: 投资

- A. 记忆: 印象
- B. 短信: 通信
- C. 模仿: 复制
- D. 页: 书本

59. 蒸汽: 动力: 火车

- A. 黑洞: 吸收: 宇宙
- B. 光纤: 介质: 通讯
- C. 信息: 知识: 力量
- D. 美丽: 纤细: 丰满

60. 教育: 教师: 教师法

- A. 生产: 工人: 管理规定
- B. 官司: 律师: 法律
- C. 文件: 企业: 方案
- D. 成长: 学生: 课程

61. () 对于服务相当于婚姻对于 ()

- A. 咨询——关系
- B. 微笑——爱情
- C. 民政局——教堂
- D. 医疗——生育

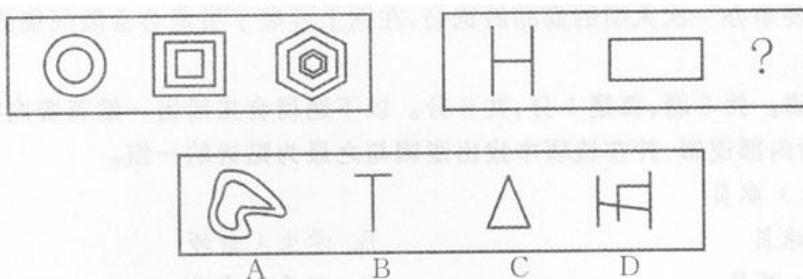
62. 领导对于 () 相当于下属 对于 ()

- A. 决策——执行
- B. 党——政府
- C. 妻子——丈夫
- D. 人民——公务员


四、图形推理。共 8 题, 每题 1 分, 共 8 分。请依据每道题目目前的说明选择最合适的选项。

请开始答题:

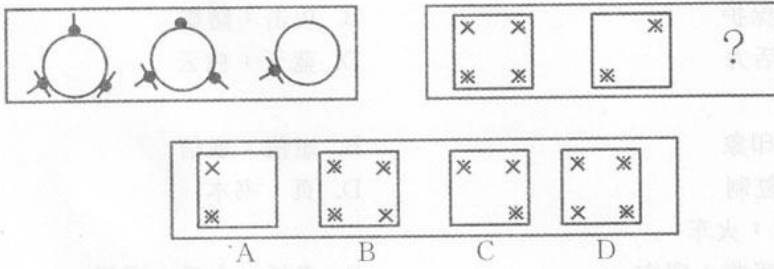
63. 请从所给的四个选项中, 选择最合适的一个填入问号处, 使右侧图形的变化规律与左侧图形变化规律相似。()



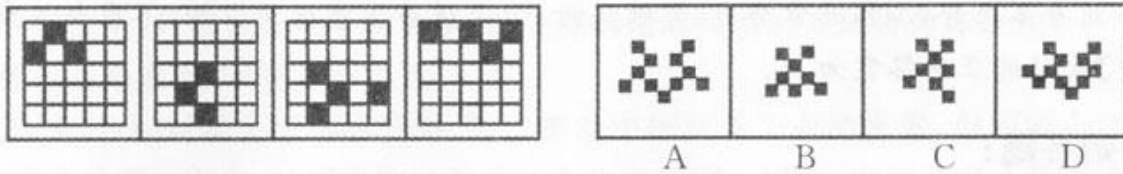
64. 请从所给的四个选项中, 选择最合适的一个填入问号处, 使右侧图形的变化规律与左侧图形变化规律相似。()



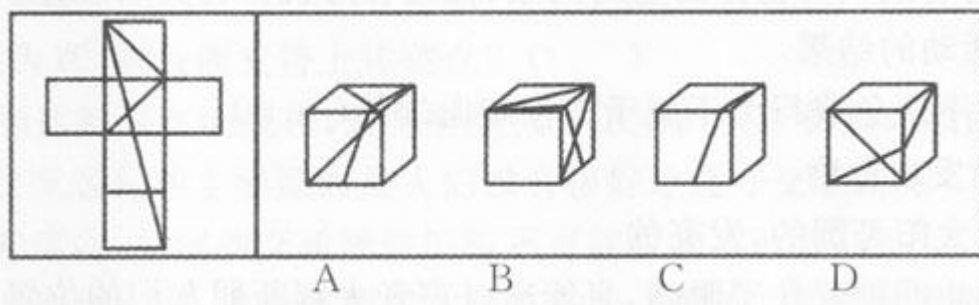
65. 请从所给的四个选项中, 选择最合适的一个填入问号处, 使右侧图形的变化规律与左侧图形变化规律相似。()



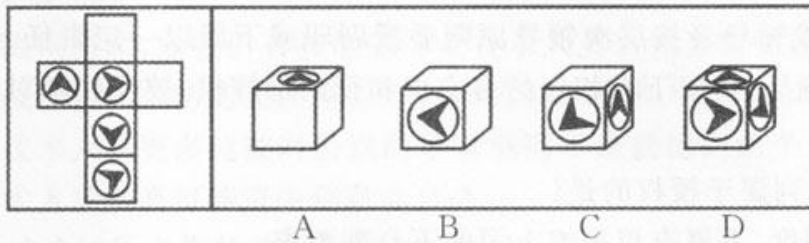
66. 用一个带有 5×5 方格的观察器去观察某个物体, 并照下相片。根据以下四张照片可以推知这个物体是()。




67. 下面选项中的四个“盒子”, 能够由左边给定的图形做成的是()。



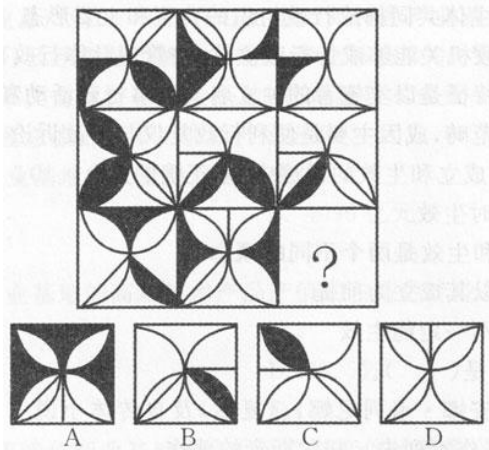
68. 下面选项中的四个“盒子”, 能够由左边给定的图形做成的是()。



69. 请从所给的四个选项中, 选择最合适的一个填入问号处, 使之呈现一定的规律性。()



70. 请从所给的四个选项中, 选择最合适的一个填入问号处, 使之呈现一定的规律性。()



第三部分结束，请继续做第四部分！

第四部分 常识判断

（共 15 题，参考时限 15 分钟）

请你根据常识作出判断。共 15 题，每题 1 分，共 15 分。注意：似乎合理的答案可能有多种，你应选择最为合理的一个。

【例题】随着世界经济发展的需要，一些国际经济组织应运而生，而今天最广泛也最具有权威性的国际经济组织是（ ）。

- A. 国际货币基金组织 B. 世界银行 C. 世界贸易组织 D. 欧洲经济共同体

【解答】ABD 都不及世界贸易组织的影响广泛和具有权威，因此正确答案选 C。

请开始答题：

71. 生活中常能听到大人对小孩说：“不要和陌生人交往。”如果将这种观点变成人生的信念，上面这样的观点实质上否认了（ ）。

- A. 人生活在多重社会关系之中 B. 人与自然界的有机联系
C. 人是一种自然存在物 D. 人的活动具有意识性

72. 科学发展观的根本方法是（ ）。

- A. 以人为本 B. 全面协调可持续 C. 统筹兼顾 D. 发展

73. 下列对十七大精神的表述，错误的是（ ）。

A. 增强发展协调性、扩大社会主义民主、加强文化建设、加快发展社会事业、建设生态文明是实现全面建设小康社会奋斗目标的新要求

B. 实现未来经济发展目标，关键要在加快转变经济发展方式、完善社会主义市场经济体制方面取得重大进展

C. 完善社会管理和维护社会安定团结，要妥善处理人民内部矛盾，健全党和政府主导的维护群众权益机制，探索信访制度之外的新型民意上达渠道

D. 发展社会主义民主政治要健全基层党组织领导的充满活力的基层群众自治机制，扩大基层群众自治范围，完善民主管理制度

74. 下列说法错误的是（ ）。

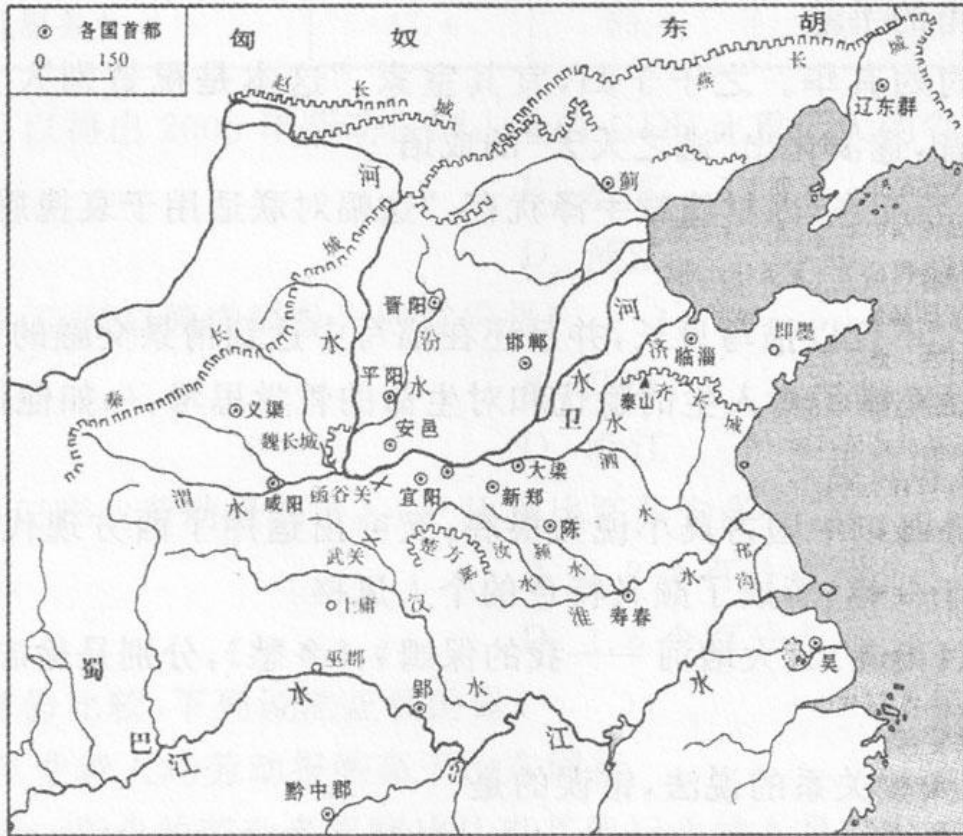
A. 参议院选举惨败、内阁丑闻等原因最终导致了安倍晋三的下台

B. 探测地月空间环境是“嫦娥一号”担负的科学目标之一

C. 利比亚近期的总统大选因选举结果备受争议，引发了全国示威骚乱，已造成数百人死亡

D. 国际货币基金组织认为，美国次级住房抵押贷款市场危机引发的全球金融动荡将减缓全球经济增长

75. 在下图中所反映的历史时期内，最有可能发生的历史事件是（ ）。



- A. 孔子周游列国，删定六经
- B. 秦将白起大破赵军于长平，坑杀赵军四十余万
- C. 秦王苻坚南侵东晋，虽可投鞭断流，然出师不利，终至八公山上草木皆兵
- D. 郭子仪、李光弼借兵回纥，大破史朝义，平定安史之乱

76. 下列说法错误的是（ ）。

- A. 台湾“二·二八”事件对台湾的政治、经济、文化及社会心理等诸多方面均产生了深远的影响
- B. 新中国成立后，人的名字常常能反映其出生年代的时代特征，如取名为李大庆的人很可能出生在文化大革命时期
- C. 改革开放初期，中共中央下发文件，肯定了包产到户的社会主义性质。数年后，农村家庭联产承包责任制在全国范围内获得了全面推广
- D. 1993年，在海协会的倡议和积极推动下，经过海峡两岸的共同努力，汪道涵和辜振甫在新加坡举行了第一次正式会谈

77. 下列说法错误的是（ ）。

- A. 7世纪初，伊斯兰教兴起于阿拉伯半岛，由麦加人穆罕默德所创传，是阿拉伯半岛社会经济、政治和宗教发展的必然产物
- B. “两个魔鬼胜过一个圣人。”这句英国格言正好说明了资产阶级代议制的关键和核心是权力的制约与平衡
- C. 尽量保持资本主义的“自由企业制度”是罗斯福“新政”的重要特点
- D. 冷战结束后，以法德为核心的欧洲联合进一步扩大。到1994年，欧元已作为欧盟的统一货币开始在大多数欧盟国家流通

78. 下列说法错误的是（ ）。

- A. “独坐悲双鬓，空堂欲二更。雨中山果落，灯下草虫鸣。”“虚堂人静不闻更，独坐书床对夜灯。门外不知春雪霁，半峰残月一溪冰。”这两首诗描绘的虽然是不相同的夜景，但却流露了相同的心境
- B. “安得广厦千万间，大庇天下寒士俱欢颜！”“无边落木萧萧下，不尽长江滚滚来。”这两句诗同是杜甫的手笔
- C. “桃之夭夭，灼灼其华。之子于归，宜其室家。”这本是祝贺别人女儿出嫁的诗，后因“桃”“逃”同音，遂演化出“逃之夭夭”的成语

- D. “乐道安贫音容宛在, 因材施教手泽犹存。”这幅对联适用于哀挽恩师
79. 下列说法错误的是()。
- A. 朱自清的散文不仅以描写见长, 并且还在描写中达到情景交融的艺术境界
 - B. 沈从文的作品充满了对人生的隐忧和对生命的哲学思考, 一如他那实在而又顽强的生命, 给人教益和启示
 - C. 张爱玲的作品既以中国古典小说为根底, 又突出运用了西方现代派心理描写技巧, 并将两者融合于一体, 形成了颇具特色的个人风格
 - D. 《再别康桥》、《雨巷》、《大堰河——我的保姆》、《乡愁》, 分别是徐志摩、戴望舒、臧克家、余光中的诗作
80. 下列关于法律与人权关系的说法, 错误的是()。
- A. 法律可以保障人权的实现, 但是法律并不能根除侵犯人权的现象
 - B. 保障人权是法治的核心内容之一
 - C. 是否体现人权可以作为判断法律善恶的标准
 - D. 人权的法律化表明人权只能是一种实有权利
81. 关于行政征收, 下列说法错误的是()。
- A. 行政征收具有无偿性, 相对人没有任何补偿
 - B. 行政征收只涉及金钱与实物, 不涉及劳务
 - C. 行政征收属于典型的双方行政行为
 - D. 行政征收涉及公权力对公民财产权的剥夺, 往往由宪法作出规定
82. 关于行政组织、行政主体, 下列选项中正确的说法是()。
- A. 行政机关和行政主体共同构成行政组织的典型和主要形态
 - B. 非政府组织和行政机关能够成为行政主体, 在管理具体行政事务无需再以法律为根据
 - C. 行政组织的重要特征是以实施者的独立名义从事行政活动和承担相关法律责任
 - D. 行政主体是学理范畴, 成因主要是便利行政复议与行政诉讼
83. 下列有关民事行为的成立和生效的说法中, 不正确的是()。
- A. 民事行为于成立时生效
 - B. 民事行为的成立和生效是两个不同的概念
 - C. 民事行为的生效以其成立为前提
 - D. 民事行为成立后不一定能生效
84. 下面解说正确的一项是()。
- A. 《战争与和平》、《安娜·卡列尼娜》、《复活》及自传体小说三部曲《童年》、《少年》、《青年》都是俄国著名作家列夫·托尔斯泰的著作
 - B. 辛弃疾, 字幼安, 号稼轩, 他与北宋苏轼同是著名的豪放派词人, 并称苏辛
 - C. 《悲惨世界》、《巴黎圣母院》、《九三年》、《笑面人》都是法国著名作家巴尔扎克的作品
 - D. 剧本《伪君子》、《吝啬鬼》、《贵人迷》是 17 世纪法国悲剧作家莫里哀的著作
85. 以下各项中不属于电子商务范围的是()。
- A. 海尔集团通过在因特网上建立网站, 赢得了大量的海外定单
 - B. 小王在电子市场以低于正常 30% 的价格买到了一台家用电脑
 - C. 张先生通过“温馨”网上花店为在上海的女朋友买了一束鲜花
 - D. 李军今天没去图书馆, 在网上书店订了几本好书

第四部分结束, 请继续做第五部分!

第五部分 资料分析

(共 15 题, 参考时限 15 分钟)

所给出的图、表或一段文字均有 5 个问题要你回答。你应根据资料提供的信息进行分析、比较、计算和判断处理。请开始答题:

根据下列文字, 回答 86-90 题。

“十五”以来, 广东省的产业集群发展迅速, 特色产业基地已成为广东省经济持续快速增长的新亮点。据统计, 2006 年广东省特色产业基地工业总产值达 4930 亿元, 约占全省工业总产值的 10%, 基地的高新技术产品产值 1650 亿元, 占全省高新技术产品产值的 11%。全省特色产业基地的经济增长幅度, 明显高于当地经济增长平均幅度。2006 年, 广东省特色产业基地的工业总产值, 比 2005 年增长 20.3%。与此同时, 各特色产业基地占当地经济总量的比重逐步加大, 有些基地已占到当地工业总产值的 30% 以上。如湛江海洋特色产业基地的工业总产值 2006 年已占湛江市工业总产值的 33%; 阳江五金刀具特色产业基地 2006 年工业总产值占了全市工业总产值的 31%; 云浮禽畜生物制品特色产业基地 2006 年工业总产值占当地工业总产值的 38.5%; 国家级肇庆金属材料产业基地, 有高新技术企业 19

家, 占全市高新企业总数的 17.7%, 基地工业产业总值占全市工业总产值近 20%。

86. 2005 年广东省特色产业基地的工业总产值是多少? ()
 A. 4930 亿元 B. 4098 亿元 C. 3929 亿元 D. 2145 亿元
87. 2006 年广东省特色产业基地的高新技术产品产值约占特色产业基地工业总产值的比重是多少? ()
 A. 38.5% B. 33.5% C. 30% D. 20.3%
88. 根据上述材料, 2006 年特色产业基地占当地工业总产值比重最高的是()。
 A. 湛江海洋特色产业基地 B. 阳江五金刀具特色产业基地
 C. 云浮禽畜生物制品特色产业基地 D. 肇庆金属材料产业基地
89. 2006 年广东省高新技术产品产值占全省工业总产值的比重约是多少? ()
 A. 38.5% B. 32.9% C. 30.4% D. 20.3%
90. 根据所给资料, 下列说法正确的是()。
 A. 2006 年, 肇庆市高新技术企业总数 19 家
 B. 2006 年, 阳江五金刀具厂产值占阳江市工业总产值的 31%
 C. 2006 年, 云浮禽畜生物制品特色产业基地总产值占该市工业总产值的 38.5%
 D. 2006 年, 湛江海洋特色产业基地的工业总产值, 占该市生产总值的比重小于 33%

根据下表, 回答 91-95 题。

表一 部分省主要年份 GDP 总量及劳动报酬占 GDP 比重

	1995 年		2000 年		2005 年		2006 年	
	GDP (亿元)	劳动报酬 比重(%)	GDP (亿元)	劳动报酬 比重(%)	GDP (亿元)	劳动报酬 比重(%)	GDP (亿元)	劳动报酬 比重(%)
广东	5733.97	49.4	9506.04	45.5	21701.28	39.5	25968.55	38.7
江苏	5155.25	47.1	8582.73	45.8	18272.12	40.9	21548.30	40.7
山东	5002.47	46.0	8542.44	47.9	18468.30	35.3	21846.70	34.4
浙江	3524.79	42.9	6036.34	43.1	13365.00	39.7	15649.00	40.3

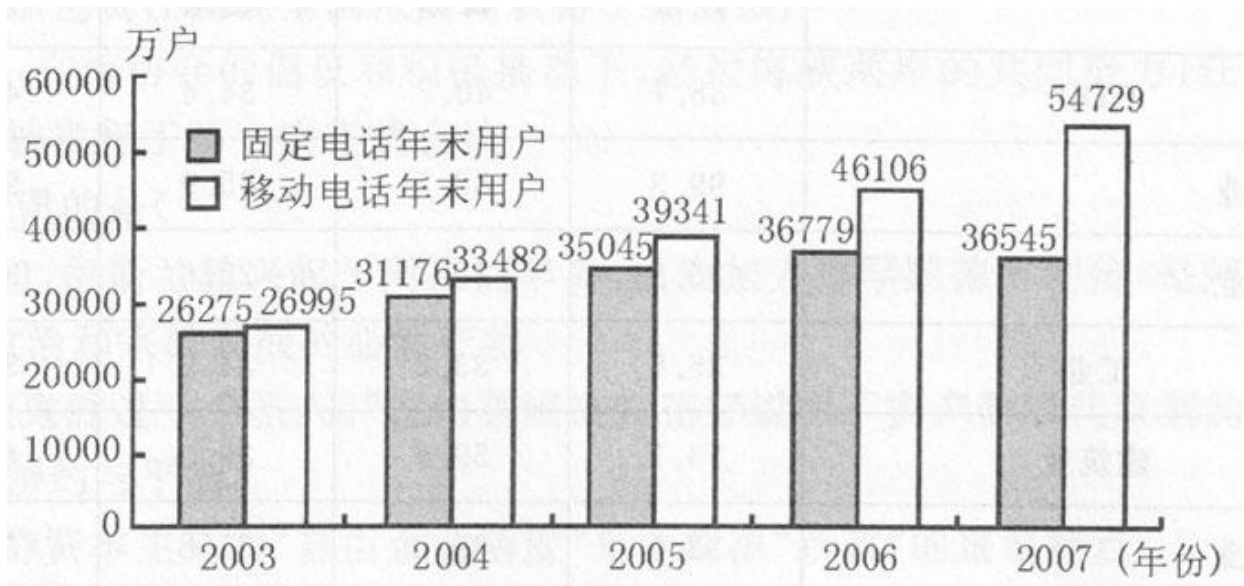
表二 广东与部分省 2006 年分行业劳动报酬占 GDP 比重 (单位: %)

	广东	江苏	山东	浙江
GDP	38.7	40.7	34.4	40.3
第一产业	99.3	88.1	95.9	94.7
第二产业	36.8	35.7	25.6	38.6
工业	35.5	33.2	24.2	35.4
建筑业	53.7	59.6	39.0	65.2
第三产业	32.4	39.2	31.8	34.7
交通运输、仓储和邮政业	27.3	28.7	21.2	26.4
批发和零售业	20.3	32.1	17.5	17.1
住宿和餐饮业	35.2	51.0	29.0	39.7
金融业	36.9	23.6	27.2	20.6
房地产业	14.4	8.0	11.2	7.2
其他服务业	47.4	59.8	54.5	61.7

91. 根据所给资料, 可以得出 2006 年劳动报酬占全省 GDP 比重最大的省份是()。

- A. 广东 B. 江苏 C. 山东 D. 浙江
92. 1995-2006 年间, 工资总额增幅最大的省份是()。
- A. 广东 B. 江苏 C. 山东 D. 浙江
93. 2006 年广东省第三产业劳动报酬占 GDP 比重比江苏少多少? ()
- A. 6.8 个百分点 B. 2.3 个百分点 C. 2 个百分点 D. 1.6 个百分点
94. 粤、鲁、苏、浙四省份比较, 下列说法正确的是()。
- A. 广东建筑业从业者人均劳动报酬高于山东同行
- B. 四省份从事第一产业的劳动者报酬比从事其他行业的人员高
- C. 与其他行业相比, 房地产业从业人员的工资最低
- D. 广东省金融业劳动报酬占 GDP 比重比山东省高
95. 根据所给的资料, 下列表达不正确的是()。
- A. 1995 年以来, 各省 GDP 总量呈上升趋势
- B. 与上年相比, 2006 年 GDP 增加最快的省份是江苏省
- C. 2006 年, 各省第一产业劳动报酬占 GDP 比重远高于其他行业
- D. 总体来说, 1995 年以来, 各省劳动报酬占 GDP 比重呈下降趋势
- 根据下列图表, 回答 96-100 题。

2003-2007 年年末电话用户数



96. 2003 年至 2007 年间, 我国固定电话用户与移动电话用户数量最接近的年份是()。
- A. 2003 年 B. 2004 年 C. 2005 年 D. 2006 年
97. 根据上图, 年末移动电话用户数增幅最大的年份是()。
- A. 2004 年 B. 2005 年 C. 2006 年 D. 2007 年
98. 若按 2007 年的固定电话增长率保持不变, 预计到 2008 年全国固定电话用户数达()。
- A. 36779 万户 B. 36545 万户 C. 36311 万户 D. 36312 万户
99. 根据所给材料, 下列表述正确的一项是()。
- A. 2004 年末我国固定电话用户数占电话用户总数的 1/3
- B. 2005 年末我国固定电话用户增幅比移动电话用户增幅低约 5 个百分点
- C. 2006 年末我国固定电话用户增幅与移动电话用户增幅相当
- D. 2007 年末我国固定电话用户总数约是 2003 年末用户总数的两倍
100. 根据所给资料, 下列推断不正确的一项是()。
- A. 2004 年以来, 我国移动电话用户年新增量均高于固定电话用户年新增量
- B. 预计到 2010 年, 移动电话用户数将大大高于固定电话用户数
- C. 2003 年以来, 我国固定电话用户数呈逐年减少的趋势
- D. 2006 年, 我国固定电话用户数达历史最高水平

全部测验至此结束!